

SAATLER ETKİNLİK SAYFASI

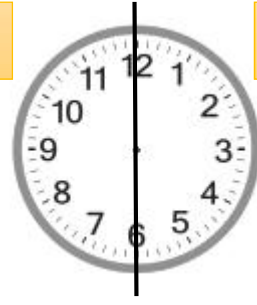


VAR

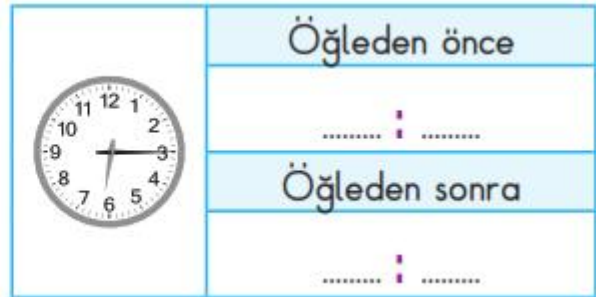
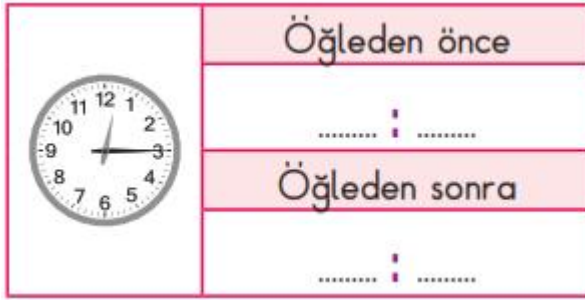
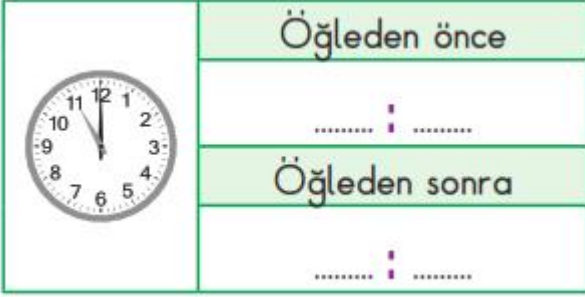
Yelkovan sol
tarafıta ise
var
diye okunur.

GEÇİYOR

Yelkovan sağ
tarafıta ise
geçiyor
diye okunur.



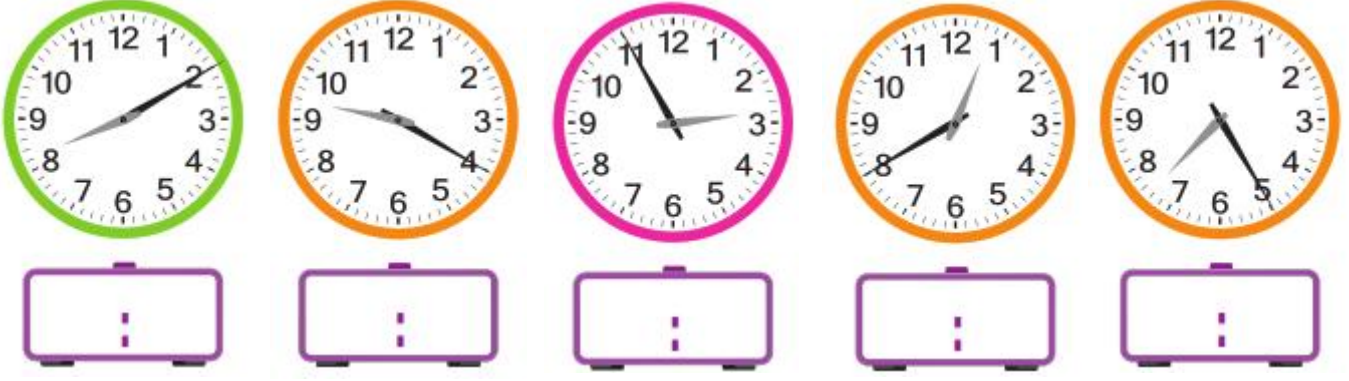
1)Aşağıdaki saatlerin öğleden önce ve öğleden sonra kaçı gösterdiklerini yazınız.



2)Aşağıdaki saatlere akrep ve yelkovanları dijital saate uygun çiziniz.



3)Aşağıdaki saatlerin kaç gösterdiğini dijital saatlere yazınız.



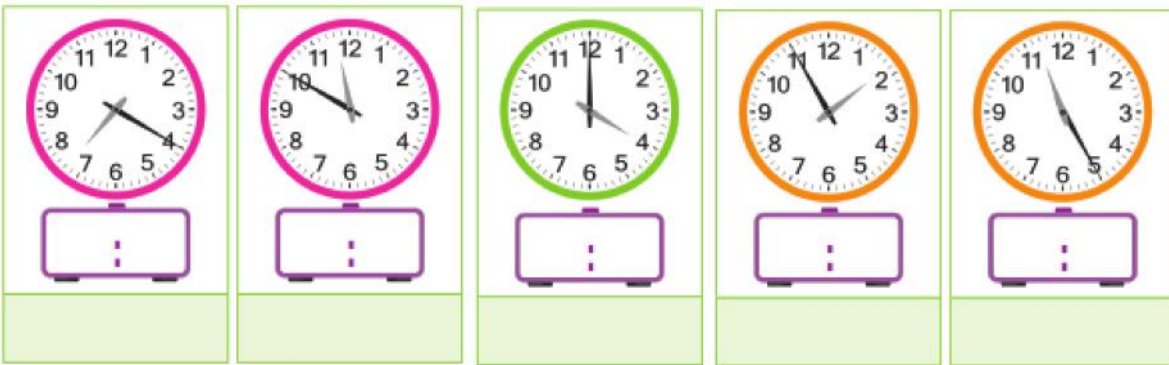
4)Aşağıdaki saatlerin okunuşlarını altına yazınız.



5)Aşağıda okunuşları verilen saatlerin akrep ve yelkovanlarını yerleştiriniz.



6)Aşağıdaki saatlerin kaç gösterdiğini dijital saatlerde yazıp altına okunuşlarını yazınız.



7)Aşağıdaki soruları cevaplayınız. Boşlukları uygun şekilde doldurunuz.

- | | |
|--|--|
| a) 4 yarım saat kaç saat eder?..... | b) 4 çeyrek saat kaç saat eder?..... |
| c) 3 çeyrek saat kaç dakika eder?..... | ç) 2 saat kaç dakikadır?..... |
| d) 110 dakika =saat,dakikadır. | e) 2 saat, 15 dakika =dakikadır. |
| f) 2 yarım saat, 3 çeyrek saat =dakikadır. | g) 195 dakika =.....saat,.....dakikadır. |