



Adı Soyadı :

Numarası :

Konu: Saatler Etkinliği 3

Aşağıdaki saatlerin belirttiği zamanı öğleden önce ve öğleden sonra olarak örnekteki gibi yazalım.



11.15

23.15



....

....



....

....



....

....



....

....



....

....



....

....



....

....



....

....



....

....



....

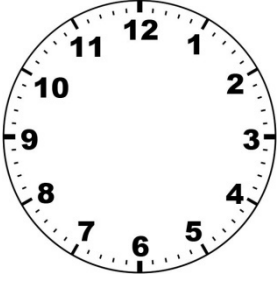
....




....

....


Aşağıdaki saatlerin akrep ve yelkovanlarını altlarında yazılı saatlere göre çiziniz.




08.30



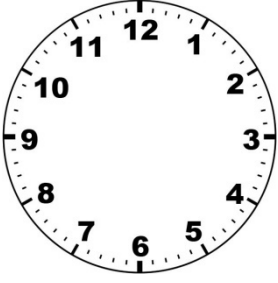
21.40




07.10




23.45



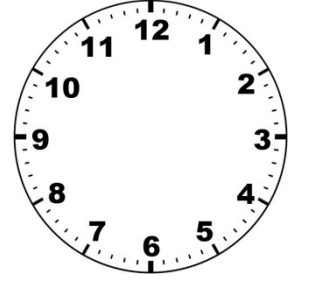
02.50




18.30




01.05




11.20



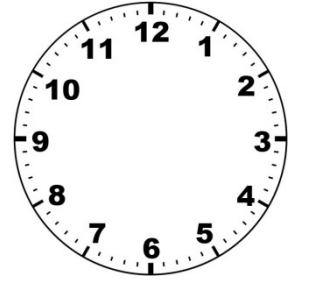
22.50




03.15




19.20




05.35




16.50



04.25



13.20



10.10

Saatlerin gösterdiği zamanı örnekteki gibi okuyalım.



Saat öğleden önce

3'ü 5 geçiyor.



Saat öğleden sonra

.....



Saat öğleden önce

.....



Saat öğleden sonra

.....



Saat öğleden önce

.....



Saat öğleden sonra

.....



Saat öğleden önce

.....



Saat öğleden sonra

.....



Saat öğleden önce

.....



Saat öğleden sonra

.....



Saat öğleden önce

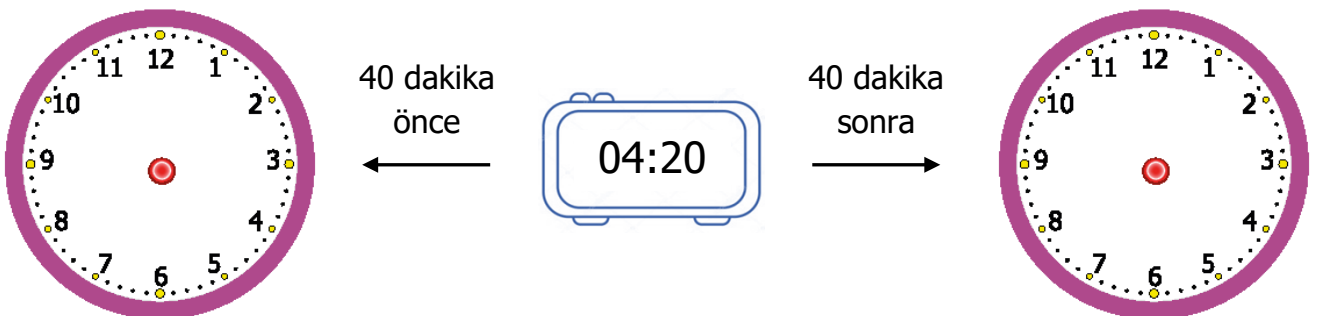
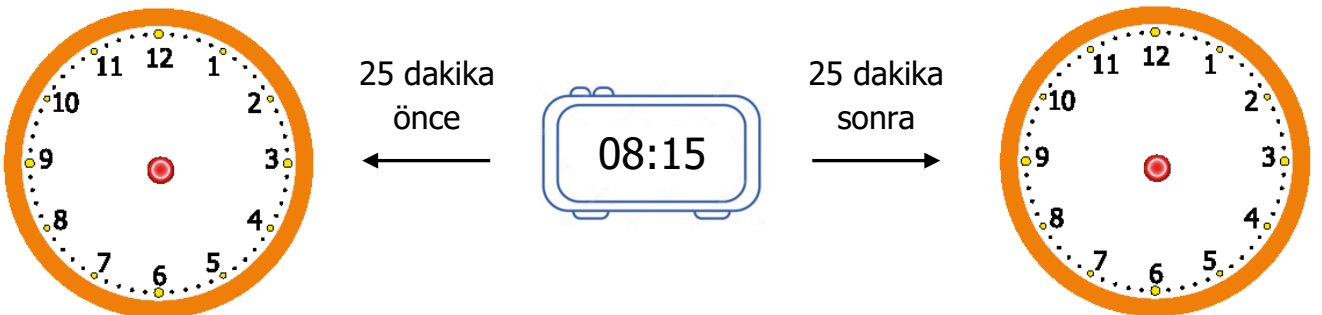
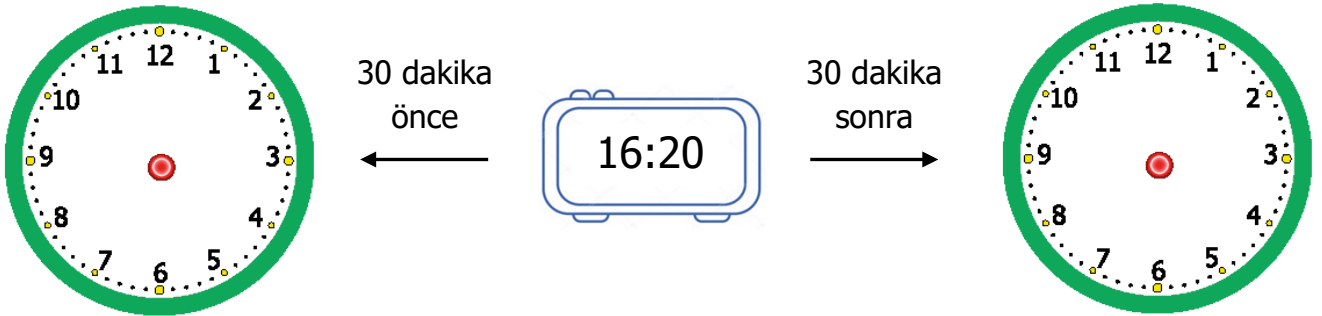
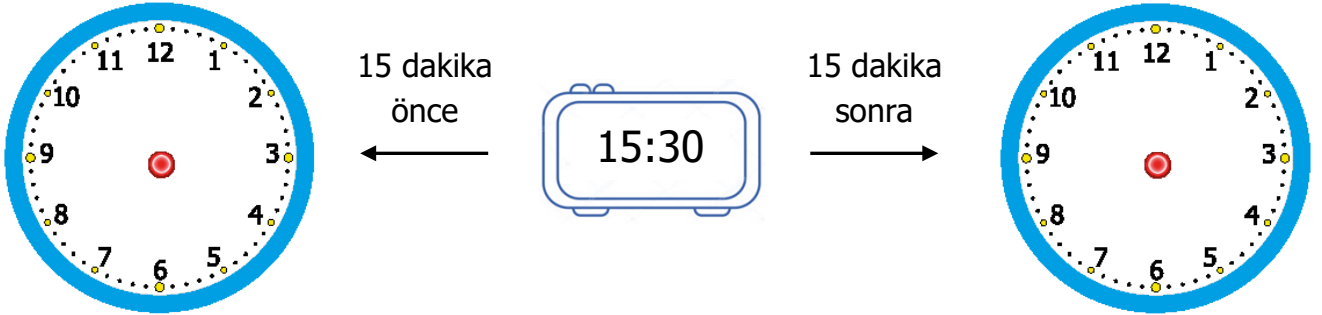
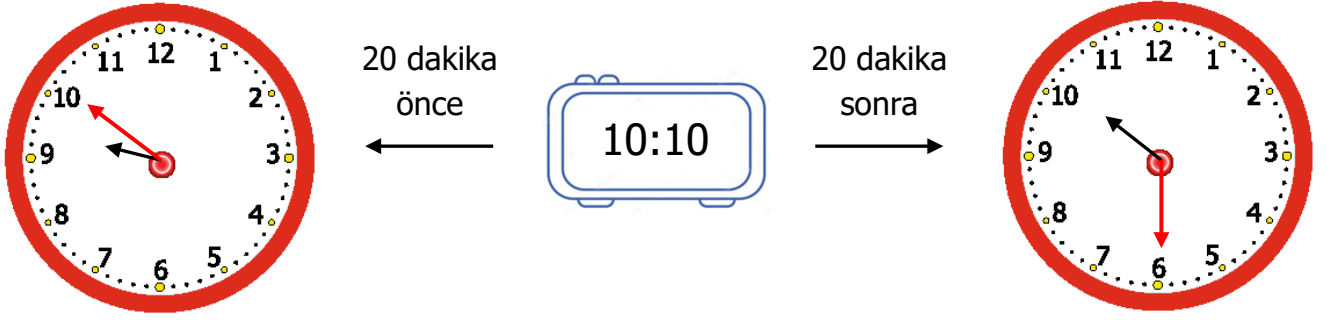
.....



Saat öğleden sonra

.....

Aşağıdaki dijital saate göre analog saat üzerinde istenilen zamanı örnekteki gibi yazalım.



Aşağıda aynı zamanı belirten ifadeleri örnekteki gibi aynı numara yazarak eşleştiriniz.

1

1 saat 15 dakika

2 saat

2

3 çeyrek saat

65 dakika

3

180 dakika

150 dakika

4

90 dakika

2 saat 40 dakika

5

2 saat 30 dakika

1

75 dakika

6

4 yarım saat

1 saat 30 dakika

7

4 çeyrek saat

3 saat

8

1 saat 5 dakika

1 saat

9

160 dakika

85 dakika

10

1 saat 25 dakika

45 dakika