



Ömer Uslu Etkinlikleri

2. SINIF

KAZANIM

DEĞERLENDİRME 4

**Türkçe 15 soru**

**Hayat Bilgisi 15 soru**

**Matematik 15 soru**

**Toplam 45 soru**

Ne güzel kitaplar var! Küçük Prensi okudunuz mu? Küçük bir gezegeni vardır. Küçük Prens'in, uzayda bir gezegeni. Ama nasıl küçük! El kadar bir yer. Küçük Prens de küçük elbet . Altın saçlı bir çocuk. Bir yanardağı, bir koyunu var, bir de çiçeği. Her sabah yanardağının lavlarını süpürüyor, koyununa ot veriyor, çiçeğini suluyor. Cemal SÜREYA



1 ve 2. soruları metne göre cevaplayınız.




1) Hangisi Küçük Prens'in yaptığı işlerden **değildir**?




- A) Lavları süpürmek
- B) Koyuna ot vermek
- C) Ağaçları sulamak

2) Küçük Prens'in gezegeni nasıl bir yermiş?

- A) Ormanlık bir yer
- B) El kadar bir yer
- C) Geniş bir yer

3) Aşağıdaki sözcüklerden hangisi hecelerine **yanlış** ayrılmıştır?

-  cum-hu-ri-yet
-  öz-gür-lük
-  bağ-ım-sız-lık

- A) 
- B) 
- C) 




1 keman

2 küpe

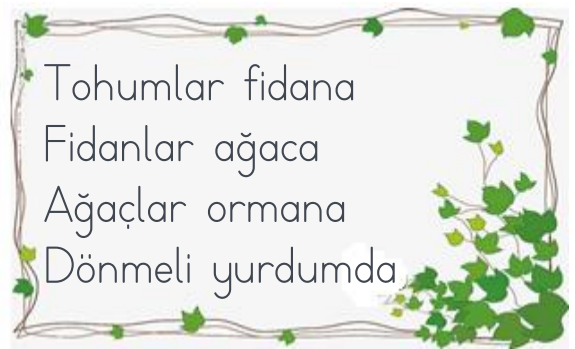
3 kova

4)

Yukarıdaki kelimelerden hangisi sözlük sıralamasında en **sonda** yer alır?

- A) 
- B) 
- C) 

5)



Yukarıdaki dörtlükte **toplam** kaç hece vardır?

- A) 25
- B) 24
- C) 23



6)

“Arzu resim yapmayı çok sever.”  
Görseldeki verilene göre aşağıdaki bilgilerden hangisi **yanlıştır**?

- A) Arzu’nun iki tane fırçası vardır.
- B) Arzu gökkuşağı çizmiştir.
- C) Arzu’nun yüzü boya olmuştur.



Konuşmaya bir soru ile başlamayı .....

7)

Yukarıdaki cümleyi hangi kelime ile tamamlarsak **anlamsız** olur?

- A) düşünüyorum
- B) görüyorum
- C) istiyorum

Okula ceren, berat ve çağlayla gittik.

8)

Yukarıdaki verilen kelimelerden kaç tanesi yanlış yazılmıştır?

- A) 4
- B) 3
- C) 2

1	Eskişehir’de ilkokula başladı.
2	İlkokuldan sonra babasının Ankara’ya tayini çıktı
3	Ankara’da da çok güzel arkadaşlıkları oldu.
4	Oğuz Kaan Eskişehir’de doğdu.


9) Numaralandırılmış cümlelerle anlamlı bir parça oluşturmak için sıralama nasıl olmalıdır?

- A) 4-1-2-3
- B) 1-4-2-3
- C) 4-1-3-2

10) Yarasa gündüz uyur, gece uçar. İssiz yerlerde yaşar.

Yukarıdaki ifadede aşağıdaki sorulardan hangisinin cevabı yoktur?

- A) Kim?
- B) Ne zaman?
- C) Niçin?



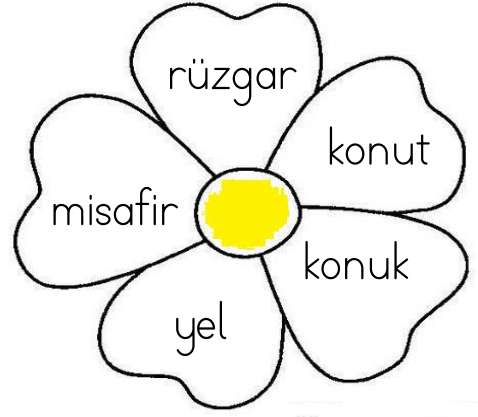
11) Görseldeki olayların oluş sırası aşağıdakilerden hangisinde doğru olarak verilmiştir?

- A) 4-3-1-2                      B) 4-3-2-1  
C) 3-1-4-2

Selin ve Göktürk yarın  
Ankara( )dan gelecekler( )  
Hep birlikte köye gidip  
ağaçlardan fındık( ) incir ve  
armut toplayacağız( )

12) Verilen metinde yay ayraç( ) ile gösterilen yerlere soruyla hangi noktalma işaretleri gelmelidir?

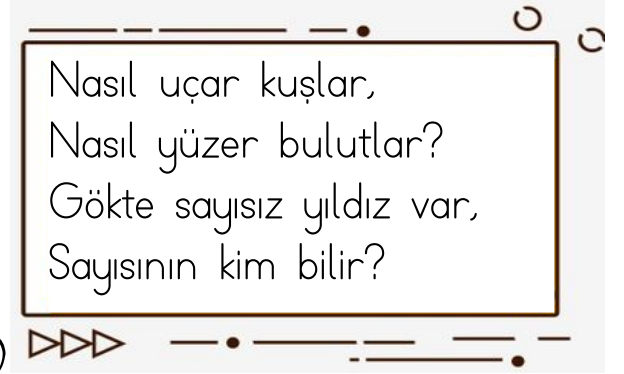
- A) (')(.)(')(?)  
B) (.)(')(.)(')  
C) (')(.)(')(.)



13)

Görseldeki kelimeler eş anlamlısı ile eşleştirildiğinde hangi kelime boşta kalır?

- A) rüzgar    B) konut    C) misafir



14)

Şiirin ana duygusu nedir?

- A) merak    B) korku    C) sevinç

15) 8 yaşında olan Ayça, anne ve babasıyla televizyon seyretmek isitiyor. Buna göre Ayça ailesiyle birlikte hangi akıllı işaretin gösterildiği programı seyredebilir?



A)



B)



C)

- 1) Ormanda yapılan koşu yarışmasını arkadaşım tavşan altıncı sırada tamamladı. Ben de yarışı onun hemen önünde tamamladım.



Buna göre kaplumbağa yarışı kaçınıcı sırada tamamlamıştır?

- A) 7. B) 6. C) 5.

2)



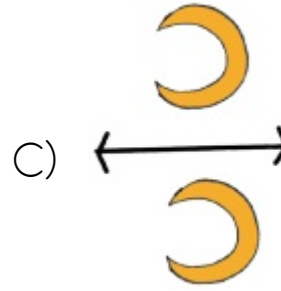
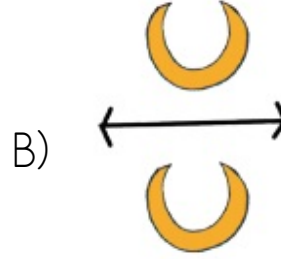
Yukarıdaki kibrit çöplerinin **tamamı** kullanılarak hangi geometrik şekil oluşturulabilir?

- A) kare B) üçgen  
C) dikdörtgen

- 3) İki basamaklı en büyük sayı ile iki basamaklı en küçük sayının **farkı** kaçtır?

- A) 89 B) 90  
C) 99

- 4) Aşağıdakilerden hangisinde Ay'ın simetrisi **yanlış** verilmiştir?



- 5)  $2+2+2+2+2+2=?$

Yukarıdaki toplama işleminin çarpma işlemi olarak yazılışı aşağıdakilerden hangisinde **doğru** olarak verilmiştir?

- A)  $6 \times 2$  B)  $6 \times 6$   
C)  $5 \times 2$



Yukarıdaki tavşanların toplam ayak sayısı kaçtır?

- A) B) C)

7) 

1.	$9 \times 4 = 36$
2.	$7 \times 4 = 28$
3.	$8 \times 4 = 30$

Yandaki tabloda kaçinci satırdaki çarpma işleminin sonucu yanlıştır?

- A) 1. B) 2. C) 3.

8) İpek 70 sayfalık kitabının her gün 5 sayfasını okumaktadır. 9. günün sonunda İpek'in okumadığı kaç sayfası kalır?

- A) 25 B) 35 C) 36



Yukarıdaki örüntü ile aynı kurala sahip olan örüntü aşağıdakilerden hangisidir?

- A)
- B)
- C)



Yukarıdaki kuşları dörderli olarak grupladığımızda kaç grup oluşur?

- A) 5 B) 4 C) 3






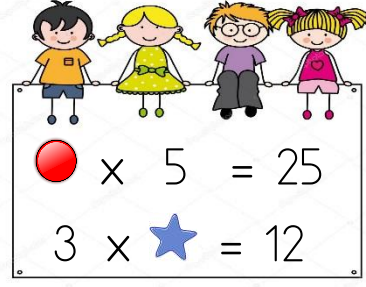
5x1	6x0	0x8
0x2	10x0	9x3

11) Yukarıdaki işlemlerin kaç tanesinin sonucu 0'dır?

- A) 3                      B) 5                      C) 4

12) "16 çiçek 4 vazoya eşit şekilde konuluyor." ifadesinin şekille gösterilişi hangi seçenekte gösterilmiştir?

- A) 
- B) 
- C) 



13)

Yukarıda verilen eşitliklere göre

 x  işleminin sonucu kaçtır?

- A) 20                      B) 25                      C) 30



Yukarıda bir sürahinin aldığı su miktarı bardaklarla gösterilmiştir.

2 sürahi kaç bardak su alır?

- A) 12                      B) 14                      C) 16

15) Bahçemizde 25 tane elma ağacı, elma ağaçlarından 6 tane eksik armut ağacı vardır.

Bahçemizde toplam kaç ağaç vardır?

- A) 19                      B) 31                      C) 44

1) Sanem, tatilde İstanbul'dan Erzurum'a gidecektir.

Sanem, hangi ulaşım aracıyla Erzurum'a diğerlerinden daha çabuk ulaşır?



2) Bilinçli bir tüketici ile ilgili;


1. Suyu boşa akıtmaz.
2. Açıkta satılan yiyecekleri almaz.
3. Temiz ve sağlıklı ürünler kullanır.

Verilenlerden hangisi ya da hangileri doğrudur?

- A) 1 B) 1 ve 3  
C) 1, 2 ve 3

3) İstiklal Marşı'mızın şairi aşağıdakilerden hangisidir?

- A) Mustafa Kemal ATATÜRK  
B) Mehmet Akif ERSOY  
C) Sabiha GÖKÇEN



Yukarıdaki ulaşım araçlarından hangisinin yolcu indirip bindirdiği yer limandır?

- A) 1 B) 2 C) 3

5) Mustafa Kemal Atatürk ilk olarak hangi okula gitmiştir?

- A) Mahalle Mektebi  
B) Şemsi Efendi İlkokulu  
C) Selanik Askeri Ortaokulu



6)



Yukarıda verilen haritada kırmızı ile boyalı yer ülkemizin başkentidir.

Bu bilgilere göre **ülkemizin başkenti** neresidir?

- A) İstanbul B) Samsun  
C) Ankara

7) Cadde ve .....  
oyun oynamak çok tehlikelidir.

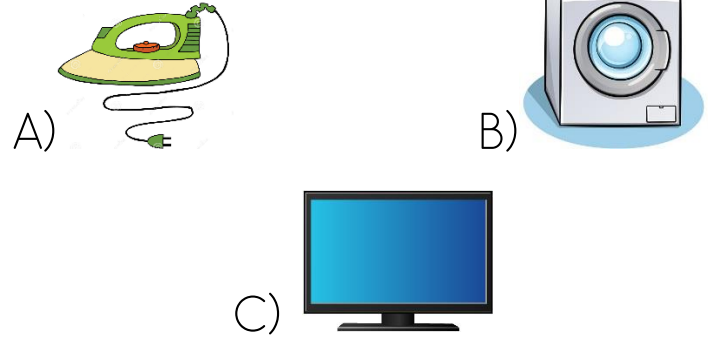
Yukarıdaki ifadede boş bırakılan yere hangisi **yazılmalıdır**?

- A) bahçelerde B) sokaklarda  
C) parklarda

8) Aşağıdakilerden hangisi ulaşım araçlarında **uyulması gereken** kurallardan biridir?

- A) Sürücü ile sohbet etmek  
B) Araçlarda yüksek sesle konuşmamak  
C) Üzeri açık araçlarla yolculuk yapmak

9) İkinci sınıfa giden Ceren'in aşağıdaki teknolojik ürünlerden hangisini kullanması **uygundur**?



10) Aşağıdakilerden hangisi sağlıklı ilgili kurumlardan biri **değildir**?

- A) Eczane B) Okul  
C) Hastane

11)

Mevsiminde yetişen  
sebze ve meyveler

Yukarıdaki ifade hangisi ile  
tamamlanırsa doğru **olmaz**?

- A) besin değeri bakımından zengin olur
- B) ucuz olur
- C) sağlıksız olur

12)

Polis İmdat	155
AFAD	118
İtfaiye	110


Yukarıdaki tabloda hangi kurumun  
numarası yanlış yazılmıştır?


- A) Polis İmdat
- B) AFAD
- C) İtfaiye


13) Aşağıdakilerden hangisi deniz yolu  
ulaşım aracıdır?

- A) Vapur
- B) Zeplin
- C) Metro

14) Aşağıdaki çocuklardan hangisinin  
söylediği **yanlıştır**?

A)  Atatürk'ün annesinin  
adı Zübeyde Hanım'dır.

B)  Atatürk Selanik'te  
doğmuştur.

C)  Atatürk'e "Kemal" adını  
babası vermiştir.

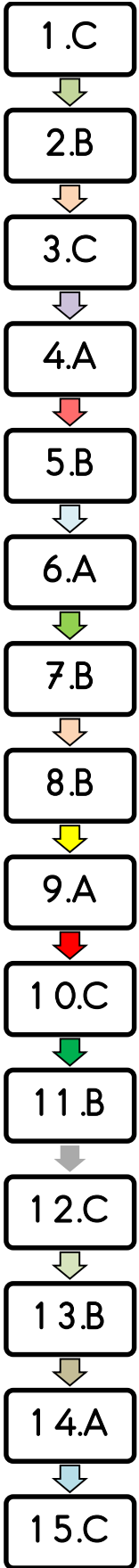
15) Aşağıdakilerden hangisi bir milli  
bayramımız olan 29 Ekim Cumhuriyet  
Bayramında yapılan etkinliklerden  
**değildir**?

- A) Büyüklerimizi ziyaret ederiz.
- B) Okulumuzu süsleriz.
- C) Şiirler okuruz.

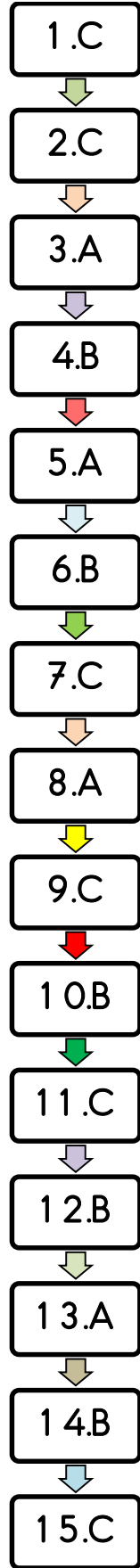
**Testimiz bitti.**

**Lütfen cevapları kontrol ediniz.**

### Türkçe



### Matematik



### Hayat Bilgisi

