

6.SINIF 6. ÜNİTE ÇALIŞMA FASİKÜLÜ

SOSYAL BİLGİLER

Bu kitapçık BİNGÖL Ölçme Değerlendirme Merkezi
tarafından hazırlanmıştır.



1. Aşağıda verilen açıklamaların yanındaki rakamları, yönetim şekillerinin altındaki kutucuklara uygun şekilde yazarak eşleştiriniz.

1

Ülkeyi yönetme hakkı, soylular, din adamları, toprak sahipleri gibi gruplara aittir.

2

Geçmişte Sümerlerde, günümüzde ise Vatikan'da uygulanan yönetim şeklidir.

3

Yönetme yetkisi babadan oğula ya da hanedan üyelerinden birine geçer.

4

Yönetimde din kuralları belirleyicidir.

5

İrk, din, dil, mezhep ayrımı olmaksızın kanunlar önünde herkes eşittir.

6

Seçme seçilme hakkı bu yönetim şeklinin en önemli unsurlarındandır.

Monarşi

Oligarşi

Teokrasi

Cumhuriyet

2. Aşağıda verilen görsellerin altındaki boşluklara ilgili oldukları yönetim şekillerini yazınız.

1. Demokrasi

2. Oligarşi

3. Teokrasi

4. Monarşi

OSMANLI PADİŞAHI
FATİH SULTAN MEHMET



SOYLULAR MECLİSİ



VATİKAN –HRİSTİYANLIK
DİNİ MERKEZ



OY KULLANMA İŞLEMİ



3. Aşağıdaki tabloda boş bırakılan yerleri uygun bilgilerle doldurunuz.

GÜÇLER	İŞLEVİ	YETKİ ORGANLARI
.....	Bireylerin kendi aralarında veya devlet ile olan ilişkilerindeki uyuşmazlıkları çözme işidir.	BAĞIMSIZ MAHKEMELER
YÜRÜTME	Hazırlanan kanunları uygulama görevinin yerine getirilmesidir.
YASAMA	TBMM

4. Aşağıda sırasıyla duruşma salonu, TBMM ve T.C. Cumhurbaşkanlığı Forsu görselleri verilmiştir.

Buna göre görsellerin temsil ettiği gücü altındaki kutucuğa yazınız.



5. Aşağıdaki tabloda karışık harflerle verilen kelimelerin doğrusunu kutucuklara yazınız.

AGRYI	EYTÜRÜM	AYASAM	TUMYİRECHU	AGİLORİŞ	İRNOMAŞ	OSİETAKR

6. Verilen soruların cevaplarını yazınız.

A) Cumhurbaşkanının görev ve yetkilerinden 3 tanesini yazınız.	B) TBMM'nin görev ve yetkilerinden 3 tanesini yazınız.
1.	1.
2.	2.
3.	3.

7. Aşağıdaki tabloyu belirtilen özelliklere göre doldurunuz.

Demokratik yönetimin özellikleri	Demokratik olmayan yönetimin özellikleri
1.	1.
2.	2.
3.	3.

8.



Küçük baloncuklar içinde verilen kavramları aşağıdaki bölümlere uygun şekilde yerleştiriniz.

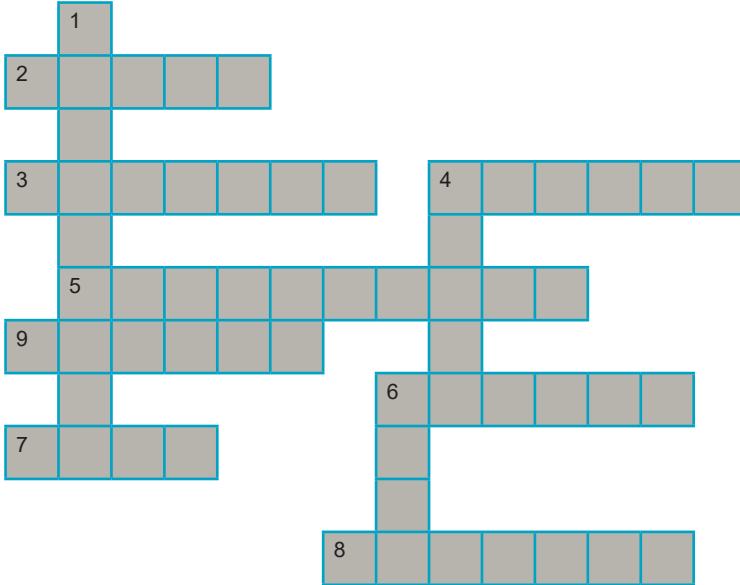
DEMOKRATİK



DEMOKRATİK OLMAYAN



9. Cümlelerden yararlanarak bulmacayı çözünüz.



SOLDAN SAĞA

2. İnsanların oy kullanarak yaptıkları seçme işi
3. Egemenliğin bir kişinin elinde olduğu yönetim şekli
4. Halkın oylarıyla seçilen milletvekillerinin toplandığı yer
5. Halk oylaması
6. Anayasaların verdiği yetki ile kanun yapma
7. İnsanların demokratik tutumları ilk olarak kazandıkları yer
8. Bir sorun karşısında halkın genel düşüncesi
9. Seçimlerde oy atılan kutu

YUKARIDAN AŞAĞIYA

1. Yönetimin doğrudan doğruya halkın elinde olduğu yönetim biçimi
4. Basın yayın organlarının tümüne verilen genel isim
6. Kanun

10.

VERİLİR

ETMEZ

AİLE

SAYGI

SEÇİMLER

DEMOKRATİK

ÖZGÜRCE

ALINIR

Kutucuklarda yer alan kelimeleri kullanarak aşağıdaki demokratik toplumla ilgili olan metinde bulunan boşlukları doldurup metni tamamlayınız.

Sevgili öğrenciler, demokratik bir toplumda, demokrasi bilinci ilk olarak toplumun temel taşı olan de başlar. Demokratik yapıya sahip ailelerde verilen kararlarda çocukların fikirleri Aileden sonra bu tutumun gelişmesinde okulların rolü büyüktür. Bu tür okullarda öğrenciler birbirinin haklarına gösterirler. Görüşlerini ifade edebilirler. Okul temsilcileri ve sınıf başkanları yoluyla belirlenir. Bu tür toplumlarda toplu taşımalarda yaşlı, hamile veya engelli vatandaşlara yer Engelliler için ayrılan park alanlarına hiç kimse araçlarını park Demokrasi, halkın egemenliği temeline dayanan yönetim biçimi, halk iradesi demektir. yönetimlerde halk, seçimler yoluyla yönetime katılır.

11. Aşağıdaki açıklamaların karşısındaki kutucuklara ilgili kavramları yazınız.

Halkın seçtiği yöneticiler aracılığıyla kendi kendisini yönetmesi, halkın egemenliği temeline dayanan yönetim biçimidir.

.....

Aynı düşüncedeki insanların bir araya gelmesiyle oluşan, bir konuyla ilgili halkın genel düşüncesidir.

.....

Toplumda sözlü veya yazılı haber alma imkânını sağlayan televizyon, genel ağ, radyo, gazete, dergi vb. kitle iletişim araçlarının oluşturduğu basın yayın organlarıdır.

.....

12. Aşağıda verilen etkinliği doğru bir şekilde tamamlamak isteyen birinin en son ulaşacağı kutucuğu işaretleyiniz.

Demokratik toplumlarda bireyler kamu yararına faaliyetlerde bulunmak için dernek, vakıf, sendika vb. oluşumlara katılabilirler.

D

Y

Okul temsilcisinin okul idaresi tarafından belirlenmesi demokratik uygulamalara örnektir.

D

Y

Demokratik toplumlarda kişiler, yönetime katılma hakkına sahiptir.

○

Demokratik bir yaşam biçiminde insanlar birbirlerinin haklarına saygı gösterir.

○

Sınıf kurallarının öğrencilerle birlikte belirlenmesi demokratik bir tavidir.

D

Y

Demokrasinin geliştiği ülkelerde, kanun ve kurallara uyulur.

○

Demokratik toplumlarda insanlar fikirlerini özgürce ifade eder.

○

13. Demokratik tutuma sahip bir arının konması gereken petekleri sarı renge boyayınız.



14.



Kadın devlet yönetiminde hakan ile birlikte etkin bir rol oynuyordu. Elçi kabulü dahil, bütün önemli törenlerde hakan ile hatun beraber bulunurlardı. Hatun bizzat toy kurulunun doğal üyesiydi. Verilen görsel ve metinde eski Türk devletlerinin ülkeyi yönetmek için "TOY" meclisleri düzenledikleri bilgisi yer almaktadır.

Buna göre aşağıdaki yorumlar doğru ise "D" sütununu, yanlış ise "Y" sütununu işaretleyiniz.

	D	Y
1. Bu mecliste fikir alışverişi yapılmaktadır.		
2. Bu mecliste fikir sunmak sadece erkeğe verilmiştir.		
3. Kadınların fikirleri önemlidir.		
4. Kadınların bu mecliste olması yönetimde kadınların etkisini göstermektedir.		
5. Geçmişte yaşamış Türk devletleri kadına önem vermektedir.		
6. Kadınlara sadece Türkler değer vermektedir.		
7. Kadınlar ülkeyi yöneten erkeklerden daha çok haklara sahiptirler.		
8. Kadınlar saygın bir konumdadırlar.		

15. Aşağıda verilen kod yönergesini takip ederek tablodaki kareleri uygun renklerle boyayınız.

1.	2B-1M-2B-2M-2B-1M-1B-1M-3B	11.	1B-2Y-1B-3Y-1B-1Y-2B-1Y-3B
2.	1B-1M-1B-1M-1B-1M-1B-1M-3B-1M-3M	12.	5B-1Y-9B
3.	1B-3M-1B-1M-1B-1M-1B-1M-1B-1M-3B	13.	15B
4.	1B-1M-1B-1M-1B-2M-2B-1M-1B-3M-1B	14.	15B
5.	15B	15.	2B-2K-7B-2K-2B
6.	15B	16.	2B-7K-7B-2K-2B
7.	1B-2Y-1B-3Y-1B-1Y-1B-3Y-2B	17.	2B-11SY-2B
8.	1B-1Y-2B-1Y-6B-1Y-3B	18.	7B-1SY-7B
9.	1B-2Y-1B-3Y-1B-1Y-2B-1Y-3B	19.	7B-1SY-7B
10.	1B-1Y-4B-1Y-1B-1Y-2B-1Y-3Y	20.	15B

M

MAVİ

Y

YEŞİL

K

KIRMIZI

SY

SİYAH

B

BEYAZ

1																	
2																	
3																	
4																	
5																	
6																	
7																	
8																	
9																	
10																	
11																	
12																	
13																	
14																	
15																	
16																	
17																	
18																	
19																	
20																	

16. Kutucukların yanında harfleri karışık olarak verilen kavramları düzelterek kutucuklara yerleştiriniz, numaralanmış kutucuklardaki harfleri kullanarak şifreyi çözünüz.

Diagram illustrating a sequence of 8 boxes. The first box contains '3', the second '4', and the fifth '7'. An arrow points from the sequence to a box labeled 'SIDEKMOAR'.

Diagram illustrating a sequence of 10 boxes. The 3rd box contains '1' and the 8th box contains '2'. An arrow points from the 8th box to a box labeled 'YETHURICUM'.

		5				6
--	--	---	--	--	--	---

→

ARNİŞMO

8

--	--	--	--	--	--

→

TELADA

ŞİFRE :

1	2	3	4	5	6
---	---	---	---	---	---

7	8	9	10	11
---	---	---	----	----

→

--

17. Aşağıda verilen temel hak ve özgürlük kavramları ile Atatürk'ün bu konular hakkındaki düşüncelerini uygun bir şekilde eşleştiriniz.

Düşünce ve Kanaat Özgürlüğü---Eğitim Hakkı---Haberleşme Özgürlüğü---Sağlık Hakkı

.....

- Cumhuriyet fikir serbestliği taraftarıdır. Samimi ve meşru olmak şartıyla her fikre saygı duyarız.



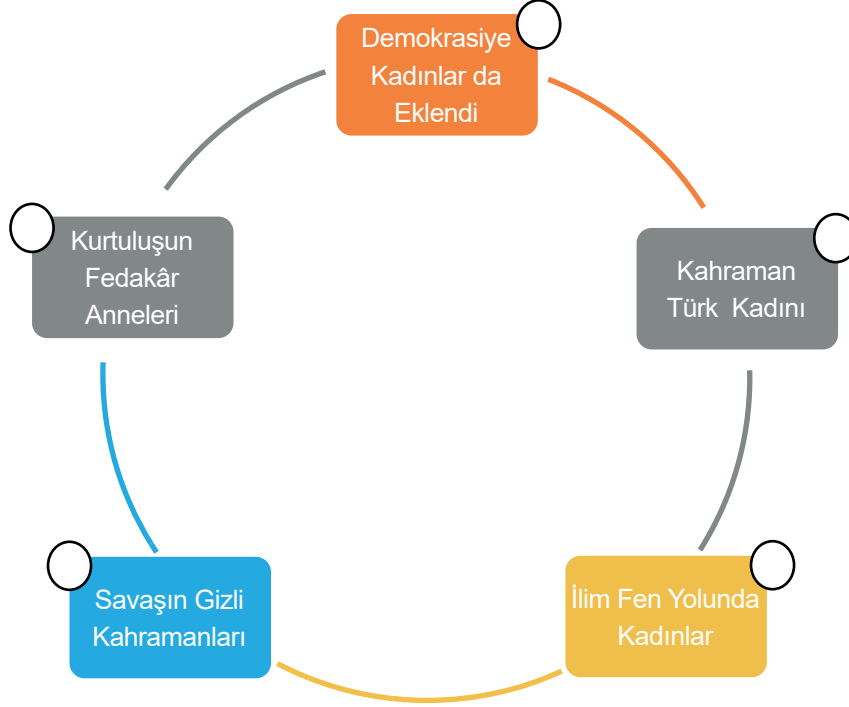
- Milletimizin sıhhatinin korunması ve takviyesi, ölümün azaltılması, nüfusun artırılması, bulaşıcı ve salgın hastalıkların etkisiz hale getirilmesi, bu suretle millet fertlerinin dinç ve çalışmaya kabiliyetli bir halde sıhhatli vücutlar olarak yetiştirilmesi...

.....

- Atatürk'e göre, ekonomide, sağlıkta, sanatta, sporda nerede bir problem varsa onun temelinde eğitim yatmaktadır.

- Basın, milletin müşterek sesidir. Bir milleti aydınlatma ve irşatta, bir millete muhtaç olduğu fikrî gıdayı vermekte, hulâsa bir milletin hedefi saadet olan müşterek bir istikamette yürümesini teminde, basın başlı başına bir kuvvet, bir mektep, bir rehberdir.

18. Ressam Halil Dikmen'in Kurtuluş Savaşı adlı tablosuna getirilebilecek uygun başlıkları yuvarlak kutucuklara " X " ile işaretleyiniz.



19. Aşağıdaki soru işaretli yere gelebilebilecek uygun ifadeyi yazınız.



20. Aşağıda verilen tanımların başındaki rakamları kullanarak uygun olan temel hak ve ödev kavramlarıyla eşleştiriniz.

TANIMLAR		TEMEL HAK VE ÖDEVLER	
1	Kişinin rızası olmadan bilimsel ve tıbbi deneylere tabi tutulamaz.	Sağlık hakkı	...
2	Herkes fikirlerini özgürce ifade edebilir.	Seçme ve seçilme hakkı	...
3	Sahip olduğumuz en temel hakkımızdır.	Kişi dokunulmazlığı	...
4	Mahkeme kararı olmadan hiç kimse evime girip arama yapamaz.	Seyahat özgürlüğü	...
5	Demokrasinin yerleşmesi açısından çok önemli bir hakkımızdır.	Konut dokunulmazlığı	...
6	Ankaraya uçakla gitmek hakkımdır.	Düşünce özgürlüğü	...
7	Almanyadaki amcamla istediğim zaman telefonla konuşabiliyorum.	Yaşama hakkı	...
8	İstediğim aile hekimini seçebiliyorum.	Haberleşme özgürlüğü	...

21. Demokrasi Ülkesine hareket eden trenin vagonlarından hangileri bu ülkeye girmemelidir?



.....

22.

HAK MI? SORUMLULUK MU?

Aşağıda yer alan davranışların hak mı yoksa sorumluluk mu olduğunu ilgili kutucuğa (x) işareti koyarak belirtiniz.

DAVRANIŞLAR	HAK	SORUMLULUK
1. Mahallemizdeki okulda eğitim görmek		
2. Okulun futbol takımının çalışmalarına düzenli olarak katılmak		
3. Sosyal bilgiler dersine zamanında girmek		
4. Akşam yemeğinin hazırlanmasında anne ve babamıza yardımcı olmak		
5. Elimizdeki çöpleri çöp kutusuna atmak		
6. Okulumuzun araç ve gereçlerini korumak		
7. Mahallemizdeki parkta oyun oynamak		
8. Yaptığımız alışverişten sonra fiş almak		
9. Seçimlerde oy kullanmak		
10. Odamızda oyun oynadıktan sonra oyuncaklarımızı toplamak		
11. Okulumuzun bilişim teknolojileri sınıfını kullanmak		
12. Devlete gelirimize göre vergi ödemek		
13. Öğretmenimizin verdiği görevleri zamanında yapmak		
14. Trafikte yer alan kurallara uymak		
15. Okulumuzun kantinini kullanmak		
16. Bütün öğretmenlerimize karşı saygılı olmak		
17. Ağrıyan dişimiz için gittiğimiz hastanede ücretsiz tedavi olmak		

23.



Bu görselde verilmek istenen mesajı kendi cümleleriniz ile aşağıdaki boşluğa yazınız.

24. Aşağıda verilen cümlelerden doğru olanların başına “D” yanlış olanların başına ise “Y” yazınız.

- (.....)Devlet bir toprak parçası üzerinde insanların örgütlendiği en büyük kurumdur.
(.....)Kamuoyu yönetimin karar alma sürecini etkileyen unsurlardandır.
(.....)Vatandaşların devlete ve topluma karşı sorumlulukları vardır.
(.....)Yöneticiler belli kanunlar dahilinde hareket etmelidirler.
(.....)Demokratik devletlerde farklı siyasi partilere ihtiyaç vardır.
(.....)Demokrasilerde yöneticilerin aldığı kararlar tartışılmadan uygulanır.
(.....)Devleti yönetecek kişilerin seçimle işbaşına gelmesi cumhuriyet sisteminin gereğidir.
(.....)Ülkemizde Cumhuriyet 23 Nisan 1923 tarihinde ilan edilmiştir.
(.....)Devlet vatandaşın her istediğini yapmak zorundadır.
(.....)Devlet haklarımızı hiçbir şekilde sınırlandıramaz.
(.....)Trafik kurallarına uymak sorumluluğumuzdur.
(.....)Dilekçe hakkımızı sadece okullarda kullanabiliriz.
(.....)Haklarımız ve sorumluluğumuzun bilincinde olmak etkin vatandaşlık örneğidir.
(.....)Anayasa tarafından güvence altına alınan haklarımız ve ödevlerimizi bilirsek kendimizi daha güçlü hissederiz.
(.....)Okula gidemeyip bir işte çalışmak zorunda kalan kız çocuğu, sağlık hakkını kullanamamaktadır.
(.....)Demokrasilerde insanlar istediklerini sınırsızca yapabilirler.
(.....)Yasalar insanların yaşamını zorlaştıran unsurlardır.
(.....)Başka insanların haklarını gözeterek davranmak demokratik bir tutumdur.
(.....)Haklarımızın ihlal edilmesi karşısında sessiz kalmalıyız.
(.....)Demokratik yönetimlerde farklı siyasi partilere yer verilmez.
(.....)Çevre temizliği sadece belediyenin görevidir.
(.....)Sivil toplum kuruluşlarına üye olan insanlar gönüllülük esasıyla çalışırlar.
(.....)Medya, toplumun yönlendirilmesi ve kamuoyu oluşturmada etkin bir güçtür.
(.....)Ülke yönetimine ve toplumun karar alma sürecine katılmak anayasa ve yasaların bireylere verdiği bir haktır.

25. Tabloda yer alan durum, olay ve davranışlar olumluysa 😊 bölümünü, olumsuzsa 😞 bölümünü işaretleyiniz.

Durum-Olay-Davranış	😊	😞
Yaşlı ve hamilelerin hastane sırasında öncelikli olması		
Ailesi tarafından okula gönderilmeyen kız çocuğunun tarlada pamuk toplaması		
8 Mart'ın “Dünya Kadınlar Günü” olarak kutlanması		
Siyahi futbolcunun maç sırasında renginden dolayı kötü tezahürata maruz kalması		
Temel hak ve özgürlüklerde çocuklara özel maddelerin olması		

26.



1



2



3



4



5



6

Verilen görselleri aşağıdaki kavramlarla eşleştirerek boş bırakılan yerlere ilgili görselin numarasını yazınız.

Eğitim Hakkı	Sağlık Hakkı	Seçme ve Seçilme Hakkı
.....
Tüketici Hakkı	Beslenme Hakkı	Konut Dokunulmazlığı Hakkı
.....

27. Kelime avı tablosunda verilen kelimeleri bulmacada bulunuz. (Bulmacada kelimeler düz - çapraz ve ters olacak şekilde yer almaktadır.)

M	E	C	T	E	Y	F	I	T	R	K	Z	L	J	N
G	Q	A	N	A	Y	A	S	A	F	V	P	Ö	K	Q
I	G	R	A	Y	Ö	H	Y	E	P	A	O	G	A	U
G	I	A	T	U	Q	Z	A	M	Ç	B	K	N	D	S
U	W	A	X	E	G	M	G	K	K	İ	O	İ	I	H
V	U	K	O	S	O	K	E	Ü	P	F	M	B	N	C
I	R	Y	S	D	A	K	İ	Ş	R	A	G	İ	L	O
I	Y	T	O	C	E	N	R	H	İ	L	R	V	D	Y
G	M	A	E	U	H	M	D	A	O	T	Ü	T	G	A
Y	A	E	Y	L	M	C	O	I	S	Ş	L	K	İ	S
A	H	B	C	D	A	A	R	K	K	İ	G	İ	F	A
S	S	P	T	L	E	D	K	W	R	I	E	Ö	K	M
Z	W	M	J	O	İ	M	A	R	S	A	E	C	R	A
P	U	Q	Q	K	E	S	F	E	H	G	S	D	F	Ü
T	G	G	T	A	N	K	A	R	A	A	I	İ	U	F

ADALET
ANAYASA
ÖZGÜRLÜK
MEDYA
TEOKRASİ
DEMOKRASİ
SEÇİM
YASAMA
KAMUOYU
PARTİ
MECLİS
SANDIK
YARGI
EŞİTLİK
OLİGARŞİ
MECLİS
KADIN
HOŞGÖRÜ
SAYGI
HAK
ANKARA

28.

TBMM	AÇIK	GÜÇLER AYRILIĞI	SİVİL TOPLUM KURULUŞLARI	YAŞAMA HAKKI	EĞİTİM
ETKİN	YASALAR	ANAYASA	EŞİT	SEÇME VE SEÇİLME	SİYASİ
BAĞIMSIZ MAHKEMELER	ÖZGÜRLÜKLER	EŞİTLİK	AVRUPA İNSAN HAKLARI MAHKEMESİ		

Aşağıdaki cümlelerde boş bırakılan yerlere tabloda verilen sözcüklerden uygun olanı yazınız.

1. Temel hak ve özgürlükler..... tarafından koruma altına alınmıştır.
2. Haklarımız içerisindeki en temel hakkımız.....mızdır.
3. Seçme ve seçilme hakkıhaklarımız içerisinde yer almaktadır.
4. Her çocuğun yaşına uygun bir okulda.....hakkını kullanması devletin temel görevidir.
5. Kanunlara uyma, başkalarının haklarına saygılı olma, üzerine düşen sorumlulukları zamanında ve en iyi şekilde yerine getirme.....bir vatandaşın yapması gereken görevlerdir.
6. Ülke bütünlüğünü, toplum sağlığını ve güvenliğini korumak amacıyla..... kanunlar çerçevesinde sınırlandırılabilir.
7. Ülkemizde yasama yetkisi Türk milleti adına'ye aittir.
8. Demokrasilerde halk yönetime hakkını kullanarak katılır.
9.demokratik devletlerde yasama, yargı ve yürütme güçlerinin ayrı ayrı temsil edilmesidir.
10. Yargı yetkisi Türk milleti adına tarafından kullanılır.
11. Türkiye Cumhuriyeti vatandaşları bütün iç hukuk yollarını kullandıktan sonra 'ne başvurabilirler.
12. Demokratik bir yaşam biçiminde insanlar çerçevesinde yaşam sürerler.
13. Seçimler eşit, gizli oy ve sayım esasına göre yapılır.
14. vakıf, dernek, sendika vb.den oluşurlar.
15. Demokratik toplumlarda insanlar muamele görür.
16. Seçimlerde her vatandaşın bir oy kullanma hakkına sahip olması, demokrasinin özelliğini gösterir.

29. “Ülkemiz farklı görüşlerin kendini ifade edebildiği ve farklı siyasi partilerin çalışmalar yapabildiği demokratik bir ülkedir.”

Verilen açıklamada demokrasinin hangi temel ilkesi vurgulanmıştır?

- A) Hukukun üstünlüğü B) Eşitlik C) Çoğulculuk D) Milli egemenlik

30. “Bazı monarşik yönetimlerde mutlak idarecinin yanında meclis de bulunur. Örneğin Osmanlı Devleti’nde 1876 yılından itibaren yönetimde padişahın yanında halkın seçtiği milletvekilleri de yer almıştır.”

Bu metinde bahsedilen yönetim şekli aşağıdakilerden hangisidir ?

- A) Teokrasi B) Meşruti Monarşi C) Oligarşi D) Cumhuriyet

31. -Milletvekilleri 5 yıllık süre için seçilir.

-Yöneticileri denetlenebilir.

-Yöneticiler Anayasa ve yasalara uygun davranırlar.

Özellikleri verilen yönetim şekli aşağıdakilerden hangisidir?

- A) Meşruti Monarşi B) Teokrasi C) Oligarşi D) Cumhuriyet

32. -Ülke güvenliğiyle ilgili kritik kararlar alır.

-Ekonomi ile ilgili kararlar alır.

-Milletvekilleri halktan aldığı yetkiyle yasama görevini yerine getirir.

Buna göre, aşağıdakilerden hangisi TBMM’nin sahip olduğu yetkilerden birisi değildir?

- A) Kanun yapmak ve değiştirmek
B) Para basılmasına karar vermek
C) Savaş ilanına karar vermek
D) Bakanlar kurulunu toplamak

33. I. Yöneticinin aldığı kararlar sorgulanamaz.

II. Yönetimin kaynağı tanrıya dayanır.

III. Yöneticiler tek başına savaşa veya barışa karar verir.

Yukarıdaki özelliklerden hangileri “Mutlak Monarşi” yönetimine aittir?

- A) Yalnız I B) I ve II C) I ve III D) I, II ve III

34. -Yönetimin kaynağı tanrıya dayanır.
-Yöneticiler din adamlarıdır.
-Tarihte Sümerlerde görülen yönetim şeklidir.

Özellikleri verilen yönetim şekli aşağıdakilerden hangisidir?

- A) Monarşi B) Cumhuriyet C) Oligarşi D) Teokrazi

35.



Verilen görsel aşağıdaki demokratik yönetim özelliklerinden hangisiyle doğrudan ilgilidir?

- A) Hukukun üstünlüğü B) Özgürlük C) Katılımcılık D) Eşitlik

36. Demokrasi kelimesi “demos” ve “kratos” kelimelerinin birleşiminden ortaya çıkmıştır ve anlamı halk egemenliğidir. Demokraside yöneten tek bir kişi veya kesim yoktur. Demokraside herkes kendi yaptığı davranışlardan sorumludur ve hiçbir insanın bir başkası üzerinde hakkı yoktur. Herkes kendi sorumluluğunu yerine getirir. Demokraside bütün egemenlik hakları halka ve bireye adanmıştır. Demokrasilerde kişiler eşit hak ve özgürlüklere sahiptir. Hepsi tek birey olarak düşünülebilir.

Buna göre, demokratik yönetim anlayışı ve toplum yapısı içerisinde yaşayan bir bireyin aşağıdaki davranışlardan hangisini yapması beklenmez?

- A) Seçimlerde oy kullanır.
B) Düzenli bir şekilde vergi öder.
C) Kanunlara uymaya özen gösterir.
D) Kendi çıkarlarını her şeyin üzerinde tutar.

37.

D

Y

Demokraside yönetme hakkı tek kişiye ait değildir.		
Demokraside bütün egemenlik hakları bir kişiye aittir.		
Demokrasilerde vatandaşlar eşit hak ve özgürlüklere sahiptir.		

Verilen ifadeler doğru ya da yanlış olarak işaretlendiğinde aşağıdaki tablolardan hangisi oluşur?

A)

✓	
	✓
✓	

B)

✓	
✓	
	✓

C)

✓	
	✓
	✓

D)

	✓
✓	
✓	

38. “Cumhuriyet, fikir serbestliği taraftarıdır. Samimi ve meşru olmak şartıyla her fikre saygı duyarız.”

Mustafa Kemal’in bu sözüyle Cumhuriyetin kazanımlarından hangisini vurguladığı söylenebilir?

A) Milli egemenlik

B) Hukukun üstünlüğü

C) Düşünce özgürlüğü

D) Eşitlik anlayışı

39. Mahalle sakinleri tercihini yaptı ”31 Mart 2019 tarihinde yapılan mahalli ve yerel idareler seçiminde 6. kez seçilen Mehmet KAYA; ilk kez seçilmiş gibi heyecanlı ve görev aşkı ile dolu olduğunu, görev yapacağı 5 yıl süre içerisinde mahallenin tüm sorunları ile yakından ilgileneceğini, bu sorunları çözmek için her türlü hukuki yola başvuracağını ifade etti. “Mahalle halkına ve benimle bu güzel yarışta centilmence yarışan diğer muhtar adaylarına teşekkür ediyorum.” diyerek sözlerini tamamladı.

Metinde verilenlere göre aşağıdaki yargılardan hangisine ulaşamaz?

A) Muhtarlık görev süresi beş yıldır.

B) Mahalle halkı sorumsuzca davranmıştır.

C) Mehmet Bey demokratik yollarla muhtar seçilmiştir.

D) Mehmet Bey mahalle halkı tarafından benimsenen bir muhtardır.

40. Bireyler olarak içinde bulunduğumuz grup, kurum ve toplumun karar alma sürecinde fikirlerimizi belirtmemiz ve sürece dâhil olmamız gerekir. İçinde bulunduğumuz grubun veya kurumun uygun görmediğimiz kararları ve uygulamaları olabilir. Bu durumda sessiz kalıp bir kenarda olup biteni izlemek yerine grup veya kurumda çeşitli yollarla yönetime katılmalı ve görüşlerimizi bildirmeliyiz.

Buna göre, aşağıdakilerden hangisi demokratik bir ülkede yönetime katılmak ve görüşlerimizi bildirmek için başvuracağımız yollar arasında sayılamaz?

A) Sivil toplum kuruluşlarına katılmak.

B) Siyasi partilere üye olmak.

C) Seçimlere katılmamak.

D) Medya organlarını kullanmak.

41. Toplumun karar alma sürecinde söz sahibi olabilmesi için sivil toplum kuruluşları, medya, kamuoyu vb. yolları kullanıyoruz. Ülke yönetimine ve toplumun karar alma sürecine katılmanın anayasa ve yasaların bireylere verdiği bir hak olduğunun farkındayız. Vatandaşlarımız bu haklarını kullanıp çeşitli yollarla düzenleme yapılmasını istediği konularda kamuoyu oluşturabilir, fikirlerini yetkili kişilere duyurabilir ve yönetime katılabilir.

Özellikleri verilen toplum için aşağıdakilerden hangisi söylenemez?

- A) Yöneticilerin aldıkları kararları her zaman onaylar.
- B) Anayasanın kendilerine verdikleri hakları bilir.
- C) Katılımcı demokrasiyi uygular.
- D) Karar alma süreçlerinde etkilidir.

42. Katılımcı demokrasinin tam anlamıyla uygulandığı bir toplum için;

- I. Alınan kararlar toplum tarafından daha iyi benimsenir.
- II. Kararların uygulanması için insanlar daha çok çaba gösterir.
- III. İnsanlar toplumsal sorunlara karşı ilgisizdir.
- IV. Temel hak ve özgürlükler kullanılmaz.

özelliklerinden hangileri söylenebilir?

- A) Yalnız I B) I ve III C) II ve III D) II ve IV

- 43.

.....		
Kâr amacı gütmeyenler.	Devletten bağımsız sivil insanlar tarafından oluşturulmuşlardır.	Vakıf, dernek, sendika vb.den oluşur ve üyeleri gönüllülük esasıyla çalışırlar.

Verilen özellikler aşağıdakilerden hangisiyle ilişkilendirilebilir?

- A) Medya B) Siyasi Partiler
C) Kamuoyu D) Sivil Toplum Kuruluşları

44. **Seçime katılım oranı belli oldu!**

“24 Haziran seçim sonucu netleşti. Seçimlere yüksek bir katılım gerçekleşti. 2015 Kasım seçimlerinde seçmen sayısı 56 milyon 949 bin iken, kullanılan oy sayısı 48 milyon 537 bin ile katılım oranı yüzde 85.2 olarak gerçekleşmişti. 24 Haziran 2018 seçimlerinde ise bu oran artarak 59 milyon 354.849 seçmenin 42 milyon 525 bini oy kullanarak seçime katılım oranını Cumhurbaşkanlığı seçiminde %83.6, milletvekilliği seçiminde ise %85.42 oranına yükseltti. Seçime katılımın yüksek olmasını demokrasi açısından sevindirici bulan siyaset uzmanları: “Bu oran siyasi tercih ve demokratikleşme düzeyi bakımından önem arz etmektedir. Seçimlere katılımın yüksek olduğu ülkelerde yönetimin karar alma sürecinde halk daha fazla etkili olur ve o ülkelerde demokratikleşme düzeyi daha yüksek olur.” değerlendirmesinde bulundular.

Verilen bilgilerden yola çıkarak aşağıdaki çıkarımlardan hangisi yapılabilir?

- A) Demokratikleşme düzeyi ile seçimlere katılım oranı arasında bir bağ vardır.
- B) Bilinçli hareket eden toplumlarda seçimlere katılım oranı düşük çıkar.
- C) Demokratik toplumlarda halkın az bir kısmı seçim zamanında sandığa gider.
- D) Seçimlere katılım oranı bir toplumun ekonomik gelişmişliğini ortaya çıkarır.

45. Yönetimin karar alma sürecine katılmak isteyen bir vatandaşın aşağıdakilerden hangisini yapması doğru olmaz?

- A) Televizyon, genel ağ, radyo, gazete, dergi vb. kitle iletişim araçlarını kullanabilir.
- B) Kanunlara aykırı şekilde yapılan gösterilere katılarak kendi düşüncelerini kabul ettirmeye çalışır.
- C) Kanunlar çerçevesinde siyasi parti kurabilir, siyasi partilere üye olabilir ve partilerin faaliyetlerine katılabilir.
- D) Devletten bağımsız oluşturulan, kâr amacı gütmeyen vakıf, dernek, sendika gibi sivil toplum kuruluşlarına üye olabilir.

		D	Y
1	Demokrasi, halkın egemenliği temeline dayanan yönetim biçimi, halk iradesi demektir.		
2	Demokrasi bilinci ilk olarak toplumun temel taşı olan üniversitede başlar.		
3	Demokratik toplumda insanlar sosyal yaşam içerisinde birbirleriyle olan ilişkilerinde hak ve sorumluluk ilkelerine dikkat eder.		
4	Demokratik yönetimlerde halk, seçimler yoluyla yönetime katılır.		

Verilen etkinliğin doğru çözümü aşağıdakilerden hangisinde verilmiştir?

	1	2	3	4
A)	D	Y	D	Y
B)	Y	D	Y	D
C)	D	Y	D	D
D)	Y	D	D	D

47. Demokrasi bir yönetim şekli olduğu gibi aslında yönetimi de içine alan bir yaşam biçimidir. Bu yaşam biçimi genel anlamda eşitlik ve özgürlük ilkelerine dayanır. Demokratik yaşam biçimi hayatımızın her alanını kapsar. Demokratik bir yaşam biçiminde insanlar birbirlerinin haklarına saygı gösterir, kanun ve kurallar çerçevesinde yaşam sürerler.

Aşağıdakilerden hangisi demokratik yaşam biçimine örnek olarak gösterilmez?

- A) Anne ve babanın aile veya çocuklarla ilgili kararlarda çocukların fikrini alması ve onlara eşit muamelede bulunması
- B) Öğrencilerin birbirlerinin hakkına saygı göstererek eşit söz hakkı alması ve görüşlerini özgürce ifade etmesi
- C) İnsanların sosyal yaşam içerisinde birbirleriyle olan ilişkilerinde hak ve sorumluluk ilkelerine dikkat etmesi
- D) Toplumsal alanlarda insanların başkalarının haklarına dikkat etmeden istedikleri her şeyi yapması

48.

Engelliler ile ilgili toplumu nasıl bilinçlendirebilirim?

Ayşe Hanım

Sokak hayvanlarının sorunları ile ilgili toplumda farkındalığı nasıl artırabilirim?

Ahmet Bey

Bir doğal afette zarar gören insanlara nasıl yardımda bulunabilirim?

Ali Bey

Aşağıdakilerden hangisi bu soruların cevabı olamaz?

- A) Konu ile ilgili, toplumu bilgilendirmek için medya araçları kullanılabilir.
- B) Sorunu başkalarının çözmesi beklenerek, sorun görmezden gelinebilir.
- C) Bir vakıf kurularak kamuoyu oluşturmak için çalışmalar yürütülebilir.
- D) İlgili sivil toplum kuruluşları ile iletişime geçilebilir.

49.

	İFADELER	D	Y
I.	Topluca alınan kararlar bir kişinin kararından daha fazla kabul görür.	✓	
II.	Ülke yönetimine ve toplumun karar alma sürecine katılmak anayasa ve yasaların bireylere verdiği bir haktır.	✓	
III.	Demokratik ülkelerde vatandaşlar fikirlerini yetkili kişilere duyurabilir ve yönetime katılabilir.		✓
IV.	Vakıflara üye olanlar zorunlu olarak çalışırlar.		✓

Bu tabloda verilen ifadeler doğru ise "D", yanlış ise "Y" kutucuğu işaretlenerek değerlendirilmiştir.

Buna göre hangi ifadenin işaretlenmesinde hata yapılmıştır?

A) I

B) II

C) III

D) IV

50. Ben Fatma, 6. sınıfta okuyorum. Size biraz okulumuzdaki bazı uygulamalardan bahsedeceğim. Okulumuzda tüm öğrencileri ilgilendiren konularda okul yönetimi öğrencilerin görüşlerini almaktadır. Okulumuz ile ilgili istek ve görüşlerimizi oluşturulan dilek kutusuna atıyoruz. Öğretmenlerimiz her ay bu kutudaki dilek ve istekleri değerlendirip gerekli bazı düzenlemeleri yapıyorlar. Okulumuzda sınıf başkanları sınıf oylaması sonucunda seçiliyor. Okul meclisimizi ve başkanımızı tüm okulun katıldığı seçimlerle belirledik. Ben hiç çekinmeden müdürümüzün odasına gidip sınıfımız ile ilgili isteklerimi söyleyebiliyorum.

Fatma'nın anlattıklarından yola çıkarak sözü edilen okul ile ilgili aşağıdakilerden hangisi söylenebilir?

- A) Okulda demokratik bir ortam oluşturulmuştur.
 B) Öğrencilerin istekleri görmezden gelinmektedir.
 C) Sınıfların yönetimini öğretmenler belirlemektedir.
 D) Okulda bütün kararları öğrenciler almaktadır.

51.

KAMUOYU	Halkın bazı siyasi ve toplumsal sorunlar karşısında olumlu veya olumsuz görüşünü belirlemek için başvurulanan bir oylamadır.
MEDYA	Toplumda sözlü veya yazılı haber alma imkânını sağlayan televizyon, genel ağ, radyo, gazete, dergi vb. kitle iletişim araçlarının oluşturduğu basın yayın organlarına denir.
SİVİL TOPLUM KURULUŞLARI	Toplumdaki çeşitli sorunları bağımsız olarak ele alıp kamuoyunu bilgilendirme ve aydınlatma görevi yapan, öneriler sunan her türlü birliğe denir.
REFERANDUM	Bir konuyla ilgili aynı düşüncedeki insanların bir araya gelmesiyle oluşan halkın genel düşüncesidir.

Tabloda kavramlar ve açıklamaları yukarıdaki gibi eşleştirilmiştir.

Verilen tabloda hangi kavramlar yer değiştirirse açıklamaları ile doğru eşleştirilmiş olur?

A) Kamuoyu – Medya

B) Medya – Sivil Toplum Kuruluşları

C) Referandum – Kamuoyu

D) Sivil Toplum Kuruluşları – Referandum

52. • Hastanede sıra bekleyenler hamile bir kadına öncelik verilmesini olumlu karşıladılar.
• Otobüs durağında bekleyenler araca binmek için sıraya girdiler.
• Okulda engelli arkadaşı için yapılan asansörü diğer öğrenciler kullanmamaktadır.
• Engelli araçlar için ayrılan park alanına diğer araçlar park etmemektedir.
• Toplu taşımada yaşlılara gençler yer vermektedir.

Verilen örneklerle sahip bir toplum için aşağıdakilerden hangisi söylenebilir?

- A) İnsanlar kişisel çıkarlarını ön planda tutmaktadır.
B) Toplumsal kurallara uyanların oranı çok azdır.
C) Vatandaşlar demokratik tutum göstermede duyarlıdır.
D) Engelli vatandaşlar diğer insanlar tarafından dışlanmaktadır.

53. Demokrasi, halkın egemenliği temeline dayanan yönetim biçimidir. Bu yönetim biçiminde halk iradesi belirleyicidir. Halk seçtiği yöneticiler aracılığıyla kendi kendisini yönetmektedir. Demokratik yönetimlerde halk, seçimler yoluyla yönetime katılır. Demokratik toplumlarda seçimlerin yanı sıra kişiler, siyasi partiler, sivil toplum kuruluşları, medya vb. yöntemlerle her zaman söz söyleme hakkına sahiptir. Demokratik yönetimlerde insanların temel hakları güvence altındadır. Demokrasi, kanun ve kuralların bağlayıcı olduğu hukukun üstünlüğü ve çoğunluğun yönetimiyle birlikte azınlığın haklarının da korunması ilkelerine dayanır.

Verilen bilgilere göre aşağıdakilerden hangisinin demokratik yönetimlerde görülmesi beklenmez?

- A) Mahalle sakinleri, mahalleyi en iyi şekilde yönetecek kişiyi seçmek için birçok adayın olduğu seçimlerde sandık başına gitti.
B) Çevreci bir vakfın girişimi ile çevreyi kirleten bir fabrikanın faaliyetleri gerekli önlemler alınana kadar mahkeme kararı ile durduruldu.
C) Yapılan referandumda halkın büyük çoğunluğunun iptalini istediği gökdelen projesi tüm tepkilere rağmen tamamlandı.
D) Engelli çocuğu olan bir anne, çektikleri sıkıntılara dikkat çekmek için bir televizyon programına katıldı.

54. Demokrasi, egemenliğin kayıtsız şartsız millete ait olmasıdır. Demokrasilerde belli dönemlerde yapılan seçimlerle halk temsilcilerini seçer. Böylece millet temsilcileri aracılığıyla kendi kendini yönetir. Vatandaşlar kanunlara göre seçme ve seçilme hakkını kullanır. Herhangi bir baskı olmadan istediği partiye oyunu verir.

Bu metinden hareketle aşağıdakilerden hangisine ulaşamaz?

- A) Devleti yönetme yetkisi belli bir zümreye aittir.
B) Vatandaşların seçme ve seçilme hakkı vardır.
C) Bireyler istediği partiye oyunu verebilir.
D) Demokrasilerde egemenlik millete aittir.

55.

YURTTAN HABERLER

Böbrek rahatsızlığı olan Ömer, tedavi için gittiği hastanede tek çözüm yolunun böbrek nakli olduğunu öğrendi. Bu nedenle organ bağıışı için beklemeye başladı. Bir gün gelen telefonla apar topar hastaneye giden Ömer hemen ameliyata alındı. Ne olduğunu anlamadan gözlerini açan Ömer'in ameliyatı başarılı geçmişti. Toparlanan Ömer kendisine bu iyiliği yapanın kim olduğunu sordu. Ömer böbreği nakledilen kişinin trafik kazasında hayatını kaybeden Ali adlı bir genç olduğunu öğrendi. Hastaneden taburcu olduktan sonra Ali'nin ailesini ziyaret etti. Ziyareti esnasında oluşan duygusal ortam tüm topluma organ bağıışının ne kadar önemli olduğunu bir kez daha gösterdi.

Yukarıdaki gazete haberini okuyan Ayşe, ailesi ile konuşarak hep birlikte gönüllü organ bağıışçısı olmak için başvuruda bulunmuştur.

Buna göre Ayşe'nin bu davranışında aşağıdakilerden hangisi etkili olmuştur?

- A) Medya B) Siyasi Parti C) Vakıflar D) Kamuoyu

56.



Hayri

Merhaba Kamil. Bugün hasta olduğum için okula gelemedim, sosyal bilgiler dersinde hangi konuyu işlediniz?

Hayri öncelikle geçmiş olsun. Bugünkü işlediğimiz konunun başlığını hatırlamıyorum ama içeriğinde her bireyin yaşama hakkının olduğu, her çocuğun okula gitme hakkının olduğu, her bireyin hastaneye gitme hakkının olduğu gibi bilgiler öğrendik.



Kamil'in Hayri'ye anlattığı konu içeriğine verilebilecek en uygun başlık aşağıdakilerden hangisidir?

- A) Temel Hak ve Özgürlükler B) Geçmişten Günümüze Kadın Hakları
C) Demokratik Devlet Organları D) Yönetim Biçimlerini Karşılaştıralım

57.



Aile ve Sosyal Politikalar Bakanlığı bünyesinde hizmet veren Alo 183 danışma hattının görevi aşağıdakilerden hangisidir?

- A) Sigarayı bırakmaya yardımcı olmak
- B) Kadına şiddeti engellemeye çalışmak
- C) Kız çocuklarını eğitime kazandırmak
- D) Girişimci kadınlara destek vermek

58.

BASINDAN

Tarım İşçilerinin Çocuklarına Okul Öncesi Eğitim

Adana'da mevsimlik tarım işçisi ailelerin çocuklarına yönelik okul öncesi eğitim sınıfı kuruldu. Yüreğir Belediyesinden yapılan yazılı açıklamaya göre Doğankent Mahallesi'nde, tarım işçilerinin çocuklarına okul öncesi eğitim vermek üzere sınıf açıldı. Her gün 25 çocuğun kaldıkları yerlerden araçla alınarak sınıfa getirildiği, öğrencilerin çeşitli etkinliklere katıldığı belirtildi. Yüreğir Belediye Başkanı'nın bu konudaki görüşlerine kulak verelim: Çocukların zihinsel ve bedensel gelişiminin sağlıklı bir şekilde tamamlanması için bu yaşta verilen eğitimler çok önemli. Sabahtan akşama kadar tarlada çalıştıkları için mevsimlik tarım işçilerinin bir kısmı çocuklarıyla yeterince ilgilenemiyorlar. Bu nedenle mevsimlik işçilerimizin çocuklarını bulundukları yerlerden alıyoruz, hazırladığımız sınıflarda onlara okul öncesi eğitimi veriyoruz ve sağlık kontrollerini yapıyoruz. Onları mutlu görmek bizi de mutlu ediyor. Bu hizmetleri imkânlarımız elverdiği ölçüde devam ettireceğiz.

Buna göre aşağıdakilerden hangisi gazete haberine konu olan çalışmanın amaçlarından biri olamaz?

- A) Çocukların mutlu olmasını sağlamak.
- B) Çocukların bedensel ve zihinsel gelişimlerine yardımcı olmak.
- C) Çocukların eğitim haklarından faydalanmalarını sağlamak.
- D) Tarım sektörünün ülke ekonomisindeki yerini genişletmeye çalışmak.

59. Türk tarihine bakıldığında kadının toplumda çok önemli bir rolünün olduğu görülmüştür. Hatta öyle ki hakanın emirnameleri sadece “Hakan ve hatun buyuruyor ki” buyruğuyla başlamışsa geçerli olmuştur. Hakan ve hatun elçileri beraber kabul etmişlerdir. Bununla beraber Köktürk parasının üzerinde hakan ve hatunun birlikte resmi bulunmuştur.

Verilen metne göre aşağıdakilerden hangisi çıkarılamaz?

- A) Türk tarihinde kadın değerlidir.
- B) Türklerde hatunların siyasi rolü bulunmaktadır.
- C) Türklerde kadın-erkek ayrımı yapılmamıştır.
- D) İslamiyet öncesi kadınlar seçme ve seçilme hakkına sahiptir.

60. Türk kadınına yönetimde görev alabilmesini sağlayan siyasi haklar 1930'dan itibaren verilmeye başlandı. Kadınlara 1930'da belediye seçimlerine katılma hakkı, 1933'te muhtarlık seçimlerine katılma hakkı tanındı. Türk kadını; Anayasa, Medeni Kanun ve seçim yasaları sayesinde haklarına dünyadaki birçok ülkedeki kadından önce ulaşmıştır. İsviçre ve Fransa gibi Avrupa ülkelerinde dahi kadınlar, seçme ve seçilme hakkını Türk kadınından sonra elde etmişlerdir.

Bu bilgilere göre aşağıdaki yargılardan hangisine ulaşılamaz?

- A) Dünyada ilk kez siyasi haklara Türk kadını sahip olmuştur.
- B) Türk kadını siyasi haklarını aşama aşama elde etmiştir.
- C) Türk kadını siyasi haklarını Cumhuriyetin ilk yıllarında elde etmiştir.
- D) Türk kadını siyasi haklarını birçok Avrupa ülkesinden önce elde etmiştir.

61. Türkiye’de çalışma yaş aralığında bulunan 30 milyon 300 bin kadının ancak 8.9 milyonu çalışıyor. Şirketler kadın istihdamını arttırmak için kreş yardımları, esnek çalışma modelleri sunuyor, işe alımlarda kadınlara öncelik tanınıyor. Bu çalışmalar kadınların “pozitif ayrımcılık” ilkesine göre toplumda yer edindiklerini göstermektedir.

Aşağıdakilerden hangisi kadına yönelik pozitif ayrımcılığa örnektir?

- A) Hukuk fakültesini bitiren Dilara’nın hakim olması
- B) Tıp fakültesini bitiren Gülşah’ın doktor olması
- C) Zeynep Öğretmenin okul müdürü olması
- D) İş yeri açan Zübeyde Hanımın vergiden muaf tutulması

62. Devlet temel hak ve özgürlüklerin korunması konusunda üzerine düşen sorumlulukları yerine getirmekle beraber Türk vatandaşlarına bu konuda çeşitli ödevler yüklemiştir. Türk vatandaşlarına düşen görev bu ödevlerini gereği gibi zamanında yerine getirmektir.

Buna göre aşağıda verilenlerden hangisi Türk vatandaşlarının devlete karşı ödevlerinden biri değildir?

- A) Vatani görevini yerine getirmek
- B) Vergisini zamanında vermek
- C) Alışverişlerden sonra fiş almak
- D) Dilekçe hakkını kullanmak

63. Kenan Hoca sosyal bilgiler dersinde haklarımız ve sorumluluklarımız konusunu anlattıktan sonra konuyla ilgili kavramları tahtaya yazıp öğrencilere kavramlarla ilgili sorular sormuştur.



Kenan hoca: "Tahtadaki kavramlardan hangileri sorumluluklarımızdır? demiştir.

Aşağıdaki öğrencilerden hangisi Kenan Hoca'nın sorusuna doğru cevap vermiştir?

A) Hayri

- Kanunlara uymak
- Vergi ödevi
- Tüketici hakkı
- Konut dokunulmazlığı

B) Kamil

- Kanunlara uymak
- Vergi ödevi
- Sınıfı temiz tutmak
- Vatan hizmeti

C) Akın

- Konut dokunulmazlığı
- Yaşama hakkı
- Vergi ödevi
- Sağlık hakkı

D) Mert

- Sağlık hakkı
- Yaşama hakkı
- Tüketici hakkı
- Konut dokunulmazlığı

64. Vatandaş olma bilincine sahip insanlar sorumluluklarının farkındadırlar. Seçme ve seçilme hakkını kullanarak ülke yönetimine katılırlar. Vergi vermenin bir vatandaşlık görevi olduğunu bilirler. Devlet işlerinin düzenli yürümesi ve hizmetlerin yapılabilmesi için vergisini zamanında ve doğru olarak öderler. Toplum içinde insanların rahat ve huzurlu yaşaması için düzenlenmiş olan kanunlara uyarlar. Bunun her vatandaşın görevi olduğunu bilirler ve böyle toplumlarda, huzur ve adalet olacağının bilincindedirler. Askerlik görevini (vatan hizmeti) yaparlar. Yurt savunmasında üzerlerine düşen görevleri yerine getirirler.

Verilen bilgilere göre sorumluluklarını bilen bir Türk vatandaşı aşağıdakilerden hangisini yapmaz?

A) Vergisini zamanında öder.

B) Kanunlara ara sıra uyar.

C) Seçim zamanı oy kullanır.

D) Yurt savunmasına katılır.

65.



Tayyar Rahmiye Hanım (1890 – 1920)

Osmaniye’de dünyaya gelen Rahmiye Hanım, Millî Mücadele sırasında güney illerimizi işgal eden Fransızlara karşı savaşan kadın kahramanlarımızdan biridir. Fransızların halka yaptığı zulümler üzerine gönüllülerden kurduğu müfrezesinin başında çarpışmalara katılan Rahmiye Hanım’a atılınca hareketlerinden dolayı Tayyar (uçan) unvanı verildi.

Tayyar Rahmiye Hanım, Osmaniye’deki Fransız Karargâhına 1 Temmuz 1920’de müfrezesiyle birlikte girdiği taarruz hareketi sırasında düşman ateşiyle şehit düşmüştür. Ancak silah arkadaşları onun başlattığı taarruzu zaferle sonuçlandırarak karargâhı ele geçirmişlerdir. Bu fedakâr Türk kadınının mezar taşında şu cümleler yazılıdır:

“Yarınların sahibi ey gençlik,
İyi tanı, ebedî sükûnetle bu mezarda yatmanı.
Hak için, bayrak için canın feda edip
Armağan etti bize bu mukaddes vatanı.”

Atatürk’ün kadın ve kadın hakları ile ilgili farklı alanlarda birçok sözü vardır.

Buna göre, Atatürk’e ait aşağıdaki sözlerden hangisi bu metne uygundur?

- A) Şuna inanmak lâzımdır ki, dünya yüzünde gördüğümüz her şey kadının eseridir.
- B) Kadınlar içtimai hayatta erkeklerle birlikte yürüyerek birbirinin yardımcısı ve destekçisi olacaklardır.
- C) Dünyada hiç bir milletin kadını “Ben Anadolu kadınından fazla çalıştım. Milletimi kurtuluşa ve zafere götürmekte Anadolu kadını kadar emek verdim.” diyemez.
- D) Ulusun kaynağı toplumsal yaşamın temeli olan kadın; ancak erdemli olursa görevini yerine getirebilir. Kuşkusuz kadın, çok erdemli, çok yüce olmalıdır.

66. Aşağıdakilerden hangisi 6. sınıfa giden bir öğrencinin doğrudan kullanabileceği hak veya özgürlüklerden biri değildir?

A) Seyahat Özgürlüğü

B) Eğitim Hakkı



C) Beslenme Hakkı

D) Sağlık Hakkı



67.



Şehit Şerife Bacı

Kastamonu'nun Seydiler ilçesinden olan Şerife Bacı, hazin biten bir destanın kahramanıdır.

1921 yılının ilk aylarında, Şerife Bacı İnebolu'dan aldığı cephanelerle Kastamonu'ya doğru yola çıkmıştır. Çetin kış şartları ve aniden bastıran tipi sırasında bağlı bulunduğu kağı kolundan ayrı düşmüştür. Şerife Bacı, o zor şartlarda Kastamonu Kışlası yakınlarına kadar gelmişse de o şartlarda donmaktan kurtulamamıştır. Fırtına ve tipinin sabahında bir bebeğin ağlama sesini takip eden devriye ekibi, sahibi donmuş bir kağı arabası ile karşılaşmıştır. Devriye ekibi, kağıda üzerleri kardan etkilenmemesi için battaniye ile örtülmüş cephaneye ile cephanenin arasında kuru otlara yatırılmış bir bebek bulmuştur.

Bu metinden hareketle aşağıdakilerden hangisi çıkarılamaz?

- A) Şerife Bacı vatanın kurtuluşunu her şeyin üstünde tutmuştur.
- B) Şerife Bacı'nın kahramanlığı bütün yurttaşlar tarafından takdir edilmiştir.
- C) Şerife Bacı'nın hayatı "Bu millet ölmez, bu millet esir olmaz." sözüne iyi bir örnektir.
- D) Şerife Bacı Milli Mücadele'nin başarıya ulaşmasında görev alan en önemli kadın kahramanlardan biridir.

68. • 1930 yılında kadınlara belediye seçimlerine katılma hakkı verildi.
 • 1933 yılında kadınlara muhtarlık seçimlerine katılma hakkı verildi.
 • 1934 yılında kadınlara milletvekili olma hakkı verildi.

Verilen bu bilgiler aşağıdakilerden hangisiyle ilişkilendirilebilir?

- A) Eğitim alanında yapılan inkılaplar
- B) Türk kadınına verilen siyasi haklar
- C) Türk kadınına verilen sosyal haklar
- D) Sağlık alanında yapılan inkılaplar

69. Temel hak ve özgürlükler, anayasamız tarafından koruma altına alınmıştır. Bütün vatandaşlar sahip oldukları bu hakları yasal çerçevede kullanırlar. Anayasamız temel hak ve hürriyetlerin korunması, kullanılabilmesi, imkânlarının hazırlanması bakımından devlete çeşitli ödevler yüklemiştir. Devlet, temel hak ve özgürlüklerin korunması konusunda kendi üzerine düşen sorumlulukları yerine getirmekle beraber, Türk vatandaşlarına da bu konuda çeşitli ödevler yüklemiştir. Türk vatandaşlarına düşen görev bu ödevlerini gereği gibi ve zamanında yerine getirmektir.

Verilen bilgilere göre temel hak ve özgürlükler ile ilgili aşağıdakilerden hangisi söylenemez?

- A) Temel hak ve özgürlükleri korumak sadece devletin görevidir.
- B) Her birey hak ve özgürlüklerini kanunlar çerçevesinde kullanabilir.
- C) Devlet, hak ve özgürlüklerin kullanılması için gerekli önlemleri alır.
- D) Anayasamız hak ve özgürlükleri korumada en üstün özelliğe sahiptir.



Aşağıdakilerden hangisi bu çalışmanın amacı olamaz?

- A) Çocuklara kendi haklarını öğretmek
- B) Çocuklara, otobüse binerken sırasını beklemeyi öğretmek
- C) Çocuk hakları konusunda farkındalık oluşturmak
- D) Yetişkinleri çocuk hakları konusunda bilgilendirmek

71. Furkan, işleyecekleri konuyla ilgili yaptığı araştırma sonucu toplum içinde huzurlu ve güvenli yaşamak için bazı haklara sahip olduğumuzu ve devletimizin bu hakları anayasa ile güvence altına aldığını öğrenmiştir. Bunların kişisel, sosyal, ekonomik ve siyasi haklarımız ile ödevlerimiz olduğunu görmüştür. Kişisel haklarımıza doğuştan sahip olduğumuz, bu hakların dokunulmaz ve vazgeçilmez haklar olduğu bilgisi çok dikkatini çekmiştir. Yine bu haklardan ilki ve temeli insanların doğumuyla birlikte sahip olduğu ve anayasamızın 17. maddesiyle güvence altına alınan yaşama hakkıdır. Bu hak diğer hakların kullanılabilmesi için gereklidir.

Metinden hareketle ulaşılacak en genel yargı aşağıdakilerden hangisidir?

- A) Haklarımıza sahip olduktan sonra başkasına devredebiliriz.
- B) Sosyal ve siyasi haklarımız anayasa ile güvence altına alınmıştır.
- C) Yaşama hakkı en temel hakkımız olup diğer hakların hiçbir önemi yoktur.
- D) Huzur ve güvenin kaynağı, anayasa ile korunan haklarımıza sahip çıkmaktır.

72. Toplumsal hayatta kadının yaşadığı olumlu gelişmelerin yanında bir de hayatını zorlaştıran birtakım olumsuzluklar yaşanmaktadır. Bunlara kadına yönelik şiddet ve cinsiyet ayrımcılığı örnek olarak verilebilir. Kadına yönelik şiddet; “cinsiyete dayanan, kadını inciten, fiziksel, cinsel, ruhsal hasarla sonuçlanma olasılığı bulunan, toplumda ya da özel yaşamında ona baskı uygulanması ve özgürlüklerinin keyfi olarak kısıtlanmasına neden olan her türlü davranış” olarak tanımlanmaktadır. Ülkemizde kadına yönelik şiddete karşı yasal düzenlemeler yapılmakta ve toplumun bütün kesimlerini içine alan sosyal sorumluluk projeleri ile uzun süreli çözümler oluşturulmaktadır.

Bu bilgilere göre kadına yönelik şiddeti ortadan kaldırma adına aşağıdakilerden hangisinin yapılması doğru olmaz?

- A) Kadınları şiddete karşı koruyacak toplumsal duyarlılık oluşturmak.
- B) Kadına yönelik şiddette bulunan kişileri ömür boyu ev hapsine almak.
- C) Etkili yasal düzenlemeler yapıp sosyal sorumluluk projeleri gerçekleştirmek.
- D) Cinsiyet ayrımcılığının olumsuz yönlerini konferanslar düzenleyerek insanlara anlatmak.

73. 2016-2020 yıllarını kapsayan “Kadına Yönelik Şiddetle Mücadele 3.Ulusal Eylem Planı” kurum ve kuruluşlarla güçlü bir iş birliği içerisinde ülkemizde uygulanmaktadır. Kültürümüz ve inanç değerlerimizde yeri olmayan kadına şiddet konusunun, sadece belirli bir kesimin duyarlı olduğu bir alan olmadığı, bu konuda toplumun tüm kesimlerinin birlikte mücadele etmesi gerektiği vurgulanmıştır. Şiddete karşı mücadelede toplumun her kesimine görevler düştüğü ifade edilmiştir.

Verilen metinden hareketle aşağıdakilerden hangisi söylenemez?

- A) Kadına yönelik şiddete karşı çalışmalar yapılmaktadır.
- B) Kadına yönelik şiddet kültürel değerlerimize aykırıdır.
- C) Kadına yönelik şiddet toplumun sadece bir kesimini ilgilendirir.
- D) Kadına yönelik şiddet konusunda birçok kurum çalışma yapmaktadır.

74. TÜİK'in Ekim 2017 istatistiklerine bakıldığında Türkiye’de çalışma yaş aralığında bulunan 30 milyon 300 bin kadının ancak 8.9 milyonu çalışıyor. TÜİK verilerine göre, erkeklerin istihdama katılım oranı yüzde 70 civarında iken kadın katılımı yüzde 30’un altında kalıyor. AB (Avrupa Birliği) ülkelerinde ise ortalama kadın istihdam oranları yüzde 58-59 civarında seyrediyor. Bugün şirketler kadınlara kreş yardımı, esnek çalışma modelleri, doğum sonrası ekstra izinler, yarım gün çalışma gibi imkanlar sunarak kadın istihdamını arttırmaya çalışıyorlar.

Buna göre, kadın istihdamını artırmaya yönelik çalışmalarla aşağıdakilerden hangisi amaçlanmaktadır?

- A) Erkeklerin çalışma istihdamını azaltmak
- B) Kadınları AB ülkelerinde çalışmaya zorlamak
- C) Pozitif ayrımcılık yaparak kadın istihdamını artırmak
- D) Kadınların çocuklarına daha fazla zaman ayırmasını sağlamak

75. Uzun bir tatilden sonra okulların açılmasıyla, birbirini özlemiş iki arkadaş Mehmet Emin ve Yusuf okulun yanındaki parkta buluşmuşlardı. Mehmet Emin, biraz üzgün duruyordu. Aralarında şöyle bir konuşma geçti:

Yusuf: Hayırdır sevgili arkadaşım neden bu kadar üzgünsün, yoksa tatildeyken olumsuz bir olay mı yaşadın?

Mehmet Emin: Yusuf, biliyorsun tatilde memleketim Kastamonu'ya gitmiştik. Başımıza bir olay geldi ve bundan çok etkilendim. Hâlâ da etkisini üzerimden atamadım.

Yusuf: Lütfen bana da anlatır mısın?

Mehmet Emin: Tabii ki zaten anlatacağım. Geçen hafta Kastamonu'daki dedemin evinin önünde arkadaşlarımla oynarken, annem pasta yapmak için bizden süt almamızı istemişti. Biz de eve çok yakın olan küçük bir markete gittik. Sütü aldık fakat oyunumuz yarıda kaldığı için alışveriş fişini almadan koşa koşa eve geldik. Annem tam sütü kullanacakken sütün tavsiye edilen tüketim tarihinin (TETT) geçtiğini fark etti ve sütü bize geri vererek marketten değiştirmemizi istedi. Biz markete gittiğimizde sütü geri vermek istedik. Fakat market sahibi satılan mal geri alınmaz dedi ve bozuk sütü elimize tutuşturarak bizi geri gönderdi.

Buna göre Mehmet Emin aşağıdaki davranışlardan hangisini yapsaydı hiçbir sorunla karşılaşmazdı?

- A) Sütü ertesi gün götürmeliydi.
- B) Yaptığı alışverişin fişini almalıydı.
- C) Markete babasıyla birlikte gitmeliydi.
- D) Tüketim tarihi geçen sütü markete geri vermeliydi.

76. Eski Türk devletlerinde kadın değerli bir varlık olarak görülürdü. Ülkenin yöneticisi olan hakanın yanında eşi hatunun da çok önemli yetkileri vardı. Yapılacak bir çalışmada "Hakan ve hatun emrediyor ki..." diye başladılar. Türkiye Selçuklu ve Osmanlı Devleti'nde de padişah eşleri halkın yararına olacak şekilde imarethane, çeşme, medrese, aşevi ve şifahane gibi birçok faydalı çalışmalar yapmışlardır. Ayrıca Türk kadını Kurtuluş Savaşı Dönemi'nde cepheye mermi taşımış ve bizzat savaşın içinde yer almıştır.

Bu bilgilere göre Türk kadını ile ilgili;

- I. Ülke yönetiminde etkin bir konumda olmuştur.
- II. Sosyal hayatın gelişmesi adına çalışmalarda bulunmuştur.
- III. Ülkenin bağımsızlığı için gerektiğinde canını tehlikeye atmıştır.

yargılarından hangilerine ulaşılabilir?

- A) I ve II
- B) I ve III
- C) II ve III
- D) I, II ve III

77.



ÜMRANIYE HANIMELİ ÇARŞISI

Ümraniye’de ikamet eden kadınların, kendi el emeği ürünlerini güvenli ve kolay bir şekilde sergileyip satabilecekleri, ekonomik olarak desteklenebilecekleri Hanımeli çarşısında 14 dükkân bu kapsamda hizmet vermektedir. İki haftalık periyotlarla gruplar yenilenmekte ve başvuru yapan kadınlar sırasıyla bu hizmetten tekrar tekrar faydalanmaktadır.

Bir dükkân sürekli olarak engellilere hizmet vermektedir. 2018 yılı itibariyle çarşıda bulunan bayanların el becerilerini geliştirmek, aynı zamanda ürün yelpazelerini zenginleştirmek amacıyla da kurslar düzenlenmektedir. 2018 yılında rölyef ve takı branşlarında eğitim düzenlenmiş; bu eğitimlere 26 kişi katılmıştır.

Verilen görsellerden ve metinden yola çıkarak aşağıdakilerden hangisine ulaşamaz?

- A) Yapılan çalışmalarda engelliler unutulmamıştır.
- B) Kadınlar bu çalışma sonucunda mülk sahibi olmaktadır.
- C) Kadınlara meslek edindirme, verilen hizmet içerisinde yer almaktadır.
- D) Kadınların ekonomik özgürlüklerini destekleyecek bir çalışmadır.

CEVAP ANAHTARI

1.

3

1

2,4

5,6

2.

4. Monarşi

2. Oligarşi

3. Teokrasi

1. Demokrasi

3. YARGI - Kanun ya da yasa çıkarma gücüdür. - BAŞKAN VE BAKANLAR KURULU

4.

YARGI

YASAMA

YÜRÜTME

5.

YARGI

YÜRÜTME

YASAMA

CUMHURİYET

OLİGARŞİ

MONARŞİ

TEOKRASİ

6.

A) Cumhurbaşkanının görev ve yetkilerinden 3 tanesini yazınız.

B) TBMM'nin görev ve yetkilerinden 3 tanesini yazınız.

1. Milli güvenlik kuruluna başkanlık etmek

1. Kanun koymak, değiştirmek ve kaldırmak

2. Devleti yurt içinde ve yurt dışında temsil etmek

2. Genel af ve özel af ilanına karar vermek

3. TBMM'yi gerektiğinde toplantıya çağırarak

3. Para basılmasına karar vermek

7.

Demokratik yönetimin özellikleri

Demokratik olmayan yönetimin özellikleri

1 Yöneticiler seçimle işbaşına gelir.

1 Yöneticilerin belirlenmesinde halk söz sahibi değildir.

2 Kanunlar önünde herkes eşittir.

2 Yöneticilerin yetkileri sınırsızdır.

3 Yöneticiler belli bir süreliğine seçilir.

3 Yönetim babadan oğula geçer.

8.

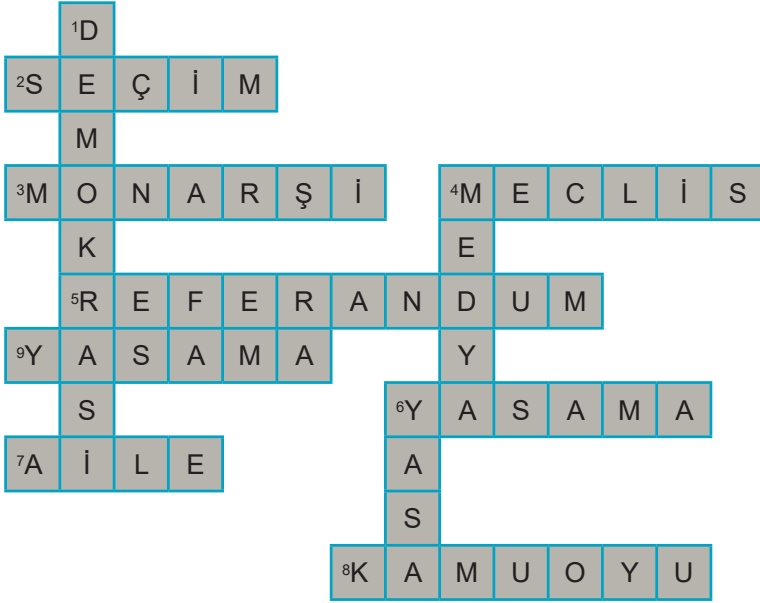
DEMOKRATİK



DEMOKRATİK OLMAYAN



9.



10. aile - alınır - saygı - özgürce - seçimler - verilir - etmez - demokratik

DEMOKRASİ..

11.

KOMUOYU

MEDYA

12.

Demokratik bir yaşam biçiminde insanlar birbirlerinin haklarına saygı gösterir.

X

13.



14.

	D	Y
1.	X	
2.		X
3.	X	
4.	X	
5.	X	
6.		X
7.		X
8.	X	

15.

1															
2															
3															
4															
5															
6															
7															
8															
9															
10															
11															
12															
13															
14															
15															
16															
17															
18															
19															
20															

16.

³D ⁴E M O ⁷K R A S İ

C U ¹M H U R İ Y ²E T

M O ⁵N A R Ş ⁶İ

⁸A D A L E T

⁸H U K U K ¹⁰U ⁹N

Ü S T Ü ¹¹N L Ü Ğ Ü

Şifre :

¹M ²E ³D ⁴E ⁵N ⁶İ

⁷K ⁸A ⁹N ¹⁰U ¹¹N

MEDENİ KANUN

17.

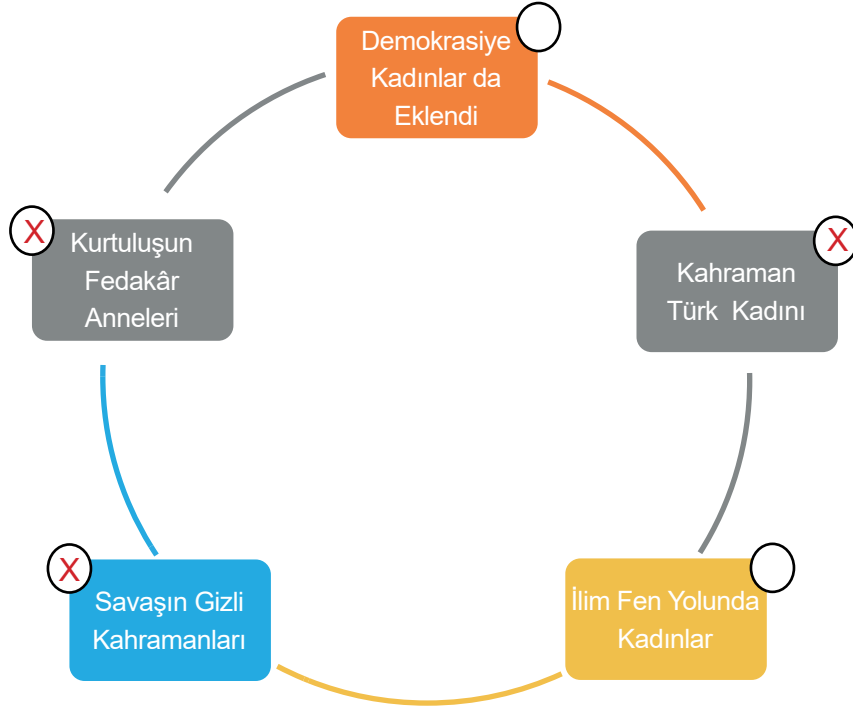
Düşünce ve Kanaat Özgürlüğü

Sağlık Hakkı

Eğitim Hakkı

Haberleşme Özgürlüğü

18.



19. Temel Hak ve Özgürlüklerin Kısıtlanabileceği Durumlar

20.

TEMEL HAK VE ÖDEVLER	
Sağlık hakkı	8
Seçme ve seçilme hakkı	5
Kişî dokunulmazlığı	1
Seyahat özgürlüğü	6
Konut dokunulmazlığı	4
Düşünce özgürlüğü	2
Yaşama hakkı	3
Haberleşme özgürlüğü	7

21.

1	9	2	6
---	---	---	---

22.

DAVRANIŞLAR	HAK	SORUMLULUK
1. Mahallemizdeki okulda eğitim görmek	X	
2. Okulun futbol takımının çalışmalarına düzenli olarak katılmak		X
3. Sosyal bilgiler dersine zamanında girmek		X
4. Akşam yemeğinin hazırlanmasında anne ve babamıza yardımcı olmak		X
5. Elimizdeki çöpleri çöp kutusuna atmak		X
6. Okulumuzun araç ve gereçlerini korumak		X
7. Mahallemizdeki parkta oyun oynamak	X	
8. Yaptığımız alışverişten sonra fiş almak		X
9. Seçimlerde oy kullanmak	X	X
10. Odamızda oyun oynadıktan sonra oyuncaklarımızı toplamak		X
11. Okulumuzun bilişim teknolojileri sınıfını kullanmak	X	
12. Devlete gelirimize göre vergi ödemek		X
13. Öğretmenimizin verdiği görevleri zamanında yapmak		X
14. Trafikte yer alan kurallara uymak		X
15. Okulumuzun kantinini kullanmak	X	
16. Bütün öğretmenlerimize karşı saygılı olmak		X
17. Ağrıyan dişimiz için gittiğimiz hastanede ücretsiz tedavi olmak	X	

23. Kendi ifadelerinizle cevaplayınız.

24. (D)Devlet bir toprak parçası üzerinde insanların örgütlendiği en büyük kurumdur.
 (D)Kamuoyu yönetimin karar alma sürecini etkileyen unsurlardandır.
 (D)Vatandaşların devlete ve topluma karşı sorumlulukları vardır.
 (D)Yöneticiler belli kanunlar dahilinde hareket etmelidirler.
 (D)Demokratik devletlerde farklı siyasi partilere ihtiyaç vardır.
 (Y)Demokrasilerde yöneticilerin aldığı kararlar tartışılmadan uygulanır.
 (D)Devleti yönetecek kişilerin seçimle işbaşına gelmesi cumhuriyet sisteminin gereğidir.
 (Y)Ülkemizde Cumhuriyet 23 Nisan 1923 tarihinde ilan edilmiştir.
 (Y)Devlet vatandaşın her istediğini yapmak zorundadır.
 (Y)Devlet haklarımızı hiçbir şekilde sınırlandıramaz.
 (D)Trafik kurallarına uymak sorumluluğumuzdur.
 (Y)Dilekçe hakkımızı sadece okullarda kullanabiliriz.
 (D)Haklarımız ve sorumluluğumuzun bilincinde olmak etkin vatandaşlık örneğidir.
 (D)Anayasa tarafından güvence altına alınan haklarımız ve ödevlerimizi bilirsek kendimizi daha güçlü hissederiz.
 (Y)Okula gidemeyip bir işte çalışmak zorunda kalan kız çocuğu, sağlık hakkını kullanamamaktadır.
 (Y)Demokrasilerde insanlar istediklerini sınırsızca yapabilirler.
 (Y)Yasalar insanların yaşamını zorlaştıran unsurlardır.
 (D)Başka insanların haklarını gözeterek davranmak demokratik bir tutumdur.
 (Y)Haklarımızın ihlal edilmesi karşısında sessiz kalmalıyız.
 (Y)Demokratik yönetimlerde farklı siyasi partilere yer verilmez.
 (Y)Çevre temizliği sadece belediyenin görevidir.
 (D)Sivil toplum kuruluşlarına üye olan insanlar gönüllülük esasıyla çalışırlar.
 (D)Medya, toplumun yönlendirilmesi ve kamuoyu oluşturmada etkin bir güçtür.
 (D)Ülke yönetimine ve toplumun karar alma sürecine katılmak anayasa ve yasaların bireylere verdiği bir haktır.

25.

Durum-Olay-Davranış		
Yaşlı ve hamilelerin hastane sırasında öncelikli olması	X	
Ailesi tarafından okula gönderilmeyen kız çocuğunun tarlada pamuk toplaması		X
8 Mart'ın "Dünya Kadınlar Günü" olarak kutlanması	X	
Siyahi futbolcunun maç sırasında renginden dolayı kötü tezahürata maruz kalması		X
Temel hak ve özgürlüklerde çocuklara özel maddelerin olması	X	

26.

Eğitim Hakkı 4	Sağlık Hakkı 6	Seçme ve Seçilme Hakkı 2
Tüketici Hakkı 3	Beslenme Hakkı 5	Konut Dokunulmazlığı Hakkı 1

27.

M	E	C	T	E	Y	F	I	T	R	K	Z	L	J	N
G	Q	A	N	A	Y	A	S	A	F	V	P	Ö	K	Q
I	G	R	A	Y	Ö	H	Y	E	P	A	O	G	A	U
G	I	A	T	U	Q	Z	A	M	Ç	B	K	N	D	S
U	W	A	X	E	G	M	G	K	K	İ	O	İ	İ	H
V	U	K	O	S	O	K	E	Ü	P	F	M	B	N	C
I	R	Y	S	D	A	K	İ	Ş	P	A	G	İ	L	O
İ	Y	T	O	C	E	N	R	H	İ	L	P	V	D	Y
G	M	A	E	U	H	M	D	A	Q	T	Ü	T	G	A
Y	A	E	Y	L	M	C	O	I	S	Ş	L	K	İ	S
A	H	B	C	D	A	A	R	K	K	İ	G	İ	F	A
S	S	P	T	L	E	D	K	W	R	I	E	Ö	K	M
Z	W	M	J	O	İ	M	A	R	S	A	E	C	R	A
P	U	Q	Q	K	E	S	F	E	H	G	S	D	F	Ü
T	G	G	T	A	N	K	A	R	A	A	İ	İ	U	F

ADALET
ANAYASA
ÖZGÜRLÜK
MEDYA
TEOKRASİ
DEMOKRASİ
SEÇİM
YASAMA
KAMUOYU
PARTİ
MECLİS
SANDIK
YARGI
EŞİTLİK
OLİGARŞİ
MECLİS
KADIN
HOŞGÖRÜ
SAYGI
HAK
ANKARA

28.

1. Temel hak ve özgürlükler .. **ANAYASA** .. tarafından koruma altına alınmıştır.
2. Haklarımız içerisindeki en temel hakkımız .. **YAŞAMA HAKKI** .. mızdır.
3. Seçme ve seçilme hakkı .. **SİYASİ** .. haklarımız içerisinde yer almaktadır.
4. Her çocuğun yaşına uygun bir okulda .. **EĞİTİM** .. hakkını kullanması devletin temel görevidir.
5. Kanunlara uyma, başkalarının haklarına saygılı olma, üzerine düşen sorumlulukları zamanında ve en iyi şekilde yerine getirme .. **ETKİN** .. bir vatandaşın yapması gereken görevlerdir.
6. Ülke bütünlüğünü, toplum sağlığını ve güvenliğini korumak amacıyla .. **ÖZGÜRLÜKLER** .. kanunlar çerçevesinde sınırlandırılabilir.
7. Ülkemizde yasama yetkisi Türk milleti adına .. **TBMM** ..'ye aittir.
8. Demokrasilerde halk yönetime .. **SEÇME VE SEÇİLME** .. hakkını kullanarak katılır.
9. .. **GÜÇLER AYRILIĞI** .. demokratik devletlerde yasama, yargı ve yürütme güçlerinin ayrı ayrı temsil edilmesidir.
10. Yargı yetkisi Türk milleti adına .. **BAĞIMSIZ MAHKEMELER** .. tarafından kullanılır.
11. Türkiye Cumhuriyeti vatandaşları bütün iç hukuk yollarını kullandıktan sonra .. **AVRUPA İNSAN HAKLARI MAHKEMESİ** ..'ne başvurabilirler.
12. Demokratik bir yaşam biçiminde insanlar .. **YASALAR** .. çerçevesinde yaşam sürerler.
13. Seçimler eşit, gizli oy ve .. **AÇIK** .. sayım esasına göre yapılır.
14. .. **SİVİL TOPLUM KURULUŞLARI** .. vakıf, dernek, sendika ve benzerinden oluşurlar.
15. Demokratik toplumlarda insanlar .. **EŞİT** .. muamele görür.
16. Seçimlerde her vatandaşın bir oy kullanma hakkına sahip olması, demokrasinin .. **EŞİTLİK** .. özelliğini gösterir.

29. C

30. B

31. D

32. D

33. C

34. D

35. C

36. D

37. A

38. C

39. B

40. C

41. A

42. A

43. D

44. A

45. B

46. C

47. D

48. B

49. C

50. A

51. C

52. C

53. C

54. A

55. A

56. A

57. B

58. D

59. D

60. A

61. D

62. D

63. B

64. B

65. C

66. A

67. B

68. B

69. A

70. B

71. D

72. B

73. C

74. C

75. B

76. D

77. B



meb.gov.tr