

Geometrik Şekilleri Çiziyorum

Defterimizin karelerini kullanarak geometrik şekilleri çizelim.


— bir birim — üç birim

Birimlerle şekillerimizin kenarlarını oluşturabiliriz.

• Kare:



Tüm kenarlar beşer birimdir.



Sıra Sizde:

Tüm kenarları üçer birim olan bir kare çizin.



• Dikdörtgen:

Kısa kenarları 3 birim Uzun kenarları 5 birim

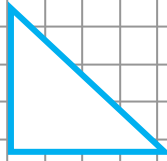
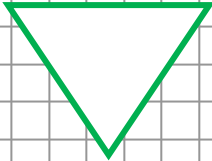
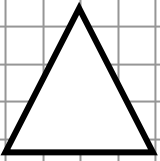


Sıra Sizde:

Kısa kenarları beşer birim, uzun kenarları sekizer birim olan bir dikdörtgen çizin.



• Üçgen:

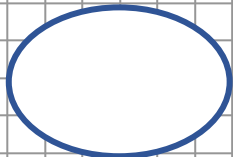


Sıra Sizde:

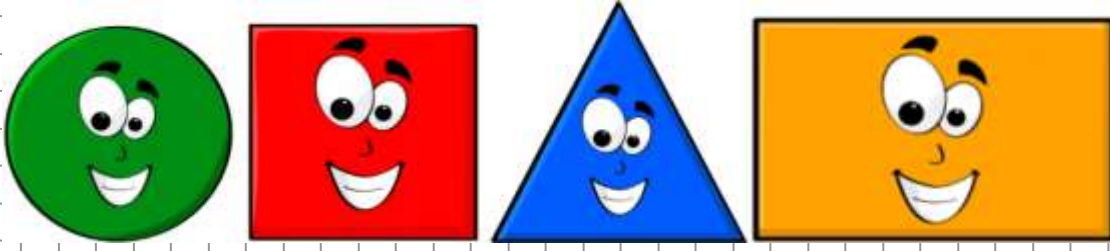
Noktalarla belirlenmiş alana bir üçgen çizelim.



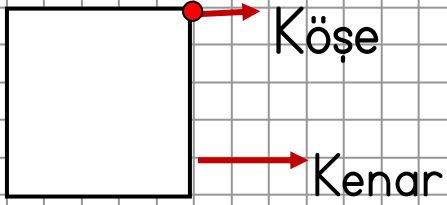
• Çember:



Geometrik Şekillerin Özellikleri

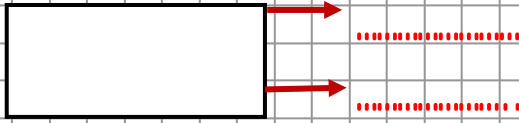


Kare:



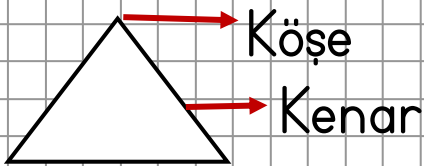
..... köşesi, kenarı vardır.
Tüm kenarları eşit uzunluktadır.

Dikdörtgen:




4 köşesi, 4 kenarı vardır.
Karşılıklı kenarları uzunluktadır.

Üçgen:



Üç köşesi, üç kenarı vardır.

Çember:



Kenarı ve köşesi yoktur.