

Aşağıdaki boşlukları doldurunuz.

1 saat .....dakikadır.

1 gün .....saattir.

1 hafta .....gündür.

1 ay .....gündür.

1 yılda .....mevsim vardır.

Kar yağan mevsim .....tır.

Çiçekler .....da açar.

Nisan ve mayıs ..... ayıdır.

Yılın ilk ayı .....tır.

Hafta içi günleri .....-.....

.....-.....-.....

Hafta sonu günleri .....-.....

Ağaçların yaprakları ..... mevsiminde dökülür.

3 hafta ..... gündür.

2 mevsimde ..... ay vardır.

Aşağıda isimleri yazılan mevsimlerin aylarını sırası ile yazınız.

İLKBAHAR

.....-.....-.....

YAZ

.....-.....-.....

SONBAHAR

.....-.....-.....

KIŞ

.....-.....-.....

**Problem:** Ali 2 hafta 8 gün tatil yaptı. Ali toplam kaç gün tatil yapmıştır?

**Cevap:**

**Problem:** Okulumuz saat 08.30 da başlıyor. Derslerimiz 4 saat sonra bitiyor. Derslerimiz saat kaçta bitiyor?

**Cevap:**

**Problem:** Cem 15.00'te ders çalışmaya başladı. Saat 17.00'te ders çalışmayı bıraktı. Cem kaç saat ders çalışmıştır?


**Cevap:**

**Problem:** Ben saat 15.00'te parka gittim. Ege benden 2 saat sonra parka geldi. Ege saat kaçta parka gelmiştir?

**Cevap:**

**Problem:** Ben saat 08.45'te uyandım. Annem benden 2 saat 15 dakika önce uyanmış. Annem uyandığında saat kaçtır?

**Cevap:**



**Problem:** Yukarıdaki saatte evden çıkan Yunus iki buçuk saat sonra evine dönmüştür. Yunus saat kaçta evine dönmüştür?

**Cevap:** (Cevabınızı önce işlem yaparak bulunuz. Sonra saati analog saat üzerinde çizerek gösteriniz.)



**Problem:** Bugün nisan ayının 17.günü 10 gün sonra Zeki'nin doğum günüdür. Zeki'nin doğum günü nisan ayının kaçıdır?

**Cevap:**

**Problem:** Bir aile bir ayda 10 litre süt tüketiyor. Bu aile 4 ayda kaç litre süt tüketir?

**Cevap:**

**Problem:** Nihat saat 18.00'da otobüse biniyor. Nihat'ın yolculuğu saat 23.00'de bitiyor. Nihat kaç saat yolculuk yapmıştır?

**Cevap:**

**Problem:** Dedem 1 ay 2 hafta sonra bize gelecek. Dedem kaç gün sonra bize gelecektir?  
**Cevap:**

**Problem:** Bugün haziran ayının 27.günü 10 gün önce okullar tatil oldu. Okullar haziranın kaçına tatil olmuştur?  
**Cevap:**

**Problem:** Bugün 1 saat 25 dakika ders çalıştım. Sizce bugün toplam kaç dakika ders çalıştım?  
**Cevap:**


**Problem:** Bir işçi bir ayda 3 hafta çalışıyor. Kalan kısımda çalışmıyor. Bu işçi bir ayda kaç gün çalışmıyor?  
**Cevap:**

**Problem:** Vedat 45 sayfalık kitabı her gün 5 sayfa okursa kaç günde bitirir?  
**Cevap:**


**Problem:** Benim 10 liram vardı. 10 lira da dedem verdi. Ben paramın hepsine tanesi 4 lira olan çikolatalardan aldım. Acaba kaç tane çikolata aldım?  
**Cevap:**

Aşağıda dijital olarak verilen saatleri analog saat olarak çizin.

19:45



04:00



Aşağıda söylenen saatlerin hem dijital hem analog saat olarak gösterin.

Saat: Akşam on buçuk

.....:.....



Saat: Sabah sekize çeyrek var

.....:.....



Saat: Öğleden sonra iki buçuk

.....:.....



## NİSAN 2021

PZT	SALI	ÇAR	PERŞ	CUM	CMT	PAZ
			1	2	3	4
5	6	7	8	9	10	11
12	13	14	15	16	17	18
19	20	21	22	23	24	25
26	27	28	29	30		

Yukarıda nisan ayına ait takvim var. Aşağıdaki soruları bu takvime bakarak cevaplayınız.

Nisan ayı hangi gün başlamış?

Nisan ayında kaç tane hafta sonu günü vardır?

“Gazi nisan ayının 12. günü tatile gitti.”  
Gazi 15 gün sonra evine döndü.”  
Gazi döndüğünde ayın kaçı ve hangi gündür?

“Ömer hafta sonu pikniğe gitti.”  
Ömer aşağıdaki tarihlerden hangisinde pikniğe gitmiş olabilir?

- A) 17 Nisan
- B) 25 Nisan
- C) 23 Nisan

“Şenol 28 Nisan'da doğmuş. Ben ise ondan 3 hafta önce doğmuşum.” Buna göre benim doğum günüm ayın kaçıdır?

Aşağıdaki işlemleri yapınız.

$\begin{array}{r} 69 \\ + 28 \\ \hline \end{array}$	$\begin{array}{r} 45 \\ + 37 \\ \hline \end{array}$	$\begin{array}{r} 38 \\ + 56 \\ \hline \end{array}$
.....	.....	.....

$\begin{array}{r} 60 \\ - 45 \\ \hline \end{array}$	$\begin{array}{r} 82 \\ - 56 \\ \hline \end{array}$	$\begin{array}{r} 99 \\ - 57 \\ \hline \end{array}$
.....	.....	.....

$$18 \div 2 = \dots \quad 15 \div 3 = \dots$$

$$24 \div 4 = \dots \quad 35 \div 5 = \dots$$

$\begin{array}{r} 27 \\ - \dots \\ \hline \end{array}$	$\begin{array}{r} 12 \\ - \dots \\ \hline \end{array}$	$\begin{array}{r} 45 \\ - \dots \\ \hline \end{array}$
.....	.....	.....

$\begin{array}{r} 8 \\ \times 2 \\ \hline \end{array}$	$\begin{array}{r} 9 \\ \times 0 \\ \hline \end{array}$	$\begin{array}{r} 6 \\ \times 5 \\ \hline \end{array}$	$\begin{array}{r} 7 \\ \times 3 \\ \hline \end{array}$
.....	.....	.....	.....

$$0 \times 2 = \dots \quad 3 \times 1 = \dots$$

$$6 \times 2 = \dots \quad 8 \times 3 = \dots$$

$$7 \times 2 = \dots \quad 4 \times 3 = \dots$$

$$6 \times 4 = \dots \quad 5 \times 4 = \dots$$

$$10 \times 2 = \dots \quad 3 \times 0 = \dots$$

Aşağıdaki örüntüde boş bırakılan yerleri siz tamamlayınız.

$$5 - 9 - 13 - 17 - \dots - 25 - \dots$$

Aşağıdaki kırmızı renkli rakamların basamak adlarını yazınız.

45

61

Aşağıda birlik ve onluk halinde verilen sayıları yazınız.

$$1 \text{ onluk} + 4 \text{ birlik} = \dots$$

$$9 \text{ onluk} + 5 \text{ birlik} = \dots$$

Aşağıdaki eşitliklerin doğru olması için boşluğa gelecek sayıları yazınız.


$$6 \times 5 =$$

$$20 + \dots$$

$$50 - 30 =$$

$$\dots \times 5$$


Aşağıda geometrik şekillere göre boşlukları dolduralım.



Şeklin Adı: .....

Kenar Sayısı: .....


Köşe Sayısı: .....



Şeklin Adı: .....

Kenar Sayısı: .....

Köşe Sayısı: .....



Şeklin Adı: .....

Kenar Sayısı: .....

Köşe Sayısı: .....

Aşağıdaki kelimeleri sözlük sırasına göre kutucuklara yazınız.

kiraz - muz - zil

.....	.....	.....
-------	-------	-------

etek - erik - elbise

.....	.....	.....
-------	-------	-------

Aşağıdaki isimleri sözlük sırasına göre numaralandırınız.

...	Erol	...	Gazi
...	Ahmet	...	Yasin
...	Murat	...	Turan
...	Zeki	...	Cem

Aşağıdaki cümlelerde boş bırakılan yerlere gelecek olan kelimeyi işaretleyip yazın.

Dışım çürüdüğü için ..... gittim.

A	B	C
hastaneye	okula	parka

Bozulan .....tamir etmeyi severim.

A	B	C
oyuncağı	çiçekleri	meyveleri

Aşağıdaki kelimelerin zıt anlamlılarını karşılarındaki kutucuklarına yazınız.

Şişman	.....
Ödül	.....

Aşağıdaki cümlelerin noktalama işaretlerini siz tamamlayın.

Ay( ) ayağıma diken battı( )

Belki buraya gelebilir( )

Berk( ) Cem( ) Ege parka gitti( )

Fuat( )ın kalem mi kırıldı( )

Aşağıdaki kelimelerin eş anlamlılarını karşılarındaki kutucuklarına yazınız.

Görev	.....
Kelime	.....

Aşağıda karışık verilen kelimelerden anlamlı ve kurallı cümleler yazın.

olur - insan - mutlu - paylaştıkça

.....

dedem - gelecek - ile - ninem - bize

.....

Aşağıdaki kelimeleri hecelerine ayırınız.

Kabak	bilgisayar	kılıç
.....	.....	.....

Aşağıdaki soru kelimelerine cevap olacak cümleler yazınız.

Nerede?

.....

Ne zaman?

.....

## MEVSİMLER

Bir yılda dört mevsim var  
İlkbahar da çiçekler açar  
Yaz gelince güneş yakar  
İnsanlar gölgelere kaçar

Sonbahar yapraklar solar  
Kışın neşesidir kar  
Lapa lapa yağar  
Oyunlara doymaz çocuklar  
Cemal GÜNEŞ

Yukarıdaki şiiri 2 kere okuyun.

Aşağıdaki soruları şiire göre cevaplayın.  
Cevaplarınız cümle şeklinde olsun.

Bir yılda kaç mevsim varmış?

.....

Çiçekler hangi mevsimde açıyor?

.....

Güneş ne zaman yakıyormuş?

.....

Sonbaharda ne oluyor?

.....

Kışın neşesi nedir?

.....

Kar nasıl yağıyormuş?

.....

Yazın insanlar nereye kaçıyor?

.....

Aşağıdaki ifadeleri oluş sırasına göre numaralandırınız.

- ( ) Misafirlerimize çay ikram ettik.
- ( ) Akşam kapı zili çaldı.
- ( ) Misafirleri içeri buyur ettik.
- ( ) Kapıyı babam açtı.

Aşağıdaki altı çizili deyimlerin anlamlarını altlarına yazınız.

Dedesı gidince ardından gözleri doldu.

.....

Annesi onu el üstünde tutuyordu.

.....

Aşağıdaki cümlelerdeki boşlukları uygun kelimeler ile tamamlayınız.

Annem akşam .....pişirdi.

Öğretmenimiz .....dedi.

Eşyalarını ..... yardım ettim.

Aşağıdaki sözcükleri birer cümlede kullanınız.

gözlük - otobüs - cüzdan -polis -bayrak

.....

.....

.....

.....

.....

.....

.....

.....



Aşağıdaki boşlukları doldurunuz.

Paralarımız ..... ve .....

olmak üzere iki çeşittir.

En büyük paramız .....liradır.

En küçük paramız .....kuruştur.

Lira kısaca ..... kuruş .... ile gösterilir.

2 tane 50 kr. = .....TL

4 tane 25 kr. = .....TL

5 tane 10 kr. = .....kr.

10 tane 10 kr. = .....TL

Aşağıdaki kutucuklardaki paraların toplam miktarlarını yazınız.



.....




.....



.....



.....

Ürün	Fiyatı
	
	
	
	
	

Aşağıdaki soruları yukarıdaki tabloya göre cevaplayınız.

Fiyatı en ucuz olan ürün hangisidir?

.....

Armudun kilosu ne kadar?

.....

Bir kilo muz ile bir kilo elma alan birisi kaç lira ödemelidir?

.....

Ekmeğin tanesi ne kadar?

.....

2 tane ekmeğin kaç lira tutar?

.....



2 tane simit ne kadar tutar?

.....

Aşağıdaki ifadelerden kültürümüze ait olanları işaretleyiniz.

- ( ) Hasan'ı askere davullu zurnalı uğurladık. Üstelik eline de kına yakttık.
- ( ) Bayramda dedemin elini öptük.
- ( ) Akşam ailecek maç seyrettik.
- ( ) Aydın'da düğünlerde gençler çok güzel zeybek oynarlar.
- ( ) Misafirlerimize çay ve börek ikram ettik.
- ( ) Dedem en çok "Uzun İnce Bir Yoldayım" türküsünü seviyor.
- ( ) Öğretmenimiz çok güzel ders anlatıyor.
- ( ) Gaziantep'in baklavasını mutlaka yemelisiniz.
- ( ) Nasreddin Hoca masallarını dinlemeyen var mı?

Aşağıdaki görsellerden kültürümüze ait olanları boyayınız.



Aşağıdaki boşluğa kültürümüze ait bir örnek yazınız.

.....

.....

.....

.....

Aşağıdakilerden hangisi kültürel öğelerimizden değildir?

- A) Geleneklerimiz
- B) Göreneklerimiz
- C) Eğitim ve öğretimimiz

- 1- Yöresel kıyafetler
- 2- Asker uğurlamaları
- 3- Doğum günü kutlamaları

Yukarıdakilerden hangileri milli kültürümüzün birer öğesidir?

- A) 1 ile 2
- B) 2 ile 3
- C) 1, 2 ve 3

"Evimize gelen misafirlere çay ve kahve ikram ederiz."

Yukarıdaki ifade aşağıdakilerden hangisi ile ilgilidir?

- A) Folklor (halk oyunları)
- B) Gelenek ve görenek
- C) El sanatları

Aşağıdaki yiyeceklerden hangisi bizim kültürümüzü yansıtır?

- A) Makarna
- B) Pizza
- C) Çiğköfte

## MİNİ TEST

Parkta ali oynuyordu.

1 2 3

1. Yukarıdaki kaç numaralı kelimenin yazımında hata yapılmıştır?

- A) 1
- B) 2
- C) 3

Eyvah eyvah( ) yangın büyüdü( )

2. Yukarıdaki cümlede sırası ile hangi noktalama işaretleri gelmelidir?

- A) Ünlem işareti - Virgül
- B) Nokta - Ünlem işareti
- C) Virgül - Ünlem işareti

Annem çok güzel .....yapar.

3. Yukarıdaki boşluğa aşağıdakilerden hangisi yazılırsa hatalı olur?

- A) Pasta
- B) Börek
- C) meyve

Gazi hafta sonu İzmir'e gitti.

4. Aşağıdaki sorulardan hangisinin cevabı yukarıdaki cümlede yoktur?

- A) Ne zaman?
- B) Kim?
- C) Nasıl?

5. Aşağıdaki eşleştirmelerden hangisi diğerlerinden farklıdır?

- A) Uzun - Kısa
- B) Siyah - Kara
- C) Güzel - Çirkin

6. Ali tanesi 4 lira olan kalemlerden bir deste alırsa kaç lira ödemesi gerekir?

- A) 40
- B) 50
- C) 60



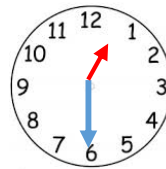
7. Yukarıdaki örüntüde " ? " yerine aşağıdakilerden hangisi gelmelidir?

- A)
- B)
- C)

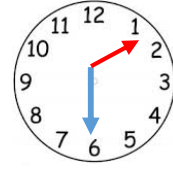
8. 21 tane cevizi 3 arkadaş eşit olarak paylaşırsa her birine kaç ceviz düşer?

- A) 7
- B) 6
- C) 5

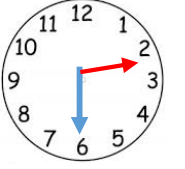
9. Cem 14.30'ta ders çalışmaya başladı. Cem'in ders çalışmaya başladığı saat aşağıdakilerden hangisidir?



A



B



C

10. Hangi kutunun içindeki para diğerlerinden daha fazladır?

