

# RAUF NAİL AKMAN İLKOKULU 3-A SINIFI MAYIS AYI KAZANIM DEĞERLENDİRME SINAVI

ADI :

SOYADI :

## HAYAT BİLGİSİ

1) Yaşadığı yerde yolların bozuk olmasından şikayet eden Fatmanur Teyze aşağıdaki kurumlardan hangisine başvurmalıdır?

A-Belediye

B-Valilik

C-Kaymakamlık

2) Aşağıdaki davranışlardan hangisi, bilinçli tüketici davranışı değildir?

A) Aldığı ürünlerin taze olmasına dikkat eder ve fiyatlarını karşılaştırır.

B) Ürünün paketinin sağlamlığını ve gıdaların son kullanma tarihini kontrol eder.

C) Açıkta satılan, içeriğini ve hangi şartlarda üretildiğini bilmediğimiz bir ürünü tüketmek herhangi bir sağlık sorununa neden olmaz.

3) Aşağıdakilerden hangisi komşuluk ilişkilerine zarar verir?

A. Binada sadece kendimiz yaşıyormuş gibi davranmak.

B. Komşularımızın zor gününde yanında olmak.

C. Özel günlerde ve bayramlarda komşularımızı ziyaret etmek

4) Aşağıdakilerden hangisi okul kaynaklarını verimli kullanan bir öğrencinin davranışı olabilir?

A. Çöp kutusuna çöpleri basket atarak yeteneklerini göstermek.

B. Sırasını kendi evindeki çalışma masası gibi özenli kullanmak.

C. Teneffüste arkadaşlarıyla birbirini ıslatarak suyu boşa akıtmak.

5) Cumhuriyet yönetiminde ülkeyi yönetecek kişiler aşağıdakilerin hangisi tarafından belirlenir?

A) Mustafa : Halk

B) Meryem : Mahkemeler

C) Nisanur : Belediyeler



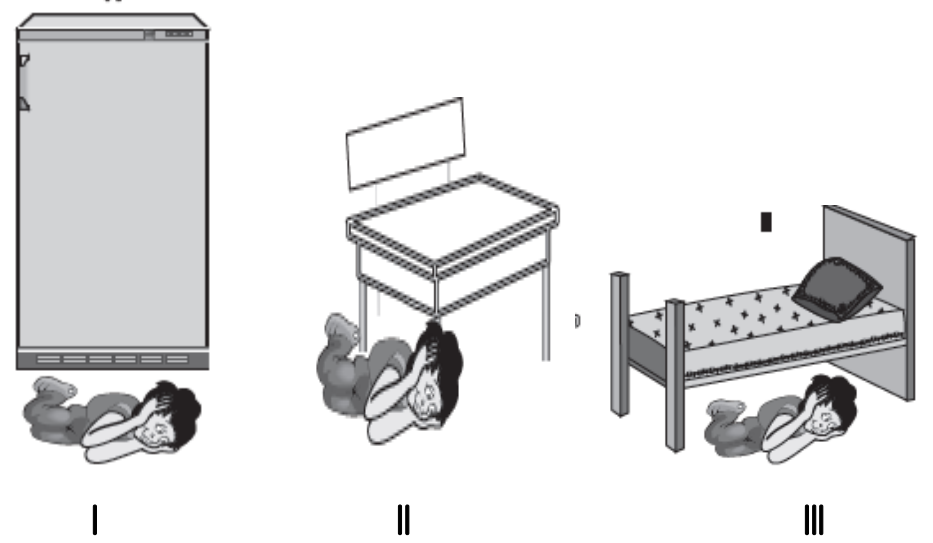
6) Bunların yanında cips de olsaydı çok güzel olurdu. Yukarıdaki görsel için aşağıdaki yorumlardan hangisi yapılabilir?

- A) Dengeli ve düzenli beslenmektedir.
- B) Sağlıklı gıdalar tüketmektedir.
- C) Yedikleri, kilo almasına neden olmaktadır.

7) Aşağıdakilerden hangisi ülkemizin tarihî eserlerinden biridir?

- A) İkranur : Edirne Selimiye Camii
- B) Zeynep : Nevşehir peribacaları
- C) Ravza : Düden Şelalesi

8) Deprem anında kaç numaralı görselde belirtilen hareketi yapmamalıyız?



- A) I
- B) II
- C) III

9) Aşağıdaki kişilerden hangisi trafik kurallarına uygun davranış göstermektedir?

- A) Murtaza, servis sıcak olduğunda kolunu camdan çıkarır.
- B) Elif , boş olduğunda caddede oyun oynar.
- C) Azra, eve giderken okul geçidini kullanır.

10) B   ra: Merhaba arkadaşlar. Ben İstanbul'da yaşıyorum. Şehrimizde pek çok doğal güzellik ve tarihi eser bulunmaktadır . B   ra, İstanbul' da bulunan tarihi eser ve doğal güzelliklere aşağıdakilerden hangisini örnek gösteremez?

- A) Topkapı Sarayı
- B) Süleymaniye Camii
- C) Manavgat Şelalesi

11) Aşağıdakilerden hangisi   lkemizin gelişmesi, yükselmesi için yapmamız gerekenlerden birisi değildir?

- A) Vatansever ve çalışkan olmak.
- B) İşimizi en iyi şekilde ve eksiksiz yapmak.
- C) Sağlık ve temizlik kurallarına uymak

- Parklarda ve çevredeki ağaçların korunması
- Toplu taşıma araçlarına ve duraklarına zarar verilmemesi
- Okul sıralarına ismimizi kazımak
- Spor salonlarında yer alan spor araçlarını aldığımız yere bırakmak

12) Yukarıdaki verilenlerden kaç    ortak kullanım alanlarını korumaya yönelik davranışlardandır?

- A) 4
- B) 3
- C) 2

13) Aşağıdakilerden hangisi cumhuriyetin getirdiğı yeniliklerden biri değildir?

- A) İsmail : Kadınlara, milletvekili, belediye başkanı, muhtar olma hakkı verildi.
- B) Ali : Çocuklara oyun oynama hakkı verildi.
- C) ) Şeyma: Birlikte yerleşme ve seyahat özgürlüğü devlet tarafından güvence altına alındı.

## FEN BİLİMLERİ

1. Durağa yaklaşan otobüsün hareketi
2. Helikopterin pervanesinin hareketi
3. Saatteki yelkovanın hareketi

1) Yukarıdaki varlıklardan hangileri aynı tür hareketi yapmaktadır?

- A) 1-2                      B) 1-3                      C) 2-3

Güneşli bir bahar sabahı kuşların sesleri ile uyanan Mehmet, odasının camından daldaki kuşları seyrederek bugünün güzel bir gün olacağını düşündü.

2) Mehmet'in kullandığı duyu organları aşağıdakilerden hangisinde verilmiştir?

- A) Göz ve dil              B) Kulak ve deri              C) Kulak ve göz

3) Azra ve babası arabada giderken arkalarından gelen ambulansın siren sesini duymuşlardır. Azra'nın babası ambulansa yol vermiş, ambulans arabalarının yanına yaklaşırken Azra siren sesini daha şiddetli duymuştur.

Azra'nın ambulans yaklaşırken siren sesini daha şiddetli duymasının nedeni aşağıdakilerden hangisidir?

- A) Ses kaynağına yaklaştıkça sesin şiddetinin artması  
B) Sesin dalgalar hâlinde yayılması  
C) Her canlının işitebileceği ses şiddetinin farklı olması

4) Hasan Emir Amca oltasını attıktan sonra oltaya takılan balığı yakalamak için nasıl bir kuvvet uygulamış olabilir?

- A) İtme                      B ) Çekme                      C) Sallanma

5) Emirhan , ev arkadaşının uzun süre çaldığı davulun sesinin şiddetli olmasından etkilenip hastaneye gitmiştir. Hastanedeki doktor, Emirhan'a probleminin ne olduğunu kısaca anlatmıştır. Doktor, Emirhan'a aşağıdakilerden hangisini söylemiş olabilir?

- A) Düşük şiddetteki ses, işitme kaybına neden olmuş.  
B) Çalınan müzik aletinin davul olması seni üzmüştür.  
C) Yüksek şiddetteki ses işitme duyuna zarar vermiş

Ecrin sınıfta öğretmeninin anlattığı maddenin halleri konusunu çok iyi anlamıştı fakat eve geldiğinde Ecrin'in kafası çok karıştı. Çünkü öğretmeni sıvı maddeler konulduğu kabın şeklini alır demişti. Ancak annesi şeker, mercimek ve pirinci yukarıdaki kaplara doldurunca onlarda kabın şeklini almıştı. Ecrin'in kafasının daha fazla karışmaması için ona yol gösterelim.

6) Hangi cümle Ecrin'in kafasındaki sorulara cevap olabilir?

- A. Şeker, mercimek ve pirinç sıvı maddedir.
- B. Küçük taneli katı maddeler de konuldukları kabın şeklini alabilir.
- C. Maddeler bazen katı bazen de sıvı olabilir.

7) Deniz'de yüzen Emirhan'nın, Dünya'nın hangi katmanı ile teması yoktur?

- A) Hava katmanı
- B) Su katmanı
- C) Kara katmanı

I. Dünya'yı dıştan saran katmandır.

II. Kar, yağmur, dolu gibi hava olaylarının gerçekleştiği katmandır.

III. Canlılar için gerekli olan oksijen bu katmanda bulunur.


8) Yukarıda verilen bilgiler Dünya' nın hangi katmanı ile ilgilidir?

- A) Kara Katmanı
- B) Su Katmanı
- C) Hava Katmanı

Asude : Ayçiçeği Güneş'e doğru yönelir.

9) Yukarıdaki Asude'nin söylediği cümle aşağıdakilerden hangisine örnektir?

- A) Canlı varlıklar boşaltım yapar.
- B) Canlı varlıklar solunum yapar.
- C) Canlı varlıklar hareket eder.



10) Yukarıdaki görselde verilen canlılardan hangisi diğerlerinden daha farklı şekilde solunum yapmaktadır ?

- A) A
- B) B
- C) C

I.Tohum çimlenir

II. kendi tohumlarını üretir.

III. Yetişkin bir bitki olur

IV. Belli bir zaman sonra ölür.

11) Aşağıdaki evrelerden hangileri yer değişirse bitkinin yaşam döngüsü doğru tamamlanmış olur?

A) I-II

B) II-III

C) III-IV

- Hareketleri sınırlı değildir.

- Doğurarak çoğalırlar.

- Büyüme ve gelişmeleri belli bir yaşa kadardır.

12) Yukarıda yazılan özellikler aşağıdaki canlı varlıklardan hangisine ait olabilir?

A) Aslan

B) Tavuk

C) Çınar ağacı

13 ) Aşağıdaki ifadelerden hangisi yanlıştır?

A) Hayvanlar, başka canlıları yiyerek beslenir.


B) Bitkiler, tohumlarıyla çoğalır.

C) Hayvanlar, sadece akciğerleriyle boşaltım yapar.

14) Aşağıdaki öğrencilerin söylediği ifadelerden hangisi yanlıştır?

A) 

Bitkiler, yapraklarını dökerek de boşaltım yaparlar.

B) 

Hayvanlar, beslenmek için hareket ederler.

C) 

Tüm canlılar, uyarılara tepki vermez.

15) Aşağıdaki canlılardan hangisi yaşamları boyunca büyüme ve gelişmeye devam eder?

A) Egemen : Kediler

B) Miraç : İnsanlar

C) Yasin : Bitkiler

## TÜRKÇE

İki gün önce henüz ılık olan hava, dün serinledi. Bugün ise soğuk bir kasım rüzgârı esiyor. Dağların yeşil yamaçlarına kar yağıyor. Ortalık birden aydınlanınca okul yolundaki çocuklar koşuşmaya, kırlardaki atlar neşeyle hoplayıp zıplamaya başladılar. Daha birçok ağacın yaprakları dökülmemişken karın yağması herkese bir şaka gibi geliyordu.”

1) Bu metnin konusu aşağıdakilerden hangisidir?

- A) Doğadaki hayvanların durumu
- B) Yılın ilk karının yağışı
- C) Okula giden çocukların izlenimleri

2) Aşağıda verilen cümlelerin hangisinde sebep - sonuç ilişkisi vardır ?

- A) Bize, erken geleceğini söylememişti.
- B) Dersi dinlemediğinden konuyu anlayamadı.
- C) Kimseyi rahatsız etmeden ders çalışıyordu.

3) “ Bu akşam sinemaya mı yoksa tiyatroya mı gitsem.” Diye düşünen bir insan hangi duyguyu yaşamaktadır?

- A) sevinç
- B) kararsızlık
- C) şüphe

3) “ Balıkçılar, sabaha doğru denizden döndüler.” cümlesinde aşağıdaki sorulardan hangisinin cevabı yoktur?

- A) Ne zaman?
- B) Kim?
- C) Niçin?

4) göz” sözcüğü aşağıdaki tümcelerin hangisinde mecaz anlamda kullanılmıştır?

- A) Ayşe gözü iyi görmeyince doktora gitti.
- B) Öğretmenin gözüne girmeyi başardı.
- C) O mavi gözlü bir çocuktü.

5) Aşağıdaki cümlelerin hangisinde bir karşılaştırma vardır?

- A) Elindeki ipi sallama artık.
- B) Bu kalem diğerlerine göre daha güzel.
- C) Çok gürültü yapıyorsunuz.

6) “ Nevşehir’e en yakın ilçeler Avanos, Ürgüp ve Gülşehir’dir.”cümlesinde kaç tane özel isim vardır?

- A) 3
- B) 5
- C) 4

7) Aşağıdaki cümlelerin hangisinde büyük harflerin kullanımıyla ilgili bir yanlışlık yapılmıştır?

- A) Önümüzdeki hafta Arda'nın doğum günü var.
- B) Türkler, anadoluya Malazgirt Meydan Savaşı'ndan sonra gelmiş.
- C) Odamdan Karadeniz'in büyük dalgaları görünüyor

8) " Çok şaşırmak" anlamına gelen deyim hangi cümlede kullanılmıştır?

- A) Karnesini görünce ağzım açık kaldı.
- B) Bu davranışıyla gözden düştü.
- C) Yanlış düşündüğümüz için kalbi kırıldı.

9) Aşağıdaki cümlelerin hangisinde "soğuk" kelimesi farklı bir anlamda kullanılmıştır?

- A) Soğuk sudan içme demiştim.
- B) Bugün hava çok soğuk.
- C) Arkadaşımı herkes soğuk biri olarak tanıdı.

10) Aşağıdaki cümlelerin hangisinde abartılı anlatım vardır?

- A) Anlattıkları pek inandırıcı değildi.
- B) Bir of çeksem karşiki dağlar yıkılır.
- C) Ayakkabılarını çıkarıp kenara attı.

1. Günaydın, dedim.
2. Okula gittiğimde herkes bahçedeydi.
3. Kahvaltımı yaptım.
4. Annem de kalkmıştı.
5. Sabah güneşin ilk ışıklarıyla uyandım.
6. Günaydın, kahvaltı hazır, dedi.

11) Yukarıdaki cümleleri oluş sırasına göre sıralarsak sıralama nasıl olur?

- A) 1, 2, 3, 4, 5, 6
- B) 4, 1, 6, 5, 3, 2
- C) 5, 4, 1, 6, 3, 2



kanat - sinek - dolap

12) Yukarıdaki sözcükler sözlükteki sıralarına göre sıralandıklarında hangisi ikinci sırada yer alır?

- A) kanat                      B ) sinek                      C ) dolap

Öğrenciler, öğretmenlerini görünce hep birlikte bağırdılar ( )

( ) Yaşasın ( ) öğretmenimiz geri döndü ( )

13) Metinde parantezle belirtilen yerlere sırasıyla hangi noktalama işaretleri gelmelidir?

- A) (:) (-) (!) (.)                      B) (:) (-) (,) (?)                      C) (:) (-) (,) (!)

14) Bugünün işini ..... bırakma.” Atasözünde boş bırakılan yere hangi sözcük gelmelidir?

- A) Yarına                      B) Sabaha                      C) Akşama

## MATEMATİK

Gökçe'nin pazardan aldığı 6 poşet sebzenin tamamı 12 kilogram gelmektedir. Bagajdaki poşetlerde eşit miktarlarda sebze olduğuna göre, bunların her birinde kaç kilogram sebze bulunmaktadır?



- A) 1                      B) 2                      C) 3

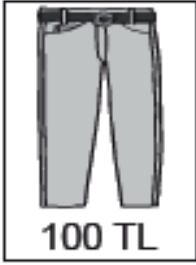
2) Aşağıdaki şekillerden hangisi küp oluşturur?

- A)


- B)

- C)


3) Aslı'nın cebinde 130 TL'si vardır. Aslı, aşağıdakilerden hangisinde verilen gömlek ile pantolonu satın alabilir?



A)



B)



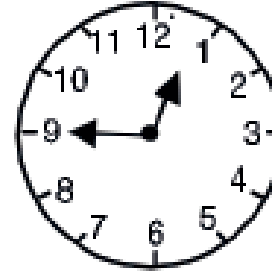
C)

4) Üç torba fasulyenin toplam ağırlığı 115 kilogramdır. Birinci torbada 35 kg fasulye var. Öbür iki torbada eşit miktarda fasulye olduğuna göre, torbaların birinde kaç kg fasulye vardır?

A) 40

B) 50

C) 80




5) Yukarıdaki verilen saate göre öğleden sonra saat kaçtır?

A) 19.05

B) 20.05

C) 21.05



6) Yukarıdaki terazide kaç kilogram buğday vardır?

A) 500 g


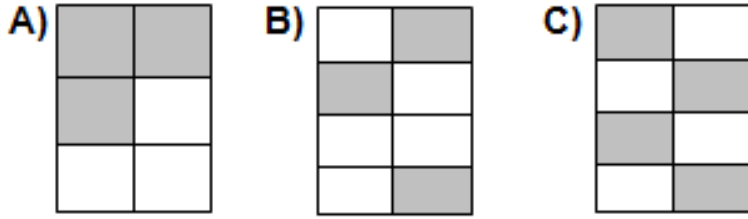
B) 750 g

C) 1 kg

7) 19: 00 da başlayan haberler 19:40'ta bitiyor. Haberler kaç dakika sürmektedir?

- A) 40                      B) 45                      C) 50

8)  $\frac{3}{8}$  kesrini aşağıdaki şekillerden hangisi ifade eder?



9) Yukarıdaki dikdörtgenler prizması modelinde ok işareti gösterilen kısmın adı nedir?

- A) köşe                      B) yüzey                      C) Ayrıt

10) Akşam Saat 19.00' da İstanbul'dan hareket eden bir otobüs sabah saat 06.00' te Nevşehir'e varmıştır.Otobüs kaç saatte Nevşehir'e varmıştır?

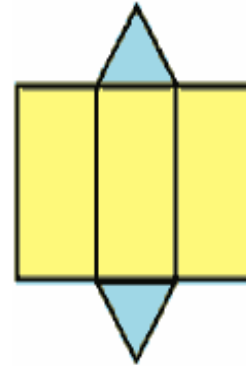
- A) 10                      B) 11                      C) 12

11) Cüzdanımdaki paranın 140 fazlasının 280 eksiği 500 ise cüzdanımda kaç TL vardır?

- A) 640                      B) 720                      C) 612

12)  $\frac{3}{4}$  ' ü 120 olan fındıkların tamamı kaç fındıktır?


- A) 260                      B) 120                      C) 160



13) Yukarıdaki açık şekli verilen geometrik cismin adı nedir?

- A) küp                      B) silindir                      C) üçgen prizma

14) Bir havaalanında Nevşehir'e gidecek yolcuların "altı yüz dokuz" numaralı kapıya gitmeleri istenmiştir.



Şekle göre, hangi yolcu Nevşehir'e gidecektir?

- A) Sonay                      B) Elif                      C) Murat

15) Bir manav 38 kasa elma aldı. Her kasa 17 kg geldiğine göre manav kaç kilogram elma almıştır?

- A) 554                      B) 646                      C) 746

BAŞARILAR

HAZIRLAYAN: TUNCAY YILDIRICI