



T.C.
MALATYA VALİLİĞİ
MİLLÎ EĞİTİM MÜDÜRLÜĞÜ
ÖLÇME DEĞERLENDİRME MERKEZİ



İL İZLEME SINAVI

5. SINIF

SÖZEL BÖLÜM

NİSAN 2021

TÜRKÇE

1. Uzun zaman sonra halasını karşısında görünce etekleri zil çaldı. İnanılmaz bir mutluluk yaşadı. Evine gelen misafire hazırlıksız yakalanınca etekleri tutuştu, büyük bir telaşa kapıldı. Ona ikram edebileceği yiyecekler aradı. Halasına layık bir yemek ikramında bulunabilmek için hazırlıklara girişti. Eli ayağına dolaştı, yapacağı işleri hep birbirine karıştırdı. İşe nereden başlayacağını büsbütün şaşırmıştı. Evine ilk defa bir misafir geliyordu. El etek öpeceği kimse de yoktu şu saatte.

Bu metinde “etek” sözcüğünün geçtiği deyimlerden hangisinin açıklaması verilmemiştir?

- A) Etekleri zil çalmak
- B) Etekleri tutuşmak
- C) Eli ayağına dolaşmak
- D) El etek öpmek

2. “Yanmak” sözcüğü aşağıdakilerden hangisinde mecaz anlamda kullanılmıştır?

- A) Ormanların yanması ekosistem için çok büyük bir tehlikedir.
- B) Ocaкта yanan odunlara bakarken aklından türlü şeyler geçirirdi.
- C) Ben bu yaz da arkadaşım ile tatile gidemediğime çok yarıyorum.
- D) Sabah kahvaltısında yemiş olduğu acı biber, onu yakmıştı.

3. Son zamanlarda sağlam dostluklara pek rastlayamıyoruz . Çünkü çıkarlarımızı, dostluklarımızdan daha kıymetli görüyoruz. Bencilleşen ruhumuz, benliğimizde başkalarının hüznlerine ve kederlerine yer vermiyor. Kendi heveslerimizle, hırslarımızla o kadar dolmuş taşmışız ki başkalarının eleme , kederi ruhumuzda sığınacak küçücük bir yer bile bulamıyor. Böyle olunca da yapay, samimiyetten uzak dostluklar yaşıyoruz. Onlar da çabucak yıkılıveriyor zaten.

Bu metne göre sağlam dostluklar kurulamamasının sebebi aşağıdakilerden hangisidir?

- A) Sağlam dostluklar kurma çabası içinde olanların çoğu zaman başarısız olması
- B) İnsanlar için beklenti ve çıkarlarının daha öncelikli olması
- C) Dostluk köprüleri kurmada insanların birbirlerine yeteri kadar fırsat tanımaması
- D) Başkalarının kederlerine kalbimizde yer olmaması

4. Yaşı 40'ın üstünde olanlar bilir.Yorgancı Necati Usta, Bıçakçı Sami Usta, Kalaycı Orhan Usta, Çinici Ahmet Usta, Sinici Azmi Usta...

Şimdi ne yorgancı kaldı ne çinici ne bıçakçı kaldı ne sinici.Artık hepimiz dev fabrikalarda üretilen yorganları örtünüyor,kalaysız teflon tencereleri kullanıyoruz.

Peki, şimdiki meslekler kalıcı mı? Elbette hayır. Teknoloji daha da ilerleyince belki de babamızın mesleği de kaybolup gidecek .Sürücüsüz otomobiller çoğalınca şoförler, süpermarketler çoğalınca bakkallar işsiz kalacak.

Ben derim ki...Büyüyeceksiniz.Her şey değişecek.Çağınıza uygun ve sizi mutlu edecek meslekler seçin.

Bu metinde asıl anlatılmak istenen nedir?

- A) Günümüzün tüm meslekleri gelecekte de geçerli olacaktır.
- B) Yaşadığımız çağa uygun ve bizi mutlu edecek meslekler seçmeliyiz.
- C) Gelecekte de kalıcılığını devam ettirecek meslekler seçmeliyiz.
- D) Mesleklerden bazıları diğerlerine göre daha kalıcıdır.

5.



Bir ağacı çevreleyen kabuğu çıkardığımızda o ağacın ölümüne neden oluruz. Ağacın yapraklarında üretilen besinin diğer bölümlere taşınmasını sağlayan hücreler sadece ağaç kabuğunda bulunur. Bunlara suymak doku adı verilir. Birağacı çevreleyen kabuktan halka şeklindeki bir parça bile çıkarılsa ağacın besin iletimi kesilmiş olur. Alınan halka şeklindeki parçanın altında kalan bölümlerdeki hücreler besin alamadıkları için ölür. Buna ağacın su ihtiyacını karşılayan kökler de dâhildir.

Aşağıdaki sorulardan hangisinin cevabı metinde yoktur?

- A) Ağacın ölümüne neden olan şey nedir?
- B) Ağacın besin iletimi nasıl kesilir?
- C) Yapraklarındaki besinin taşınması sağlayan nedir?
- D) Ağacı çevreleyen kabuğa kim zarar vermiştir?

6.

Bir bakarsın memlekete
İçinde büyüüp gidersin
Üzümüne, bağına, bahçesine
Hasret olup bitersin.

Tarih yatan yerine
Memleket adını verirsin
Ne mevsimler ne yıllar
Ömrünü geçirirsin.

Memleket yaşantısında
Bir gül gibi yeşerirsin
Onun hüzünlü yıllarında
Birden soluverirsin.

İş memleket sevgisi olunca
Hayatını verirsin
Ayrıldığıın zaman ondan
Memleketini özlersin.

Bu şiirin ana duygusu aşağıdakilerden hangisidir?

- A) Memleket sevgisi
- B) Bayrak sevgisi
- C) Ana dil sevgisi
- D) Memleket özlemi

7. Korelilerin bugün kullandığı alfabe olan Hangıl, 1443 yılında Kral Sejong tarafından hazırlanmıştır. Rivayet o ki Kral Sejong şöyle demiştir: "Halkım için öyle bir alfabe yapacağım ki güneş doğarken onu ilk kez gören bir kişi, güneş batarken tamamen öğrenmiş olacak."

Kral Sejong bu sözü ile Hangıl alfabesinin hangi özelliğini vurgulamıştır?

- A) Hangıl'ın dünya üzerinde en çok kullanılan alfabe olmasını
B) Hangıl'ın kısa sürede ve kolaylıkla öğrenilebilir olmasını
C) Hangıl'ın karışık ve yazılması zor bir alfabe olmasını
D) Hangıl'ın dünyanın en eski alfabesi olmasını

8. (I) Bir zamanlar Kaf Dağı'nın arkasındaki bir ülkede kısa boylu bir çocuk yaşamış. (II) Bu çocuk o kadar kısaymış ki pirenin boyu bile ondan uzunmuş. (III) Bir pireden daha kısaymış ama bulunduğu yerden çok uzaklara zıplayabilirmiş. (IV) Bir gün yine çok uzaklara zıplamış.

Yukarıdaki paragrafın hangi cümlesinde geçiş ve bağlantı ifadesi kullanılmıştır?

- A) I
B) II
C) III
D) IV

9.

Sebze Orkestrası!

Avusturya'nın Viyana kentinde on bir müzisyen bir araya gelmiş ve bir orkestra kurmuş. Bu orkestranın en ilginç özelliği çaldıkları müzik aletlerinin sebzelerden yapılması. Sebze orkestrasının elemanları, taze sebzeleri soyarak, keserek ve oyarak birer müzik aleti hâline getiriyorlar. Örneğin havuçtan flüt, balkabağından davul, pırasadan keman yapıyorlar. İşe ilk olarak 1997 yılında domatesle başlamışlar. Zaman içinde farklı sebzelerden çok çeşitli müzik aletleri yapmışlar. Yenilerini yapmayı da sürdürüyorlar. Amaçları seslerin dünyasını keşfetmek. Ancak ses çıkaran onca başka şey varken sebzeleri seçmelerinin nedenini şöyle açıklıyorlar: "Sebzelerin, seslerinin yanı sıra çok güzel kokuları ve tatları var!" Her konser için yaklaşık 30 kilogram sebze gerekiyormuş. Artan sebzelerin bir kısmından çorba yapılarak konser sonrasında izleyicilere sunuluyormuş, bir kısmı da doğal gübreye dönüştürülmek üzere ayrılıyormuş. Kullanılan müzik aletleri konserden sonra izleyicilere dağıtılıyormuş.

Bu metne göre Avusturyalı müzisyenlerin müzik aleti olarak sebzeleri kullanmalarının sebebi aşağıdakilerden hangisidir?

- A) Müziksever insanların ilgisini çekerek farklılık yaratma düşüncesi
- B) Müzik aletlerine alternatif çalgılar oluşturma istekleri
- C) İnsanlarda sebze yeme alışkanlığını farklı bir yolla kazandırma duygusu
- D) Sebzelerin kokularıyla tatlarının yanında seslerinin de güzel olması

10.

	---- esmeyince yaprak oynamaz.	
	Ek ---- hasını,çekme yiyecek yasını.	
rüzgâr	Taş ---- ağırdır.	buğdayın
yerinde	Aman diyene ---- kalkmaz .	tohumun
	kılıç	

Boşluklar uygun sözcüklerle doldurulduğunda aşağıdaki sözcüklerden hangisi dışta kalır?

- A) tohumun
- B) rüzgâr
- C) buğdayın
- D) kılıç

11. “Bir sözcüğün harflerinin yerlerini değiştirerek başka bir sözcük oluşturmaya anagram denir. Örneğin ÇEKİÇ kelimesindeki harflerin yerleri değiştirilerek ÇİÇEK kelimesi oluşturulabilir.”

Aşağıdaki anagram örneklerinden hangisinde yanlışlık yapılmıştır?

- A) KESEN - ESNEK - KESEK - EKSEN
 B) AÇLIK - ÇALIK - KAÇLI - ÇAKIL
 C) SAHİL - HALİS - İHLAS - SALİH
 D) ALİM - İMLA - MALİ - İMAL

12.



Tilki çok acıkmış ve bir bağa girmiş. Üzümlerin iştah açıcı görüntülerine bakarak karnını doyurmak istemiş ancak bir türlü yetişip de o güzelim üzümlerden koparıp yiyememiş. Bu sefer de “Önemli değil canım, nasıl olsa hepsi ekşiydi.” demiş.



Bir varmış, bir yokmuş... Vakti zamanında çok iyiliksever bir padişah varmış... Fakirlere ramazanlarda yiyecek, bayramlarda giyecek dağıtmış... Yılda bir gün de sarayının karşısındaki çeşmenin bir musluğundan yağ, bir musluğundan da bal akıtır, herkesin duasını alırmış.

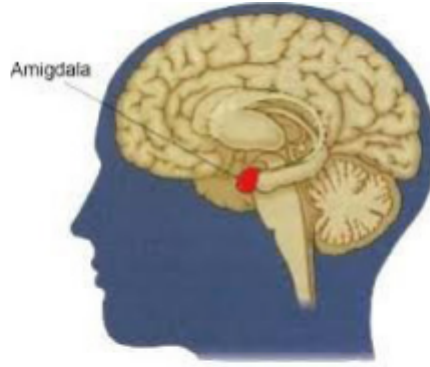


Bir gün yaşlı bir adam güzel ve sıcak bir yaz gününde evine doğru giderken yorularak yol kenarında bulunan banklara oturur. Dinlenirken oturduğu yerin yanında bulunan parkı izlemeye başlar. Parkta oynayan üç çocuk dikkatini çeker.

Yukarıdaki metinlerin türleri sırasıyla hangi seçenekte doğru olarak verilmiştir?

- A) Fabl – Masal – Hikâye
 B) Masal – Hikâye - Fabl
 C) Masal – Fabl - Hikâye
 D) Fabl – Hikâye - Masal

13.



"Beynimizde badem büyüklüğünde bir parça var. Adı da amigdala. İşlevi bir tehlike olduğunda vücudu alarma geçirmek. Bu durumda vücudumuzda hızlı değişimler olur. Örneğin kanın yoğunluğu artar. Bu bir yaralanma durumunda kanın çabuk pıhtılaşması için bir hazırlıktır. Ayrıca sindirim durur. Adrenalin ve kortizon salgılanır. Metabolizma hızlanır, dolayısıyla kalp atışımız ve nefes alışverişimiz de... Böylece kaslarımız kullanıma hazır hâle gelir.

Stres yani gerginlik yaşadığımızda da aynı mekanizma işler. Stres altında vücudumuz güçlenir. Gerçek bir tehlike varsa beynimizin bu işlevi hayat kurtarıcıdır. Sınav korkusu, başarısızlık hissi de strese neden olur. Sürekli stresin yıkıcı bir etkisi vardır. Kalp hastalıkları riskini artırır, kalp krizini tetikler, biyolojik yaşlanmayı hızlandırır."

Bu metinde aşağıdakilerden hangisine değinilmemiştir?

- A) Stresin insan vücuduna olan faydaları ve zararlarına
- B) Beynimizin bir parçası olan amigdalanın işlevine
- C) Başarısızlık hissinin neden kaynaklandığına
- D) Tehlike anında vücudumuzda oluşan değişimlere

14. NİÇİN TERS BİNDİM EŞEĞE?

Sevdim ırmağı dağı denizi
Sevdim insanlar hepinizi
Kardeşim gibi

Çocuklar gibi
Siz de merak ediyorsunuz belki
Niçin eşeğe ters bindiğimi?

Doğru binsem
Nezakete sığmazdı bu
Arkamda kalırdınız
Siz önden gidince de
O da size yakışmazdı
Ben kalırdım arkada
Her an görebilmek için sizi
Yüz yüze gitmek
Sizce de
En iyisi değil mi?



Bu dizelerden hareketle aşağıdakilerden hangisi Nasreddin Hoca'nın eşeğe ters binme nedenlerinden değildir?

- A) Bütün insanları kardeşi gibi görmek
- B) Başkalarını arkada bırakmamak
- C) Başkalarının arkasında kalmamak
- D) İnsanları istediği an görebilmek

15. Eski zamanlarda bir kral, saraya gelen yolun üzerine kocaman bir kaya koydurmuş, kendisi de pencereye oturmuştu. Bakalım neler olacak? Ülkenin en zengin tüccarları, en güçlü kervancıları, saray görevlileri birer birer geldiler, sabahtan öğlene kadar. Hepsı kayanın etrafından dolaşıp saraya girdiler. Pek çoğu kralı yüksek sesle eleştirdi. Halkından bu kadar vergi alıyor ama yolları temiz tutamıyordu. Sonunda bir köylü çıkageldi. Saraya meyve ve sebze getiriyordu. Sırtındaki küfeyi yere indirdi, iki eli ile kayaya sarıldı ve zorlanarak itmeye başladı. Sonunda kan ter içinde kaldı ama kayayı da yolun kenarına çekti. Tam küfesini yeniden sırtına almak üzereydi ki kayanın eski yerinde bir kesenin durduğunu gördü. Açtı. Kесе altın doluydu. Bir de kralın notu vardı içinde. "Bu altınlar kayayı yoldan çeken kişiye aittir." diyordu kral. Köylü, bugün dahi pek çoğumuzun farkında olmadığı bir ders almıştı:

" - - - - "

Bu metin hangi cümleyle tamamlanırsa kralın verdiği derse uygun olur?

- A) Önümüze engel çıkarsa yolumuzu değiştirip devam etmeliyiz.
- B) Engeller aşmak içindir fakat her engel insanı yorar, bıktırır.
- C) Gün gelir dikensiz gül, taşsız yol, engelsiz yaşamlarda buluşuruz.
- D) Her engel, yaşam koşullarınızı daha iyileştirecek bir fırsattır.

SOSYAL BİLGİLER

1. Arizona'daki Kaibab adı verilen bir ceylan türü: "Bir zamanlar dengeli bir yaşam içinde iken oradaki halk bu ceylanları kurtlar ve sırtlanlardan koruyalım diyerek, çevredeki kurt ve sırtlanların tümünü öldürmüşler. Ceylanlar büyük bir hızla çoğalmaya başlamış ve sayıları o kadar artmış ki kendilerine o çevrede yiyecek yetmemeye başlamış. Tek tek kurt ve sırtlanların öldüreceği ceylandan çok daha fazlası, açlıktan sürüler halinde ölmüş. Ayrıca o çevredeki bitki örtüsü aç ceylanların her şeye saldırmasından büyük zarar görmüş."

Bu metinden hareketle,

- I. Olaylar geniş bir etkiye sahiptir.
- II. Olayların tek bir sonucu vardır.
- III. Olaylarda çok boyutluluk söz konusudur.

Yargılarından hangilerine ulaşılabilir?

- A) Yalnız III
- B) I ve III
- C) II ve III
- D) I, II ve III

2.

UNICEF: Dünyadaki Çocukların Dörtte Biri Savaş ve Afetlerin Gölgesinde Yaşıyor

Birleşmiş Milletler Çocuklara Yardım Fonu (UNICEF), dünyadaki çocukların yaklaşık dörtte birinin savaş, kriz ve doğal afetlerin etkilediği ülkelerde yaşadığını açıkladı.

- 535 milyon çocuk sağlık hizmeti ve kaliteli eğitim alamıyor. Gıdaya erişemiyor ve korunamıyor.
- 393 milyona yakın çocuk, acil desteğe ihtiyaç duyulan bölgelerde yaşıyor.
- Savaş ve çatışma ortamında yaşayan 13 milyondan fazla çocuk eğitimden yoksun.
- Şiddet sebebiyle 50 milyon çocuk yerlerinden edildi.

Yukarıda ki gazete haberine göre aşağıdaki bilgilerden hangisine ulaşamaz?

- A) Dünyada çocuklar çeşitli sıkıntılar yaşamaktadırlar.
- B) Çok sayıda çocuk yeterince sağlık hizmeti alamamaktadır.
- C) Eğitim hakkını kullanamayan çok sayıda çocuk bulunmaktadır.
- D) Çocuklar yasalara rağmen çeşitli işlerde çalıştırılmaktadır.

3. Elif, çocuklarının kahvaltısını yapıp evden uğurladıktan sonra eşiyle beraber görev yaptığı Atatürk Ortaokuluna gitti. Gün boyu öğrencilerine ders anlatan Elif, okuldan sonra gönüllüsü olduğu Hayvanları Koruma Derneği'nin çalışmalarına katıldıktan sonra İşaret Dili eğitimi almak için katıldığı kurstan sonra evine döndü. Akşam, yöneticisi olduğu apartman toplantısına katıldıktan sonra bu uzun günü bitirdi.

Yukarıda verilen bilgilere göre aşağıdakilerden hangisi Elif'in üstlendiği rollerden biri değildir?

- | | |
|------------------------|-------------|
| A) Anne | B) Ablâ |
| C) Apartman yöneticisi | D) Öğretmen |

4. Sosyal Bilgiler; tarih, coğrafya, vatandaşlık bilgileri, ekonomi ve hukuk gibi birçok bilim alanını kapsayan bir derstir.

Bu sayede içinde yaşanılan toplumun;

- I. Genel yapısı hakkında bilgi verir,
- II. Kültürünü öğretmeyi amaçlar,
- III. Doğada bulunan elementleri öğretir.

Verilen bilgilerden hangisi Sosyal Bilgiler dersinin amaçları arasında yer alır?

- | | |
|---------------|---------------|
| A) Yalnız II. | B) I ve II. |
| C) I ve III. | D) II ve III. |

5. At üzerinde oynanan spor dallarından biridir. At üzerindeki sporcunun değnek veya mızrağını rakibe karşı isabetli bir şekilde atmasını, muharebe anında kendisine ve bineğine olan hâkimiyetini ve bu yolla rakibine üstün gelmesini amaç edinen, kuralları olan bir spordur.

Yukarıda anlatılan geleneksel Türk sporu aşağıdakilerden hangisidir?

- A) Güreş
- B) Futbol
- C) Cirit
- D) Okçuluk

6. Frigler'de tarım ve hayvancılık büyük önem taşırdı. Öyle ki tarımı korumak için önemli ve sert kanunlar yaptılar. Örneğin; öküz öldürmek ya da saban kırmak ölüm ile cezalandırılması gereken suçlardı. Hatta çok tanrılı inanca sahip Frigler'in en önemli tanrısı bereket tanrısı Kibele idi.

Bu paragrafa göre aşağıdakilerden hangisinde Friglerin tarıma verdikleri önemin diğer alanlarla ilişkisi birlikte verilmiştir?

- A) Hukuk - Yönetim B) Kültür - Sanat
C) Hukuk - Din D) Yönetim - Din

7. Elazığ'ın Sivrice ilçesinde 24 Ocak Cuma günü saat 20:45 te meydana gelen depremde evleri yıkılan Suat, büyük bir tramva yaşamış aynı zamanda okuldan da bir müddet uzak kalmıştır. Bu süreçte yeterince beslenememiş, başka bir şehirde yaşayan amcasının yanına yerleşmek zorunda kalmıştır.

Yukarıdaki parçadan hareketle Suat'ın,

- I. Sağlık
II. Beslenme
III. Eğitim
IV. Oyun

haklarından hangilerinin kısıtlandığı söylenebilir?

- A) Yalnız I
B) I ve II
C) I, III ve IV
D) I, II ve III

8. İlkçağlardan beri Anadolu birçok uygarlığın kurulduğu bir coğrafya oldu hatta bu topraklarda üstünlük kurmak isteyen krallar hiç bıkmadan usanmadan birbirleri ile onlarca kez savaştılar, yendiler de yenildiler de. Bu mücadeleler insanlık tarihine bir sayfa daha eklerken kralların adlarını bu sayfalara bazen zalim ve hain bazen de merhametli kahramanlar olarak yazdırdı. Sonuç her ne olursa olsun doğal ya da beşerî nedenler bu topraklar için verilen kavganın temel nedenleri oldu.

Yüzlerce yıldır Anadolu topraklarının yerleşim yeri olarak ele geçirilmek ve bu topraklara yerleşilmek istenmesinde;

- I. yeryüzü şekillerinin dağlık ve engebeli olması,
II. topraklarının verimli olması,
III. ılıman iklime sahip olması,
IV. önemli ticaret yolları üzerinde bulunması

gibi nedenlerin hangisi yoktur?

- A) I B) II
C) III D) IV

9.



Yukarıda verilen görsellerin "Tarihi Eser" ve "Doğal Varlık" olarak sınıflandırılması hangi seçenekte doğru olarak verilmiştir?

Tarihi Eser

Doğal Varlık

- A) III ve IV I ve II
B) II ve III I ve IV
C) I ve II III ve IV
D) I ve IV II ve III

10. Çeşitli nedenlerden dolayı kültürün davranış kalıplarında farklılıklar meydana gelmesine “kültürel değişim” denir. Kültürel değişim, eski kültür öğelerinin yerini yeni uygulamaların alması olarak da tanımlanabilir.

Aşağıdakilerden hangisi kültür değişiminin sebeplerine örnek olarak gösterilemez?

- A) Depremler
- B) Göçler
- C) İletişim araçlarının gelişmesi
- D) Bilim ve teknolojiye gelişmeler

DİN KÜLTÜRÜ VE AHLAK BİLGİSİ

1. Nemrut ve halkı, bayram dolayısıyla büyük bir şölen düzenlediler. Şöleniden dönen halk putlarının kırıldığını ve bir baltanın büyük putun boynuna asılı olduğunu gördü ve çok kızdı. Bu işi İbrahim'in yaptığını düşünerek onu bulup putları kimin kıldığını sordu. Hz. İbrahim, "Yapsa yapsa şu en büyük put yapar. Zaten balta da onun boynunda duruyor. Ona sorun." dedi. Oradakiler, "Hiç putlar konuşur mu? Sen bizimle alay mı ediyorsun?" dediler. Bunun üzerine İbrahim, "Konuşamayan, kendilerini bile koruyamayan varlıklara niçin tanrı diye tapıyorsunuz öyleyse?" dedi ve sonrasında kavmini bir olan Allah'a (c.c.) iman etmeye çağırdı.

Bu parçada Hz. İbrahim'in insanları davet ettiği temel ilke aşağıdakilerden hangisidir?

- A) Tevhid
- B) Adalet
- C) Eşitlik
- D) Ahlak

2. "Eğer yerde ve gökte Allah'tan başka tanrılar bulunsaydı kesinlikle ikisinin de düzeni bozulurdu..."

(Enbiyâ suresi, 22. ayet)

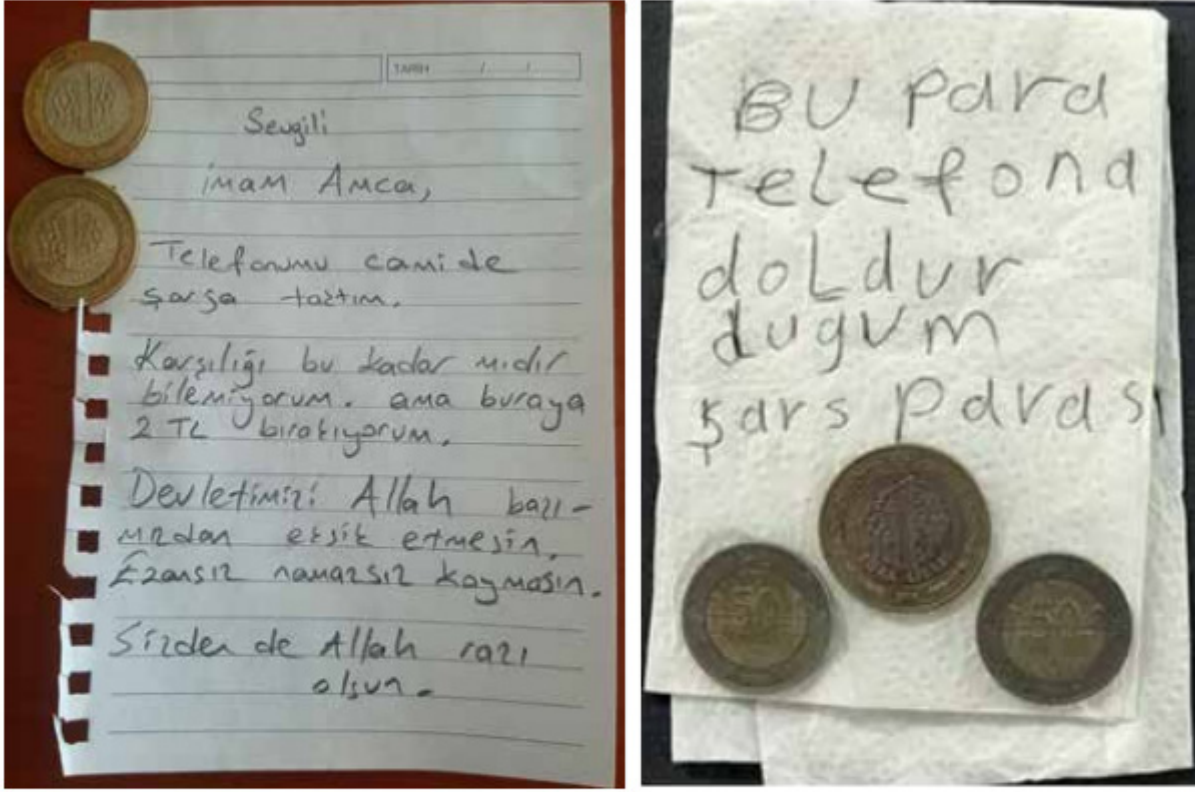
Bu ayetten,

- I. Allah'ın ortağı yoktur.
- II. Evrendeki düzen Allah'ın eseridir.
- III. Yer ve gök insan için yaratılmıştır.

yargılarından hangilerine varılabilir?

- A) Yalnız I.
- B) I ve II.
- C) I ve III.
- D) I, II ve III.

3. Cami görevlileri tarafından sosyal medyada paylaşılan görseller:



Bu görsellerdeki tutum, aşağıdaki adap ve nezaket kurallarından hangisiyle ilişkilendirilebilir?

- A) Cömert olmak
- B) Yardımsever olmak
- C) Kul hakkına dikkat etmek
- D) Tutumlu davranmak

4. Eli görmeyen kişi,

Yazıyı kalem yazdı sanır.

Allah'ın kudretini görmeyen,

Elmayı ağaç yaptı sanır...

Bu dizelerde aşağıdakilerden hangisi vurgulanmaktadır?

- A) Varlıkları yaratanın Allah olduğu
- B) Âlimlerin cahillerden üstün olduğu
- C) Duyuların bilgi kaynaklarından biri olduğu
- D) Allah'ın her şeye gücü yeten bir varlık olduğu

5. Oruç, İslam'da farz olan ibadetlerden biridir. Akıllı, ergenlik çağına ulaşmış, sağlıklı Müslümanların her yıl ramazan ayında bir ay oruç tutması Allah'ın bir emridir. Oruçla ilgili Bakara suresinin 183. ayetinde: "Ey iman edenler! Allah'a karşı gelmekten sakınmanız için oruç, sizden öncekilere farz kılındığı gibi size de farz kılındı." buyrulur.

Oruçla ilgili bu metinde aşağıdakilerden hangisine değinilmemiştir?

- A) Oruç tutmanın hükmüne
- B) Orucu bozan durumlara
- C) Kimlerin tutması gerektiğine
- D) Ne zaman tutulacağına

6. Nobel ödülü kazanan Japon bilim insanı Yoshinori Ohsumi, belli bir süre aç kalmanın yani oruç tutmanın insan sağlığına olumlu etkisini bilimsel olarak ispat etti. Bu bilimsel araştırmaya göre vücut aç kaldığı zaman enerji dengesini korumak için hücrelerin içerisinde biriken üretim atıklarını, yaşlanmış parçalarını, döküntülerini enerji kaynağı olarak kullanır. Böylece yaşlanmış hücreler bir tür "iç temizlik" sürecine girerek kendilerini yenilemiş olurlar. Bu da hastalıkları önleyebildiği gibi bağışıklık sistemini güçlendirerek yaşlanma üzerinde yavaşlatıcı etkiye neden olabilir.

Aşağıdaki hadislerden hangisi bu metinle ilişkilendirilebilir?

- A) "Oruç tutunuz ki sıhhat bulasınız!"
- B) "Oruç, cehennem ateşinden koruyan bir kalkandır."
- C) "Hiçbiriniz, oruçlu olduğu gün çirkin söz söylemesin ve kimse ile çekişmesin..."
- D) "Eğer kullar, Ramazanın faziletlerini bilselerdi, bütün senenin Ramazan olmasını temenni ederlerdi..."

7. • Oruç tutmak isteyenlerin gecenin bir bölümünde kalkıp yemek yedikleri vakittir.
 • Ramazan ayında yatsı namazından sonra genellikle yirmi rekât olarak kılınan sünnet namazdır.
 • Müslümanların kendileri ve bakmakla yükümlü oldukları kişiler için ramazan ayında verdikleri sadakadır.

Verilen tanımlarda aşağıdaki kavramlardan hangisinin karşılığı yoktur?

- A) Fitre B) Sahur C) İmsak D) Teravih

8. Minarelere taktılar
 Bir güzelce çaktılar
 Gündüzleri söndü de
 Geceleri yaktılar

Bu manide sözü edilen Ramazan geleneği hangi görselde yer almaktadır?



9.

Bakkalın "veresiye defterini" satın alarak borçluları sevindirdi.



Kırklareli'nin Lüleburgaz ilçesinde bir hayırsever, ramazan ayı dolayısıyla ihtiyaç sahiplerine yardım etmek amacıyla bir bakkalın veresiye defterini 6 bin lira ödeyerek satın aldı. Bakkal sahibi yaptığı açıklamada, Osmanlı'da zenginlerin ramazan ayında esnaftan "zimem" denilen veresiye defterini satın alması geleneğinin bugün bir hayırsever tarafından sürdürülmesinden memnuniyet duyduğunu dile getirdi.

Aşağıdakilerden hangisi bu habere konu olan geleneğin amaçlarından biri olamaz?

- A) Yardım sahibini gösterişe kapılmaktan korumak
- B) Yardımlaşırken insan onurunu gözetmek
- C) Yardımlaşmada yakınlarla öncelik vermek
- D) İnsanların ihtiyaçlarını karşılamak

10. Aşağıdaki ayetlerden hangisi bir adap kuralı ile ilgili değildir?

- A) "...Evlere girdiğiniz zaman birbirinize, Allah katından mübarek ve hoş bir esenlik dileği olarak, selam verin..."
(Nur suresi, 61. ayet)
- B) "Ey iman edenler! Bir topluluk bir diğerini alaya almasın. Belki onlar kendilerinden daha iyidirler... Birbirinizi karalamayın, birbirinizi (kötü) lakaplarla çağırmayın..."
(Hucurât suresi, 11. ayet)
- C) "Kullarıma söyle, sözün en güzelini söylesinler çünkü şeytan aralarına girer. Kuşkusuz şeytan insanların apaçık düşmanıdır."
(İsrâ suresi, 53. ayet)
- D) "Müminler o kimselerdir ki, Allah'ın adı anıldığında yürekleri titrer, kendilerine Allah'ın ayetleri okunduğunda bu onların imanlarını artırır. Onlar yalnızca Rablerine güvenirlere."
(Enfâl suresi, 2. ayet)

İNGİLİZCE

1.



Which question DOES NOT have an answer according to the card above?

- A) How many languages can she speak?
- B) What are her favourite hobbies?
- C) What's her name?
- D) How old is she?

2.



Monday	English	Social Studies
Tuesday	English	P.E.
Wednesday	Art	P.E.

According to Garcia's timetable which one IS NOT correct?

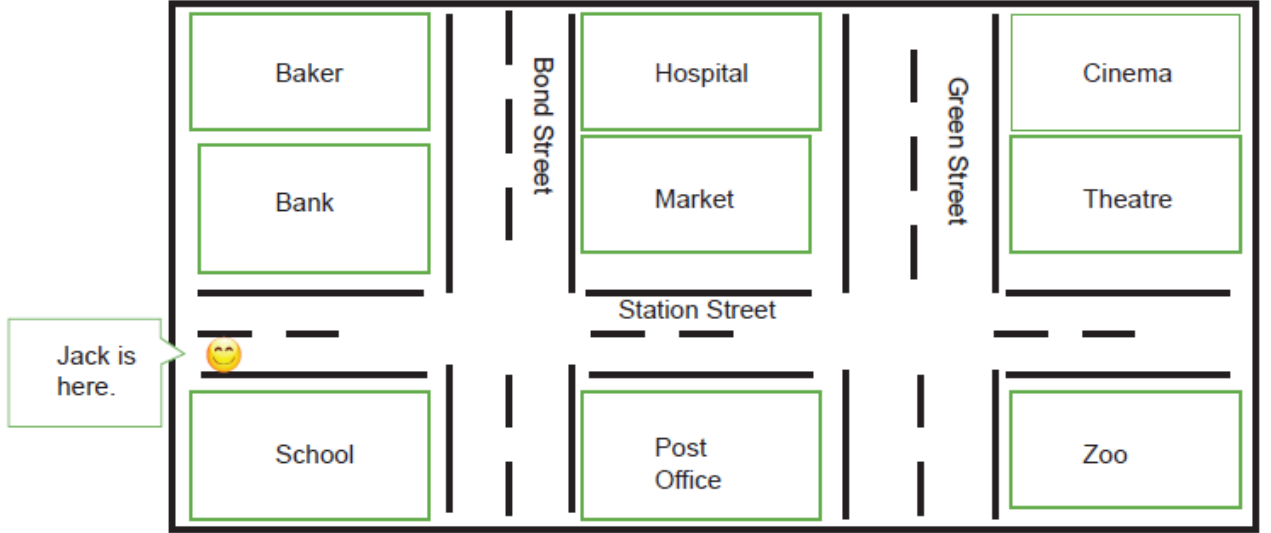
She has - - - -.

- A) art on Wednesday
- B) social studies on Monday
- C) P.E. on Monday and Tuesday
- D) English on Monday and Tuesday

3. Read the conversation and look at the map. Answer the question.

Jack : Excuse me, how can I get to the - - - -?

Jill : Go straight ahead and turn left into Green Street. It is opposite the cinema.



Which of the following completes the dialogue?

- A) baker
- B) market
- C) theatre
- D) hospital

4. Look at the visual and answer the question.



Which of the following is correct?

- A) Lilly is behind Alice.
 B) George is in front of Lilly.
 C) Mark is opposite the teacher.
 D) Alice is between Ryan and Oliver.

5. Look at the chart below and answer the question.



				
John	✓	✗	✓	✓
Bob	✗	✓	✗	✗
Tom	✓	✓	✗	✓
Mary	✗	✗	✓	✓

According to the chart, - - - -.

- A) John can't skip a rope
 B) Tom can't skip a rope or swim
 C) Bob can play hopscotch and skip a rope
 D) Mary can't play any games or do any activities

6. Look at the table below and answer the question.

Jacob's likes and dislikes

	
Skipping rope	Collecting stamps
Hopscotch	Riding horse

What does Jacob like?

A)



B)



C)



D)



7. Look at Carmen's schedule below and complete the sentence.

DAY	TIME	ACTIVITY
Wednesday	14:30	Riding a bike
Thursday	15:30	Swimming course
Friday	16:30	Playing the guitar
Saturday	17:30	Doing puzzle
Sunday	17:30	Watching TV

Carmen - - - - .

- A) rides a bike on Wednesday at half past three
 B) watches TV and does puzzle at weekends
 C) goes swimming on Friday at half past four
 D) plays the guitar on Thursday

8. Look at the visual, Read the text and answer the question.



Sue gets up late at weekends. She has a shower. After breakfast, she draws picture. She does her homework in the evenings and goes to bed at 10:30 pm.

Which photo is the missing one according to the photos above?



9. Read the speech bubble and answer the question.

I have a terrible cough.



Tina

I feel cold.



Maria

I have a toothache.



Tim

I feel very tired.



Michael

Who should go to a dentist?

- A) Tina B) Maria C) Tim D) Michael

10. Read the text and complete the sentence.

I am making a salad and I cut my finger. I need - - - -.

A)



B)



C)




D)



CEVAP ANAHTARI

TÜRKÇE	SOSYAL BİLGİLER	DİN KÜLTÜRÜ VE AHLAK BİLGİSİ	İNGİLİZCE
1. D	1. B	1. A	1. A
2. C	2. D	2. B	2. C
3. B	3. B	3. C	3. D
4. B	4. B	4. A	4. C
5. D	5. C	5. B	5. A
6. A	6. C	6. A	6. B
7. B	7. D	7. C	7. B
8. C	8. A	8. B	8. A
9. D	9. C	9. C	9. C
10. C	10. A	10. D	10. D
11. A			
12. A			
13. C			
14. A			
15. D			

MALATYA
ÖLÇME DEĞERLENDİRME
MERKEZİ



**MALATYA
ÖLÇME DEĞERLENDİRME
MERKEZİ**