





5.SINIF 7. ÜNİTE ÇALIŞMA FASİKÜLÜ





SOSYAL BİLGİLER

Bu kitapçık ÇANAKKALE Ölçme Değerlendirme Merkezi
tarafından hazırlanmıştır.



1. Ülkemizde üretilen ürünlerin fazlası başka ülkelere ihraç edilmektedir. İhtiyacımız olan ürünleri de ithal ediyoruz. Buna göre ülkemizin ihraç veya ithal ettiği ürünleri aşağıdaki tabloda uygun yerlere (X) ile işaretleyiniz.

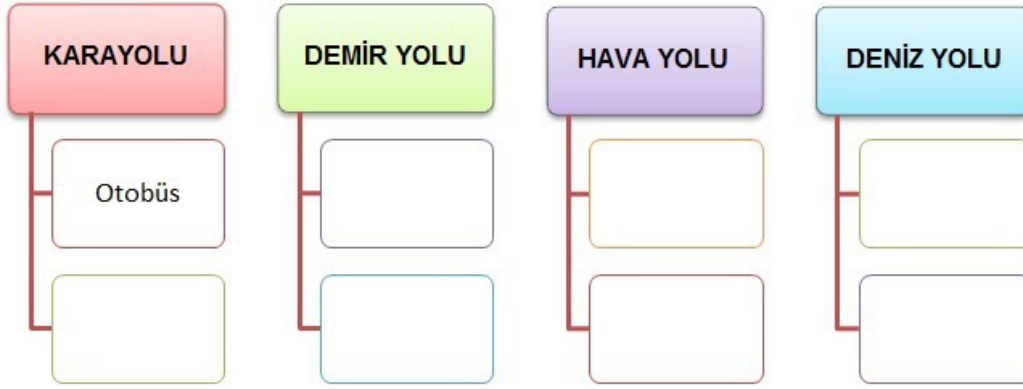
Ürünler	İhracat	İthalat
 Petrol		
 Fındık		
 Tekstil Ürünleri		
 Tıbbi Ürünler		

Ürünler	İhracat	İthalat
 Bal		
 Elektronik Cihazlar		
 Makarna		
 Halı ve Kilim		

2. Aşağıdaki tabloda ülkemizde kullanılan ulaşım araçları verilmiştir. Ulaşım araçlarına ait özellikleri ilgili kutucuğa (X) ile işaretleyiniz.

ULAŞIM ARAÇLARI	En Hızlı	En Ekonomik	En Çok Kullanılan	En Fazla Taşıma Potansiyeline Sahip Olan
Kara yolu				
Demir yolu				
Hava yolu				
Deniz yolu				

3. Aşağıdaki şemada verilen ulaşım sistemlerinin ilgili bölümlerine ulaşım araçlarını yazınız.




4. Aşağıdaki görsellerde ortak miras eserleri ile katkıda bulunanların bazıları verilmiştir. İlgili kutucuklara eserlerin hangi alanlarda verildiğini yazınız.

Moai
Heykelleri




A.

Alexsander
Graham Bell



B.

Suç Ve Ceza
Fyodor Dostoyevski



C.

Yunus
Emre



D.

5. Aşağıda ülkemizin tarihi zenginlikleri ve doğal güzelliklerinden bazıları verilmiştir. Bunların hangisinin bulunduğu yer yanlış yazılmıştır? İşaretleyiniz.

Galata Kulesi	Pamukkale	Efes Antik Kenti	Anıtkabir
			
İstanbul	Isparta	İzmir	Ankara
<input type="radio"/>	<input type="radio"/>	<input type="radio"/>	<input type="radio"/>


6. Aşağıdaki tabloda verilen ortak miras eserlerinin hangi alanlara ait olduğunu ilgili bölümlere işaretleyiniz.

Ortak Miras Eserleri	Sanat Alanı	Edebiyat Alanı	Düşünce Alanı	Bilim Alanı
a. Reşat Nuri Güntekin'in Çalıkuşu Romanı				
b. Mevlana'nın "Gel, ne olursan ol yine gel." sözü.				
c. Çanakkale Şehitler Abidesi				
d. Ünlü matematikçimiz Cahit Arf'in bulduğu "Arf Teoremi"				
e. Selimiye Cami ve Külliyesi				

7. Aşağıda yer alan görsellerde ulaşım araçları ile ilgili bilgilerden hangileri yer değiştirirse doğru olur? Yazınız.

 Deve Kervanı	 Buharlı Tren	 Uçak
En hızlı ulaşım aracıdır.	Taşınan malların güvenliği sağlanamazdı.	Bozulacak ürünler taşınamazdı.

8. Aşağıdaki bulmacayı çözünüz.




1. Yabancı ülke parası.
2. Duygu, düşünce veya bilgilerin akla gelebilecek her türlü yolla başkalarına aktarılması.
3. Başka bir ülkeden mal getirme veya satın alma, dış alım.
4. Bir ülkenin ürettiği malları başka bir ülkeye veya ülkelere satması, dış satım.
5. Dinlenme, eğlenme, görme, tanıma vb. amaçlarla geziye çıkan kimse.
6. İnsanlığın çabalarıyla oluşan, sonraki kuşaklara bıraktığı maddi ve manevi değerlerin tümüne denir.
7. Dinlenme, gezip, görme amacıyla yapılan gezi.
8. Köyler, şehirler, ülkeler arasında bir yerden bir yere gidiş geliş.

9. Aşağıdaki tabloda ticaret ve teknoloji alanında verilen gelişmelerden doğru veya yanlış olanın ilgili bölümünü (X) ile işaretleyiniz.

Ticaret ve Teknoloji Alanındaki Gelişmeler	D	Y
1. Ülkeler arasında yapılan ticareti kolaylaştıran unsurlardan biri ulaşımdır.		
2. Çin'den Türkiye'ye gelen konteyner yüklü gemi ihracat yaptığımızı gösterir.		
3. İletişim teknolojilerindeki gelişmeler ile ticaret arasında bir ilişki bulunmaz.		
4. Ticarete kullanılan ulaşım araçlarından en hızlı olanı uçaklardır.		
5. Geçmişte kervanlarla yapılan ticari faaliyetlerde yaş meyve sebze taşınabiliyordu.		


10. Aşağıda insanlığın ortak mirasına ait bazı örnekler verilmiştir. Bunlardan hangisi diğerlerinden farklı bir alana sahiptir? Nedeni ile birlikte yazınız.




Oğuz Kağan Destanı



Sefiller



Mona Lisa



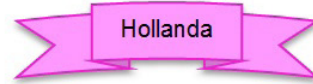
İlyada

.....

.....

.....

11. Aşağıdaki tabloda dünyadaki çeşitli ortak miras eserlerinden bazıları yer almaktadır. Verilen bilgilerden ve görsellerden yola çıkarak bu eserlerin hangi ülkelerde bulunduğunu yazınız.



Suyun dışarıya pompalanmasını sağlayan yel değirmenlerinin 1000 kadarı varlığını koruyor.



Eyfel Kulesi 18038 adet demir parçanın biraraya getirilmesiyle ortaya çıkmıştır.



Tarihi 1883 yılına dayanan La Sagrada Familia'nın yapımı günümüzde hala devam etmektedir.



8851 km uzunluğa sahip olan Çin Seddi günümüzde bir çok spor faaliyetine ev sahipliği yapmaktadır.

1.

2.

3.

4.

12. Aşağıdaki görsellerde ulaşım ve iletişim teknolojilerinden bazıları verilmiştir. Yapılan eşleştirmelerden hangileri doğrudur? İşaretleyiniz.

☐☐☐☐☐☐

13. Aşağıdaki tabloda turizmin ülkelere olan bazı katkıları verilmiştir. Bu katkıların hangi alanda olduğunu ilgili bölüme (X) ile işaretleyiniz.

Turizmin Katkıları	Sosyal	Kültürel	Ekonomik
I. Turizmin yapıldığı yerlerde bölge halkına yeni iş olanakları sağlanır.			
II. İnsanların birbirini tanımasıyla ön yargılar azalır.			
III. Farklı ülkelerin tarih, dil, sanat, halk oyunları vb. değerlerini öğreniriz.			
IV. Turizm sayesinde üretim ve ticaret artar.			

14. Aşağıdaki şemada yer alan ortak mirasın alanları ile verilen örnekleri eşleştiriniz.

- A. Yunus Emre: “Yaradani severim yaradandan ötürü.” sözüyle her insanın değerli olduğunu belirtmiştir.
- B. Victor Hugo (Viktor Hügo)’nun Sefiller adlı romanında “Yaşamda meydana gelen bir olayın etkileri geleceği de etkileyebilir.” ana düşüncesi işlenmiştir.
- C. Çin Seddi dünya üzerindeki insan yapımı olan en uzun eserdir.
- D. İbn El-Heysem yazdığı kitabında görme olayının nasıl gerçekleştiğini somut deneylerle ispatlamıştır.

SANAT	•
BİLİM	•
DÜŞÜNCE	•
EDEBİYAT	•

15. Ülkemizde bulunan ortak miras eserleri ile başka ülkelerdeki ortak miras eserleri arasında bir futbol maçı yapılacaktır. Ancak iki eser yanlış takımda oynamaktadır. Bu eserleri bulunuz. Aşağıdaki noktalı yerlere yazınız.



.....
.....

16. Ortak Miras eserleri korunarak gelecek nesillere aktarılmıştır. Günümüze kadar gelen eserler olduğu gibi bazı eserler bir takım sebeplerden ötürü yok olmuştur. Buna göre aşağıda yer alan ortak miras eserlerinden hangisi bugün mevcut değildir? Bu eserin varlığını hangi kaynaklardan öğrenebiliriz? Yazınız.



Truva Atı



Özgürlük Anıtı



Mısır Piramitleri



Big Ben Saat Kulesi

.....

.....

.....

17. Aşağıdaki tabloda bazı turistik yerler yer almaktadır. Bu turistik yerlere yapılacak gezilerin iç turizm veya dış turizm faaliyeti olduklarını ilgili yerlere yazınız.



MISIR
PİRAMİTLERİ

.....



KONYA
MEVLANA
MÜZESİ

.....



SİDNEY
OPERA
BİNASI

.....



ROMA
COLLESİUM

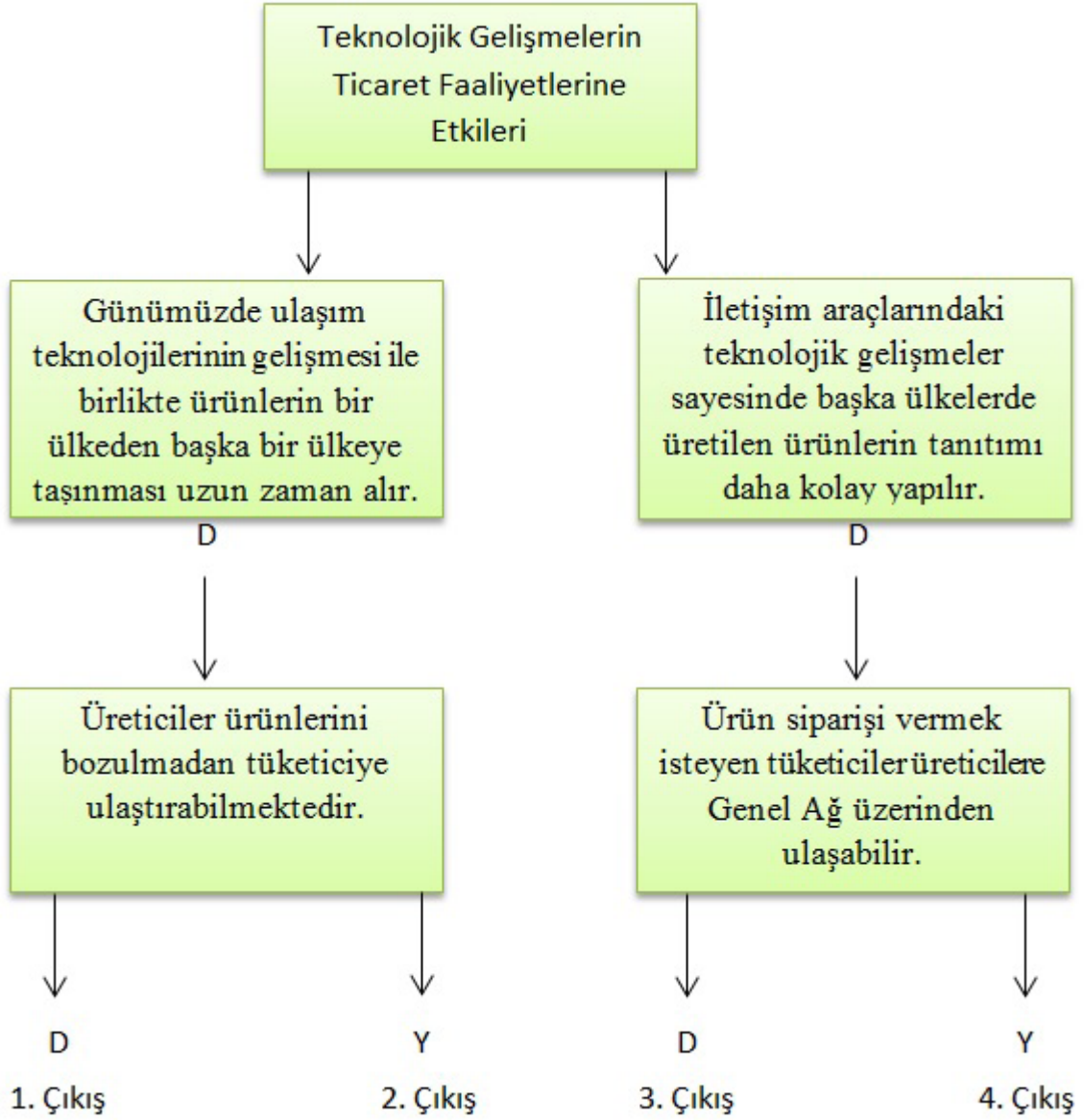
.....



NEVŞEHİR
KAPADOKYA

.....

18. Teknolojik gelişmelerin ticaret faaliyetlerine etkilerini takip ederek hangi çıkışa ulaşırız?



19. Aşağıdaki tabloda harfleri karışık olarak verilen ifadelerin doğru yazılışlarını soruları cevaplayarak ilgili bölüme yazınız.

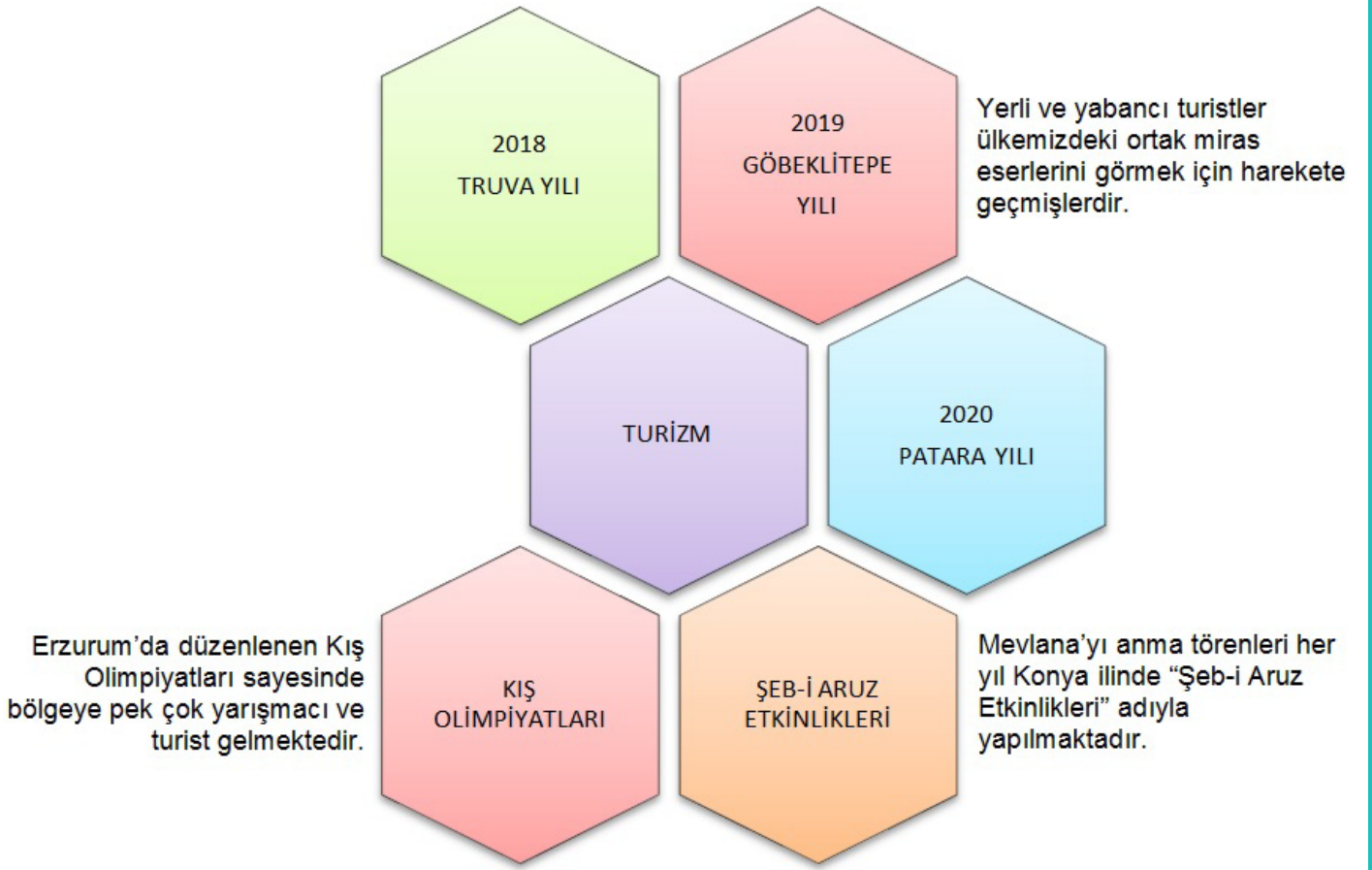
1- ŞİD RATECİT	2- Çİ CİTERAT	3- VİZÖD	4- ÇUKA	5- NIKFİD
.....
6- ALĞOD ZAG	7- RAUF	8- ŞAMILU	9- ŞİTEMİLİ	10- MEGİ
.....

1. Bir ülkenin başka ülkelerle yaptığı ticaret türü.
2. Bir ülkenin kendi sınırları içinde yapılan ticaret türü.
3. Ülkeler arası ödemelerde kullanılabilecek para, çek, poliçe vb. ödeme araçları.
4. En hızlı ulaşım aracı.
5. Ülkemizin en fazla ihraç ettiği tarım ürünü.
6. Ülkemizin ithal ettiği bir enerji kaynağı.
7. Belli zamanlarda, belli yerlerde ticari mal sergilemek amacıyla açılan büyük sergi.
8. Bir şeyi bir yerden başka bir yere aktarma.
9. Telefon, telgraf, televizyon, radyo vb. araçlardan yararlanarak yürütülen bilgi alışverişi, haberleşme.
10. Bir seferde en fazla yük taşıyan ulaşım aracı.

20. Ortak miras ile ilgili yargılardan doğru olanların başına (D), yanlış olanların yanına (Y) yazınız.

- ☐ 1- Geçmişten günümüze kadar gelen bütün insanların birikimleriyle oluşmuştur.
- ☐ 2- Ortak miras eserini oluşturan ulus sadece ondan yararlanabilir.
- ☐ 3- Nesilden nesile aktarılmıştır.
- ☐ 4- Ortak mirası korumak tüm insanlığın görevidir.
- ☐ 5- Ortak miras eserlerini gezip görmek sınırlandırılmıştır.
- ☐ 6- Tarihin belli bir döneminde ortak miras oluşmuştur.
- ☐ 7- Ortak miras eserleri UNICEF tarafından korunmaktadır.
- ☐ 8- Ortak miras korunup geliştirilmese de olur.
- ☐ 9- İnsanlığın gelişmesinde ortak mirasın büyük katkısı vardır.
- ☐ 10- Ortak miras eserlerini tüm dünyaya tanıtmak gerekmektedir.

21.



Yukarıdaki tabloda verilen bilgilere göre Türkiye'de yapılan turizm faaliyetlerinin ülkemize olan katkılarını yazınız.

.....

.....

.....

.....

.....

.....

.....

.....

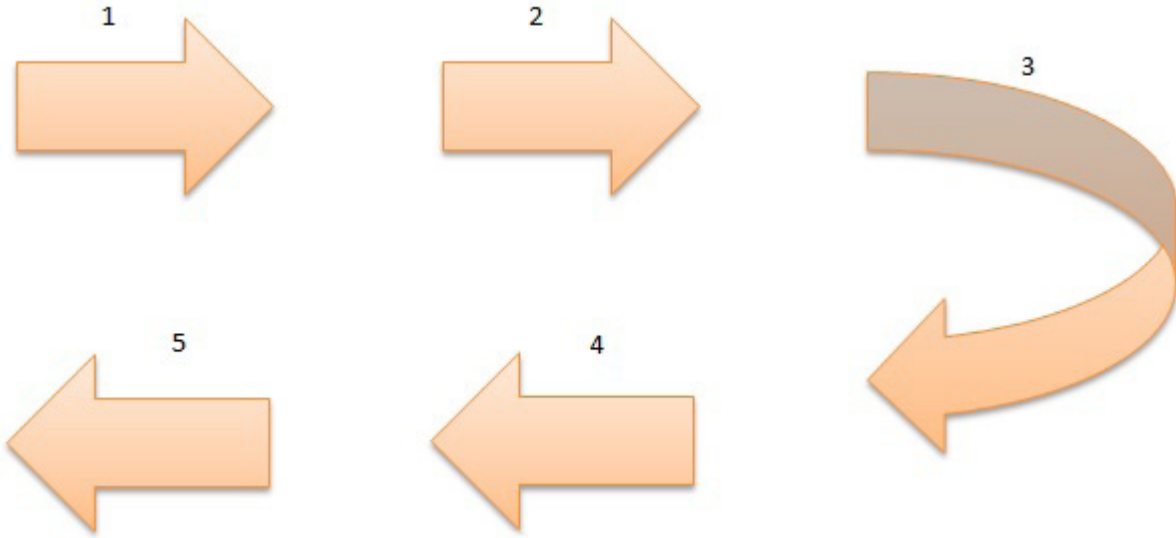
.....

22. Funda Genel Ağ üzerinden uluslararası ticaret yapma aşamalarını ödevine eklemek istemektedir.

- a. Ürünün fiyatının ve görsellerinin sitelere yüklenmesi
- b. Ürünün alıcıya gönderilmesi
- c. Ürünün sipariş edilmesi
- d. Ödemenin uluslararası bankacılık sistemi üzerinden yapılması
- e. Sitelerden ürün bilgilerine ulaşılması.



Yukarıda dağınık halde verilen bu bilgileri sırasıyla aşağıdaki diyagrama yerleştiriniz.



23. Ülkemizde bulunan ve UNESCO Dünya Miras Listesi'ne alınan ortak miras eserlerinden bazıları aşağıdaki tabloda verilmiştir. Bu eserler ile alanlarını eşleştirip uygun şekilleri ilgili boşluğa çiziniz.

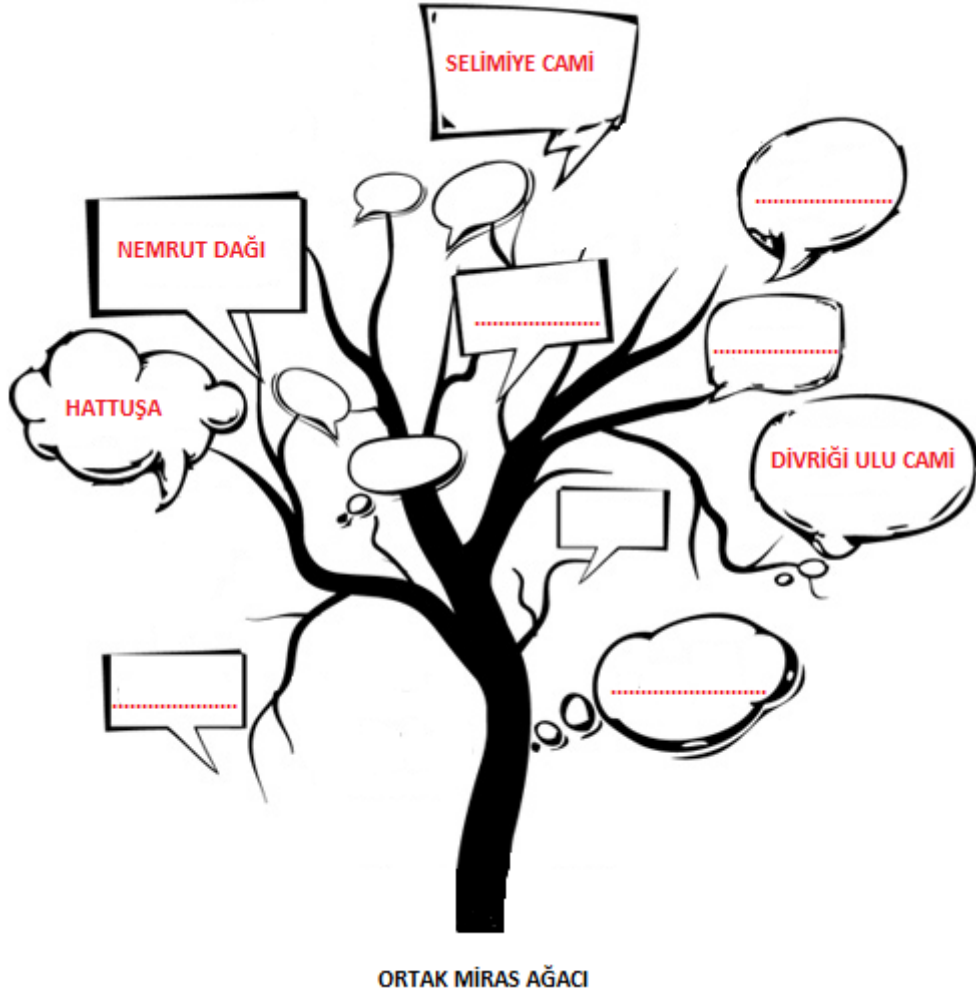
Ortak Miras Eserleri	Kültürel Miras	Hem Doğal Hem Kültürel Miras
 Bergama Antik Kenti		
 Göreme Milli Parkı		
 Safranbolu Şehri		
 Diyarbakır Surları		
 Pamukkale, Hierapolis Antik Kenti		

24. Aşağıdaki cümlelerde verilen boşlukları, konuşma balonlarında verilen ifadelerden uygun olanlarıyla tamamlayınız. İfadelere uygun ekler getirebilirsiniz.



- 1- Bir ülkeden başka bir ülkeye gezip, görmek, eğlenmek gibi amaçlarla giden kişilere denir.
- 2- Turizm faaliyetlerinde turistlerin memnun kalabilmesi için ihtiyaçları vardır.
- 3- Gezi programında turistlerin bir yerden başka bir yere ile seyahat edebilirler.
- 4- Romanya'dan ülkemize gelen turistler yemeklerimizi, oyunlarımızı, yaşayışımızı tanıyıp kültürler arası gerçekleştirirler.
- 5- Ülkemize gelen bir turist bizim kültürümüzü tanıtan gönüllü bir'dir.

25. Aşağıdaki ortak miras ağacının üzerindeki konuşma balonlarına ülkemizdeki ortak miras eserlerinden örnekler yazınız.



26. Çanakkale’de sulanabilen verimli ovalarda çeşitli tarım ürünleri yetiştirilmektedir. Domates, biber, patlıcan, zeytin, üzüm vb. yetiştirilen tarım ürünleri arasındadır. Büyükbaş ve küçükbaş hayvancılık, kümes hayvancılığı, arıcılık, su ürünleri vb. faaliyetler de yapılmaktadır. Ülkemizin en büyük seramik üretim tesisleri Çan ilçesinde bulunur. Çanakkale, doğal güzellikleri ve tarihi zenginlikleri ile yerli ve yabancı turistlerin tercih ettiği bir şehirdir.

Buna göre Çanakkale ile ilgili,

- I. Turizm faaliyetlerinden gelir elde edilmektedir.
- II. Farklı ekonomik faaliyetler yapılmaktadır.
- III. Tekstil sektörü gelişmiştir.

yorumlarından hangileri yapılabilir?

- A) Yalnız I B) I ve II C) II ve III D) I, II ve III

27. Geçmişte yaşayan insanlar satacakları malları kervan yollarında aylarca taşırdı. Belli noktalarda konaklar sonra yollarına devam ederdi. Bazen kervanların yolları kesilir, tüccarların malları yağmalanırdı. Develere yüklenen mallar: cam, porselen, ipek, değerli taşlar vb.’ydi. Doğuda üretilen mallar batıdaki ülkelere taşınırken aynı zamanda batı ile doğu kültürleri arasında etkileşim de gerçekleşirdi.

Buna göre aşağıdakilerden hangisinin geçmişteki ticari faaliyetlerin olumsuz yönü olduğu söylenemez?

- A) Ticaret yollarının güvenliğinin tam olarak sağlanamaması.
- B) Deve kervanlarıyla sadece dayanıklı malların taşınabilmesi.
- C) Ticaret sırasında farklı kültürlerin birbirini tanıması.
- D) Ticari faaliyetlerin uzun zaman alması.

28. Ortak miras geçmişten bu güne bütün insanların, ulusların, uygarlıkların, toplumların katkılarıyla oluşan maddi ve manevi değerlerin tümüdür. Gelecek nesillere aktarılması için ortak miras ürünlerinin uluslararası düzeyde korunması ve geliştirilmesi gerekir.

Bu amaçla uluslararası alanda çalışmalar yapan kuruluş aşağıdakilerden hangisidir?

- A) UNICEF B) UNESCO C) WHO D) FAO

29. Ülkeler kendi ihtiyaçlarını karşılamak için üretim yaparlar. Ancak bir ülkenin tüm ihtiyaçlarını kendi başına karşılaması oldukça zordur. Bu nedenle ülkeler arasında ticaretin yapılması kaçınılmazdır.

Buna göre,

- I. Bir ülkede üretilen ürün başka bir ülkede üretilmeyebilir.
- II. Her ülkenin coğrafi şartları, kaynakları, teknolojisi birbirinden farklıdır.
- III. Yapılan üretim talebi karşılamayabilir.

yargılarından hangilerinin ülkeler arası ticaretin sebeplerinden olduğu söylenebilir?

- A) Yalnız I B) I ve II C) II ve III D) I, II ve III

30. Ülkemizde yolcu taşımacılığında çeşitli ulaşım araçları kullanılmaktadır.

Buna göre aşağıdaki ulaşım araçlarından hangisi farklı bir grupta yer alır?

- A) Feribot B) Vapur C) Metro D) Deniz Otobüsü

31. Türkiye’de büyükbaş ve küçükbaş hayvancılık faaliyetlerinden elde edilen sütün bir kısmından peynir üretilmektedir. Peynir üretimi ülke içindeki ihtiyacı karşılarken fazlası da başka ülkelere ihraç edilmektedir. Ancak diğer ülkelere göre daha fazla süt üreten ülkemizde peynir ihracatının daha az olduğu görülmektedir.

Buna göre,

- I. Peynir üretimini artırmak.
- II. Daha fazla peynir ithalatı yapmak.
- III. Türkiye’de üretilen peynirleri dünya piyasasına tanıtmak.

faaliyetlerinden hangileri ile peynir ihracatı artırılabilir?

- A) I ve II B) II ve III C) I ve III D) I, II ve III

32. Turizm gelirleri, ihracat gelirlerinin yanında bir ülkenin kalkınması için önemli bir kaynaktır. Bu nedenle ülkeler turizm gelirlerini artırmak için bir takım faaliyetlerde bulunurlar.

Buna göre aşağıdakilerden hangisinin turizm gelirlerini artırmaya yönelik olduğu söylenemez?

- A) Turistik yerler koruma altına alınmalıdır.
- B) Turizm yapılan bölgelerde fiyatlar artırılmalıdır.
- C) Turistlerin konaklaması için otel, motel, tatil köyü vb. açılmalıdır.
- D) Ülkenin tanıtımı için uluslararası turizm fuarlarına katılım sağlanmalıdır.

33. Ulaşım, insanların ve malların bir yerden başka yerlere taşınmasıdır. Tarım, sanayi, ticaret, turizm ve hizmet faaliyetlerinde ulaşımın önemli rolü bulunmaktadır. Günümüzde gelişen ulaşım teknolojileri ile mallar, hizmetler, insanlar ve ürünler her bölgeye ve ülkeye ulaştırılmaktadır. Tırlar, gemiler, uçaklar, trenler, otobüsler, vb. ulaşım araçları sayesinde uzak ülkelere ticaret yapılabilir.

Buna göre,

- I. Ticaret günümüzde daha güvenli bir şekilde yapılmaktadır.
- II. Ulaşım teknolojilerinin gelişmesi ticaretin daha hızlı yapılmasını sağlamıştır.
- III. Yaş meyve-sebze, dondurulmuş ürünler vb. uzak ülkelere bozulmadan ulaştırılmaktadır.

yargılarından hangilerine ulaşılabilir?

- A) I ve II B) I ve III C) II ve III D) I, II ve III

34. Eski zamanlarda, insanlar bir ürünü almak istediklerinde yanlarında başka bir ürünü taşımaları gerekiyordu. Bu da oldukça zahmetliydi. Özellikle uzun kervan yolculuklarında daha kullanışlı bir ödeme aracı gerekiyordu. İşte Lidyalılar bu büyük buluşu gerçekleştirdiler. Bundan sonra takas usulünün yerini aldı. Nesilden nesle günümüze aktarılan bu buluş ortak miras ürünüdür.

Yukarıdaki boşluğa aşağıdakilerden hangisi gelmelidir?

- A) Tekerlek B) Alfabe C) Para D) Yazı

35. Türkiye'nin ihraç ve ithal ürünlerden bazıları aşağıdaki tabloda verilmiştir:

Türkiye'nin İhraç Ettiği Ürünler	Türkiye'nin İthal Ettiği Ürünler
Mobilya	Fındık
Kahve	Kimyasal Ürünler
Tekstil Ürünleri	Doğal Gaz

Buna göre hangi ürünler yer değiştirirse tablodaki hata düzelir?

- A) Kahve - Fındık
B) Mobilya - Doğal Gaz
C) Tekstil Ürünleri - Fındık
D) Mobilya - Kimyasal Ürünler

36.



Ben Asurlu bir tüccarım. Ninova ile Anadolu'daki Kaniş arasında ticaret yapıyorum. Altın, gümüş, tahıl, yün alır; dokuma, süs eşyaları, koku satarım. Kervanlarla yol aldığımız için bazı ihtiyaçlarımızı konakladığımız yerlerden satın alırız. Malların kaydını tutarız. Anadolu'daki tüccarlar da bu sayede yazıyı bizden öğrendi.

Asurlu tüccarın anlattıklarından yola çıkarak aşağıdaki çıkarımlardan hangisi yapılamaz?

- A) Ninova ile Kaniş arasındaki bölgenin ekonomisi canlanmıştı.
- B) Kervanlarla yapılan ticarete dayanıklı ürünler taşınmıştır.
- C) Asurlular ile Anadolu'daki tüccarlar arasında kültürel etkileşim gerçekleşmiştir.
- D) Birbirleriyle ticaret yapan Asurlular ile Anadolu'da yaşayanlar savaş yapmışlardır.

37. Türkiye, fındık üretiminde dünya lideridir. Dünyadaki fındığın %67'si Türkiye'de üretilmektedir. Fındık, Almanya, İtalya, Fransa gibi ülkelere ihraç edilmektedir. Kuru yemiş olarak tüketilen fındık; çikolata, bisküvi, şekerleme, tatlı pasta, dondurma imalatında da kullanılmaktadır.

Bu bilgilere dayanarak aşağıdaki yorumlardan hangisine ulaşılamaz?

- A) Pek çok ülkenin Türkiye'de üretilen fındığa ihtiyacı vardır.
- B) Fındık gıda sanayisinde hammadde olarak kullanılmaktadır.
- C) Fındık ihracatının ülke ekonomisine önemli bir katkısı vardır.
- D) Fındık üretimi Türkiye'nin bütün coğrafi bölgelerinde yapılmaktadır.

38. "Çanakkale içinde, ana ben gidiyom düşmana karşı, of gençliğim eyvah." türküsünde yer alan tarihi mekandır. Çanakkale'ye gelen yerli ve yabancı turistler buraya uğramadan şehirden ayrılmaz. Hediyelik eşyalarıyla, mimarisiyle Çanakkale'nin cazip turistik değerlerindendir.

Yukarıdaki boşluğa aşağıdakilerden hangisi gelmelidir?

- A) Truva Atı
- B) Göbeklitepe
- C) Aynalı Çarşı
- D) Yerebatan Sarnıcı

39. ay, iecek olarak zellikle kahvaltılarda sofraların vazgeilmezidir. ay bitkisinin dnya zerinde retim alanı belirli lkelerle sınırlıdır. lkemizin ay ihtiyacı Doęu Karadeniz’de yapılan retimle karşılanmaktadır. ay retiminin fazlası ise dıř lkelere ihra edilmektedir. ay bitkisinin lkemizdeki yetiřme alanları ařaęıdaki haritada yer almaktadır:



Buna gre,

- I. ay bitkisinin yetiřeceęi iklim kořullarının dar bir alanda bulunması.
- II. lkemizde ay tketiminin dięer lkelerden daha az olması.
- III. ayın fazla gelir getiren bir rn olmaması.

ifadelerinden hangileri ay ihracatının fazla olmamasına gereke olarak gsterilebilir?

- A) Yalnız I B) Yalnız II C) I ve II D) II ve III

40. Trkiye, geen yıl İtalya’ya en ok 2 milyar 300 milyon dolarlık motorlu kara tařıtları ihra etti. İtalya’dan ise yaklaşık 1 milyar 19 milyon dolar tutarında genel amalı makineler ithal edildi.

Buna gre,

- I. İtalya ihtiyacı olan sanayi rnlerini Trkiye’den satın almıřtır.
- II. İtalya ile yapılan ticaret Trkiye’nin ekonomisinin kalkınmasında nemli bir rol oynamıřtır.
- III. Trkiye ihtiyacı olan her trl rn kendisi retmiřtir.

yorumlarından hangilerine ulařılabilir?

- A) Yalnız I B) I ve II C) II ve III D) I, II ve III

41. İnsanlar ticaret, turizm, spor müsabakaları, fuarlar gibi çeşitli faaliyetler sırasında birbirleri ile iletişim kurarlar. Bu esna-
da birbirlerinin kültürlerini tanıma fırsatı bulurlar. Turizm faaliyetlerine katılan insanlar özellikle başka kültürleri tanımaya
yoğunlaşırlar. Gezip gördükleri yerlerin tarihini, doğal güzelliklerini, yemeklerini, halk oyunlarını, kıyafetlerini vb. kültürel
değerlerini yakından tanımaya çalışırlar.

Bu bilgiler doğrultusunda aşağıdaki yargılardan hangisine ulaşılabilir?

- A) İnsanlar kendi kültürlerini başka ülkelerde kabul ettirmeye çalışırlar.
- B) Kültürel etkileşimi kolaylaştıran faaliyetlerden birisi de turizmdir.
- C) Turizm faaliyetlerinin sadece ekonomik etkileri vardır.
- D) Turizm yapmayan insanlar kültürel etkileşimde bulunamazlar.

42. “Geçmişte yüklerin kervanlarla taşındığı tarihi İpek Yolu “Demir İpek Yolu” adıyla ticareti canlandıracak. Bakü-Tiflis-Kars
Demiryolu Hattı’nın ilk treni Kazakistan’dan yola çıkarak Mersin’e ulaştı. Demir İpek Yolu, ülkemiz üzerinden Avrupa
ülkeleri ile Çin arasında ticari bağlantıyı sağlayacak. İlk seferde 30 konteynerden oluşan 600 ton buğday taşıyan tren
ile yükler güvenli bir şekilde Kazakistan’dan Mersin’e ulaştırıldı.”

Yukarıdaki gazete haberine göre aşağıdaki yorumlardan hangisine ulaşamaz?

- A) Demir İpek Yolu ticareti Türkiye’nin ekonomisine katkı sağlayacaktır.
- B) Avrupa ülkeleri ile Çin arasında ticari faaliyetler gelişecektir.
- C) Demir İpek Yolu’nda yalnızca sanayi ürünlerinin ticareti yapılacaktır.
- D) Türkiye, Avrupa ülkeleri ile Çin arasında köprü görevi görmektedir.

43. Nil: Çanakkale’den yola çıkan gezi grubu ile Mardin’e gidip oradaki taş evleri göreceğim.

Defne: Voleybol müsabakalarına katılmak için Bartın’dan Trabzon’a gideceğim. Sümela Manastırı’nı görmek istiyorum.

Efe: Bir yemek organizasyonunda görev aldım. İzmir’den Urfa’ya gideceğim. Görevim bitince Balıklıgöl’ü ziyaret ede-
ceğim.

Çağlar: Öğrenci değişim programına katıldım. Kırşehir’den Almanya’ya gideceğim. Berlin Duvarı en çok merak ettiğim
yaplardan biri.

Buna göre kişilerin sözlerinden yola çıkarak hangisinin farklı bir turizm faaliyeti yaptığı söylenebilir?

- A) Nil
- B) Defne
- C) Efe
- D) Çağlar

44.



Serdar Bey

Konya'daki bisküvi fabrikasında ürettiğimiz ürünleri Avrupa ülkelerine ihraç ediyoruz.

Mağazalarımızda satmak üzere Çin'den oyuncak ithal ediyoruz.



Meral Hanım

Meral Hanım ile Serdar Bey'in konuşmasına göre aşağıdaki yorumlardan hangisine ulaşılabilir?

- A) Serdar Bey dış satım, Meral Hanım dış alım yapmaktadır.
- B) Türkiye'nin dışarıya sattığı ürünler sadece gıda ürünleridir.
- C) Meral Hanım uluslararası, Serdar Bey ülke içinde ticaret yapmaktadır.
- D) Meral Hanım tarım sektöründe dış alım yapmaktadır.

45. Ülkemizin en işlek limanlarından birisi İzmir Limanı'dır. Avrupa ülkeleri ile yapılan ithalat ve ihracat faaliyetlerinde önemli bir rol oynamaktadır. Bulunduğu konum limandaki yüklerin ülkenin iç kesimlerine aktarılmasına elverişlidir. Ege Bölgesi'nden yapılan ihracatın büyük bölümü İzmir Limanı'ndan gerçekleşmektedir.

İzmir Limanı ile ilgili,

- I. Dış ticarete önemli bir yere sahiptir.
- II. Coğrafi konumu itibarıyla işlek bir limandır.
- III. Liman sadece Ege Bölgesi'nin ticari faaliyetlerini karşılamaktadır.

yargılarından hangilerine ulaşılabilir?

- A) Yalnız I
- B) Yalnız II
- C) I ve II
- D) II ve III

46.



Ahmet Bey

Almanya'dan satın almak istediğimiz otomobiller için yetkililerle konuştum. Teklif ettiğimiz fiyatı kabul ettiler. Anlaşmaya vardık. Otomobillerin nakliyesi yapıldı. Nakliye sırasında Genel Ağ üzerinden ürün nakliye takibini yaptık. Ürün güvenli bir şekilde elimize ulaştı.

Buna göre Ahmet Bey'in iletişim teknolojisinin ticarete sağladığı kolaylıklardan hangisini kullandığı söylenemez?

- A) Ürün takibini daha kolay yapmak.
- B) Ürünün tanıtımını yapmak.
- C) Zaman kaybını önlemek.
- D) Yüz yüze iletişim kurmadan ürünü satın almak.

47. Geçen yaz ailemle birlikte İtalya'ya düzenlenen geziye katıldık. Venedik'te gondola bindim. Müzeleri gezdik, tarihi eserleri inceledim. Pizzanın İtalya'dan tüm dünyaya yayıldığını öğrendim. Ayrıca Pierro adında bir mektup arkadaşı edindim. Pierro İtalyan dansları konusunda çok yetenekli.

Buna göre;

- I. Farklı milletlerle dostluklar kurulur.
- II. Ülke ekonomisine etkisi yoktur.
- III. Kültürel birikimimize katkıda bulunur.

yargılarından hangilerinin turizmin katkılarından olduğu söylenebilir?

- A) Yalnız I
- B) I ve II
- C) I ve III
- D) II ve III

48. Turizm yapılan bölgede ekonomik olarak bir canlılık meydana gelir. Turistlerin harcamaları ekonomiyi olumlu etkiler. Turizm sayesinde o bölgenin insanlarına iş imkânı sağlanır.

Verilen bilgide turizm faaliyetlerinin aşağıdaki sonuçlarından hangisine değinilmemiştir?

- A) Ticari faaliyetler gelişme gösterir.
- B) Ülke kalkınmasına katkıda bulunur.
- C) Üretim faaliyetleri artar.
- D) Farklı kültürler arasında etkileşim meydana gelir.

49. Bakü - Tiflis - Ceyhan boru hattı, başta Azerbaycan petrolü olmak üzere, Hazar Bölgesi'nde üretilen petrolü Gürcistan üzerinden Ceyhan'a taşımaktadır. Buradan da tankerlerle çeşitli ülkelere satılmak üzere ulaştırılmaktadır. Boru hattıyla petrol güvenli, ekonomik ve çevreye zarar vermeden taşınmaktadır. Boru hattı Türkiye'ye işletme ücreti ile vergi geliri sağlamaktadır.

Bu bilgiler doğrultusunda aşağıdaki yorumlardan hangisi yapılamaz?

- A) Azerbaycan - Gürcistan - Türkiye arasında enerji alanında işbirliği oluşmuştur.
- B) Petrolün boru hattıyla taşınması çevre açısından güvenlidir.
- C) Türkiye ile Gürcistan arasında kültürel bağlar güçlenmiştir.
- D) Petrol boru hattı ile Türkiye'nin gelirleri artmıştır.

50. Sağlık ürünleri, tıbbi malzemeler, elektronik yedek parçaları, lüks ürünler vb. hava ulaşımı ile taşınmaktadır. Bu tür ürünlerin taşınmasında hava ulaşımının tercih edilme sebebi ise yüksek hızıdır. Türkiye ile ABD, Rusya, Brezilya, Almanya vb. ülkeler arasında hava taşımacılığı yapılmaktadır.

Buna göre;

- I. Hava ulaşımı en ekonomik ulaşım türüdür.
- II. Zarar görebilecek ürünler hızlı ve güvenli bir şekilde gideceği yere ulaştırılır.
- III. Dünyanın bir ucundaki ülkelerle taşımacılık yapılabilir.

yargılarından hangilerine ulaşılabilir?

- A) Yalnız I
- B) Yalnız II
- C) I ve II
- D) II ve III

51. İletişim ve ulaşım teknolojilerinin ülkeler arasındaki ticarete katkısı aşağıda karışık olarak verilmiştir:

- I. Ürünleri hazırlayan satıcılar uygun ulaşım aracıyla araçlara gönderirler.
- II. Ürünlerin tanıtımı Genel Ağ üzerindeki sitelerden yapılır.
- III. İhtiyaçları olan ürünü e-posta, yazarak veya telefon ile konuşarak sipariş edebilir.
- IV. Alıcılar aldıkları ürünün bedeli için uluslararası bankacılık sistemini kullanarak ödeme yaparlar.
- V. İnsanlar farklı ülkelerdeki ürünler hakkında bilgiye Genel Ağ üzerinden ulaşabilirler.

Ürünün satıcıdan alıcıya olan yolculuğundaki sıralama aşağıdakilerden hangisinde doğru olarak verilmiştir?

- A) II - V - III - I - IV
- B) III - II - I - V - IV
- C) II - IV - III - I - V
- D) IV - V - I - III - II

52.

Ben Amelie. Tatilimi Türkiye’de geçirmek için Fransa’dan geldim. Başta Türkiye’ye gelme fikri bana uzak gelmişti. Ama gelip görünce ne kadar yanlış düşündüğümü anladım. Sonbaharda İstanbul muhteşem... Pier Loti Tepesi’ni çok beğendim. Sultan Ahmet ve Ayasofya’yı da... Burada yeni dostluklar kurdum. Türk insanının misafirperverliğine hayran oldum. Geleneksel Türk giysilerini, halk oyunlarını tanıdım. Fransa’ya döndüğümde arkadaşlarıma da İstanbul’a gelmelerini tavsiye edeceğim.



Buna göre turizmin katkıları ile ilgili aşağıdaki yorumlardan hangisine ulaşamaz?

- A) Farklı kültürlerin birbirini tanımasıyla ön yargılar ortadan kalkar.
- B) Ülkelerin tanıtılmasında önemli rol oynar.
- C) Dünyada barış ve huzur sağlanır.
- D) Ülkeler arasında rekabet artar.

53. Aşağıdaki görselde bazı ülkelerden turistik yerler verilmiştir:



Buna göre aşağıdakilerden hangisi turizm faaliyetlerini etkileyen faktörler arasında gösterilemez?

- A) İklim Şartları
- B) Tarihi Eserler
- C) Sosyal Etkinlikler
- D) Coğrafi Konum

54.



Geçmiş yıllarda ayakkabıcılık elle tezgâhlarda yapılırdı. Hakiki deriden kösele tabanlı ayakkabılar üretirdik. Günümüzde ise fabrikasyon ürünler ayakkabıcılıkta el işçiliğinin sonunu getirdi. O zamanlar sadece ülke içinde talebi karşılayabiliyorduk. Günümüzde ise dünya ülkeleri Türk ayakkabısını tercih ediyor. Bu da ihracat için ayakkabı üretiminin artması anlamına geliyor.

Buna göre aşağıdaki yorumlardan hangisine ulaşamaz?

- A) İhracatın yapılabilmesi için üretim artmalıdır.
- B) Türkiye başka ülkelere ayakkabı satın almaktadır.
- C) Geleneksel ayakkabıcılık fabrikadaki üretim karşısında tutunamamıştır.
- D) Dünya pazarında Türk ayakkabısının önemli bir yeri bulunmaktadır.

55. Dinlenmek, gezmek, herhangi bir yeri görmek amacıyla yapılan gezilere turizm denir. Turizm faaliyeti gerçekleşirken turistlerin yaptıkları harcamalar ekonomiyi olumlu etkiler. Yabancı turistlerden elde edilen döviz gelirleri ülke ekonomisinin kalkınmasında önemli bir kaynaktır. Bu nedenle turizme adı verilir.

Bu bilgiler dayanarak metinde boş bırakılan yere aşağıdakilerden hangisi gelmelidir?

- A) Dünya Barışı
- B) Bacasız Sanayi
- C) Farklı Kültürler
- D) Ön Yargı

56. Antalya'nın Kaş ilçesinde bulunan Patara Antik Kenti Likya Birliği'nin başkentiydi. 2020 yılının 'Patara Yılı' ilan edilmesi ve Kültür Bakanlığının tanıtıcı faaliyetleri sayesinde 2020 yılında Antalya'nın en çok turist çeken ve en çok gelir getiren ören yeri Patara Antik Kenti oldu.

Yukarıdaki habere göre aşağıdakilerden hangisi turistlerin Patara Antik Kenti'ni ziyaret etmelerinin nedeni olarak gösterilemez?

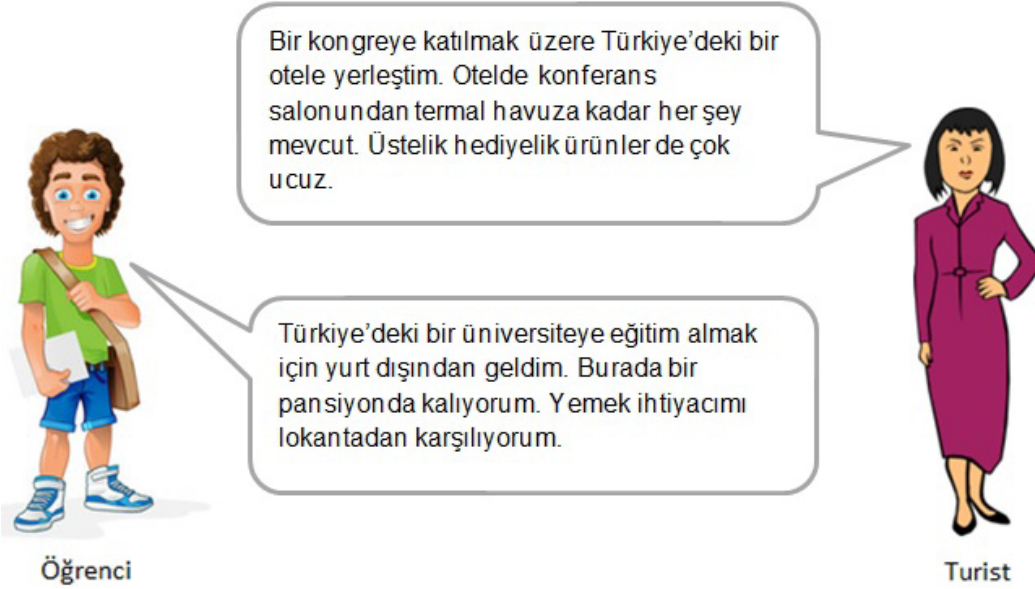
- A) Tarihte bir medeniyete başkentlik yapması.
- B) Turistlerin dikkatini çeken tanıtımının yapılması.
- C) Turistlerin yıl içinde en fazla geliri buraya bırakması.
- D) Devlet kurumlarının turizm faaliyetlerini desteklemesi.

57. Geçmişten günümüze kadar olan süreçte farklı toplumlar maddi ve manevi değerler ortaya çıkarmıştır. Bir toplumun ürettiği ürün karşılıklı etkileşim sonucunda diğer toplumlar tarafından da kullanılmıştır. Böylece ürünler farklı toplumlar tarafından geliştirilmiştir ve günümüze ulaştırılmıştır.

Bu bilgiler doğrultusunda ortak mirasla ilgili aşağıdaki yargılardan hangisine ulaşamaz?

- A) Evrensel olma özelliğine sahiptir.
- B) Ürün, icat eden toplumun malıdır.
- C) Ürünler gelecek nesillere aktarılmıştır.
- D) Maddi ve manevi değerler bütünüdür.

58.



Bu söylenenlerden yola çıkarak aşağıdaki yorumlardan hangisine ulaşamaz?

- A) Eğitim turizmi esnafın gelirini artırmaktadır.
- B) Ülkemiz kongre turizmi için uygun tesislere sahiptir.
- C) Turistler harcadıkları dövizle ülke ekonomisinin kalkınmasına katkıda bulunur.
- D) Eğitim ve kongre turizminin kültürel etkileşime etkisi yoktur.

59. Kaz Dağları Milli Parkı, bol oksijene sahip ormanlara, dinlenme ve piknik alanlarına sahiptir. Çanakkale ile Balıkesir illerinin ortak güzelliklerinden biridir Kaz Dağları. Özellikle sonbahar aylarında rengârenk ağaçlar arasında yürüyüş yapmanın tadı bir başkadır. Kaplıcaları ile termal turizmin gözdesi olan Kaz Dağları yerli ve yabancı turistlerin akın ettiği bir yerdir.

Buna göre,

- I. doğal yapıya uygun konaklama tesislerinin yapılması,
- II. doğal güzelliklerin korunması,
- III. sağlık turizmi ile ilgili tanıtıcı broşürlerin hazırlanması

durumlarından hangileri Kaz Dağları'nın turistik değerini artırmaktadır?

- A) Yalnız I B) I ve II C) II ve III D) I, II ve III

60. Aşağıdaki tabloda ortak miras ürünlerinden bazıları verilmiştir:



Ani Harabeleri Kars ilimizde bulunmaktadır.



Çanakkale Boğazı dünya üzerindeki nadir boğazlardan biridir.



Erzurum şehrinin sembolü Çifte Minareli Medrese'dir.



Çanakkale'de bulunan Asos Antik Kenti'nin tarihçesi M.Ö. 6.yy'a kadar uzanır.

Buna göre hangi ortak miras ürününün diğerlerinden farklı olduğu söylenebilir?

- A) Ani Harabeleri
B) Çanakkale Boğazı
C) Çifte Minareli Medrese
D) Asos Antik Kenti

61. İngiliz turistler tatillerini geçirmek için Muğla'yı tercih ediyorlar. Şehre gelen turistler arasında İngilizler 1. sırada yer alıyor. Şehrin doğal güzellikleri ile turistik tesisleri İngiliz turistleri cezbediyor. Muğla'ya hayran kalan İngilizler daha sonra buraya yerleşme kararı alıyorlar.

Yukarıda yer alan habere göre aşağıdaki yargılardan hangisine ulaşamaz?

- A) Turistler gezip gördükleri yerlere yerleşmek için giderler.
B) Turistik tesisler turizm bölgelerinin vazgeçilmez unsurlarıdır.
C) Bir yerin doğal güzellikleri o yerdeki turizm faaliyetlerini olumlu etkiler.
D) Muğla şehri ülkemizin önemli turizm merkezlerinden biridir.

62.



Turist



Turist Rehberi

Bugün Çanakkale'nin dünyaya sesini duyurmuş bir mekânındayız: Şehitler Abidesi. Abidenin tarihçesinden bahsedeceğim. Şu an saatlerimiz 10.00'u gösteriyor. Bir saat zamanımız var. Son on beş dakikada fotoğraf çekme işini halledin lütfen. Saat 11.00'de otobüs hareket edecek.

Buna göre turist rehberleri,

- I. kültürel değerlerimizin tanıtılması,
II. tarihi mekanlarımızın doğru bir şekilde anlatılması,
III. gezi ve seyahat faaliyetlerinin planlı bir şekilde gerçekleştirilmesi

durumlarından hangilerine katkı sağlamaktadır?

- A) Yalnız I B) I ve II C) II ve III D) I, II ve III

63. Ülkemizde üretilen ürünlerden ihtiyacımızdan fazla olanları başka ülkelere satarız. Ülkemizde üretilmeyen veya talebi karşılayamayan ürünleri de başka ülkelerden satın alırız.

Buna göre,

- I. ülkemizde bor madeninin fazla çıkarılması,
- II. ülkemizin doğal gaz ihtiyacını karşılayamaması,
- III. aşı, ilaç gibi sağlık ürünlerine ihtiyacımızın olması

durumlarından hangilerinin ithalat yapmamıza neden olduğu söylenebilir?

- A) Yalnız I B) I ve II C) II ve III D) I, II ve III

64. UNESCO Dünya Kültür Mirası Listesi'nde yer alan Xanthos Antik Kenti Antalya'nın Kaş ilçesinde bulunmaktadır. Antik dönemde var olan Likya Birliği'nin 6 önemli kentinden biridir. Xanthos Antik Kenti'ni 2020 yılının 11 ayında 25 bin 205 kişi ziyaret etti, karşılığında 202 bin 292 TL gelir sağlandı.

Buna göre Xanthos Antik Kenti'nin,

- I. tüm dünyaca kabul görmüş tarihi bir değere sahip olması,
- II. ülkemizin turizm gelirlerine büyük katkı sağlaması,
- III. Kaş ve çevresinin ekonomisinin gelişmesinde önemli rolü olması

durumlarından hangilerinin kültürel özelliğine ait olduğu söylenebilir?

- A) Yalnız I B) Yalnız II C) I ve II D) I, II ve III

65.



Ozan

Sinemalara konu olan ünlü savaşın geçtiği tarihi mekân 9 katmandan oluşmaktadır. 3000 yıldan fazla bir zamanı kapsayan katmanların en erken yerleşim katı erken Bronz Çağı'na aittir. Anadolu, Ege ve Balkanların kesiştiği noktada bulunan tarihi mekân buraya yerleşen uygarlıkların izlerini taşımaktadır. Amfi tiyatro, agora, hamam gibi kalıntılar günümüze kadar ulaşmıştır.

Ozan'ın okuduğu kitapta özellikleri verilen tarihi mekân aşağıdakilerden hangisidir?

- A) Ani Harabeleri B) Efes Antik Kenti C) Sümela Manastırı D) Truva Antik Kenti

66. Aşağıdaki kişilerden hangisi ortak mirasa farklı bir alanda katkıda bulunmuştur?

A)



Marie Curie

B)



Mevlâna Celâleddin
Muhammed Rumî

C)



Louis Pasteur

D)



Gazi Yaşargil

67. Sedef'in en büyük merakı seyahat ettiği yerlerden kartpostal alıp panosuna asmaktır. Sedef'in panosu şöyledir:



Bu panoya bakarak aşağıdaki yorumlardan hangisine ulaşamaz?

- A) Asya ve Avrupa'daki ülkelerde turistik geziler yapmıştır.
- B) Başka ülkelerdeki ortak miras eserlerinin kartpostallarını almıştır.
- C) Farklı ulusların katkılarıyla oluşan bilim mirası ürünlerini görmüştür.
- D) Dünyanın farklı yerlerinden gelen turistlerin ilgi gösterdiği yerleri ziyaret etmiştir.

68. Aşağıdaki ortak miras ürünlerinden hangisi ülkemizde bulunmaktadır?

A)



Eyfel Kulesi

B)



Ayasofya Camii

C)



Kolezyum

D)



Maya Piramitleri

69. Türkiye'nin iklim şartları pek çok ürünün yetişmesine elverişlidir. Ancak bazı ürünler yüksek sıcaklık isteyen tropikal iklimde yetişebilir. Türkiye'de yetişmeyen tropikal ürünler başka ülkelerden ithal edilir.


Buna göre aşağıdaki ürünlerden hangisi ithal edilen ürünler arasında gösterilemez?

A)




Kahve

B)



Çilek

C)



Hindistan Cevizi

D)



Ananas

70. A ülkesi başka ülkelere ham demir satarak gelir elde etmektedir. İşlenmiş ürünleri yurt dışından ithal etmektedir. B ülkesi ise demiri fabrikalarında işleyerek ihraç etmektedir. Ham demiri yurt dışından satın almaktadır.

Buna göre,

- I. A ülkesinin ihracat gelirleri B ülkesinden daha fazladır.
- II. B ülkesi A ülkesinden daha gelişmiştir.
- III. B ülkesinin ihracattan elde ettiği gelir A ülkesinden fazladır.

yargılarından hangilerine ulaşılabilir?

A) Yalnız I

B) I ve II

C) II ve III

D) I, II ve III

71. Avustralyalı ve Yeni Zellandalılardan oluşan Anzak birlikleri Çanakkale Cephesi'ndeki savařlara katıldılar. Anzaklar 25 Nisan 1915'te Gelibolu'ya çıktılar. Bu nedenle her 25 Nisan'da Avustralya ve Yeni Zellanda'dan Çanakkale'ye gelen turistler Anzak Günü'nü anmaktadır. Çanakkale'deki otellerde konaklayan turistler önemli bir miktar dövizini şehre bırakmaktadır.

Bu bilgiler doğrultusunda Anzak Günü ile ilgili aşağıdaki yargılardan hangisine ulaşamaz?

- A) Şehrin ekonomisini olumlu yönde etkiler.
- B) Çanakkale ilinin tanıtımına katkı sağlar.
- C) Ülkeler arasında barış ortamını güçlendirir.
- D) Kùltürler arasında çatışma yaşanmasına ortam hazırlar.

CEVAP ANAHTARI

1. İhracat: Fındık, Tekstil Ürünleri, Bal, Et Ürünleri, Halı ve Kilim.

İthalat: Petrol, Tıbbi Ürünler, Elektronik Cihazlar.

2.

ULAŞIM ARAÇLARI	En Hızlı	En Ekonomik	En Çok Kullanılan	En Fazla Taşıma Potansiyeline Sahip Olan
Kara yolu			X	
Demir yolu		X		
Hava yolu	X			
Deniz yolu				X

3. Kara Yolu: Otobüs, Minibüs; Demir Yolu: Tren, Tramvay; Hava Yolu: Uçak, Helikopter; Deniz Yolu: Gemi, Feribot

4. A.Sanat, B. Bilim, C. Edebiyat, D. Düşünce alanında verilen eserlerdir.


5. Pamukkale - Denizli olacak.

6.

Ortak Miras Eserleri	Sanat Alanı	Edebiyat Alanı	Düşünce Alanı	Bilim Alanı
a. Reşat Nuri Güntekin'in Çalıkuşu Romanı		X		
b. Mevlana'nın "Gel, ne olursan ol yine gel." sözü.			X	
c. Çanakkale Şehitler Abidesi	X			
d. Ünlü matematikçimiz Cahit Arf'in bulduğu "Arf Teoremi"				X
e. Selimiye Cami ve Külliyesi	X			

7. Deve kervanı ile uçak görsellerinin altındaki bilgiler yer değiştirmelidir.











8.



CEVAP ANAHTARI

9. 1.D, 2.Y, 3.Y, 4.D, 5.Y
10. Mona Lisa sanat alanında, diğerleri edebiyat alanında ortak mirasa örnektir.
11. 1. Hollanda, 2. Fransa, 3. İspanya, 4. Çin.
12. Gazete, Tren, Genel Ağ, Tır doğru olarak eşleştirilmiştir.
13. Sosyal: II, Kültürel: III, Ekonomik: I ve IV.
14. Sanat-C, Bilim-D, Düşünce-A, Edebiyat-B.
15. Kapadokya ile Tac Mahal.
16. Truva Atı: İlyada ve Odessa destanlarında bahsedilmiştir. O zamandan kalmış tabak, vazo gibi eserlerin üzerinde resimleri mevcuttur.
17. Mısır Piramitleri, Sidney Opera Binası, Roma Collasium dış turizm; Konya Mevlana Müzesi, Nevşehir Kapadokya iç turizm.
18. 3. Çıkış.
19. 1- Dış Ticaret, 2- İç Ticaret, 3- Döviz, 4- Uçak, 5-Fındık, 6- Doğal Gaz, 7- Fuar, 8- Ulaşım, 9- İletişim, 10- Gemi.
20. 1-D, 2-Y, 3-D, 4-D, 5-Y, 6-Y, 7-Y, 8-Y, 9-D, 10-D.
21. Ülkemizdeki ortak miras eserlerini görmek için gelen turistler konaklamak, yeme-içme gibi ihtiyaçlarını karşılamak için döviz bırakırlar. Geldikleri şehrin ekonomisini kalkındırırlar. Ülkemizin tanıtımını yaparlar.
22. 1-a, 2-e, 3-c, 4-b, 5-d.

23.

Ortak Miras Eserleri		Kültürel Miras	Hem Doğal Hem Kültürel Miras
	Bergama Antik Kenti		
	Göreme Milli Parkı		
	Safranbolu Şehri		
	Diyarbakır Surları		
	Pamukkale, Hierapolis Antik Kenti		

24. 1- turist, 2- turistik tesisler, 3- ulaşım araçları, 4- etkileşim, 5- turizm elçisi.
25. Truva Antik Kenti, Efes, Göbeklitepe, Pamukkale, Kapadokya.

CEVAP ANAHTARI

26. B

27. C

28. B

29. D

30. C

31. C

32. B

33. D

34. C

35. A

36. D

37. D

38. C

39. A

40. B

41. B

42. C

43. D

44. A

45. C

46. B

47. C

48. D

49. C

50. D

51. A

52. D

53. D

54. B

55. B

56. C

57. B

58. D

59. D

60. B

61. A

62. D

63. C

64. A

65. D

66. B

67. C

68. B

69. B

70. C

71. D



meb.gov.tr