

5.SINIF 7. ÜNİTE ÇALIŞMA FASİKÜLÜ

SOSYAL BİLGİLER

Bu kitapçık RİZE Ölçme Değerlendirme Merkezi
tarafından hazırlanmıştır.



1. Türk Meyveleri Dünya Sofralarını Süsleyecek

Ülkemizin ürettiği sebze ve meyvelerin dünya pazarında daha fazla yer bulabilmesi için gıda ihracatçıları çağrıda bulunuyor. İhracatta var olabilmenin müşteriye ulaşma süresini kısaltmaktan geçtiğini belirten Ege Yaş Meyve Sebze İhracatçıları Birliği Başkanı, özellikle yaş meyve sebze sektörü gibi raf ömrü kısa olan ürünlerde bunun hayati olduğuna işaret etti.



Yukarıda verilen habere göre yaş sebze ve meyvelerin dünya pazarına taşınması için ulaşımda kullanılan hangi yolu tercih edersiniz? Nedeniyle birlikte yazınız.

Karayolunu kullanırdım

çünkü.....
.....
.....
.....

Deniz yolunu kullanırdım

çünkü.....
.....
.....
.....

Hava yolunu kullanırdım

çünkü.....
.....
.....
.....

Demiryolunu kullanırdım

çünkü.....
.....
.....
.....

2.

İthalat

İnternet

Hava yolu

İhtiyaç

UNESCO

Turizm

İhracat

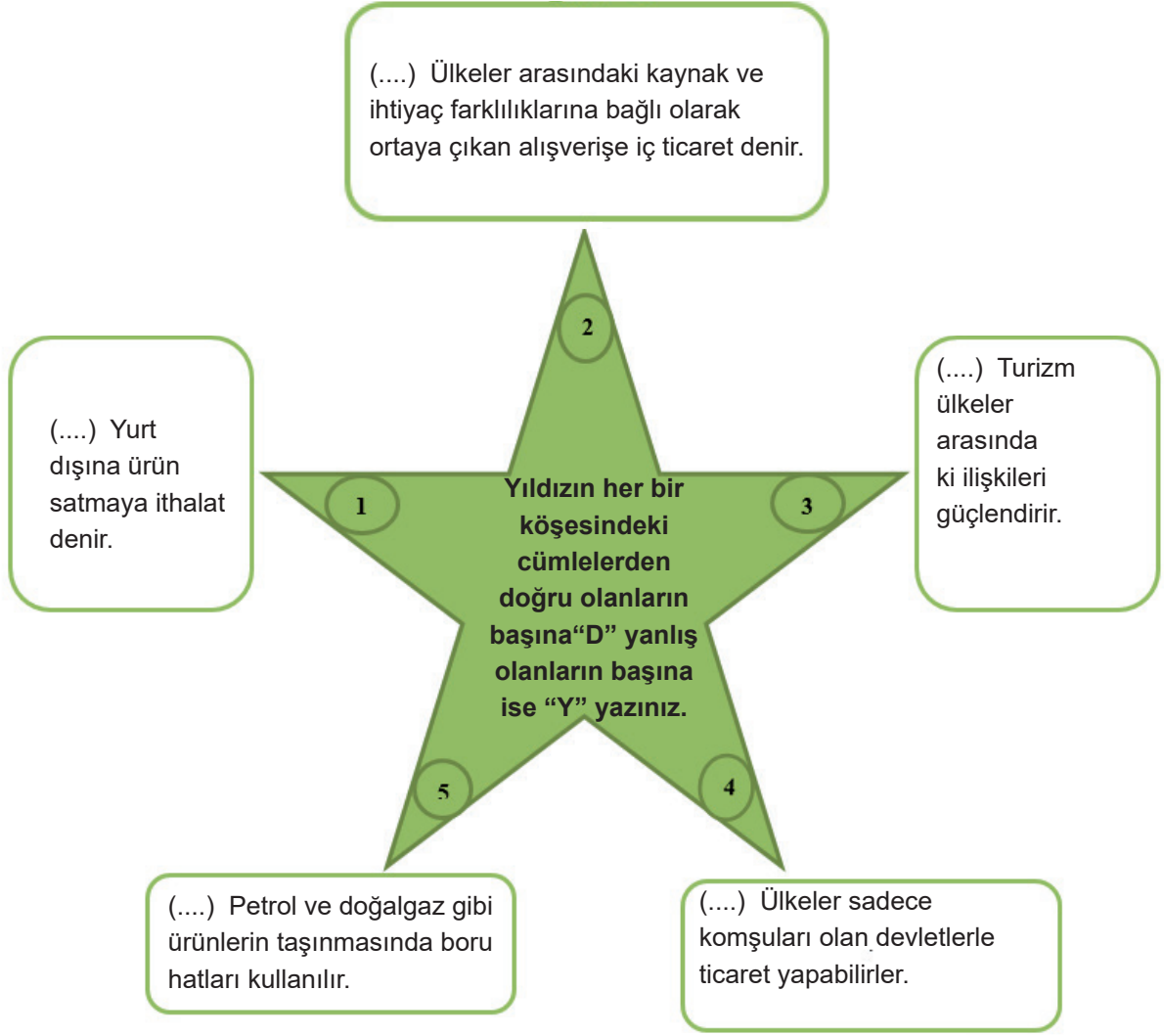
Ortak miras

Aşağıdaki tabloda verilen cümlelerde boş bırakılan yerleri verilen ifadelerden uygun olanlar ile tamamlayınız. Açıkta kalan ifadeleri ise aşağıdaki boşluğa yerleştiriniz.


1dünyadaki ortak miras eserlerini korumayı amaçlayan uluslararası kuruluşlardan biridir.
2	Bir ülkenin ürettiği ürünleri yabancı ülkelere satmasına.....denir.
3	İnsanların eğlenmek, dinlenmek, yeni yerler görmek ve tanımak amacıyla yaptıkları gezilere.....denir.
4	Kolay bozulan ürünler uzak yerlere götürülecekse.....tercih edilmelidir.
5	Geçmişten günümüze kadar tüm insanların, toplumların oluşturduğu maddi ve manevi değerlere.....denir.
6	Bir ülkenin ihtiyaç duyduğu ürünleri başka ülkelerden almasına.....denir.

Açıkta kalan ifadeler: ve

3.

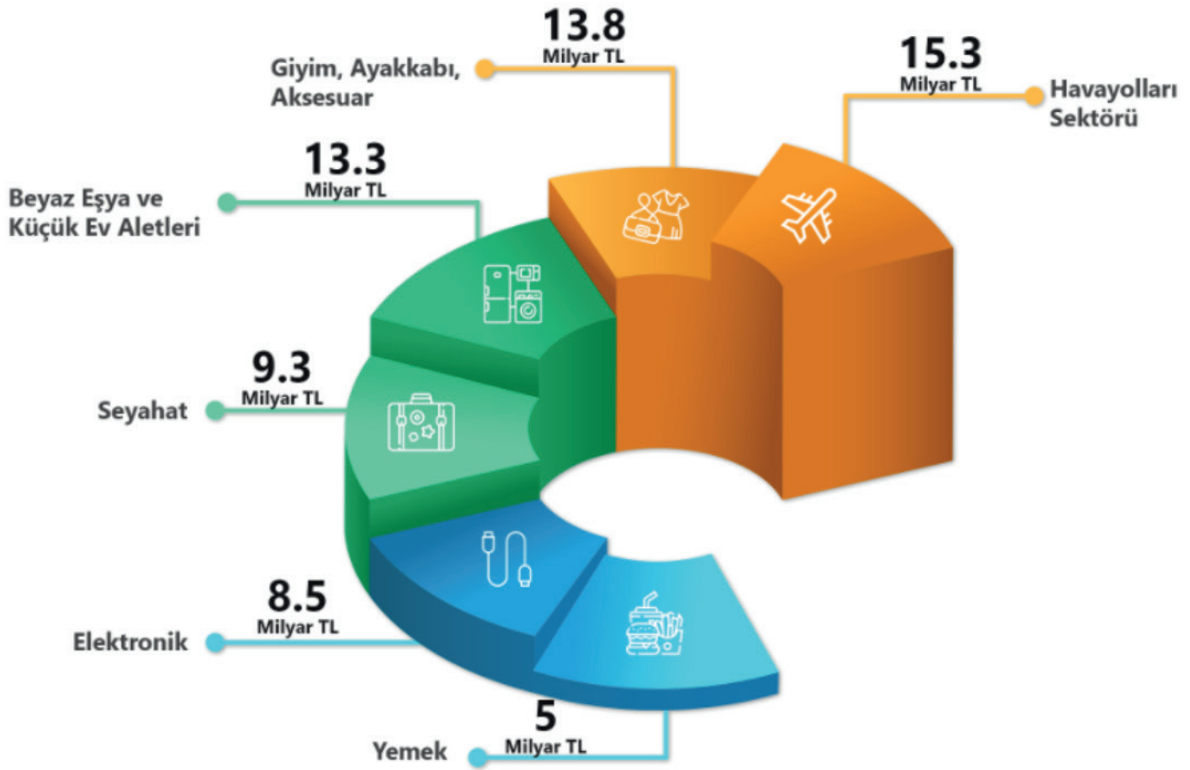


4. Verilen ifadeleri kullanarak cümlelerdeki boş bırakılan yerleri doldurunuz.



1. Tüm insanlığın ortak katkısıyla oluşup gelecek kuşaklara emanet bırakılan eserlere.....denir.
2. II.Mehmet zamanında İstanbul'a gelip Ayasofya Medresesinde müderrislik yapan ünlü astronom ve matematikçi'dur.
3. Kanuni Sultan Süleyman döneminde Bosna Hersek'te yapılmış olan2005 yılında UNESCO Dünya Kültür Miras listesine alınmıştır.
4. Mehmet Akif ERSOY'un tüm şiirlerinin toplandığı edebi eser'tır.
5. Suç ve Ceza, Sefiller romanlarının yazarı.....'dur.

5. E-Ticaret Hacminin Sektöre Göre Dağılımı




Şekildeki grafikte 2020 yılında ülkemizdeki e-ticaret hacminin bazı sektörlerle göre dağılımı verilmiştir.

Aşağıda e-ticaret hacminin sektörlerle göre dağılımıyla ilgili bilgiler verilmiştir. Verilen grafikten yola çıkarak; ulaşabildiğimiz bilgileri yeşile, ulaşamadığımız bilgileri ise kırmızı rene boyayalım.

Ulaşabilirim	Bilgiler	Ulaşamam
	E-ticaret yoluyla beyaz eşya ve küçük ev aletleri satışı yapılmıştır.	
	Verilen sektörler içinde en fazla e-ticaret geliri havayolu sektöründe olmuştur.	
	Elektronik sektörü içinde en fazla satışı yapılan cep telefonu ve tabletlerdir.	
	En az satış yemek sektöründe gerçekleşmiştir.	
	Seyahat sektöründeki satışların çoğu otobüs bileti olmuştur.	
	E-ticaret yoluyla en çok satış yapılan 2. Sektör giyim, ayakkabı ve aksesuar sektörüdür.	
	Ülkemizde e-ticaret satışları her yıl artmaktadır.	

6. Aşağıda verilen insanlığın ortak mirası ile ilgili bulmacayı çözelim.



- 1- Oğuz Türklerinin bilinen en eski destansı hikayesi.
- 2- Günümüzde tıbbın babası olarak anılan İyonyalı hekim.
- 3- Klasik Osmanlı mimarisinin en nadide eserleri arasında yer alan Mostar Köprüsünün bulunduğu ülke.
- 4- Kaplumbağa Terbiyecisi adlı tabloyu yapan ressam.
- 5- ABD Ulusal Bilimler Akademisi'ne seçilen ilk Türk olarak tanınır.
- 6- Şanlıurfa sınırları içinde yer alan arkeolojik alanın adı.
- 7- Nemrut dağı açık hava müzesinin bulunduğu ilimiz.
- 8- Edirne'de bulunan ve Mimar Sinan tarafından yapılan cami.

7. Aşağıda verilenlerin hangi ortak miras alanına ait olduğunu karşlarına “X” işareti koyarak belirtiniz.

Ortak Miras Öğeleri	Edebiyat	Bilim	Düşünce	Sanat
Modern Batı edebiyatının önemli kurgu romanlarından olan Donkişot.				
Harvard (Harvird) Üniversitesinin Genç Akademi üyeliğine seçilen Fizik Mühendisi Canan DAĞDEVİREN.				
Ünü çağları aşp günümüze kadar gelen felsefeci Sokrates.				
Günümüzde tıbbın babası olarak anılan İyonyalı hekim olan Hipokrat.				
Klasik müziğin en önemli isimlerinden biri olan Beethoven’un besteleri.				
Ünlü Türk ressamı Osman Hamdi Bey’in yaptığı Kaplumbağa Terbiyecisi adlı tablo.				
Oğuz Türklerinin bilinen en eski destansı hikâyeleri olan Dede Korkut Hikâyeleri.				

8. Aşağıdaki cümlelerde boş bırakılan yerlere uygun ifadeleri yazınız.



1 - Side Antik kenti ilimizdedir.

2 - Dinlenme, eğlenme, görme, tanıma vb. amaçlarla yapılan gezilere denir.

3 - Yaşadığımız toprakların farklı uygarlık ve devletlere ev sahipliği yapmış olması kaynakların çeşitliliğini artırmıştır.

4 - Erzurum ilimizde bulunan önemli tarihi turistik alanlarımızdan biridir.

5 - Antalya ilimizde bulunan turistlerin gezmeye gittiği doğal güzelliklerimizden biridir.

O S Y Y B Ö V S O G Ç Ç P B M Ü Z M N G Z F S Y
 O E Ü D E D E K O R K U T H İ K A Y E L E R İ Ö
 G F Y Ü T T Z G Ö K G M İ N İ N T E R N E T M Ü
 Y İ S T İ A Ç K K F C C R İ Ç T U R İ Z M D B Ş
 S L Y Y C R O U V P N F K E U D L L İ M İ İ S N
 Ö L S H A I I L G Ç H Ü İ V S K L O U C B G U Ş
 F E Z Ç R M M K K Ç T U H O N A P S R Z Ş U K Y
 Ö R Ç E E I H D S O U G R Z M R C T T D K Ö Ü H
 I İ Y T T O Z I N M Ç L A R E A V U M P T G Ç N
 T P T İ P K Ü E F L R D C R Ç Y U M Ü D Ç Z B Ç
 A Z Z C D D E O I F Ş E A A D O M H B M Ü C L R
 D Ç Z A C Ö B V M F I M T L D L C A P L Ö P Ç Ç
 Z U C R K Ö Ö L Z C H İ G Ç Y U P V F V M Ş Y Ö
 G Ö B E K L İ T E P E R N F S A N A Y İ İ N U G
 S O A T İ N Y E R O I Y H Ç Ç U Y Y H D T Z G A
 B Ç İ N S E D D İ F H O R Ö O E T O C E H Z M Ş
 C D F V P H L İ P C I L T K P S İ L B N A M P U
 C V M Ş Ü M D D İ Ş T U R İ Z M Ş U F İ L O R İ
 E M B Ş Y O Ç T V K M Ö B T U R İ Z M Z A O U L
 H U T E Ş C U D P Ç O O B Ş L S Ş L E Y T E Ç H
 K N Y Ü F D Ş Z I A V L Ş V C A L R R O H Z Ç R
 O V S V İ Ç G Y Ö O R T A K M İ R A S L S P T Z
 U H Ç Ç U H M E O Y Ü B H G L A H G F U H B A I
 N M O S T A R K Ö P R Ü S Ü D S Ç L S C Y B İ N

Aşağıdaki kavramlar bulmacada yatay ve dikey olarak verilmiştir.

Bu kavramları bulmaya çalışalım. Bulduğumuz kavramın üzerini çizelim.

ÇİNSEDİ

GÖBEKLİTEPE

SANAYİ

DENİZYOLU

ETİCARET

DIŞTURİZM

SEFİLLER

TURİZM

HAVAYOLU

İTHALAT

İÇTURİZM

MOSTARKÖPRÜSÜ

TARIM

KARAYOLU

DEDEKORKUTHİKÂYELERİ

TİCARET

ORTAKMİRAS

İNTERNET

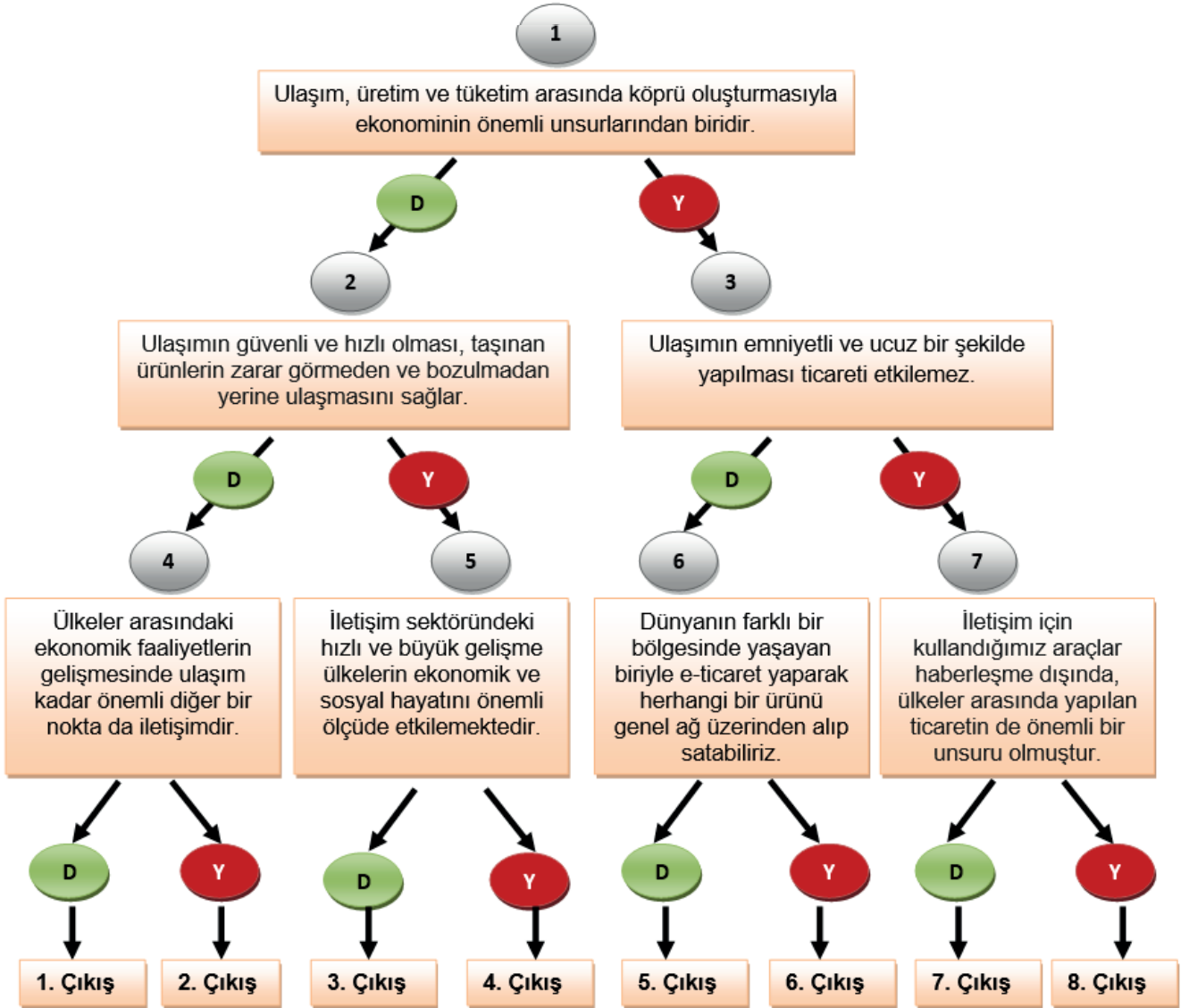
DEMİRYOLU

İHRACAT

10. Aşağıdaki tabloda verilen şehirlerin ülke ekonomisine hangi alanda katkı yaptığını örnekte görüldüğü gibi ilgili olduğu alandaki kısma yazınız.

Şehir	Ülke Ekonomisine Katkısı	İlgili Olduğu Alan
Malatya	2018 yılı TÜİK verilerine göre ülkemiz kayısı üretiminin %54'ü Malatya'da gerçekleşmiştir. Malatya'da üretilen kaysının büyük bir bölümü ihraç edilmektedir.	Tarım
Batman	Çıkarılan petrol sayesinde şehir kısa sürede büyümüştür. Şehirde açılan petrol kuyuları sayesinde ülkemizin ihtiyaç duyduğu petrolün bir kısmı karşılanmaktadır.	
Antalya	Yaz mevsiminde ülke içinden ve dışından birçok ziyaretçi bu şehre gelir. Oteller neredeyse tamamen dolar. Burada bulunan esnaf gelen ziyaretçilere değişik ürünler satar.	
Rize	Ülkemizde üretilen çayın çok büyük bir kısmı bu şehirde üretilmektedir.	
Erzurum	Et ve süt üretimi oldukça yüksek olan Erzurum, ülkemizin ihtiyaç duyduğu süt ve et ürünlerinin üretiminin yoğun olarak yapıldığı yerlerdendir.	

11. Aşağıdaki dallanmış ağaç etkinliğinde yer alan ifade doğru ise “D”, yanlış ise “Y” yönünde ilerleyiniz. Etkinliğin sonundaki soruları cevaplayınız.



1. Etkinlikte kaçınıcı çıkışa ulaşılır?

2. Etkinlikte doğru ve yanlış olan ifadelerin numaralarını kutulara yazınız.

Doğru İfadeler

Yanlış İfadeler

12. Ülkemizden Almanya'ya yaş sebze ve meyve ihracatı yapılacaktır. Bu ticarete kullanılması gereken ulaşım araçlarıyla ilgili olarak ortaya atılan fikirler aşağıda verilmiştir.

Ali: Gemiler kullanılmalıdır. Çünkü gemiler suyun kaldırma kuvvetine göre çalışırlar ve bu nedenle çok fazla yük taşıyabilirler. Eğer gemi kullanırsak daha fazla meyve ve sebze taşıyırız ve daha çok para kazanırız.

Duygu: Tırlar ve kamyonlar kullanılmalıdır. Çünkü ülkemizde bu araçları kullanabilen çok sayıda insan vardır.

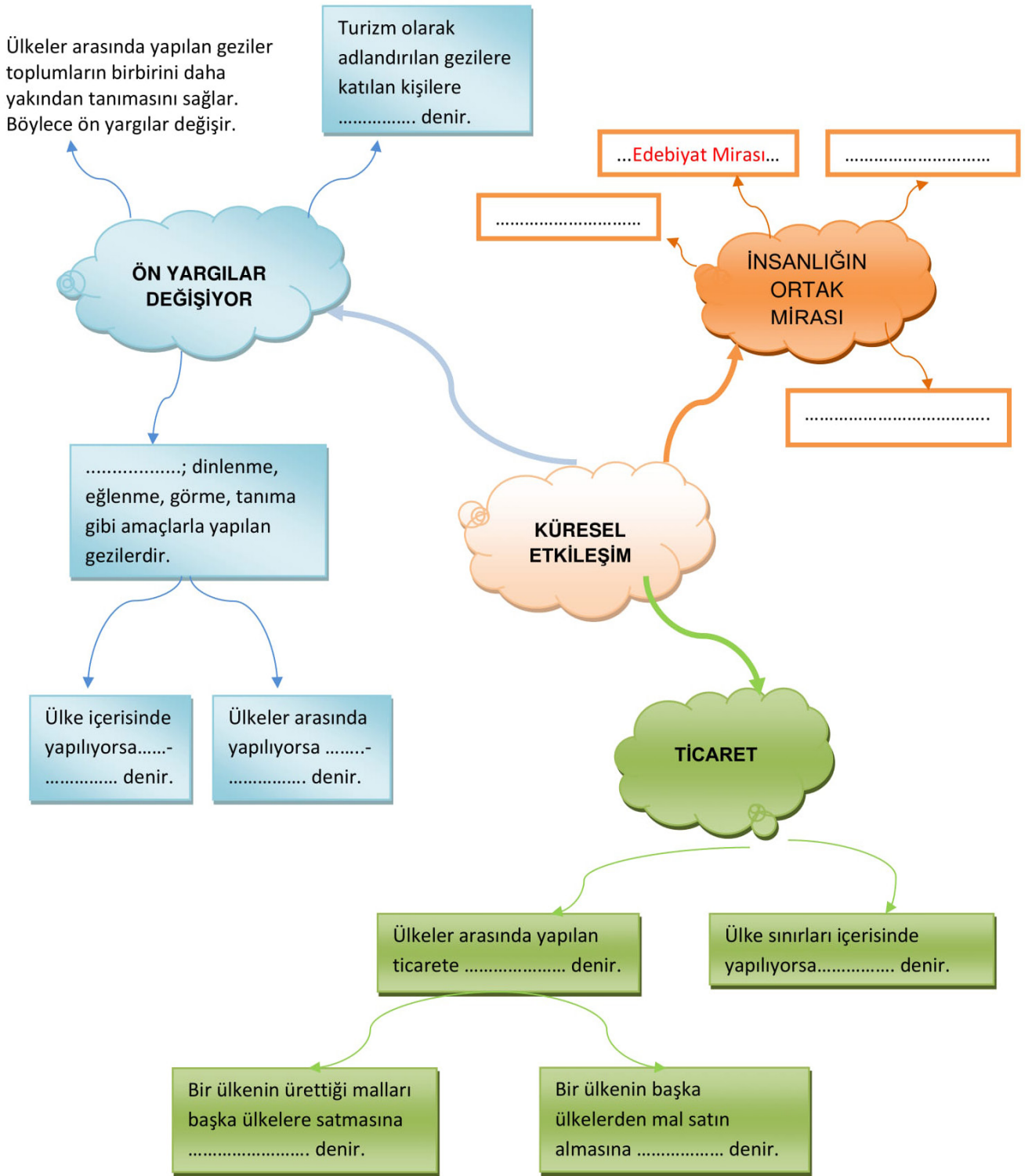
Bilge: Uçak kullanılmalıdır. Çünkü yaş sebze ve meyveler kolay bozulur. Bu ürünlerin bir an önce tüketim yerlerine ulaşması gerekmektedir. Uçak hızlı bir araç olduğundan bu ürünleri bozulmadan istediğimiz yere ulaştırabiliriz.

Duru: Tren kullanılmalıdır. Çünkü ülkemizden Almanya'ya kadar demir yolu ağı bulunur. Bu nedenle sebze ve meyveler rahatlıkla taşınır.

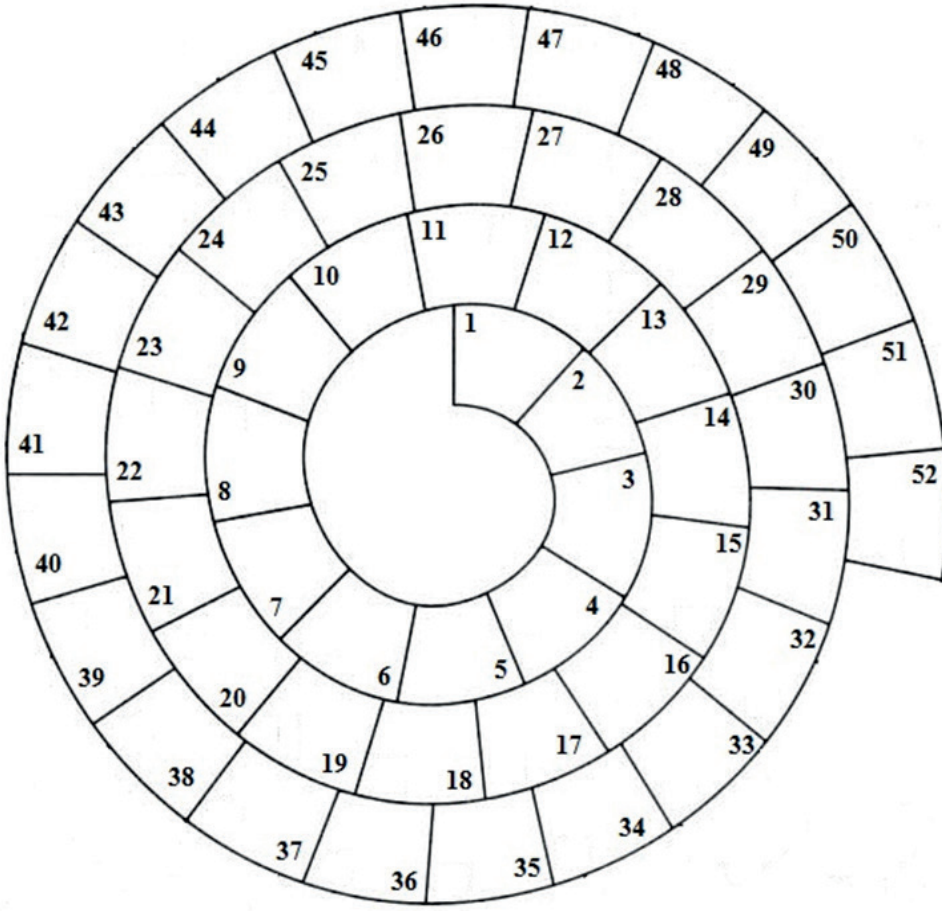
Bu öğrencilerden hangisinin fikrine katılıyorsunuz? Bu fikri seçmenizin sebebini aşağıdaki tabloya yazınız.

Fikrine katıldığınız öğrenci hangisidir?	Bu fikri seçmenizin sebebi nedir?

13. Aşağıdaki zihin haritasında boş bırakılan yerleri dolduralım.



14. Aşağıda verilen soruların cevaplarını spiral bulmacaya içten dışa doğru yazınız.



- 1- Lokomotiflerin çektiği vagonların taşınması şeklinde olan ulaşım sistemi (1 - 9)
- 2- Köyler, kentler, ülkeler arasında ya da yerleşim yerleri içinde bir yerden bir yere gidişgeliş (10 - 15)
- 3- Son yıllarda teknolojinin gelişmesiyle en sık şekilde kullanmaya başladığımız ticaret türü (16 - 23)
- 4- Bilgisayar ağlarının birbirine bağlanması sonucu ortaya çıkan, herhangi bir sınırlaması ve yöneticisi olmayan uluslararası bilgi iletişim ağı (24 - 30)
- 5- Daha ucuz ve daha fazla yük taşımayı sağlayan ulaşım yolu (31 - 35)
- 6- Ülkemizin yeryüzü şekillerinin dağlık olmasından dolayı iç ticarete en sık kullandığımız ulaşım yolu (36 - 43)
- 7- Deniz yolu ulaşımında kullanılan taşıma aracı (44 - 47)
- 8- Ülkemizde kara, deniz, hava ve demir yolu ulaşımının en gelişmiş olduğu illerimizden biri (48 – 52)

15.

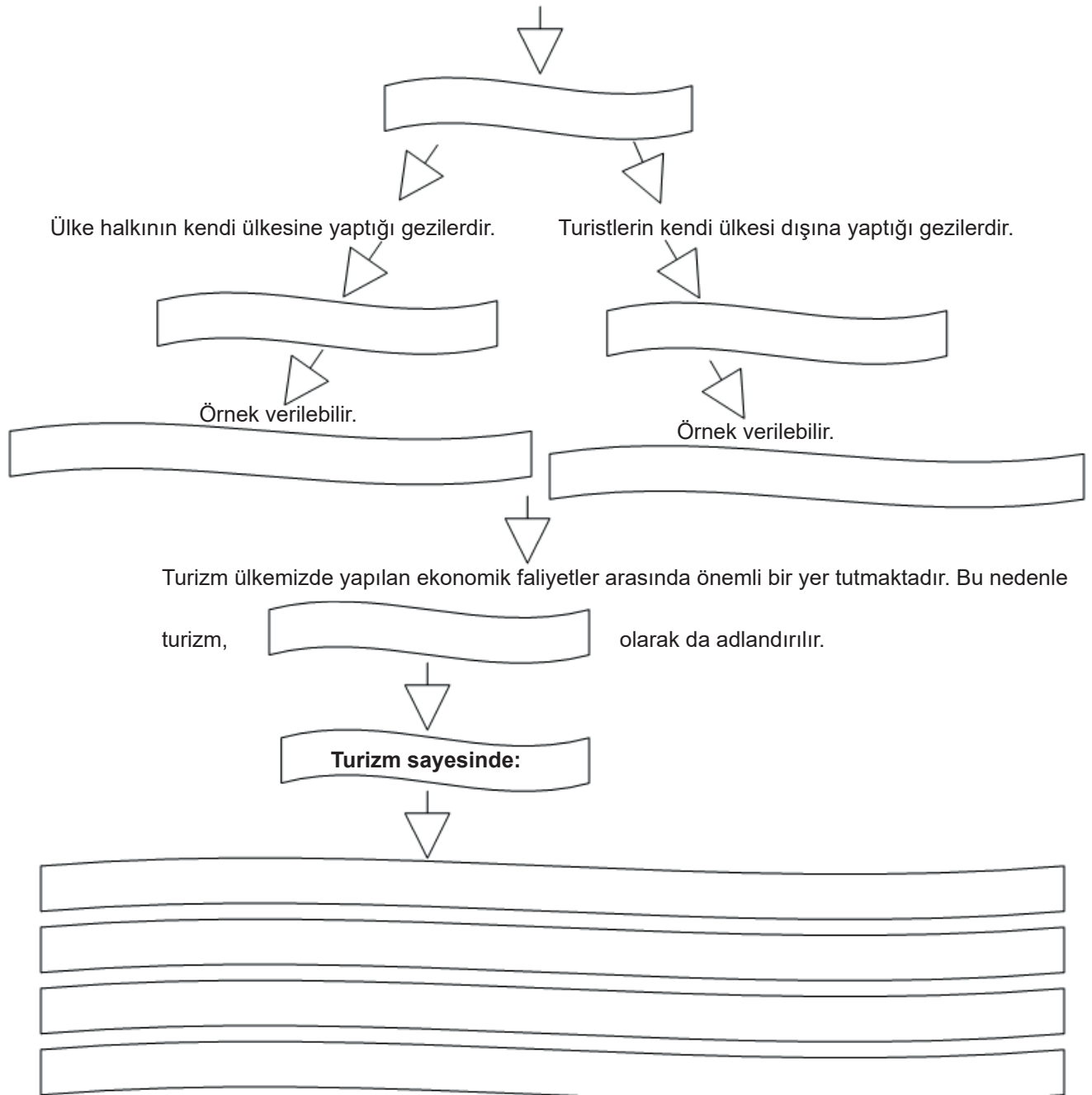
K	O	E	A	L	İ	Y	T	M	S	P	R
E	L	M	A	N	İ	T	H	A	L	A	T
L	P	E	R	İ	K	I	Z	I	M	A	R
M	E	A	K	R	T	S	D	O	K	A	L
Ş	A	N	L	I	U	R	F	A	A	L	B
B	N	E	Y	E	K	A	R	A	M	A	A
E	T	T	Ü	K	O	B	C	R	Ö	A	N
E	E	İ	M	A	C	İ	R	E	K	T	K
N	P	K	T	R	A	B	Z	O	N	P	O
İ	F	A	Z	Z	E	I	R	A	K	E	C
Y	I	R	E	E	L	Ö	C	Ü	R	R	Z
Z	S	A	Y	R	İ	İ	L	E	R	İ	A
S	T	C	T	A	K	E	L	İ	M	B	V
M	I	Ğ	E	F	O	Y	U	N	B	A	Ö
E	Ğ	L	R	T	S	E	V	G	İ	C	M
T	I	U	A	D	O	Ğ	A	L	G	A	Z
A	K	O	C	B	U	L	S	A	K	L	S
L	R	N	İ	G	E	M	L	K	Ö	A	A
İ	F	D	Y	İ	N	A	L	İ	N	R	L
M	A	N	T	A	L	Y	A	İ	R	I	I
E	L	A	M	N	E	R	S	A	F	İ	M
N	A	C	R	E	L	L	E	B	E	N	M

Soruların cevabını yukarıdaki bulmacadan bularak işaretleyiniz.

- 1- Ülkemizde fındık üretiminin en fazla yapıldığı illerden biri.
- 2- Güneydoğu Anadolu Bölgesinde yetiştirilen, Gaziantep ilimizin ismiyle özdeşleşmiş tarım ürünü.
- 3- Yurt dışından aldığımız yeraltı kaynaklarından biri.
- 4- Sanayi tesisleriyle ön plana çıkmış Marmara Bölgesinde bulunan illerimizden biri.
- 5- Balıklıgöl gibi önemli tarihi-turistik alanlarımıza sahip ilimiz.
- 6- İnsanların Nevşehir ilimizde görmek için gittikleri doğal güzelliklerimizin adı.
- 7- İnsanların yaz mevsiminde denize girmek için gittikleri illerimizden biri.
- 8- Bir ülkenin başka bir ülkeden mal-ürün almasına verilen isim.

16. Aşağıdaki akış diyagramında eksik olan yerleri doldurunuz.

Dinlenme, eğlenme, görme, tanıma vb amaçlara yapılan gezidir.



17. Aşağıda yer alan genel ağ haberini inceleyiniz.

GÜNCEL HABER

Türkiye'den Yılın 8 Aylık Döneminde 103 Ülkeye Çay Satıldı



Doğu Karadeniz İhracatçıları Birliği (DKİB) den elde edilen verilere göre, ocak-ağustos döneminde 2 bin 753 ton çay ihraç edildi. Bu dönemde ihraç edilen çay miktarı, geçen yılın aynı dönemine göre yüzde 15 arttı. Değer bazında ise çay ihracatı geçen yılın aynı dönemine göre yüzde 33 artarak 10 milyon 772 bin dolara çıktı. Türkiye bu dönemde toplamda 103 ülkeye çay ihraç etti. Belçika, Almanya, Kuzey Kıbrıs Türk Cumhuriyeti (KKTC), ABD ve Hollanda en fazla ihracat gerçekleştirilen ülkeler oldu. Belçika, 3 milyon 915 bin dolarlık çay ihracatıyla ilk sırada yer aldı. Bu ülkeyi, 1 milyon 339 bin dolarlık ihracatla Almanya, 710 bin dolarlık ihracatla KKTC, 709 bin dolarlık ihracatla ABD, 639 bin dolarlık ihracatla Hollanda takip etti. En az çay ihracatı gerçekleştirilen ülkeler ise Tayvan, Tacikistan, Moldova oldu.

Yetkililer tarafından son dönemde çay ihracatında büyük artış yaşandığı, dünyada Türk çayına olan ilginin arttığı, Türk çayının kalitesinin uluslararası piyasalarda bilinirliğinin artmasında çayın doğallığı ve aromasının etkili oldu belirtildi.

Habere göre aşağıdaki soruları cevaplayınız.

- a) Türkiye hangi ülkelere çay ihraç etmektedir?**
- b) Dünyada Türk çayına büyük bir ilgi duyulmasının sebepleri nelerdir?**
- c) Türk çayının Dünya'da bilinirliğini artırmak için hangi faaliyetler yapılabilir?**

18. Eşiiyle tatile çıkan Aynur Hanım, gezi haritasını açınca karşısına aşağıdaki sorular çıkmıştır. Verilen cümlelerden doğru olanın altındaki kutucuğa "D" işareti, yanlış olan cümlenin altındaki kutucuğa "Y" işareti koyunuz.

İnsanların mevsimlik işçi olarak farklı illere gitmelerine ve orada bir süre yaşamalarına iç turizm denir.

Turizm sayesinde insanlar kültürel, ekonomik ve toplumsal olarak iletişim halinde olur.

Ayasofya Camii ülkemizi ülkemize yurt dışından gelen turistlerin görmeye gittiği önemli doğal güzelliklerimizden biridir.

Ülkemizin turizm çeşitliliğini iklim, coğrafi koşulların farklılığı, tarihi ve kültürel kaynakların çeşitliliği etkiler.



Ülkemizin coğrafi konumu farklı medeniyetlere ev sahipliği yapmasını sağlamıştır.

19. Aşağıda Dünya Miras Listesi'nde yer alan varlıklarımızdan bazılarının isimleri ve görselleri verilmiştir.

Bu ortak miras öğelerinin bulundukları illeri boşluklara yazınız.



Safranbolu Evleri [.....]



Truva Antik Kenti [.....]



Cumalıkızık Köyü [.....]



Divriği Ulu Cami ve Darüşşifası [.....]



Hattuşa [.....]



Göbeklitepe [.....]




Selimiye Camii ve Kulliyesi [.....]



Efes Antik Kenti [.....]

20. İnsanlığın ortak miras unsurları Edebiyat, Sanat, Bilim ve Düşünce mirası şeklinde sınıflandırılmaktadır.

Buna göre görsellerde verilen ortak mirasların hangi alana ait olduklarını altına yazınız.



[.....]



[.....]




[.....]




[.....]




[.....]



[.....]



[.....]




[.....]



[.....]

21. Aşağıda verilen soruların cevaplarını bulmacada uygun boşluklara yerleştiriniz.

1. Zeus Karios Tapınağı'nın bulunduğu tatil beldemizdir.
2. Geçmişten günümüze kadar tüm insanların, toplumların, uygarlıkların ve ulusların oluşturduğu maddi ve manevi değerlerdir.
3. İnsanlığın bilim mirasına katkı sunan günümüzde tıbbın babası olarak anılan İyonyalı hekimdir.
4. Yaşanan, görülen, duyulan bir olayın ya da bir duygu ve düşüncenin estetik bir kaygı ile ele alındığı roman, hikâye ve şiir gibi ürünlerin geneline denir.
5. Mehmet Âkif Ersoy'un yayımladığı yedi şiir kitabındaki şiirleri bir araya getiren insanlığın edebiyat mirasına ait eserdir.
6. İnsanlığın sanat mirasına ait Leonardo da Vinci'nin en çok bilinen tablosudur.
7. Çanakkale'de yer alan 1998 yılında Dünya Miras Listesi'ne giren dünyadaki en ünlü antik kentlerden biridir.
8. 2005 yılında UNESCO tarafından Dünya Miras Listesi'ne alınan Bosna Hersek'teki Osmanlı köprüsüdür.
9. Astronom ve matematikçidir. 1403'te Semerkand'da doğdu. Astronomi, matematik, dil bilim ve felsefe alanlarında eserler vermiştir.
10. UNESCO Dünya Miras Listesi'ne 1994 yılında giren; geleneksel şehir dokusu, ahşap yığma evleri ve anıtsal yapıları ile tamamı koruma altına alınan ülkemizin yerleşim yerlerinden biridir.



22. Geçmişten günümüze ulaşan ortak miras öğeleri arasında kültürel miras da vardır. Kültürel mirasa ait unsurlar taşınabilir ve taşınamaz eserler olarak ikiye ayrılır.

Aşağıdakilerden hangisi taşınamaz miras eserlerindendir?

- A) Safranbolu Evleri
- B) Dede Korkut Hikâyeleri
- C) Kaplumbağa Terbiyecisi Tablosu
- D) Beethoven müzik eserleri

23. Bir alanın Unesco Dünya Miras listesine dahil edilebilmesi için Dünya Miras Komitesi tarafından belirlenen olağanüstü evrensel değerleri ölçen 6 kültürel, 4 doğal kriterden en az birini karşılaması gerekir.

Aşağıda verilenlerden hangisi bu kriterlerden biri olamaz?

- A) Üstün doğal görünüme, eşsiz güzelliğe sahip olması.
- B) İnsanların faydasına kullanılıp kazanç sağlayabilecek olması.
- C) İnsanların yaratıcı dehasının üst düzeyde bir temsilcisi olması.
- D) Yaşayan ya da yok olan kültür geleneğinin istisnai temsilcisi olması.

24. *Binlerce yerleşik yabancının yaşadığı Alanya Belediyesi'nde "Yeni Alanyalılar Meclisi" ismiyle yabancılardan oluşan bir meclis bulunuyor. Mecliste Fransız, Danimarkalı, İngiliz, İrlandalı, Hollandalı, İsviçreli, Rus, Polonyalı, Norveçli, İsveçli, Suriyeli ve Azeri temsilci bulunuyor. Mecliste Alanya'da yaşayan yerleşik yabancılardan sorunları belediyeye aktarılıyor, dil konusunda destek veriliyor. İlçede yaşayan yabancılardan ülkelerinin bağımsızlık bayramları, Noel, Paskalya etkinlikleri yerli ve yabancı halkın katılımıyla kutlanıyor. Yabancılar ramazan ayında da iftarlara katılıyor ve iftar davetleri veriyorlar.*

Verilen gazete haberinden yola çıkarak hangisine ulaşamaz?

- A) Farklı ülkelerden insanlar bir arada yaşamaktadır.
- B) Türkler ve yabancılar farklı mahallelerde oturmaktadır.
- C) Her ülkenin insanları özgürce dini inançlarını yaşamaktadır.
- D) Farklı kültürel ve dini etkinliklere katılım gösterilmektedir.

25. Ülkeler arası ekonomik ilişkilerin kolaylaşmasında iletişim teknolojileri etkili olmaktadır. İletişim için kullandığımız araçlar haberleşme dışında, ülkeler arasında yapılan ticaretin de önemli bir unsuru olmuştur. Bu araçlar sayesinde ihtiyacımız olan ürünün hangi ülkede ve hangi firma tarafından üretildiğini öğrenebiliyoruz. Elektronik ticaret adı verilen bu sistemde farklı ülkelerdeki üreticilere dilediğimiz an ulaşabiliyor, onlarla iletişim kurup kolayca ticaret yapabiliyoruz.

Aşağıdakilerden hangisi bu duruma örnek olarak gösterilebilir?

- A) Ülkemize dünyanın her yerinden turistin gelmesi.
- B) Çin'den genel ağ üzerinden tablet satın alınması.
- C) Tarım ürünlerinin uluslararası fuarlarda sergilenmesi.
- D) Rus doğalgazının ülkemiz üzerinden Avrupa'ya taşınması.

26. Mezopotamya medeniyetlerinden biri olan Asurlar zamanında tüccarlar Anadolu'da bulunmayan veya çok az bulunan ürünleri Mezopotamya'dan kervanlarla getirip pazarlarda satıyorlardı. Anadolu'da yaşayan insanlar ise pazarlara gidiyor ve ihtiyaç duydukları ürünleri Asurlu tüccarlardan satın alıyordu. Böylece Anadolu'da yaşayan insanlar, ihtiyaçları olan ürünlere Mezopotamya'ya gitmeden ulaşabiliyordu. Tüccarların getirdiği ürünler bittiğinde ise aynı ürünü temin etmek için insanlar çok uzun süre bekliyordu. Günümüzde ürünler gemi, tır veya uçak gibi ulaşım araçları sayesinde bir ülkeden başka bir ülkeye kısa zamanda taşınabiliyor. Bir bölgeye gönderilen ürünler tamamen bittiğinde iletişim araçlarıyla sipariş veriliyor; ulaşım araçlarıyla birkaç gün içerisinde istenilen yere gönderilebiliyor.

Bu metne göre aşağıdaki yargılardan hangisine ulaşamaz?

- A) Eski Çağlarda ticaret yapabilmek için insanlar karşı karşıya gelirdi.
- B) Eskiden insanlar ihtiyaçlarını dünyanın her yerinden temin edebiliyordu.
- C) İletişim araçları sayesinde farklı ülkelerdeki üreticilerle ticaret yapılabilir.
- D) İletişim ve ulaşım teknolojisi, ticari faaliyetlerin daha hızlı gerçekleşmesini sağlar.

27. Ülkemiz yer altı ve yer üstü kaynakları bakımından oldukça zengindir. Ülkemiz bu kaynaklarıyla kendi ihtiyaçlarını büyük ölçüde karşılamaktadır. Ancak, ülkemizin coğrafi özellikleri, iklim koşulları tüm ihtiyaçlarını karşılamakta yeterli olmaz. Örneğin, ülkemizde kahve üretilemez. Ülkemizin iklim koşulları kahve üretimine uygun değildir. Bu yüzden kahveyi başka ülkelere satın alırız. Üzüm, portakal, fındık ve incir gibi tarım ürünleri ülkemizde görülen iklim tiplerine uygun olduğundan bu ürünlerin üretimi fazladır. İhtiyacımızdan fazla üretilen bu tarım ürünlerini başka ülkelere satarak ekonomik kazanç elde ederiz.

Buna göre aşağıdaki yargılardan hangisine ulaşamaz?

- A) Ülkemizde üretilmeyen tarım ürünleri bulunmaktadır.
- B) Ülkemizin ekonomisinin temeli tarıma dayanmaktadır.
- C) Ülkemizin kaynakları ihtiyaçlarının büyük kısmını karşılamaktadır.
- D) Ülkeler kendi üretilmedikleri ürünleri başka ülkelere alırlar.

28. • Telefonu, İskoçya asıllı ABD'li bilim insanı Alexander Graham Bell icat etmiştir. Onun bu icadı, kısa zamanda tüm dünyaya yayılmıştır.
- Ali Kuşçu, yaptığı gözlemler sonucunda Ay'ın haritasını çıkaran ilk gök bilimcidir. Bilimsel çalışmalarından dolayı ABD Ulusal Havacılık ve Uzay Dairesi tarafından 2013 yılında Ay'ın bir bölgesine Ali Kuşçu'nun adı verilmiştir.
- İlk motorlu uçak Wilbur Wright ve Orville Wright kardeşler tarafından icat edilmiştir. Uçağın icadı uzun seyahatleri kısaltmış, ticareti hızlandırmıştır.

Buna göre aşağıdaki yargılardan hangisine ulaşamaz?

- A) Birçok ulus insanlığın bilim mirasına katkı sağlamıştır.
- B) İnsanların ihtiyaçlarını karşılayacak teknolojiler geliştirilmiştir.
- C) Avrupalı bilim insanları bilim mirasına daha çok katkı sunmuştur.
- D) Bilim mirası insanların tarih boyunca ürettiği bilim eserlerinden oluşur.

29.

Safahat	Mehmet Âkif Ersoy'un yayımladığı yedi şiir kitabındaki şiirleri bir araya getiren eser.
Hipokrat	Günümüzde tıbbın babası olarak anılan İyonyalı hekim.
Kaplumbağa Terbiyecisi	Ünlü Türk ressamı Osman Hamdi Bey'in çizdiği tablo.
Çin Seddi	Dünyadaki insan yapımı en uzun yapı.

Tabloda hangi alanla ilgili bir örnek yer almaz?

- A) Sanat B) Bilim C) Siyaset D) Edebiyat

30. Turizmde insanlar yaşadıkları yerden ayrılarak başka bir yere veya ülkeye giderler. Orada belli bir süre kalır, kendi ülkelerine dönerler. Bu faaliyet ülke içerisinde yapılıyorsa iç turizm olarak adlandırılır.

Aşağıdakilerden hangisi bu duruma örnek olarak gösterilemez?

- A) Rize'de yaşayan birinin Kapadokya'yı görmeye gitmesi.
- B) Bolu'da yaşayan birinin Ani Harabeleri'ni görmeye gitmesi.
- C) Sivas'ta yaşayan birinin Ayasofya Camii'ni görmeye gitmesi.
- D) İzmir'de yaşayan birinin Maçu Piçu Antik Kenti'ni görmeye gitmesi.

31. Turizm farklı bölgelerden ya da farklı ülkelerden insanları bir araya getirir. İnsanların birbirlerini daha iyi tanımalarını ve daha çok sevmelerini sağlar. Turizm sayesinde insanlar hem başka ülkelerin doğal ve tarihî güzelliklerini görür hem de sunulan yemekler, yapılan aktiviteler, yerel halkla kurulan ilişkiler sayesinde misafir oldukları kültürleri tanırırlar.

Verilen bilgide aşağıdakilerden hangisine değinilmiştir?

- A) Turizm ülkelerin dış ticaret açığını azaltır.
- B) Turizm insanlara yeni iş olanakları oluşturur.
- C) Turizm uluslar arası ticaretin gelişmesini sağlar.
- D) Turizm insanlar arasındaki kültürel etkileşimi sağlar.

32. Aşağıdaki tabloda ülkemizin diğer ülkelere sattığı sanayi ve tarım ürünleri gösterilmiştir.

Sanayi Ürünleri	Tarım Ürünleri
Ambalaj	Antep fıstığı
Ayakkabı	Fındık
Boya	Hububat
Cam ve seramik inşaat malzemeleri	Sebze
İlaç ve ezacılık	Kaysı
Çimento	İncir
İnşaat malzemeleri	Üzüm
Tekstil ürünleri	
Hazır giyim	
Kozmetik ürünleri	
Elektrikli makineler	
Gıda işleme makineleri	
Mobilya	
Tarım aletleri ve makineleri	

Yukarıdaki tabloya göre aşağıdakilerden hangisine ulaşamaz?

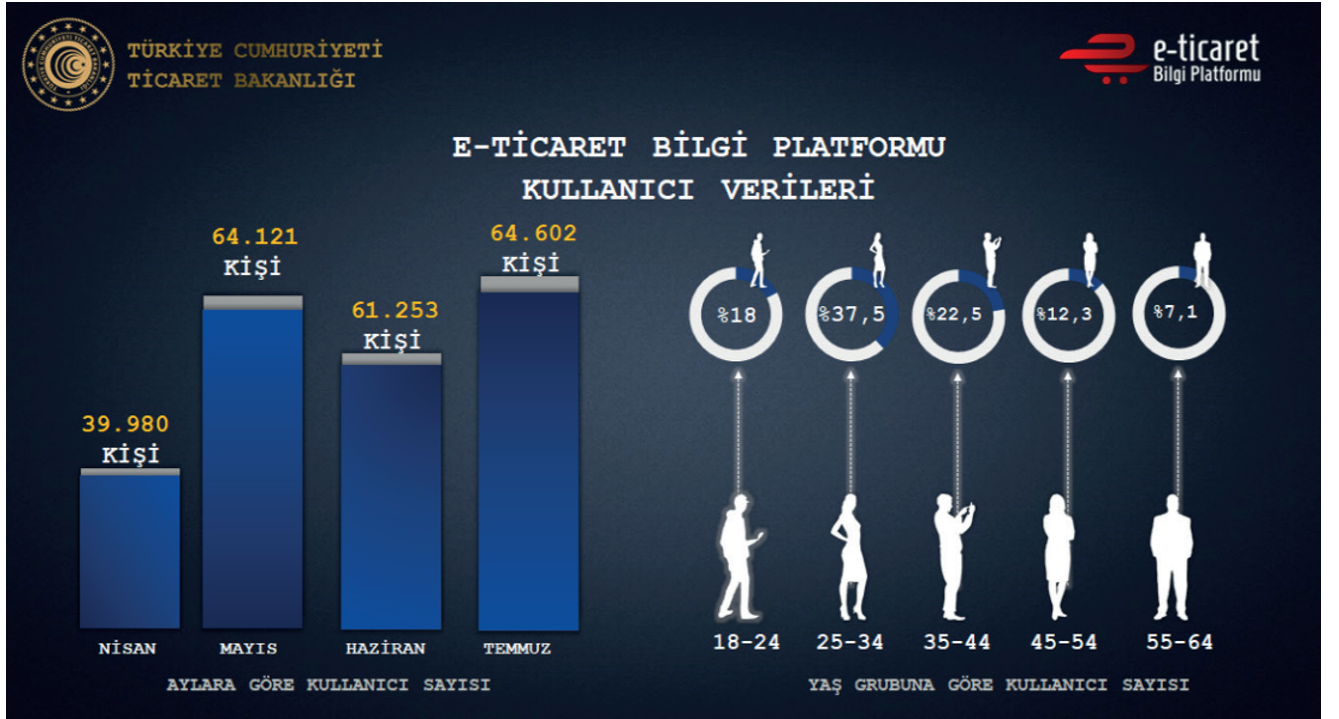
- A) Ülkemizin dış satımında daha çok sanayi ürünleri yer almaktadır.
- B) Sağlık ürünleri ihracatını yaptığımız ürünler arasındadır.
- C) Ülkemizden dışarıya farklı alanlara ait ürünler satılmaktadır.
- D) Ülkemizde ithalat ve ihracattan elde ettiğimiz gelir dengelidir.

33. Kral yolu Anadolu medeniyetlerinden Lidyalılar tarafından yapılmıştır. Kral yolu deyince mermer döşeli, heykellerle süslü, altın meşalelerle aydınlatılmış ışıklı bir yol gelmesin aklınıza. Toprak zemine kimi yerlerde kum veya çakıl dökerek kimi yerlerde taş döşeyerek, çoğu yerde ise kayaları kesip düzelterek oluşturulmuş basit bir yolmuş. Yaklaşık 9 metre genişliğe sahip olan yolun üstünde 800 köprü ve ortalama 30 km'de bir olmak üzere 111 konaklama alanı bulunuyormuş. Bu konaklama alanlarında yolcular için konaklayacak yer, hayvanlar için ahırlar varmış. Böylece yolcular 30 km'de bir dinlenme ve at değiştirme fırsatı buluyormuş. Günde 25-30 km yürüyerek üç ayda katedilen Kral Yolu'nu atlı kuryeler 7-8 günde aşıyormuş. Kral Yolu sayesinde kervanlar Anadolu'nun zenginliklerini doğuya taşıyor, atlı kuryeler haberleri süratle iletiyor, devlet işleri sorunsuzca hallediliyormuş. Aynı zamanda bu yol üzerindeki hareketlilik toplumlar arasında kültürel alış-verişin de yaşanmasını sağlıyordu.

Yukarıdaki parçaya göre Kral Yolu'nun geçmişteki rolü ile ilgili olarak aşağıdakilerden hangisine ulaşamaz?

- A) Ülkeler arasında ticareti geliştirmiştir.
- B) İletişim sağlanması için kullanılmıştır.
- C) Kültürel etkileşime neden olmuştur.
- D) Günümüzde de kullanılmaya devam etmektedir.

34. Elektronik ticaret ya da diğer adıyla e-ticaret; mal veya hizmetlerin satış ve dağıtım ve ödemelerinin internet üzerinden yapılmasıdır.



Yukarıdaki grafikte 2020 yılında ülkemizde aktif olarak e-ticaret yapan kullanıcı bilgileri gösterilmiştir.

Buna göre aşağıdakilerden hangisine ulaşamaz?

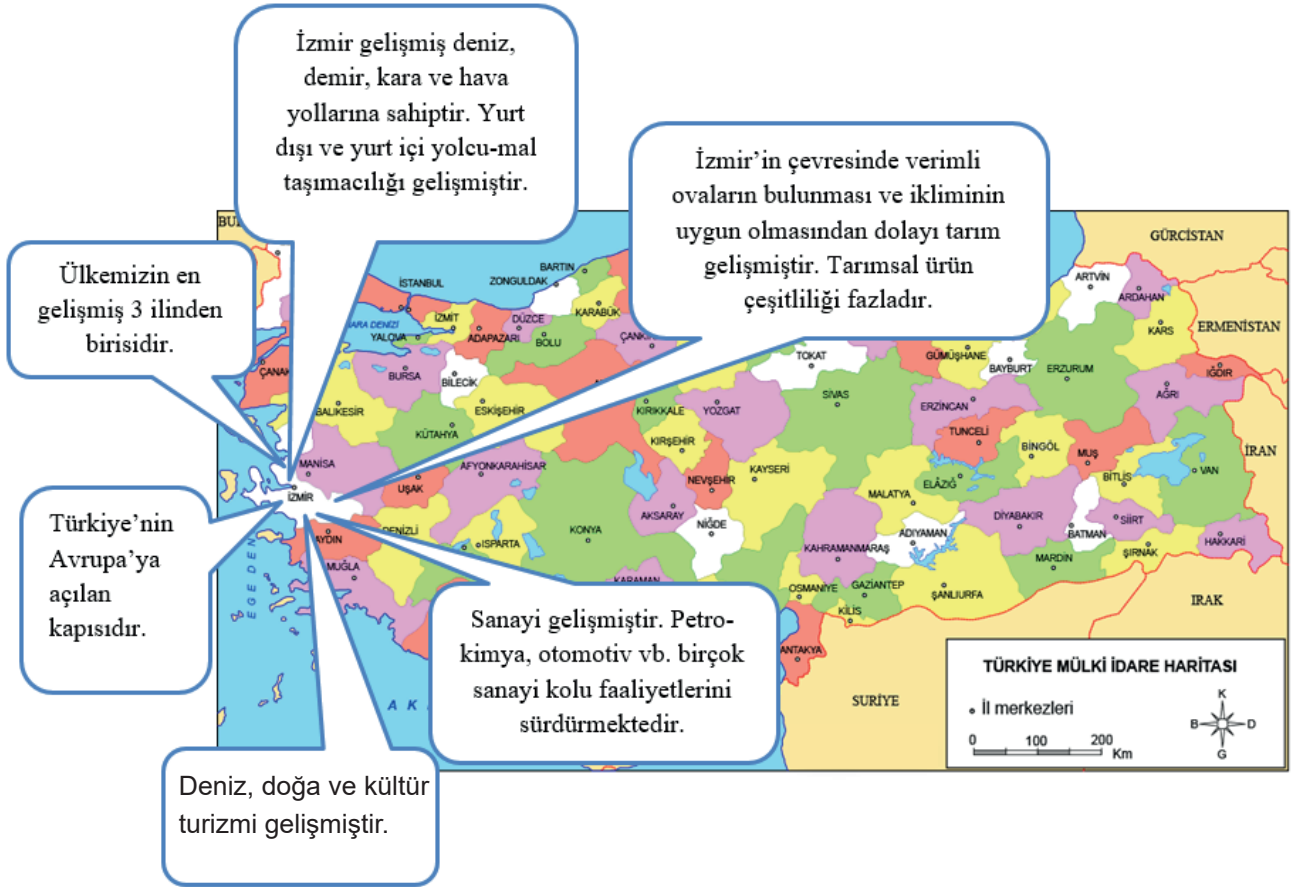
- A) Temmuz ayında e-ticaret yapan kişi sayısı Mayıs ayından fazladır.
- B) E-ticareti en fazla kullanan yaş gurubu 25-34 yaş arasındır.
- C) Ülkemizde e-ticaret kullanımı dünya ortalamasının altındadır.
- D) Genel olarak yaş ilerledikçe e-ticaret kullanımı da azalmıştır.

35. Türkiye'nin Karadeniz'deki ilk derin deniz sondajını gerçekleştiren Fatih sondaj gemisi, Sakarya Gaz Sahası'nda 320 milyar metreküp doğal gaz rezervi keşfetti. Bu rakam, Türkiye'nin yıllık tutarı yaklaşık 12 milyar dolar seviyesinde olan doğal gaz ithalatını ciddi miktarda önleyebilecek seviyede bulunuyor.

Yukarıdaki haber metninden hareketle Karadeniz’de bulunan doğalgaz ülkemizin hangi alanda dış ülkelere olan bağımlılığını azaltacaktır?

- A) Gıda
B) Enerji
C) Ulaşım
D) Tarım

36.



Verilen bilgilere göre İzmir ile ilgili aşağıdaki youmlardan hangisine ulaşamaz?

- A) Gelişmiş bir ulaşım ağına sahiptir.
B) Sanayinin en çok geliştiği şehrimizdir.
C) Turizm çeşitliliği bakımından avantajlıdır.
D) Birçok alanda ülke ekonomisine katkı vermektedir.

37. Yurt dışına ürün satış işlemine ihracat, yurt dışından ürün alma işlemine ise ithalat denir.

Aşağıdakilerden hangisi ithalata örnektir?

- A) Üretilen beyaz eşyaların Avrupa ülkelerine satılması.
- B) Üretilen otomobillerin Fransa'ya gönderilmesi
- C) Uzakdoğu ülkelerinden akıllı telefon alınması.
- D) Azerbaycan'a İHA satılması

38. Ülkelerin iklimi, yer altı ve yer üstü kaynakları farklılık gösterir. Ülkeler kendi topraklarında üretilmeyen ürünleri ya da olmayan kaynakları başka ülkelerden alırken kendi ürettikleri tüketim fazlası ürünleri ya da kaynakları başka ülkelere satarlar.

Aşağıda verilen ürünlerden hangileri ülkemizin ihracatında önemli bir yere sahip değildir?

- A) Petrol-Doğalgaz
- B) Mobilya-Tarım aletleri
- C) Ayakkabı-Deri ürünleri
- D) Meyve-Zeytinyağı

39. İnsanoğlu tarih sahnesine çıktığı günden beri düşünce, sanat, edebiyat, mimari, bilim, teknoloji gibi daha sayamadığımız pek çok alanda maddi-manevi pek çok şey üretmiştir. Zaman içerisinde bu ürünler sadece üretildikleri toplumun değeri olarak kalmamış, tüm insanlığın ortak değeri hâline gelmiştir. Dünya mirası olan ürünler, bulundukları ya da yapıldıkları topraklara bakılmaksızın bütün insanlığa ait olmuşlardır.

Yukarıdaki parçada ortak mirasın hangi özelliği vurgulanmıştır?

- A) Ulusal
- B) Kişisel
- C) Evrensel
- D) Sanatsal

40.

Aşağıda haritada 5 il, tabloda ise ülkemizde yetiştirilen bazı ürünlerin isimleri numaralandırılarak verilmiştir.



1	Çay	5	Kayısı	9	Buğday
2	Fındık	6	Elma	10	Domates
3	Mısır	7	Tütün	11	Armut
4	Ayçiçeği	8	Pamuk	12	İncir

Haritada verilen iller ile tablo numaralandırılmış ürünlerin eleştirilmesi aşağıdakilerden hangisinde doğru olarak verilmiştir?

	Trabzon	Malatya	Şanlıurfa	Aydın	Bursa
A)	1	12	7	11	9
B)	9	3	6	4	8
C)	6	4	12	8	1
D)	2	5	8	12	10

41.



Geçmişten günümüze ulaşım ve taşıma ile ilgili görseller verilmiştir.

Fotoğraflardan yola çıkarak aşağıdakilerden hangisine ulaşamaz?

- A) Geçmişten günümüze taşıma araçları gelişmiştir.
- B) Geçmişten günümüze malzeme taşımacılığı artmıştır.
- C) Geçmişten günümüze ulaşım ve taşıma araçları çeşitlenmiştir.
- D) Geçmişten günümüze en çok deniz yolu kullanılmıştır.

42. 1.Durum: 2020 yılının başında Çin'den Covid-19 virüsü dünyaya yayıldı. Ülkeler bu virüsün kendi sınırları içerisinde yaşayan insanlara bulaşmasını önlemek amacıyla tedbirler aldı. Alınan tedbirlerden biri de ülkeler arası ulaşım kısıtlama getirilmesidir. Bu kısıtlamayı farklı kısıtlamalar takip etti. İş merkezleri ve okullar kapatıldı.

2.Durum: Covid-19 öncesinde insanlar ihtiyaçlarını daha çok alışveriş merkezlerinden ve mağazalardan karşılıyordu. Marketlere gidip ihtiyacı olan ürünü alıyordu. Covid-19 pandemisi süreciyle birlikte insanlar ihtiyaçlarını internet ve telefon üzerinde verdikleri siparişlerle gidermeye başladı. Şirketler verilen siparişleri kargolar vasıtasıyla insanlara ulaştırırdı.

Buna göre Covid-19 pandemisinin sonuçları ile ilgili olarak aşağıdakilerden hangisine ulaşamaz?

- A) E-ticaretin gelişmesini sağlamıştır.
- B) İnsanların alışkanlıklarını değiştirmiştir.
- C) İletişim ihtiyacımızı azaltmıştır.
- D) Özgürlüklerimizi kısıtlamıştır.



7.12 Demir İpek Yolu Projesi'nin Açılış Töreni

“Bakü-Tiflis-Kars (BTK) Demir Yolu Hattı” Azerbaycan’da düzenlenen törenle açıldı.

T.C. Ulaştırma ve Altyapı Bakanı yaptığı açıklamada, “Demir İpek Yolu” olarak adlandırılan Bakü-Tiflis-Kars Demir Yolu Projesi’nin Türkiye için büyük önem taşıdığını söyledi (Görsel 7.12). Projeyle

Londra’dan kalkan bir trenin Pekin’e kadar kesintisiz gidebileceğini belirten Bakan, Demir İpek Yolu’nun güzergâhtaki ülkelere ve bölgeye çok ciddi katkı sağlayacağını söyledi. Hatta Orta Doğu’yu Marmaray üzerinden Avrupa’ya bağlayan demir yolu ağı sayesinde Türkiye’nin Asya, Kafkasya ve Avrupa ülkeleri arasında ulaşımı daha kolay olacak. Bakü-Tiflis-Kars demir yolu bağlantısıyla uluslararası taşıma potansiyeli yıllık 50 milyon tona ulaşacak. Hattın hizmete açılmasıyla 1 milyon yolcu ve 6,5 milyon ton yük taşınabilecek. Bakan, hattın bölgenin ekonomisini canlandıracağını ve ürünlerin hedef pazarlara erişmesine imkân sağlayacağını vurgulayarak projenin Kars, Ardahan, Iğdır, Ağrı, Erzurum, Erzincan, Gümüşhane ve Bayburt gibi illerin gelişimine katkı sağlayacağını söyledi.

Verilen gazete haberine göre ülkemiz Bakü-Tiflis-Kars Demir Yolu Hattı projesi ile aşağıdakilerden hangisini amaçlamaktadır?

- A) Ticaretin gelişmesini sağlamak
- B) Haberleşmenin gelişmesini sağlamak
- C) Turizmin gelişmesini sağlamak
- D) Tarımın gelişmesini sağlamak

- 44.** Turgutreis’e yerleşen yabancılardan bir İskoç, eşiyle birlikte 10 yıl önce Bodrum’a yerleştiğini söyledi. Bodrum’a yerleşmeden önce tatil için de geldiğini ifade eden İskoç: “Kendi ülkemizde yaşamak stresli. Burada özgür bir ortamda yaşıyoruz ve çok mutluyuz. Türk yemekleri çok güzel. Ayrıca burası yaşamak için çok ucuz bir ülke, kendi ülkemize göre. Türk gelenek ve göreneklerini çok seviyor buna saygı duyuyoruz. Burada ailelerin çocuklarına ne kadar sahip çıktıklarını tanık olduk. Özellikle bu durum çok hoşumuza gidiyor. Aileler birbirine çok bağlı. Burada en fazla çayı seviyoruz, çok güzel.” diye konuştu.

Yukarıdaki habere göre ülkemize gelen turistler için hangisi söylenemez?

- A) Ülkemizi tanıdıkça yerleşenler olmuştur.
- B) Kültürümüze ve değerlerimize saygı duymaktadırlar.
- C) Kendi ülkelerinde fakir olduklarından ülkemizi tercih etmişlerdir.
- D) Ülkemizde stresten uzak, huzurlu ve mutlu bir yaşam bulmuşlardır.

45. Ülkemize dünyanın farklı ülkelerinden turist gelmektedir. Gelen turistlere milletimiz tarafından misafirperverlik gösterilmektedir.

Aşağıdakilerden hangisi misafirperverliğe uygun olmayan bir davranıştır?

- A) Turistleri otel ve evlerde ağırlamak.
- B) Turistler zor durumda kaldıklarında yardımcı olmak.
- C) Turistlerin yaptığı alışverişlerde yol göstermek.
- D) Turistlerle olan anlaşmazlıklarda vatandaşlarımızı desteklemek.

46. İnsanlığın ortak mirasını uluslararası düzeyde korumak ve geliştirmek amacıyla 1972 yılında yapılan UNESCO genel konferansında 'İnsanlığın Ortak Malı Olan Kültürel ve Doğal Varlıkların Korunması Sözleşmesi' kabul edilmiştir. Türkiye bu sözleşmeyi 1982 yılında onaylayarak kabul etmiştir. 2017 yılı itibarıyla dünya genelinde UNESCO Dünya Miras Listesi'ne kayıtlı 1073 kültürel ve doğal varlık bulunmaktadır. Her yıl gerçekleşen Dünya Miras Komitesi toplantıları ile bu sayı artmaktadır. Ülkemizin, Kültür Varlıkları ve Müzeler Genel Müdürlüğü'nün sorumluluğu altında yürüttüğü çalışmalar neticesinde bugüne kadar UNESCO Dünya Miras Listesi'ne 18 varlığımızın alınması sağlanmıştır.

Buna göre insanlığın ortak mirası konusunda ülkemize düşen görevler arasında aşağıdakilerden hangisi bulunmaz?

- A) Korunmasını sağlamak
- B) Diğer ülkelerle işbirliği yapmak
- C) Sonraki kuşaklara aktarmak
- D) Ticari işletmeye açmak

47. Miras bir neslin kendinden sonrakilere bıraktığı unsurlardır. Tüm insanlığa bırakılan mirasa ise ortak miras denir.

Aşağıdaklerden hangisi UNESCO tarafından belirlenen ortak mirasımıza örnek verilemez?

A)



Divriği Ulu Cami

B)



Nemrut Dağı

C)



Dede Korkut Hikayeleri

D)



Tortum Şelalesi

48. Unesco Dünya Miras listesine her ülkeden olduğu gibi ülkemizden de birçok eser alınmıştır.

Aşağıda verilenlerden hangisi Unesco dünya miras listesinde yer alır?

A)



Nemrut Dağı

B)



Ayder Yaylası

C)



Güneydoğu Anadolu Mutfağı

D)



Zilkale

49. Aşağıdaki tabloda ülkemizin ihracatında önemli bir yere sahip sanayi ve tarım ürünlerinden bazılarına yer verilmiştir.

Sanayi Ürünleri	Tarım Ürünleri
Altın ve diğer mücevherat Ambalaj Boya Demir-çelik, demir-çelikten eşya Deri ve deri mamulleri Ev tekstili Hazır giyim	Antep fıstığı Baharat ve çay Fındık ve mamulleri Hububat Yaş meyve ve sebze

Tabloda verilenlere göre,

- I. Antep fıstığı en fazla ihraç ettiğimiz tarım ürünüdür.
- II. Ülkemizde tarım ürünlerinin hepsinin ihracatı yapılmaktadır.
- III. İhracatımızda madenlerden yapılmış ürünler yer almaktadır.

bilgilerinden hangileri doğrudur?

- A) Yalnız III B) I ve II C) II ve III D) I, II ve III

50. Bir alanın Dünya Miras Listesi'ne dâhil edilebilmesi için Dünya Miras Komitesi tarafından belirlenen olağanüstü evrensel değerini ölçen 6 kültürel ve 4 doğal kriterden en az birini karşılaması gerekmektedir. Kriterlerden bazıları şunlardır:

- I. İnsanın yaratıcı dehasının üst düzeyde bir temsilcisi olması
- II. Yaşayan veya yok olan bir kültür geleneğinin veya uygarlığın istisnai bir temsilcisi olması
- III. İstisnai evrensel önem taşıyan sanatsal veya edebî eserler, inançlar, fikirler, yaşayan gelenekler ve olaylarla doğrudan veya dolaylı olarak ilgili olması
- IV. Üstün doğal görünümlere veya eşsiz doğal güzelliklere ve estetik öneme sahip alanları içermesi

Buna göre Şanlıurfa sınırlarında bulunan Göbeklitepe'nin yukarıdaki kriterlerden hangisine uyduğu söylenebilir?

- A) I B) II C) III D) IV

51. Coğrafi işaretli bir ürün olan Rize Simidinin tarihi 1930'lu yılların öncesine dayanmaktadır. Rize Simidinin ülkemizde diğer illerde üretilen simitlerle karşılaştırıldığında ayırt edici özellikleri bulunmaktadır. Fotoğrafta da görüldüğü gibi bu özellikler; susamsız yapılışı, pişirilmeden önce yörede yetişen kokulu üzümünden yapılan bir pekmeze batırılması, üzüm pekmezinin ürünün her tarafının eşit şekilde pişmesini sağlaması, ürünün fırınlanmadan önce kısa süreli haşlanması ve çam ya da kestane ağacından yapılan "pasa" denilen tahtalarda dinlendirilmesidir.

Buna göre Rize Simidi ile ilgili,

- I. Rize'yle özdeşleşmiş tescilli bir ürün olduğuna.
- II. Üretiminde yöreye özgü ürünlerin kullanıldığına.
- III. Ülkemizin farklı illerinde üretilen simitlere benzemediğine.

yargılarından hangilerine ulaşılabilir?

- A) Yalnız I B) I ve II C) II ve III D) I, II ve III

52. Unesco dünya kültür miras listesine giren yapıtlar bazı risk ve tehlikelerle karşı karşıyadır.

Aşağıdakilerden hangisi bu tehlike ve risklerden biri değildir?

- A) Duyarsız insanların özensiz kullanımı
- B) Turisler tarafından ziyaret edilmesi
- C) Sık sık depremlerin meydana gelmesi
- D) Sel ve yangın tehlikelerinin olması

53.

Koronavirüs aşısını bulan Prof. Dr. Uğur Şahin, aşının salgını bitireceğinden emin olduğunu belirtti.



Dünyada milyonlarca kişinin ölümüne yol açan yeni tip koronavirüs salgınına karşı yüzde 90'dan fazla koruma sağladığı açıklanan aşının arkasındaki isim olan Uğur Şahin, aşının pandemiye bitireceğini ve Covid 19'a karşı en az bir yıl koruma sağlayacağını açıkladı.

Prof. Dr. Uğur Şahin insanlığa hangi alanda katkı sunmuştur?

- A) Bilim B) Sanat C) Düşünce D) Edebiyat

54. Büyük Kanyon Millî Parkı, 1979 yılında UNESCO Dünya Mirası Listesi'ne alınmıştır. ABD'nin Arizona eyaleti sınırları içinde bulunan en eski ulusal parktır. Kanyon, Kolorado Nehri civarında bulunur. Kanyon; suyun, nehir yatağını uzun yıllar boyunca aşındırması sonucu oluşmuştur. Uzunluğu 466 km olan kanyonun genişliği ise 2,4 kilometreye varabilmektedir. Günümüzde her yıl milyonlarca turistin ziyaret ettiği bir yerdir.



Buna göre Büyük Kanyon ile ilgili aşağıdaki yargılardan hangisine ulaşamaz?

- A) Arkeolojik kazı alanıdır.
B) Önemli turistik yerlerden biridir.
C) Tüm insanlığın ortak mirasıdır.
D) Doğal olaylar sonucunda oluşmuştur.

55. Dünya Miras Listesi'ne Alınma Kriterleri

İnsanın yaratıcı dehasının üst düzeyde bir temsilcisi olması
Yaşayan veya yok olan bir kültür geleneğinin veya uygarlığın istisnai bir temsilcisi olması
İstisnai evrensel önem taşıyan sanatsal veya edebî eserler, inançlar, fikirler, yaşayan gelenekler ve olaylarla doğrudan veya dolaylı olarak ilgili olması
Üstün doğal görünümlere veya eşsiz doğal güzelliklere ve estetik öneme sahip alanları içermesi

Buna göre;

- I. bazı bilim insanlarının yaptığı çalışmalar.
- II. farklı milletlerden düşünürlerin ortaya koydukları görüşler.
- III. Anadolu ve Mezopotamya uygarlıkları döneminden kalma sanat eserleri.

hangileri Dünya Miras Listesi'ne alınma kriterleri içerisinde yer alır?

- A) Yalnız I B) I ve II C) II ve III D) I, II ve III

56. Güneydoğu turizminde ön plana çıkan Mardin önemli cazibe merkezlerinden biri olma yolunda... Mardin farklı etnik grupların tarih boyunca bir arada yaşadığı; tarihî cami, medrese, kilise ve taşın âdeti oya gibi işlendiği evleriyle ziyaretçilerine dört mevsim büyüü bir atmosfer sunuyor. Zengin kültürel yapısıyla yerli ve yabancı turistleri kendine çekiyor.

Buna göre Mardin ile ilgili,

- I. Farklı dini inanıştan insanların yaşadığı şehirdir.
- II. Ülkemizin tarihî ve kültürel bakımdan önemli şehirlerinden biridir.
- III. Ülkemizde yerli ve yabancı turistlerin en fazla ziyaret ettiği şehirdir.

yargılarından hangilerine ulaşılabilir?

- A) Yalnız I B) I ve II C) II ve III D) I, II ve III

57.

Türkiye'nin Türk yaş meyve, sebzelerini ihraç pazarına daha hızlı ulaştırmak ve değerinde satmak için hava kargo talebinde bulunan gıda ihracatçılarının çağrısına, Türk Hava Yolları'ndan olumlu yanıt geldi. İhracatta var olabilmenin müşteriye ulaşma süresini kısaltmaktan geçtiğini belirten Ege Yaş Meyve Sebze İhracatçıları Birliği Başkanı, özellikle yaş meyve sebze sektörü gibi raf ömrü kısa olan ürünlerde bunun hayati olduğuna işaret etti.

Verilen habere göre,

- I. Uluslararası ticarete hava yolu önemli bir yere sahiptir.
- II. Ulaşım imkânları, satılan ya da alınan ürünün maliyetini etkiler.
- III. Ulaşımın hızlı olması, taşınan ürünlerin zarar görmeden yerine ulaşmasını sağlar.

çıkartımlarından hangilerine ulaşılabilir?

- A) Yalnız I B) I ve II C) II ve III D) I, II ve III

58.



"Yaradılanı severim yaradandan ötürü."

Yunus Emre bu sözüyle aşağıdakilerden hangisini vurgulamak istemiştir?

- A) Her insanın değerli olduğunu
- B) Her insanın ölümlü olduğunu
- C) İnsanların yaşama hakkı olduğunu
- D) İnsan hakları ihlallerinin yaşandığını

DEMİR İPEK YOLU — 30 Ekim 2017'de hizmete açıldı.

[Bakü-Tiflis-Kars (BTK) Demiryolu Hattı]

Türkiye, Azerbaycan ve Gürcistan'ın girişimiyle hayata geçirildi.

Asya'dan Avrupa'ya yük taşımacılığında tercih ediliyor.

Bugüne kadar yaklaşık 600 bin tonunun üzerinde yük taşındı.

Türkiye'den yurt dışına;

İnşaat malzemesi, demir cevheri, soda külü, gıda maddesi, temizlik ürünleri, tarım ürünleri, yaş sebze ve meyve taşıyor.

Yurt dışından Türkiye'ye;

Tahıl, çelik, çinko, gübre, kimyasal ürünler ve yem taşıyor.

Asya ile Avrupa kıtaları arasında en kısa, en güvenli, en ekonomik ve iklimi en elverişli demiryolu olarak değerlendirilmektedir.

Bakü-Tiflis-Kars Demiryolu Hattı ile ilgili verilen görsel incelendiğinde,

- I. Yapımında birçok devletin katkısı olmuştur.
- II. Ülkelerin ekonomik faaliyetlerini etkilemiştir.
- III. Türkiye'nin diğer ülkelerle ulaşımına katkı sağlamıştır.

yargılarından hangilerine ulaşılabilir?

- A) Yalnız I B) I ve III C) II ve III D) I, II ve III

60. Eskiden Avrupalı bir tüccarın Çin'deki ürünleri görebilmesi için binlerce kilometrelik yolu gitmesi gerekiyordu. Hangi ürünü isteyeceğini bilse bile telefon, telgraf ya da genel ağ olmadığı için bu ürünlerin listesini göndermek bile sorundu. Şimdi öyle mi? Herhangi bir alıcı dünyanın farklı bir bölgesindeki bir satıcının ürünlerini görüp, beğenip sipariş verebiliyor.

Yukarıda verilen metinde ticareti kolaylaştıran unsurların hangisinden söz edilmektedir?

- A) İletişim sektöründe meydana gelen gelişmeler.
- B) Turizm faaliyetlerinde meydana gelen gelişmeler.
- C) Üretim teknolojilerinde meydana gelen gelişmeler.
- D) Ülkelerin altyapı hizmetlerinde meydana gelen gelişmeler.

61.



İnsanlık tarihinin en önemli miraslarından olan ve 12 bin yıllık geçmişiyle tarihin sıfır noktası olarak nitelendirilen Şanlıurfa'nın Göbeklitepe Arkeolojik Alanı Türkiye'nin 18'inci varlığı olarak UNESCO Dünya Mirası Listesi'ne kaydedildi. 2019 yılının Kültür ve Turizm Bakanlığı tarafından Göbeklitepe yılı ilan edilmesiyle birlikte milyonlarca insan Göbeklitepe'yi ziyaret etti.

Buna göre Göbeklitepe'nin Şanlıurfa'da hangi ekonomik faaliyetin gelişmesine katkı sağlamıştır?

- A) Turizm B) Sanayi C) Tarım D) Madencilik

62. Çin ile Avrupa ülkelerini hizmete açılan demiryolu ile birbirine bağlayan çağdaş 'Demir İpek Yolu' projesi hız kazanıyor. Çin, Belarus, Almanya, Kazakistan, Moğolistan, Polonya ve Rusya, Çin-Avrupa demiryolu hattının geliştirilmesi için bir anlaşma imzaladı. Türkiye de proje bağlamında Bakü-Tiflis-Kars demiryolu hattını inşa çalışmalarını sürdürüyor. Ulaştırma, Denizcilik ve Haberleşme Bakanı, geçen ocak ayında yaptığı açıklamada, Çin'den Avrupa'ya yapılacak nakliyenin Türkiye üzerinden yapılmasının süre ve maliyet açısından daha avantajlı olduğunu dile getirmişti. Bakan, "Çin'den bir yükü İngiltere'ye, Almanya'ya, Fransa'ya göndermek yaklaşık 45-62 gün sürüyor. Çağdaş İpek Yolu'nun Türkiye ayağı sayesinde bu süre 12-15 güne düşecek. Yaklaşık dörtte biri kadar bir zamanda yük istenilen adrese ulaştırılmış olacak." demişti.

Buna göre Demir İpek Yolu projesinin tamamlanması ticaret yapan ülkelere hangi konuda avantaj sağlayacaktır?

- A) Ürünlerin taşınma süresi
B) İşçilik giderleri
C) Üretim maliyetleri
D) Ürünlerin kalitesi

63.



Peştamal Dünya Pazarına Açıldı

Denizli'nin Tavas ilçesine bağlı Kızılcabölük beldesinde 650 yıldır geleneksel yöntemlerle üretimi sürdürülen el dokuması peştamal, ABD, İngiltere, İtalya, Fransa, Almanya, Avustralya gibi ülkelere ihraç ediliyor.

Yöre sakinleri, geleneksel yöntemle üretilen peştamalin yıllarca renk kaybetmeden kalabilmesi, tamamen pamuk olması, havludan hafif olması, hanımların çantasında fazla yer kaplamaması nedeniyle tercih edildiğini söyledi.

Dokudukları kumaşın Truva gibi tarihî filmlerin kostümlerinde kullanıldığını belirten yöre sakinleri, Osmanlı'dan bugüne bu geleneği sürdürdüklerini, ürettikleri ürünlerin büyük çoğunluğunu ihraç ettiklerini söyledi.



Yukarıda verilen habere göre peştamal ile aşağıdakilerden hangisine ulaşamaz?

- A) Tercih edilmesinde değişik nedenler etkili olmuştur.
- B) Üretimi geleneksel yöntemlerle gerçekleşmiştir.
- C) Yöre halkı için gelir sağlayan bir uğraştır.
- D) Dış ülkelerde sadece tarihi filmler için kullanılmıştır.

64. ... Son 6 ayda Kocaeli'nde açılan şirket sayısı %4 arttı. Bu ilden yapılan ihracat ise %39 arttı. Son 10 yılda Türkiye'nin en büyük 1.000 şirketi içerisinde Kocaeli'nden 64 şirketimiz var. Ticaret Bakanı konuşmasında şu ifadelerle yer verdi: "Kocaeli, bulunduğu coğrafi konum itibarıyla, bir sanayi ve liman kenti olması sebebiyle ticarete gelişme göstererek Türkiye'nin gelişimine katkı sağladı."

Buna göre Kocaeli'nin gelişiminde etkili olan faktörler arasında;

- I. ulaşım olanaklarının iyi olması,
- II. endüstrisi gelişmiş bir şehir olması,
- III. doğal kaynaklar bakımından zengin olması

durumlarından hangileri gösterilebilir?

- A) Yalnız I
- B) Yalnız III
- C) I ve II
- D) I, II ve III

65. Ülkeler arası ekonomik ilişkilerin kolaylaşmasında ulaşım kadar iletişim teknolojileri de etkili olmuştur. Eskiden istenilen bilgiye ulaşmak kolay değildi. Günümüzde ise telefon, Genel Ağ gibi pek çok iletişim aracı var. Günümüzde iletişim için kullandığımız araçlar haberleşme dışında, ülkeler arasında yapılan ticaretin de önemli bir unsuru olmuştur. Bu araçlar sayesinde ihtiyacımız olan ürünün hangi ülkede ve hangi firma tarafından üretildiğini öğrenebiliyoruz. Elektronik ticaret adı verilen bu sistemde farklı ülkelerdeki üreticilere dilediğimiz an ulaşabiliyoruz. Onlarla iletişim kurup kolayca ticaret yapabiliyoruz. Ulaşım ile ilgili sorunlarımızı giderip ürünün nakliye sırasındaki yolculuğunu Genel Ağ sayesinde takip edebiliyoruz.

Buna göre iletişim teknolojilerindeki gelişmelerin sonuçları için,

- I. Ülkeler arasındaki alışverişi güçlendirmiştir.
- II. Ülkelerin ihtiyaç duyduğu ürünleri daha kolay bulmasını sağlamıştır.
- III. Ürünün taşınması sırasında takibini kolaylaştırmıştır.

yargılarından hangileri söylenebilir?

- A) Yalnız I B) Yalnız II C) I ve III D) I, II ve III

66. Anadolu coğrafyasının içinde barındırdığı doğal, tarihî ve kültürel zenginlik Türkiye'yi turizm alanında önemli bir ülke hâline getirmiştir. Turizm faaliyetleri, ülkemizin kültür mirasını korumak, yaşatmak ve tanıtmak için önemli fırsatlar barındırır. Özellikle küçük tarihî kentler için yeni yatırım ve iş olanaklarını beraberinde getirir. Nevşehir, Hatay, Mardin ve Şanlıurfa gibi şehirler yabancı misafirleri ağırlayarak ülkeler arası ekonomik ilişkilerde turizm alanında ön plana çıkmaktadır.

Buna göre Türkiye'deki turizm faaliyetleri için,

- I. Ülkemizin tanıtımı için önemlidir.
- II. Yeni istihdamlar oluşturarak işsizliği azaltır.
- III. Sadece yabancı turistlere hizmet verilmektedir.

çıkarımlardan hangileri yapılabilir?

- A) Yalnız II B) Yalnız III C) I ve II D) I ve III

67. Turizm milletler arasında kültür alış-verişi için en önemli araçlar biridir. Turizm farklı bölgelerden ya da farklı ülkelerden insanları bir araya getirir. İnsanların birbirlerini daha iyi tanımalarını ve daha çok sevmelerini sağlar. Bugün, çok sayıda insan seyahat ediyor ve farklı kültürleri tanıma fırsatı buluyor. Turizmin gelişmesi ve turist sayısının aynı oranda artması, farklı kültürlerden insanların barış içerisinde yaşamasına önemli bir katkısı vardır.

Buna göre turizm için,

- I. Kültürel etkileşimi sağlar.
- II. Dünya barışına katkı sunar.
- III. Farklı milletlere karşı oluşan ön yargıları azaltır.

yargılarından hangilerine ulaşılabilir?

- A) Yalnız I B) Yalnız III C) I ve II D) I, II ve III

68. Aşağıda turizm ile ilgili verilen bilgilerden hangisi **yanlıştır**?

- A) Dinlenme, eğlenme, görme, tanıma vb. amaçla yapılan gezilerdir.
- B) İnsanların sadece bir yerden başka bir yere gitmelerine denir.
- C) İnsanlar kültürel, ekonomik ve toplumsal olarak iletişim halindedir.
- D) İnsanlar başka ülkelerin güzelliklerini görüp kültürlerini tanır.

69. İnsanlığın ortak mirası geçmişten günümüze kadar tüm insanların, toplumların oluşturduğu maddi ve manevi değerlerdir. Bu değerler bazen geçmiş dönemlerden kalan tarihi eser veya mekânlar olabileceği gibi bazen de doğal yollarla oluşmuş tabiat güzellikleri de olabilir. Bazı ortak miraslarımız hem doğal hem de tarihi yapılardan oluşur, işte bu tarz ortak miraslar karma miras olarak adlandırılır.

Buna göre ülkemizde bulunan ortak miras alanlarından hangisi karma miras alanı olarak değerlendirilebilir?

- A) Divriği Ulu Camii ve Darüşşifası
- B) Göreme Millî Parkı ve Kapadokya
- C) Edirne Selimiye Camii ve Külliyesi
- D) Göbeklitepe

70. Alman bir aile Türkiye ile ilgili araştırma yapmıştır. Yaptıkları araştırmada insanlık tarihinin ilk günlerinden günümüze kadar geçen sürede birçok medeniyetin bu topraklarda kurulmuş olduğunu öğrenmişlerdir. Bu medeniyetlere ve devletlere ait eserleri yakından incelemek amacıyla ülkemize gezi düzenlemişlerdir.

Buna göre Alman aile aşağıda yerlerden hangisine giderse tarih ve kültür turizminin dışında bir gezi yapmış olur?

- A) Sümela Manastırı
- B) Çifte Minareli Medrese
- C) Pamukkale Travertenleri
- D) Çatalhöyük

CEVAP ANAHTARI

1. Havayolunu seçerdim çünkü yaş sebze ve meyveler kolay bozulabilen ürünlerdir. Bu nedenle ulaşması gereken yere en kısa sürede ulaşması gerekir. Bunu yapabilecek ulaşım aracı da uçaktır.

2.

1	UNESCO dünyadaki ortak miras eserlerini korumayı amaçlayan uluslararası kuruluşlardan biridir.
2	Bir ülkenin ürettiği ürünleri dış ülkelere satmasına İHRACAT denir
3	İnsanların eğlenmek, dinlenmek, yeni yerler görmek ve tanımak amacıyla yaptıkları gezilere TURİZM denir.
4	Kolay bozulan ürünler uzak yerlere götürülecekse HAVA YOLU tercih edilmelidir.
5	Geçmişten günümüze kadar tüm insanların, toplumların oluşturduğu maddi ve manevi değerlere ORTAK MİRAS denir.
6	Bir ülkenin ihtiyaç duyduğu ürünleri başka ülkelerden almasına İTHALAT denir.

3. 1-Y, 2-Y, 3-D, 4-Y, 5-D

- 4.
1. Ortak Miras
 2. Ali KUŞÇU
 3. Mostar Köprüsü
 4. Safahat
 5. Victor Hugo

5.

Ulaşabilirim	Bilgiler	Ulaşmam
	E-ticaret yoluyla beyaz eşya ve küçük ev aletleri satışı yapılmıştır.	
	Verilen sektörler içinde en fazla e-ticaret geliri havayolu sektöründe olmuştur.	
	Elektronik sektörü içinde en fazla satışı yapılan cep telefonu ve tabletlerdir.	
	En az satış yemek sektöründe gerçekleşmiştir.	
	Seyahat sektöründeki satışların çoğu otobüs bileti olmuştur.	
	E-ticaret yoluyla en çok satış yapılan 2. Sektör giyim, ayakkabı ve aksesuar sektörüdür.	
	Ülkemizde e-ticaret satışları her yıl artmaktadır.	

CEVAP ANAHTARI

6. 1- Dedekorkut
2- Hipokrat
3- Bosnahersek
4- Osman Hamdi Bey
5- Aziz Sancar
6- Göbeklitepe
7- Adıyaman
8- Selimiye


7.

Ortak Miras Öğeleri	Edebiyat	Bilim	Düşünce	Sanat
Modern Batı edebiyatının önemli kurgu romanlarından olan Donkişot.	x			
Harvard (Harvırd) Üniversitesinin Genç Akademi üyeliğine seçilen fizik Mühendisi Canan DAĞDEVİREN		x		
Ünü çağları aşp günümüze kadar gelen felsefeci Sokrates.			x	
Günümüzde tıbbın babası olarak anılan İyonyalı hekim olan Hipokrat		x		
Klasik müziğin en önemli isimlerinden biri olan Beethoven'un besteleri				x
Ünlü Türk ressamı Osman Hamdi Bey'in yaptığı Kaplumbağa Terbiyecisi adlı tablo.				x
Oğuz Türklerinin bilinen en eski destansı hikâyeleri olan Dede Korkut Hikâyeleri	x			

8. 1- Antalya
2- Turizm
3- Tarihsel ve Kültürel
4- Çifte Minareli Medrese
5- Duden Şelalesi

CEVAP ANAHTARI

9.



10.

Şehir	İlgili Olduğu Alan
Malatya	Tarım
Batman	Madencilik
Antalya	Turizm
Rize	Tarım
Erzurum	Hayvancılık

CEVAP ANAHTARI

11. 1. Etkinlikte kaçınıcı çıkışa ulaşılır? 1.Çıkış

2. Etkinlikte doğru ve yanlış olan ifadelerin numaralarını kutulara yazınız.

Doğru İfadeler

1.2.4.5.6.7

Yanlış İfadeler

3

12.

Fikrine katıldığınız öğrenci hangisidir?	Bu fikri seçmenizin sebebi nedir?
Bilge	Yaş sebze ve meyve kolay bozulacağından hızlı olarak tüketim merkezlerine götürülmelidir. Uçak hızlı bir araç olduğundan bu ürünleri bozulmadan istediğimiz yere ulaştırabiliriz.

13. ÖNYARGILAR DEĞİŞİYOR

Turizm olarak adlandırılan gezilere katılan kişilere TURİST denir.

TURİZM; dinlenme, eğlenme, görme, tanıma gibi amaçlarla yapılan gezilerdir.

Ülke içerisinde yapılıyorsa İÇTURİZM denir.

Ülkeler arasında yapılıyorsa DIŞTURİZM denir.

İNSANLIĞIN ORTAK MİRASI

Bilim Mirası

Edebiyat Mirası

Sanat Mirası

Düşünce Mirası

TİCARET

Ülkeler arasında yapılan ticarete DIŞ TİCARET denir.

Ülke sınırları içerisinde yapılıyorsa İÇ TİCARET denir

Bir ülkenin ürettiği malları başka ülkelere satmasına İHRACAT denir

Bir ülkenin başka ülkelerden mal satın almasına İTHALAT denir

14. 1- DEMİRYOLU

2- ULAŞIM

3- E TİCARET

4- GENEL AĞ

5- DENİZ

6- KARAYOLU

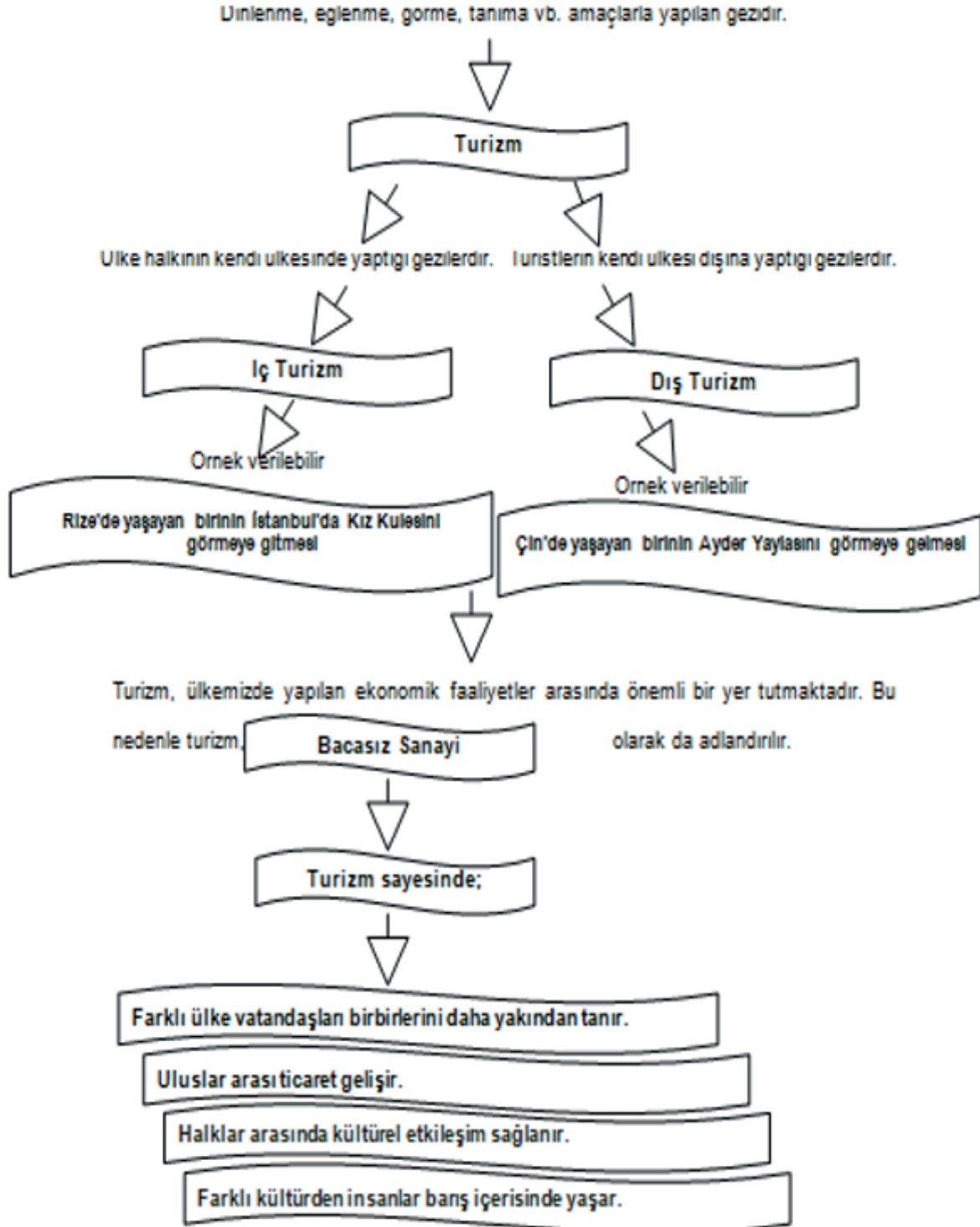
7- GEMİ

8- İZMİR

CEVAP ANAHTARI

15. 1- Trabzon
2- Antep Fıstığı
3- Doğalgaz
4- Kocaeli
5- Şanlıurfa
6- Peri Bacaları
7- Antalya
8- İthalat

16.



CEVAP ANAHTARI

17. a) Belçika, Almanya, Kuzey Kıbrıs Türk Cumhuriyeti (KKTC), ABD ve Hollanda
b) Türk çayının doğal olması ve aromasının insanlar tarafından beğenilmesi
c) Uluslararası tarım fuarlarında Türk çayının reklamı yapılabilir. (Öğrenci görüşleri)

18. Yeşil Y
Mor Y
Mavi D
Turuncu D
Gri D

19.



Safranbolu Evleri [KARABÜK]



Truva Antik Kenti [ÇANAKKALE]



Cumalıkızık Köyü [BURSA]



Divriği Ulu Camii ve Darüşşifası [SİVAS]



Hattuşa [ÇORUM]



Göbeklitepe [Şanlıurfa]




Selimiye Camii ve Kulliyesi [Edirne]



Efes Antik Kenti [İzmir]

CEVAP ANAHTARI

20.



[Edebiyat Mirası]



[Sanat Mirası]




[Edebiyat Mirası]



[Bilim Mirası]




[Düşünce Mirası]



[Edebiyat Mirası]



[Sanat Mirası]

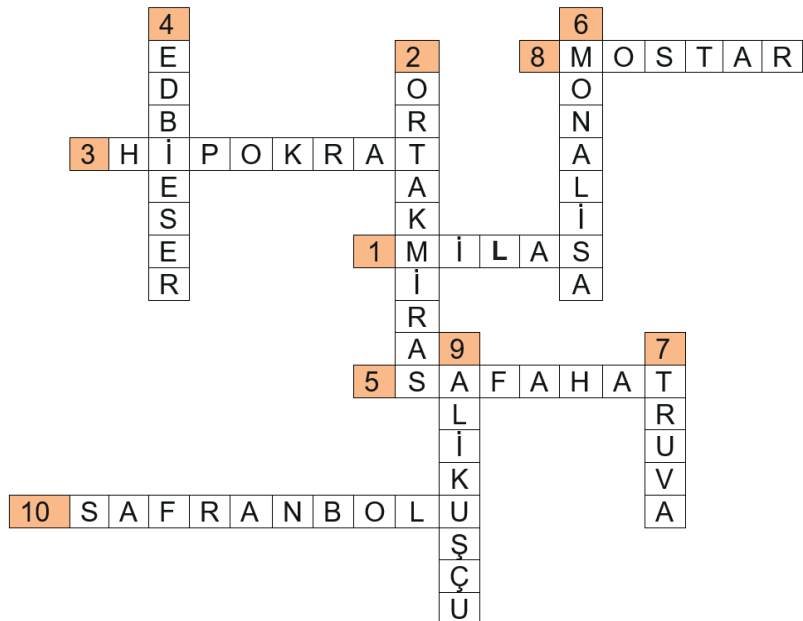


[Bilim Mirası]



[Sanat Mirası]

21.



CEVAP ANAHTARI

22. A	32. D	42. C	52. B	62. A
23. B	33. D	43. A	53. A	63. D
24. B	34. C	44. C	54. A	64. C
25. B	35. B	45. D	55. D	65. D
26. B	36. B	46. D	56. B	66. C
27. B	37. C	47. D	57. D	67. D
28. C	38. A	48. A	58. A	68. B
29. C	39. C	49. A	59. D	69. B
30. D	40. D	50. B	60. A	70. C
31. D	41. D	51. D	61. A	



meb.gov.tr