

6.SINIF 7. ÜNİTE ÇALIŞMA FASİKÜLÜ

SOSYAL BİLGİLER

Bu kitapçık ANTALYA Ölçme Değerlendirme Merkezi
tarafından hazırlanmıştır.



1. Aşağıdaki tanımların karşısında verilen alana, uygun olan kavramı yazarak doğru eşleştirmeyi yapınız.

Popüler kültür	Dış ticaret	İhracat	Mavi Akım
İthalat	Balkan Antantı	TİKA	Barışçılık
Dış politika	Sadabat Paketi	TRT AVAZ	TÜRKSOY

Kavramın Adı	Kavramın Tanımı
.....	1. Yaşanılan zamana göre değişen yaşam biçimini ve alışkanlıkları ifade eden halkın ilgisini çeken geçici kültüre denir.
.....	2. Bir devletin sınırları ötesindeki devletlere uyguladığı siyasete denir.
.....	3. Ülkelerin, karşılayamadığı ihtiyaçlarını başka ülkelere satın almasına denir.
.....	4. Ülkeler arasında yapılan alışverişe denir.
.....	5. Ülkelerin ihtiyacından fazla ürettiği ürünleri başka ülkelere satmasına denir.
.....	6. Dışişleri Bakanlığına bağlı olarak 1992 yılında kurulmuştur. Türkçe konuşan topluluklar arasında kültürel ilişkileri geliştirmek, üye olan devletlerin kalkınmalarına yardımcı olmak amacı taşımaktadır.
.....	7. 1937 yılında Mustafa Kemal Atatürk öncülüğünde, Orta Doğu'da barışı sağlamak ve Doğu sınırlarımızı güvence altına almak amacıyla kurulmuştur.
.....	8. Rusya'dan Türkiye'ye doğal gaz nakletmek için Karadeniz üzerinden Türkiye'ye ulaşan büyük boru hattıdır.
.....	9. Mustafa Kemal Atatürk'ün milli dış politika kapsamında, Almanya ve İtalya'nın saldırgan politikalarına karşı barışı ve batı sınırlarımızdaki güvenliğini sağlamak için 1934 yılında kurulmasına öncülük ettiği ittifaktır.
.....	10. Türkiye Cumhuriyeti ile Türkçe konuşan ülkelerle kültür köprüsü kurmayı hedefleyen TV kanalıdır.
.....	11. Mustafa Kemal ATATÜRK'ün "Yurtta sulh, cihanda sulh" sözünün karşılığı olan dış politika ilkesidir.
.....	12. 1993 yılında Türkiye, Azerbaycan, Kazakistan, Kırgızistan, Türkmenistan ve Özbekistan'ın katılımlarıyla, Türk dili konuşulan coğrafyalarda dili, tarihi ve kültürü ortak olan halklar arasındaki kardeşliği güçlendirmek, ortak Türk kültürünü gelecek nesillere aktarmak ve dünyaya tanıtmak amacıyla kurulmuş teşkilattir.

2. Son yıllarda adını sıkça duymaya başladığımız e-ticaret kavramını açıklayınız.

.....

.....

.....

.....

3. Aşağıdaki cümlelerden doğru olanların başına “D”, yanlış olanların başına “Y” yazınız.

- () 1. TİKA, Sovyetler Birliği'nin parçalanmasından sonra bağımsızlığını kazanan Türk devletlerine, Türkiye Cumhuriyeti'nin sosyal, ekonomik ve kültürel alanda sağlayacağı destekleri koordine etmek ve uygulamak amacıyla kurulmuştur.
- () 2. Ülkemiz ihracatında petrol, doğal gaz, otomotiv ve elektronik eşyalar çoğunluktadır.
- () 3. "Yavru Vatan" ifadesini Azerbaycan Cumhuriyeti için kullanırız.
- () 4. Türk Keneşi, soydaş ve Türk dili kullanan ülkelerle iş birliğini geliştirmek için kurulmuştur.
- () 5. Türk Silahlı Kuvvetlerinin Somali'den Gürcistan'a, Bosna Hersek'ten Kosova'ya, Afganistan'dan Lübnan'a kadar dünyanın dört bir yanında barış gücü operasyonlarında görev alması dünya barışına katkıda bulunmak istediğini gösterir.
- () 6. Bir milletin geçmişten günümüze sahip olduğu maddi ve manevi değerler bütününe kültür denir.
- () 7. Antalya'da yetiştirilen turuncgillerin Rusya'ya satılmasına ithalat denir.

4. Kutucukların yanında harfleri karışık olarak verilen kavramları düzelterek kutucuklara yerleştiriniz. Numaralanmış kutucuklardaki harfleri kullanarak şifreyi oluşturunuz.

The diagram illustrates the construction of a 11-digit password from 11 words. Each word is represented by a sequence of boxes, with the starting box of each word containing a number from 1 to 11. Arrows point from the words to the corresponding boxes in the password sequence.

Word	Start Box	End Box	Letters
KATEMÜYETBİLİ	1	11	K A T E M Ü Y E T B İ L İ
CATİHRA	2	8	C A T İ H R A
RACOĞFI RETİŞA	3	11	R A C O Ğ F İ R E T İ Ş A
LAŞYARMADIM	4	11	L A Ş Y A R M A D I M
YAMED	5	8	Y A M E D
NESUCO	6	9	N E S U C O
ARALARULUSSI	7	11	A R A L A R U L U S S I
CANAZERBAY	8	11	C A N A Z E R B A Y
LATHAİT	9	11	L A T H A İ T
ŞİD CATİRET	10	11	Ş İ D C A T İ R E T
PÜLERPO TÜRKÜL	11	11	P Ü L E R P O T Ü R K Ü L

ŞİFRE: 1 2 3 4 5 6 7 8 9 10 11

5. Aşağıda verilen açıklamalardan, aralarında sebep sonuç ilişkisi bulunanları eşleştiriniz.

1	Ülkemizin jeopolitik konumunun siyasi, kültürel, ekonomik ve askeri açıdan kritik bir öneme sahip olması.	<input type="radio"/>	Ülkemizin biyoçeşitlilik, tarımsal ve ekonomik potansiyelinin tanıtılması.
2	Ülkemizin, 2017-2021 yılları arasında, Birleşmiş Milletler Bilim ve Kültür Teşkilatı (UNESCO) Yürütme Kurulu üyeliğine seçilmesi.	<input type="radio"/>	Bakü'den çıkarılan petrolün, boru hatları ile Tiflis üzerinden Adana'ya aktarılıp buradan da tanker ve gemilere yüklenerek alıcı ülkelere ulaştırılması.
3	Türkiye'nin, sahip olduğu güçlü ordusu ile askeri güç bakımından dünyanın sayılı ülkeleri arasında yer alması.	<input type="radio"/>	Azerbaycan, Kazakistan, Kırgızistan, Özbekistan, Türkmenistan ve Türkiye'nin üyeliği ile Uluslararası Türk Kültürü Teşkilatı'nın (TÜRKSOY) kurulması.
4	Ülkemizin, Asya- Avrupa Kıtaları arasında, enerji kaynaklarının önemli bir bölümünü elinde bulunduran, Ortadoğu ve Asya ülkelerine yakın bir konumda bulunması.	<input type="radio"/>	2017 yılının "Ahmet Yesevi ve Fuat Köprülü Yılı", 2020 yılının "Bilge Tonyuyuk Yılı" ilan edilmesi gibi çalışmalarla, ülkemizin ve Türk kültürünün dünyaya tanıtılması.
5	Dünya Botanik Sergisi EXPO'nun 2016 yılında Antalya'da yapılması.	<input type="radio"/>	Ülkemizin, TİKA, TÜRKSOY, NATO, Birleşmiş Milletler, Avrupa Konseyi, G-20, İslam İşbirliği Teşkilatı gibi uluslararası kuruluşların üyesi ya da kurucusu olması.
6	Türk kültürünün araştırılmasının ve Türkçe konuşan ülkeler arasında kültürel ilişkilerin geliştirilmesinin amaçlanması.	<input type="radio"/>	Ülkemizin, kendi coğrafyasında Ortadoğu, Bakanlar ve Kafkaslarda meydana gelen sorunların çözümünde etkin rol oynaması, Somali, Lübnan, Bosna-Hersek, Kosova, Afganistan gibi ülkelerde barış gücü olarak görev alması.

6. Aşağıdaki cümlelerden doğru olanların başına "D", yanlış olanların başına "Y" yazınız.

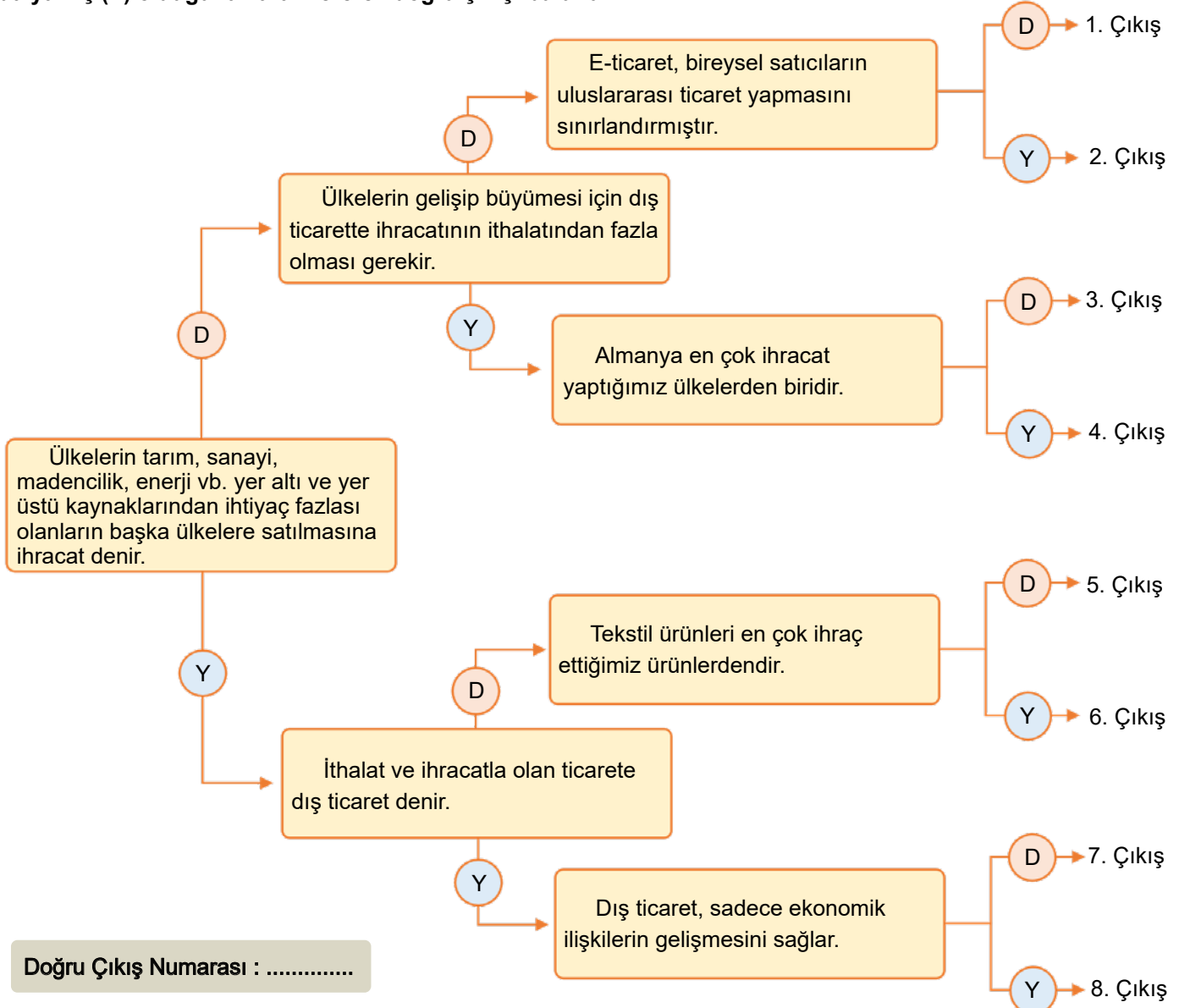
- () 1. Atatürk'e göre dış politikada tam bağımsızlık içinde ve barışçıl olmalıyız.
- () 2. Türkiye'nin Suriyeli mültecilere sahip çıkması insanlığa verdiği değer kanıtıdır.
- () 3. Gelişmemiş ülkeler ham maddeyi ithal edip işleyerek mamul ürün olarak ihraç ederler.
- () 4. Balkan Antantı ve Sadabat Paketi'nin imzalanması dış politikada yayılmacı olmamızın sonucudur.
- () 5. Popüler Kültür mantığında "kullan at" anlayışı toplumu tüketmeye yöneltir.
- () 6. Türkiye, Orta Asya Türk Cumhuriyetleri ile sadece ekonomik ilişkiler kurmaktadır.
- () 7. Bilinçli bireyler olarak alışverişlerimizde ülke içinde üretilen yerli malı ürünleri tüketmemiz, aynı zamanda milli üretime katkıda bulunmamız, ülkemizin gelişmesi açısından oldukça önemlidir.

7. Ülkemizin Türk Cumhuriyetleri ve komşu devletlerle olan ilişkilerini kültürel, sosyal, siyasi ve ekonomik açıdan eşleştiriniz.

1	16 Aralık 1991'de Türkiye'nin, Kırgızistan'ı tanıyan ilk ülke olması ve iki ülke arasında karşılıklı elçiliklerin açılması.
2	Bakü-Tiflis-Kars Demir Yolu Projesi ile tarihi İpek Yolu'nun canlandırılması için yapılan çalışmalar.
3	Suriye'de yaşanan karışıklık ortamından ülkemize sığınan mültecilerin sağlık, eğitim, beslenme, barınma gibi ihtiyaçlarının giderilmesine yönelik yapılan çalışmalar.
4	Türkiye, Azerbaycan ve Kazakistan'ın ortak başvurusu sonucunda Dede Korkut Masallarının UNESCO Dünya Somut Olmayan Kültür Mirası Listesi'ne kaydettirilmesi.

<input type="radio"/>	Kültürel
<input type="radio"/>	Siyasi
<input type="radio"/>	Ekonomik
<input type="radio"/>	Sosyal

8. Aşağıda verilen kavram haritasındaki ifadeleri en soldaki ifadeden başlayarak okuyunuz. İfadelerin doğru (D) ya da yanlış (Y) olduğuna karar vererek doğru çıkışı bulunuz.



9. Aşağıda verilen cümlelerdeki boşlukları, uygun kavramları yazarak tamamlayınız.

Popüler Kültür

İslam İşbirliği Teşkilatı

Hazar

Özbekistan

Türkiye Maarif Vakfı

Gürcistan

Kültür Erozyonu

UNESCO

İpek Yolu

Jeopolitik

1. Türkiye uluslararası alanda kültürel olarak faaliyet gösteren kuruluşlardan en önemli yönetici organına seçilmiştir.
 2. Bakü - Tiflis - Kars Demir Yolu Projesi ile tarihi ticaret yolu olanyeniden canlandırılmak istenmiştir.
 3. Türkiye'nin uluslararası alanda üstlendiği siyasi role örnek olarak..... faaliyetleri verilebilir.
 4. Türkiye adına yurt dışında okullar açan kuruluş.....
 5. Belli bir dönem için geçerli olan, hızlı üretilen ve hızlı tüketilen kültürel öğelerin bütününe denir.
 6. Dizi ve sinema filmi, sosyal medya gibi yerlerde "trend", "ikon" gibi kelimeler zamanla neden olmaktadır.
 7. 1991 yılında Sovyetler Birliği'nin dağılmasıyla bağımsız olan ve başkenti Taşkent olan Türk devleti
 8. Ülkemizin enerji ihracatı yapan doğu ülkeleri ile ithalatçı batı ülkelerinin enerji yollarının kesiştiği noktada yer alması ülkemize bir önem kazandırmıştır.
 9. Orta ve Doğu Karadenizdeki illerimizde çay ve fındık hasadı zamanında oluşan ihtiyaç nedeniyle; komşumuz olan uyruklu vatandaşlar çalışma izni alarak ülkemizde mevsimlik tarım işlerinde çalışmaktadır.
 10.Havzası'ndan çıkartılan petrol, Bakü-Tiflis-Ceyhan Boru Hattı'yla Avrupa'ya taşınmaktadır.
10. Coğrafi işaretli ürünler, belirgin bir niteliği, ünü veya diğer özellikleri itibariyle bir yöre, alan, bölge veya ülke ile özdeşleşmiş bir ürünü gösteren ad veya işaretlerdir.

Bu açıklamadan yola çıkarak çevrenizde "coğrafi işaretli ürünler" sınıfına girebilecek olan ürünleri yazınız.

.....

.....

.....

.....

11. Dünyada çocuklara armağan edilmiş ilk ve tek bayram olan 23 Nisan Ulusal Egemenlik ve Çocuk Bayramı'nı Türkiye'nin uluslararası rolü açısından nasıl değerlendirirsiniz?

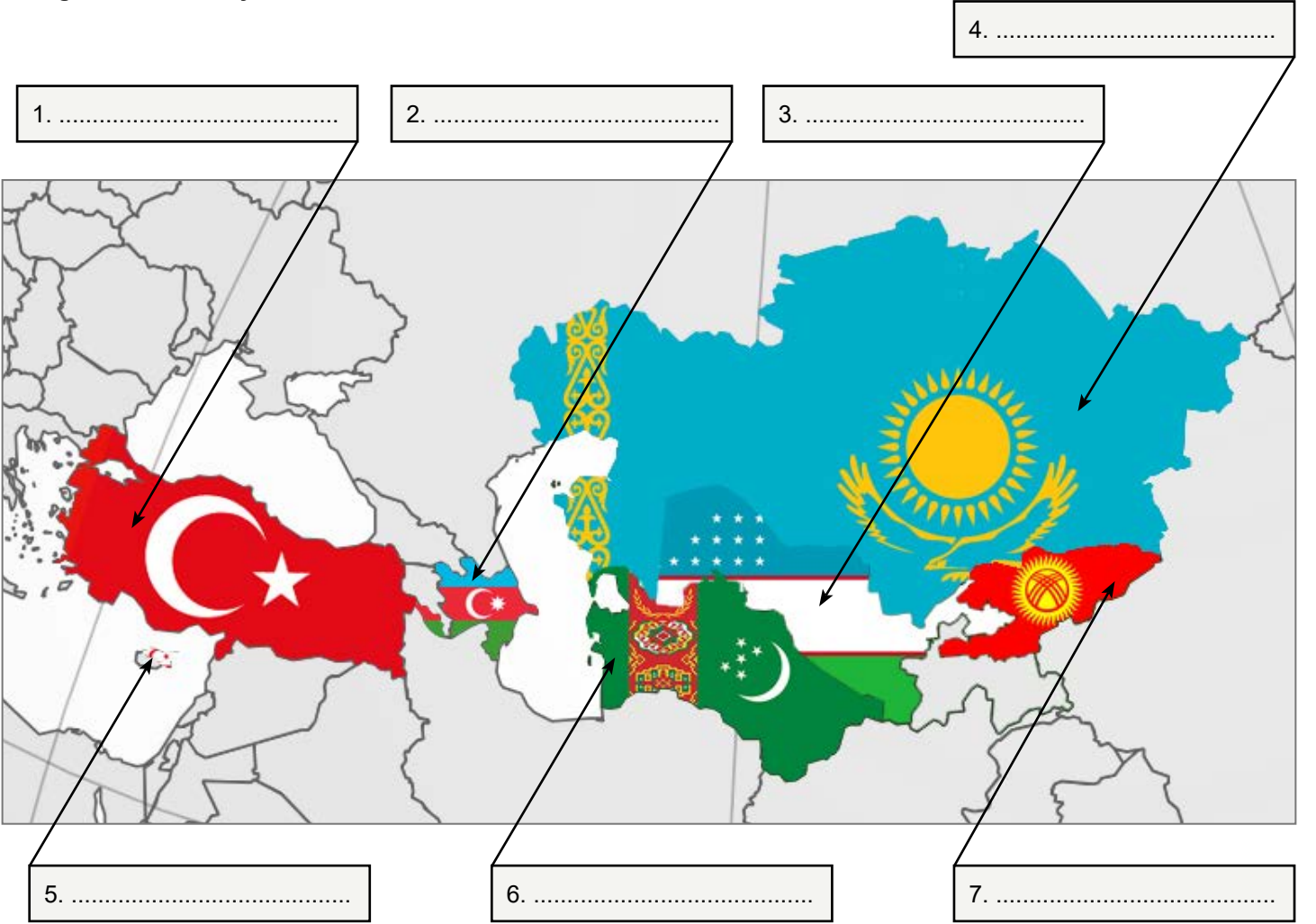
.....

.....

.....

.....

12. Aşağıdaki harita üzerinde Bağımsız Türk Devletleri, bayrakları ile birlikte verilmiştir. Devletlerin isimlerini ilgili kutucuklara yazınız.



13. Aşağıdaki cümlelerden doğru olanların başına “D”, yanlış olanların başına “Y” yazınız.

- () 1. TRT AVAZ, Türkiye Cumhuriyeti ve Türkçe konuşan coğrafyalar arasında kültür köprüsü olmayı hedefler.
- () 2. Coğrafi işaretli ürünler belirgin bir niteliği, ünü veya diğer özellikleri itibarıyla bir yöre, alan, bölge veya ülke ile özdeşleşmiş bir ürünü gösteren ad veya işaretlerdir.
- () 3. Ülkemiz bulunduğu konum itibarıyla petrol ve doğal gaz zengini Orta Doğu ülkeleri ile Avrupa'daki tüketici pazarları arasında stratejik bir konuma sahiptir.
- () 4. Ülkemiz sadece sınır komşularıyla petrol ticareti gerçekleştirmektedir.
- () 5. Uluslararası etkinlikler ülkelerin tanıtımları bakımından herhangi bir önem taşımaz.
- () 6. Günümüzde çocuk kıyafetlerinin üstündeki baskılarda ve oyuncak raflarında Keloğlan, Malkoçoğlu, Battal Gazi, Nasrettin Hoca gibi değerlerimiz ve kahramanlarımızın yerini popüler kültür öğelerinin alması milli kültüre zarar vermez.
- () 7. Bir ülke dışarıdan fazla mal alıp dışarıya az mal satıyorsa dış ticaret açığı ortaya çıkar.

14. TİKA 24 Ocak 1992 yılında T.C. Dışışleri Bakanlıđına bađlı olarak kurulmuştur. Günümüzde ise; T.C. Kùltür ve Turizm Bakanlıđı'na bađlı olarak hizmetlerini devam ettirmektedir. Kuruluşt amacı özellikle Türk dilinin konuşılduđu ùlkeler, komşı ùlkeler ve geliştmekte olan ùlkelerle ekonomik, sosyal, kùltürel iş birliđi oluşturmaktır.

Bu dođrultuda TİKA'da görev yapan bir proje danışmanı olsaydınız ne gibi faaliyetler yapardınız?

.....

.....

.....

.....

.....

.....

15. Aşağıdaki ifadeleri milli kùltüre ya da popüler kùltüre uygunluđu açısından, ifadelerin yanlarındaki harfleri ilgili kutucuđa yazarak eşleştiriniz.

A	▶ Ceyda'nın, yeni doğan bebeđinin doğumunu, arkadaş ve akrabalarıyla bir arada kutlamak için televizyon dizilerinde gördüđu bebek partilerinden düzenlemesi
B	▶ Aslı'nın, bayramda aile büyüklerini ziyaret edip, onların ellerini öpüp, kalabalık bayram sofrasında uzun ve doyurucu sohbetler yapmak yerine, bayram öncesi internette gördüđu tatil reklamlarından etkilenip, bayramı otelde tatil yaparak geçirmesi
C	▶ Tolga'nın, arkadaşlarıyla yaptığı buluşmalarda, selamlaşma ve vedalaşma sırasında "selam kanka, see you" gibi ifadeler yerine; "merhaba, nasılsın, hoşça kal" gibi ifadeler kullanması
D	▶ Akşam yemeđini hazırlayan Aylin Hanım'ın, yemek piştikten sonra "kokusu komşıya gitmiştir" düşüncesiyle yan komşıya bir tabak yemek götürmesi
E	▶ Arda'nın, hazır ve hızlı yemek anlamına gelen burger, pizza, nuggets gibi yiyecekleri beslenmesinde sürekli tercih etmesi
F	▶ Esra'nın, pop, hip-hop, rap gibi müziklerden daha çok, türkülerimiz ve halk oyunlarına ilgi duymasından dolayı, bağlama kursuna yazılmaya karar vermesi

MİLLİ KÙLTÜRÜMÜZ

POPÜLER KÙLTÜR

16. Mustafa Kemal ATATÜRK'ün "Yurtta sulh cihanda sulh" sözünü milli dış politikamız açısından değerlendiriniz.

.....

.....

.....


.....

.....

.....

17. COVID-19 salgını küresel bir sağlık krizidir. Bu salgına karşı ülkelerin aldığı önlemler, eşi benzeri görülmemiş ekonomik ve siyasi sorunları da beraberinde getirmiştir. Dünyada neredeyse %90 civarında bir şekilde sosyal izalasyon uygulanmış, insanlar sokaklara çıkamamış, iş yerleri kapanmış, uçuşlar yasaklanmış, hükûmetlerin almış olduğu önlemler eleştirilmiş, hatta istifa eden hükûmetler olmuştur.

Aşağıdaki boşluklara Covid-19 salgınının uluslararası alandaki etkilerini içeren kavramlar yazınız.



18. Aşağıda verilen cümlelerdeki boşlukları, uygun kavramları yazarak tamamlayınız.

Tescilli Coğrafi İşaret

Ermenistan

Kazakistan

Birleşmiş Milletler

İhracat

Orta Oyunu

Gürcistan

NATO

Gıda Ürünleri

Avrupa Konseyi

1. Türkiye'nin I. Karabağ Savaşı sırasında Türk toprağı olan Azerbaycan topraklarını işgal etmesi sonucu ticari ve diplomatik ilişkilerini kesip, tüm sınır kapılarını kapattığı komşu ülke
2. İnsan hakları ve demokrasi ilkelerini korumak ve güçlendirmek, üye ülkelerin sosyal ve kültürel alanlarda ilerlemesine ve gelişmesine katkıda bulunmak amacıyla 1949 yılında Türkiye'nin de kurucu üyeler arasında olduğu Avrupa teşkilatının adı
3. Belirgin bir niteliğı, ünü veya diğer özellikleri itibarıyla bir yöre, alan, bölge veya ülke özdeşleşmiş bir ürünü gösteren ad veya işaretlere..... denir.
4. 1944 yılında Sovyet Hükûmeti tarafından sürgün edilen Ahıska Türklerinin ana vatanlarına dönüş sürecinde Türkiye'nin iş birliğı yaptığı ülke
5.çevresi izleyicilerle dolu bir alan içinde, yazılı bir metne dayanmadan meddah tarafından oynanan oyunun adıdır.
6. Ahmet Yesevi Üniversitesi Türkiye ilearasında kültür köprüsü görevi yapmaktadır.
7. 1952 yılından bu yana üyesi olduğumuz ve müttefikler arasında askeri iş birliğini amaçlayan uluslararası kuruluş
8. Bir ülkenin başka bir ülkeye ürün satmasına denir..
9. Türkiye'nin dışarıya en fazla sattığı (ihraç ettiği) ürünlerin başında gelir.
10. 1945 yılında ülkemizin de kurucuları arasında olduğu, günümüzde 193 üyesi olan, barışı tehdit eden gelişmeleri önlemek, ülkeler arası ekonomik ve kültürel işbirliğini sağlamak amacıyla olan uluslararası kuruluş Teşkilatı'dır.

19. Aşağıdaki bulmacada bağımsız olan Türk Devletleri ve başkentleri, yanında ise bu devletlerin bayrakları verilmiştir. Bulmacadan devletleri ve başkentlerini bularak bayrakların yanındaki boşluklara yazınız.

C	N	U	R	S	U	L	T	A	N	Ç	T	R	B	J
Z	H	Ğ	Ş	E	S	Ç	J	L	E	F	K	O	Ş	A
B	F	B	U	R	J	T	R	Ç	R	K	B	Ç	R	T
Ş	T	I	K	A	Z	A	K	İ	S	T	A	N	B	N
R	A	J	F	N	G	K	K	Ç	B	G	H	Ç	A	A
Ö	Z	B	E	K	İ	S	T	A	N	Ç	R	J	Ş	T
B	E	Ü	Ç	A	D	T	C	B	T	R	G	T	K	S
T	R	B	G	R	T	N	E	J	R	Ç	T	Ç	A	İ
Ç	B	D	Ç	A	G	J	Ç	R	K	Ü	K	J	B	Z
N	A	T	S	İ	N	E	M	K	R	Ü	T	B	A	İ
B	Y	K	B	K	T	G	B	K	Ç	B	K	Ç	T	G
T	C	R	J	T	Ç	B	İ	Ş	K	E	K	B	J	R
Ç	A	G	B	R	J	Y	T	Ç	R	B	T	R	Ç	İ
R	N	R	T	N	E	K	Ş	A	T	J	Ç	R	B	K
J	Ğ	N	Ş	Z	T	F	J	Ü	K	A	B	H	Z	Ğ

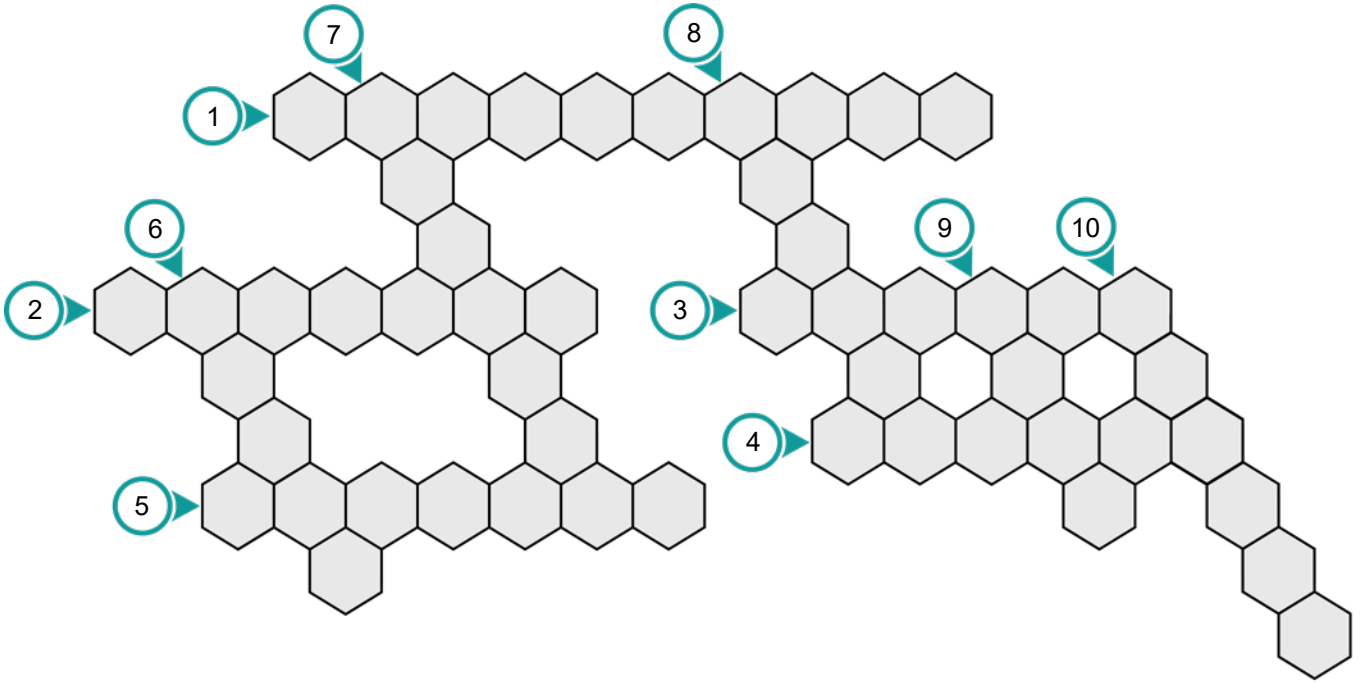
Bayrak	Devlet	Başkent








20. Aşağıda verilen bulmacayı çözünüz.



1. 2019'da 28 yıl devlet başkanlığı yapan Nursultan Nazarbayev'in görevden çekilmesini takiben kendisinin onuruna başkentinin adı Astana iken; Nursultan olarak değiştirilen Türk Cumhuriyeti
2. Bir ülkenin, başka ülkelerden mal veya hizmet satın alması
3. Bağımsız Türk Devletlerinden Kırgızistan Cumhuriyeti'nin başkenti
4. Azerbaycan Cumhuriyeti'nden en fazla satın aldığımız yer altı kaynağı
5. Ermenistan tarafından işgal altında iken 2020 yılında Vatan Muharebesi ile Azerbaycan tarafından kurtarılan Türk toprakları
6. Azerbaycan'ın Hazar Denizi'nden çıkardığı doğal gazı Türkiye üzerinden Avrupa'ya transfer eden boru hattı
7. En fazla ihracat yaptığımız ülke
8. En uzun kara sınırimız olan güney komşumuz
9. Azerbaycan'ın başkenti Bakü şehrinden başlayıp, Gürcistan'ın başkenti Tiflis şehrinden geçerek ülkemize ulaşan bölgesel demir yolu hattının Türkiye'deki ilk durağı olan şehrimiz
10. Bir toplumu diğer toplumlardan farklı kılan, geçmişten beri değişerek devam eden, kendine özgü sanatı, inançları, örf ve adetleri, anlayış ve davranışları ile onun kimliğini oluşturan yaşayış ve düşünüş tarzı

21. Komşu ülke Suriye'de 2011 yılında çıkan iç savaş neticesinde 4 milyonun üzerinde Suriyeli ülkemize sığınmış ve ülkemizde onların her türlü ihtiyaçları karşılanmıştır.

Bu mültecilere sahip çıkmamızı insani değerler açısından açıklayınız.

.....

.....

.....

.....

.....

22. Mustafa Kemal Atatürk'ün önderliğinde belirlediğimiz millî dış politika ilkelerini verilen açıklamalarla eşleştiriniz.



Yurtta barış dünyada barış

Devletlerin eşitliği

Komşu devletlerle barış içinde yaşama

Karşılıklılık (mütekabiliyet)

Tam bağımsızlık

1 -

Uluslararası ilişkilerde devletlerin siyasi olarak eşit olması

2 -

Millî sınırlar içinde bağımsız yaşamak

3 -

Yurtta ve dünyada barış ortamına katkıda bulunmak

4 -

Komşularımızla ve bütün devletlerle iyi geçinmek

5 -

Uluslararası ilişkilerde karşılıklı güven ve saygıyı hedef tutmak

23. **Resfebe:** Resimler ve harfleri farklı şekillerde kullanarak bir kelimeyi ve cümleyi buldurmaya dayanan bir akıl oyunu türüdür. Dikkat ve konsantrasyonu geliştirme, kavramlamları ilişkilendirme becerisi kazandırma, yaratıcılığı artırma gibi amaçları taşımaktadır. Biraz mantık ve hayal gücü ile çözülebilir.

Aşağıdaki resfebe örneklerini çözünüz.



1-



2-



3-



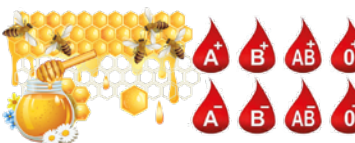
4-



5-



6-



7-



8-



9-

24. Aşağıdaki haritada ülkemizin komşuları bayrakları ile birlikte verilmiştir. Komşu ülkelerimizin isimlerini bayrağın altındaki kutucuklara yazınız



25. Aşağıdaki cümlelerden doğru olanların başına “D”, yanlış olanların başına “Y” yazınız.

- () 1. Karşılıklılık (mütekabiliyet) uluslararası ilişkilerde karşılıklı güven ve saygıyı hedef tutmaktır.
- () 2. Ülkelerin gelişip büyümesi için dış ticarete ithalatının (dış alım) ihracatından (dış satım) fazla olması gerekir.
- () 3. Ülkemiz, petrol ve doğal gaz zengini Orta Doğu ile enerji ihtiyacı olan Asya arasında stratejik bir konumdadır.
- () 4. Kültürlerarası etkileşim teknolojik gelişmelerle daha da hızlanmıştır.
- () 5. “İki Devlet Tek Millet” ifadesi Türkiye ve Azerbaycan’ın kardeşliğini vurgulamaktadır.
- () 6. TİKA, TÜRKSOY ve İİT gibi kuruluşlar Türk Cumhuriyetleri ve İslam coğrafyası ile iş birliği sağlamak amacıyla kurulmuştur.
- () 7. Nasreddin Hoca fıkraları popüler kültürün bir örneğidir.

26. Ülkemizin gelişmesi için ihracat ve ithalat politikamız nasıl olmalıdır? Bu konuda bize düşen görevler nelerdir?

.....

.....

.....

.....

27. Aşağıdaki tren vagolarına ülkemizden başka ülkelere satılan ve başka ülkelerden satın alınan ürünleri yükleyiniz.



28. Kültür ile ilgili aşağıdaki soruları cevaplayınız.

Kültür nedir?

.....

.....

.....

Popüler kültür nedir? Tanımlayınız ve örneklerle açıklayınız.

.....

.....

.....

.....

Popüler kültür öğelerinden zararlı bulduğunuz bir tanesini örnek vererek açıklayınız.

.....

.....

.....

.....

Sosyal medyanın popüler kültürün yayılmasındaki etkisini kısaca değerlendiriniz.

.....

.....

.....

.....

29. Gelişmiş ülkelerin dış ticareti incelendiğinde;

- İthal ettiği ürünlerin ham madde ya da yarı işlenmiş madde olduğu,
- İhraç ettiği ürünlerin ise işlenmiş ve mamul hale getirilmiş ürünler olduğu görülmektedir.

Bu bilgilere göre gelişmiş ülkelerin ticari faaliyetlerinde aşağıdakilerden hangisinin görülme olasılığı daha düşüktür?

- A) Ham petrol ithalatı fazladır.
- B) Elektronik eşya ve makine ihracatı fazladır.
- C) Petrol ve madenleri işleme sanayisi gelişmiştir.
- D) İthalat giderleri ihracat gelirlerinden fazladır.

30. Ülkeler, kaynaklarından elde ettikleri ihtiyaç fazlası ürünleri diğer ülkelere satar. Eğer kendi kaynakları, ihtiyaçlarını karşılamaya yetmezse bunu diğer ülkelerden satın alarak karşılar. Ülkeler arasında yapılan bu faaliyete dış ticaret denir.

Ülkemizin sahip olduğu kaynaklara göre aşağıdakilerden hangisi doğrudur?

ALDIKLARIMIZ

- A) Petrol, doğal gaz
- B) Bor, krom
- C) Üzüm, kayısı
- D) İlaç, tıbbi malzeme

SATTIKLARIMIZ

- Fındık, incir
- Ananas, mango
- Yolcu uçağı
- Kahve, kakao

31. Ülkeler arasında kültürel, sosyal, siyasi ve ekonomik ilişkiler vardır. Ülkeler birbirleriyle olan ilişkilerini, belirledikleri dış politika esaslarına göre yürütürler. Ülkemiz de dış politikada Mustafa Kemal Atatürk'ün belirlediği temel ilkelere göre hareket etmektedir.

Buna göre aşağıdakilerden hangisi Mustafa Kemal Atatürk'ün belirlediği milli dış politika ilkelerinden biri değildir?

- A) Uluslararası eşitlik
- B) Tam bağımsızlık
- C) Sınırlarını genişletme düşüncesi
- D) Karşılıklılık (Mütekabiliyet)

32.

Birleşmiş Milletler Mülteciler Yüksek Komiseri Grandi, Türkiye'nin Arakan Müslümanlarına yönelik insani yardımlarına ilişkin, "Türkiye insani yardımlarda küresel olarak cömert bir ülke olma özelliğini sürdürüyor." dedi.

HABER 1

Birleşmiş Milletler Mülteci Örgütü'nün (UNHCR) 2019 yılı verilerine göre Türkiye, 4 milyon Suriyeli mülteciye kucak açmış durumdadır.

HABER 2

Türkiye, dünya ülkeleri arasında millî gelire oranla en fazla yardım yapan ülkedir. Örnek olarak Türkiye savaş nedeniyle yıkıma uğramış Afganistan'da yaşama hakkı gibi bir takım özgürlüklere saygılı yeni bir düzen oluşturulmasında aktif rol almıştır.

Yukarıdaki bilgilerden hareketle Türkiye'nin uluslararası alanda üstlendiği rolle ilgili aşağıdakilerden hangisi söylenemez?

- A) Dünya barışına önem ve destek verdiği
- B) Ülke sınırlarını genişletmeye çalıştığı
- C) Uluslararası alanda yapıcı bir rol üstlendiği
- D) İnsani yardım konusunda duyarlı olduğu

33. Devletimiz, soydaş ve Türk dili kullanan ülkelerle iş birliğini geliştirmek, Türk Cumhuriyetleri ve İslam coğrafyası ile iş birliği sağlamak amacıyla çeşitli birlik ve teşkilatlar kurmuş ya da bu kuruluşların içinde yer almıştır.

Aşağıdakilerden hangisi verilen bilgi kapsamındaki oluşumlara örnek gösterilemez?

- A) Birleşmiş Milletler Teşkilatı (BM)
- B) Türk İşbirliği ve Koordinasyon Ajansı Başkanlığı (TİKA)
- C) Türk Kültür ve Sanatları Ortak Yönetimi (TÜRKSOY)
- D) İslam İşbirliği Teşkilatı (İİT)

34. Günümüzde Türk Cumhuriyetleriyle ekonomik, kültürel, sosyal ve siyasi ilişkilerimizi sağlayan kuruluşlar arasında aşağıdakilerden hangisi yoktur?

- A) Türk Konseyi
- B) AKUT
- C) TÜRKSOY
- D) TİKA

35. Popüler kültür; belli bir dönem için geçerli olan, hızlı üretilen ve tüketilen kültürel öğelerin bütünü olarak tanımlanabilir. Popüler kültür unsurları, çoğu zaman toplumların kendi değerleriyle ters düşmektedir.

Buna göre aşağıdakilerden hangisi popüler kültüre örnek olarak gösterilebilir?

- A) Bayramlarda aile büyüklerini ziyaret etmek
- B) Düğün, nişan gibi özel günlerde zeybek, horon ve halay oynayarak eğlenmek
- C) Karagöz ve Hacivat orta oyununu izlemek
- D) Birkaç çeşit hazır yemek (fast food) markası arasında seçim yapmak

36. Sovyet Sosyalist Cumhuriyetler Birliği'nin dağılması sonucu bağımsızlığına kavuşan Türk Cumhuriyetlerini tanıyan ilk ülke Türkiye olmuş ve bu devletlerin uluslararası toplum tarafından kabul görmesi için girişimlerde bulunmuştur.

Aşağıdakilerden hangisi, Sovyet Sosyalist Cumhuriyetler Birliği'nin dağılması sonucu bağımsızlığına kavuşan Türk Cumhuriyetleri'nden değildir?

- A) Türkmenistan
- B) Gürcistan
- C) Azerbaycan
- D) Kazakistan

37. Dış ticaret, ithalat ve ihracat olarak ikiye ayrılır.

Bir ülkenin, başka ülkelere mal veya hizmet satın almasına ithalat (dış alım) denir.

Bir ülkenin, başka ülkelere mal veya hizmet satmasına ihracat (dış satım) denir.

Verilen bilgilere göre aşağıdakilerden hangisi dış ticaret kapsamında yer almaz?

- A) Ülkemizin Almanya ve Fransa'dan ilaç alması
- B) Ülkemizde üretilen beyaz eşyanın İspanya'ya satılması
- C) Rize'de yetiştirilen çayın Bursa'da satılması
- D) Malatya'da yetiştirilen kayısının İngiltere'ye satılması

38. Türkiye'nin 1934'te imzaladığı Balkan Antantına aşağıdaki devletlerden hangisi katılmamıştır?

- A) Yunanistan
- B) Yugoslavya
- C) İtalya
- D) Romanya

39.

İhracat (Dış Satım)			İthalat (Dış Alım)		
1	Almanya	15.118.910.000	1	Çin	23.370.620.000
2	İngiltere	9.603.189.000	2	Almanya	21.301.869.000
3	BAE	9.184.157.000	3	Rusya	19.514.094.000
4	Irak	9.054.612.000	4	ABD	11.951.744.000
5	ABD	8.654.268.000	5	İtalya	11.304.715.000
6	İtalya	8.473.471.000	6	Fransa	8.070.897.000
7	Fransa	6.584.199.000	7	İran	7.492.104.000

TÜİK 2017 yılı en çok ithalat ve ihracat yapılan 20 ülke raporundan dolar cinsinden düzenlenmiştir.

Türkiye, Dünya'daki birçok ülke ile ekonomik ilişki kurarak ithalat ve ihracat yapmaktadır.

Tablodaki verilere göre aşağıdakilerden hangisi söylenemez?

- A) Çin, en çok dış alım yaptığımız ülkedir.
- B) Fransa'dan dış alım tutarımız Fransa'ya dış satım tutarımızdan azdır.
- C) En çok dış satım yaptığımız ülke Almanya'dır.
- D) Çin dış satım yaptığımız ilk yedi ülkeden biri değildir.

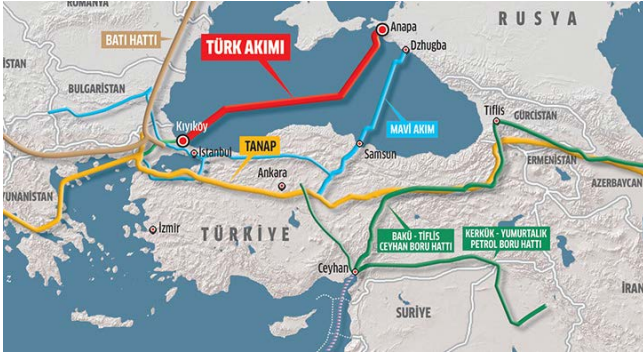
40. Türkiye'den Trans - Anadolu Doğal Gaz Boru Hattı Projesi (TANAP) geçmesi Türkiye'nin hangi özelliği ile ilgilidir?

- A) Türkiye'de doğal gaz çıkarılıyor olması
- B) Türkiye'nin jeopolitik konumu
- C) Türkiye'nin kuzey yarım kürede olması
- D) Türkiye'nin ortalama yükseltisinin fazla olması

41. Aşağıdakilerden hangisi ithal ettiğimiz ürünler arasında yer almaz?

- A) Doğal gaz
- B) Petrol
- C) Lüle taşı
- D) Otomobil

42. Aşağıdaki harita enerji kaynakları ihracatı sebebiyle ülkemizden geçen boru hatlarını göstermektedir.



İnsanların çok çeşitli ihtiyaçları vardır. Ülkeler, insanların ihtiyaçlarını karşılamak için üretim yapar. Bir ülkenin bölgeleri arasında yetiştirilen ürün ve üretilen mallar bakımından farklılıklar vardır. Ülkeler kendilerinde üretilmeyen veya çıkarılamayan ürünleri başka ülkelerden alır.

Verilen harita ve bilgilere göre aşağıdaki yorumlardan hangisi yapılabilir?

- A) Ülkemiz dünyanın en büyük ekonomisine sahip yirmi ülke arasındadır.
- B) Sanayileşmiş ülkeler ile yer altı kaynakları açısından zengin ülkeler arasında yer alan ülkemiz önemli bir enerji koridorudur.
- C) Petrol ve doğal gaz tüketimi ülkemizde oldukça fazladır.
- D) Ülkemizin en önemli ihracat ürünleri doğal gaz ve petroldür.
43. Ham madde ithal edip sanayi ürünü ihraç eden ülkeler gelişmiş ülkelerdir.

Aşağıdakilerden hangisi buna örnek değildir?

- A) ABD
- B) İngiltere
- C) Fransa
- D) Suudi Arabistan
44. Türkiye'nin dünya barışına katkıda bulunmak amacı ile NATO ve BM'ye bağlı olarak farklı ülkelerde üs kurması hangi alanda iş birliğine örnek gösterilebilir?

- A) Ekonomik
- B) Sosyal
- C) Kültürel
- D) Askeri

45.



Türkiye ve Özbekistan arasındaki ilişkilerin kökü uzak tarihe, Türkistan dönemine kadar derinlere gidiyor. Ortak özellikleri, aynı zamanda kültürel ve iki Türk boyunun dillerindeki benzerlikten kaynaklanmaktadır. Belki de bu faktör Türkiye'nin 1990 yılında Özbekistan Cumhuriyeti'nin bağımsızlığını tanıyan ilk ülke olmasını sağlamıştır. Söz konusu tarihten bu yana, Özbekistan ve Türkiye arasındaki ilişkiler ticari-ekonomik ve mali alanlarda dinamik bir şekilde gelişmektedir. İki devlet arasında, birçok iş birliği anlaşması imzalanmıştır.



Kuzey Kıbrıs Türk Cumhuriyeti Akdeniz'de Kıbrıs Adası'nda kurulan bir Türk Cumhuriyetidir. Türkiye ile Kuzey Kıbrıs Türk Cumhuriyeti halkları arasında var olan güçlü tarihî ve kültürel bağ ile dil bağı iki ülke arasındaki ilişkilerin her zaman güçlü olmasını sağlamaktadır. Öyle ki, KKTC için ülkemizde "yavru vatan" nitelendirmesi yapılmaktadır. KKTC'yi resmî olarak tanıyan tek ülke Türkiye'dir. Bu nedenle ülkemiz, KKTC'nin haklarını dünya kamuoyunda koruma görevini üstlenmiştir.

Yukarıda Türk devletleri ile Türkiye arasındaki diplomatik ilişkilere yer verilmiştir. Buna göre;

- I. KKTC ülkemizden ayrılarak bağımsızlığını kazanan bir devlettir.
- II. Her iki devleti de ilk tanıyan devlet Türkiye olmuştur.
- III. İki devletle de aramızda ortak bir dil birliği bulunmaktadır.

yargılarından hangilerine ulaşılabilir?

- A) Yalnız II
- B) I ve II
- C) II ve III
- D) I, II ve III

46. Popüler kültür belli bir dönem için geçerli olan, hızlı üretilen ve hızlı tüketilen kültürel öğelerin bütünüdür. Popüler kültürün toplum üzerinde farklı etkileri vardır.

Aşağıdakilerden hangisi popüler kültürün toplum üzerindeki olumsuz etkilerinden değildir?

- A) Toplumda kuşak çatışmasına neden olması
- B) Toplumun konuştuğu dilin yozlaşmasına neden olması
- C) Toplumun sahip olduğu milli benliği güçlendirmesi
- D) Toplumu sürekli tüketime yönlendirmesi

47. Popüler kültür, Batı'da sanayileşme ve modernleşmeyle kent kültürü olarak ortaya çıkmıştır. Günlük hayatlarında çalışan insanların yorgunluklarını ve sorunlarını unutturan "gündelik hayatın kültürü" olarak kabul edilmiştir. Bu yeni yaşam şekli özellikle kitle iletişim araçlarıyla oluşturulmakta ve yaygınlaştırılmaktadır.

Verilen bilgide popüler kültür ile ilgili aşağıdaki sorulardan hangisinin cevabı yoktur?

- A) Ortaya çıkmasında etkili olan unsurlar nelerdir?
- B) Nasıl yaygınlaşmıştır?
- C) Hangi yüzyılda ortaya çıkmıştır?
- D) Günlük hayatta ne olarak kabul edilmektedir?

49. 1992 yılında T.C. Dışişleri Bakanlığına bağlı olarak kurulmuştur. Günümüzde ise; T.C. Kültür ve Turizm Bakanlığına bağlı olarak hizmetlerini devam ettirmektedir. Kuruluş amacı özellikle Türk dilinin konuşulduğu, komşu ve gelişmekte olan ülkelerle ekonomik, sosyal, kültürel iş birliği oluşturmaktır.

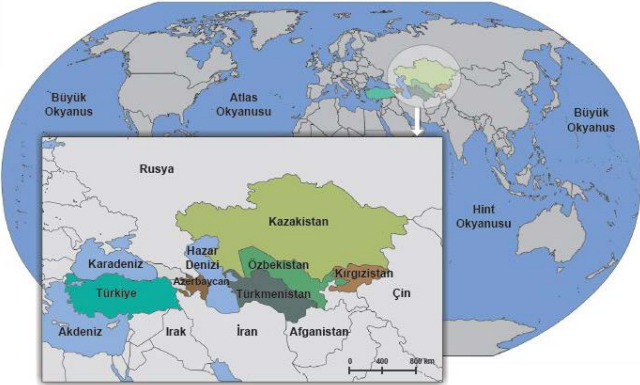
Metinde özellikleri verilen kuruluş aşağıdakilerden hangisidir?

- A) TÜRKSOY
- B) TRT Avaz
- C) Türk Konseyi
- D) TİKA

50. Sınır komşularımızdan hangisiyle ticaretimiz diğerlerine göre daha azdır?

- A) Irak
- B) Ermenistan
- C) Azerbaycan
- D) İran

48.



Türkler, Orta Asya'dan dünyanın çeşitli yerlerine göç ederek yeni yurtlar edinmiştir. Göç ettikleri yerlerde özellikle Anadolu, Kafkasya ve Balkanlar'da yeni devletler kurmuştur. Dünya'nın çeşitli yerlerine Orta Asya'dan göç başladığında, bazı Türk toplulukları da Orta Asya ve çevresinde yaşamlarını sürdürmeyi tercih etmiştir. Bu devletler de 1991'de Sovyetler Birliği'nin dağılmasıyla kurulmuştur.

Verilen harita ve bilgilere göre aşağıdaki yargılardan hangisine ulaşılabilir?

- A) Orta Asya'da kurulan bu devletlerde Türkçe konuşulmaktadır.
- B) Bütün Türk devletleri 1991 yılına kadar Sovyetler Birliği çatısı altında kalmışlardır.
- C) Türk devletlerinden sadece Özbekistan ile sınırimiz bulunmaktadır.
- D) En geniş topraklara sahip olan Türk devleti Kazakistan'dır.

51. Türkiye, komşusu olan devletler ve Türk Cumhuriyetleri ile kültürel, sosyal, siyasi ve ekonomik ilişkiler kurmaktadır.

Aşağıdakilerden hangisi daha çok kültürel alanda iş birliğine katkı sağlamaktadır?

- A) Moğolistan'da Orhun Abidelerinin bulunduğu alanın TİKA tarafından Orhun Müzesi hâline getirilmesi.
- B) Ülkemizin dış politikada "Yurtta Barış Dünyada Barış" ilkesini uygulaması.
- C) Gürcistan vatandaşlarının çalışma izni alarak ülkemizde mevsimlik tarım işlerinde çalışabilmeleri.
- D) Türkiye'nin İran, Irak ve Afganistan ile Sadabat Paktını imzalayarak doğu sınırını güvenlik altına alması.

52. SSCB'nin dağılmasıyla kurulan Türk Cumhuriyetleri içerisinde yüzölçümü en büyük olan aşağıdakilerden hangisidir?

- A) Azerbaycan
- B) Özbekistan
- C) Kazakistan
- D) Kırgızistan

53. Azerbaycan milli şairi Ahmet Cevat, "Yol ver Türkün bayrağına" ismiyle de bilinen "Çırpınırdı Karadeniz" şiirini 1914'te kaleme almıştır. Şiirde;

Ayrı düşmüş dost elinden,
Yıllar var ki, çarpar sinem,
Vefalı Türk geldi yine,
Selâm Türkün bayrağına.

ifadeleriyle, Türk milletinin kültürel birliğinden ve yardımseverliğinden bahsetmektedir. Şiir, 15 Eylül 1918'de Bakü'yü Ermeni ve Bolşevik çetelerden kurtaran Kafkas İslam Ordusu Komutanı Nuri Paşa'ya hediye edilmiştir.

Yukarıdaki dizeler ve bilgiler dikkate alındığında hangisi ülkemizin dış politikasına örnek olarak gösterilemez?

- A) Libya'nın birlik ve bütünlüğünü sağlamak için destek vermesi
- B) Askeri savunma sanayisini güçlendirmek için İHA üretimine önem vermesi
- C) Azerbaycan'a Vatan Muharebesi'nde askeri danışmanlık sağlaması
- D) Bosna Hersek'in en uzak köylerine bile insani yardım malzemesi ulaştırması

54.



Orta oyunu, çevresi izleyicilerle dolu bir alan içinde oynanan, yazılı bir metne dayanmayan doğaçlama bir oyundur. Oyun esnasında gösteriler yapan, öyküler anlatarak halkı eğlendiren sanatçıya meddah adı verilir. Meddahlık ve orta oyunu yüzyıllar boyunca Türk halkı tarafından büyük ilgi görmüştür.

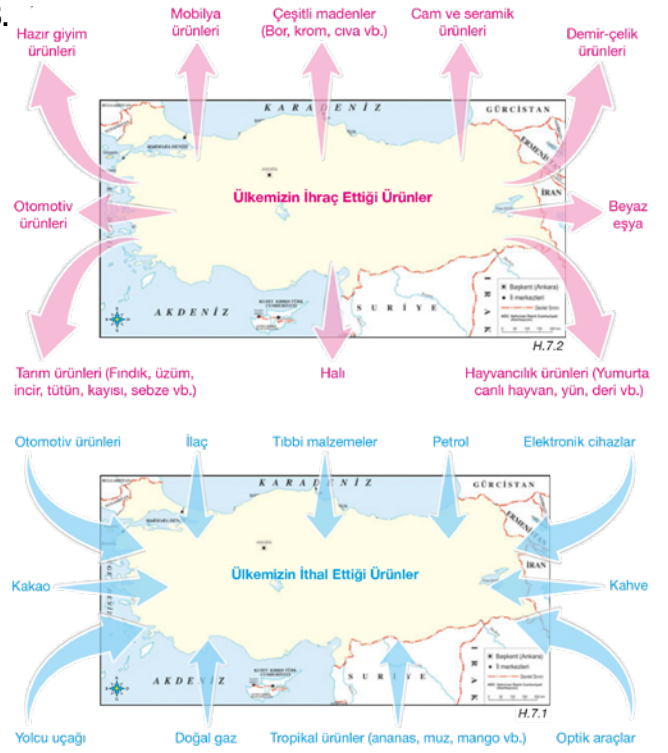


Tek kişilik (stand up) sahne şovları, dünyaya yayılmıştır. Sahne şovu yapan kişi anlattıklarıyla insanları güldürüp eğlendirmeye çalışır. Medya araçları yoluyla yaygınlaşan bu gösteriler günümüzde insanlar tarafından kabul görmektedir.

Buna göre geçmişten günümüze gösteri sanatlarındaki değişimi aşağıdaki yargılardan hangisi daha doğru anlatmıştır?

- A) Gelenek bir süreçtir, dinamik bir yapıya sahiptir, yaşanan zamana ve mekâna göre kendisini sürekli yeniler.
- B) Meddahlık geleneği değişen sosyo-kültürel şartlardan etkilenmemiştir.
- C) Medya araçlarının yaygın kullanılmaya başlanması gösteri sanatlarında değişimlere sebep olmuştur.
- D) Orta oyunu günümüzde en çok izlenen gösteri sanatlarımızdandır.

55.



Yukarıda ülkemizin ithal ve ihrac ettiği ürünler verilmiştir. Bu verilere göre;

- I. Türkiye otomotiv sektöründe hem ithalatçı hem de ihracatçı bir ülkedir.
- II. Doğal gaz ithalatını en çok Rusya'dan yapmaktayız.
- III. Tarım ürünleri ihracatında en yüksek gelir yer fıstığından elde edilmektedir.
- IV. Ülkemizde yetişen başlıca ürünler ihrac edilirken, iklimsel açıdan yetişmeyen ürünler de ithal edilmektedir.

yargılarından hangilerine ulaşılabilir?

- A) Yalnız I
- B) I ve II
- C) II ve III
- D) I ve IV

56. Ülkemizin diğer ülkelerle olan ekonomik ilişkileri ile ilgili aşağıdaki ifadelerden hangisi doğrudur?

- A) Bulgaristan, dış ticaretle en az alışveriş yaptığımız sınır komşumuzdur.
- B) Ülkemiz sanayi ürünlerinin tamamında kendi kendisine yetebilen bir ülkedir.
- C) Ülkemizin ithal ettiği ürünler arasında en fazla para, yer altı kaynaklarına harcanmaktadır.
- D) Ülkemizin ihrac ettiği ürünler arasında ilk sırada petrol ve doğal gaz yer almaktadır.

57. Giresun'da yaşayan Temel Bey bahçesinde ürettiği fındığı Almanya'ya satmaktadır.

Temel Bey ihtiyaç fazlası ürünlerini Almanya'ya satarak hangi ekonomik faaliyeti gerçekleştirmiştir?

- A) İthalat B) İhracat
C) Dış alım D) Sermaye

58. Popüler kültür sadece belli bir dönem için belli olan, hızlı üretilen ve hızlı tüketilen kültürel öğelerin bütünüdür.

Buna göre aşağıdakilerden hangisi popüler kültürün olumsuz yönü olarak ifade edilemez?

- A) Kültürel yozlaşmaya neden olması
B) Milli kültürümüzden uzaklaştırması
C) Yayılmasında medyanın çok etkili olması
D) Türk dilinin bozulmasına neden olması

59.



“Hazar Denizi’nden çıkarılan petrolü Türkiye üzerinden dünya pazarlarına ulaştıran Bakü-Tiflis-Ceyhan Ham Petrol Boru Hattı’nın Ceyhan’daki deniz terminalinden 2006 yılından bu yana yüklenen ham petrol, 3 milyar 522 milyon 209 bin 875 varile ulaştı.”

Yukarıda yer alan haber ülkemizin Türk cumhuriyetleri ve komşu devletlerle olan ilişkilerinde öncelikle hangi alana vurgu yapmaktadır?

- A) Siyasi B) Ekonomik
C) Kültürel D) Askeri

60. Belli bir dönem için geçerli olup, hızlı üretilip, hızlı tüketilen kültürel öğelerin bütününe popüler kültür denir. Çeşitli medya araçları ile bireyleri ve toplumu etkisi altına alan, kendisine bağımlı hale getiren popüler kültürün, hem birey hem de toplum üzerinde olumsuz etkileri vardır.

Buna göre aşağıda verilen ifadelerden hangisi popüler kültürün toplumsal etkisi üzerine örnek verilebilir?

- A) Modayı yakından takip eden Ayla’nın moda uygun kıyafetler almadığı zaman kendisinde büyük bir eksiklik hissetmesi.
B) Telefonunun hiçbir arızası olmamasına rağmen, aynı telefon markasının son çıkan modelini almak isteyen Erol’un elindeki telefonu satması.
C) Alışveriş sırasında, Sevil’in, annesine, sürekli reklamlarını gördüğü ve çok sevdiği çizgi film kahramanının, oyuncağını aldirmek için ağlaması.
D) Çocukluğumuzda oynadığımız körebe, seksek, çelik çomak, mendil kapmaca gibi oyunların yerini günümüzde sürekli yeni sürümleri çıkan çeşitli bilgisayar oyunlarının almış olması.

61.



Yukarıda verilen ülkemizin bulunduğu coğrafya ve komşularımız haritasına göre;

- I. En eski kara sınırimız İran ile belirlenmiştir.
II. Romanya ve Bulgaristan deniz yoluyla Akdeniz’e gitmek için ülkemizin sahip olduğu boğazları kullanmak zorundadır.
III. En uzun kara sınırimız Suriye ile olmaktadır.

yargılarından hangilerine ulaşılabilir?

- A) Yalnız II B) I ve II
C) I ve III D) II ve III

62.



Bir devletin, maliyesi bağımsız olmayınca devletin bütün yaşamsal kuruluşlarında bağımsızlık felç olur.

Şüphesiz, hukukumuz, şeref ve değerimize saygı gösterildikçe karşılıklı saygıda asla kusur etmeyeceğiz.

Mustafa Kemal Atatürk'ün yukarıdaki veciz sözleri sırasıyla düşünüldüğünde ülkemizin dış politikada temel aldığı hangi esaslar ile ilişkilendirilebilir?

- A) Gerçekçilik- Mütakabiliyet
- B) Tam Bağımsızlık- Yurtta ve Dünyada Barış
- C) Tam Bağımsızlık-Mütakabiliyet
- D) Yurtta ve Dünyada Barış- Gerçekçilik

63. Ülkeler tarım, sanayi, madencilik, enerji gibi yer altı ve yer üstü kaynaklarından ihtiyaç fazlası olanlarını başka ülkelere satmaktadır. Ülkemizin de bu doğrultuda ihraç ettiği ürünler vardır.

Aşağıdakilerden hangisi ülkemizin en fazla ihraç ettiği ürünler arasında yer almaz?

- A) Motorlu kara taşıtları
- B) Gıda ürünleri
- C) Tekstil ürünleri
- D) Petrol ürünleri

64. İnsanların yaşamlarını sürdürmesi için çeşitli ihtiyaçları vardır. Her ülke vatandaşlarının beslenme, barınma, giyinme, sağlık, güvenlik ve ulaşım gibi ihtiyaçlarını öncelikle ülke içindeki kaynakları kullanarak karşılamaya çalışır. Ancak, kaynakları sınırsız bir ülke olmadığı için ihtiyaçların tamamen ülke kaynakları ile karşılanması mümkün değildir. Bu sebeple ülkeler ihtiyaçların karşılanması noktasında birbirinden satın alma yoluna giderler ki bu da uluslararası ticaretin temel sebebinin oluşturur.

Bu bilgiler ışığında aşağıdakilerden hangisinde, tamamını ya da büyük bir kısmını dışarıdan aldığımız ürünler bir arada verilmiştir?

- A) Domates - Tıbbi Malzemeler - Tekstil Ürünleri
- B) Petrol - Doğal gaz - Kakao
- C) Savunma Araçları - Zeytin - Fındık
- D) İncir - Kimyasal Ürünler - Elektronik Ürünler

65. Sosyal Bilgiler dersinde öğretmenin sorduğu soruya bazı öğrencilerin verdiği cevaplar şu şekildedir:

DERYA: 1969 yılında kurulan İslam İşbirliği Teşkilatı'nın, İstanbul'da yapılan 13. Zirve Toplantısı'nda dönem başkanlığı ülkemize verilmiştir.

SEVİLAY: NATO üyesi olan ülkemiz, askeri gücü ile NATO Barış Gücü'nün önemli bir unsurudur.

ERHAN: G-20 ülkeleri Liderler Zirvesi, 15-16 Kasım 2015 tarihinde Antalya'da düzenlendi.

AHMET: Ülkemiz, Dünya barışını korumak, ülkeler arası ekonomik ve sosyal işbirliğini artırmak amacıyla kurulan Birleşmiş Milletler'in kurucu üyeleri arasındadır.

Buna göre, öğretmenin sorusu aşağıdakilerden hangisidir?

- A) Ülkemizin, komşu devletlerle siyasi, sosyal, kültürel ve ekonomik ilişkileri hakkında neler söyleyebiliriz?
- B) Ülkemizin, dış politikada benimsediği ilkeler nelerdir?
- C) Ülkemizin, Türk Cumhuriyetleri ile ekonomik, sosyal, askeri ve kültürel ilişkilerine hangi örnekleri verebiliriz?
- D) Ülkemizin sahip olduğu siyasi, askeri, ekonomik ve kültürel özelliklere bağlı olarak uluslararası alanda üstlendiği roller nelerdir?

66. Kara yoluyla doğrudan bağlantı kurulabilen ülkeler, sınır komşusu ülke olarak adlandırılır.

Buna göre aşağıdakilerden hangisi ülkemizin sınır komşusu olan devletlerden biri değildir?

- A) Bulgaristan
- B) Gürcistan
- C) Afganistan
- D) İran

67. Aşağıdakilerden hangisi Türkiye'nin ihracatıyla ilgilidir?

- A) Ege bölgesinde üretilen üzümün diğer bölgelere pazarlanması.
- B) Türkiye'de üretilen fındığın Dünya pazarlarında birinci sırada olması.
- C) Türkiye'nin doğal gaz ihtiyacını Rusya'dan karşılaması.
- D) Türkiye'nin cep telefonu ihtiyacını başka ülkelere karşılaması.

68. Küresel tehdit haline gelen koronavirüs salgını üretimden tüketime, uluslararası ilişkilerden eğitime, ulaşımdan eğlenceye, dini ibadetlerden spor etkinliklerine kadar akla gelebilecek her alanda toplumsal yaşamı etkisi altına aldı. Üsküdar Üniversitesi Sosyoloji Bölüm Başkanı Prof. Dr. Ebulfez Süleymanlı, koronavirüs salgınının mevcut bireysel ve toplumsal alışkanlıkları da değiştireceğini söylüyor.

Yukarıdaki haberden yola çıkarak koronavirüsün etkileri ile ilgili aşağıdaki yargılardan hangisine ulaşılabilir?

- A) Ülkelerin ticaret hacminde daralma olmuştur.
- B) Uluslararası kültürel faaliyetler artmıştır.
- C) Toplumsal davranışların değişmesinde etkili olmuştur.
- D) Turizm gelirleri artmıştır.

69. Türkiye'nin dünyada siyasi, askeri, ekonomik ve kültürel açılardan üstlendiği uluslararası roller bulunmaktadır.

Buna göre aşağıda verilen cümlelerden hangisinde kültürel bir rolden bahsedilmektedir?

- A) Türkiye'nin NATO ve BM gibi örgütlerle barış gücü operasyonlarında yer alması
- B) İslam İşbirliği Teşkilatı dönem başkanlığının Türkiye'ye verilmesi
- C) Ülkemizin enerji ihracatı yapan doğu ülkeleri ile ithalatçı batı ülkeleri arasında köprü olması
- D) Türkiye Maarif Vakfının, yurt dışında ülkemiz adına doğrudan eğitim faaliyetlerinde bulunması

70. Mustafa Kemal Atatürk önderliğinde Türkiye'nin belirlemiş olduğu milli dış politika ilkeleri vardır.

Aşağıdakilerden hangisi bu ilkelerden biri olamaz?

- A) Yayılmacılık
- B) Karşılıklılık
- C) Tam bağımsızlık
- D) Devletlerin eşitliği

71. Ülkemiz geçmişten günümüze kadar birçok uluslararası teşkilata üye olarak katılmış ve bu teşkilatlarda etkin roller üstlenmiştir.

Buna göre aşağıdakilerden hangisine üye olmamızda Türk askerî gücünün etkisi öne çıkmaktadır?

- A) İslam İşbirliği Teşkilat (İİT)
- B) Kuzey Atlantik Antlaşması Teşkilatı (NATO)
- C) Birleşmiş Milletler Teşkilatı (BM)
- D) Karadeniz Ekonomik İşbirliği Örgütü (KEİ)

72. Popüler kültür, belli bir dönem için geçerli olan, hızlı üretilen ve tüketilen kültürel öğelerin bütünü olarak tanımlanmaktadır.

Verilen tanımdan hareketle aşağıdakilerden hangisi popüler kültüre örnek olarak gösterilebilir?

- A) Ramazan şenliklerinde Hacivat ve Karagöz oyununun sergilenmesi
- B) Düşünlerimizde kına gecesi eğlencesinin düzenlenmesi
- C) Alışveriş merkezlerinde genellikle hazır yemek (fast food) tüketilmesi
- D) Misafirlerimize kahve ikramı yapılması

73. Birleşmiş Milletler Örgütünün 2019 yılı verilerine göre Türkiye, 4 Milyon Suriye vatandaşı mülteciye kucak açmış durumdadır. Ayrıca TİKA, TÜRKSOY, AFAD, KIZILAY gibi kuruluşlar aracılığıyla dünyanın birçok yerinde yardım faaliyetlerinde bulunmaktadır.

Yukarıdaki bilgiden hareketle Türkiye'nin bölgesinde;

- I. Kültürel,
- II. Askeri,
- III. Dini,
- IV. Sosyal

rollerinden hangilerini üstlendiği söylenebilir?

- A) Yalnız I
- B) Yalnız IV
- C) I ve IV
- D) II, III ve IV

74. Kültürümüze ait olmayan unsurların (popüler kültür), hayatımıza girmesinde aşağıdakilerden hangisi daha çok etkilidir?

- A) Ticaret yolları üzerinde olmamız
- B) Televizyon, sinema, genel ağ gibi medya araçları
- C) Uluslararası antlaşmaların getirdiği yükümlülükler
- D) Küresel ısınma sonucu değişen iklimler

75. Türkiye Cumhuriyeti kurulduğu ilk günden bugüne kadar Mustafa Kemal Atatürk'ün önderliğinde belirlediği tüm ülkelerle iyi ilişkiler kurmuş ve dış politikada şu ilkeleri benimsemiştir:

- Tam bağımsızlık
- Yurtta barış, dünyada barış
- Devletler arası eşitlik
- Mütakabiliyet (Karşılıklılık)
- Komşu devletlerle barış içinde yaşama

Verilen bilgidен hareketle aşağıdakilerden hangisi Türk dış politikası ile çelişir?

- A) Uluslararası ilişkilerde karşılıklı güven ve saygıyı esas alması
- B) Komşularımızla ve diğer devletlerle iyi geçinilmesi
- C) Diğer devletlerin ülkemizin iç işlerine müdahale etmelerine izin verilmesi
- D) Uluslararası ilişkilerde ülkelerin siyasi olarak denk olması

76. Aşağıdakilerden hangisi Türkiye'nin ekonomik alanda üstlendiği uluslararası roller ile ilgilidir?

- A) Türkiye'nin, UNESCO'nun yürütme kurulunda yer alması
- B) Türkiye'nin, NATO ve BM gibi örgütlerle iş birliği yaparak barış gücü operasyonlarında görev yapması
- C) İslam İşbirliği Teşkilatı dönem başkanlığının Türkiye'ye verilmesi
- D) Türkiye'nin uluslararası boru hattı projeleriyle Orta Asya, Hazar ve Orta Doğu bölgelerindeki zengin doğal gaz ve petrol rezervlerini Avrupa'ya taşınması

77. 2016 yılında kurulan Türkiye Maarif Vakfı, yurt dışında Türkiye Cumhuriyeti adına Milli Eğitim Bakanlığı dışında doğrudan eğitim kurumu açma yetkisine sahip tek kuruluştur. Hedefi tüm dünyada güzel insanlar yetiştirmek olarak belirtilen kuruluş, Türkiye'nin eğitimde dünyaya açılan penceresi olma özelliğini taşımaktadır.

Türkiye Maarif Vakfının bu faaliyetleri ülkemizin uluslararası alanda üstlendiği hangi role örnektir?

- A) İktisadi
- B) Kültürel
- C) Dini
- D) Askeri

78.

Açıklamalar	Alanı
Komşu ülkelerden ürün almamız ve bu ülkelere ürün satmamız	Ekonomik
Ülkemizin zor durumda olan Suriyelilere kucak açıp onlara sahip çıkması	Siyasi
Türk cumhuriyetlerinden ve komşu ülkelerden öğrencilerin eğitim için ülkemize gelmesi ?

Yukarıdaki tabloda ülkemizin Türk Cumhuriyetleri ve komşu ülkelerle olan ilişkilerine ait bilgiler verilmiştir.

Tabloda “....?....” ile boş bırakılan yere aşağıdakilerden hangisi yazılırsa tablo doğru tamamlanmış olur?

- A) Mali
- B) Kültürel
- C) Askeri
- D) Ticari

CEVAP ANAHTARI

1. 1. Popüler kültür
2. Dış politika
3. İthalat
4. Dış ticaret
5. İhracat
6. TİKA
7. Sadabat Paketi
8. Mavi Akım
9. Balkan Antantı
10. TRT AVAZ
11. Barışçılık
12. TÜRKSOY
2. Mal ve hizmetlerin üretim, tanıtım, satış, sigorta, dağıtım ve ödeme işlemlerinin bilgisayar ağları üzerinden elektronik ortamda yapılmasıdır.
3. 1-D /
2-Y / Ülkemiz **ithalatında** petrol, doğal gaz, otomotiv ve elektronik eşyalar çoğunluktadır.
3-Y / "Yavru Vatan" ifadesini **Kuzey Kıbrıs Türk Cumhuriyeti** için kullanırız.
4-D /
5-D /
6-D /
7-Y / Antalya'da üretilen turuncgillerin Rusya'ya satılmasına **ihracat** denir.
4. Mütekabiliyet
İhracat
Coğrafi İşaret
Yardımlaşma
Medya
UNESCO
Uluslararası
Azerbaycan
İthalat
Dış Ticaret
Popüler Kültür
Şifre : BAĞIMSIZLIK
5. Eşleştirme sıralaması 5 4 6 2 1 3
6. 1-D /
2-D /
3-Y / **Gelişmiş** ülkeler hammadde ithal edip işleyerek mamul ürün olarak ihraç ederler.
4-Y / Balkan Antantı ve Sadabat Paketi'nin imzalanması dış politikada **barışçıl** olmamızın sonucudur.
5-D /
6-Y / Türkiye, Orta Asya Türk Cumhuriyetleri ile **ekonomik, siyasi, sosyal, kültürel birçok alanda** ilişkiler kurmaktadır.
7-D /

7. 1. Siyasi
2. Ekonomik
3. Sosyal
4. Kültürel
8. D D Y = 2. Çıkış
9. 1. UNESCO
2. İpek Yolu
3. İslam İşbirliği Teşkilatı
4. Türkiye Maarif Vakfı
5. Popüler Kültür
6. Kültür Erozyonu
7. Özbekistan
8. Jeopolitik
9. Gürcistan
10. Hazar
10. Finike'de yetiştirilen portakal, Alanya ve Gazipaşa'da yetiştirilen muz, Korkuteli'nde yetiştirilen mantar, özelliği ve bölgeye has tanınırlığı ile coğrafi işaret almaya uygundur.
11. Türkiye'nin Dünya barışına saygılı ve Dünya çocuklarına değer veren bir devlet vizyonuna sahip olduğunu gösterir.
12. 1. Türkiye
2. Azerbaycan
3. Özbekistan
4. Kazakistan
5. Kuzey Kıbrıs Türk C.
6. Türkmenistan
7. Kırgızistan
13. 1-D /
2-D /
3-D /
4-Y / Ülkemiz **birçok ülke** petrol ticareti gerçekleştirmektedir.
5-Y / Uluslararası etkinlikler ülkelerin tanıtımları bakımından **çok önem taşır**.
6-Y / Günümüzde çocuk kıyafetlerinin üstündeki baskılarda ve oyuncak raflarında Keloğlan, Malkoçoğlu, Battal Gazi, Nasrettin Hoca gibi değerlerimiz ve kahramanlarımızın yerini popüler kültür öğelerinin alması milli kültüre **zarar verir**.
7-D /
14. Öğrenciler TİKA konusunda araştırma yapıp, görüşünü yazmalıdır.
15. Milli Kültürümüz
C D F
Popüler Kültür
A B E

16. Dünyanın huzur ve mutluluğu için ülke içerisinde ve uluslararası alanda çatışmaların olmadan, anlayışlı ve çözüm odaklı olma politikasını ifade eder.

17. Covid-19 (Corona) salgını ile Karantina, Mutasyon, Covid-19 Aşısı, Filyasyon, Entübe gibi kavramlar yazılabilir. Bazı kavramlar her ne kadar ulusal gibi görünse de salgın tüm dünyayı etkilediği için tüm kavramlar kabul edilir.

18. 1. Ermenistan 6. Kazakistan
2. Avrupa Konseyi 7. NATO
3. Tescilli Coğrafi İşaret 8. İhracat
4. Gürcistan 9. Gıda Ürünleri
5. Orta Oyunu 10. Birleşmiş Milletler

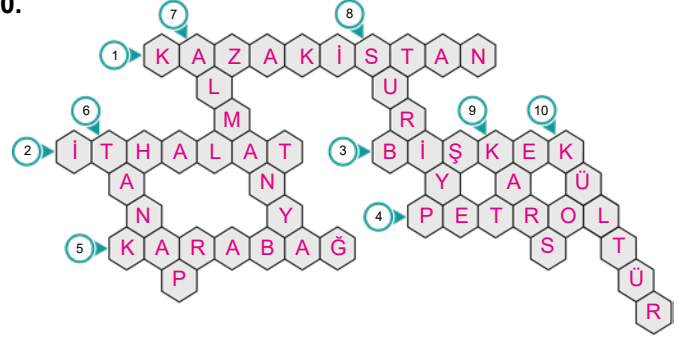
19.

C	N	U	R	S	U	L	T	A	N	Ç	T	R	B	J
Z	H	Ğ	Ş	E	S	Ç	J	L	E	F	K	O	Ş	A
B	F	B	U	R	J	T	R	Ç	R	K	B	Ç	R	T
Ş	T	I	K	A	Z	A	K	I	S	T	A	N	B	N
R	A	J	F	N	G	K	K	Ç	B	G	H	Ç	A	A
Ö	Z	B	E	K	I	S	T	A	N	Ç	R	J	Ş	T
B	E	Ü	Ç	A	D	T	C	B	T	R	G	T	K	S
T	R	B	G	R	T	N	E	J	R	Ç	T	Ç	A	İ
Ç	B	D	Ç	A	G	J	Ç	R	K	Ü	K	J	B	Z
N	A	T	S	İ	N	E	M	K	R	Ü	T	B	A	İ
B	Y	K	B	K	T	G	B	K	Ç	B	K	Ç	T	G
T	C	R	J	T	Ç	B	İ	Ş	K	E	K	B	J	R
Ç	A	G	B	R	J	Y	T	Ç	R	B	T	R	Ç	İ
R	N	R	T	N	E	K	Ş	A	T	J	Ç	R	B	K
J	Ğ	N	Ş	Z	T	F	J	Ü	K	A	B	H	Z	Ğ

Bayrak Devlet Başkent

	Azerbaycan	Bakü
	Kazakistan	Nursultan
	Kırgızistan	Bişkek
	KKTC	Lefkoşa
	Özbekistan	Taşkent
	Türkiye	Ankara
	Türkmenistan	Aşkabat

20.



21. Mültecilere kapıları açmamız, insan haklarına saygılı, hoşgörü sahibi, yardımsever ve vicdanlı bir ülke olduğumuzun kanıtıdır.

22. 1. Devletlerin eşitliği
2. Tam bağımsızlık
3. Yurtta barış dünyada barış
4. Komşu devletlerle barış içinde yaşama
5. Karşılıklılık (mütekabiliyet)

23. 1. Küresel 6. İpek Yolu
2. Kazakistan 7. Balkan
3. Kızılay 8. Karagöz
4. Azerbaycan 9. İthalat
5. Televizyon

24. 1. Gürcistan 5. Irak
2. Ermenistan 6. Suriye
3. Azerbaycan 7. Yunanistan
4. İran 8. Bulgaristan

25. 1-D /

2-Y / Ülkelerin gelişip büyümesi için dış ticarete ithalatının (dış alım) ihracatından (dış satım) az olması gerekir.

3-Y / Ülkemiz, petrol ve doğal gaz zengini Orta Doğu ile enerji ihtiyacı olan Avrupa arasında stratejik bir konumdadır.

4-D /

5-D /

6-D /

7-Y / Nasreddin Hoca fıkraları milli kültürün bir örneğidir.

26. Yerli üretimi güçlendirmeli, tüketim kültüründen uzaklaşıp, üretim anlayışına sahip olmalı ve ihracatımızı ithalatımızın üstüne çıkarmalıyız.

27. Satabileceklerimize bor, fındık, sebze, kumaş, bakır eklenebilir. Alınacaklara da petrol, elektronik eşyalar, otomobil, doğal gaz ve ilaç eklenebilir.

28. Bir toplumun tarihsel süreç içinde ürettiği, kuşaktan kuşağa aktardığı maddi ve manevi özelliklerin tümüne **kültür** denir.

Popüler kültür; belli bir dönem için geçerli olan, hızlı üretilen ve tüketilen kültürel öğelerin bütünü olarak tanımlanabilir.

Halkın duygu, düşünce ve yaşamışlarını anlatan türküler yerine sözleri bile tam anlaşılamayan şarkıların tercih edilmesi topluma zarar vermektedir.

Soyal medya araçları ve soyal paylaşım sitelerinde izleyici arttırılabilmek için kültürümüze uymayan hatta uluslararası alanda bile kabul görmeyen söz ve davranışlar sergilenmektedir.

- | | | |
|-------|-------|-------|
| 29. D | 46. C | 63. D |
| 30. A | 47. C | 64. B |
| 31. C | 48. D | 65. D |
| 32. B | 49. D | 66. C |
| 33. A | 50. B | 67. B |
| 34. B | 51. A | 68. C |
| 35. D | 52. C | 69. D |
| 36. B | 53. B | 70. A |
| 37. C | 54. C | 71. B |
| 38. C | 55. D | 72. C |
| 39. B | 56. C | 73. C |
| 40. B | 57. B | 74. B |
| 41. C | 58. C | 75. C |
| 42. B | 59. B | 76. D |
| 43. D | 60. D | 77. B |
| 44. D | 61. D | 78. B |
| 45. C | 62. C | |



meb.gov.tr