

7.SINIF 7. ÜNİTE ÇALIŞMA FASİKÜLÜ

SOSYAL BİLGİLER

Bu kitapçık BARTIN Ölçme Değerlendirme Merkezi
tarafından hazırlanmıştır.



1. Aşağıda “Kalıp Yargı” ve “Küresel Sorun” ile ilgili karışık halde verilen kavramların numaralarını ilgili kutucuğa yazınız.

2. Ön yargı 10. Zorunlu Göç 5. İslamofobi 7. Açlık 6. Küresel Isınma
9. Ayrımcılık 4. Kuraklık 1. Terör 8. İklim Değişikliği 3. Genelleştirme

KÜRESEL SORUN	KALIP YARGI

2. Verilen görsellerin hangi küresel sorunu ifade ettiğini yazınız.



.....

.....

.....












.....

.....

3. Tabloda Türkiye'nin üyesi olduğu ekonomik kuruluşlar verilmiştir. Bu kuruluşların “Küresel” ve “Bölgesel” olmasına göre işaretleyiniz

KURULUŞLAR	KÜRESEL	BÖLGESEL
WTO		
G-20		
BSEC		
OECD		
ECO		
D-8		

4. Amblemleri verilen uluslararası kuruluşların adlarını ve kuruluş amaçlarını ilgili kutucuğa yazınız.

AMBLEMLER	KURULUŞUN ADI	KURULUŞ AMACI
		
		
		
		
		
		
		
		
		

5. Aşağıdaki boş bırakılan yerlere küresel ısınmanın engellenmesi için alınabilecek tedbirleri yazınız.

ALINABİLECEK TEDBİRLER:

1

2

3

4

5

6. Açıklamaları verilen kelime ve kavramların isimlerini aşağıdaki kutucuklara yazınız.

1

Atmosfere salınan gazların sera etkisi sonucunda ortalama sıcaklıkların artması

2

Dini, iktisadi, siyasi, sosyal ve diğer sebeplerden dolayı insanların bir yerden başka bir yere yaptıkları mecburi yer değiştirme

3

İslam dünyasına mensup insanların maruz kaldığı ayrımcı davranış

4

Topluma korku salma, insanları yıldırma eylemlerinin tümü

5

İnsanları özelliklerine göre sınıflandırma eğiliminin neden olduğu bir algılama ve davranış biçimi

1

2

3


4

5

5

7. Aşağıdaki bulmacayı uygun şekilde doldurunuz.

1. BM'ye bağlı, hastalıkların tedavisi için çalışan kuruluş
2. Sürekli yağın yağmur veya eriyen karın etkisiyle taşın bir su kaynağının sebep olduğu su taşkını
3. Bir kişiye ya da gruba ön yargılı davranma
4. İnsanların yaşadıkları yerden kendi iradeleri dışında ayrılmalari
5. Dünya yüzeyinde sıcaklığın artması
6. Bir kişi ya da olay hakkında bilgi edinmeden karar verme
7. Türk Dili Konuşan Ülkeler İşbirliği Konseyi kısa adı
8. Toplumı korkutmaya, yıldırmaya yönelik eylemler
9. Kuzey Atlantik Antlaşması Örgütü kısa adı
10. Yaşamını sürdürmek için yeterli gıdaya ulaşamama



8.



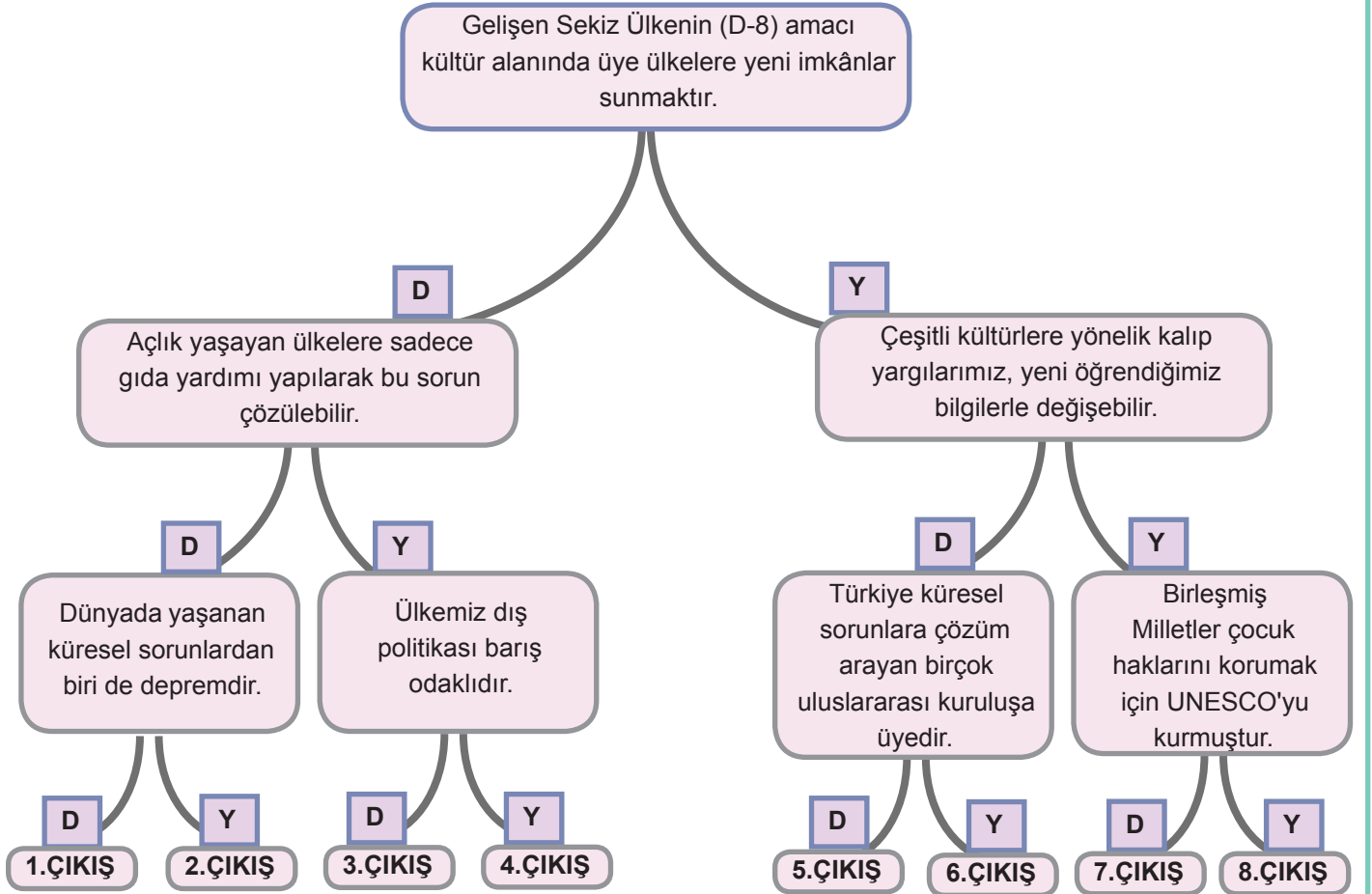
Verilen infografiğe göre doğru yanlış etkinliğini yapınız.

AÇIKLAMA	D	Y
Açlık küresel sorunlar içinde yer almaktadır.		
Açlık problemi ile en fazla Afrika ülkeleri karşılaşmaktadır.		
Kongo 13,1 milyon ile açlık sorununda birinci sıradadır.		
Tüm Afrika ülkeleri açlık sıkıntısı çekmektedir.		
Dünya Gıda Örgütü açlık sorunu konusunda sayısal veriler ortaya koymuştur.		
Suriye açlık sorununu sayısal olarak haritadaki diğer ülkelerden daha az yaşamaktadır.		

9. Birleşmiş milletlerin özelliklerinin yer aldığı tabloyu bilgi toplayarak doldurunuz.

Kuruluş yılı	
Kurulduğu yer	
Üye sayısı	
Kurucu ülkeler	
Kuruluş amacı	
Üye organlar	

10. Aşağıda verilen ifadelerin doğru (D) ya da yanlış (Y) olduğuna işaretleyerek doğru çıkışa ulaşınız.



11. Aşağıda verilen Türkiye'nin üyesi olduğu uluslararası kuruluşlar ile ilgili oldukları alanları eşleştiriniz.

1



a

Çalışma

2



b

Çevre

3



c

Çocuk hakları

4



d

Gıda

5



e

Kültür

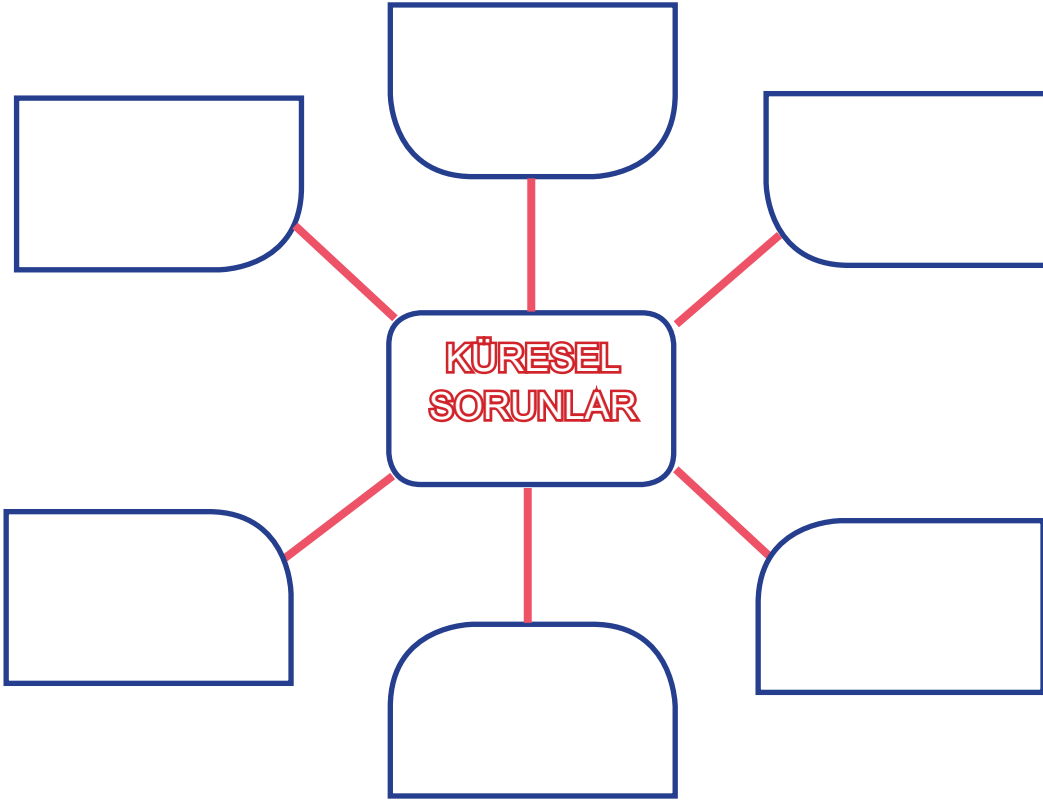
6



f

Sağlık

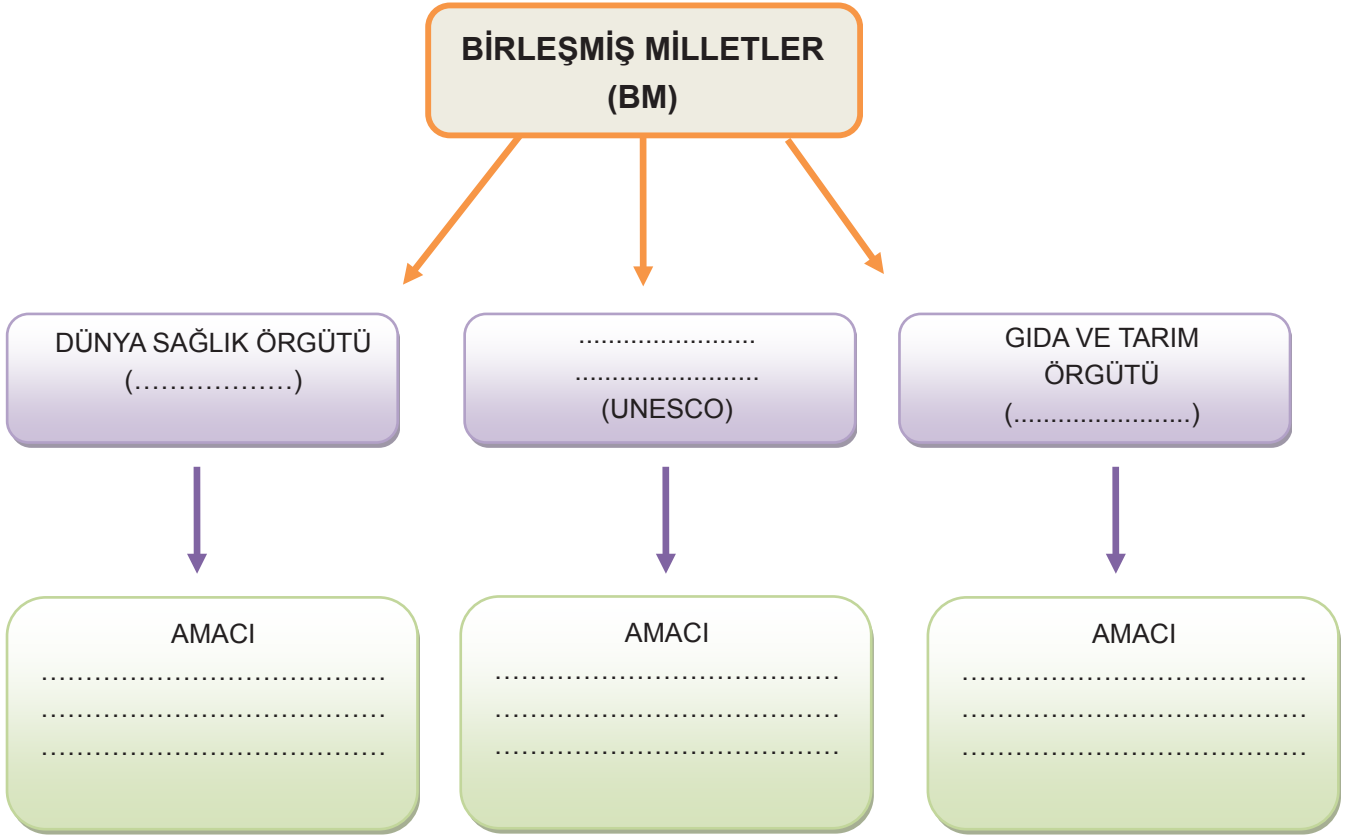
12. Aşağıdaki şemada boş bırakılan yerleri uygun bir şekilde tamamlayınız.



13. Aşağıdaki verilen soruların cevaplarını boş kutucuklara yazınız.

1. Avrupa devletleri arasında birçok alanda işbirliğini sağlamak amacıyla 1958'de kurulan, Türkiye'nin 1959 yılında ortaklık başvurusunda bulunduğu ancak adaylık sürecinin devam ettiği uluslararası kuruluşun adı.
2. Karadeniz Ekonomik İşbirliği Teşkilatı (KEİ)'nin merkezi olan şehir.
3. Trans Anadolu Doğalgaz Boru Hattı Projesinin kısa adı.
4. İslam dünyasına mensup olan bireylerin maruz kaldıkları ayrımcı muameleye verilen genel isimdir.
5. Atmosfere salınan gazların neden olduğu, karada denizde ve havada ölçülen ortalama sıcaklık artışına verilen ad.
6. G20'ye üye bir Latin Amerika ülkesi.

14. Aşağıda verilen şekilde boş bırakılan yerleri doldurunuz



15. Aşağıdaki cümlelerin başına cümlede verilen ifadeler doğruysa “D”, yanlış ise “Y” bölümünü işaretleyiniz.

		D	Y
1	Kalıp yargılar insanları zor duruma düşmekten korur.		
2	İnsanlar tarafından atmosfere salınan gazlar sera etkisi yaratır.		
3	Karadeniz Ekonomik İş Birliği Örgütü (BSEC), Birleşmiş Milletlere (BM) bağlıdır.		
4	Türkiye, OECD'nin kurucu üyelerindendir.		
5	Türkiye Avrupa Birliği'ne üyedir.		
6	D8 Birleşmiş Milletler çatısı altında kurulmuş bir örgüttür.		
7	Fosil yakıtların kullanımının artırılması küresel ısınmanın önlemesine katkı sağlar.		
8	Terörizm küresel bir sorundur.		
9	Doğal afetler can ve mal kaybına sebep olur.		
10	Türkiye Birleşmiş Milletlerin kurucu üyelerinden biridir.		
11	Kalıp yargılar sadece ülkelerin birbirine bakış açısını yansıtır.		
12	Bir sorun uluslararası düzeyde etki alanına sahipse küresel sorun olarak nitelendirilir.		
13	Bir ülkenin ekonomisinin gelişmesinde kaynakların doğru değerlendirilmesi önemlidir.		
14	Çeşitli kültürlerle yönelik kalıp yargılarımız, yeni öğrendiğimiz bilgilerle değişebilir.		

16. Harfleri karışık hâlde verilen kelimeleri, aşağıdaki tanımlardan faydalananak doğru bir şekilde boşluklara yazınız.

1 GTİA	2 LNAAYTA	3 ELAYMZA	4 NİYÖGAR
5 İOLFŞ	6 UNSAİMT	7 TAHCARİ	8 ENPU

1. Türkiye ve Avrupa Güvenlik İşbirliği Teşkilatı'nın kısa adı.
2. 2015 yılında Türkiye'nin başkanlığını yaptığı G20 Liderler Zirvesi toplantısının yapıldığı şehir.
3. 1997 yılında İstanbul'da kurulan D-8 (Gelişen Sekiz Ülke)'e üye uzakdoğu ülkesi.
4. Belirli bir konuda tam anlamıyla bilgi sahibi olmadan yorum yapma.
5. Küresel ısınmaya neden olan bir yakıt türü
6. Genellikle okyanus ya da denizlerin tabanında meydana gelen deprem, volkan patlaması ve bunlara bağlı taban çökmesi sonucunda ortaya çıkan büyük dalgaların yarattığı tehlike durumu.
7. Bir ülkenin ürettiği malları başka ülkeye veya ülkelere satması.
8. Birleşmiş Milletler Çevre Programı'nın kısa adı

17. Kalıp yargı ile ilgili verilen ifadeleri kullanarak soruları örnekte olduğu gibi cevaplayınız.

Kalıp yargının özellikleri nelerdir?

8.....

Kalıp yargının sonuçları nelerdir?

.....

Kalıp yargıyı önlemenin yolları nelerdir?

.....

1

Farklılıklara saygı

2

Değiştirilmesi zordur

3

Adaletsizlik

4

Çoğu kez gerçeğe dayanmaz

5

Yardımlaşma

6

İnsanları olduğu gibi kabul etme

7

Ayrımcılık

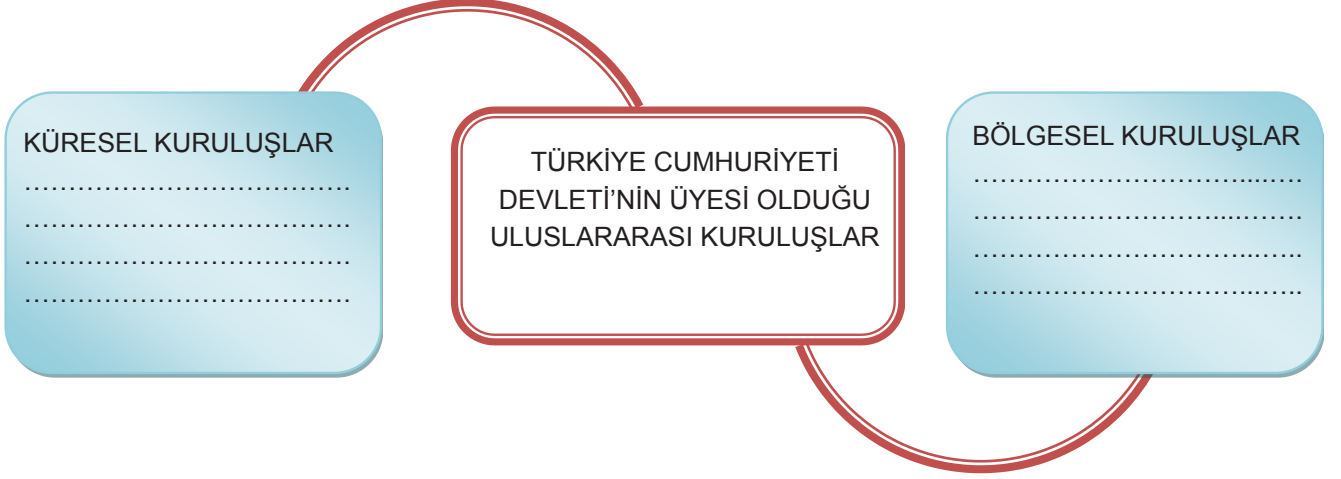
8

Devam etme eğiliminde olması

9

Hoşgörünün kaybolması

18. Türkiye Cumhuriyeti Devleti'nin üyesi olduğu uluslararası kuruluşları aşağıdaki şekil üzerinde belirtiniz.



19. Aşağıda verilen resim hangi küresel soruna işaret etmektedir? Bu küresel sorunun nasıl oluştuğunu resimden faydalanarak açıklayınız.



OLAYIN ADI

.....

AÇIKLAMASI

.....

.....

.....

.....

.....

.....

20. 24 Ekim 1945'te II. Dünya Savaşı sonrası Dünya barışının sağlanması, devletler arası sorunların barışçı yollarla çözülmesi, insan hak ve özgürlüklerinin korunması amacıyla kurulmuştur.

Hakkında bilgi verilen uluslararası kuruluş hangisidir?

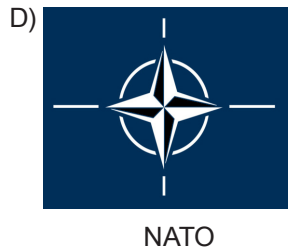
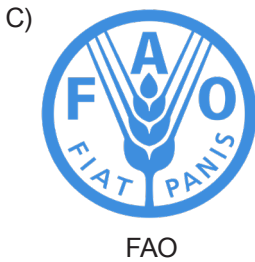
- A) NATO B) TİKA C) BM D) AB

21. I. İnsanların mümkün olan en yüksek sağlık düzeyine ulaşmasını sağlamak amacıyla kurulmuş örgüttür.
II. Devletler arası sorunları barışçı yollarla çözmek amacıyla kurulmuş olan örgüttür.
III. İnsanların hayat standardını ve beslenme düzeyini yükseltmek, açlığı önlemek, gıda ve tarım ürünlerinin üretim ve dağılımını geliştirmek amacıyla kurulmuş olan örgüttür.

Hakkında bilgi verilen uluslararası kuruluşlar sırasıyla hangi seçenekte belirtilmiştir?

- | | <u>I</u> | <u>II</u> | <u>III</u> |
|----|----------|-----------|------------|
| A) | BM | WHO | FAO |
| B) | WHO | FAO | BM |
| C) | WHO | BM | FAO |
| D) | FAO | BM | WHO |

22. Aşağıdakilerden hangisi Birleşmiş Milletlere bağlı kuruluşlardan biri değildir?



23. Kuruluş amacı; İnsan haklarını, demokrasiyi korumak ve güçlendirmek, azınlıklar, ırkçılık ve yabancı düşmanlığı, sosyal dışlanma, uyuşturucu madde ve çevre sorunlarına çözüm aramaktır.

Hakkında bilgi verilen uluslar arası kuruluş hangisidir?

A) Avrupa Konseyi

B) Türk Konseyi

C) EPPO

D) UNESCO

24.



Üye ülkelerin kalkınmalarına katkıda bulunmak, BSEC bölgesi içindeki ticari engelleri kaldırmak, bölge içi ticareti geliştirmek ve BSEC bölgesinin küresel pazarlarla bütünleşmesini teşvik etmek, üye ülkeler arasındaki kültürel ve tarihi bağları güçlendirmek başlıca amaçlarıdır.



G-20, küresel ekonomi ve mali sistemin daha fazla geliştirilmesini sağlamak ve küresel krizlere karşı önlem almak amacıyla kurulmuştur.



D-8'in amacı kalkınma yolundaki ülkelerin dünya ekonomisi içindeki konumlarını iyileştirmek, ticari ilişkilerini çeşitlendirmek ve ticaret alanında üye ülkelere yeni imkanlar yaratmak ve halklarının yaşam seviyesini

Haklarında bilgi verilen uluslar arası kuruluşlar aşağıdaki alanlardan hangisine yönelik çalışma yapmaktadırlar?

A) Askeri

B) Ekonomik

C) Kültürel

D) Sosyal

25. Karadeniz, Kafkasya ve Orta Asya'da uluslararası ulaşımı geliştirmeyi ve siyasi-ekonomik ilerlemeyi hedefleyen hükümetler arası bir programdır. Üye ülkeler, Azerbaycan, Bulgaristan, Ermenistan, Gürcistan, İran, Kazakistan, Kırgızistan, Moldova, Romanya, Tacikistan, Türkiye, Türkmenistan, Özbekistan ve Ukrayna'dır.

Hakkında bilgi verilen kuruluş hangisidir?

A) TRACECA

B) BSEC

C) G-20

D) D-8

Karadeniz Ekonomik İşbirliği Örgütü

Karadeniz Ekonomik İşbirliği Örgütü (KEİ), Karadeniz havzasının barış, istikrar ve refah bölgesi olması amacıyla ikili ve çok taraflı ekonomik, teknolojik ve sosyal ilişkileri teşvik ediyor



26 Haziran 1992'de kuruldu



Merkezi: İstanbul



12 üyesi bulunuyor



YÜKSEK DÜZEYLİ MEMURLAR KOMİTESİ

- Üye ülkelerin dışişleri bakanlarını temsil ediyor
- Konseyin aldığı karar ve tavsiyelerin uygulanmasını sağlıyor ve konseye tavsiyelerde bulunuyor

KEİ'NİN YAPISI

- Dışişleri Bakanları Konseyi
- KEİ'nin tek karar organı
- Yılda iki defa toplanıyor

ÖRGÜTE BAĞLI KURULUŞLAR

- Karadeniz Ekonomik İş Birliği Parlamenter Asamblesi (KEİPA)
- Ticaret ve Kalkınma Bankası
- Karadeniz Etütleri Uluslararası Merkezi
- İş Konseyi

Görselde verilen bilgiler dikkate alındığında KEİ ile ilgili hangisine ulaşılmaz?

- A) Hangi ülkelerin üye olduğuna
- B) Örgütün kuruluş amacına
- C) Örgüte bağlı diğer kuruluşlara
- D) Üye ülkelerin iktisadi durumlarına

27. Avrupa Birliği; Avrupa devletlerinin, ekonomik, siyasi, sosyal ve kültürel alandaki işbirliklerini güçlendirmek amacı ile kurulmuştur. Kuruluş yıllarında sadece 6 üyeden oluşan Avrupa Topluluğu, değişik tarihlerde yeni üyelerin katılımı sonucu 27 üyeden oluşan bir birlik halini almıştır. Avrupa Birliğinde, eğitimden sosyal politikaya, gıda güvenliğinden taşımacılığa, çevreden tüketicinin korunmasına, rekabetten bilim ve teknolojiye dek pek çok alanda üye devletler ortak politikalar üretmektedir. Amacı, birlik üyesi devletlerin ekonomik kalkınmalarını sağlamak olan Avrupa Birliği, temellerinin atıldığı yıllardan bugüne kadar üye devletlerin ekonomilerinin gelişmesini ve büyümesini sağlamayı hedeflemiştir. Ayrıca üye devletler arası ekonomik işbirliğinin kuvvetlendirilmesi, Avrupa Birliği vatandaşlarına iş imkanlarının yaratılması gibi konularda büyük çaba göstermiştir. 1958 yılında kurulmasından kısa bir süre sonra Türkiye, 31 Temmuz 1959'da Topluluğa ortaklık başvurusunda bulunmuştur. Türkiye'nin adaylık süreci halen devam etmektedir.

Verilen bilgilerden Avrupa Birliği ile ilgili hangisine ulaşamaz?

- A) Kuruluş amacına
B) Türkiye'nin ne zaman üye olduğuna
C) Farklı alanlarda çalışmalar yaptığına
D) Kaç devletin üye olduğuna
28. Türkiye ekonomik ilişkilerini geliştirmek amacıyla birçok kuruluşla iş birliği yapmaktadır. Bu kuruluşlar ülkeler arasındaki ekonomi, bilim, ticaret, eğitim, teknik, politik, kültürel ve siyasal konularda iş birliği geliştirmek amacıyla kurulmuştur. Bu iş birliği ülkemize ekonomik fayda sağlamakta ve ülkemizin yeni pazarlara açılmasını kolaylaştırmaktadır.

Verilenlerden hangisi Türkiye'nin üye olduğu kuruluşlardan biri değildir?

- A) Karadeniz Ekonomik İşbirliği Teşkilatı
B) Avrupa Kafkasya Asya Ulaştırma Koridoru
C) Avrupa Birliği
D) Ekonomik İşbirliği Teşkilatı
29. Aşağıda kalıp yargılar ile ilgili bazı bilgiler verilmiş ve bu bilgiler doğru ya da yanlış olarak 7.sınıf öğrencisi Dila tarafından değerlendirilmiştir.

Kalıp Yargı ile İlgili Bilgiler	Dila'nın Değerlendirmesi
1. Kalıp yargılar genellikle olumsuz iletişime neden olur.	D
2. Kalıp yargılar genellikle konuyla ilgili az bilgi sahibi olma durumunda oluşur.	D
3. Kalıp yargılar sadece insanlara yönelik oluşur.	D

NOT: Her doğru cevap (+10) puan, her yanlış cevap (-5) puandır.

Buna göre Dila yaptığı değerlendirme ile toplam kaç puan almıştır?

- A) 10 B) 15 C) 20 D) 25

30.

.....I.....



İnsanları özelliklerine göre sınıflandırma eğiliminin neden olduğu bir algılama ve davranış biçimidir.

.....II.....



Bir kimse veya bir şeyle ilgili olarak belirli olay ve görüntülere dayanarak önceden edinilmiş olumlu veya olumsuz yargılardır.

Verilen bilgiler dikkate alınarak I ve II numaralı alanlara sırası ile hangileri yazılmalıdır?

I

II

- | | |
|----------------|------------|
| A) Ön Yargı | Empati |
| B) Kalıp Yargı | Ayrımcılık |
| C) Kalıp Yargı | Ön Yargı |
| D) Ön Yargı | Ayrımcılık |

31. Kalıp yargıların başlıca özellikleri şunlardır:

- Bir kültürün tüm mensupları tarafından paylaşıldığı varsayılan özellikleri içine alır.
- Bu özellikler sayesinde insanlar belirli kategorilere konulur.
- Bu kategorilere dâhil edilen insanların yeteneklerine, kişilik özelliklerine, niteliklerine ve davranışlarına ilişkin beklentiler içerir.
- İlk kez karşılaşılan ve tam olarak bilinmeyen durumlarda hızlı ve basit bir bilgilendirme yapar.
- Gerçeği tam olarak yansıtmaya peşinde olmadan başka insanlar hakkında olumlu veya olumsuz bir nitelemede bulunur.
- Genelleştirme veya özelleştirme yoluyla oluşur.

Verilen özellikler dikkate alınarak hangisi kalıp yargıya örnek gösterilemez?

- A) Araplar zengindir.
- B) Çekik gözlüler Çinlidir.
- C) Afrikalılar hızlıdır.
- D) Türk kültürü zengindir.

32.



Küresel Isınma Nedir?

İnsanlar tarafından atmosfere salınan gazların sera etkisi yaratması sonucunda dünya yüzeyinde sıcaklığın artmasına **küresel ısınma** denir.

Verilenlerden hangisi küresel ısınmanın sonuçlarından değildir?

- A) Kuraklık B) İklim değişikliği C) Terör D) Buzulların erimesi

33. Aşağıdakilerden hangisi küresel ısınmanın engellenmesi için alınacak tedbirlerden biri değildir?

- A) Yenilenebilir enerji kaynakları kullanmak
B) Karbondioksit salınımını azaltmak
C) Sanayi üretimini arttırmak
D) Enerji tasarrufu sağlamak

34. Göçü ikiye ayırmak mümkündür: isteğe bağlı göç ve zorunlu göç. Yaşamlarını kendi ülkeleri dışında sürdürmekte olan insanların önemli bir bölümünün zorunlu göçe maruz bırakılmış kişilerden oluştuğu varsayılmaktadır. Söz konusu grup, resmî kayıtlarda mülteci ya da sığınmacı olarak adlandırılmaktadır. zorunlu göçün önlenmesine katkı sağlayacaktır.

Verilenlerden hangisi boş bırakılan yere yazılamaz?

- A) Yaşam kalitesinin yükseltilmesi
B) Savaşların sona erdirilmesi
C) Can güvenliğinin sağlanması
D) Doğal afetlerin engellenmesi

35.

		
Karadeniz Ekonomik İşbirliği Örgütü (KEİ) 1992 tarihinde İstanbul'da kurulan ve Karadeniz havzasındaki ülkelerin ekonomik işbirliğini amaçlayan uluslararası kuruluştur.	Birleşmiş Milletler Savaşları engellemek. Ülkeler arasında iş birliğini geliştirmek amacıyla kurulmuştur. Türkiye 1945 yılında üye olmuştur. Kurucu üyedir.	OECD(Ekonomik İş Birliği ve Kalkınma Örgütü) 1961 yılında kurulmuştur. Üye ülkelerin refahını, ekonomik kalkınmasını amaçlar. Türkiye kurucu ülke statüsünde yer alır.

Verilen bilgilere göre Türkiye ile ilgili,

- I. Ülkemiz bazı uluslararası kuruluşlara ev sahipliği yapmıştır.
- II. Hem bölgesel hem de küresel kuruluşlarda yer almıştır.
- III. Barışı koruyan tüm uluslararası kuruluşlara üye olmuştur.

yargılarından hangilerine ulaşılabilir?

- A) Yalnız I B) I ve II C) II ve III D) I, II ve III

36.



Mustafa Kemal Atatürk'ün Doğumunun 100. Yıl Dönümü" 1981 UNESCO Anma ve Kutlama Yıl Dönümleri arasına alınmıştır.



Hasan Ali Yücel'in Doğumunun 100. Yıl Dönümü" 1997 UNESCO Anma ve Kutlama Yıl Dönümleri arasına alınmıştır.



Hacı Bektaş Veli'nin ölümünün 750. yılı nedeniyle gelecek yıl bütün dünyada "2021 Hacı Bektaş Veli Yılı" ilan edildi.

Tabloda verilen bilgilere göre çıkarılabilecek en kapsamlı yargı aşağıdakilerden hangisidir?

- A) Türkiye UNESCO'ya destek veren en güçlü ülkelerden biridir.
- B) Türk büyüklerinin çalışmaları evrensel bir boyuta taşınmıştır.
- C) Ülkemiz dünya bilimine ve sanatına katkıda bulunmuştur.
- D) Uluslararası işbirliğinin sağlanmasında ülkemiz maddi manevi destek sunmuştur.

37. **GELİŞEN SEKİZ ÜLKE (D-8)**

Kuruluş Tarihi: 1997

Kuruluş Yeri: İstanbul'da kurulmuştur.

Amacı: Gelişen Sekiz Ülkenin amacı; kalkınma yolundaki ülkelerin dünya ekonomisi içindeki konumlarını iyileştirme, ticaret alanında üye ülkelere yeni imkânlar sunmaktır.

Üye ülkeler: Türkiye, Pakistan, Bangladeş, Malezya, Endonezya, Mısır, Nijerya ve İran'dır.

Verilen bilgilere göre D8 ile ilgili,

- I. Üye ülkeler arasında kültürel işbirliğini sağlamayı amaçlamaktadır.
- II. Üye ülkelerin refah seviyesini yükseltmek amaçları arasındadır.
- III. Üyelerinin çoğunu Asya kıtasındaki ülkeler oluşturmaktadır.

yargılarından hangilerine ulaşılabilir?

- A) Yalnız I B) I ve II C) II ve III D) I, II ve III

38. Kalıp yargılar, kanıtlanamayan inançlara dayanan, tahminî ve duygusal, yanlış ya da gerçeğin tamamını göstermeyen, herhangi bir kişi hakkında kısa yoldan bilgi edinmeyi sağlayan, toplumda sorgulanmadan hızlı biçimde yayılan, olumlu veya olumsuz nitelendirmelerdir. Ön yargı ise bir kimse veya bir şeyle ilgili olarak belirli olay ve görüntülere dayanarak önceden edinilmiş olumlu veya olumsuz yargılardır.

Buna bilgiye göre aşağıda verilen örneklerden hangisi ön yargıya örnektir?

- A) Yurt dışında okuyan tüm öğrenciler zengin çocuklarıdır.
- B) Bu işte başarılı olamayacağını biliyordum zaten.
- C) Almanlar çok çalışkan ve disiplinli bir millettir.
- D) Yaramaz çocuklar zeki olur.

39. İnsanlar bir şekilde ilişki kurdukları ya da ilgili oldukları diğer insanları ve toplumları anlamaya çalışırken onları sahip oldukları düşünülen özellikleri dikkate alarak sınıflandırma eğilimindedirler Bu süreçte sıklıkla başvurulan yöntemlerden biri önceden bilinen ile başkaları hakkında değerlendirme veya nitelendirmede bulunmaktır.

Verilen bilgide boş bırakılan yere seçeneklerden hangisi getirilmelidir?

- A) Empati
- B) Ön yargı
- C) Eleştiri
- D) Kalıp yargı

40. Kalıp yargılar aslında insanların bir grup, sosyal sınıf, toplum ya da ulus hakkında sahip olduğu temelsiz, genellenmiş inançlar ya da fikirlerdir.

Buna göre aşağıda verilen görsellerden hangisi bu durumu yansıtmaz?



41. Dünya genelinde etkili olan ve yeryüzünde en çok can ve mal kaybına neden olan afetlerden biridir. Oluşumu engellenemez ancak alınan tedbirlerle bu afetin zararı en aza indirilebilir.I.....
Hem ulusal hem de uluslararası çerçevede yiyecek dağılımında dengesiz ve adaletsizlikler söz konusudur. Savaşlar ve iç çatışmalar yaşayan gelişmemiş ülkeler, askerî harcamalara ve savunmaya yatırım yapmakta, kalkınma için pek harcama yapamamaktadır.II.....
Devletlerin diplomatik ilişkilerini keserek giriştikleri silahlı mücadele halidir.III.....

Tabloda açıklamaları verilen küresel sorunlar hangi seçenekte doğru verilmiştir?

	<u>I</u>	<u>II</u>	<u>III</u>
A)	Savaş	Açlık	Terör
B)	Erozyon	Tsunami	Deprem
C)	Deprem	Açlık	Savaş
D)	Volkanizma	Terör	Açlık

42. **Kuruluş Tarihi:** 1969

Merkezi: Cidde, Suudi Arabistan

Amacı: İslam dünyasının hak ve çıkarlarını korumak, teşkilata üye devletlerarasında iş birliğini ve dayanışmayı güçlendirmektir.

Hakkında bilgi verilen uluslararası örgüt aşağıdakilerden hangisidir?

- A) İslam İş Birliği Teşkilatı
- B) Dünya Sağlık Örgütü
- C) Birleşmiş Milletler
- D) Ekonomik İş Birliği Teşkilatı

43. Örgütün temel amacı; tüm insanların mümkün olan en yüksek sağlık düzeyine ulaşmalarıdır. Örgüt bu amacı gerçekleştirmek üzere uluslararası sağlık çalışmalarının yönetimini ve eş güdümünü sağlamaktadır. Türkiye, 9 Haziran 1949 tarihinde Dünya Sağlık Örgütüne resmen üye olmuştur.

Özellikleri verilen uluslararası kuruluşun logosu aşağıdakilerden hangisidir?



44. Bir ülkenin kaynaklarını verimli şekilde değerlendirmesi o ülkenin ekonomisini geliştirir. Ekonomisi güçlü bir ülke dünya üzerinde daha çok söz sahibi olur. Türkiye, çevresindeki bölge devletlerle ticaret yaparak bölge ekonomisine katkı sağlamaktadır.

Aşağıdakilerden hangisi ülkemizin çevresindeki bölge devletlerle yaptığı ticarete örnek olarak gösterilemez?

- A) İran ile Türkiye arasında doğalgaz ticaretinin yapılması
- B) Rusya ile Türkiye arasında yaş meyve sebze ticaretinin yapılması
- C) Brezilya ile Türkiye arasında kahve ticaretinin yapılması
- D) Bulgaristan ile Türkiye arasında et ve süt ürünleri ticaretinin yapılması

DÜNYANIN ORTAK SORUNU: HAVA KİRLİLİĞİ

Dünya üzerinde **her 10 insandan 9'u** kirli hava soluyor. Bu da birçok hastalığa neden oluyor. Hava kirliliği ile ilgili detayları sizler için derledik.



Her yıl **7 milyon** insanın hayatını kaybetmesine neden oluyor.



Avrupa genelinde **800 bin** kişi hava kirliliği sebebiyle erken ölüyor.



Ortalama yaşam süresini **2 yıl** kadar kısaltıyor.



Günde **1 paket sigara** kadar zarar veriyor.



KOAH'tan kaynaklanan ölümlerin **%41'inin**, akciğer kanserinin **%19'unun** sorumlusu.

HAVA KİRLİLİĞİNİN NEDENLERİNDEN BAZILARI

- Nüfus artışı
- Şehirleşme
- Sanayileşme
- Fosil yakıtlar
- Doğal afetler

HAVA KİRLİLİĞİNİN NEDEN OLDUĞU HASTALIKLAR

- Akut solunum yolu hastalıkları
- KOAH
- Kalp hastalıkları
- Akciğer kanseri
- Astım
- Felç

2017 YILINDA



51 bin 574 kişi hava kirliliği nedeniyle hayatını kaybetti.



7 bin 427 kişi trafik kazasında hayatını kaybetti.

TÜRKİYE'DE HAVA KİRLİLİĞİ

+%33,4

Türkiye'de Avrupa'dan **daha fazla hava kirlileti** madde bulunuyor.



Hava kalitesi değerleri hesaplanan **73 ilin 44'ünde** hava kirli.



Yaz aylarında havada daha çok zararlı madde bulunuyor.

Sadece görselde verilen bilgilere göre,

- Hava kirliliği küresel bir sorun haline gelmiştir.
- Yaşanan sorun insan yaşamını olumsuz etkilemiştir.
- Hava kirliliğinin en büyük nedeni fosil yakıtlardır.

yargılarından hangilerine ulaşılabilir?

A) Yalnız I

B) I ve II

C) II ve III

D) I, II ve III

46. Küresel sorunların en önemlilerinden biri olan açlık sorununu çözmek için çalışma yürüten Birleşmiş Milletler örgütü aşağıdakilerden hangisidir?

- A) FAO
- B) WHO
- C) UNICEF
- D) ILO

47.

25 dilde çıkarılan Conrier Dergisi 1974 Haziran sayısını Bîrûnî'ye ayırdı. Kapak fotoğrafının altına, "1000 yıl önce Orta Asya'da yaşayan evrensel dâhî Bîrûnî; Astronom, Tarihçi, Botanikçi, Eczacılık uzmanı Jeolog, Şair, Mütefekkir, Matematikçi, Coğrafyacı ve Hümanist" diye yazılarak tanıtıldı.

İklim değişikliği, gıda güvenliği, kıtlık ve Türkiye'ye etkileri konusunda AA muhabirine açıklamada bulunan Viorel Gutu, dünyanın en büyük yedinci tarımsal üretim ülkesi Türkiye'nin ürün çeşitliliği açısından da çok zengin olduğunu söyledi.

Avrupa ülkelerinin üçte ikisinde kızamık ortadan kalkmış olsa da Avrupa'nın bazı bölgelerinde dönem dönem büyük kızamık salgınları gözlemlenebiliyor. Hastalığın daha fazla yayılmasını önlemek ve aşılama oranlarını artırmak amacıyla bu hastalıklardan etkilenen ülkelerle sıkı bir işbirliği içinde çalışılmalıdır.

Yukarıda verilen genel ağ haberleri, hangi uluslararası kuruluşla ilgili olamaz?

- A) WHO
- B) FAO
- C) UNESCO
- D) NATO

48.

..... tarafından yapılan açıklamada, ortaya çıkan yeni koronavirüs mutasyonu ile ilgili olarak İngiltere'deki yetkililerle yakın temasta oldukları, yeni mutasyonun daha çok ölüme yol açtığına dair bir kanıt bulunmadığı belirtildi.

Buna göre boş bırakılan yere aşağıdaki kuruluşlardan hangisi yazılmalıdır?

- A) FAO
- B) UNESCO
- C) WHO
- D) UNICEF

49. İkinci Dünya Savaşı'nın sonunda,1945'te kurulmuştur.	Üye ülkeler arasında hiçbir İslam ülkesi bulunmamaktadır.	Savaşı ve barışa yönelik tehditleri önlemeyi amaçlar.
Uluslararası ekonomik ve sosyal iş birliğini sağlamayı amaçlar.	Merkezi ABD'nin New York kentidir.	Türkiye'nin üyelik için adaylık statüsü devam etmektedir.

Yukarıdaki tabloda, Birleşmiş Milletler (BM) ile ilgili yanlış bilgilerin yer aldığı bölümleri karalarsak ortaya çıkan şekil aşağıdakilerden hangisi olur?

- A)

- B)

- C)

- D)

50. "Tarihin sıfır noktası" olarak nitelendirilen Göbeklitepe, 2011 yılında UNESCO "Dünya Miras Geçici Listesi"ne alındı. 1 Temmuz 2018'de ise Bahreyn'de düzenlenen 42'nci Dünya Miras Komitesi Toplantısı'nda Dünya Mirası Listesi'ne dahil edildi. Göbeklitepe'yi Avrupa'dan Uzak Doğu'ya, Amerika'dan Afrika'ya kadar dünyanın birçok ülkesinden binlerce kişi ziyaret etmektedir.

Verilen metne göre aşağıdakilerden hangisine ulaşamaz?

- A) Göbeklitepe'nin Şanlıurfa'da yer aldığına
- B) Türkiye'nin dünya mirasına ev sahipliği yaptığına
- C) Göbeklitepe'nin dünyadaki bilinirliğinin arttığına
- D) Türkiye'deki kültür turizmi için önemli yer haline geldiğine
51. Avrupa, Kafkasya, Asya Taşımacılık Koridoru (TRACECA), Karadeniz, Kafkasya ve Orta Asya'da uluslararası ulaştırma faaliyetlerini geliştirmeyi, siyasi ve ekonomik ilerlemeyi hedefleyen, devletler arası bir programdır. İpek Yolu'nun yeniden canlandırılması amacıyla Orta Asya cumhuriyetlerini Kafkasya üzerinden Avrupa'ya bağlamayı hedefler. Ağırlıklı olarak demiryolu olmak üzere tüm ulaşım sistemlerini kapsayan bir doğu – batı koridoru olarak da tanımlanabilir.

Verilen tanımda belirtilen coğrafi yer adları dikkate alındığında, aşağıdaki ülkelerden hangisi TRACECA ülkesi olamaz?

- A) Kazakistan
- B) Gürcistan
- C) Mısır
- D) Ukrayna

52. 1999 yılında kurulan G20, 19 bağımsız ülke ve Avrupa Birliği Komisyonu olmak üzere toplam 20 temsilciden oluşmaktadır. Üye ülkeler Türkiye, İngiltere, Almanya, Fransa, İtalya, Rusya Federasyonu, AB, ABD, Kanada, Meksika, Arjantin, Brezilya, Çin, Hindistan, Japonya, Güney Kore, Endonezya, Avustralya, Güney Afrika ve Suudi Arabistan'dır. İspanya, İsviçre, Norveç gibi pek çok önemli Avrupa ülkesi, güçlü ekonomilerine rağmen Avrupa Birliği Komisyonu içerisinde temsil edilmektedir.

Verilenlere göre G20 ile ilgili aşağıdakilerden hangisine ulaşamaz?

- A) Ekonomi alanında kurulmuş uluslararası bir kuruluştur.
- B) Ekonomileri güçlü olmayan ülkeler, Avrupa Birliği Komisyonu'nca temsil edilmektedir.
- C) Afrika kıtasını temsil eden tek ülke Güney Afrika'dır.
- D) Çin, Japonya, Güney Kore, Endonezya G20'de yer alan uzakdoğu ülkelerindendir.

53. Türk Konseyi, Türk dünyasının tarihî ve kültürel birikimlerinden en geniş şekilde yararlanarak Türk dili konuşan ülkeler arasındaki çok taraflı iş birliğini geliştirilmek amacıyla kuruldu.

Buna göre aşağıdakilerden hangisinin Türk Konseyi'ne üye olması beklenemez?

- A) Afganistan
- B) Kazakistan
- C) Kırgızistan
- D) Özbekistan

54.



İktisadi İş Birliği
ve
Gelişme Teşkilatı



Karadeniz Ekonomik İş
Birliği Örgütü



Ekonomik İş Birliği
Teşkilatı

Türkiye'nin üyesi olduğu uluslararası kuruluşların amaçları dikkate alındığında aşağıdakilerden hangisi ülkemize sağladığı faydalardan biri değildir?

- A) İhracat ve ithalat yoluyla dış ticaret hacmini artırır.
- B) Ülkemizin ekonomik kalkınmasına katkı sağlar.
- C) Ülkemizin yeni pazarlara açılmasını sağlar.
- D) Ülkemizin bölgedeki güvenliğini sağlar.

55. I. Kalıp yargılar değiştirilemez.
II. Kalıp yargılar her zaman olumsuz anlam içerir.
III. Pozitif ayrımcılık dezavantajlı kişilerin herkesle eşit olabilmesinin garanti altına alınmasıdır.
IV. Ayrımcılık önyargının davranışa dönüşmüş şeklidir.

Yukarıdaki ifadelerden kaç tanesi doğrudur?

- A) 1 B) 2 C) 3 D) 4

56. Ayrımcılık, bir gruba veya grubun üyelerine karşı önyargılardan beslenen olumsuz tutum ve davranışların tümünü içeren bir süreçtir. Önyargılar davranışa dönüştüğünde ayrımcılık söz konusu olmaktadır.

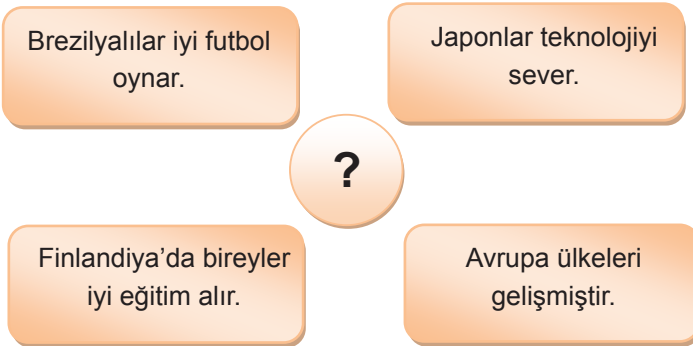
Buna göre,

- Ten renginden dolayı kişiyle dalga geçilmesi
- Engelli olduğu için kişinin arkadaş grubuna alınmaması
- Etnik kökeninden veya dininden dolayı kişinin sınır dışı edilmesi

olarak verilen ayrımcılıkla ilgili örneklerde, aşağıdaki hangi tutum veya davranış yer almaz?

- A) Hor görme
B) Kaçınma
C) Mesafe koyma
D) Hoşgörme

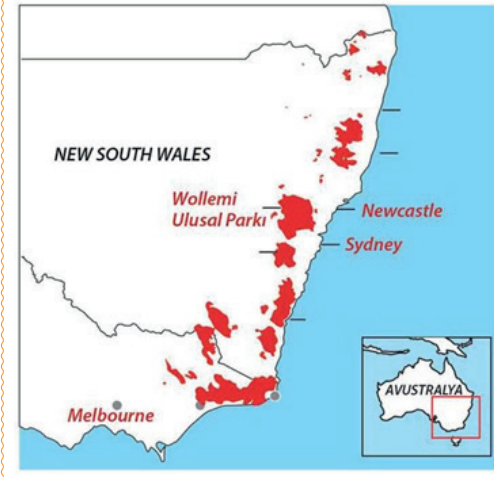
57.



Soru işareti (?) ile belirtilen yere aşağıdakilerden hangisi yazılmalıdır?

- A) Pozitif ayrımcılık
B) Önyargı
C) Kalıp yargı
D) Olgu

58.



Avustralya'nın Yeni Güney Galler eyaletindeki yangınlar tam 240 gün sürdü. Ülkenin doğusunda bulunan eyaletteki yangın, ülke tarihinde bilinen en büyük doğal felaketlerden biridir. Yangının ormanları yok etmesinin ardından bölgede geniş taşkınlar ve seller meydana geldi. Aralık ayında Avustralya'nın en büyük kentlerinden Sydney'de hava kirliliği tehlikeli seviyenin 11 kat üstüne çıktı. Veriler bir milyardan fazla canlının yangın nedeniyle yok olduğu bilgisini ortaya koydu.

Verilen metinden,

- I. Bir doğal afet diğer afet ve çevre sorunlarına yol açmıştır.
- II. Orman yangınları insan kaynaklı ortaya çıkmıştır.
- III. Tarım yapmaya elverişli alanlar daralmıştır.
- IV. Bitki ve hayvan türleri tehlikeye gitmiştir.

ifadelerinden hangilerine ulaşılabilir?

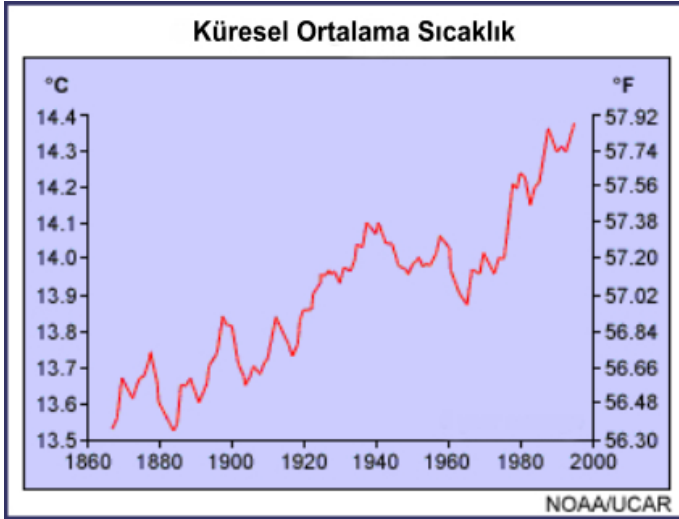
- A) I ve II
- B) I ve IV
- C) II ve III
- D) III ve IV

59. Bilim adamları, özellikle son 100 yılda fosil yakıtlarının artmasının, atmosfere salınan başta karbondioksit olmak üzere diğer sera gazların artışının, iklim değişikliklerine yol açtığını belirtmektedirler.

Buna göre aşağıdakilerden hangisi iklim değişikliğinin yaşandığına kanıt olarak gösterilemez?

- A) Yeni bitki türlerinin ortaya çıkması
- B) Fırtınaların şiddetinin artması
- C) Buzulların erimesi
- D) Kuraklık ve çölleşmenin artışı

60.



Verilen grafikten,

- I. Son 100 yılda küresel ortalama sıcaklık değerlerinde belirgin bir artış gözlemlenmiştir.
- II. Her yıl ortalama sıcaklık değeri bir önceki yıla göre artış göstermiştir.
- III. 2000 yılından sonra ortalama sıcaklık artmaya devam etmiştir.
- IV. 1920 - 1940 yılları arasında ortalama sıcaklıkta azalış gözlemlenmiştir.

İfadelerinden kaçına ulaşılabilir?

- A) 1 B) 2 C) 3 D) 4

61. Karadeniz Ekonomik İşbirliği Teşkilatı'nın merkezi İstanbul'dadır. Üye Ülkelerin coğrafi yakınlıklarından, ekonomilerinin birbirlerini tamamlayıcı özelliklerinden yararlanarak aralarındaki ilişkileri geliştirmeleri ve istikrar bölgesi oluşturmaları amaçlanmaktadır.

Aşağıdaki devletlerden hangisi bu teşkilatın üyelerinden olamaz?

- A) Rusya Federasyonu B) Ukrayna
C) Gürcistan D) İspanya

62. Küresel ısınma ile mücadele ederken bireylerin geri dönüşümü bir yaşam tarzı olarak benimsemesi gerekmektedir. Örneğin....

Küresel ısınma ile ilgili konuşma yapan kişinin sözlerine aşağıdakilerden hangisiyle devam etmesi beklenemez?

- A) Alışveriş yaparken plastik poşet kullanmak
B) Uzun ömürlü ürünleri tercih etmek
C) Cam ürünlere yönelmek
D) Geri dönüşümü olmayan ambalajlı ürünleri satın almamak

63. Dünya üzerinde Ortak miras eserlerini korumak amacıyla kurulan Uluslararası teşkilatın ismi aşağıdakilerden hangisidir?

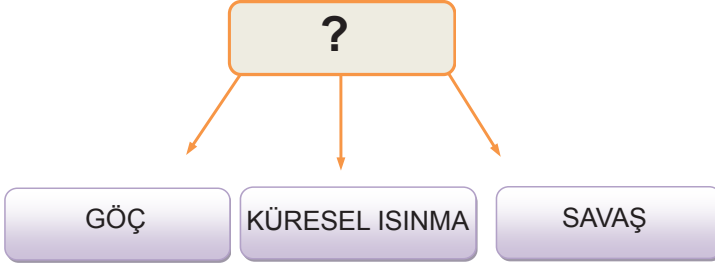
A) NATO

B) WHO

C) UNESCO

D) FAO

64.



Yukarıda verilen kavram haritasında "?" işareti ile boş bırakılan yere aşağıdakilerden hangisi yazılabilir?

A) Ortak miras

B) Küresel Sorunlar

C) Doğal afetler

D) Ekonomik Sorun

65. Yaşanılan toplumda kadınların temel hizmetlerden yoksun olması, eşit fırsatlara ve kaynaklara ulaşmada erkeklere oranla uygun olmayan koşullarda hayatına devam etmesi, şiddete uğraması, siyasette ve çalışma hayatında düşük oranda temsil edilmesi şeklinde karşımıza çıkan bir durumdur.

Yukarıda verilen bu bilgiler aşağıdaki sorulardan hangisine verilmiş bir cevap olabilir?

A) Dünyada en çok mülteci hangi ülkede yaşar?

B) Irkçılığın ortaya çıkış sebebi nedir?

C) Kadın hakları nasıl gelişme gösterir?

D) Cinsiyet ayrımcılığı nedir?

66. Son yıllarda Bilim adamlarının yaptığı araştırmalara göre, Afrika'da Kilimanjaro Dağı'nın zirvesinde yer alan ünlü buzullar son yüzyılda hiç olmadığı kadar hızla eriyor. Kilimanjaro'nun zirvesindeki buzul susuzluk ile mücadele eden Tanzanya'nın nehirlerini besleyen en önemli kaynaktır.

Verilen bilgilerde küresel ısınmanın aşağıdaki sonuçlarından hangisi ile ilgili bir durumdan bahsedilmektedir?

- A) Sıcaklıkların aşırı derecede yükselmesi
- B) Hava kirliliğinin artması
- C) Sağanak yağışların artması
- D) Denizlerdeki su seviyesinin yükselmesi

67. Bazı göğüs hastalıkları doktorları iklim değişikliğinin alerjiye yakalanan kişi sayısında artışa neden olduğunu belirtmişlerdir.

Buna göre,

- I. Küresel sorunlar büyük şehirleri daha fazla etkilemektedir.
- II. İklim değişikliği sadece alerjiye sebep olmaktadır.
- III. Küresel ısınma insan sağlığını olumsuz etkilemektedir.

Çıkarımlarından hangisi ya da hangilerine ulaşabiliriz?

- A) Yalnız I
- B) Yalnız III
- C) I ve II
- D) II ve III

68. Yaşadığı ülkeden siyasi, sosyal, ekonomik nedenlerle ayrılmak zorunda kalan ve yaşamlarını farklı ülkelere sığınarak devam ettirmeye çalışan insanlara ne ad verilir?

Sosyal Bilgiler Öğretmeni Mehmet Bey'in sorusunu aşağıdaki öğrencilerden hangisi doğru cevaplandırmıştır?

- A) Cemil: Vatandaş
- B) Deniz: Birey
- C) Meriç: Mülteci
- D) Nesrin: Diplomat

69. 1970'li yılların başlarında soğuk savaş dönemindeki Avrupa'daki ayrılığa son vermek, güvenlik ve huzurun kazanılması amacıyla 1973 yılında Helsinki'de çalışmalarına başladı. 1975 yılında 33 Avrupa Ülkesi, ABD ve Kanada tarafından Helsinki Nihai Senedi imzalandı.

Yukarıda verilen bilgiye göre Türkiye Cumhuriyeti'nin üyesi olduğu uluslararası kuruluş aşağıdakilerden hangisidir?

- A) OECD
- B) UNICEF
- C) NATO
- D) AĞİT

CEVAP ANAHTARI

1.

KÜRESEL SORUN	KALIP YARGI
1-4-6-7-8-10	2-3-5-9

2.



KURAKLIK



KÜRESEL ISINMA



AÇLIK



ZORUNLU GÖÇ



TERÖR ve SAVAŞ

3.

KURULUŞLAR	KÜRESEL	BÖLGESEL
WTO	X	
G-20	X	
BSEC		X
OECD	X	
ECO		X
D-8	X	

4.

AMBLEMİLER	KURULUŞUN ADI	KURULUŞ AMACI
	KARADENİZ EKONOMİK İŞ BİRLİĞİ ÖRGÜTÜ	Üye ülkelerin coğrafi yakınlıklarından ve ekonomilerinin birbirlerini tamamlayıcı özelliklerinden yararlanarak ticari, ekonomik, bilimsel ve teknolojik iş birliğini geliştirmektir.
	GELİŞEN SEKİZ ÜLKE	Kalkınma yolundaki ülkelerin dünya ekonomisi içindeki konumlarını iyileştirme, ticaret alanında üye ülkelere yeni imkânlar sunmak
	NATO (Kuzey Atlantik Antlaşması Örgütü)	Üye ülkelerin özgürlük ve güvenliklerini korumaktır. Bir saldırı veya saldırı tehdidine karşı üyelerini savunma amacı ile kurulmuştur.
	UNICEF (BM Çocuk Yardım Fonu)	Dünyadaki bütün çocukların güvenlik, sağlık, eğitim gibi her türlü haklardan yararlanmalarını sağlamak ve bu haklarını korumak ve onları kollamak amacıyla kurulmuştur.
	AKDENİZ İÇİN BİRLİK	Sosyal ve kültürel iş birliğinin yanı sıra Akdeniz bölgesinde ortak ekonomik refahı ve bölgesel bütünleşmeyi sağlamak.
	AVRUPA KAFKASYA ASYA ULAŞTIRMA KORIDORU	Karadeniz, Kafkasya ve Orta Asya'da uluslararası ulaştırmayı, siyasi-ekonomik ilişkileri, ticareti ve ulaştırma bağlantılarını geliştirmeyi amaçlayan hükümetlerarası bir programdır.
	WHO (Dünya Sağlık Örgütü)	Tüm insanların mümkün olan en yüksek sağlık düzeyine ulaşmasını sağlamaktır.
	UNCHR (BM Mülteciler Yüksek Komiserliği)	Ülkesini savaş ya da zulüm gibi nedenlerden terk etmiş olan kişilere uluslararası koruma sağlamaktır.
	TÜRK KONSEYİ (Türk Dili Konuşan Ülkeler İş Birliği Konseyi)	Türk dünyasının tarihî ve kültürel birikimlerinden en geniş şekilde yararlanmak suretiyle Türk dili konuşan ülkeler arasındaki çok taraflı iş birliğinin geliştirilmesidir.

5.

ALINABİLECEK TEDBİRLER:

1

Trafikte özel araçlar yerine toplu taşıma araçları ve bisiklet gibi araçlar tercih etmek

2

Suyu tasarruflu kullanmak

3

Elektriği tasarruflu kullanmak

4

Yenilebilir enerji kaynakları kullanmak


5

Fabrika bacalarına filtreler takmak

6.

1	2	3	4	5
Küresel Isınma	Zorunlu Göç	İslamofobi	Terörizm	Kalıp Yargı

7.



8.

AÇIKLAMA	D	Y
Açlık küresel sorunlar içinde yer almaktadır.	X	
Açlık problemi ile en fazla Afrika ülkeleri karşılaşmaktadır.	X	
Kongo 13,1 milyon ile açlık sorununda birinci sıradadır.		X
Tüm Afrika ülkeleri açlık sıkıntısı çekmektedir.		X
Dünya Gıda Örgütü açlık sorunu konusunda sayısal veriler ortaya koymuştur.	X	
Suriye açlık sorununu sayısal olarak haritadaki diğer ülkelerden daha az yaşamaktadır.		X

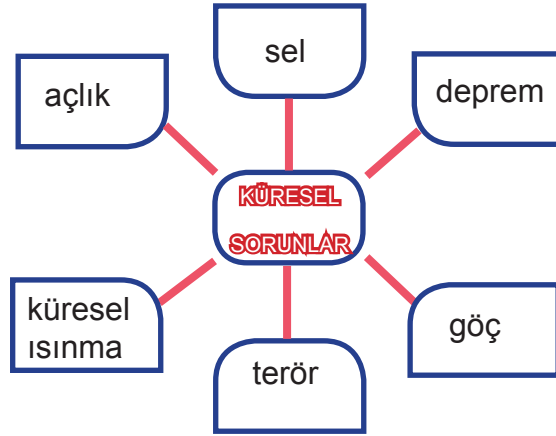
9.

Kuruluş yılı	24 EKİM 1945
Kurulduğu yer	New York ABD
Üye sayısı	193
Kurucu ülkeler	ABD, Fransa, İngiltere, Brezilya, Türkiye, Meksika, İran vb.
Kuruluş amacı	Dünya barışını, güvenliğini, sosyal ilerlemeyi, yaşam standartlarını yükseltmeyi, insan haklarını desteklemeyi ve dostane ilişkileri geliştirmeyi amaçlayan bir kuruluştur.
Üye organlar	Çocuklara Yardım Fonu (UNICEF) Gıda ve Tarım Örgütü (FAO) Uluslararası Atom Enerjisi Kurumu (IAEA) Uluslararası Çalışma Örgütü (ILO) Uluslararası Para Fonu (IMF) Birleşmiş Milletler Eğitim, Bilim ve Kültür Örgütü (UNESCO)

10. 5.ÇIKIŞ

11. 1 e 2 d 3 a 4 f 5 b 6 c

12.



13.

1. Avrupa devletleri arasında birçok alanda işbirliğini sağlamak amacıyla 1958'de kurulan, Türkiye'nin 1959 yılında ortaklık başvurusunda bulunduğu ancak adaylık sürecinin devam ettiği uluslararası kuruluşun adı.

AVRUPA BİRLİĞİ

2. Karadeniz Ekonomik İşbirliği Teşkilatı (KEİ)'nin merkezi olan şehir.

İSTANBUL

3. Trans Anadolu Doğalgaz Boru Hattı Projesinin kısa adı.

TANAP

4. İslam dünyasına mensup olan bireylerin maruz kaldıkları ayrımcı muameleye verilen genel isimdir.

İSLAMOFOBİ

5. Atmosfere salınan gazların neden olduğu, karada denizde ve havada ölçülen ortalama sıcaklık artışına verilen ad.

SERA ETKİSİ

6. G20'ye üye bir Latin Amerika ülkesi.

ARJANTİN, BREZİLYA

14.



15.

		D	Y
1	Kalıp yargılar insanları zor duruma düşmekten korur.		X
2	İnsanlar tarafından atmosfere salınan gazlar sera etkisi yaratır.	X	
3	Karadeniz Ekonomik İş Birliği Örgütü (BSEC), Birleşmiş Milletlere (BM) bağlıdır.		X
4	Türkiye, OECD'nin kurucu üyelerindendir.	X	
5	Türkiye Avrupa Birliği'ne üyedir.		X
6	D8 Birleşmiş Milletler çatısı altında kurulmuş bir örgüttür.		X
7	Fosil yakıtların kullanımının artırılması küresel ısınmanın önlemesine katkı sağlar.		X
8	Terörizm küresel bir sorundur.	X	
9	Doğal afetler can ve mal kaybına sebep olur.	X	
10	Türkiye Birleşmiş Milletlerin kurucu üyelerinden biridir.	X	
11	Kalıp yargılar sadece ülkelerin birbirine bakış açısını yansıtır.		X
12	Bir sorun uluslararası düzeyde etki alanına sahipse küresel sorun olarak nitelendirilir.	X	
13	Bir ülkenin ekonomisinin gelişmesinde kaynakların doğru değerlendirilmesi önemlidir.	X	
14	Çeşitli kültürlerle yönelik kalıp yargılarımız, yeni öğrendiğimiz bilgilerle değişebilir.	X	

16.

1 GTİA	2 LNAAYTA	3 ELAYMZA	4 NİYÖGAR
AGİT	ANTALYA	MALEZYA	ÖNYARGI
5 İOLFŞ	6 UNSAİMT	7 TAHCARİ	8 ENPU
FOSİL	TSUNAMİ	İHRACAT	UNEP

17.

Kalıp yargının
özellikleri nelerdir?

8, 2, 4

Kalıp yargının
sonuçları nelerdir?

3, 7, 9

Kalıp yargıyı önlemenin
yolları nelerdir?

1, 6, 5

18.

KÜRESEL KURULUŞLAR
BM
NATO
OECD
WHO
FAO

TÜRKİYE CUMHURİYETİ
DEVLETİ'NİN ÜYESİ OLDUĞU
ULUSLARARASI KURULUŞLAR

BÖLGESEL KURULUŞLAR
BSEC
KEİ
AGİT
TÜRK KONSEYİ

19.

OLAYIN ADI: SERA ETKİSİ

AÇIKLAMASI: Dünya, üzerine düşen güneş ışınlarından çok, dünyadan yansıyan güneş ışınlarıyla ısınır. Bu yansıyan ışınlar başta karbondioksit, metan ve su buharı olmak üzere atmosferde bulunan gazlar tarafından tutulur, böylece dünya ısınır. Işınların bu gazlar tarafından tutulmasına sera etkisi denir.

CEVAP ANAHTARI

20. C	39. D	58. B
21. C	40. D	59. A
22. D	41. C	60. A
23. A	42. A	61. D
24. B	43. A	62. A
25. A	44. C	63. C
26. D	45. B	64. B
27. B	46. A	65. D
28. C	47. D	66. A
29. B	48. C	67. B
30. C	49. B	68. C
31. D	50. A	69. D
32. C	51. C	
33. C	52. B	
34. D	53. A	
35. B	54. D	
36. B	55. B	
37. C	56. D	
38. B	57. C	



meb.gov.tr