



3. Sınıflar Sene Başı Hazır Bulunuşluk Sınavı

Adı-Soyadı:

1. Aşağıdaki sayıların okunuşlarını yazınız.

a. 28:


b. 93:

2. Aşağıda okunuşu verilen doğal sayıları rakamla yazınız.

a. Kırk sekiz:

b. Doksan:

3. Aşağıdaki modellenen doğal sayıları bulup okunuşlarını yazınız.



Rakamla: _____

Yazıyla: _____



Rakamla: _____

Yazıyla: _____



Rakamla: _____

Yazıyla: _____

4. Aşağıda verilen kutuları örnekteki gibi doldurunuz.

45	
onluk	birlik
..4..	...5..
...kırk beş...	

85	
onluk	birlik
.....
.....	

.....	
onluk	birlik
.....
doksan üç	

.....	
onluk	birlik
7	1
.....	

5. Aşağıdaki elmaların bir düzine kadarını boyayınız.



6. Bir haftadaki günlerin sayısı bir düzineden kaç eksiktir?

a. 3

b. 5

c. 7

7. 2 düzine kalemin 5 eksiği kaç kalem eder?



8. Aşağıdaki verilen sayıları karşılaştırarak boşluklara "küçüktür, büyüktür, eşittir" kelimelerinden uygun olanları yazınız.

- ☒ 48, 75 'ten
- ☒ 55, 41 'den
- ☒ 29, 29' a
- ☒ 81, 78' den
- ☒ 92, 99' dan

9. Aşağıdaki doğal sayılar hangi onluğa ya-
kınsa o kutuyu boyayınız.

26	65	39	84
20 30	60 70	30 40	80 90

10. Aşağıdaki modellerden hangisi simetrik olarak iki eş parçaya ayrılabilir?




11. Aşağıdaki toplama ve çıkarma işlemlerini yapınız.

$$\begin{array}{r} 36 \\ + 44 \\ \hline \end{array} \quad \begin{array}{r} 28 \\ + 53 \\ \hline \end{array} \quad \begin{array}{r} 91 \\ - 45 \\ \hline \end{array} \quad \begin{array}{r} 48 \\ - 38 \\ \hline \end{array}$$

$$\begin{array}{r} 98 \\ - 29 \\ \hline \end{array} \quad \begin{array}{r} 16 \\ + 33 \\ \hline \end{array} \quad \begin{array}{r} 80 \\ - 28 \\ \hline \end{array} \quad \begin{array}{r} 25 \\ + 39 \\ \hline \end{array}$$

$$\begin{array}{r} 73 \\ - 38 \\ \hline \end{array} \quad \begin{array}{r} 66 \\ + 37 \\ \hline \end{array} \quad \begin{array}{r} 85 \\ - 23 \\ \hline \end{array} \quad \begin{array}{r} 50 \\ + 49 \\ \hline \end{array}$$

12. Efe'nin 18 lirası vardır. Babası ona 15 lira daha verirse Efe'nin kaç lirası olur?

A large rectangular grid with rounded corners, composed of 10 columns and 5 rows of squares, intended for drawing a picture.

13. Sınıfımızda 14 kız ve kızlardan 8 fazla sayıda erkek vardır. Buna göre sınıfımızın mevcudu kaç olur?

A blank grid for drawing a picture, consisting of 10 columns and 4 rows of squares. The grid is enclosed in a rounded rectangular border.

14. Bir kümeste 28 tane tavuk vardır. Tavuklardan 9 eksik sayıda civciv vardır. Buna göre kümeste kaç civciv vardır?

A blank grid for drawing a diagram, consisting of 10 columns and 4 rows of squares. The grid is enclosed in a rounded rectangular border.



15. Aşağıdaki işlemlerdeki verilmeyen terimleri bulup yazınız.

$$\begin{array}{r} 48 \\ + \square \\ \hline 73 \end{array} \quad \begin{array}{r} \square \\ - 36 \\ \hline 16 \end{array} \quad \begin{array}{r} \square \\ + 25 \\ \hline 84 \end{array} \quad \begin{array}{r} 82 \\ - \square \\ \hline 27 \end{array}$$

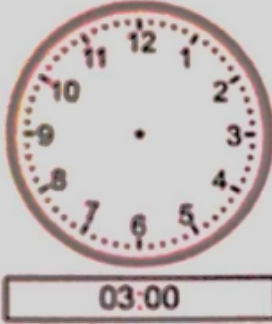
16. 54 sayısı ile hangi sayı ile toplarsak cevap 93 olur?

[illegible]

25. Aşağıdaki saatlerin kaç gösterdiğini altlarına yazınız.



26. Aşağıdaki saatlerin kaç gösterdiğini altlarına yazınız.



27. Aşağıdaki kalemleri dörderli gruplayıp soruları cevaplayınız.



Kalem sayısı:

Oluşan grup sayısı:

Artan kalem sayısı:

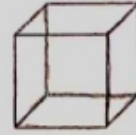
28. 15 lirayı 3 kişiye eşit olarak paylaştırırsak kişi başına kaç lira düşer?

- a. 15 b. 5 c. 3

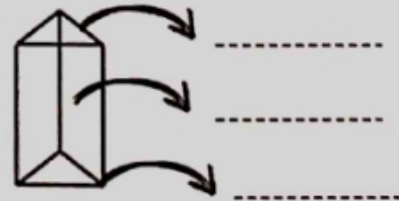
29. Aşağıdaki noktalı yerleri doğru bir şekilde doldurunuz.

- 1 bütün yarım eder.
- 1 bütün çeyrek eder.
- 4 çeyrek bütün eder.
- 4 bütün yarım eder.
- 8 çeyrek bütün eder.


30. Aşağıdaki geometrik cisimlerin isimlerini altlarına yazınız.



31. Aşağıdaki noktalı yerlere "köşe", "ayrıt", "yüz" kelimelerini doğru bir şekilde yerleştiriniz.



32. Aşağıdaki örüntülerin kuralını bulunuz. Ardından örüntünün hangisiyle devam edeceğini örnekteki gibi yuvarlak içine alınız.





3. Sınıflar Sene Başı Hazır Bulunuşluk Sınavı

Adı-Soyadı:

ASLAN VE FARE

Mağarasında uyuyan bir aslan, üzerinden geçen bir fare yüzünden uyandı. Aslan buna çok sinirlendi ve fareyi yakaladı. Fare, korku içinde "Lütfen gitmemize izin ver, bir gün bu iyiliğin karşılığını ödeyeceğim," diye yalvardı. Küçük farenin aslana iyilik yapması fikri aslanı öyle eğlendirdi ki gülerек farenin gitmesine izin verdi.

Bir gün aslan, avcılarının ağına takıldı. Ne kadar uğraşsa da kurtulamadı ağdan ve başladı kükmeye. Aslanı duyan fare, koşarak onun yanına gitti. Zaman kaybetmeden başladı ipleri kemirmeye ve aslanı kavuşturdu özgürlüğüne. Fare "İşte!" dedi. "Sana borcumu ödeyeceğimi söyleyince gülmüştün bana. Bak sana olan borcumu ödedim."

1-5. Soruları metne göre cevaplayınız.

1. Aslan neden sinirlenmiş?

.....

2. Fare, aslanın elinden nasıl kurtulmuş?

.....

3. Bu metnin başlığı neden "Aslan ile Fare" dir?

.....

4. Fare, aslana olan borcunu nasıl ödemiş?

.....

5. Bu hikayeden nasıl bir sonuç çıkarmalıyız?

.....

6. Aşağıdaki tabloyu örnekteki gibi doğru bir şekilde doldurunuz.

Kelime	Heceleri	Hece Sayısı	Ünlü Harfler
öğretmen	ög-ret-men	3	ö-e-e
arkadaş			
misafirlik			
tesadüfen			
alfabe			
kahramanlık			

7. Aşağıdaki kelimelerin eş anlamlılarını karşılarına yazınız.

- kırmızı →
- hatıra →
- hediye →
- vazife →
- yıl →

8. Aşağıdaki kelimelerin zıt anlamlılarını karşılarına yazınız.

- hızlı →
- kısa →
- yaşlı →
- zengin →
- cevap →

9. Aşağıdaki sözcükleri sözlük sırasına koyduğumuzda en sonda hangisi yer alır?

- a. kedi b. fare c. balık

10. "kaz" sözcüğü aşağıdakilerin hangisinde diğerlerinden farklı bir anlamda kullanılmıştır?

- a. Belediye ekipleri evimizin önünü kazdı.
b. Hayvanat bahçesinde kazları gördük.
c. Kazı sonucunda tarihi eserlere ulaşıldı.

11. Aşağıdaki cümlelerin hangisinde "Nerede?" sorusunun cevabı vardır?

- a. Evin önündeki çocuklar akşam olunca evlerine gittiler.
b. En sevdiğim pembe kazağım kayboldu.
c. Öğretmenim beni tebrik etti.

12. Aşağıdaki cümlelerin hangisinde neden-sonuç ilişkisi kurulmamıştır?

- a. Çok üşüdüğü için kazak giydi.
b. Bugün annem için çok çalıştım.
c. Sert esen rüzgar yüzünden şemsiyem kırıldı.

13. Aşağıdaki cümlelerin hangisinde karşılaştırma yapılmıştır?

- a. Ben de babam gibi iyi futbol oynarım.
b. Erkin çok yemek yiyor.
c. Bizim okulumuz çok güzel.

14. Aşağıdakilerden hangisi özel isim değildir?

- a. Mustafa
b. Atatürk İlkokulu
c. Kitaplık

15. Aşağıdaki cümlelerde altı çizili sözcüklerden hangisi bir varlığın özelliğini belirtmemiştir?

- a. Kırmızı gömleğimin üstü lekelenmiş.
b. Ahmet, saatini kaybetmiş.
c. Bozuk televizyonu tamire götürdük.

16. Aşağıdaki cümlelerin sonuna uygun olan noktalama işaretini koyunuz.


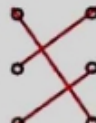
- İmdat, yüzme bilmiyorum ☐
● Bunları da alıyor musun ☐
● Ne zaman tatile gideceğiz ☐
● Yakınlarda güzel bir piknik alanı var ☐
● Eyvah, okula geç kaldım ☐

17. Aşağıdaki kelimeleri okuyunuz. Kelimeler doğru yazılmışsa ✓ işareti, eğer yanlış yazılmışsa ✗ işareti koyunuz.

- Gazte ☐ ● Öğretmen ☐
● Kalabalık ☐ ● Yalançı ☐
● Herkez ☐

18. Okuduğun kitabın adı nedir?	• •	Dün gece
Kitabı nereden aldın?	• •	Kırtasiyeden
Kitabı ne zaman bitirdin?	• •	Küçük Prens

Yukarıdaki sorular ve yanıtları doğru eşleştirmesi nasıl olmalıdır?

- a. 
b. 
c. 