

A - Aşağıdaki ifadeleri uygun kelimelerle tamamlayınız.



- 1 - Dünya 'nın en dışında bulunan ve hava olaylarının gerçekleştiği katman . . . . . tabakasıdır.
- 2 - Kıyıya yaklaşan bir geminin önce . . . . . görünür , sonra yavaş yavaş tamamı görünür.
- 3 - Düz arazide ya da açık denizde , gökyüzü ile yerin birleşmiş gibi görüldüğü yere . . . . . denir.
- 4 - Dünya'nın çevresini dolaşan ilk denizci . . . . . dir.
- 5 - Dünya'nın küre şeklinde olduğunu söyleyen ve Dünya'nın Güneş etrafında döndüğünü hesaplamıştır. Yer çekiminin varlığını Newton'dan önce keşfeden Müslüman Türk bilim insanı . . . . . dir.
- 6 - Dünya üzerindeki büyük su kütlelerine . . . . . denir.
- 7 - Dünya 'mızın merkezinde . . . . . bulunur.
- 8 - Dünya modeli üzerinde karalar . . . . . ve . . . . . ile gösterilir.



B - Aşağıdaki ifadelerden doğru olanların başına (D) ,yanlış olanların başına (Y) yazınız.

- ( ) 1 - Nefes alırken kullandığımız oksijen su katmanında bulunur.
- ( ) 2 - Çiğ olayının gerçekleşmesi havanın varlığını ispatlar.
- ( ) 3 - Bir noktadan başlayıp hep aynı yöne gidilirse keşfedilmemiş bir kıtaya varılır.
- ( ) 4 - Su katmanının çok az kısmı içme suyu olarak kullanılır.

- ( ) 5 - Manto tabakasında erimiş kayalar ve metaller bulunur.
- ( ) 6 - Hava tabakası sadece kara katmanının etrafını sarar.
- ( ) 7 - Yer kabuğu , Dünya 'nın her yerinde aynı kalınlıktadır.
- ( ) 8 - Çekirdek , Dünya'nın en kalın ve sıcak katmanıdır



C - Aşağıdaki soruları cevaplayınız.

1 - Dünya'nın şekli nasıldır ? Açıklayınız.

.....

.....

2 - Yurdumuz hangi kıtalar üzerinde bulunur ? Kıtalar üzerindeki bölümlerine ne ad verilir ?

.....

.....

4 - Kara katmanı ile ilgili dört özellik yazınız.

\* .....

\* .....

\* .....

\* .....



Ç - Aşağıdaki çoktan seçmeli soruları cevaplandırınız.

1 - “ Çok uzun yıllar önce yaşamış . . . Δ . . . Dünya’nın dört filin sırtında duran büyük bir daire şeklinde olduğuna inanıyordu. Onlara göre bu dört fil de bir kaplumbağanın sırtında duruyordu. ”

Yukarıdaki görüşü ileri süren kimlerdir ?

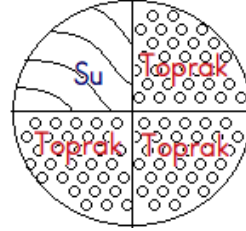
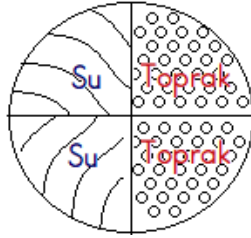
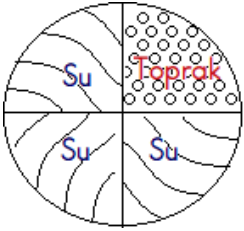
- A) Eski Mısırlılar                      B) Eski Yunanlılar                      C) Eski Hintliler

2 - Dünya ’nın yüzeyini kaplayan , taş ve topraktan oluşan katman verilen ad aşağıdakilerden hangisidir ?

- A) Atmosfer                      B) Yer kabuğu                      C) Ateş küre

3 - Dünya yüzeyindeki kara ve suların alanlarla ilgili bilgi vermek isteyen öğrencilerden hangisinin yaptığı görsel doğrudur ?

- A) Esila                      B) Serra                      C) Sinem



4 - “ . . . . . denizcilerin kullandığı teleskobu geliştirerek uzayı gözlemleyen ilk bilim insanıdır. ” Cümledeki noktalı yere hangisi gelmelidir ?

- A) Ferdinand Macellan                      B) Galileo Galilei                      C) Pisagor

5 - Dünya ’nın gözlenemeyen katmanları hangi seçenekte doğru verilmiştir ?

- A) Hava Katmanı - Manto - Çekirdek  
B) Hava Katmanı - Kara Katmanı - Su katmanı  
C) Manto - Çekirdek