

Adı Soyad:

30 Ağustos Zafer İlkokulu

Tarih: ...09.2021

Sınıfı: No:

4 F SINIFI

MATEMATİK 1.YAZILI SORULARI

1)- Aşağıdaki doğal sayıların okunuşlarını yazın.

a) 613274=.....

b) 401078=.....

2)-Aşağıda okunuşları verilen sayıları rakamla yazın.

a) Bin otuz=.....

b) On bin on:

c) Altı yüz üç bin iki=.....

d) Üç bin otuz:

3)-Aşağıda çözümlenmiş sayıları yazınız.

a) (3 yüzlük) + (8 binlik) + (8 onluk) + (5 birlik) + (6 on binlik)+ =

b) (6 birlik) + (8 yüz binlik) + (5 yüzlük) + (5 on binlik) =.....

4)- 5937, 1999, 4058, 5987, 3932 sayılarını küçükten büyüğe doğru sembol kullanarak sıralayınız.

5)-Aşağıdaki cümlelerden doğru olanların yanına (D), yanlış olanın yanına (Y) yazınız.

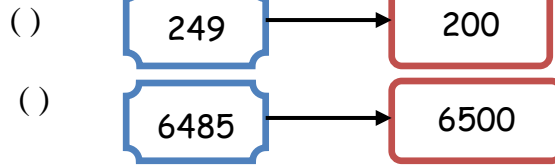
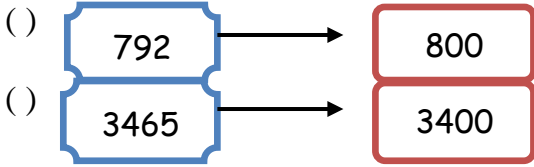
() Dört basamaklı en küçük tek sayı 1001'dir.

() 3 tane yüz binlik, 4 tane binlik ve 8 tane onluktan oluşan doğal sayı 348'dir.

() Dört basamaklı en büyük sayı 9999 dur.

() 25.654 sayısının yüzler basamağındaki rakamın basamak değeri 6'dır.

6)- Aşağıdaki yuvarlamalara D-Y yazınız.



7) "Altı yüz bin altmış üç "sayısının rakamla yazılışı aşağıdakilerden hangisidir?

A) 600603

B) 606063

C) 600663

D) 600063

8) "461783 "sayısı ile ilgili aşağıda verilen bilgilere **Doğru Yanlış** yazınız?

() Birler bölümünde 461 vardır.

() Birler bölümünde 783 vardır.

() Binler bölümünde 461 vardır.

() Binler basamağında 6 vardır.

() Birler basamağında 3 vardır.

() On binler basamağında 1 vardır.

() Yüz binler basamağında 4 vardır.

() Yüzler basamağında 7 vardır.

() 7 rakamının basamak değeri 700' dür.

9)-Aşağıdaki sayılardan hangisinin hem yüz binler hem de yüzler basamağında " 5 " rakamı vardır?

A) 543853

B) 456531

C) 530751

D) 532548

10) 207 456 > > 206 120 ifadesinde noktalı yere hangisi yazılabilir?

A) 205145

B) 206147

C) 207457

D) 206119

11) “ 35 – 20 -60 – 45 -135 -” Örüntü hangi sayı ile devam etmelidir?

- A) 120 B) 80 C) 150 D)175

12) 4, 7, 6, 0, 3, 9 rakamları bir defa kullanılarak yazılabilecek **en büyük** doğal sayı kaçtır?

- A. 976430 B. 907634 C. 976 304 D. 960730

13)- "170856" sayısındaki 7 rakamının **basamak değeri** kaçtır?

- A. 7000 B. 700 C. 10000 D. 70000

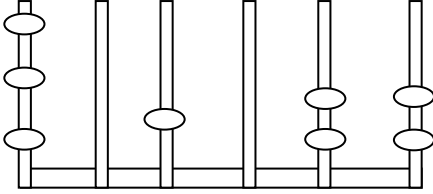
14)- Aşağıdakilerden hangisi beş basamaklı **en küçük** doğal sayıdır?

- A.99 999 B. 10 100 C. 10 000 D.10 001

15)-Aşağıdakilerden hangisi 3367 sayısının en yakın **onluğa** yuvarlanışıdır?

- A)3360 B)3365 C)3370 D)3400

16.



Sayı kaçtır?

17. $800+5+900000= ?$

.....

18. En büyük 6 basamaklı çift sayı ile en küçük 4 basamaklı tek sayının farkı nedir?

19. 5-0-7-2 rakamları ile dört basamaklı 7000'den küçük olan en büyük doğal sayı kaçtır?

20. 800 yüzlüğüne yuvarlanan sayıların **en büyük** ve **en küçüğünü** yazınız?

21. 8 onluk + 7 yüzlük + 4 binlik + 3 on binlikten oluşan sayı kaçtır?

.....

22. 358245 sayısının çözümleyiniz.

.....

23. Aşağıda verilen sayıları yuvarlayınız.

(EN YAKIN **ONLUK**)

73 423

37 346

(EN YAKIN **YÜZLÜK**)

599 949

499 051