

MATEMATİK

1. 5976 > 5967 > 5796 > 5697 > 5769 şeklinde yapılan sıralama için aşağıdaki ifadelerden kaç tanesi doğrudur?
I. 5697 ile 5769 sayılarının yerleri değiştirilirse sıralama doğru olur.
II. 5697 sayısı sıralamadan çıkarılırsa, sıralama doğru olur.
III. 5769 sayısı sıralamadan çıkarılırsa, sıralama doğru olur.
IV. Verilen sıralama doğrudur.
A) 1 B) 2 C) 3 D) 4
2. Çözümlemiş şekli 5 on binlik +8 binlik + 1 onluk + 2 birlik olan sayı aşağıdakilerden hangisidir?
A)5812 B)58012 C)50812 D)58102
3.>34.247 ifadesindeki noktalı yere yazılabilecek en küçük doğal sayı hangisidir?
A) 34.247 B)34.246 C)34.248 C)24.248
4. Bir fırının bir günde sattığı ekmeklerin sayısı en yakın yüzlüğe yuvarlandığında 4500 bulunuyor. Bu fırının bir günde sattığı ekmeklerin sayısı **en fazla** kaç olabilir?
A)4505 B) 4549 C)4555 D)4599

Tablo: 2008 Yılındaki Bazı İllere Ait Nüfus Sayımı Sonuçları

İl	Kilis	Bingöl	Çankırı	Ardahan
Nüfus	120 991	256 091	176 093	112 242

5. Yukarıdaki tabloya göre hangi ilimizin nüfusunu gösteren doğal sayının birler bölümündeki sayı en küçüktür?
A) Kilis B) Bingöl C) Çankırı D) Ardahan
6. Yüzbinler basamağında 6, yüzler basamağında 3 ve birler basamağında 1 rakamı olan doğal sayı aşağıdakilerden hangisidir?
A) 60 301 B) 60 310 C) 630 010 D) 600 301

Tablo: Bazı Nehirlerin Uzunlukları

Nehirler	Uzunluk (m)
Dicle	523 000
Yeşilırmak	519 000
Aras	548 000

7. Yandaki tabloda bazı nehirlerin ülkemiz sınırları içerisindeki uzunlukları verilmiştir. Nehirlerin verilen uzunluklarına göre, küçükten büyüğe doğru sıralanışı aşağıdakilerden hangisidir?
A) Yeşilırmak, Dicle, Aras B) Dicle, Yeşilırmak, Aras
C) Aras, Dicle, Yeşilırmak D) Dicle, Aras, Yeşilırmak

8. 42 420 > K > 42 380 Yukarıdaki sıralamada "K" yerine aşağıdaki doğal sayılardan hangisi yazılamaz?
A) 42 430 B) 42 400 C) 42 390 D) 42 385

9. Tabelaya göre Ayvalık'ın nüfusu kaçtır?


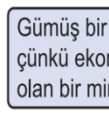


AYVALIK Nüfus: 63 607

- A) Altı bin üç yüz altmış yedi
B) Altmış üç bin altı yüz yedi
C) Altmış bin üç yüz altmış yedi
D) Altmış üç bin altmış yedi

10. “Sekiz yüz altı bin yedi yüz bir” sayısında iki basamağında da aynı olan rakam aşağıdakilerden hangisidir?
A) 8 B) 6 C)1 D)0

FEN BİLİMLERİ

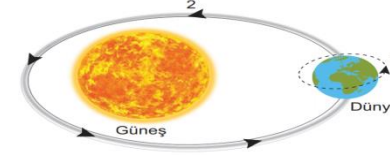
1. Bazı öğrencilerin maden kavramı ile ilgili verdikleri bilgiler aşağıdaki gibidir.

			
Patates bir madendir çünkü minerallerden oluşur.	Gümüş bir madendir çünkü ekonomik değeri olan bir mineraldir.	Tahta bir madendir çünkü kayalardan oluşur.	Toprak bir madendir. Çünkü parlak ve serttir.
Murat	Şule	Seval	Tarık

Buna göre hangi öğrencinin verdiği bilgi açıklaması ile birlikte doğrudur?

- A) Murat B) Şule C) Seval D) Tarık

2. Dünya'nın kendi etrafındaki ve Güneş etrafındaki hareketi şekildeki gibi numaralanarak verilmiştir. Bu şekle göre Dünya'nın numaralanmış hareketleri ile ilgili aşağıdakilerden **hangisi söylenebilir?**



- A) Dünya'nın kendi etrafındaki hareketi 2 numara ile gösterilmiştir.
B) 2 numaralı hareketini bir günde tamamlar.
C) 1 numaralı hareketi sonucu gece ve gündüz oluşur.
D) Dünya'nın Güneş etrafındaki hareketi 1 numara ile gösterilmiştir.

3. Yer kabuğunun yapısı ile ilgili aşağıdakilerden hangisi doğrudur?

- A) Yer kabuğu Dünya'nın en iç katmanıdır.
B) Doğada büyük yer tutan canlıların yaşadığı parçalara kömür adı verilir.
C) Yer kabuğundan çıkarılan ekonomik değeri yüksek olan taş ve minerallere maden adı verilir.
D) Yer kabuğundaki saf kum olan maden ısıtıldığında bakır elde edilir.

4. Mehmet'in gece ve gündüzün oluşma sebebi sorusuna arkadaşları aşağıdaki cevapları veriyorlar.

- Ömer** : Güneş, Dünya'nın çevresinde dolanma hareketi yapar.
Hatice: Dünya, Güneş'in etrafında dolanma hareketi yapar.
Fatma: Güneş, kendi çevresinde dönme hareketi yapar.
Yavuz: Dünya, kendi çevresinde dönme hareketi yapar.

Buna göre hangisi Yanlış söylemiştir?

- A) Ömer B) Fatma C) Hatice D) Yavuz

5. • Üst üste biriken kayalar içerisinde oluşur. • Eski zamanda ölen canlı kalıntılarıdır.
• Çok uzun zamanda oluşur.

Yukarıda özellikleri verilen madde hangisidir?

- A)Kum B)Kayaç C) Maden D) Fosil

6. Dünya'mızın bir bölgesinde gündüz yaşanırken diğer bölgesinde gece yaşanır. Bu olay Dünya'mızın ve Güneş'in aşağıdaki hangi hareketleri ile gerçekleşir?

- A) Güneş'in, Dünya çevresinde dolanma hareketini yapmasıyla
B) Dünya'nın, Güneş çevresinde dolanma hareketini yapmasıyla
C) Dünya'nın, kendi çevresinde dönme hareketini yapmasıyla
D) Güneş'in, kendi çevresinde dönme hareketini yapmasıyla

7. Öğrenciler Dünya'nın Güneş etrafındaki dolanma hareketinden dolayı oluşan etkileri aşağıdaki gibi açıklıyor:

Hatice: Yeryüzünde kayalar oluşur.

Fatma: Yıl gibi zaman dilimi oluşur.

Ömer : Yeryüzünün tamamında yaz mevsimi yaşanır.

Bu öğrencilerden hangilerinin açıklaması **doğrudur?**

- A)Yalnız Hatice B)Yalnız Fatma
C)Hatice ve Fatma D)Hatice, Fatma ve Ömer

8. Dünya'nın Güneş etrafında dolanma hareketinden dolayı sıcaklık değişimleri yaşanır. Bu sıcaklık değişimleri beraberinde aşağıdaki hangi olayı meydana getirir?

- A) Mevsimleri B)Haftaları C)Gece ve gündüzü D)Ayları

9. Aşağıdakilerden hangisi, Dünya’nın hareketleri sonucunda **gerçekleşmez**?

- A)Gece-gündüz B)Mevsimler C)Dolunay D)Bir gün

10. Fosiller ile ilgili aşağıdaki bilgilerden hangisi **yanlıştır**?

- A) Çok uzun sürede oluşur.
B) Bitki ve hayvan kalıntılarıdır.
C) Bozulmamış hâlde kalabilen canlı kalıntılarıdır.
D) İnsan etkisi ile oluşur.

SOSYAL BİLGİLER

1. Faruk, Hüseyin’in kimlik bilgilerini doldururken ona bazı sorular sorar.

Aşağıdakilerden hangisi bu sorulardan olamaz?

- A. Baba adın B. Doğum yerin C. Okulunun adı D. Adın ve soyadın

2. Ayşe ile Mert kardeşdir. İki kardeş kimliklerini incelemektedir.

Aşağıdakilerden hangisinin kesinlikle farklı olduğunu görmüşlerdir?

- A) Veriliş nedeni B) Doğum yeri C)T.C kimlik numarası D) Medeni hali

3. Orhan kin tutan bir çocuk değildir. Kendisine yapılan yanlış bir davranışı büyütmez, dilenen özrü hemen kabul ederdi.

Aşağıdakilerden hangisi Orhan’ın kişilik özelliğidir?

- A. Sinirli B. Kibirli C. hoşgörülü D. Bencil

4. Kimlik kartımız olmasaydı hangi sorunu yaşayabilirdik?

- A) Anne ve babamız bizi tanımazdı. B) Adımızı bilmezdik.
C) Doğum tarihimizi bilmezdik. D)Devletle ilgili işlerimizde karışıklıklar yaşayabilirdik.

5. Duyduğum şarkıları bağlamam ile çalabiliyorum ancak nota bilgisi edinmeli ve farklı çalma tekniklerini de öğrenmeliyim, diyen Arif’in hangi alanda yeteneği vardır?

- A)Spor B) Müzik C) Tiyatro D)Matematik

6. 9 yaşındaki Selim, hayatıyla ilgili bazı önemli olaylardan bahsetmektedir. Selim’in hayatındaki olaylar kronolojik sıraya konulduğunda hangisi en sonda yer alır?

- A) 4. sınıftayım. B) 1 yaşında yürümeye başladım.
C) 6 yaşında ağabey oldum. D) 2. sınıftayken Bursa’ya taşındık.

7. Aşağıdakilerden hangisi fiziksel özelliklerimizden biri değildir?

- A) Kilomuz B) Boy uzunluğumuz C) Saç rengimiz D) Çalışkan olmamız

8. Aşağıdakilerden hangisi ailemize karşı sorumluluklarımızdan değildir?

- A) Dürüst olmak
B) Aile bireylerine saygılı davranmak
C) Eve giriş çıkış saatlerine uymak
D) Bütün işleri aile üyelerimizin yapmasını beklemek

9. Her bireyin farklı özellikleri vardır. Bazı durumlarda kendimizi, diğer bireylerin yerine koymak karşımızdakini daha iyi anlamamızı sağlar.

Aşağıdakilerden hangisi yukarıda anlatılan duruma uygun bir örnektir?

- A) Gözlük kullanan arkadaşımızla alay etmek.
B) Sevdığımız arkadaşımızla oyun oynamak.
C) Tekerlekli sandalye kullanan arkadaşımızın çektiği zorlukları düşünmek
D) Başarısız olduğumuz bir konuda karşımızdakini suçlamak

10. Hayatınıza ilişkin belli başlı olayları kronolojik sıraya koyduğunuzda aşağıdakilerden hangisini diğerlerinden Önce yazmanız gerekir?

- A) Yürümeyi öğrendim. B) 4 . sınıfa geçtim.
C) Okuma yazmayı öğrendim. D) 6. yaş günümü kutladım.

TÜRKÇE

1. "Tutmak" sözcüğü hangi cümlede " yanında bekletmek, bırakmamak" anlamında kullanılmıştır?

- A) Koltuklar salonda çok yer tutuyor. B) Öğretmen, çocukları sınıfta tuttu.
C)Babam, oltayla balık tuttu. D) Erik ağacına yaptığım aşı tuttu.

2. “Uçmak” sözcüğü aşağıdakilerin hangisinde “çok hızlı gitmek” anlamında kullanılmıştır?

- A) Dün gece balkondaki hırkam uçmuş. B) Bizim külüstürü görsen asfaltta uçar.
C) Leylekler güneye doğru uçtu. D) Yarın İstanbul’a uçacağımı söyledim.

3. Aşağıdakilerin **hangisinde zıt anlamlı** sözcükler bir arada kullanılmıştır?

- A) Benimkine yakın tonlarda, benimkiyle aynı modelde bir çanta almış.
B) Kumsalda bir aşağı bir yukarı yürümekten sıkılmıştı.
C) O konuşurken yanındakiler dikkatle dinlerdi.
D) Her tarafı sessizlik kaplamış, herkes bir anda susmuştu.

4. Aşağıdakilerin hangisinde hayal ürünü bir ifadeye yer verilmiştir?

- A)Gamze, her sabah penceresinin önündeki çiçekleri sular.
B) Ayşe ile Mert yakın arkadaşır.
C)Papağanın rengârenk kanatları vardı.
D) Sinirli tavuk, ev sahibine bağırdı.

5. “Beş çayına hazırlık yapıyordu.” cümlesindeki “çay” sözcüğünün **sesteşi** aşağıdakilerin hangisinde kullanılmıştır?

- A) Çayın içinden yürüyerek karşı kıyıya geçti. B) Sabahları, ancak çay içince kendime gelirim.
C) Kekin yanında çay içmeyi severim. D) Bu çay daha demli olmuş.

6. Gökyüzünün berrak olduğu bir yaz gecesi idi.(1) Sayılamayacak kadar çok sayıda yıldız göz kamaştırıyordu.(2) Onca yıldızın arasında altın gibi parlayan aydede görünüyordu. (3)Yanı başında ona mâniler eşliğinde el sallayan bir grup yıldız geziyordu.(4)

Bu metinde numaralandırılmış cümlelerin hangisinde hayalî öge kullanılmıştır?

- A)1 B)2 C)3 D)4

7. Hangi cümle sonuna farklı bir noktalama işareti gelmelidir?

- A) Soruların hepsini yanıtladı mı
B) Soruların hepsini yanıtladın mı
C) Soruların hiç birini yapmadın mı
D) Soruları nasıl yaptığımı hatırlamıyorum

8. "Ada, öğretmem ile birlikte ders çalışıyor.” cümlesinde altı çizili sözcüğün anlamdaşı aşağıdan ki cümlelerin hangisinde kullanılmıştıık

- A) Sevinç talebeleri ile gurur duyuyor.
B) Tüm öğrenciler törende görevli öğrencileri ayakta alkışladı.
C) Müdürün odasındaki muallimin yüzünden düşen bin parçaydı.
D) Mekteplerin hepsi aynı gün tatil öldü

9. Aşağıdaki sözcükler alfabetik sıraya göre dizildiğinde hangisi en sonda yer alır?

- A) Çocuk B) Çalışmak C) Çünkü D) Çiçek

10. Aşağıdaki cümlelerin hangisinde ünlü harf sayısı diğerlerinden daha fazladır?

- A) Evimizin eşyalarını kağrı ile taşıdık.
B) Dağ yolunun manzarası çok güzeldi.
C) Saati kontrol edip yola çıktık.
D) Ankara’ya giden yolu zor bulduk.