

1

“_edi” bu harflerin başına aşağıdakilerden hangisi getirilirse anlamlı bir kelime oluşmaz?

A) d

B) h

C) k

2

P S T

Alfabetik sıralamaya göre yukarıdaki kutulara sıra ile hangi harfler gelmelidir?

A) O, R, T

B) Ö, R, Ş

C) Ö, Ş, U

3



Can, bir sıradaki tişörtlerin sadece sesli harf yazılı olanlardan oluşmasını istiyor.

Can, hangi seçenekte verilen tişörtlerin yerlerini karşılıklı olarak değiştirirse bu amacına ulaşır?

A)



B)



C)



5

Hırka

Kazak

Bere

Yukarıdaki sözcükler sözlük sırasına göre nasıl sıralanmalıdır?

A)



B)



C)



4



Aşağıdaki tanımlardan hangisi bulmacadaki sözcüklere ait **değildir**?

A) Yaşı ilerlemiş, ihtiyar kişi

B) Yeryüzünün denizle örtülü olmayan bölümü

C) Kumaş, ip vb. ile yapılan başlık

6

“Sevgili arkadaşım Gökhan,

Doğum günün kutlu olsun. Sağlıklı, mutlu yılların olsun.”

Yukarıdaki cümle aşağıdakilerden hangisine aittir?

A) Mektup

B) Tebrik Kartı

C) Anı

7

akşam

eksi

genç

bayat

artı

sabah

Yukarıdaki sözcükler zıt anlamlıdır.

acemi	varlık	geniş
alıcı	satıcı	usta

8

Birbiriyle zıt anlamlı sözcüklerin yazılı olduğu alanlar aynı renge boyandığında kutucukların görüntüsü nasıl olur?

A)

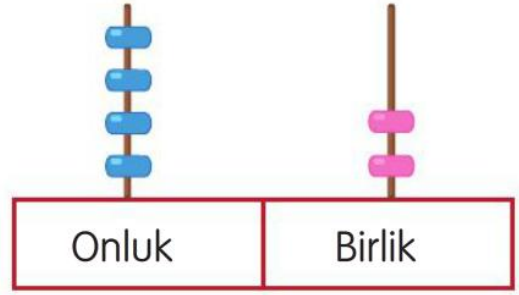
B)

C)

9

Bir kümeste 1 düzine civciv vardı. Civcivlerin 3 tanesi kümesten çıkarılsa geriye kaç civciv kalır?

A) 5 B) 7 C) 9



10

Abaküste modellenen sayının onluk kısmına 3 boncuk daha eklersek oluşan yeni sayı aşağıdakilerden hangisi olur?

A) 45 B) 65 C) 72

11

Ayça: Benim okul numaramın birler basamağında 2 rakamı var.

İdil: Benim okul numaramın onlar basamağında 7 rakamı var.

Yukarıda verilen bilgilere göre aşağıdaki sayılardan hangisi Ayça veya İdil'in okul numarası **olamaz**?

A) 12 B) 29 C) 74

12

55'ten başlayarak geriye doğru beşer ritmik saydığımızda söyleyeceğimiz 5. sayı aşağıdakilerden hangisi olur?

A) 35 B) 30 C) 25

13)

Begüm, yaşıtlarına göre kısa boy-
ludur. Bu sebeple tahtaya en yakın
sırada oturmaktadır.

**Bu durumda sınıf arkadaşlarının
Begüm'e yapacağı hangi davranış
doğru olur?**

- A) Onun bu ayrıcalığa sahip olma-
nın haksızlık olduğunu savunmaları
- B) Begüm'den farklı olduklarını dü-
şünerek onunla konuşmamaları
- C) Begüm'ün farklılığına saygı duyup
yardımcı olmaları

14)



**Yukarıda görselde verilen kırmızı
elmaların sayısının bir deste olabil-
mesi için kaç kırmızı elmaya daha
ihtiyaç vardır?**

- A) 4
- B) 6
- C) 8

15)

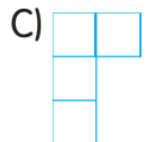
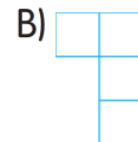
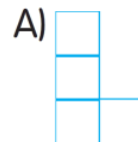
Her birey farklı

**Bu cümle aşağıdakilerden hangisi
ile tamamlanırsa doğru olur?**

- A) ilgi ve yeteneklere sahiptir.
- B) özelliklere sahip olmamalıdır.
- C) ilgi alanları olmamalıdır.

16)

**İt, bulunduğu alandan başla-
yarak fiziksel özelliklerin yazılı
olduğu alanlara sırasıyla hamle
yaparsa tablo üzerinde nasıl bir
yol izler?**



Yemek yemek	gözlük takmak	boy uzunluğu	Kitap okumak
üzülmek	Voleybol oynamak	Saç uzunluğu	Uyumak
Resimden hoşlanmak	Futboldan hoşlanmak	Göz rengi	Sevecenlik
Koşmak	Sevilen yemek		Sinirlilik



1. Görsele göre boş bırakılan yerlere sırasıyla hangi harfler yazılmalıdır?

k _ _ gar _ _


A) a-a-a-o

B) a-n-o-o

C) o-o-a-a

2 - 3. sorularda görseli ifade eden seçeneği işaretleyiniz.

2.



A) cake

B) coke

C) cat

4.



_ockey

A) P

B) K

C) H

3



A) balloons

B) balls

C) biscuits

5



That is a _____ .

A) cake

B) salad

C) hamburger