



1

yel
fayda
güç
dil

lisan
rüzgâr
yarar

Kutudaki sözcükler eş anlamlıları ile eşleştirildiğinde hangisi dışarıda kalır?

- A) dil
B) güç
C) fayda

2

Ünlü harfler: e-i
Ünsüz harfler: n-k-s
Harf sayısı: 5

Bu özellikler aşağıdaki kelimelerden hangisine ait olamaz?

- A) Kenar
B) Kesin
C) Sinek

3

'Hanımeli' kelimesi hangisinde hecelerine doğru ayrılmıştır?

- A) Ha-nım-e-li
B) Ha-nım-el-i
C) Ha-nı-me-li

4

1. yaptı
2. benim
3. Annem
4. kek
5. için

Numaralandırılmış kelimelerle anlamlı ve kurallı bir cümle oluşturulduğunda sıralama nasıl olur?

- A) 3-4-5-2-1
B) 3-2-5-4-1
C) 3-2-5-1-4

5

1	geçmiş	gelecek
2	ıvır	zivir
3	indirim	zam

Tablodaki sözcükler arasında anlam bakımından ilişki vardır.

Buna göre kaç numaralı satırdaki sözcük çiftinde bu ilişki yoktur?

- A) 2 B) 3 C) 1



1


+	7	6
51		
28		
24		

Tablodaki işlemlerde sonucu tek sayı olanlara 'T',
çift sayı olanlara 'Ç' yazılacaktır.

Buna göre, tabloya kaç tane 'T' yazılır?

- A) 3 B) 4 C) 5

2

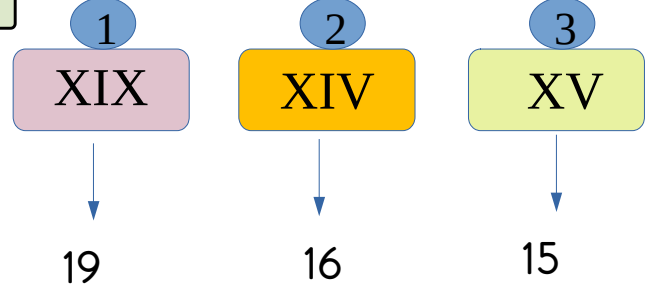


Yukarıdaki rakamlar birer kez
kullanılarak rakamları farklı üç
basamaklı en büyük çift sayı yazılacaktır.

Buna göre, hangi sayı yazılmış olur?

- A) 873
B) 378
C) 738


3



Yukarıda karşılıkları verilen Romen rakamlarından kaç numaralı olanı yanlış yazılmıştır?

- A) 1 B) 2 C) 3

4



Yukarıdaki Romen rakamlarından en büyük ve en küçük olanın toplamı kaçtır?

- A) 29 B) 30 C) 31

5



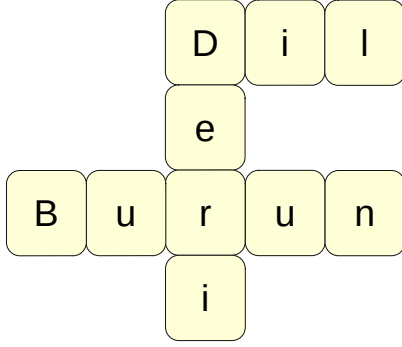
$$\begin{array}{r} 287 \\ + 194 \\ \hline \end{array}$$

Hamza'nın söylediği toplama işlemi ile ilgili aşağıda verilenlerden hangisi yanlıştır?

- A) Toplamı tek sayıdır.
B) Yüzler basamağının basamak değeri 400'dür.
C) Onlar basamağında 7 rakamı vardır.



1



Yukarıda çözümü verilen bulmacada aşağıdaki sorulardan hangisinin cevabı yoktur?

- A) Tat alma duyu organımı hangisidir?
- B) Koku alma duyu organımız hangisidir?
- C) İşitme duyu organımız hangisidir?

2

Bütün duyu organlarımızın bir arada bulunduğu vücudumuzun bölümü hangisidir?

- A)
- B)
- C)

3

Aşağıda verilen bilgilerden hangisi yanlıştır?

- A) Görmek için gözlerimizi kullanırız.
- B) İşitmek için burnumuzu kullanırız.
- C) Tat almak için dilimizi kullanırız.

4

Aşağıdakilerden hangisi bütün duyu organlarımızın sağlığı için gereklidir?

- A) Güneş ışığına bakmamak
- B) Kitap okurken mesafe koymak
- C) Temizliğimize dikkat etmek

5

Aşağıdaki ifadelerden hangisi yanlıştır?

- A) Bilmediğimiz maddeleri koklamamalıyız.
- B) Bütün sıvı maddeleri tadabiliriz.
- C) Kesici cisimleri ağızımıza almamalıyız.



1



Arkadaşımızın bize haksızlık yaptığını düşündüğümüzde bu sorunumuzu nasıl çözmemiz gerekir?

- A) Sorunumuzu arkadaşımızla konuşarak çözmemiz gerekir.
- B) Ağlayıp onu herkese şikayet ederek çözmemiz gerekir.
- C) Arkadaşımızla kavga ederek çözmemiz gerekir.

2

Aşağıdakilerden hangisi arkadaşlar arasında olmaması gereken bir davranıştır?

A)



B)



C)



3

Aşağıdakilerden hangisi bir dilekede yer alması gerekenlerden biri değildir?

- A) Dilekçeyi yazanın adı, soyadı
- B) Dilekçeyi yazanın imzası
- C) Dilekçeyi yazanın yaşı

4

Aşağıdaki çocuklardan hangisinin söylediği demokratik davranış örneği değildir?

A)



Sınıf başkanını seçimle belirleriz.

B)



Öğretmenimiz sınıfta herkese eşit davranır.

C)



Ders çalışmayan arkadaşlarımızı oyunlarımıza katmayız.

5



Dilekçe

Dilek kutusu

Müdürle yüz yüze görüşme

Yukarıdakilerden kaç tanesi okulla ilgili istek ve ihtiyaçlarımızı yöneticilere bildirme yollarındandır?

A) 2

B) 3

C) 1

Adı:
Soyadı:

3.Sınıf 5.Hafta Kazanım
Değerlendirme Sınavı Cevap Anahtarı



TÜRKÇE

- 1) B
- 2) A
- 3) C
- 4) B
- 5) A

MATEMATİK

- 1) A
- 2) C
- 3) B
- 4) A
- 5) C

FEN B.

- 1) C
- 2) A
- 3) B
- 4) C
- 5) B

Hayat B.

- 1) A
- 2) C
- 3) C
- 4) C
- 5) B