



1

I	Ağacın <u>gölgesinde</u> dinlendik.
II	Anahtarlar çekmecenin <u>gözünde</u> ydi.
III	Yemeğin <u>acı</u> biraz fazla olmuştu.
IV	<u>Acı</u> haber karşısında yıkıldı.

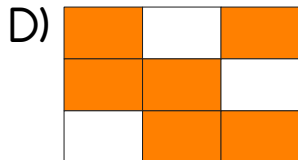

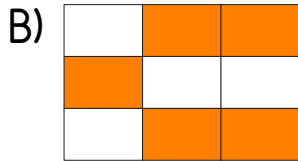
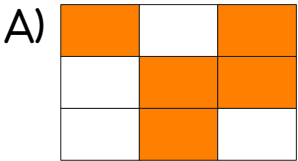
Tabloda verilen altı çizili kelimelerden hangileri temel (gerçek) anlamıyla kullanılmıştır?

- A) I ve II
B) II ve III
C) I ve III
D) I ve IV

2

dolap	melodi	nota
açı	çocuk	biber
boş	kesir	zamir

Yukarıdaki tabloda yazılan kelimelerden terim anlamlılar boyanırsa şeklin görüntüsü hangisi gibi olur?



3

Aşağıdaki sözcüklerden hangisi pekiştirilmiş bir sözcüktür?

- A) Ağaç
B) Kıpırmızı
C) Mavi
D) Doğruluk

4

Eli açık



Ozan'ın söylediği deyimın anlamı hangi seçenekte verilmiştir?

- A) Kendini çok önem verdiği bir işe bağlayıp başka hiçbir şeyle ilgilenmemek
B) Bir kimseyi lekelenmeye çalışmak
C) Çok sevinmek
D) Cömert, sakınmadan para verebilen

5

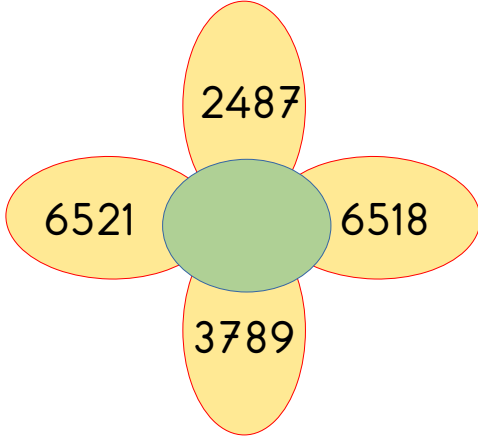
1. yaptı
2. benim
3. Annem
4. kek
5. için

Numaralandırılmış kelimelerle anlamlı ve kurallı bir cümle oluşturulduğunda sıralama nasıl olur?

- A) 3-4-5-2-1
B) 3-2-5-4-1
C) 3-2-5-1-4
D) 3-2-4-5-1



1



Çiçeğin yapraklarında yazılı sayılardan en büyüğü ile en küçüğünün toplamı kaçtır?

- A) 9008
- B) 9108
- C) 9005
- D) 10 008

2

$$\star + 3847 = 9851$$

Yukarıdaki toplama işlemine göre, \star yerine hangi sayı gelmelidir?

- A) 6404
- B) 6578
- C) 6004
- D) 13 698


3

1

2

3

4



Kaç numaralı balonların toplamı '4320'dir?

- A) 2 ve 3
- B) 1 ve 3
- C) 2 ve 4
- D) 1 ve 2

4

1 toplama işleminde 1. toplanan 1450, 2. toplanan 4789 artırılıyor.

Buna göre, bu toplama işleminde toplam kaç artar?

- A) 6139
- B) 3339
- C) 6239
- D) 3329

5

Aşağıdaki toplama işlemlerinde hangisinin sonucu diğerlerinden daha büyüktür?

- A) $2487 + 4120$
- B) $2517 + 3980$
- C) $1098 + 6478$
- D) $1005 + 2365$



1

- Mevsimlerin oluşumu
- Gece ve gündüz uzunluklarının değişmesi
- Bir yıl oluşur.

Bu olaylar aşağıdaki hareketlerin hangisinin sonucunda gerçekleşir?

- A) Dünya'nın Güneş etrafında dolanımı
- B) Güneş'in Dünya etrafında dolanımı
- C) Dünya'nın kendi etrafında dönmesi
- D) Ay'ın Dünya etrafında dolanımı

2

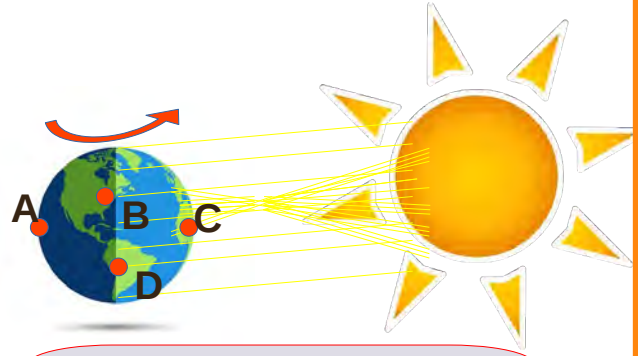


Rıfat, proje ödevi olarak gece ve gündüzün oluşumunu gösteren bir model hazırlayacaktır.

Yukarıdaki görsele göre, Rıfat Güneş'i kaç numaralı yere koymalıdır?

- A) 1
- B) 2
- C) 3
- D) 4

3



Benim yaşadığım şehirde
şuan öğlen yaşanmaktadır.



Ela'nın söylediklerine göre, Ela Dünya modeli üzerinde gösterilen şehirlerden hangisinde yaşamaktadır?

- A) D şehri
- B) C şehri
- C) A şehri
- D) B şehri


4

Aşağıdaki ifadelerden hangisi yanlıştır?

- A) Dünya kendi eksenini etrafında dönerken gece ve gündüz oluşur.
- B) Dünya'nın Güneş etrafında dolanımı ile mevsimler oluşur.
- C) Dünya, Güneş etrafındaki dolanımını 365 gün 6 saatte tamamlar.
- D) Dünya kendi eksenini etrafında doğudan batıya doğru döner.

5

Gök cisimlerinin uzayda izlediği yol.



Yukarıdaki bulmacanın cevabı hangisidir?

- A) Hareket
- B) Yörünge
- C) Dönemeç
- D) Pisagor



1



Tuğçe'nin okuluna engelli insanlardan oluşan bir müzik grubu geldi.

Buna göre, Tuğçe ve arkadaşlarının bu müzik grubu ile ilgili hangi davranışı sergilemeleri doğru olur?

- A) Müzik yeteneklerinin olmadığını söyleyerek onların kalbini kırmak.
- B) Engelli insanların farklı özellikleri olabileceğinin farkına vararak onları tebrik etmek.
- C) Müzik grubu şarkı söylerken ses çıkarıp onları engellemeliler.
- D) Onlarla alay etmek

2

Senden ödünç aldığım kalemi kaybettim.

?



Kayra'nın söylediğine göre, Esmâ Kayra'ya nasıl davranmalıdır?

- A) Kalemini kaybettiği için ona vurmalıdır.
- B) Kayra'ya küsmelidir.
- C) Daha dikkatli davranması gerektiğini söylemelidir.
- D) Kayra'nın kalemin alıp kırmalıdır.

3

Aşağıdaki davranışlardan hangisi yanlıştır?

- A) Arkadaşlarımızın sözünü kesmeden dinlerim.
- B) Otobüste yaşlı insanlara yer veririm.
- C) Annem sofrayı kurarken ona yardımcı olurum.
- D) Beni eleştiren arkadaşlarıma bağırırım.

4

Toplu taşıma araçlarından yaşlılara, hamilelere ve zor durumda olan insanlara yer veren biri için aşağıdakilerden hangisi söylenebilir?

- A) Duyarlıdır.
- B) Sabırsızdır.
- C) Umursamazdır.
- C) Bencildir.

5



Arkadaşının ağladığını gören Sibel ne yapmalıdır?

- A) Ağlıyor diye arkadaşı ile alay etmelidir.
- B) Yanından geçip gitmelidir.
- C) Ağlama başımı ağrıyorsun demelidir.
- D) Neden ağladığını sorarak, empati kurmalıdır.

Adı:
Soyadı:

4.Sınıf 5.Hafta Kazanım
Değerlendirme Sınavı Cevap Anahtarı



TÜRKÇE

- 1) C
- 2) B
- 3) B
- 4) D
- 5) B

MATEMATİK

- 1) A
- 2) C
- 3) B
- 4) C
- 5) C

FEN B.

- 1) A
- 2) D
- 3) B
- 4) D
- 5) B

SOSYAL B.

- 1) B
- 2) C
- 3) D
- 4) A
- 5) D