

1)  Yandaki sayıda 'in basamak değeri 40'tır.
Buna göre  sayısı kaçtır?

A) 40

B) 67

C) 64



Benim 2 deste kalemim var.

Güneş



Benim 1 düzine kalemim var.

Defne



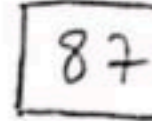

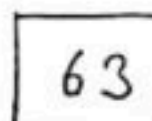



Benim iki düzine kalemim var.

Derin

2) Çocukların kalem sayısı hangi sıktadır doğru verilmiştir?

	<u>Güneş</u>	<u>Defne</u>	<u>Derin</u>
A)	20	12	24
B)	24	24	20
C)	20	10	24

3) Yukarıdaki sayılar büyükten küçüğe doğru sıralanmıştır. Buna göre  olan yere aşağıdaki sayılardan hangisi gelemez?

A) 77

B) 86

C) 56

4)       

Yukarıdaki sayılardan kaç tanesi 60'a yuvarlanır.

A) 4

B) 5

C) 6



5) $16 - 19 - 22 - 25$

Aşağıdaki örüntülerden hangisinin kuralı üstteki örüntünün kuralı ile aynıdır?

A) $16 - 18 - 20 - 22$ B) $12 - 15 - 18 - 21$ C) $16 - 20 - 24 - 28$

6) 36'dan başlayıp ileriye doğru üçer saydığımızda 4. söylediğimiz sayı kaçtır?

A) 42 B) 45 C) 48

 \Rightarrow 2 onluk + 5 birlik  \Rightarrow 7 birlik + 4 onluk

7)  +  = ? işlemin sonucu kaçtır?

A) 99 B) 72 C) 62

8) Aşağıdaki toplama işlemlerinden hangisinin sonucu farklıdır?

A)
$$\begin{array}{r} 48 \\ + 16 \\ \hline \end{array}$$

B)
$$\begin{array}{r} 37 \\ + 27 \\ \hline \end{array}$$

C)
$$\begin{array}{r} 45 \\ + 17 \\ \hline \end{array}$$

9) 20 sayısına yuvarlanan en büyük ve en küçük sayının toplamı kaçtır?

A) 39 B) 40 C) 44

Tuğba GARIP