

## MATEMATİK

1. 18 716 doğal sayısının binler basamağındaki rakam ile yüzler basamağındaki rakamın basamak değerleri farkı kaçtır?

- A) 7000 B) 7100 C) 7200 D) 7300


2. .... > 1269

Yandaki karşılaştırmaya göre noktalı yere aşağıdakilerden hangisi yazılamaz?

- A) 1243 B) 1270 C) 1285 D) 1296

3. 4093 sayısının en yakın yüzlüğe yuvarlanmış hali aşağıdakilerden hangisidir?

- A) 4300 B) 4200 C) 4100 D) 4000



4. Yukarıdaki örüntüde "?" işareti olan yere hangi sayı gelmelidir?

- A) 86 B) 89 C) 90 D) 92

5. Hastanenin acil servisine pazar günü 1283 erkek , erkeklerden 137 fazla kadın hasta giriş yaptırdı.

Pazar günü hastanenin acil servisine gelen toplam hasta sayısı kaçtır?

- A) 1420 B) 2703 C) 2713 D) 2803

6. Bir kolejin ilköğretim kısmında 1347, ortaokul kısmında 1763, lise kısmında ise 1422 öğrenci vardır.

Buna göre kolej tahmini öğrenci sayısı aşağıdakilerden hangisidir? (En yakın yüzlüğe yuvarlayarak yapalım.)

- A) 4 500 B) 4 700 C) 4 600 D) 4 800



Verilen ileriye sayma iki sayının zihinden toplamını bulmak için yapılmıştır.

Buna göre zihinden yapılan işlem aşağıdakilerden hangisidir?

- A) 720 + 500 B) 820 + 400 C) 720 + 400 D) 800 + 400

$$\begin{array}{r} 481A \\ + 1B57 \\ \hline 6775 \end{array}$$

Yandaki toplama işleminde A ve B yerine yazılabilecek rakamların toplamı kaçtır?

- A) 19 B) 17 C) 15 D) 14

9. Rakamları farklı dört basamaklı en küçük sayının 294 fazlası kaçtır?

- A) 1294 B) 1307 C) 1317 D) 1563



Yukarıdaki **tek sayıların toplamı** kaçtır?

- A) 2406 B) 3449 C) 4449 D) 5867

## FEN BİLİMLERİ

1. Kayaçların birbirinden farklı özellikte olmasını sağlayan yapılar aşağıdakilerden hangisi ile adlandırılır?

- A. Maden B. Fosil C. Magma D. Mineral

2. Top oynarken, yürürken, yazı yazarken veya nefes alırken vücudumuza aldığımız besinlerden elde ettiğimiz enerjiyi kullanırız.

Buna göre aşağıdakilerden hangisinin öncelikli görevi vücudumuza enerji vermektir?

- A. Su B. Mineraller C. Vitaminler D. Karbonhidratlar



3. Yanda verilen ifadeler doğru ise D yanlış ise 'Y' olarak değerlendirildiğinde hangi çıkışa ulaşılır?

- A. 1. çıkış B. 2. Çıkış

- C. 3. çıkış D. 4. çıkış

1 Dünya'nın Güneş etrafında bir tam dolanmasını tamamladığı süreye ..... denir.

2 Gece ve gündüz Dünya'nın ..... etrafında dönmesi sonucu oluşur.

1 ve 2 cümlelerinde boş bırakılan yerlere aşağıdakilerden hangileri gelmelidir?

- A) Yıl - kendi B) Yıl - Güneş  
C) Gün - kendi D) Gün - Güneş

4.

5. Oyun oynarken düşüp elini yaralayan Merve, hangi besin grubunu daha fazla tüketirse iyileşme süresi kısılır?

- A) Karbonhidrat B) Vitamin C) Protein D) Yağ

6. Yağlar için verilen bilgilerden hangisi **doğru değildir**?

A. Karbonhidratların yetersiz olduğu durumlarda yağlardan enerji sağlanır.

B. Vücutta düzenleyici olarak görev yaparlar.

C. Vücutta enerji verici olarak kullanılırlar.

D. Ceviz, fındık gibi besinlerde bol miktarda bulunurlar.

7. Su, yaşamın kaynağıdır. İnsan vücudunun dörtte üçü sudan oluşur.

Yukarıdaki bilgiye göre hangisi söylenemez?

A) Su, karbonhidrat içerir.

C) Su, bütün canlılar için vazgeçilmez bir besindir.

B) Bütün besinler az veya çok miktarda su içerir.

D) Su, mineral içerir.

8. Aşağıdaki besinlerden hangisi sağlıklı beslenme için tercih edilmelidir?

A) Son kullanma tarihi geçmiş gıda

C) Yıkanmış taze gıda

B) Dondurulup çözüldükten sonra tekrar dondurulmuş gıda

D) Katkı maddesi içeren hazır gıda

9. Aşağıdaki besin gruplarından hangileri **vitamin** yönünden diğerlerinden daha zengindir?

A. Baklagiller

C. Hayvansal besinler

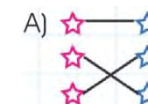
B. Tahıllar

D. Sebze ve meyveler

10.

Yapıcı ve onarıcı	☆	☆	Proteinler
Enerji verici	☆	☆	Vitaminler
Düzenleyiciler	☆	☆	Karbonhidratlar

Sol tarafta verilen besin grupları ile sağ tarafta verilen besin içeriklerinin doğru eşleştirilmesi aşağıdakilerden hangisinde doğru verilmiştir?



## SOSYAL BİLGİLER

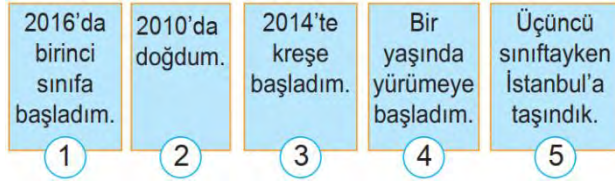
1. Aynı sınıfta bulunan iki yakın arkadaşın biri resim yapmayı çok severken, diğeri fotoğraf çekmeyi daha çok seviyor. Yukarıdaki açıklamada iki arkadaşın bireysel farklılıklarından hangisi vurgulanmıştır?  
A)İlgiler ve beceriler B)Fiziki özellikler C)Kimlik özellikleri D)Soy ağacı bilgileri

2. I-Tüm insanların parmak izi aynıdır.  
II-Nüfus cüzdanını hazırlamak Dışişleri Bakanlığına aittir.  
III-Duygular ve düşünceler kişiden kişiye değişir.  
IV- Bir kişinin soyunu gösteren çizelgeye “soy ağacı” denir.

Yukarıdakilerden hangisi ya da hangileri **doğrudur**?

- A) I ve II B) II ve III C) III ve IV D) 1,11 ve III

3. Ece’nin yaşamındaki bazı olaylar aşağıda karışık olarak verilmiştir.



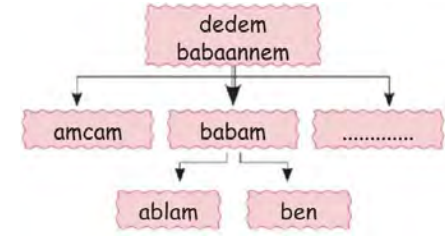
Ece’nin yaşamına ait bu olayların kronolojik sıralaması aşağıdaki seçeneklerin hangisinde doğru olarak verilmiştir?

- A) 2-1-5-3-4 B)3-1-5-4-2 C)3-4-1-2-5 D)2-4-3-1-5

4. Ayhan ailesinin geçmişini öğrenmek için dedesine sormak üzere sorular hazırlamıştır.

Aşağıdakilerden hangisi bu sorular arasında **yer almaz**?

- A. Ne tür oyunlar oynardınız? B. Babaannemle nasıl tanıştınız?  
C. Önümüzdeki yıl ne yapmayı planlıyorsunuz? D. Bu şehre niçin yerleştiniz?



5. Yandaki soyağacında boş bırakılan yere aşağıdakilerden hangisi gelmelidir?

- A) dayı B) hala C) teyze D) kuzen

6. Aşağıdakilerden hangisi Türk kültürüne ait **değildir**?

- A)Bayram ziyareti B)Düğün törenleri C)Asker uğurlaması D)Noel Baba



7. A)Düğün B) Gelenek C) Akraba D) Aile

8. Kültürel öğelerimizden biri de yemeklerimizdir.

Yukarıdaki açıklamaya göre aşağıdaki yemeklerden hangisi Türk kültürüne ait bir yemek **değildir**?

- A) mantı B) döner C) pizza D) lahmacun

9. Aşağıdakilerin hangisi **yanlıştır**?

- A)Halk oyunları milli kültürümüzü yansıtır. B)Yemeklerimiz kültürümüzü yansıtır.  
C)Düğünlerimiz kültürümüzü yansıtır. D)Her toplumun giyimi aynıdır.



10.

Yandaki şemada boş bırakılan yere hangisi gelebilir?  
A) gelenekler B) teknoloji  
C) iklim D) bitkiler

## 4. SINIFLAR NELER ÖĞRENDİMDENEMELERİ 5

### TÜRKÇE

1. Geçen yıl diktiğimiz fidanın boyu **uzadı**.

Bu cümlede altı çizili sözcüğün zıt anlamlısı aşağıdakilerin hangisinde vardır?

- A) Evdeki eşyaların yerini birlikte değiştirdik. B)Ağaçlar okul bahçemize çok yakışıyor.  
C)Yıkınınca gömleğimin kolları kısalmış. D)Merak ettiğimiz konular hakkında soru sorduk.

2.

- Sözlerinle **beni** çok mutlu ettin.
- Yüzündeki **beni** görünce onu tanıdım.

Bu cümlelerde altı çizili sözcükler arasındaki anlam ilişkisi aşağıdakilerin hangisidir?

- A) Eş seslilik B) Eş anlamlılık  
C) Karşıt anlamlılık D) Yakın anlamlılık

3. Aşağıdaki cümleleri devrik ya da kurallı olarak sınıflandırırsak hangisi dışta kalır?

- A)Çöpleri her zaman çöp kovasına atarım.  
B)Maskemi takmadan dışarıya çıkmam.  
C)Her gün dişlerimi fırçalarım günde iki defa.  
D)Ellerimi bol sabun ve suyla yıkamaya özen gösteririm.

4. Doğum günümde **arkadaşlarımı** eve davet ettim. İlk gelenler, Mete ile **kuzeni** oldu. Mete’nin kuzeniyle

**tanıştıktan** sonra çabucak birbirimize **ısındık**.

Numaralanmış sözcüklerden hangisi **mecaz** anlamda kullanılmıştır?

- A) 1 B) 2 C) 3 D) 4

5. Aşağıdaki cümlelerin hangisinde **zıt anlamlı kelimeler** bir arada kullanılmıştır?

- A)İşçiler, büyük bir uyum içinde çalışır. B)Taşın üzerine çıkarak iri iri armut topladı.  
C)Derin derin ağlardı, şimdi sadece üzülüyor. D)Sert görünüşlü ama yumuşak huylu bir kişidir.

6. Hangi cümlede hayal ürünü bir ifade **bulunmamaktadır**?

- A)Bulutlarla yarıştım. B)Maç birazdan başlayacak.  
C)Fil, aslanın elini sıktı. D)Ay, Dünyaya seslendi.

7. Aşağıdaki altı çizili sözcüklerden hangisinin sesteşi yoktur?

- A)Şu toprak **yol**, haftaya asfaltlanacak. B)Gönderdiğim mektuba hemen cevap **yaz**.  
C)Annem **çay** demlemiş. D)Giderken kapıyı kapatmayı unutma.

8. Aşağıdakilerden cümlelerin hangisinde büyük harflerin kullanımı ile ilgili **yanlışlık** yapılmıştır?

- A)Çoban köpeği Karabaş kurtları kovaladı. B)Öğretmenimiz Deniz mahallesinde oturuyor.  
C)Yaz tatilinde Van'a gideceğiz. D)Hacivat ve Karagöz milli değerlerimizdir.

9. Eğer sürekli işlerin kötüye gideceğini söylerseniz işler mutlaka kötüye gider. Bu yüzden **olumlu olmaya çalışın**.

Altı çizili sözün bu metne kattığı anlam aşağıdakilerden hangisidir?

- A) İşleri zamanında yapmak B) İyimser düşünmek  
C) İnsanlara güler yüzle yaklaşmak D) Kötülüğe iyilikle karşılık vermek

10. Aşağıdaki cümlelerin hangisinde yanlış noktalama işareti kullanılmıştır?

- A)Kitaplığımı kim düzeltti?  
B)Yağmur durdu mu dışarı çıkarız?  
C)Kıyafetlerinin kirlendiğini fark ettin mi?  
D)Bu konudan ne anlıyorsun?