



- 1- **Korkma, sönmez bu şafaklardaal sancak;
Sönmeden yurdumun üstünde tüten en son ocak.
O benim milletimin, parlayacak;
O benimdir, o benim milletimindir ancak.**

İstiklal Marşı'mızın ilk kıtasında boş bırakılan yerlere hangi kelimeler yazılmalıdır?

- A) süzülen – güneşidir B) sallanan – ışıdır
C) yüzen – yıldızdır

- 2-

Ders zili çaldığında	Yerlere çöp atmamak
Okulun temiz kalması için	Sınıfa girmek
Okula geç kalmamak için	Erkenden uyumak

Kurallara uygun davranışlar hangi seçenekte doğru olarak verilmiştir?

- A) B) C)

- 3- **Aşağıdakilerden hangisi fiziki özelliklerimizden birisidir?**

- A) Resim yapmayı sevmemiz
B) Uzun boylu olmamız
C) Güler yüzlü olmamız



- 4-

....- Sınıfta uyulması gereken kurallar vardır.
....- Sınıf kurallarına uymayanlar sınıfta sorunlar yaşar.
....- Sınıf kurallarını anne ve babalar belirler.

Yukarıdaki bilgilerden doğru olanların başına "D", yanlış olanların başına "Y" harfi yazılacaktır. Buna göre kaç cümlenin başına "D" yazılmalıdır?

- A) 1 B) 2 C) 3

- 5- **Problem çözmeyi çok seviyorum.**
Selin

Selin hangi derste daha başarılıdır?

- A) Matematik B) Hayat Bilgisi
C) Görsel Sanatlar

- 6- Hangisi sınıfta kullandığımız bir enerji kaynağıdır?

- A) Kömür B) Elektrik C) Petrol

- 7- **2/C sınıfı öğrencileri bayram kutlamasında yapacakları etkinliklerle ilgili birlikte karar alırlar. Ancak, Pınar arkadaşlarının kararını beğenmez.**

Bu durumda Pınar'ın ne yapması gerekir?

- A) Alınan karar saygı duymalı
B) Bayram kutlamasına katılmamalı
C) Arkadaşlarıyla küsmeli

- 8- KAR O CAK YUN

Yukarıda verilen hecelerle anlamlı bir kelime oluşturduğumuzda hangi heceyi kullanmayız?

- A) YUN B) O C) KAR

- 9- Aşağıdakilerden hangisi "OKUL" sözcüğünün zihnimizde çağrıştırdığı anlamlardan biri değildir?

- A) kitap B) öğretmen C) park




- 10- **Güneşlenmek**

Aşağıdaki öğrencilerden hangisi kutucuktaki sözcüğü hecelerine doğru ayırmıştır?

- A) gün-eş-len-mek B) gü-neş-len-mek
C) gü-neş-lenm-ek

- 11- Aşağıdaki hayvanlardan hangisinin adı üç hecelidir?



- 12- Hangi kelime alfabemizin birinci ve ikinci harflerinden oluşmuştur?

- A) baba B) bebe C) anne

13- Aşağıdaki çocuklardan hangisinin söylediği cümle değildir?

- A)  Fillerin uzun hortumları vardır.
- B)  Aslanlar sürü hâlinde yaşar.
- C)  Zürafalar ağaçların en üstündeki yaprakları

14- Kapıyı _____ kapattı?

Yukarıdaki cümle hangi sözcük ile tamamlanmalıdır?
A) sen B) kim C) ben






Yukarıdaki balonların üzerine "Y" harfinden önce ve sonra gelen harfler yazılacaktır. Buna göre balonlara sırasıyla hangi harfler yazılmalıdır?

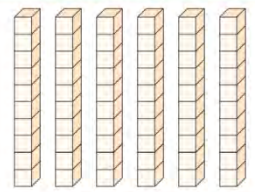

- A) O - Z B) K - M C) V - Z

16- "İki ucundan iple veya zincirle yüksek bir yere asılan ve üzerine oturulup sallanılan eğlence aracı."

Açıklaması verilen varlık aşağıdakilerden hangisidir?

- A)  B) 
- C) 

17-

Onluklar	Birlikler
	

Taban bloklarıyla gösterilen sayı kaçtır?

- A) 10 B) 54 C) 64



18- Akvaryumdaki balıklara kaç balık daha eklenirse balık sayısı 1 düzineye eşit olur?

- A) 3 B) 4 C) 5



19- Yandaki tabloda ★ ile gösterilen yere hangi sayı yazılmalıdır?

- A) 3
B) 6
C) 30

	Onluklar	Birlikler
Sayı		
Basamak adı	Onlar basamağı	Birler basamağı
Basamak değeri	★	...

20- Birler basamağı 5, onlar basamağı 6 olan sayı aşağıdakilerden hangisidir?

- A) 65 B) 56 C) 12



30 yumurtanın üzerine dörder dörder saydığımızda ☺ yerine hangi sayıyı yazarız?

- A) 34 B) 42 C) 46



17 başlayıp ileriye doğru beşer beşer saydığımızda en sondaki arabanın üzerine kaç yazarız?

- A) 42 B) 37 C) 22



Yukarıdaki sayı dizisinde ★ yerine kaç yazılmalıdır?

- A) 19 B) 21 C) 23

24- 13'ten başlayarak 58'e kadar beşer beşer yazınız. (8 puan)

13 - 18 - 23 - ... - ... - ... - ... - ... - 58

***** BAŞARILAR *****

H. Özgüç