

4-C SINIFI SINAVA HAZIRLIK MÜZİK SORULARI

1) Aşağıdaki cümlelerden doğru olanların başına (D), yanlışların başına(Y) koyunuz.(20Puan)

- () Mehmet Akif ERSOY Milli Marşımızın şairidir.
- () Milli marşımızın adı “İstiklal Marşı”dır.
- () İstiklal Marşımızın bestecisi Necati CUMALI ’dır.
- () İstiklal marşımız toplam 10 kıtadan (dörtlükten) oluşmuştur.
- () Pazartesi sabah ve cuma öğleden sonra okulumuzda İstiklal Marşı okunur.

2) Aşağıdaki cümlelerde boş bırakılan yerleri verilen kelimelerle tamamlayınız.

- dizek – sol anahtarı – İstiklal Marşı - nota –

- Müzik seslerini gösteren işaretlere denir.
- Müzik defterimizdeki çizgilere.....denir.
- Dizek’in hemen başına çizilen şekledenir.
-milli birliğimizin ve bağımsızlığımızın sembolüdür.

3) Marşı’mızda eksik bırakılan sözcükleri yazınız.

.....

Korkma, bu şafaklarda yüzen al sancak;
Sönmeden yurdumun üstünde en son ocak.
O benim yıldızıdır, parlayacak;
O benimdir, o benim ancak.

Çatma, olayım, çehreni ey nazlı hilal!
..... ırkıma bir gül! Ne bu şiddet, bu celal?
Sana olmaz kanlarımız sonra helal...
Hakkıdır, Hakk’a tapan, istiklal!

4-C SINIFI SINAVA HAZIRLIK MÜZİK SORULARI

4) Aşağıda verilen ifadelerden doğru olanları D, yanlış olanları Y harfi ile işaretleyiniz.

- () İstiklal Marşımızın ilk iki kıtasını marş olarak okuruz.
- () İstiklal Marşımız bağımsızlığımızın sembollerinden biridir.
- () İstiklal Marşımızı alçak sesle söylemeliyiz.
- () Mehmet Akif ERSOY Milli Marşımızın şairidir.
- () İstiklal Marşımızın bestecisi Erdoğan Okyay'dır.
- () Her ulusal bayram kutlamasında İstiklal Marşımızı seslendiririz.
- () 29 Ekim'de Cumhuriyet'in ilanını kutlamak için bayram yapar, şiirler okuruz.
- () Marşımızı okurken yere bakmalıyız.
- () Bizden başka hiçbir milletin kendine ait marşı yoktur.
- () Milli Bayramlarda saygı duruşunda bulunur sonra İstiklal Marşımızı okuruz.

5) Aşağıda verilen boşlukları uygun sözcüklerle tamamlayınız.

dizek – ölçü çizgisi – sekiz – nota – İstiklal Marşı'mızı

- Ölçüleri birbirinden ayıran dikey çizgilere.....denir.
- Üzerine notaları yazmaya yarayan, 4 aralık 5 çizgiden oluşan şekledenir.
- Müzikte temel nota vardır.
- Her ulusal bayram kutlamasında seslendiririz.
- Müzikte sesleri göstermeye yarayan işaretlere denir.

6) Aşağıdaki dizek üzerindeki çizgi ve aralıkları numaralandırınız.



7) Aşağıda verilen ifadelerden doğru olanları D, yanlış olanları Y harfi ile işaretleyiniz

- () Mehmet Akif ERSOY Milli Marşımızın şairidir.

4-C SINIFI SINAVA HAZIRLIK MÜZİK SORULARI

() “Sanatsız kalan bir milletin hayat damarlarından biri kopmuş demektir.”
Sözü Atatürk’e aittir.

() İstiklal Marşımızın bestecisi Erdoğan Okyay’dır.

() Her ulusal bayram kutlamasında İstiklal Marşımızı seslendiririz.

() Her 29 Ekim’de Cumhuriyet’in ilan yıl dönümünü kutlamak için bayram yapar, şiirler ve şarkılar okuruz.

8) Aşağıda verilen boşlukları uygun sözcüklerle tamamlayınız.

(porte (dizek) – sol –la –nota –fa)

- 1- Müzik seslerini gösteren işaretlere denir.
- 2- Üzerine notaları yazmaya yarayan, 4 aralık 5 çizgiden oluşan şekle denir.
- 3- Adını dizekteki 2. çizgiden alan notaya notası denir.
- 4- Dizek üzerinde 1. aralıkta bulunan notaya notası denir.
- 5- Sol notasının bir üst komşusu olan notayanotası denir.

9) Aşağıdaki ifadelerden doğru olanların önüne (D), yanlış olanları önüne (Y) yazınız.)

- 1) (....) Müzik, düşünce ve hislerimizin seslerle ifade edilme sanatıdır.
- 2) (....) İstiklal Marşımız Osman Zeki ÜNGÖR tarafından yazılmıştır.
- 3) (....) Müzikte belirli kurallarla bir araya getirilen notaların oluşturduğu gruba “ölçü” denir.
- 4) (....) Dizeklerin başına “anahtar” adını verdiğimiz semboller koyarız.
- 5) (....) Müzik seslerini gösteren işaretlere “dizek” denir.

10) Aşağıda verilen boşlukları uygun sözcüklerle tamamlayınız.











ölçü çizgisi	dörtlük sus	ölçü	dörtlük nota	bitiş çizgisi
--------------	-------------	------	--------------	---------------

- 1-Bir vuruşluk sürede söylenen veya çalınan nota değerinedenir.
- 2-Ölçüleri birbirinden ayıran dikey çizgiyedenir.
- 3-..... bir müzik eserinin en küçük birimidir.
- 4-Müzik eserinin sona erdiğini belirten çizgiyedenir
- 5-Müzikte bir vuruş süresince susulması gerektiğini gösteren işaretedenir.

4-C SINIFI SINAVA HAZIRLIK MÜZİK SORULARI

11) Sembolleri Eşleştirelim

Aşağıda verilen adların numaralarını ilgili sembollerin üzerine yazarak eşleştiriniz





1. Dörtlük Nota	()	()	()	()	()
2. Sekizlik Nota					
3. Sus İşareti					
4. Sol Anahtarı					
5. Ölçü Çizgisi					
6. Ölçü Belirteci					
7. Bitiş Çizgisi	()	()	()	()	()
8. Ölçü					
9. Dizek					
10. Vuruş					

12) .) Aşağıdaki soruları DOĞRU-YANLIŞ (D-Y)şeklinde cevaplandırınız.

- a.(.....) Yalnızca müzik dersinde müzik dinlenebilir.
- b.(.....) Müzik dinleme çalışmaları CD veya kaset kullanılarak da yapılabilir.
- c.(.....) İstiklal Marşımız dokuz kıtadan oluşmaktadır.
- ç.(.....) Rüzgar doğal bir ses kaynağıdır.
- d.(.....) Ritm çalışmaları ayakta ve oturarak yapılabilir.

13)

Aşağıdaki şekil ve işaretlerin isim ve anlamlarını karşılıklarına yazınız.

a)		→	a).....
b)		→	b).....
c)		→	c).....
d)		→	d).....