



- 1- Osman, esmer ve kiloludur.  
Bekir, sarışın ve uzun boyludur.  
Yukarıdaki açıklamalar çocuklar arasındaki hangi farklılığı açıklamaktadır?

A) duygusal B) fiziksel C) yetenek

- 2- Arkadaş edinirken aşağıdaki kişisel özelliklerden hangisini dikkate almayız?



A) uzun boylu olması  
B) güvenilir olması  
C) anlayışlı olması

- 3- Yandaki şekle göre okulun sağında hangisi vardır?

A) Durak  
B) Market  
C) Park



- 4- Sınıf kuralları \_\_\_\_\_ için konulmuştur.

Yukarıdaki ifadede boş bırakılan yere aşağıdakilerden hangisi yazılmalıdır?

A) öğretmenimiz  
B) düzen sağlamak  
C) sınıfın temizliği

- 5- Aşağıdaki kurallardan hangisi güvenliğimiz için konulmuş bir kuraldır?




A) Sınıf penceresinden sarkmamak  
B) Okula zamanında gelmek  
C) Sınıfı temiz tutmak

- 6- Özenli kullanılmayan eşyalar ne olur?

A) Kolay kolay yıpranmaz.  
B) Uzun zaman kullanılır.  
C) Çabuk eskir.




- 7- Yandaki resme göre Aykut'un arkadaşına hangisini demesi daha uygundur?



A) Bir daha benimle oynama.  
B) Önemli değil.  
C) Yarın hemen yenisini al.

- 8- Hangi hayvanın adı alfabemizin altıncı sırasında bulunan harfle başlar?



- 9- ★ Markete gitti.

■ Ekmek almak için dışarı çıktı.

● Ancak ekmek kalmamıştı.

Yukarıdaki cümleler olayların oluş sırasına göre dizilirse sıralama nasıl olur?

A) ● ■ ★ B) ■ ★ ● C) ★ ● ■

- 10- Aşağıdaki cümlelerden hangisinin sonuna soru işareti konulmaz?

A) Kitabımı sen aldın  
B) Kitabımı sen mi aldın  
C) Kitabımı kim aldı

- 11- Yandaki kartlarda verilen harflerle hangi kelime oluşturulamaz?



A) eldiven B) deli C) vali

- 12- Satır sonuna sığmayan kelimelerden hangisi hecelerine yanlış ayrılmıştır?


A) .....alı-  
yorlar

B) ...gidec-  
ekler

C) ...otura-  
cağım

- 13- Görseldeki varlığın adında hangi harf yoktur?

A) İ B) R C) N



- 14- odun boru ev ısıtma

Yukarıdaki kelimeler bize hangi anahtar kelimeyi anlatmak istemektedir?

- A) kömür  
B) yorgan  
C) soba

- 15- Her şeye ilgi duyup, öğrenmek isteyen



Yukarıda arkadaşımızın açıklamasını verdiği kelime hangisidir?

- A) sinirli B) meraklı C) hoşgörülü

- 16- Elmalardaki sayılar kaç hecelidir?

- A) Bir hecelidir  
B) İki hecelidir  
C) Üç hecelidir



- 17-

Yukarıdaki köpeklerin sayısının kaç fazlası 1 deste-ye eşittir?

- A) 3 B) 4 C) 6

- 18- 4 onluk + 7 birlik

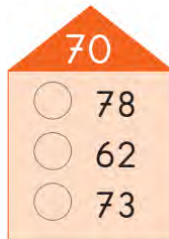


Arkadaşımızın onluk ve birliklerini belirttiği sayı hangisidir?

- A) 11 B) 74 C) 47

- 19- Yandaki tabloya göre onluğa en yakın olan sayı hangisidir?

- A) 78  
B) 73  
C) 62



- 20- Aşağıdaki sayılardan hangisi diğerlerinden daha küçüktür?

- A) 53 B) 72 C) 38

- 21- "73 ile 75 arasında ..... vardır."

Yukarıda noktlı yere yazılması gereken sayı kaçtır?

- A) 72  
B) 74  
C) 76

- 22- Yandaki tabloda noktalı yerlere küçüktür < ve büyüktür > işaretlerini koyarsak sıralama nasıl olur?

82	.....	37
13	.....	25
99	.....	91

- A)   
B)   
C)

- 23-

	71	
--	----	--

Arkadaşımız tablodaki boşluklara 71'den bir önce ve bir sonra gelen çift sayıları yazmak istiyor. Buna göre boşluklara hangi sayıları yazmalıdır?



- A) 69 - 73  
B) 68 - 74  
C) 70 - 72

- 24-

Birler basamağı 5, onlar basamağı 4 olan sayı .....

Boş bırakılan yere hangi sayı yazılmalıdır?

- A) 45 B) 54 C) 9

- 25- En yakın onluğa yuvarlama yapılırken hangilerinde yarınlık yapılmıştır?

★ 44 → 40	▲ 56 → 50	● 79 → 80
■ 17 → 10	◆ 63 → 60	

- A) ▲ ■  
B) ★ ● ◆  
C) ★

Her soru 4 (dört) puandır.

\*\*\*\*\* BAŞARILAR \*\*\*\*\*

H. Özgüç