



1- "Zehra okulda öğrendiklerini her gün evde tekrar ediyor." Zehra'nın bu davranışının yararı aşağıdakilerden hangisidir?

- A) Düzenli olmasını sağlar.
- B) Temiz olmasını sağlar.
- C) Başarılı olmasını sağlar.

2- Günlük çalışma planı hazırlayan öğrencilerden hangisinin söylediği plana yazılmaz?

- A)  Saat 22.00'de yatırım.
- B)  Gün boyunca ders çalışmalıyım.
- C)  18.00'da akşam yemeğimi yerim.

3- Aşağıdakilerden hangisi yanlıştır?

- A) Arkadaşımızın hatasına gülmek
- B) Arkadaşımızı konuşurken dinlemek
- C) Arkadaşımızın eşyalarını izin alarak kullanmak

4- Arkadaşlarına karşı kötü davranışlar sergileyen Selim aşağıdaki durumlardan hangisiyle karşılaşır?

- A) Arkadaşları tarafından çok sevilir.
- B) Arkadaş sayısı artar.
- C) Arkadaşları ondan uzaklaşır ve yalnız kalır.

5- Oyunlarda uyulması gereken en önemli kural hangisidir?

- A) Ebe olmamaya çalışmak
- B) Kazananların ve kaybedenlerin birbirini tebrik etmesi
- C) Öğretmenimizi dinlemek

6- Okuldaki grup çalışmalarına katılmak olmamı sağlıyor.



Timur

Timur'un cümlesindeki boşluğa aşağıdakilerden hangisi yazılamaz?

- A) tek başıma daha başarılı
- B) hoşgörülü
- C) sorumluluk sahibi

7- İletişimde nezaket ifadelerini kullanan biri aşağıdakilerden hangisini söylemez?



- A) Güzel olmuş, elinize sağlık.
- B) İyi akşamlar. Yine bekleriz.
- C) Yeteneksiz! Bir işi beceremedin.

8- Emir eşyalarını ?

Yukarıdaki cümlede boş bırakılan yere hangisi yazılmalıdır?

- A) topladı mı
- B) alacak
- C) götürecekti

9- Resimdeki hayvanın adında hangi harf yoktur?



- A) e
- B) v
- C) n

10- Hangi öğrencinin taşıdığı karttaki sözcük hecelerine doğru ayrılmıştır?

- A)  mas - al
- B)  tek - er - le - me
- C)  hi - kâ - ye

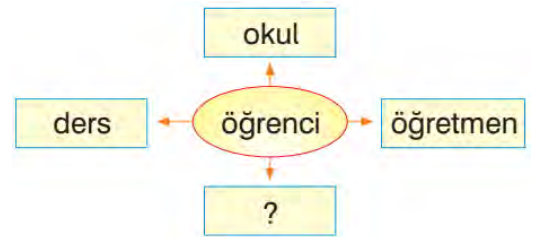
11-



Yıldızlardaki hecelerle hangi kelime oluşturulamaz?

- A) beşik
- B) çiçek
- C) bebek

12-



Yukarıdaki şemaya "öğrenci" sözcüğünün çağrıştırdıkları yazılmıştır. Buna göre ? ile belirtilen yere aşağıdakilerden hangisi yazılamaz?

- A) teneffüs
- B) etkinlik
- C) orman

13- Alp, yemeğini iştahla

Cümledeki boşluğa hangisi yazılmalıdır?

- A) bakıyordu
- B) yiyordu
- C) içiyordu

14- vardı içinde balık
onlarca akvaryumun

Yukarıdaki kelimelerle anlamlı ve kurallı bir cümle kurulacaktır. Buna göre baştaki ve sondaki sözcük hangisi olur?

- A) akvaryumun - vardı
B) onlarca - içinde
C) balık - vardı

15- Yandaki konuşmaya göre Gaye, Cenk'e ne sormuş olabilir?



- A) Niçin para biriktiriyorsun?
B) Babanın mesleği nedir?
C) İleride ne olmak istiyorsun?

16- Yandaki söz dizileri ile anlamlı ve kurallı bir cümle yazmak istersek sıralama nasıl olur?

1. karşıya geçmek için
2. yaşlı adam
3. yardım bekliyordu

- A) 3 - 1 - 2 B) 2 - 1 - 3 C) 1 - 3 - 2

17- Yandaki bilgilerin sayısı hangi tabloda doğru gösterilmiştir?



A)	Onlar Basamağı	Birler Basamağı
	3	5

B)	Onlar Basamağı	Birler Basamağı
	3	4

C)	Onlar Basamağı	Birler Basamağı
	4	3

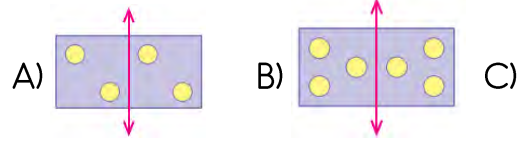
18- Aşağıdaki ritmik saymaların hangisinde ileriye doğru dörder ritmik sayma yapılmıştır?

- A) 4 - 9 - 14 - 19 - 24 - 29
B) 44 - 40 - 36 - 32 - 28 - 24
C) 16 - 20 - 24 - 28 - 32 - 36

19- 75 ile 79 arasında hangi tek sayı vardır?

- A) 78 B) 77 C) 76

20- Aşağıdaki şekillerden hangisi çizilen göre simetrik değildir?



21- 41 14 75 57

Yukarıda sayılar küçükten büyüğe doğru sıralandığında baştan ikinci sayı hangisi olur?

- A) 14 B) 41 C) 75

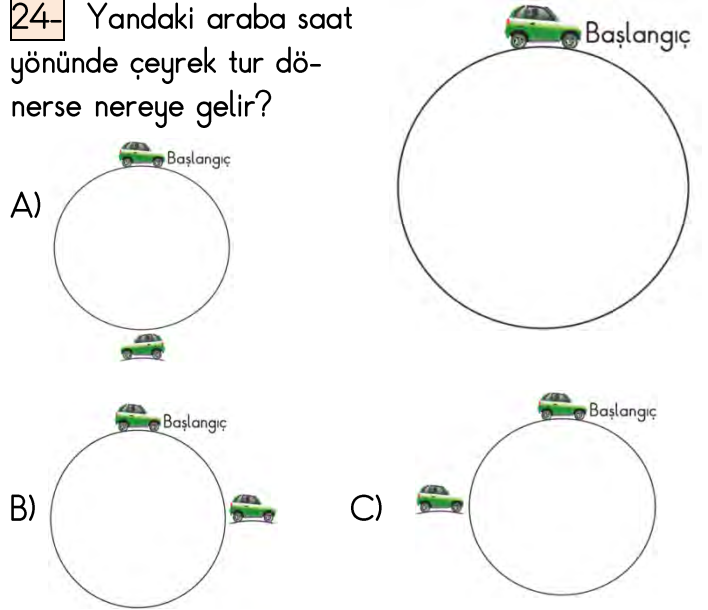
22- Aşağıdaki yuvarlamalardan hangisi yanlıştır?

- A) 49 → 50
B) 74 → 70
C) 85 → 80

23- 65 sayısındaki 6 rakamının basamak değeri kaçtır?

- A) 60 B) 11 C) 6

24- Yandaki araba saat yönünde çeyrek tur dönerse nereye gelir?



25- Bugün 15 sayfa kitap okudum.
Ben, 23 sayfa okudum.

Hilal ve Murat toplam kaç sayfa kitap okumuştur?

- A) 32 B) 35 C) 38

Her soru 4 (dört) puandır.

***** BAŞARILAR *****