

Adı Soyadı

Ders

Kasım Ara Tatil Çalışması

Numarası

Sınıfı

3

## ARILAR

Emdiniz arılarım elma çiçeklerini,  
Doldurdunuz bahçenin bütün peteklerini  
Şimdi, tutun baharın, tutun eteklerini,  
Gökte vızıldayarak uçun, uçun arılar.

Beyaz beyaz dallara, çiçeklere kondunuz,  
Tepeler çıktınız, ovalara indiniz,  
Bir çiçekten emip bir bu ota döndünüz  
Haydi tepemden halka halka geçin arılar.

Böğürtlen içinde altın bir eviniz var,  
Odalarınız sarı sarı balla doludur,  
Beni de evinize davet edin bu bahar,  
Sofranızda bana da bir yer açın arılar.

Ceyhan Atuf KANSU



Aşağıdaki soruları şiire göre cevaplandırınız.

1) Arılar neyi dolduruyorlarmış?

A) Polenleri B) Petekleri C) Bahçeyi

2) Şair, arıların nasıl uçmasını istiyor?

A) Vızıldayarak B) Hızlı C) Sırayla

3) Arıların konduğu dallar, çiçekler ne renkmiş?

A) Sarı B) Beyaz C) Yeşil

4) Şiirin 3. Kıtasında şair arılardan ne istiyor?

A) Ona bal vermelerini  
B) Evlerine davet etmelerini  
C) Daldan dala konmalarını

Aşağıda verilen cümlelerden doğru olanların başına "D", yanlış olanların başına "Y" yazınız.

- ( ) Şiirin her kıtası 4 dizeden oluşmuştur.  
( ) Şiirin 2. kıtasında şair, arıların evinin çatısından geçmesini istiyor.  
( ) Arıların böğürtlen içinde altın bir evi varmış.  
( ) Şairin adı Cihan Atuf ARSLAN'dır.  
( ) Şiire göre şair arılardan korkmaktadır.

Aşağıdaki cümlelerden doğru olanların başına D yanlış olanların başına Y yazınız.

- ( ) Yer kabuğu karaların olduğu yerlerde ince, okyanus diplerinde kalındır.
- ( ) Dünya'mızı haşlanmış bir yumurtaya benzetecek olursak yumurtanın sarısı mantoya karşılık gelir.
- ( ) Bir limana yaklaşan geminin önce gövdesi, sonra dumanı, sonra da bacası görünür.
- ( ) Dünya'nın dörtte üçü karalarla kaplıdır.
- ( ) Uzaydan çekilen fotoğraflar Dünya'nın küre şeklinde olduğunu kanıtlar.
- ( ) Gezegenimiz atmosfer adı verilen hava katmanıyla çevrilidir.
- ( ) Manto, insanlar tarafından gözlenebilen bir katmandır.
- ( ) Yeraltı suları kara katmanının bir parçasıdır.
- ( ) Kar, yağmur, sis gibi hava olayları hava katmanında gerçekleşir.
- ( ) Çekirdeğin etrafında manto katmanı bulunur.

Aşağıdaki kelimeleri boşluklara yerleştirin.

yerkabuğu - merkezinde - küreye - basık - manto -

Dünya'mızın şeklini geometrik cisimlerden ..... benzetebiliriz.

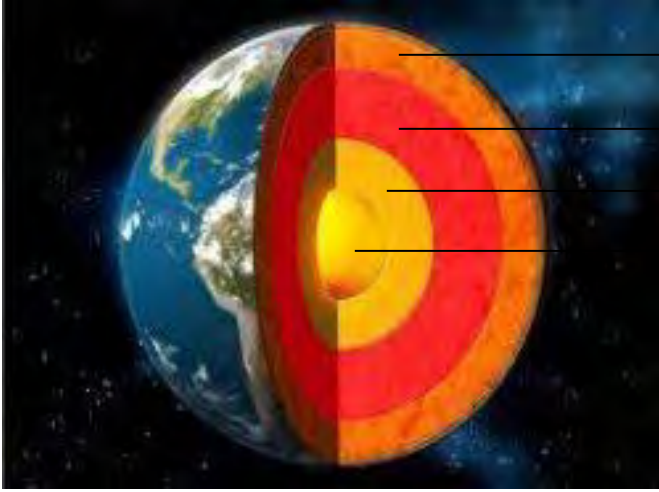
Yer kabuğunun hemen altında ..... katmanı yer alır.

Dünya'mız alttan ve üstten ..... , yanlardan şişkin bir küreye benzemektedir.

Dünya'mızın ..... yer alan katmana iç çekirdek denir.

..... Dünya'mızın dış kısmını oluşturur.

Dünya'nın katmanlarının adlarını yazınız.



Dünya'nın yuvarlak olduğunu ispatlamaya çalışacak olsaydınız neler söylerdiniz?

.....

.....

.....

.....

.....

.....

1. Aşağıdaki cümlelerin doğru olanlarına D, yanlış olanlarına Y yazınız.

- ( ) Güçlü ve zayıf yönlerimizi bilmeli onları geliştirmeye çalışmalıyız.
- ( ) Kendimize kaba, saygısız ve kötü huyları olan kişileri arkadaş olarak seçmeliyiz.
- ( ) İstek ve ihtiyaçlarımızı ifade ederken saygılı olmalıyız.
- ( ) İlgi ve yeteneklerimize uygun meslekler seçmeliyiz.
- ( ) Okulda katıldığımız sosyal etkinlikler özgüven, dayanışma ve yardımlaşma duygularını geliştirir.
- ( ) Arkadaşlarımızın dış görünüşüyle alay edebiliriz.
- ( ) Sevdiğimiz arkadaşımızın her teklifini kabul etmeliyiz.
- ( ) Kurtuluş savaşını dayanışma ve yardımlaşma sayesinde kazandık.
- ( ) Yardımlaşma ve dayanışma sahip olmamız gereken olumlu özelliklerdendir.
- ( ) Kaynaklarımızın tükenmesi durumunda çeşitli sağlık sorunları yaşayabiliriz.

2. Aşağıdaki boşlukları tablodan seçeceğiniz uygun sözcüklerle doldurunuz.

Elektrik ve su	yukarıdan	Nezaket	1920	1923	eşit	cumhuriyet	meslek	Duygu ve düşüncelerine	saygı	geometrik
----------------	-----------	---------	------	------	------	------------	--------	------------------------	-------	-----------

- Konuşmalarımızda ..... ifadeleri kullanmalıyız.
- Kroki bir yerin .....görünüşünün kağıda çizilmesidir.
- ..... okulda kullandığımız kaynaklardandır.
- Kroki çizerken .....şekiller kullanırız.
- Herkes birbirinin düşüncelerine.....göstermelidir.
- Arkadaşlarımızın .....karşı duyarlı olmalıyız.
- İnsanların gelir elde etmek için çalıştığı işe .....denir.
- Halkın kendisini yönetecek kişileri seçtiği yönetim biçimine .....denir.
- Cumhuriyet 29 Ekim.....tarihinde ilan edildi.
- Cumhuriyet sayesinde hepimiz.....haklara sahip olduk.



Aşağıdaki boşlukları krokiye göre cevaplayınız.

- Emrelerin evinin güneyinde .....bulunur.
- Bankanın kuzeyinde.....bulunur.
- PTT'nin doğusunda.....bulunur.
- Sağlık ocağının batısında.....bulunur.
- Emrelerin evinin kuzeyinde.....bulunur.

1) Aşağıdaki doğal sayıların okunuşunu yazınız.

204 = 

365 =

960 = .....

878 = \_\_\_\_\_

451=.....

2) Yazılışı verilen doğal sayıları rakamla ifade ediniz.

Üç yüz on yedi=.....

Altı yüz =

3 onluk + 2 yüzlük + 8 birlik = .....

Beş yüz yetmiş=.....

6 yüzlük + 4 birlik = .....

3) Aşağıdaki sayıların basamak değerlerini yazınız.

306 468

740 595

4) Aşağıdaki sayılara tek ya da çift olduklarını yazınız.

127=                  654=                  368=

350=                      429=                      921=

5) Aşağıdaki doğal sayıları çözümleyiniz. (Kaç yüzlük, kaç onluk, kaç birlik?)

465 = 

305 = 

[illegible]

879 = .....

750 = 

6) Aşağıdaki doğal sayıların hangi onluklar arasında olduğunu yazıp en yakın onluğa yuvarlayınız.

216-..... 312-.....

374-..... 468-.....

535-..... 786-.....

7) Aşağıdaki doğal sayıları büyükten küçüğe sıralayınız.

$$365 - 257 - 487 - 126 - 683$$

8) Aşağıdaki doğal sayıları küçükten büyüğe sıralayınız.

407 - 233 - 852- 934 - 556

9) 625 sayısının en yakın yüzlüğe yuvarlanmış hâli hangisidir?

A) 600                      B) 700                      C) 750

Adı Soyadı

Ders

Kasım Ara Tatil Çalışması

Numarası

Sınıfı

3

## AT İLE EŞEK

Adamın birinin bir atı ile bir eşiği varmış. Atına biner, yüklerini de eşiğine taşıtmış. Bir gün eşiğine çok ağır yük yüklemiş. Eşek neredeyse devrilecekmiş. Biraz gidince eşiğin dayanacak gücü kalmamış. Ata yalvarmış:

Ne olur, hiç gücüm kalmadı, yükümün birazını sen al.

Ama at bu sözlere hiç aldırmamış, yoluna devam etmiş. Az sonra eşiğin bütün gücü tükenmiş, düşüp oluvermiş.

Adam eşiğin sırtındaki yükleri ata yüklemiş, üstelik eşiğin derisini de yüzüp yüklerin üstüne koymuş. At, eşiğin neler çektiğini o zaman anlamış, ona yardım etmediğine çok pişman olmuş.

NOT (İlk 4 soruyu yukarıdaki metne göre yanıtlayınız.)

1. Eşek attan ne istemiş?

- A.yüklerinin hepsini taşımasını
- B.yüklerinin birazını taşımasını
- C.biraz yavaş yürümesini

2. Aşağıdakilerden hangisi adamın hayvanlarından biri değildir?

- A) katır
- B) at
- C) eşek

3. Eşek ölünce adam aşağıdakilerden hangisini yapmamıştır?

- A) Eşiğin yüklerini ata yüklemiş.
- B) Eşiğin derisini de yüzüp ata yüklemiş.
- C) Kendisi de yüklerin üstüne oturmuş.

4. Eşek ölünce at hangi duyguya kapılmıştır?

- A) Pişman olmuştur.
- B) Çok sevinmiştir.
- C) Çok korkmuştur.

5. "Okulda uymamız gereken kurallar nelerdir" cümlesinin sonuna aşağıdaki noktalama işaretlerinden hangisi konmalıdır?

- A) nokta
- B) virgül
- C) soru işareti

6. "Canan dün okula geç....." cümlesini aşağıdakilerden hangisi ile tamamlayamayız?

- A) kalmış
- B) kalacak
- C) Kaldı

7. "Müge saçlarını kestirmiş," cümlesinde kaç kelime vardır?

- A) 9
- B) 5
- C) 3

8. "Yaşlı adam bu evde yalnız....." cümlesini aşağıdakilerden hangisi ile doğru olarak tamamlarız?

- A) gidecekmiş
- B) yaşıyormuş
- C) Gelmiş

9. "Annem tatilden döndü." Cümlesinde kaç hece vardır?

- A) 6
- B) 3
- C) 4

10. Aşağıdaki seçeneklerde verilen zıt anlamlı kelimelerden hangisi yanlış eşleştirilmiştir?

- A) Ak- Beyaz
- B) Yaşlı - Genç
- C) Uzun - Kısa

Dünya'nın şeklinin küreye benzediğini ispatlamak için yolculuğa çıkan **denizci kimdir?**

A.) Galileo B.) Kepler C.) Macellan

Aşağıdakilerden hangisi Dünyamızın **gözlenen** katmanlarından **değidir?**

A.) Çekirdek  
B.) Su katmanı  
C.) Kara katmanı

Aşağıdaki katmanlardan hangisinin yapısında erimiş kayalardan oluşan **magma bulunur?**

A.) İç Çekirdek B.) Manto C.) Yer Kabuğu

Aşağıdakilerden hangisi kıta değildir?

A.) Asya B.) Afrika C.) Atlas

Aşağıdaki katmanlardan hangisi Dünya'nın merkezinde yer alan ve **en sıcak olan katmandır?**

A.) İç Çekirdek B.) Dış Çekirdek C.) Manto

Üzerinde canlıların yaşadığı katman hangisidir?

A.) Çekirdek B.) Yer kabuğu C.) Manto


Hava katmanının diğer adı nedir?

A.) Atmosfer B.) Çekirdek C.) Manto

Portekizli kaşifin gemileriyle hep batıya gittikten sonra yine aynı noktaya varması Dünya'nın hangi özelliğiyle ilgilidir?

A. Dünya'nın büyük olmasıyla  
B. Dünya'nın geniş olmasıyla  
C. Dünya'nın yuvarlak olmasıyla

Dünyanın katmanlarını çizin



1. Sınıf başkanı olmak isteyen bir öğrenci aşağıdakilerden hangisini yapmalıdır?
  - A. Arkadaşlarını kendisine oy vermesi için zorlamalı
  - B. Arkadaşlarına hediye vererek onların oy vermesini sağlamalı
  - C. Tarafsız ve başarılı bir sınıf başkanı olacağını anlatarak arkadaşlarını ikna etmeli
2. Üzgün bir arkadaşınızı gördüğünüzde aşağıdakilerden hangisini yapmanız doğru olur?
  - A. Onunla hiç ilgilenmem
  - B. Yanına gider üzüntüsünün nedenini sorarım.
  - C. Nöbetçi öğretmene söylerim.
3. Kroki çizerken aşağıdakilerden hangisini göstermemize gerek yoktur?
  - A. Önemli yerler ve binalar
  - B. Okul cami ve parklar
  - C. Anneannemizin evi
4. Mesleklerle ilgili olarak yazılan cümlelerden hangisi doğru değildir?
  - A. Çok para kazandıran meslek daha önemlidir.
  - B. Toplumlar kalabalıklaştıkça farklı meslekler ortaya çıkmıştır.
  - C. Meslekler toplumun ihtiyaçlarını karşılar.
5. Okuldaki kaynakları kullanırken aşağıdakilerden hangisini yapmalıyız?
  - A. Kendimiz ödemediğimiz için istediğimiz kadar kullanabiliriz.
  - B. Kaynaklar tükenebilir olduğu için dikkatli kullanmalıyız.
  - C. Okulda kaynakları hiç kullanmamalıyız.

6. İsteklerimizi ve ihtiyaçlarımızı ifade ederken aşağıdakilerden hangisini yapmamalıyız?
  - A. İsteklerimizi nazik ve saygılı bir dille ifade ederiz.
  - B. İstek ve ihtiyaçlarımızı okulda öğretmen ya da idarecilere söyleyebiliriz.
  - C. İstek ve ihtiyaçlarımız giderilmezse kavga edebiliriz.
7. Aşağıdaki ifadelerden hangisi doğrudur?
  - A. Davranışlarımız yalnız bizi etkiler.
  - B. Arkadaşlarımızın davranışları hepimizi etkiler.
  - C. Olumsuz davranışlar iyi ilişkiler kurmamızı sağlar.
8. Aşağıdaki cümlelerden hangisi doğrudur?
  - A. Güçlü ve zayıf yönlerimi tanımam gerekir.
  - B. Zayıf yönlerimi geliştirmeme gerek yoktur.
  - C. Herkesin güçlü yönleri aynıdır.
9. İstek ve ihtiyaçlarımızla ilgili olarak verilen cümlelerden hangisi yanlıştır?
  - A. İstek ve ihtiyaçlarımızı yazılı veya sözlü olarak iletebiliriz.
  - B. İstek ve ihtiyaçlarımızı yazıp okuldaki dilek kutusuna atabiliriz.
  - C. Dilek kutusuna yazarken saygılı bir dil kullanmamıza gerek yoktur.
10. "Okuldaki kaynakları ..... kullanmalıyız." Cümlede boş bırakılan yere aşağıdaki sözcüklerden hangisi gelemez?
  - A. İsteddiğimiz kadar
  - B. Dikkatli
  - C. Tasarruflu

Aşağıdaki örüntüleri tamamlayınız.

5 – 10 – 15 – .... – .... – ....

KURAL:.....

57 – 59 – 61 – .... – .... – ....

KURAL:.....

44 – 48 – 46 – 50 – .... – .... – ....

KURAL:.....

5 – 10 – 20 – .... – ....

KURAL:.....

1)Aşağıda verilen sayıları romen rakamlarıyla ifade ediniz.

5 =..... 13 =..... 9 =.....

14 =..... 20 =..... 8 =.....

12) Verilen sekizer ritmik saymada kuralı bozan sayı hangisidir?

"8 – 16 – 24 – 32 – 40 – 48 – 54 – 64 – 72 – 80 – 88 – 96"

A) 48 B) 54 C)64

13) 439 sayısının yüzler basamağındaki rakam ile onlar basamağındaki rakamın yerleri değiştirilirse yeni sayı kaç olur?

A-394 B-349 C-934

14) 3,5,9 rakamlarını birer kez kullanarak yazılabilecek üç basamaklı en büyük ve en küçük doğal sayıyı yazınız.

En büyük:..... En küçük:.....

15)Üç basamaklı en küçük sayı ile iki basamaklı en büyük sayının toplamı kaçtır?

16) VI + XI işleminin sonucunun Romen rakamlarıyla yazılışı hangisidir?

A) XVII B) XV C)XX

17) 7, 8, 0 rakamları birer kez kullanılarak oluşturulan üç basamaklı en küçük sayı hangisidir?  
A) 780 B) 807 C) 708

18) 100+100+100+1 şeklinde çözümlenen sayı kaçtır?

A) 301

B) 101

C) 303

19)Aşağıdaki sayıları küçükten büyüğe doğru sıraladığımızda en sonda hangi sayı bulunur?

706 – 770 – 709 – 790

A) 709

B) 706

C) 790

Aşağıya altışar ve yedişer ritmik saymaları yüze kadar yazınız.

6-12-.....

.....

.....

.....

7-14-.....

.....

.....

.....



Adı Soyadı		Ders	Kasım Ara Tatil Çalışması	MaviOkul
Numarası		Sınıfı	3	

### CAN ARI İLE SARI ÇİÇEK



Can arı her gün yüzlerce çiçeğe konup bal yapmak için çalışıyormuş. Ancak sadece Sarı çiçeğe konmuyormuş. Çünkü çiçeğin çirkin olduğunu balının da bu nedenle güzel olmayacağını düşünüyormuş. Sarı çiçek bu duruma çok içerliyor, her gece üzüntüsünden ağlıyormuş. "Can arı neden beni beğenmiyor? Beni gerçekten tanısa benden güzel bal olacağını bilir," diye düşünüp duruyormuş.

Can arı günlerce Sarı çiçeğe konmamış. Aradan zaman geçmiş. Can arı hastalanmış. Artık çiçeklere konup bal yapamaz haldeymiş. Çaresi ise Sarı çiçekteymiş. Çünkü Can arının iyileşmesi için gerekli vitaminler sadece Sarı çiçekte varmış.

Can arı, günlerce üzdüğü Sarı çiçekten yardım istemeye utanmış. Ama çaresiz kaldığı için diğer arılarla haber göndermiş. Sarı çiçek Can arının hastalanmasına çok üzülmüş. Hemen yardıma koşmuş. Bütün vitaminlerini Can arıya vermiş. Can arı kısa sürede iyileşmiş.

İyileşince fark etmiş ki aslında çirkinlik görüntüde değil kalpte oluyormuş. Yaptıklarından pişman olmuş ve defalarca Sarı çiçekten özür dilemiş. Sarı çiçek de can arıyı affetmiş. O günden sonra birbirlerini üzmeden yaşamaya devam etmişler.

#### Doğru Olanı İşaretleyelim

- Can arı her gün ne için çalışıyormuş?
  - Hastalıktan kurtulmak için
  - Bal yapmak için
  - Yemek bulabilmek için
- Can arı, Sarı çiçeğe neden hiç konmuyormuş?
  - Ona zarar vermemek için
  - Sarı olduğu için
  - Ondan güzel bal olmayacağını düşündüğü için
- Can arı hastalanınca kimden yardım istemiş?
  - Sarı çiçekten
  - Kraliçe arıdan
  - Diğer arılardan
- Aşağıdakilerden hangisi sarı çiçeğin özelliklerinden **değildir**?
  - Sarı olması
  - Yardımsaver olması
  - Kıskanç olması

#### Soruları Cevaplayalım

- Can arının hangi davranışı nedeniyle sarı çiçek üzülmüyormuş?

---



---

- Can arı, iyileşmek için gerekli olan vitaminleri nasıl bulmuş?

---



---

- Can arı iyileştikten sonra ne yapmış?

---



---

- Bu masaldan çıkarttığımız ders (masalın ana fikri) nedir?

---



---

1- ..... sağlığımız için keskin kokulu maddeleri koklamamalıyız.

2-Yiyeceklerin tadını algılamamızı sağlayan duyu organımız .....

3-..... sağlığımız için haftada en az 2 kere banyo yapmalıyız.

4-Uzun süre ve yakından televizyon izlemek ..... sağlığını bozar.

5-Çabuk yorulan duyu organımız .....

6-Bıçak ve makas gibi kesici ve delici aletlerle oynamak ..... sağlığımıza zarar verebilir.

Aşağıda verilen bilgilerden doğru olanların başına D yanlış olanların başına Y yazınız.

( ) Kulaklıkla yüksek sesle müzik dinleyebiliriz.

( ) Ders çalıştığımız yerdeki ışık çok fazla olmalıdır.

( ) Koku ve tat alma duyu organımız birbiriyle uyumlu çalışır.

( ) Burnumuzdaki kıllar vücudumuza giren havadaki tozları ve mikropları tutar.

( ) Grip ya da nezle olduğumuzda yiyecek ve içeceklerin tadını daha iyi algılarız.

( ) Duyu organlarımız sayesinde çevremizdeki olayları algılarız.

Aşağıdaki soruları dikkatlice okuyup doğru seçeneği işaretleyiniz.

1- Aşağıdakilerden hangisi canlıların dünyaya açılan penceresi olarak bilinen duyu organıdır?

A) Kulak B) Deri C) Göz

2- Aşağıdakilerden hangisi duyu organı değildir?

A) Boğaz B) Deri C) Dil

3- En büyük duyu organımız aşağıdakilerden hangisidir?

A) Dil B) Deri C) Kulak

4-Aşağıdakilerden hangisi dilin görevlerinden biri değildir?

A) Konuşmak B)Hissetmek C)Tat almak

5-Aşağıda verilen bilgilerden hangisi yanlıştır?

A) Sigara içilen yerlerde bulunmamalıyız  
B) Burnumuzdaki kılları koparabiliriz  
C) Bilmediğimiz maddeleri koklamamalıyız

6- 'Sofraya oturduk. Yemek çok güzel kokuyordu. Annem kardeşime seslendi. Tabağıma çorba koydum. Çorbanın tadı çok güzeldi.'

Yukarıdaki olayda hangi duyu organı kullanılmamıştır?

A) Burun  
B) Dil  
C) Deri

7- Sadece ışık olan yerlerde kullanabildiğimiz duyu organımız aşağıdakilerden hangisidir?

A) Kulak  
B) Göz  
C) Dil

8) -Tat almamızı sağlayan duyu organına ..... denir.  
- İşitmemizi sağlayan duyu organına ..... denir.

Yukarıda boş bırakılan yerlere sırasıyla aşağıdakilerden hangisi gelmelidir?

A) Dil - Kulak  
B) Dil - Deri  
C) Kulak - Göz

9-Aşağıdakilerden hangisi kulağımıza zarar verir?

A) Kulağımızı temiz tutmak  
B) Çok gürültülü yerlerde ağızımızı açmak  
C) Yüksek sesle müzik dinlemek

10-Kitap okurken gözümüzle kitap arasındaki mesafe en az kaç santimetre olmalıdır?

A) 25 B) 30 C) 35

11-Aşağıdakilerden hangisi kulağın görevi değildir?

A) Vücut dengemizi sağlamak  
B) Konuşmamızı sağlamak  
C) Sesleri işitmemizi sağlamak

12- Aşağıda verilen bilgilerden hangisi doğrudur?

A) Diş temizliğinin dil sağlığı ile ilgisi yoktur.  
B) Tadını merak ettiğimiz her şeyi tadabiliriz.  
C) Dilimizde kızarıklık veya şişlik olursa doktora gitmeliyiz.

A) Aşağıdaki cümleler doğru ise önüne D, yanlış ise Y yazalım.

- 1- Kişinin en başarılı olduğu alan, en iyi yaptığı iş onun güçlü olduğu yönüdür. (.....)
- 2- Arkadaşlar arasında sevgi, saygı, yardımlaşma varsa o arkadaşlar mutlu değildir. (.....)
- 3- Arkadaşımızın yeni aldığı kaleme, "Çok çirkin bir kalemmiş." dersek kibar davranmış oluruz. (.....)
- 4- Okuldaki kültürel etkinlikler sayesinde kültürel mirasımızı tanıyabiliriz. (.....)
- 5- Aynı apartmanda veya yakın binalarda oturanlar birbirlerinin komşularıdır. (.....)
- 6- 3. sınıfa giden bir çocuk yemek yapabilir. (.....)
- 7- Telefon teknolojik araç iken makas bir alettir. (.....)
- 8- Planlı olmak hayatımızı düzenler ve kolaylaştırır. (.....)
- 9- Basketbol topu bir istek, okul çantası ise ihtiyaçtır. (.....)
- 10- Yere düşen arkadaşımızı yerden kaldırırsak duyarlı davranmış oluruz. (.....)

B) Aşağıdaki cümlelerde boş bırakılan yerleri uygun kelimelerle dolduralım.  
( meslekler - demokratik - kroki - yetenekleri - aile albümüne - Aç kapıyı bezirgan başı - pilot - ihtiyaç listesi - dayanışma - ihtiyaçlarımızı )

- 1- Bir yerin kuşbakışı görünümünün kağıt üzerine kabataslak çizilmesine ..... denir.
- 2- İnsanların ihtiyaçlarından dolayı çeşitli ..... ortaya çıkmıştır.
- 3- Bir hava taşıtın kullanmak ve yönetmekle görevli kimsenin mesleği ..... tur.
- 4- Okulda ve sınıfta düşüncelerimizi ..... yollarla belirtmeliyiz.
- 5- Her öğrencinin ilgi alanları ve ..... farklıdır.
- 6- Arkadaşlık bağlarının oluşmasında ..... çok önemlidir.
- 7- Teyzemin çocukluk hatıralarını öğrenmek için ..... bakabilirim.
- 8- Alışveriş yaparken öncelikle ..... almalıyız.
- 9- ..... büyüklerimizin çocukluk yıllarında oynadıkları oyunlardandır.
- 10- Alışverişe çıkmadan önce ..... hazırlamak paramızın boşa gitmesini önler.

Bir Çocuk oyununun nasıl oynandığını kuralları ile anlat.

---


---

---

---

---

---



Örüntü kuralı: .....

6.) Aşağıdaki sayılardan tek olanların yanına "T", çift olanların yanına "Ç" harfi yazınız.

28:.... 47:..... 155:.....

99:.... 10:..... 986:.....

7.) Aşağıda Romen rakamları ile verilen sayıların okunuşlarını yanına yazınız.

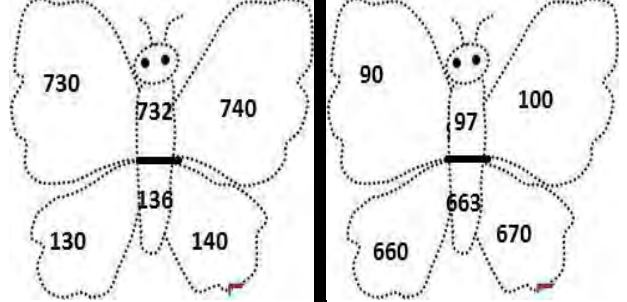
VI :..... XVII :..... IX :.....

XIX :..... XIV :..... XII :.....

8.) Aşağıdaki toplama işlemlerinde noktalı yerlere uygun sayıları yazınız.

$$\begin{array}{r} 236 \\ + \quad . \quad . \quad . \\ \hline 473 \end{array} \quad \begin{array}{r} 3 \quad . \quad 5 \\ + \quad . \quad 8 \quad . \\ \hline 817 \end{array} \quad \begin{array}{r} 7 \quad . \quad . \\ + \quad 186 \\ \hline .18 \end{array}$$

9.) Kelebeklerin gövdesindeki sayıları en yakın onluğa yuvarlanmış şekli bulup kırmızıya boyayınız.



10.) Aşağıdaki çıkarma işlemlerinde noktalı yerlere gelecek sayıları bulunuz.

$$\begin{array}{r} . \quad . \quad . \\ 552 \\ - 048 \\ \hline \end{array} \quad \begin{array}{r} 837 \\ - \quad . \quad . \quad . \\ \hline 355 \end{array} \quad \begin{array}{r} 513 \\ - 145 \\ \hline \end{array}$$

1) Aşağıda okunuşları verilen sayıları rakamla yazınız.

Yüz yirmi üç:.....

Beş yüz beş:.....

Beş yüz elli beş:.....

2) Aşağıda rakamla verilen sayıların okunuşunu yazın.

637:.....

845:.....

701:.....

3) Aşağıdaki sayıları küçükten büyüğe doğru sıralayınız.

806,479,257,148,405 .....

105,336,121,408,155 .....

236,778,805,444,308 .....

4) Aşağıda üzerinde sayılar olan tırtıllar verilmiştir. Yedişer ritmik sayma yapın.



Sekizer ritmik sayma yapın.



Dokuzar ritmik sayma yapın.



5) Aşağıdaki sayı örüntüsünün kuraalını altına yazarak boş bırakılan yerlere uygun sayıları yazınız.



Örüntü kuralı: .....

Adı Soyadı

Ders

Kasım Ara Tatil Çalışması

Numarası

Sınıfı

3



## ÇOBAN HASAN



Hasan İzmir'in Şirince Köyünde yaşayan küçük bir çobandı. Her gün koyunlarını otlatmaya götürürdü. Ailesi onu zararlı hayvanlara karşı dikkatli olması konusunda sürekli uyarırdı. Özellikle yılanlar hakkında olumsuz düşünceler dile getirirlerdi.

Bir gün Çoban Hasan koyunlarını otlatmak için yine yaylaya çıktı. Koyunları otlatırken o da etrafı seyretmeye koyuldu. Birden uzakta bir kartal ile bir yılanın kavga ettiğini gördü. "Şu kötü yılan da zavallı kuştan ne istiyor?" diye içinden geçirdi. Eline bir taş alıp yılanı fırlatacakken aslında kuşun istese uçup gidebileceğini fark etti. Düşündü ki saldırıya uğrayan kartal değil, ylandı.

Hasan taşı yılanı atmaktan vazgeçip kartalın dikkatini başka yöne çekmek için çalılıklara attı. Kartal

çalılıklara doğru uçunca yılan da kurtulmuş oldu.

Yılanın kurtulmasına sevinen Çoban Hasan o rahatlıkla ağacın gölgesine oturdu ve anladı ki insan duyduğu bilgileri araştırmadan, sorgulamadan hareket etmemelidir.

## Doğru Olanı İşaretleyelim

1) Çoban Hasan nerede yaşıyormuş?

- A) İzmir Yaylası'nda
- B) Konya Ovası'nda
- C) Şirince Köyü'nde

2) Çoban Hasan'ın ailesi onu ne için uyarıyordu?

- A) Uzaklara gitmesin diye
- B) Zararlı hayvanlara karşı dikkatli olsun diye
- C) Arkadaşları ile kavga etmesin diye

3) Çoban Hasan koyunları otlatmaya nereye götürdü?

- A) Yaylaya
- B) Tarlaya
- C) Bahçeye

4) Çoban Hasan koyunları ne zaman otlatmaya götürürdü?

- A) İki günde bir
- B) Hafta sonları
- C) Her gün

## Soruları Cevaplayalım

1. Çoban Hasan kartal ile yılanın kavga ettiğini görünce içinden ne geçirdi?

2. Çoban Hasan neden taşı fırlatmaktan vazgeçti?

3. Kartalla yılanın kavgasında saldırıya uğrayan hangisiydi?

4. Bu hikâyeden çıkarttığımız ders (ana düşünce) nedir?





❖ Aşağıdaki sorulara birer örnekle yanıt verilmiştir. Sizde soruyu iyice okuyunuz örneklere de dikkat ederek yanıtlarınızı noktalı yere yazınız.

1) Attan daha hızlı hareket eden hayvanlardan bazılarını yazınız?

Çita.....

2) Tepeden aşağı yuvarlanan topun hareketi nasıl bir harekettir?

3) Hareketli varlıklara örnekler veriniz?

İnsan.....

4) Hareketsiz varlıklara örnekler veriniz?

Taş.....

5) Hareket halindeyken dışarıdan kendi imkanlarınızla durdurmanız tehlikeli olacak varlıklara örnek veriniz.

Araba.....

6) Cisme uyguladığımız kuvvet çeşitlerini yazınız.

İtme.....

7) Dönme hareketi yapan varlıklara örnekler veriniz.

Topaç.....

8) Sallanma hareketi yapan varlıklara örnekler veriniz.

Çocuk beşiği.....

9) Kaplumbağadan daha yavaş hareket eden canlılara örnekler veriniz.

Salyangoz.....

10) Hızla gelen bir bisiklet yokuşu çıkmaya devam ederse hızında nasıl bir değişme olur?

11) "Uçak, jet, tren, hızlı tren, araba ve bisiklet" verilen araçları hızları yönünden karşılaştırınız. Hızı fazla olandan, az olana doğru sıralayınız.

12) "kedi, köpek, inek, at, eşek, aslan, tilki" verilen hayvanları hızları yönünden karşılaştırınız. Hızı az olandan, fazla olana doğru sıralayınız.

13) Bebek arabasının hızlanması için annemiz nasıl bir kuvvet uygulamalıdır?

14) Yolcu almak için durağa yanaşan bir otobüs sırasıyla hangi hareketleri yapar yazınız?

15) Yolcularını alıp uçmak için piste doğru hareket eden bir uçak sırasıyla hangi hareketleri yapar?

16) Rüzgârın gücüyle hareket eden varlıklara örnekler veriniz?

Rüzgâr gülü, .....

17) Hareket halindeki varlıkları durdurmak için hangi yönde nasıl bir kuvvet uygulamalıyız?

A) Her sorunu 1 doğru cevabı vardır.  
Bulup işaretleyelim.

1- Aşağıdaki ifadelerden hangisi yanlıştır?

A) Toplumdaki iş bölümünü meslekler sağlar.

B) Her meslek toplum için gerekli ve saygındır.

C) Herkes her mesleği yapabilir.

2- Kurtuluş Savaşı için söylenen ifadelerden hangisi doğrudur?

A) Toplumsal yardımlaşmaya örnektir.

B) Toplumsal dayanışmaya örnektir.

C) Hepsi

3- Aşağıdakilerden hangisi evdeki iş bölümünde, bizim sorumluluğumuz olamaz?

A) Para kazanmak

B) Sofranın hazırlanmasına yardımcı olmak

C) Odayı ve oyuncakları toplamak.

4- Günlük çalışma planında hangisi yer almaz?

A) Okul saatleri

B) Düşünme saatleri

C) Dinlenme saatleri

5- Yaşamımızı sürdürebilmek için gerekli olan ihtiyaçlara temel ihtiyaç denir. Buna göre aşağıdakilerden hangisi temel ihtiyaç değildir?

A) Evimizin olması

B) Kahvaltı yapmak

C) Konsere gitmek

6- Hangi teknolojik ürün dedelerimizin zamanında kullanılmamıştır?

A) Televizyon

B) Bilgisayar

C) Radyo

7- Adem ev ödevi olarak evinin bulunduğu yerin krokisini çizecektir. Adem'in çizdiği krokide aşağıdakilerden hangisini belirtmesine gerek yoktur?

A) Cadde ve sokak adlarını

B) Evine yakın cami, okul gibi binaları

C) Evinin rengini

8- Planlı yaşam ile ilgili aşağıda verilenlerden hangisi yanlıştır?

A) Planlı olduğumuzda hayatımızı daha düzenli yaşarız.

B) Planlı olduğumuzda ders başarımız artar.

C) Planlı olduğumuzda oyun oynamaya daha az zaman ayırırız.

9- Aşağıda verilenlerden hangisi ekmek israfını önlemeye yönelik bir tedbir değildir?

A) Bayat ekmeklerden tatlı yapmak

B) Ekmeklerin küflenmesini sağlamak

C) Ekmekleri dilimleyerek tüketmek



10- Aşağıdakilerden hangisi evde kullanılan kaynaklardan değildir?

A) Elektrik


B) Petrol

C) Su

Aşağıdaki çarpma işlemlerini yapınız.



Aşağıdaki çarpma işlemlerinde noktalı yerlere uygun rakamları yazınız.



Aşağıdaki çarpma işlemlerinde boş bırakılan yerlere uygun sayıları kısa yoldan çarpma kurallarını düşünerek yazınız.

$$24 \times \square = 240$$

$$\square \times 10 = 120$$


$$\square \times 7 = 700$$

$$35 \times \square = 350$$

$$5 \times \square = 50$$

$$9 \times 100 = \square$$

Aşağıdaki bölme işlemlerini yapınız.



16.)

Yukarıda yaptığınız bölme işlemlerinin sağlamasını(kontrolünü) tablolara yapınız.


Bir satıcı 150 tane yumurtanın 75 tanesini satmış. Kalan yumurtaları 5 koliye eşit olarak paylaşmıştır. Satıcının kaç kolisi olmuştur?

--

6 katının 140 fazlası 2 yüzlük olan sayı kaçtır?

--



Adı Soyadı

Ders

Kasım Ara Tatil Çalışması



Numarası

Sınıfı

3

## KAHRAMAN TEMEL REİS



Bir köyden başka bir köye göç eden bir leyleğin iki katlı sahihsiz bir evin çatısına bacağı sıkıştı. Leylek ne yaptıysa kendisini kurtaramadı. Başladı acı acı bağırmaya.

Oradan geçenler leyleği gördü ama çatıya çıkmaya cesaret edemediler. İtfaiyeyi aradılar ancak o da daracık sokağa giremedi. Temel Reis de o gün karısı Safinaz ile yürüyüşe çıkmıştı. Sokaktaki kalabalığı görüp merakla yanlarına gittiler. Leyleğin çaresizliğini gören Temel Reis yanındaki ıspanak kutusundan ıspanaklarını yedi. ıspanak sayesinde güçlenen kaslarıyla evin çatısına çıktı. Leyleğin bacağına tuğlaların arasından kurtardı. Leylek bir süre sendeledi hemen uçamadı. Temel Reis'in yardımıyla tekrar uçmaya başladı.

Temel Reis'in kahramanlığını izleyen insanlar coşkuyla onu alkışladılar. Safinaz da kocası ile gurur duydu.

Temel Reis ve Safinaz leyleği kurtarmanın huzuru ile evlerine döndüler. Safinaz çocuklarına babalarının kahramanlığını anlattı. Temel Reis ise karısı Safinaz'a teşekkür etti. Çünkü Temel Reis'in bu kadar güçlü olmasının nedeni yediği ıspanaklardı. ıspanağı da karısı Safinaz pişirip kutulara koyuyordu.

Doğru Olanı İşaretleyelim

1) Leyleğin bacağı nereye sıkışıyor?

A) çatıya

B) yuvaya

C) tellere

2) Leyleğin bacağının sıkıştığını görenler onu kurtarmak için nereyi aradılar?

A) ambulansı

B) cankurtaranı

C) itfaiyeyi

3) Temel Reis'in karısının adı nedir?

A) Sevgi

B) Safinaz

C) Süheyla

4) Temel Reis'in kasları neden güçlendi?

A) Spor yaptığı için

B) ıspanak yediği için

C) Çatıya çıktığı için

Soruları Cevaplayalım

1. Temel Reis leyleğin yanına nasıl çıktı?

---

2. Temel Reis'in kahramanlığını izleyen insanlar ne yaptı?

---

3. ıspanağı kim pişiriyordu?

---

4. Temel Reis'in kurtardığı leylek tekrar nasıl uçabildi?

---

1) 8 yaşındaki Deniz, aşağıdaki varlıklardan hangisini iterek hareket ettiremez?

- A) Sınıftaki sırayı
- B) Taksiyi
- C) Bisikleti

2) Duran nesneleri hareket ettiren, hareket eden nesneyi durduran, nesnelerin şeklinin değiştiren etkiye ne denir?

- A) kuvvet B) hareket C) hacim

3) Buzdolabını açıp içerisinden bir elma alıp sonra buzdolabını kapatan bir kişi, sırayla hangi kuvveti uygulamıştır?

- A) Çekme – İtme
- B) İtme – döndürme
- C) Çekme – Yön değiştirme

4) I. Bisiklet

II. Tır

III. Motosiklet

IV. Otomobil

Yukarıda verilen araçların yapabilecekleri hızları göz önüne alarak hızlıdan yavaşa doğru sıralanması aşağıdakilerden hangisi olur?

- A) I – III – IV – II
- B) IV – II – III – I
- C) III – II – I – IV

5) Aşağıda verilen hayvanlardan en hızlı hareket eden hangisidir?

- A) tavşan B) aslan C) çita

6) Aşağıda verilenlerden hangisi için kuvvet etkisine gerek yoktur?

- A) Kazma ile kuyu kazmak.
- B) Marketten alınan poşetleri taşımak.
- C) Film izlemek.

7) Aşağıdakilerden hangisi yanlıştır?

- A) Cisimlerde kuvvet uygulandığında cisimlerin şekli değişebilir.
- B) Hareketsiz bir cisim, kuvvet uygulanarak hareketlendirilebilir.
- C) Bütün cisimler, üzerine uygulanan kuvvet kaldırıldığında ilk haline döner.

8) Oğuzhan elindeki topu aşağıdakilerden hangisine atarsa top, yön değiştirme hareketi yapmaz?

- A) Kalenin direğine
- B) Arabanın üstüne
- C) Su dolu havuza

9) Bir cisme yeterli kuvvet etki ettiğinde aşağıdakilerden hangisi gözlenemez?

- A) Hareket ediyorsa durur.
- B) Şekli değişir
- C) Aynı hızla hareketine devam eder.

10) Aşağıdakilerden hangisi tehlike olusturmaz?

- A) Islak ve kaygan zeminde koşulması
- B) Buzun üzerinde yürümeye çalışılması
- C) Hızlı gelen bir bisikletlinin yavaşlayıp durması

11) Analog saatlerde akrep ve yelkovanın yaptığı hareket ile ilgili olarak hangisi söylenebilir?

- A) Dönme hareketi yaparlar.
- B) Sallanma hareketi yaparlar.
- C) Yön değiştirme hareketi yaparlar.

12) İtme veya çekme kuvveti sonucunda cismin yer değiştirmesine ..... denir. Cümlesinde boş bırakılan yere getirilmesi gereken sözcük hangisidir?

- A) hareket B) güç
- C) hız

13) Aşağıdakilerden hangisi kuvvetin hareket ettirebilme özelliği için uygun bir örnek değildir?

- A) Duvara sabitlenen dolabın itilmek istenmesi
- B) Alışveriş sepetinin itilmesi
- C) Ağacı sallayarak sararan yapraklarının dökülmek istenmesi

14) "Beyza ile Elanur pikniğe gitmeye karar verirler. Beyza bisikletle giderken Elanur arabayla gider. "Elanur'un piknik alanına daha önce varmasının sebebi aşağıdakilerden hangisidir?

- A) Beyza'nın bisikleti iyi kullanamaması.
- B) Beyza'nın piknik alanını bulamaması.
- C) Arabanın daha hızlı hareket etmesi.

- Dün 37 sayfa kitap okudum. Bugün dünden 26 sayfa fazla kitap okudum. İki günde kaç sayfa kitap okudum?
- Bizim okulda 349 kız öğrenci, kız öğrencilerden 86 fazla erkek öğrenci vardır. Bizim okulda kaç öğrenci vardır?
- Ben 14 yaşımdayım. Annem benden 29 yaş büyük olduğuna göre ikimizin yaşlarımızın toplamı nedir?
- Derya'nın 4 düzine kalemi vardı. 5 deste kalem annesi 27 kalem de babası aldı. Derya'nın kaç kalemi oldu?
- Sınıf kitaplığımızda 84 kitap vardı. Oya 39 kitap getirdi. Ahmet ise Oya'dan 17 fazla kitap getirdi. Sınıf kitaplığımızda kaç kitap oldu?
- Ben 5 yıl Önce 14 yaşımdaydım. Ben 8 yıl sonra kaç yaşımda olurum?

# Öğretmen baski

www.ogretmenbaski.com

0505 834 63 38



**Daha Farklı Madalya  
Modelleri İçin  
Sitemize Bekleriz**

www.ogretmenbaski.com