

Değerli Veli,

Hazırlanan bu kitapçığı aşağıdaki maddelere dikkat ederek uyguladığınızda çocuğunuz verimli bir ara tatil geçirecektir.

Madde 1 : Sayfanın en altında verilen çalışma programına uygun hareket edilecek.

Madde 2 : Etkinlikleri çözerken kitaptan ya da defterden bakılmayacak.

Madde 3 : Veli olarak her sayfayı bitirdiğinde çocuğunuzla vakit geçirerek doğru ve yanlışlarını kontrol ediniz.

Madde 4 : Boş bırakılan soruları ya da yanlış yapılan soruları çözüm süresi bitince kitap ve deftere bakarak kontrol edebilirsiniz.



Verilen sayfalar yapıldığında başındaki yıldızı boyayınız.



Verilen sürede yaptıysa başındaki yıldızı boyayınız.

1. Gün	2. Gün	3. Gün	4. Gün
Pazar	Pazartesi	Salı	Çarşamba
 Sayfa : 2-5	 Sayfa : 6-9	 Sayfa : 10-13	 Sayfa : 14-17
 Süre : 90 dk	 Süre : 90 dk	 Süre : 90 dk	 Süre : 90 dk
5. Gün	6. Gün	7. Gün	8. Gün
Perşembe	Cuma	Cumartesi	Pazar
 Sayfa : 18-21	 Sayfa : 22-25	 Sayfa : 26-29	 Sayfa : 30-33
 Süre : 90 dk	 Süre : 90 dk	 Süre : 90 dk	 Süre : 90 dk
9. Gün :	 Sayfa : 34-37	 Süre : 50 dk	

1.
Gün

FUFUK KASIM TATİLİ

Ad :

Soyad :

Kasım Tatili Çalışma Kitapçığı

Türkçe

ETKİNLİK


1 Aşağıdaki sözcükleri örnekteki gibi alfabetik sıraya göre sıralayınız.



1	2	3	4	5	6
3 kitap	Bursa	kolay	Adana	mavi	balık
1 büyü	Burak	kol	Adam	martı	balina
4 kule	Bırak	kola	Acılı	mart	bal
2 define	Bora	koli	Adalı	mayıs	balkon

ETKİNLİK

2 Görselleri verilen hayvanların isimlerini sözlük sırasına göre sıralayınız.



ETKİNLİK

3 Aşağıda verilen cümlelerde nokta yanlış kullanılmıştır. Düzeltip doğrusunu tekrardan yazınız.



Prof. Doktor. Ufuk hastaneye geldi.

Ablam 23. Nisan'da doğdu.

Mutfakta anneme yardım. ettim

Son sınavda 75. puan aldım.

Fufuk, 8. kişilik yarışmada 5 oldu.

M.E.B. okulları tatil etti.

4

Aşağıda verilen sözcüklerin eş anlamlarını yanlarına yazınız.



neden =	doktor =	cümle =
mısra =	okul =	sözcük =
il =	ev =	rüzgar =
tören =	zaman =	yanıt =
yıl =	savaş =	yaşlı =
yüzyıl =	millet =	fakir =
vatan =	isim =	fayda =

5

Aşağıda verilen sözcüklerin zıt anlamlarını yanlarına yazınız.



güzel x	akşam x	kuzey x
zengin x	çalışkan x	doğu x
dost x	bayat x	boş x
yakın x	acı x	doğru x
yaşlı x	hızlı x	iç x
kirli x	savaş x	yukarı x
kolay x	uzun x	zayıf x

6

Aşağıda verilen sözcüklerin farklı anlamlarını kullanarak 2 cümle yazınız.



← yüz →

← çay →

← ben →

← at →



1 Aşağıda verilen bilgilerden doğru olanların başındaki kutucuğa "D" harfi yanlış olanların başındaki kutucuğa "Y" harfi yazınız.



Kayaçlar zamanla deniz ve göle dönüşür.

Canlılar sadece yer kabuğunda yaşar.

Ağaçlarda da Fosil bulunabilir.

Kayaçların yapısında mineraller ve tuz vardır.

Camlar bor mineralinden yapılır.

Fosil oluşumu en fazla 10 ay sürer.

2 Aşağıda verilen bilgileri okuyup uygun olan yere örnekteki gibi tik işareti yapınız.



	Kayaç	Maden	Fosil
Ekonomik değeri olan taş ve minerallerdir.		✓	
Yapısında mineral bulunan kaya ve taş parçasıdır.			
Canlıların taşlaşmış kalıntılarıdır.			
Altın, gümüş ve alüminyum gibi örnekleri vardır.			
Dinozor kemikleri gibi örnekleri vardır.			
Magmanın soğuyup katılaşması ile oluşmuştur.			
Maden ocaklarında işlenir.			
Paleontolog inceleme yapar.			
Rastlantıya bağlı bir süreci kapsar.			
Günlük hayatta çok fazla kullanırız.			

1.

GÜN

FUFUK KASIM TATİLİ

Ad :

Soyad :

Kasım Tatili Çalışma Kitabı



Eğlence



ETKİNLİK

1

Aşağıda verilen tabloyu kodlara uygun şekilde doldurunuz.



	1	2	3
A			
B			
C			
D			

A2 Ufuk

D1 Can

B3 Elif

A3 Cem

C1 Ela

B1 Berk

B2 Merve

D2 Buse

D3 Ebru

C3 Aslı

C2 Emre

A1 Oya

	1	2	3
A			
B			
C			
D			

D1 aslan

A2 kedi

B2 kaplan

D2 köpek

A3 arı

C3 fare

D3 ayı

B1 eşek

A1 yılan

C2 inek

C1 kuş

B3 tavuk

	1	2	3
A			
B			
C			
D			

C3 peynir

B1 fındık

A2 zeytin

C2 ceviz

D1 süt

B2 badem

B3 yoğurt

D3 pekmez

A1 et

A2 bal

C1 balık

D2 su

2.**Gün****FUFUK KASIM TATİLİ****Matematik**

Ad :

Soyad :

Kasım Tatili Çalışma Kitabı

ETKİNLİK**1** Aşağıda boş bırakılan yerleri doldurunuz.

Sayı	73 509				
Bölük Adı	Binler		Binler		
Basamak Adı	On Binler	Binler	Yüzler	Onlar	Birler
Rakamların Basamak Değeri					
Okunuşu					

Sayı	47 160				
Bölük Adı	Binler		Binler		
Basamak Adı	On Binler	Binler	Yüzler	Onlar	Birler
Rakamların Basamak Değeri					
Okunuşu					

Sayı	52 030				
Bölük Adı	Binler		Binler		
Basamak Adı	On Binler	Binler	Yüzler	Onlar	Birler
Rakamların Basamak Değeri					
Okunuşu					

Sayı	28 006				
Bölük Adı	Binler		Binler		
Basamak Adı	On Binler	Binler	Yüzler	Onlar	Birler
Rakamların Basamak Değeri					
Okunuşu					

ETKİNLİK**2** Aşağıda verilen sayılardan başlayıp yüzer yüzer ileriye doğru sayınız.

2730 - - - - - -

3800 - - - - - -

6587 - - - - - -

ETKİNLİK**3** Aşağıda verilen sayılardan başlayıp biner biner ileriye doğru sayınız.

2530 - - - - - -

3640 - - - - - -

2587 - - - - - -

4 Aşağıda verilen doğal sayıları en yakın onluğa ve en yakın yüzlüğe yuvarlayınız.



En Yakın
Onluğu

Sayı

En Yakın
Yüzlüğü

En Yakın
Onluğu

Sayı

En Yakın
Yüzlüğü

1 254

531 5

3027

1 796

41 32

2997

2588

4034

4209

3098

5 Aşağıda verilen sayıları sembol kullanarak büyükten küçüğe sıralayınız.



238 025

236 965

109 563

190 020

219 005

301 206

206 301

306 201

301 102

306 102

78 260

87 620

78 620

87 260

103 010

6 Aşağıda verilen sayıları sembol kullanarak küçükten büyüğe sıralayınız.



47 654

46 754

54 467

47 564

54 647

465 321

546 231

456 456

465 213

465 312

2.**Gün****FUFUK KASIM TATİLİ**

Ad :

Soyad :

Kasım Tatili Çalışma Kitabı

Sosyal Bilgiler**ETKİNLİK**

1 Aşağıda verilen bilgilerden doğru olanların başındaki kutucuğa "D" harfi yanlış olanların başındaki kutucuğa "Y" harfi yazınız.



Kimlik kartı parayla satılır.



Yeni kimlik kartının süresi 10 yıldır.



Çocuklara kimlik verilmez.



Kimlik kartı sadece Türkiye'de geçerlidir.



18 yaşını geçince kimlik alınır.



İkiz kardeşlerin T.C. kimlik numarası aynıdır.

ETKİNLİK

2 Aşağıda çocukların verdiği bilgilere göre eski kimlik mi yeni kimlik mi kullandıklarını bulunuz.



Kan gurubum kimliğimde yazmıyor.



Kimliğimin son kullanma tarihi var.



Kimliğimde cinsiyetimin yazıyor.



Kimliğimde elektronik çip (yonga) vardır.

ETKİNLİK

3 Yeni kimliğin ön yüzünde bulunanların başındaki kutucuğa "Y" eski kimliğin ön yüzünde bulunanların başındaki kutucuğa "E" harfi yazınız.



anne adı

uyruğu

baba adı

imzası

doğum yeri

son geçerlilik tarihi

ETKİNLİK

4 Yeni kimliğin arka yüzünde bulunanların başındaki kutucuğa "Y" eski kimliğin arka yüzünde bulunanların başındaki kutucuğa "E" harfi yazınız.



anne adı

medeni hali

baba adı

il

çip

veriliş tarihi

2.**Gün****FUFUK KASIM TATİLİ**

Ad :

Soyad :



Kasım Tatili Çalışma Kitapçığı



Oku Anla Yap

**ETKİNLİK****1**

Aşağıda verilen yönergeleri sırası ile okuyup yapınız.



- 1 Penguenin soluna kuş çiz.
- 2 Filin soluna adını yaz.
- 3 Çerçevenin sağ alt köşesine soyadını yaz.
- 4 Tavşanı 2 farklı renk kullanarak boy.
- 5 Maymunu 2 farklı renk kullanarak boy.
- 6 Maymunun altına bir tane taşıt çiz.
- 7 Kaplumbağanın üzerine bir tane okul eşyası çiz.
- 8 Adının altına üçgen çiz.
- 9 Soyadının üzerine çember çiz.
- 10 Kaplumbağanın soluna yazılıdan aldığın en yüksek notu yaz.
- 11 Kuşun altına yaşını yaz.
- 12 Adını kurşun kalemle yuvarlak içine al.
- 13 Boyamadığın hayvanları kırmızı kalemle yuvarlak içine al.

3.**Gün****FUFUK KASIM TATİLİ**

Türkçe

Ad :

Soyad :

Kasım Tatili Çalışma Kitabı

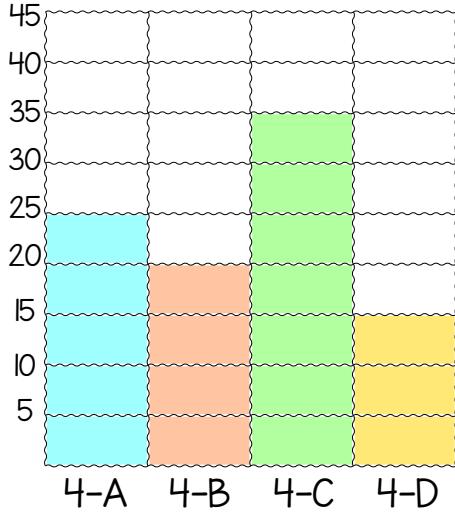
ETKİNLİK

1 Aşağıda verilen cümleleri okuyunuz. İfadeler gerçekse başındaki kutucuğa "G" hayal ürünü ise başındaki kutucuğa "H" harfi yazınız.

- ☐ Annem uçan süpürge ile teyzemlere gitti.
- ☐ Dünya Güneş'in peşinden koşuyor.
- ☐ Bulutlar dans ederek gökyüzünde dolaşıyordu.
- ☐ Babam sinirlenince arabanın camını kırdı.
- ☐ Aslan ayakkabılarını giyip hızlıca koştu.
- ☐ Gökyüzündeki yıldızlar çok parlaktı.

ETKİNLİK

2 Aşağıda Atatürk ilkokulunda 4. sınıfa giden öğrencilerin şube dağılımını gösteren tablo verilmiştir.



4. Sınıfa giden toplam kaç öğrenci vardır?



En fazla ve en az öğrenci hangi şubede vardır?



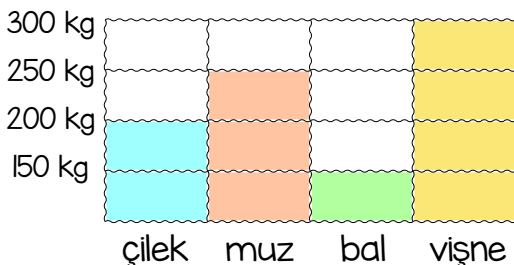
4-B sınıfındaki öğrencilerin çeyreği kaç öğrencidir?



30 öğrenciden fazla olan şubeler hangisidir?

**ETKİNLİK**

3 Aşağıda dondurmacının ürettiği dondurma çeşitleri ve miktarları gösteren tablo verilmiştir.



Dondurmacı toplam kaç kg dondurma üretiyor?



Dondurmacı kaç kg daha bal üretirse muz ile eşit olur?





4 Aşağıda verilen durumlardan hangisi noktanın kullanım alanı ise başındaki kutucuğu işaretleyiniz.

Özel isimlere gelen ekleri ayırmak için kullanılır.

Saat ile dakika arasına yazılır.

Sevinç, korku ve heyecan gibi cümlelerin sonuna yazılır.

Gün ay ve yıl arasına rakamla yazıldığında kullanılır.

Sıra bildiren sayıların yanına yazılır.

Bazı kısaltmalardan sonra kullanılır.



5 Aşağıda verilen cümlelerde nokta yanlış kullanılmıştır. Düzeltip doğrusunu tekrardan yazınız.

Sabah 07.30.da İzmir'e gitti.

Ela 27. Mayıs tarihinde doğdu.

Prof. Doktor. Ahmet hastaneye geldi. Sınıfta 3. kişi 100. puan aldı.


Akşam eve gelince. ders çalıştı

M.E.B. okulların tatil olduğunu söyledi.

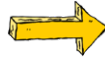


6 Aşağıda verilen virgölün kullanım alanları ile ilgili örnek cümle yazınız.

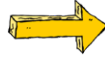
Birbiri ardınca sıralanan eş görevli kelimeler arasına konur.



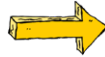
Sıralı cümleleri birbirinden ayırmak için kullanılır.



Hitap için kullanılan kelimelerden sonra kullanılır.



Uzun cümlelerde iş yapan kişiyi belirten kelimeden sonra kullanılır.



3.**Gün****FUFUK KASIM TATİLİ**

Ad :

Soyad :

Kasım Tatili Çalışma Kitabı

Fen Bilimleri

ETKİNLİK**1** Aşağıda verilen ifadelerde boş bırakılan yerlere uygun sözcükler yazarak cümleyi tamamlayınız.

bir yılda

dolanma

yirmi dört

batıdan doğuya

dönme

Dünya, Güneş etrafında hareketi yapar.

Dünya, kendi etrafında hareketi yapar.

Dünya doğru döner.

Dünya, Güneş etrafındaki bir turu tamamlar.

Dünya kendi etrafında bir turu saatte tamamlar.

ETKİNLİK**2** Aşağıda verilen soruların cevabını bulmacada bulup boyayınız.

Bir yılda kaç mevsim vardır?

Dünya'nın uydusunun adı nedir?

Dünya'nın kaç türlü hareketi vardır?

Artık yılda hangi ay 29 gündür?

Bir hafta kaç gündür?

Rüzgar türbinlerin hareket türü nedir?

A	D	D	S	A	Ş	E
D	Ö	N	E	Y	U	R
A	R	İ	K	İ	B	A
E	T	R	E	B	A	D
Y	E	D	İ	E	T	E
A	D	Ö	N	M	E	R

ETKİNLİK**3** Dünya'nın hareketleri sonucu oluşan durumları eşleştiriniz.

Gece ve gündüz oluşur.

Gece ve gündüz uzunlukları değişir.

Mevsimler oluşur.

Güneş ışınlarının yere düşme açısı gün

Günlük sıcaklık farklarının oluşması.

boyunca değişir.

Gölge boyu gün içinde değişir.

Yerel saat farkları meydana gelir.

Yönler oluşur

Dünya'nın Güneş'e olan uzaklığı değişir.

3.

GÜN

FUFUK KASIM TATİLİ

Ad :

Soyad :

Kasım Tatili Çalışma Kitabı



Eğlence



ETKİNLİK

1 Aşağıda verilen ifadelerde boş bırakılan yerlere uygun sözcükler yazarak cümleyi tamamlayınız.



5	1			6	2
6		3	5		
	5		4	2	1
4		1	2	3	5
2			1	4	

5	1			6	2
6		3	5		
	5		4	2	1
4		1	2	3	5
2			1	4	

5	1			6	2
6		3	5		
	5		4	2	1
4		1	2	3	5
2			1	4	

5	1			6	2
6		3	5		
	5		4	2	1
4		1	2	3	5
2			1	4	

5	1			6	2
6		3	5		
	5		4	2	1
4		1	2	3	5
2			1	4	

5	1			6	2
6		3	5		
	5		4	2	1
4		1	2	3	5
2			1	4	

ETKİNLİK **1** Aşağıda verilen örüntülerin kurallarını bulunuz.

425 - 440 - 455 - 470 - 485

Kural :

230 - 225 - 220 - 215 - 210

Kural :

76 - 96 - 116 - 136 - 156

Kural :

770 - 720 - 670 - 620 - 570

Kural :

ETKİNLİK **2** Aşağıda verilen toplama işlemlerini yapınız.

$$\begin{array}{r} 2369 \\ + 1475 \\ \hline \end{array}$$

$$\begin{array}{r} 1504 \\ + 3096 \\ \hline \end{array}$$

$$\begin{array}{r} 2021 \\ + 1881 \\ \hline \end{array}$$

$$\begin{array}{r} 3245 \\ + 2546 \\ \hline \end{array}$$

$$\begin{array}{r} 3357 \\ + 1745 \\ \hline \end{array}$$

$$\begin{array}{r} 3697 \\ + 2085 \\ \hline \end{array}$$

$$\begin{array}{r} 1024 \\ 1072 \\ + 869 \\ \hline \end{array}$$

$$\begin{array}{r} 1991 \\ 1881 \\ + 205 \\ \hline \end{array}$$

$$\begin{array}{r} 2021 \\ 2012 \\ + 975 \\ \hline \end{array}$$

$$\begin{array}{r} 1278 \\ 5685 \\ + 1225 \\ \hline \end{array}$$

$$\begin{array}{r} 1327 \\ 2782 \\ + 3070 \\ \hline \end{array}$$

$$\begin{array}{r} 2214 \\ 1109 \\ + 3578 \\ \hline \end{array}$$

$$\begin{array}{r} 1741 \\ + 1479 \\ \hline \end{array} \quad \begin{array}{r} \\ + 2078 \\ \hline \end{array}$$

$$\begin{array}{r} 2097 \\ + 1753 \\ \hline \end{array} \quad \begin{array}{r} \\ + 1925 \\ \hline \end{array}$$

$$\begin{array}{r} 3009 \\ + 2095 \\ \hline \end{array} \quad \begin{array}{r} \\ + 1645 \\ \hline \end{array}$$

$$\begin{array}{r} 1327 \\ + 1734 \\ \hline \end{array} \quad \begin{array}{r} \\ + 1952 \\ \hline \end{array}$$

$$\begin{array}{r} 1207 \\ + 2095 \\ \hline \end{array} \quad \begin{array}{r} \\ + 3758 \\ \hline \end{array}$$

$$\begin{array}{r} 3057 \\ + 2586 \\ \hline \end{array} \quad \begin{array}{r} \\ + 1967 \\ \hline \end{array}$$

3 Aşağıda verilen kurallara göre örüntüler oluşturunuz.



Kural : Sayılar 15 artarak devam etmiş.



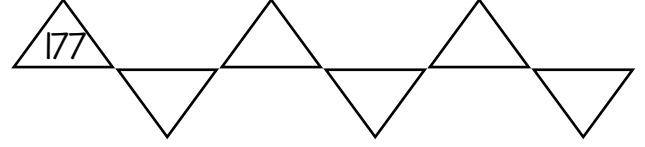
Kural : Sayılar 20 azalarak devam etmiş.



Kural : Sayılar 50 artarak devam etmiş.



Kural : Sayılar 6 artarak devam etmiş.



Sosyal Bilgiler

ETKİNLİK

1 Fufuk'un hayatını okuyunuz. Bu bilgilere göre verilenleri kronolojik sıraya göre sıralayınız.



Ben doğduktan bir yıl sonra annem işe başladı. Annem işe başladıktan 4 yıl sonra kardeşim doğdu. Ben doktor olmadan 2 yıl önce babam yeni ev aldı. 2 yıl doktorluk yaptıktan sonra evlendim. Evlenince babam yeni evini bana verdi. Ama ben kabul etmedim.



Annesinin işe başlaması



Babasının ev alması



Fufuk'un doğumu



Fufuk'un doktor olması



Kardeşinin doğumu



Fufuk'un evlenmesi

ETKİNLİK

2 Aşağıda Milli Mücadele savaşları ile ilgili bilgiler verilmiştir. Verilen bilgileri kronolojik sıraya göre sıralayınız.



2. İnönü Savaşı



Sakarya Savaşı



Büyük Taarruz



I. İnönü Savaşı



İzmir'in düşmanlardan kurtuluşu



Kütahya-Eskişehir Savaşı

ETKİNLİK

3 Aşağıda çocukların doğum tarihleri verilmiştir. Buna göre çocukların yaşlarını kronolojik sıraya göre sıralayınız.



Ben Burcu. 05.05.2009'da doğdum.



Ben Ebru. 09.09.2008'de doğdum.



Ben Ela. 10.08.2012'de doğdum.



Ben Merve. 24.12.2010'da doğdum.

Adı	Doğum Tarihi

4.

GÜN

FUFUK KASIM TATİLİ

Ad :

Soyad :

Kasım Tatili Çalışma Kitabı

Oku Anla Yap

ETKİNLİK


1 Aşağıdaki tabloda işaretli ve yazılı bilgileri kullanarak istenilen cümleyi yazınız.

özel ad	cins ad	eşya	nokta	virgül	soru işareti	ünlem işareti	kesme işareti
Ufuk	masa	okul	✓				✓
Cümle :							
Ela	sınıf	kalem		✓	✓		
Cümle :							
Minnoş	köpek	tasma	✓			✓	
Cümle :							
Tek İlkokulu					✓		✓
Cümle :							
Ökkeş Denizde	baba	kitap	✓	✓			✓
Cümle :							

ETKİNLİK

2 Aşağıdaki yönergeyi sırayla yaparak yandaki boş çerçeveyi doldurunuz.

- ➔ Çerçevenin ortasına küçük e harfi yaz.
- ➔ Çerçevenin sağ üst köşesine adını yaz.
- ➔ Çerçevenin sağ alt köşesine soyadını yaz.
- ➔ "e" harfinin üzerine ağaç çiz.
- ➔ "e" harfinin altına bir hayvan çiz.
- ➔ "e" harfini yuvarlak içine al.
- ➔ Kırmızı kalemle çiçek çiz.
- ➔ Çizdiğin hayvanı 3 farklı renk kullanarak boya.



5.**Gün****FUFUK KASIM TATİLİ**

Türkçe

Ad :

Soyad :

Kasım Tatili Çalışma Kitabı

ETKİNLİK**1** Aşağıdaki boşluklara uygun sözcükler yazarak soru cümlesi yapınız.

Marketten aldı?
Ödevini bitirdin?
..... arabaya binmedin?
Arabaya bindi?
Yeni aldığı araba ?
Akşam bize geldi?

Doktor hastaneye geldi?
Çantam ?
Uçağa en son bindi?
Otobüste yedi?
Köpek, demiri ısırıldı?
..... okula gitmedi?

ETKİNLİK**2** Aşağıdaki tabloyu örnekteki gibi doldurunuz.

Cümle	Soru Cümlesi
Ayşe <u>sabah</u> markete gitti.	Ayşe <u>ne zaman</u> markete gitti?
Ahmet <u>evde</u> piknik yaptı.	
Asker, <u>orduya</u> emir verdi.	
Ali, <u>koşarak</u> okula gitti.	
<u>Çalışmadığı için</u> 20 puan aldı.	
Şapkadan <u>tavşan</u> çıkardı.	

ETKİNLİK**3** Aşağıdaki cümlelerdeki büyük harflerin kullanıldığı yerler ile ilgili yazım yanlışlarını düzelterip cümleyi tekrar yazınız.

Kardeşim sabah izmire gidecek.

Yarın 18 kasım olacak.

Annemin yeni doktoru elif oldu.

Nasa ilk kez marsa insan gönderdi.



4 Aşağıda büyük harfin kullanım alanları ve onlarla ilgili örnekler verilmiştir. Buna göre uygun eşleştirmeyi yapınız.

1 Yer adları	<input type="checkbox"/> Tatilde Hristiyan çocuk gördüm.
2 Hayvanlara verilen adlar	<input type="checkbox"/> 24 kasımda şiir okudum.
3 Din isimleri	<input type="checkbox"/> Bugün Ebru okula gelmedi.
4 Tarih bildiren aylar	<input type="checkbox"/> Satürn, halkası olan tek gezegen.
5 Cümle başında	<input type="checkbox"/> Bursa'da akrabalarım gittim.
6 Gezegen adları	<input type="checkbox"/> Kahvaltıda peynir yedim.
7 Mektuplarda hitap sözcükleri	<input type="checkbox"/> Kedime Mama ismini verdim.
8 İnsan adları	<input type="checkbox"/> Değerli Öğretmenim,



5 Aşağıda büyük harfin kullanım alanları yazmaktadır. Siz de bu alanlara örnek birer cümle yazınız.

- ➡ Cümle büyük harf ile başlar.
- ➡ İnsan adları ve soyadları büyük harf ile başlar.
- ➡ Tarih bildiren ay ve gün adları büyük harf ile başlar.
- ➡ Yıldız ve Gezegen isimleri büyük harf ile başlar.
- ➡ Hayvanlara verilen isimler büyük harf ile başlar.
- ➡ Yer adları büyük harf ile başlar.

5.**Gün****FUFUK KASIM TATİLİ**

Ad :

Soyad :

Kasım Tatili Çalışma Kitabı

Fen Bilimleri

ETKİNLİK**1** Aşağıda verilen kavramlardan uygun olanları işaretleyiniz.**canlı**

ot

Ahmet

hava

yağlar

tereyağ

karpuz

et

bitki

gül

çilek

altın

mineraller

çinko

ağaç

kalsiyum

hayvan

duvar

ayı

sinek

vitaminler

portakal

kola

fanta

bitkisel besin

balık

fındık

muz

karbonhidrat

su

buğday

çikolata

hayvansal besin

bal

domates

havuç

protein

peynir

yumurta

elma

karbonhidrat

su

makarna

çilek

yağlar

zeytin

fındık

badem

ETKİNLİK**2** Çocukların istediği besin içeriklerine örnek besinler yazınız.

PROTEİN



KARBONHİDRAT



YAĞLAR



VİTAMİNLER



5.

GÜN

FUFUK KASIM TATİLİ

Ad :

Soyad :

Kasım Tatili Çalışma Kitabı



Eğlence



ETKİNLİK

1

Aşağıda verilen harfleri kullanarak istenilen sözcükleri yazınız.



A

K

L

M

E

N

F

R

i

İsim

Hayvan

Eşya

L

A

N

I

Y

R

S

D

U

İsim

Hayvan

Eşya

K

i

D

Ö

P

E

Ç

T

A

İsim

Hayvan

Eşya

6.
Gün

FUFUK KASIM TATİLİ

Ad :

Soyad :

Kasım Tatili Çalışma Kitabı

Matematik

ETKİNLİK

1 Aşağıda verilen çıkarma işlemlerini yapıp şifreyi bulunuz.



$$\begin{array}{r} 3026 \\ -1233 \\ \hline \end{array}$$

L

$$\begin{array}{r} 5689 \\ -2909 \\ \hline \end{array}$$

I

$$\begin{array}{r} 8512 \\ -3548 \\ \hline \end{array}$$

A

$$\begin{array}{r} 7023 \\ -2632 \\ \hline \end{array}$$

F

$$\begin{array}{r} 6674 \\ -1987 \\ \hline \end{array}$$

i

$$\begin{array}{r} 5641 \\ -1278 \\ \hline \end{array}$$

A

$$\begin{array}{r} 3585 \\ -1039 \\ \hline \end{array}$$

A

$$\begin{array}{r} 6028 \\ -3398 \\ \hline \end{array}$$

U

$$\begin{array}{r} 5437 \\ -1928 \\ \hline \end{array}$$

M

$$\begin{array}{r} 4718 \\ -2980 \\ \hline \end{array}$$

U

$$\begin{array}{r} 9634 \\ -5987 \\ \hline \end{array}$$

T

$$\begin{array}{r} 5026 \\ -1985 \\ \hline \end{array}$$

K

$$\begin{array}{r} 6578 \\ -1979 \\ \hline \end{array}$$

i

$$\begin{array}{r} 8000 \\ -3027 \\ \hline \end{array}$$

A

$$\begin{array}{r} 9000 \\ -5209 \\ \hline \end{array}$$

K

$$\begin{array}{r} 5002 \\ -1520 \\ \hline \end{array}$$

T

$$\begin{array}{r} 4006 \\ -1139 \\ \hline \end{array}$$

R

$$\begin{array}{r} 6543 \\ -3569 \\ \hline \end{array}$$

S

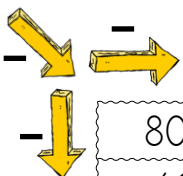
F

2630 4391 1738 3791


3045 4973 2974 2780 3509

2546 2867 4363

3482 4964 3647 4599 1793 4687



8024	5632	
4127	3955	



6325	2957	
4509	3698	

1 Soru

206 405 doğal sayısının birler bölümünden binler bölümünü çıkarırsak sonuç kaç olur?

Çözüm:

5 Soru

Fırıncı 4508 simitten 2036 simidi sabah sattı. Geriye kalan simidi akşam sattı. Buna göre akşam kaç simit satmıştır?

Çözüm:

2 Soru

623 237 doğal sayısının binler bölümündeki "3" rakamı yerine "2" rakamını yazarsak sonuç kaç değişir?

Çözüm:

6 Soru

Ali, çiftliğinde günde 870 litre süt elde ediyor. 540 litresi ile peynir yapıyor 245 litresi ile yoğurt yapıyor. Buna göre geriye kaç litre sütü kalıyor?

Çözüm:

3 Soru

www.ufukkoca.com

2300 TL parası olan işçi günde 100 TL kazanmaktadır. 8 gün sonra toplam kaç parası olur?

Çözüm:

7 Soru

En yakın onluğu 2 780 olan rakamları farklı en büyük doğal sayıdan 2098 çıkarırsak sonuç ne olur?

Çözüm:

4 Soru

4500 liraya televizyon alan babam 2500 lirasını eylül ayında vermiştir. Her ay bin lira vereceğine göre borcu hangi ayda bitmiştir?

Çözüm:

8 Soru

En yakın onluğu 3 420 olan rakamları farklı en büyük doğal sayıya 3689 eklersek sonuç kaç olur?

Çözüm:

1 Aşağıda verilen ifadeler doğru ise soldaki kutunun içindeki harfi yanlış ise sağdaki kutunun içindeki harfi şifreli kutuya yazarak şifreyi bulunuz.

S T Bizim gibi düşünmeyen insanlara saygılı olmalıyız.

A O Başka ülkelerdeki çocukları kötülemeliyiz.

S T Bir insan farklılıkları sebebi ile dışlanmaz.

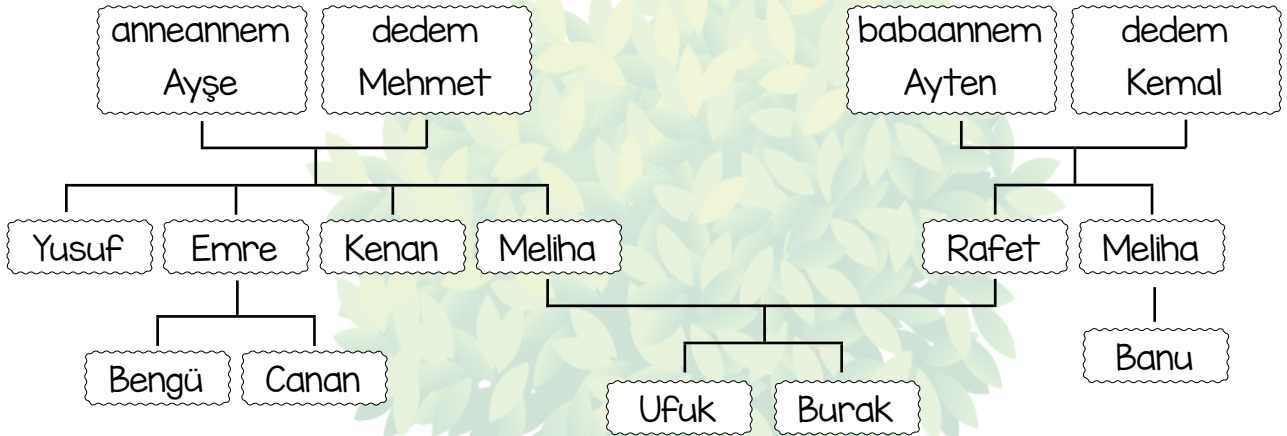
Y M Bedensel engelli olmak eksiklik değil farklılıktır.

E A Çalışkan insanlar diğer insanlara göre daha üstündür.

L N Farklı dinlere karşı saygılı olmalıyız.

ŞİFRE :

2 Aşağıda verilen soy ağacına göre soruları cevaplayınız.



1) Bengü'nün amcalarını yazınız.

2) Ufuk'un kuzenlerini yazınız.

3) Mehmet'in çocuklarını yazınız.

4) Meliha, Canan'ın nesi olur yazınız.

5) Burak'ın dayılarını yazınız.



1 Aşağıda verilen ifadeler doğru ise soldaki kutunun içindeki harfi yanlış ise sağdaki kutunun içindeki harfi şifreli kutuya yazarak şifreyi bulunuz.



İçime bir güneş gibi,
Doğan sensin öğretmenim.
Kalbime bir yağmur gibi,
Yağan sensin öğretmenim.

İlim saçarak cehaleti,
Boğan sensin öğretmenim.
Kötülüklerin önüne seti,
Koyan sensin öğretmenim.

Toplayarak tek tek rakamları,
Sayan sensin öğretmenim.
Geçmişteki tüm yaşananları,
Yayan sensin öğretmenim.

Kendini verdin yeniliklere,
Çalışan sensin öğretmenim.
Tüm zorluklara sabır ile,
Alışan sensin öğretmenim.

Nice ihtişamlı zaferleri,
Anlatan sensin öğretmenim,
Tarihimizdeki neferleri,
Yetiştirensin öğretmenim.

Ne zaman rahat yatacağın.
Hayattaki çabamsın öğretmenim,
Daha bana ne yapacağın,
Anam babamsın öğretmenim.

Osman Ali AYDIN

Soru 1 : Şiire uygun bir başlık yazınız.

Soru 2 : Şiir kaç kıtadan oluşmaktadır?

Soru 3 : Şiir kaç dizeden oluşmaktadır?

Soru 4 : Şiirde bir kıtayı çıkarmak istesen hangisini çıkarırdın? Neden?

Soru 5 : Şiirin ana duygusu nedir?

Soru 6 : Şair öğretmeni neye benzetmiş?

Soru 7 : Şiire göre öğretmen neyi anlatmış?

Soru 8 : Şiire göre öğretmen kötülüklerin önüne ne koymuştur?

Soru 9 : Şiire göre tarihimizdeki neferleri kim yetiştiriyormuş?

Soru 10 : Şiire göre öğretmen tüm zorluklara nasıl alışmış?

Soru 11 : Şiire göre öğretmen cehaleti nasıl boğmuş?

1 Aşağıda verilen noktalama işaretlerinin isimlerini anlamları ile eşleştiriniz.



1 Nokta

Korku, heyecan belirten cümle veya ibarelerden sonra kullanılır.

2 Ünlem İşareti

Soru bildiren cümlelerin sonuna konur.

3 Soru İşareti

Sıra bildiren sayıların yanına konur.

4 Virgül

Özel adlara gelen ekleri ayırmak için konur.

5 Kesme İşareti

Eş görevli kelimeler arasına konur.

2 Aşağıda noktalama işaretleri ile ilgili yanlışlıklar yapılmıştır. Doğrusunu bulup tekrar yazınız.



Ufuk,un kardeşi bize geldi?

Koşa koşa gidersen yorulursun?

Atatürk İlkokulu'na gidiyorum,

Dünya' Mars ve Venüs gezegendir.

Dersler 08:30'da başlıyor.

Yarışmada 5, olan Ayşe çok sevindi"


Öğretmenler otobüsle gittiler,

Konya'dan arkadaşım geldi,

Dur? Ne yapıyorsun!

12 Kasım'da tatil başladı?

3 Aşağıdaki görsellere bakarak deymi tahmin etmeye çalışın. Daha sonra deymi öğrenip anlamını yazdıktan sonra cümle içinde kullanınız.



➡ Tahminim

➡ Deyim

➡ Deyimin anlamı

➡ Örnek cümlem

.....

4 Aşağıdaki soruları görsele göre cevaplayınız.



➡ Resimde hangi bayram kutlanıyor olabilir?

➡ Resimde kaç tane ay resmi vardır?



➡ Resim hangi mevsimde olmuş olabilir?

➡ Resimdeki çocuklar ne yapıyor?



➡ Resimdeki adamın mesleği nedir?

➡ Resimdeki adam bu mevsimde neler satıyor olabilir?



➡ Resimde kaç tane canlı varlık vardır?

➡ Resimde köpeği nereye getirmiş olabilirler?

7.**Gün****FUFUK KASIM TATİLİ**

Ad :

Soyad :

Kasım Tatili Çalışma Kitabı

Fen Bilimleri

ETKİNLİK**1** Aşağıda verilen boşlukları başlıklara uygun doldurunuz.**BESİNLER**

Kaynaklarına Göre

İçeriklerine Göre

Görevlerine Göre

ETKİNLİK**2** Aşağıda su ile ilgili bilgiler verilmiştir. Doğru olan ifadelerin başındaki kutucuğu işaretleyelim.

Vücut ısısını ayarlar.

Kandaki maddelerin taşınmasına sağlar.

Enerji verir.

Düzenleyicidir.

Vücudun %70'i sudur.

Bütün besinlerde su vardır.

Su içmeden yaşayamayız.

Su katı bir besindir.

ETKİNLİK**3** Aşağıda su ile ilgili bilgiler verilmiştir. Doğru olan ifadelerin başındaki kutucuğu işaretleyelim.

Düzenleyicidir.

Kalsiyum mineralleri kemikleri güçlendirir.

Bitkiler mineralleri topraktan alır.

Yaraların iyileşmesine yardım eder.

Hayvanlar mineralleri topraktan alır.

Bütün besinlerde mineral vardır.

Organların düzgün çalışmasını sağlar.

Mineral katı bir besindir.

7.**GÜN****FUFUK KASIM TATİLİ**


Ad :

Soyad :

Kasım Tatili Çalışma Kitabı



Eğlence

**ETKİNLİK****1** Aşağıda verilen resimleri bulunuz.

GÜN

Matematik

Soyad :

556 TL

2 Aşağıda verilen bilgilerle ilgili problem yazınız ve aşağıdaki problemleri cevaplayınız.



Verilen :



Fufuk



sabah 3655 bardak sattı.

akşam 2089 bardak sattı.


Soru :

Cevap :

Verilen :



çiftlik



249
inek



ineklerden
308 fazla koyun

Soru :

Cevap :

1 Soru

Bir araba 4058 kilometrelik yolun 1. gün 709 km, 2. gün ise 1026 km yol gitmiştir. Geriye kaç kilometrelik yolu kalmıştır?

Çözüm:

3 Soru

Ufuk, her gün bir önceki günden 5 sayfa fazla kitap okuyor. İlk gün 42 sayfa kitap okuduğuna göre 3. günün sonunda toplam kaç sayfa kitap kumuştur?

Çözüm:

2 Soru

Bahçemizde 725 tane gül, güllerden 75 fazla lale, lalelerden 86 eksik menekşe vardır. Buna göre bahçemizde toplam kaç çiçek vardır?

Çözüm:

4 Soru

Selim sabah sporunda 650 metre, akşam sporunda 550 metre koşuyor. 2 günde toplam kaç metre koşmuş olur?

Çözüm:

8.**Gün****FUFUK KASIM TATİLİ**

Ad :

Soyad :

Kasım Tatili Çalışma Kitabı

Sosyal Bilgiler**ETKİNLİK****1** Aşağıda verilen olayları kronolojik sıraya göre sıralayınız.☐ Gümürü Antlaşması☐ Çanakkale Savaşı☐ I. İnönü Savaşı☐ İzmir'in kurtuluşu☐ Büyük Taarruz☐ Mudanya Ateşkes Antlaşması☐ Erzurum Kongresi☐ TBMM Kuruluşı☐ Atatürk'ün Samsun'a çıkışı☐ Amasya Kongresi☐ Mondros Ateşkes Antlaşması☐ Trablusgarp Savaşı**ETKİNLİK****2** Aşağıdaki çoktan seçmeli soruları cevaplayınız.**1** Atatürk'ün katıldığı ilk savaş aşağıdakilerden hangisidir?**3** Atatürk Samsun'a ayak bastıktan sonra ilk hangi şehre gitti?

- A) Çanakkale Savaşı
- B) Trablusgarp Savaşı
- C) Sakarya Meydan Muharebesi
- D) I.Dünya Savaşı

- A) Amasya
- B) Erzurum
- C) Sivas
- D) Havza

2 Hangisi Güney Cephesi'ndeki kahramanlarımızdan biri değildir?**4** Atatürk hangi savaşta mareşal rütbesini aldı?

- A) Tayyar Rahime
- B) Sütçü İmam
- C) Şahin Bey
- D) Yörük Ali Efe

- A) Büyük Taarruz
- B) Sakarya Meydan Muharebesi
- C) Eskişehir-Kütahya Savaşı
- D) Çanakkale Savaşı

8.

GÜN

FUFUK KASIM TATİLİ

Ad :

Soyad :

Kasım Tatili Çalışma Kitapçığı




Eğlence



ETKİNLİK



1 Aşağıda verilen olayları kronolojik sıraya göre sıralayınız.





FUFUK'UN BOYU



Fufuk, akşam yemeğinden sonra babasının aldığı defterlere etiket yapıştırdı. Etiketlere adını, soyadını, sınıfını ve numarasını yazdı. Böylece defteri diğer arkadaşları ile karışmayacaktı.

Fufuk çantasını hazırladıktan sonra herkese iyi geceler diyip yatağına yattı.

Fufuk sabah erken kalktı. Elini yüzünü yıkadıktan sonra kahvaltı yaptı. Odasına gidip kıyafetlerini giydi. Çantasını takıp evden çıktı.

Fufuk, okulun ilk günü olduğu için çok heyecanlıydı. Boyu uzamış daha güçlü olmuştu. Acaba "Arkadaşlarımla da boyu uzadı mı?" diye merak ediyordu. Koşarak okula gitti. İlk Aslı'yı gördü. Hemen yanına gidip boyunu ölçmeye başladı.

- Aslı bak. Senin boyun benden kısa. Hiç büyümemişsin.

- Fufuk, benim boyum geçen sene de senden kısaydı. Hatta şimdi aramızdaki boy farkı daha az.

Aslı'nın söyledikleri Fufuk'un kafasını karıştırmıştı. Boy farkı daha az demek ne demekti? Daha sonra kapıda Kerem'i gördü. Yanına gitti. Kerem'in de boyunu ölçtü. Kerem ile aynı boyda olduğunu görünce şaşırdı. Kerem, Fufuk'un neden bu kadar şaşırdığını anlayamadı.

- Kerem geçen sene ben senden uzundum. Bu sene ise boyum daha da uzadı. Şimdi aynı boydayız. Bu nasıl olur?

Kerem gülererek cevapladı:

-

Zil çaldı. Öğrenciler boy sırasına göre bahçede sıra oldular. İstiklal Marşı'nı okuyup içeri girdiler. Öğretmen, yaz tatilinde ne yaptıklarını sordu. Öğrenciler sırayla cevap verdiler, ders bitince teneffüye çıktılar.

Fufuk teneffüye çıkınca bahçede durmadan zıpladı. Bunu gören arkadaşları yanına gittiler. Merve:

- Fufuk, neden durmadan zıplıyorsun?



FUFUK Etkinlik

1

- 1) Fufuk, defterine **ne** yapıştırdı?
- 2) Fufuk **ne zaman** herkese iyi geceler dedi?
- 3) Fufuk **neden** çok heyecanlıydı?
- 4) Fufuk okula **nasıl** gitti?



FUFUK Etkinlik

2

- 1) Fufuk kıyafetlerini giydikten sonra ne yaptı?

A) Dişlerini fırçaladı	B) Çantasını taktı
C) Elini yüzünü yıkadı	D) Uyudu
- 2) Fufuk, etiketlere hangisini yazmamıştır?

A) sınıfını	B) numarasını
C) adını	D) yaşını
- 3) Hangi sözcüğün eş anlamı metinde yoktur?

A) aş	B) konut
C) rüya	D) elbise



FUFUK Etkinlik

3

Metinde boş bırakılan yeri metne uygun olacak şekilde doldurunuz.



FUFUK Etkinlik

4

Metne yeni bir başlık yazınız.



FUFUK Etkinlik

5

Metinde zıt anlamı olan 6 tane sözcük bulup zıt anlamını kutucuklara yazınız.



FUFUK Etkinlik

6

Metinle ilgili 2 soru da siz yazıp cevaplayınız.

Soru 1 :

Cevap:

Soru 2 :

Cevap:



FUFUK Etkinlik

7

Aşağıdaki ifadeleri okuyunuz. Doğru olanların başındaki kutucuğa "D" yanlış olanların başındaki kutucuğa "Y" harfi yazınız.

Etiketleri Fufuk'a annesi aldı.

Fufuk, okulda ilk Aslı'yı gördü.

Fufuk, Kerim'den uzundur.



CUMHURİYET



Duyuyorum hep adını
Bilmiyorum tadını
Şeker mi yoksa bal mı?
Bir çalışkan arı mı?

Kucaklar hepimizi.
Kalbimizde birinci.
Özgürce ve güvenle
Yaşamamın sevinci.

Ne demek cumhuriyet?
Neden bize emanet?
Çiçek midir güneş mi?
Çocukları sever mi?

İşte o cumhuriyet
Atatürk'ten emanet
Bizimle büyüyecek
Durmadan güçlenecek.

Çiçek ama hiç solmaz,
Güneş ama hiç batmaz.
Hem çocuktur hem büyük,
Ülkemiz onsuz olmaz.

Tülin Aygöl Çınar



FUFUK Etkinlik

1

1) Şair neyin tadını bilmiyor?

3) Cumhuriyet kimi kucaklar?

4) Cumhuriyet bize kimden emanet?



FUFUK Etkinlik

2

1) Aşağıdaki sözcüklerden hangisi şiirde yoktur?

A) şeker
C) reçel

B) çiçek
D) güneş

2) Şiir kaç kıta ve dizeden oluşmaktadır?

A) 5 dize 20 kıta
C) 4 dize 16 kıta

B) 20 dize 5 kıta
D) 16 dize 4 kıta

3) Şiirin ana duygusu nedir?

A) Anne sevgisi
B) Çocuk sevgisi
C) Orman sevgisi
D) Cumhuriyet sevgisi

4) Şiirde hangi sözcüğün eş anlamı yoktur?

A) isim
C) küçük

B) yürek
D) kuvvetli



FUFUK Etkinlik

3

Şiire bir dördlük de siz yazınız.



FUFUK Etkinlik

4

Şiire yeni bir başlık yazınız.



FUFUK Etkinlik

5

Şiirde zıt anlamı olan 4 tane sözcük bulup zıt anlamını kutucuklara yazınız.



FUFUK Etkinlik

6

Şiirle ilgili 2 soru da siz yazıp cevaplayınız.

Soru 1 :

Cevap:

Soru 2 :

Cevap:



FUFUK Etkinlik

7

Aşağıdaki ifadeleri okuyunuz. Doğru olanların başındaki kutucuğa "D" yanlış olanların başındaki kutucuğa "Y" harfi yazınız.

Cumhuriyet çiçektir.

Cumhuriyet yarışmada birincidir.

Şiiri Tülin Aygül Çınar yazmıştır.

KASIM ARA TATİLİNDE **DEYİM** VE **ATASÖZLERİNİ** EĞLENREK ÖĞRENSİNLER.

FUFUK İLE DEYİM VE ATASÖZÜ BOYUYORUM



5 KİTAP 22 TL

Her kitaba özel Değerlendirme Kitapçığı

1.Sınıf 2.Sınıf
3.Sınıf 4.Sınıf

WhatsApp Sipariş
0 552 252 83 85

Toplu Alım Fiyatıdır



**Kitap
Tanıtımı
İzlemek
için
TIKLA**



DEYİM

Ağızla kuş tutmak

Deyim Anlamı

Çok becerikli olmak.


Örnek Cümle

Fufuk, arkadaşı ile başmak istiyor ama arkadaşı ağızla kuş tutsan başmam diyordu.

Örnek Cümle

Tahminim

www.ufukkoca.com 3 FUFUK Yayınları



DEYİM

Etekleri zil çalmak

Deyim Anlamı

Çok sevinmek.

Örnek Cümle

Fufuk, sınavdan 100 aldığı öğrenince etekleri zil çaldı.

Örnek Cümle

Tahminim

www.ufukkoca.com 5 FUFUK Yayınları

Tekli Alım Fiyatımız = **30 TL** Kargo ücretsiz.

Toplu Alım Fiyatımız = **22 TL** Kargo ücretsiz.

Toplu alım için **en az 20** set olması gerekir.

Whatsapp Sipariş : 0 552 252 83 85