

ÜSTÜN BA ARILAR D LER Z.

1. Read the dialogue.



Choose the correct answer.

- A) Sit down, please
- B) Give me the baby, please
- C) Sorry, not right now
- D) Stay in the line

2.

Kayra, güneşli bir günde Türk bayrağının gölgesini gözlemliyor. Bayrağın gölgesini gün içinde farklı zaman dilimlerinde, farklı yerlerde ve farklı büyüklükte görüyor.



Bu durumun sebebi aşağıdakilerden hangisidir?

- A) Güneş'in sürekli hareket etmesi
- B) Gölgelelerin aynı anda birçok yerde olabilmesi
- C) Dünya'nın Güneş etrafında dolanması
- D) Dünya'nın kendi eksenini etrafında dönmesi

3.

Ela, aşağıdaki tabloda hoşgörölü bir insan ile ilgili doğru bilgilerin bulunduđu kutuları mavi renge boyamıştır.

Farklı düşüncelere karşı saygılı olur.	Farklılıkları engellemeye çalışır.
Bireysel farklılığı olan kişileri dışlar.	Farklılıkların doğal olduğunu kabul eder.

Buna göre Ela aşağıdaki şekillerin hangisini elde eder?

A)

B)

C)

D)

YOUTUBE KANALIMIZ:
İSMAİL HOCA
İLE
FEN BİLİMLERİ

4. Aşağıdaki bulmacada; zıt anlamlısı olan sözcüklerin soldan sağa doğru üzerini çiziniz. Kalan harfleri şifre kutusuna yazınız.

Buna göre şifredeki sözcüğün zıt anlamlısı hangi seçenekte doğru verilmiştir?

Bulmacanın yönü: Soldan Sağa →

Y	K	Ö	T	Ü	
K	İ	R	L	İ	A
Ş	Ü	Z	G	Ü	N
A	Ç	İ	K		L
İ	L	E	R	İ	İ

ŞİFRE

--	--	--	--	--

- A) Güzel
C) Kalp

- B) Mutlu
D) Genç

5.



Elif ile Mehmet'in söylediği ifadeler, aşağıdaki kavramlardan hangilerinin anlamıdır?

- | | |
|-----------------------|------------------------|
| A) Tekbir - Salavat | B) Salavat - Sübhaneke |
| C) Tekbir - Sübhaneke | D) Salavat - Selam |

6.

Devamlı Kesintili	Duru Berrak	Beden Vücut	Detay Ayrıntı
Çabuk Acele	Yaşlı Genç	Şart Koşul	Konuk Misafir

Yukarıdaki tabloda eş anlamlı kelimelerin olduğu kutucuklar boyandığında tablonun görünümü nasıl olur?


A)

B)

C)

D)

7.



Bulutların üzerinde verilen sayıların toplamı 9900 olduğuna göre sarı renkli bulutun üzerine aşağıdakilerden hangisi getirilmelidir?

A) 1068

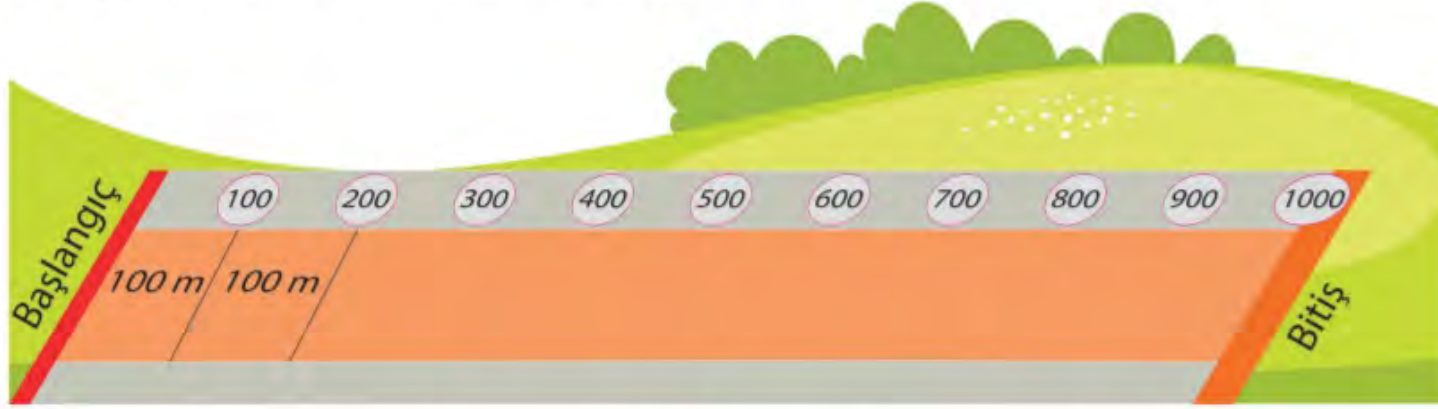
B) 1089

C) 1122

D) 1130

8.

1000 m uzunluğundaki yolun her 100 m'sinde bir dinlenme halkası vardır. Bu halkaların içine başlangıç çizgisine olan uzaklıkları yazılmıştır.



Öğrencileriyle bu yolda yürüyüş yapan Kerim Öğretmen bir oyun tasarlamıştır. Bu oyuna göre öğretmen, zili çaldığında her öğrenci bulunduğu noktaya en yakın dinlenme halkasına oturacaktır.

Tabloda, öğrencilerin zil çaldığı andaki başlangıç çizgisine olan uzaklıkları verilmiştir.

Mert	Deniz	Sevgi	Doğa
685 m	324 m	503 m	851 m

Buna göre öğrencilerin oturduğu dinlenme halkalarının başlangıç çizgisine olan uzaklıklarının toplamı aşağıdakilerden hangisidir?

- A) 2100 B) 2200 C) 2300 D) 2400

9.

Elif ve arkadaşları gittikleri piknikte topladıkları taşların farklı renklerde olduğunu gördüler.



Aynı koşullardaki taşların farklı renkte olmasının temel nedenini hangi çocuk doğru söylemiştir?

- A) Ayşe
- B) Mehmet
- C) Elif
- D) Kübra

10.

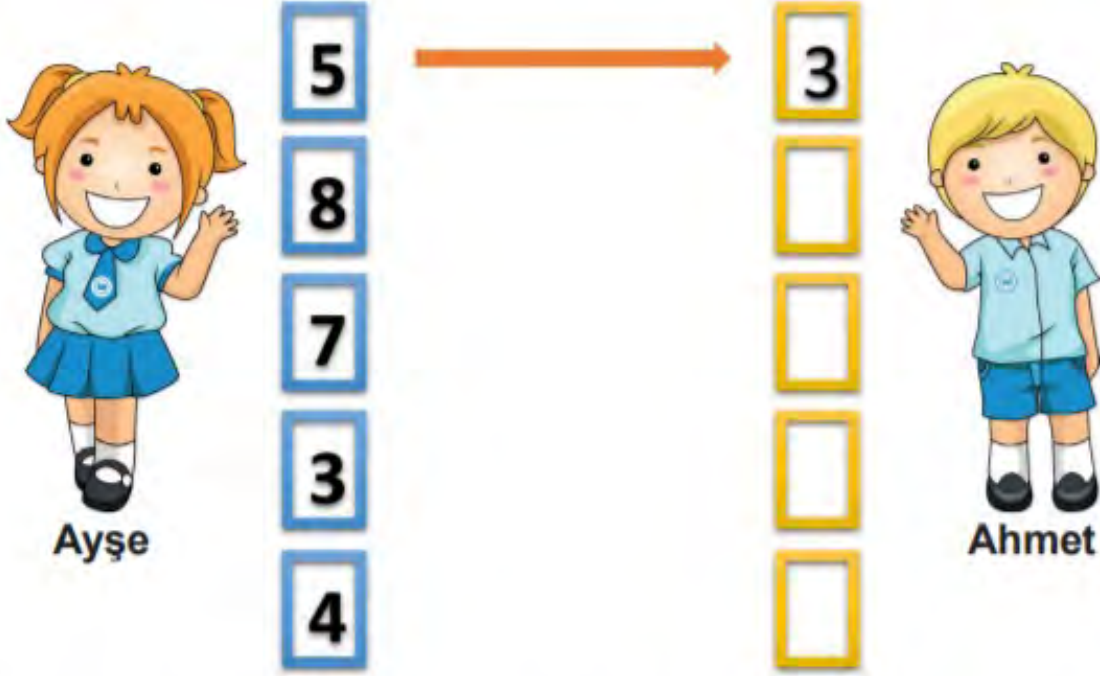
Aşağıdaki tabloda bazı illerin 2019 yılındaki nüfusları verilmiştir.

İL	NÜFUS
Erzurum	762 062
Sivas	638 956
Malatya	800 165
Çanakkale	542 157
Bingöl	297 812

Bu illerin nüfuslarına göre büyükten küçüğe doğru sıralanışı aşağıdakilerden hangisidir?

- A) Malatya > Erzurum > Bingöl > Sivas > Çanakkale
- B) Bingöl > Çanakkale > Sivas > Erzurum > Malatya
- C) Erzurum > Sivas > Çanakkale > Malatya > Bingöl
- D) Malatya > Erzurum > Sivas > Çanakkale > Bingöl

11. Ayşe ile Ahmet'in kartlarındaki karşılıklı rakamların toplamı 8'dir.



Buna göre Ahmet'in kartlarındaki rakamlar birer kez kullanılarak elde edilebilecek 5 basamaklı en büyük doğal sayı aşağıdakilerden hangisidir?

- A) 30 154 B) 54 310 C) 65 340 D) 87 543

12. Aşağıdaki kartlarda her öğrenci kendisi ile ilgili bilgiler vermiştir.



Uras

Doğayı çok seviyorum.
Yemyeşil çimlere uzanıp
müzik dinlemek çok keyifli.



Nisa

Beden eğitimi dersinde
koşturduğum için çok susadım
ve teneffüste su aldım.



Fatih

Göbeklitepe Örenyeri'ni
ziyaret ettikten sonra eve
gelip gördüklerimin resmini
çizdim. Bu resim ile katıldığım
yarışmada başarı elde ettim.

Buna göre öğrencilerin kendileriyle ilgili belirttiği ifadelerin “ilgi”, “ihtiyaç” ve “yetenek” yönünden doğru eşleştirmesi aşağıdakilerin hangisidir?

A)

Uras	İlgi
Nisa	Yetenek
Fatih	İhtiyaç

B)

Uras	İlgi
Nisa	İhtiyaç
Fatih	Yetenek

C)

Uras	Yetenek
Nisa	İhtiyaç
Fatih	İlgi

D)

Uras	İhtiyaç
Nisa	İlgi
Fatih	Yetenek

İNSTAGRAM:
@ismailkavurmacioglu

13.



Ali uyandığında Güneş'i
doğuda, öğlen okuldayken
tepede, akşamüzeri eve
dönerken ise batıda görüyor.

Bunun nedeni aşağıdakilerden hangisidir?

- A) Dünya'nın Güneş etrafında dolanması
- B) Dünya'nın kendi etrafında dönmesi
- C) Mevsimlerin oluşması
- D) Bir günün 24 saat olması

















14.

Aşağıda verilen kelimeler ile semboller arasında bir bağlantı vardır.

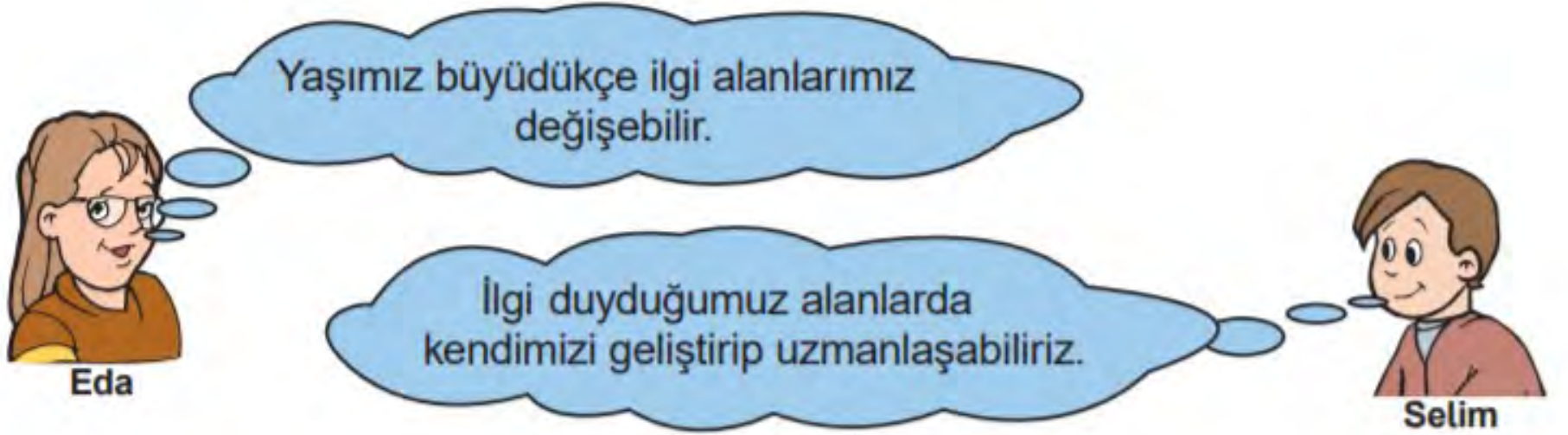
uzak - yakın 

sözcük - kelime 

Bu anlam ilişkisine göre aşağıdaki kelimeler hangi sembollerle eşleştirilmelidir?

	dost - düşman	konut - ev	hasret - özlem	kuru - yaş
A)				
B)				
C)				
D)				

15.



Eda ve Selim'in düşünceleriyle ilgili aşağıdakilerden hangisi doğrudur?

- A) İkisinin düşüncesi de yanlıştır.
- B) İkisinin düşüncesi de doğrudur.
- C) Selim'in düşüncesi yanlışken Eda'nın düşüncesi doğrudur.
- D) Eda'nın düşüncesi yanlışken Selim'in düşüncesi doğrudur.

16.

Put the sentences in order.

- I. Say that again, please.
- II. Ruler, please.
- III. May I take your ruler?
- IV. Here you are.
- V. Thank you.

Choose the correct answer.

- A) I-III-II-IV-V
- C) II-IV-I-III-V

- B) III-V-I-IV-II
- D) III-I-II-IV-V

17.

Dünya'nın hareketleri ile ilgili bazı açıklamalar verilmiştir.

- I. Dünya Güneş etrafındaki dolanım hareketini tamamlar.
II. Dünya'nın kendi eksenini etrafında dönmesiyle oluşur.
III. Dünya kendi eksenini etrafında doğru döner.

Verilen açıklamalarda noktalı yerlere gelmesi gereken uygun ifadeler aşağıdakilerden hangisidir?

	<u>I</u>	<u>II</u>	<u>III</u>
A)	365 gün 6 saatte	gece ve gündüz	batıdan doğuya
B)	24 saatte	mevsimler	batıdan doğuya
C)	365 gün 6 saatte	gece ve gündüz	doğudan batıya
D)	24 saatte	mevsimler	doğudan batıya

18.

Dördüncü sınıf öğrencisi Ömer, din kültürü ve ahlak bilgisi dersi ödevini yapmaktadır. Ödevinde iki tane boşluk doldurma sorusu vardır. Sorular şunlardır:

- Yüce Allah'ın izin verdiği ve serbest bıraktığı iş ve davranışlara - - - - denir.
- Allah'ın yapılmasını kesin olarak yasakladığı söz ve davranışlara - - - - denir.

Ömer'in yukarıdaki soruları doğru cevaplaması için boşluklara sırasıyla yazması gereken kavramlar hangileridir?

A) helal - haram

B) haram - sevap

C) helal - sevap

D) haram - helal

19.

Ceren Öğretmen: Günlük hayatımızda dinî ifadeleri doğru ve yerinde kullanırsak hem Allah'ın sevgisini kazanmış hem de insanlarla olan ilişkilerimizde doğru bir yol izlemiş oluruz.

Ahmet: Yolculuğa çıkan birine "Allah'a emanet ol!" derim.

Ali: Bebeği olan bir aileye "Allah bağışlasın." derim.

Ayşe: Yapacağım bir iş için "İnşallah." derim.

Fatma: Yemeğe başlarken "Allah korusun!" derim.

Yukarıdaki öğrencilerden hangisi dinî ifadeyi yanlış yerde kullanmıştır?

A) Ahmet

B) Ali

C) Ayşe

D) Fatma

20.

657 839 altı basamaklı doğal sayısının birler ve binler bölüğü yer değiştiriyor. Daha sonra her bölükteki rakamlar kendi arasında küçükten büyüğe doğru sıralanıyor.

Buna göre elde edilen doğal sayının binler basamağındaki rakamın basamak değeri aşağıdakilerden hangisidir?

A) 500

B) 3000

C) 9000

D) 80 000

FACEBOOK GRUBUMUZ:
İSMAİL HOCA İLE FEN
BİLİMLERİ

**2021 - 2022 E T M - Ö RET M YILI BA ARI LKOKULU SINIFI 4.SINIF GENEL DE ERLEND RME
TEST -1 DERS DENEME SINAVI CEVAP ANAHTARI**

1. A	2. D	3. C	4. D	5. A	6. A	7. A	8. D	9. D	10. D
11. B	12. B	13. B	14. C	15. B	16. D	17. A	18. A	19. D	20. C