



1- Aşağıdaki cümlede hangi öğrencinin sorusunun cevabı **yoktur**?

Ahmet, istemeyerek de olsa okulunu değiştirmek zorunda kaldı.



2- Aşağıdaki eklerin hangisi resimdeki organın adına eklendiğinde oluşan sözcük yeni bir varlığın adı olur?



A) -ü B) -den C) -cü

3- Aşağıdaki cümlede altı çizili sözcüğün yerine seçeneklerdeki hangi sözcük yazılabilir?

Mahallenin temizliğini sanki kendisine vazife edinmişti.

A) görev B) çalışkanlık C) süpürge

4- 1. yanında 2. kedi
3. uyuyordu 4. sobanın

Yukarıdaki kelimelerle anlamlı ve kuralı bir cümle oluşturduğumuzda sıralama nasıl olur?

A) 4 - 2 - 3 - 1
B) 1 - 2 - 4 - 3
C) 2 - 4 - 1 - 3

5- Yandaki şiirde aşağıdakilerden hangisi anlatılmış olabilir?

En güzel öykülerle,
Bilgilerle dolusun.
Şu ufacık odamda
Ne de şirin durursun.

A) sandalye B) kitaplık C) halı

6- Yandaki bilmecenin cevabı hangisidir?

A) tren B) yengeç
C) gemi

Dumanı tüter,
İsterse gider.
Balık değildir.
Denizde yüzer.

7- Bir yerin yukarıdan kuşbakışı görünüşünün kâğıda çizilmiş şekline ne denir?

A) simetri B) kroki C) harita

8- Aşağıdaki davranışlardan hangisi **yanlıştır**?

A) Arkadaşların eşyalarını izinsiz almak
B) Kantinden bir şey alırken sıraya girmek
C) Arkadaşlarımıza saygılı davranmak



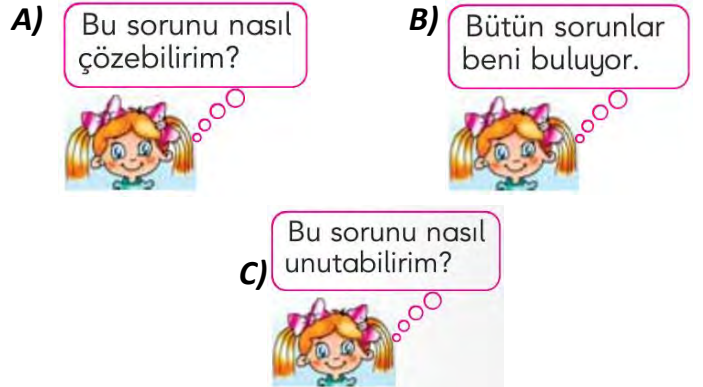
Arkadaş seçerken yukarıdakilerden kaç tanesine dikkat etmeliyiz?

A) 4 B) 5 C) 6

10- İyi bir öğrenci aşağıdakilerden hangisini **yapmaz**?

A) Derste parmak kaldırarak söz ister.
B) İsteddiği araç gereçlerle okula gider.
C) Oyun oynarken kurallara uyar.

11- Bir sorunla karşılaştığımızda nasıl düşünmemiz **doğru** olur?






12- Aşağıdaki ifadelerden hangisi planlı çalışmanın yararları arasında **gösterilemez**?

A) İşlerimizi daha çabuk ve sorunsuz yaparız.
B) Öğretmenimiz bizi sınıf başkanı yapar.
C) Derslerimizde başarılı oluruz.

| | | | | |
|-----|-----|-----|-----|-----|
| 311 | 304 | 313 | 309 | 317 |
| I | II | III | IV | V |

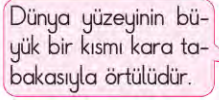
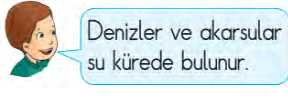
Yukarıdaki sayılardan hangileri "310" doğal sayısına yuvarlanabilir?

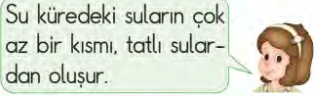
A) II - V B) I - II - V C) I - III - IV

- 14-** Birler basamağı = 7
Onlar basamağı = 3
Yüzler basamağı = 4 olan sayı
aşağıdakilerden hangisidir?
A) 14 B) 734 C) 437
- 15-** “>” işareti hangi sayıların arasına konulursa doğru olur?
A) 765...793 B) 143...159 C) 661...559
- 16-** Verilenlerden hangisi doğrudur?
A) $106 < 160$
B) $161 < 101$
C) $601 > 610$
- 17-** “5 onluk, 7 birlik ve 1 yüzlük”ten oluşan sayı hangisidir?
A)  B)  C) 
- 18-** “796” doğal sayısının en yakın onluğa yuvarlanması hangi sayıdır?
A) 790 B) 800 C) 810
- 19-** Aşağıdakilerden hangisi **845**’tir?
A)
B)
C)
- 20-** Yandaki olaylar Dünya’nın hangi tabakasında oluşur?
A) Kara tabakası B) Hava tabakası C) Su tabakası

- 21-** Hangisinin verdiği bilgi yanlıştır?

A)  B) 

C) 

- 22-** Aşağıdakilerden hangisi hava tabakasına ait bir özelliktir?

A) Dünya’mızın dörtte üçünü kaplar.
B) Dünya’mızın yarısını kaplar.
C) Dünya’mızın tamamını kaplar.

- 23-** Ceren’in verdiği cevaba göre Gülşah ona hangi soruyu sormuştur?

A) Deniz taşıtları nasıl hareket eder?

B) Dünya’mızın şekli nasıldır?

C) Dünya’nın küre şeklinde olduğunun kanıtları nelerdir?


 Ceren

- 24-** “Dünyamız şeklindedir fakat tam**değildir**.” Boş bırakılan yerlere hangileri yazılmalıdır?

A) küre – yuvarlak
B) daire – düz
C) çember – tombul

- 25-** Dünya’mızın uzaydan mavi bir top gibi görünmesinin sebebi nedir?

A) Bulutların hareket etmesi
B) Kara tabakasının çok ince olması
C) Su tabakasının çok yer kaplaması

***** BAŞARILAR *****

*** Her soru 4 puandır. ***