

**RAUF NAİL AKMAN İLKOKULU 4/A
SINIFI KAZANIM DEĞERLENDİRME
SINAVI**

ADI SOYADI :

TÜRKÇE

1) “Bozulmak” sözcüğü aşağıdaki cümlelerin hangisinde mecaz anlamda kullanılmıştır?

- A) Uzun süre sıcakta kalan yemek bozulmuş.
- B) Yolculuk sırasında araba bozuldu.
- C) Tam yazı yazarken uçlu kalemi bozuldu.
- D) Yaptığın şakaya çok bozuldum.

2) “Amcam cömert bir insandır.” cümlesindeki “cömert” sözcüğünün eş anlamlısı aşağıdaki cümlelerin hangisinde vardır?

- A) Mehmet’in bu savurganlığı beni üzüyor.
- B) Komşumuz zengin ve eli açık bir insandır.
- C) Sıdika’nın en büyük hayali zengin olmakmış.
- D) İşlerinde çok planlı biridir, bugünün işini yarına bırakmaz.

3) Aşağıdaki cümlelerde geçen “sıcak” kelimesi hangisinde gerçek anlamda kullanılmıştır?

- A) Bakışları çok sıcaktı.
- B) Çocuğun elleri, ayakları çok sıcaktı.
- C) Sıcak tavırlarıyla herkesi etkiledi.
- D) Davet ettiği kişileri sıcak karşıladı

Meryem: Anlattığım fıkralarla herkesi güldürdüm.

Azra: Eve gelecek misafirlere yol tarif ettim.

Asude: Dayımı parka götürmek için ikna ettim.

Eymen: Törende, bayramın önemini anlatan bir konuşma yaptım.

4) Yukarıdaki konuşmacılardan hangisi önceden hazırlık yapmıştır?

- A) Eymen B) Azra C) Asude D) Meryem

5) ' Annem ile birlikte uçakla Trabzon'a gideceğiz. ' Cümlesinde aşağıdaki sorulardan hangisinin cevabı yoktur?

- A) Nasıl? B) Niçin? C) Nereye? D) Kim?

6) Küçük yaşta öğrenmek daha kolaydır. İnsanlar büyüdükçe eğitilmesi daha zordur. Miraç’ın yaptığı açıklamaya en uygun atasözü hangisidir?

- A) İnsan yedisinde ne ise yetmişinde de odur.
- B) Ağaç yaş iken eğilir.
- C) Aslan yattığı yerden belli olur.
- D) Akıl akıldan üstündür.

7) Aşağıdakilerden hangisi “Bir iş yapmamak için bahaneler bulmak” anlamına gelen bir deyimdir?

- A) Fatma: Bin dereden su getirmek
- B) Ecrin: Ağzı kulaklarına varmak
- C) İkra: Canı burnuna gelmek
- D) Zeynep : Ayağını denk almak

Sürücü hurdaya dönmüş arabadan sapasağlam çıktı.

8) Aşağıdaki kelimelerden hangisi yukarıdaki cümleye pekiştirme anlamı katmıştır?

- A) dönmüş
- B) sürücü
- C) arabadan
- D) sapasağlam

9) Aşağıdaki cümlelerin hangisinde karşılaştırma yapılmamıştır?

- A) Egemen gibi cimrisi hiç görmedim.
- B) Topladığı meyveleri yıkamadan yedi.
- C) Pembe giysi daha güzel görünüyor.
- D) O, Türkçe dersinde benden daha gayretlidir.

* Babası Yasin() e sabaha kadar sorular sordu ()

* Eyvah () kardeşime hediye almayı unuttum()

* Bizim akıllı () yine sınıfta kalmış.

* 2 kalem mi alsam yoksa üç mü bilemedim ()

10) Aşağıdaki noktalama işaretlerinden hangisi yukarıdaki cümlelerin hiçbirinde kullanılmaz?

- A) Üç nokta (...)
B) Kesme işareti (')
C) Soru işareti (?)
D) Ünlem işareti (!)

- I – Dün nereye gittiniz ()
II – Annem gülerken cevap verdi ()
III- Eyvah, ütüyü açık unuttum ()
IV- Dayımın sürprizini sabırsızlıkla bekliyoruz ()

11) Yukarıdaki cümlelerden hangisinin sonuna iki nokta (:) konulmalıdır?

- A) Elif : I B) Büşra : II C) Azra:III D) İsmail: IV

Mustafa: Arkadaşlar **de eki** kendisinden önceki sözcükle bitişik yazılır. Cümleden çıkarıldığında anlam bozulur. **De bağlacı** kendisinden önceki sözcükten ayrı yazılır. Cümleden çıkarıldığında anlam bozulmaz.

12) Mustafa'nın verdiği bilgiye göre aşağıdaki cümlelerden hangisinde “ de ekinin “ yazımında yanlış yapılmıştır?

- A) Ali de ödevini yapmamış.
B) Kedi de bugün mamasını yememiş.
C) Çam ağacı da uzun yıllar yaşayabilen bir ağaçtır.
D) Geminin yanın da bir kayık vardı.
(1) Surları dışarıdan çevreleyen dar patikada yürüyordu.
(2) Karşılaştığı birkaç kişi ona iyi akşamlar diledi.
(3) Başında şapka olmadığı için onu köylü kadınlardan biri sanmışlardı.
(4) Oysa o, köyden biri değildi.

13) Numaralandırılmış cümlelerin hangisinde sebep - sonuç ilişkisi vardır?

- A) 1 B) 2 C) 3 D) 4

14) Aşağıdakilerin hangisinde büyük harflerin yazımıyla ilgili yanlışlık yapılmıştır?

- A) İstanbul Boğazı' nı hiç görmedim.
B) Turistler Topkapı Sarayı' nı gezdiler.

- C) Ege bölgesinde zeytin yetiştiriciliği yapılıyor.
D) Murtaza Bey, toplantıya bir süre ara verdi.

15) Emirhan: “Gelmek” sözcüğü aşağıdakilerin hangisinde “varlığını sürdürmek, yaşamak” anlamında kullanılmıştır?

- A) Eski çağlardan birçok eser günümüze kadar gelmiştir.
B) Sinemadan çıktığımızda saat beşe geliyordu.
C) Merak etme, ondan kimseye kötülük gelmez.
D) Orman havası insan sağlığına iyi gelir.

Türkçe Sınavını Bitirdiniz.

MATEMATİK

Mehmet bilgisayarı için altı basamaklı bir şifre oluşturacaktır. Mehmet şifresini oluştururken **on binler basamağına 8, birler basamağına 7, yüzler basamağına 3, onlar basamağına 4, binler basamağına 6 ve yüz binler basamağına 1 rakamını koyuyor.**

1) Yukarıda verilen bilgiye göre Ersan'ın oluşturduğu şifre kaçtır?

A) 186 347 B) 186 374 C) 186 437 D) 183 743

2) "202 008" doğal sayısının çözümlenmiş şekli aşağıdakilerden hangisidir?

- A) 2 on binlik + 2 onluk + 8 birlik
B) 2 on binlik + 2 yüzlük + 8 birlik
C) 2 yüz binlik + 2 yüzlük + 8 onluk
D) 2 yüz binlik + 2 binlik + 8 birlik

3) Bir çıkarma işleminde eksilen 5728, fark ise 2678'dir. Buna göre çıkan sayı kaçtır?

A) 3050 B) 3060 C) 3070 D) 3080



4) Sıdika tahtada yazan sayıyı defterine yazarken yanlışlıkla binler ve on binler basamağındaki rakamların yerlerini değiştirmiştir. Sıdika'nın defterine yazdığı sayının okunuşu nedir?

- A) İki yüz kırk beş bin sekiz yüz yetmiş dört
B) İki yüz elli sekiz bin dört yüz yetmiş dört
C) İki yüz elli dört bin sekiz yüz yetmiş dört
D) İki yüz elli dört bin yedi yüz seksen dört

Tavuk	Koyun	İnek	Kedi
4300	4400	4500	4600

5) Hangi hayvanın kutusunda 4452 sayısının en yakın yüzlüğe yuvarlanmış hali bulunmaktadır?

A) Tavuk B) Koyun C) İnek D) Kedi

6) "703 841 > 703 799 > 703 794 > 703 796 > 703 609" Yukarıdaki sıralamada hangi iki sayı yer değiştirdiğinde sıralama doğru olur?

- A) 703 609 - 703 796
B) 703 794 - 703 609
C) 703 799 - 703 796
D) 703 796 - 703 794

7) Babam 4550 TL maaş alıyor. 1280 TL ev kirasına veriyor. 2350 TL de diğer masraflarımız için harcıyor. Babam her ay kalan parayı biriktirdiğine göre bir yılda kaç TL paramız birikmiş olur?

A) 10040 B) 11040 C) 12040 D) 11400



8) Verilen çıkarma işleminin gerçek sonucu ile en yakın yüzlüğe yuvarlanmış tahmini sonucu arasındaki fark kaçtır?

A) 6 B) 5 C) 3 D) 4

1. adım → 2000 + 2000 = 4000
2. adım → 500 + 300 = 800
3. adım → 4000 + 800 = 4800

9) Yukarıdaki iki doğal sayının zihinden toplama işleminin adımları gösterilmiştir. Buna göre toplanan sayılar hangi şıkta doğru verilmiştir?

A) $2500 + 2300$

B) $2200 + 2100$

D) $2400 + 2400$

C) $4000 + 8000$

I. 453107

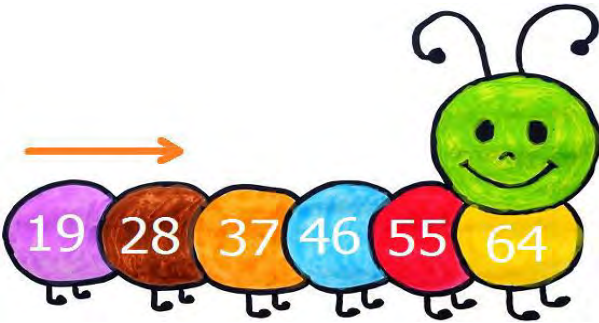
II. 278900

III. 557165

IV. 313768

10) Yukarıda verilen sayılardan hangisinde bulunan 7 rakamının basamak değeri en büyüktür?

A) I. B) II. C) III. D) IV.



11) Aşağıdaki sayı örüntülerinden hangisinin kuralı tırtıldaki örüntü ile aynıdır?

A) $10 - 17 - 24 - 31 - 38 - 45$

B) $25 - 35 - 45 - 55 - 65 - 75$

C) $33 - 42 - 51 - 60 - 69 - 78$

D) $46 - 52 - 58 - 64 - 70 - 76$

	2	▲	6	9
+	1	7	●	5
	4	6	1	4

12) Yukarıdaki toplama işleminde $\text{●} + \text{▲} = ?$ kaçtır?

A) 12

B) 13

C) 14

D) 15

13) Sinemadaki filmi pazartesi günü 1635 kişi, salı günü 2097 kişi izlemiş. Çarşamba günü ise salı gününden 248 kişi eksik izlemiş. Yukarıda verilenlere göre 3 gün sonunda filmi toplam kaç kişi izlemiştir?

A) 5849

B) 5581

C) 6140

D) 6150

14) 29 vagondan oluşan bir trende, her vagonda 64 yolcu bulunmaktadır. Buna göre trende toplam kaç yolcu vardır?

A) 1826

B) 1856

C) 1876

D) 1916

15) Aşağıdaki işlemlerden hangisinin sonucu yanlıştır?

A) $25 \times 10 = 2500$

B) $82 \times 100 = 8200$

C) $50 \times 100 = 5000$

D) $900 \times 100 = 90000$

Matematik Sınavını Bitirdiniz.

FEN BİLİMLERİ

1) Egemen teneffüste oynarken ayağı takılıp düştü. Dizinde ufak sıyrıklar oluştu. Egemen, bu yaranın hızlıca kapanması için hangi besin içeriğini daha çok tüketmelidir?

- A) Yağ
- B) Su
- C) Protein
- D) Karbonhidrat

2) Aşağıdakilerden hangisi, kuvvetin etkisi ortadan kalktığında eski haline döner?

- A) Bakır tel
- B) Oyun hamuru
- C) Kola kutusu
- D) Bulaşık süngeri

Selim'in öğle yemeği;

- * Pirinç pilavı
- * Tavuklu patates yemeği
- * Salata
- * Pekmez


3) Yukarıdaki yiyeceklerle beslenen Selim en fazla hangi besin türünden almıştır?

- A) Protein
- B) Vitamin
- C) Yağ
- D) Karbonhidrat

- I. Havaalanından kalkan uçak
- II. Limana yaklaşan gemi
- III. Duraktan kalkan otobüs

4) Yukarıdaki araçların yapacakları hareket türleri hangi seçenekte doğru verilmiştir?

- A) Hızlanan Yavaşlayan Hızlanan
- B) Yavaşlayan Hızlanan Yavaşlayan
- C) Hızlanan Hızlanan Yavaşlayan
- D) Yavaşlayan Yavaşlayan Hızlanan



5) Görselle ilgili verilen bilgilerden aşağıdakilerden hangisine ulaşabiliriz?

- A) A noktasında gece yaşanmaktadır.
- B) B noktasında gündüz yaşanmaktadır.
- C) A noktasında gündüz yaşanmaktadır.
- D) A noktasından mevsim kıştır.

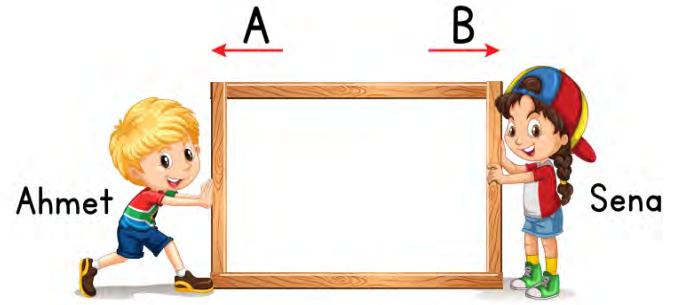
I- Yokuş aşağı inen bir arabanın yaptığı hareket
II- Yokuş yukarı çıkan bir kamyonun yaptığı hareket

III- Viraj dönen bir arabanın yaptığı hareket

6) Yukarıda sembollerle gösterilen hareket türleri aşağıdakilerden hangisinde doğru verilmiştir?

I II III

- A) Yön değiştirme Hızlanma Yavaşlama
- B) Yavaşlama Yön değiştirme Hızlanma
- C) Hızlanma Yön değiştirme Yavaşlama
- D) Hızlanma Yavaşlama Yön değiştirme



7) Çerçevesi tahta B yönünde hareket ettiğine göre aşağıdaki ifadelerden hangisi doğrudur?

- A) Ahmet'in çerçevesi tahtaya uyguladığı kuvvet, Sena'nın uyguladığı kuvvetten fazladır.
- B) Ahmet'in çerçevesi tahtaya uyguladığı kuvvet, Sena'nın uyguladığı kuvvetten azdır.
- C) İkisi de çerçevesi tahtaya eşit kuvvet uygulamıştır.
- D) Sena, çerçevesi tahtaya kuvvet uygulamadığında tahta hareket etmez.

Furkan'ın pazartesi günü yediği yemekler aşağıda listelenmiştir.

Sabah: ekmek, peynir, zeytin, yumurta, portakal suyu, bal

Öğle: Etli fasulye, pilav, turşu, ayran

Akşam: Hamburger, patates kızartması, kola

Yatarken: Süt

8) Furkan'ın hangi öğünde sağlıklı beslendiğini söyleyebiliriz?

- A) Sabah
- B) Öğle
- C) Akşam
- D) Yatarken



Karşılıklı voleybol oynayan Semih ve Mert'i izleyen Saliha, kuvvetin cisimler üzerindeki etkisi ile ilgili aşağıdaki çıkarımları yapmıştır.

- I. Kuvvet, yön değişikliğine sebep olabilir.
- II. Kuvvet, cismi hızlandırabilir.
- III. Kuvvet, cisimlere bir etki etmez.

9) Buna göre, Saliha'nın yaptığı çıkarımlardan hangileri doğrudur?

- A) I, II
- B) I, III
- C) II, III
- D) I, II, III

* Sigara dişte sararmalar, diş eti hastalıkları, diş çürükleri, diş kaybı ve ağız kokusuna neden olur.

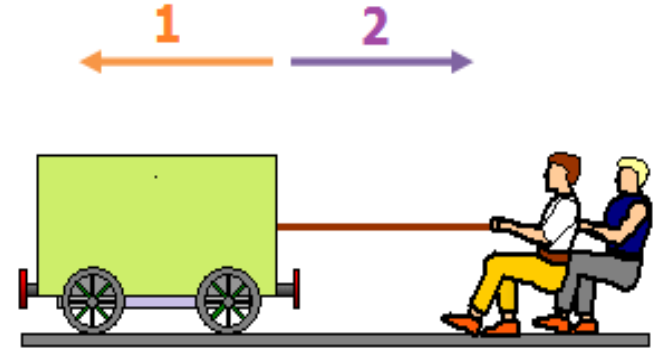
* Sigara kalp hastalıklarına ve damarlarda tıkanıklığa neden olarak kişide ciddi sağlık sorunları meydana getirir.

* Pasif içiciler sigara dumanından etkilenmez.

* Alkol insanın bilincini kaybetmesine neden olur

10) Yukarıdakilerden kaç tanesi doğrudur?

- A) 1
- B) 2
- C) 3
- D) 4



11) Yukarıdaki vagon 2 yönünde hareket ederken, iki kişi tarafından 2 yönünde kuvvet uygulanıyor. Bu durumla ilgili aşağıdakilerden hangisi doğrudur?

- A) Cisim 1 yönünde hızlanan hareket yapar.
- B) Cisim 2 yönünde hızlanma hareketi yapar.
- C) Cisim 2 yönündeki hızını kaybetmeye başlar.
- D) 2 kişinin uyguladığı kuvvet, cisme 2 yönünde hızlanma sağlamaz.

Dünyada en fazla Türkiye'de çıkarılmaktadır. Uzay teknolojisinde, askeri sanayide, tıpta ve elektrik sektöründe kullanılmaktadır. Sanayi camlarının üretiminde ve cam eşyaların ısıya karşı dayanıklı ve sert olması için kullanılır.

12) Yukarıda özellikleri verilen maden aşağıdakilerden hangisidir?

- A) Gümüş
- B) Altın
- C) Bor
- D) Demir

Canlı ölür, ölen canlı bitki veya hayvan olabilir. Canlının ölmesiyle bir süre sonra kaslar çürür. Geride kemikler kalır. Bu esnada rüzgâr, yağmur gibi faktörlerin sürüklediği parçalar sayesinde tortul kayaç oluşumu başlar. Canlının üstünde tabakalar oluşur. Üst üste biriken tabakalar kemiklere basınç uygular. Üstteki tabakaların etkisiyle sertleşen kemikler çeşitli minerallerin de etkisiyle sertleşerek kayaya dönüşür. Bu sayede fosiller oluşur.

13) Yukarıdaki konu anlatımına göre fosil oluşumu ile ilgili aşağıda verilen bilgilerden hangisi doğru değildir?

- A) Fosiller, milyonlarca yıl önce canlı olan bitki ve hayvanların katılaşması sonucu oluşur.
- B) Fosilleşme insan etkisi sonucu oluşmuştur.
- C) Fosilleşme, rastlantıya bağlı bir süreçtir.
- D) Canlı bir varlıktan fosile dönüşmek milyonlarca yıl süren bir dönemdir.



14) Sedyedeki bir hasta, I ve II numara ile gösterilen sağlık görevlileri tarafından ambulansa şekildeki gibi taşınıyor Buna göre, sağlık görevlilerinin sedyeyi ambulansa kolayca taşıyabilmeleri için kaldırmanın yanı sıra uyguladıkları kuvvetler aşağıdakilerin hangisinde doğru verilmiştir?

I II

- | | |
|----------|-------|
| A) İtme | Çekme |
| B) Çekme | İtme |
| C) İtme | İtme |
| D) Çekme | Çekme |

15) Aşağıdaki olaylardan hangisinde kuvvetin cisimler üzerindeki etkilerinden biri gözlenmez?

- A) Yuvarlanan topun durması
- B) Porselen tabağın kırılması
- C) Suyun kaynaması
- D) Tekerleğin yön değiştirmesi

SOSYAL BİLGİLER

1) Aşağıdaki öğrencilerden hangisinin sözlerinde, başkalarının düşüncelerine saygı göstermeyen bir durum söz konusudur?

- A) Veysel: Kardeşimle farklı oyunları oynamayı sevsek de, çoğu zaman o küçük olduğu için onun istediği oyunları oynarız.
- B) Miraç: Arkadaşımın yeni aldığı pantolonun çok çirkin olduğunu söyledim.
- C) Azra: Ablam ve ben farklı giyim tarzından hoşlanıyoruz fakat birbirimizi eleştirmiyoruz.
- D) İsmail: Arkadaşım Ali'nin anlattıkları ne kadar ilgimi çekmese de dikkatle dinledim.

Tuncay öğretmen: Kurtuluş Savaşı'nda güney cephesinde kimlerle mücadele edilmiştir?

- Murtaza: İngilizlerle.
- Mustafa: Yunanlılarla.
- Seyit: Fransızlarla.
- Ali: İtalyanlarla.

2) Tuncay öğretmenin sorusuna hangi öğrenci doğru cevap vermiştir?

- A) Murtaza B) Mustafa C) Seyit D) Ali

3) Karadeniz Bölgesine ait kemençe eşliğinde oynanan oyunun adı nedir?

- A) Nisanur: halay
- B) Miraç: zeybek
- C) Ecrin: horon
- D) Gökçe: çayda çıra

4) Her yıl Haziran ayında yapılan geleneksel "Kırkpınar Yağlı Güreşleri" hangi ilde yapılır?

- A) Fatma: Tekirdağ
- B) İkra: Kırklareli
- C) Zeynep: Edirne
- D) Elif: İstanbul



5) İki ebe karşılıklı durur ve birbirlerinin ellerini tutarlar. Tek sıra halinde dizilmiş diğer oyuncular ebelerin kollarının altından geçerler ve bir şarkı söylerler. Şarkı sonunda yakalanan oyuncu kendisine söylenen iki kelimedenden birini seçer. Yukarıda bir kısmı anlatılan oyun aşağıdakilerden hangisidir?

- A) Meryem: Yağ Satarım, Bal Satarım
- B) Azra: Birdirbir Oyunu
- C) Yasin: Mendil Kapmaca
- D) Emirhan: Aç Kapıyı Bezirgân Başı

6) 15 Mayıs 1919'da İzmir'e çıkartma yapan Yunan askerlerine ilk kurşunu atan bir gazeteciyim. Düşmana attığım bu ilk kurşun Anadolu'nun genelinde büyük yankı uyandırdı. Yukarıda kendisi hakkında bilgileri veren kişi aşağıdakilerden hangisidir?

- A) Egemen: Sütçü İmam
- B) Büşra: Kâzım Karabekir
- C) Emir: Şahin Bey
- D) Eymen: Hasan Tahsin

7) Atatürk Milli Mücadele döneminde bazı şehirlere giderek toplantılar yaptı. Sıdika'nın verdiği bilgiye göre aşağıdakilerden hangisi Atatürk'ün toplantı yaptığı şehirlerden biri değildir?

- A) Elazığ
- B) Amasya
- C) Erzurum
- D) Sivas

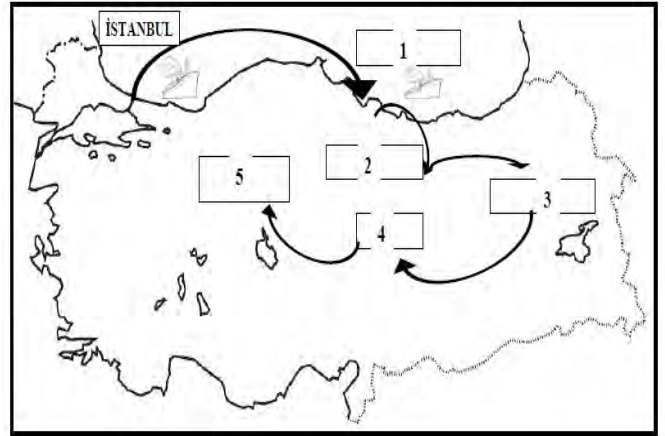
- * Hacivat ve Karagöz
- * Hamburger
- * Gitar
- * Baklava
- * Güreş

8) Öğretmen Ecrin'e milli kültür öğelerimizi söylemesini istemiş. Ecrin verdiği her doğru cevap için 10 puan almış. Yukarıdaki cevaplara göre Ecrin kaç puan almıştır?

- A) 20
- B) 30
- C) 40
- D) 50

9) Osmanlı Devleti 30 Ekim 1918'de imzaladığı bu anlaşmayla bağımsızlığını kaybetti. İngiltere, Fransa ve İtalya ve Yunanistan bu anlaşmaya dayanarak topraklarımızı işgal ettiler. Yukarıda, etkilerinden bahsedilen anlaşma aşağıdakilerden hangisidir?

- A) Ankara Antlaşması
- B) Mondros Ateşkes Antlaşması
- C) Mudanya Ateşkes Antlaşması
- D) Gümrü Barış Antlaşması



10) Mustafa Kemal, Milli Mücadele için sırasıyla hangi şehirlere gitmiştir?

- A) Samsun – Amasya – Sivas – Erzurum – Ankara
- B) Samsun – Ankara – Amasya – Sivas – Erzurum
- C) Samsun – Amasya – Erzurum – Sivas – Ankara
- D) Samsun – Erzurum – Sivas – Amasya – Ankara

11) Fransızlar Gaziantep'i işgal ettiğinde bu olaya tepki göstererek Fransız askerlerine direniş gösteren kahramanımız kimdir?

- A) Sütçü İmam
- B) Şahin Bey
- C) Hasan Tahsin
- D) Yörük Ali Efe

- I. Amasya Genelgesi
- II. Cumhuriyet'in İlanı
- III. Atatürk'ün Samsun'a çıkışı
- IV. TBMM'nin açılışı
- V. Sivas Kongresi
- VI. Erzurum Kongresi

12) Yukarıda sıralanan olayların doğru kronolojik sıralaması hangisidir?

- A) III - I - II - IV - V - VI
- B) II - IV - VI - I - V - III
- C) III - I - VI - V - IV - II
- D) IV - II - III - I - V - VI

Merve, arkadaşı Ayşe'nin çok üzgün olduğunu gördü ve onun yanına giderek üzüntüsünün sebebini öğrenmeye çalıştı. Ardından onu teselli etti ve arkadaşına yalnız olmadığını hissettirdi.

13) Yukarıdaki olaya göre Merve ile ilgili aşağıdakilerden hangisini söyleyemeyiz?

- A) Empati yeteneği gelişmiştir.
- B) Arkadaşlarına karşı duyarlıdır.
- C) Yardımsever olduğu söylenemez.
- D) Arkadaşlarına karşı saygılıdır.

14) Aşağıdaki devletlerden hangisi 1.Dünya Savaşı'ndan sonra yurdumuzu işgal eden devletler arasında yer almaz?

- A) Almanlar
- B) İngilizler
- C) Fransızlar
- D) Yunanlılar

15) Yeni kimlik kartlarıyla ilgili aşağıdakilerden hangisi yanlıştır?

- A) On yıl boyunca geçerlidir.
- B) İmza bölümü bulunmaktadır.
- C) Aile bireylerimizin T.C. kimlik numaraları aynıdır.
- D) Akıllı kart özelliği kazandıran elektronik çip bulunmaktadır.