



ÖĞRETMENE SAYGI

Tatlı bir ilkbahar sabahı, Fatih Sultan Mehmet, beyaz atına binmiş; ordusunun önünde, İstanbul'a ilk defa giriyor. Sağında, solunda hocaları: Ak Şemsettin, Molla Hüsrev, Molla Gürani. Şehir halkı, caddelerin iki yanına yığılmış; heyecanla Osmanlı ordusunu karşılıyor.

Bu sırada halkın arasından birçok kimse, ellerindeki çiçek demetlerini padişaha sunmak için ortaya atılıyorlar. Hepsi de aksakaliyla, ağır duruşuyla Ak Şemsettin'i padişah sanarak çiçekleri ona vermeye çalışıyor. Ak Şemsettin, atını geri çekiyor, göz ucuyla padişahı göstererek,

- **Sultan Mehmet odur, çiçekleri ona veriniz, demek istiyor.**

Fatih de çiçeklerle kendisine doğru yürüyenlere Ak Şemsettin'i göstererek,

- **Gidiniz, gene ona veriniz, Sultan Mehmet benim; ama o benim hocamdır, diyor.**

Feridun Fazıl TÜLBENTÇİ

İlk beş soruyu metne göre cevaplayınız.

1. **Fatih Sultan Mehmet, İstanbul'a kimlerle giriyor?**

- A. eşyle B. halkla C. hocalarıyla D. ailesiyle

2. **Fatih'i ve ordusunu halk nasıl karşılıyor?**

- A. heyecanla B. Öfkeyle C. korkuyla D. Üzülerek

3. **Birçok insanın ileriye atılmasının sebebi nedir?**

- A. Hocasına çiçek vermektir. B. Padişaha çiçek vermektir.
C. Padişahın elini öpmektir. D. Padişahıtan yardım istemektir.

4. **Fatih, çiçeklerin niçin Ak Şemsettin'e verilmesini istiyor?**

- A. İstanbul'un zenginlerinden olduğu için. B. Arkadaşı olduğu için.
C. Ordunun komutanı olduğu için. D. Öğretmeni olduğu için.

5. **"Gidiniz, gene ona veriniz, Sultan Mehmet benim; ama o benim öğretmenimdir, diyor." sözüyle anlatılmak istenen nedir?**

- A. dostluğun önemi B. eğitimin önemi
C. öğretmene verilen değer D. arkadaşlığın değeri

6. **Aşağıdaki cümlelerin hangisinde yazım yanlış yapılmıştır?**

- A. Çantamdan kalemimi çıkardım. B. Şule'lerin evine gittik.
C. Pazarda öğretmenimle karşılaştım. D. Soruların çoğunu doğru bilmiş.

7. **Aşağıdaki cümlelerin hangisinde "de"nin yazımı yanlış verilmiştir?**

- A. Közde pişirdiğim patatesler çok tatlı olmuş.
B. Öğrenciler öğretmenlerini ayakda karşıladı.
C. Sinemaya bilet alacaksanız bana da alın.
D. Elbisende oluşan lekeyi nasıl çıkardın?

8. **Aşağıda verilenlerden hangisi cümle niteliği taşımaz?**

- A. Derslere düzenli zaman ayırmak gerekir
B. Yeni masalar sınıfa sığmadı
C. Hızlı hızlı yürüyen çocuk okula geç kalmış olmalı
D. Sınıfın önüne bisikletle

9. **Hangisinde söyleyen kişi beğenme duygusunu ifade etmiştir?**

- A. Kekleriniz çok güzel olmuş. B. Kışlık elbise almak istiyorum.
C. Babam bana bir bisiklet alsa. D. Derslerini akşam yapmalısın.

10. **"Kedi () köpek ve tavşan beslemeyi bilen birini arıyorum () Sen bilir misin ()" cümlelerinde () yerine hangi noktalama işaretleri gelmelidir?**

- A- (;) (!) (?) B. (.) (,) (!) C. (.) (.) (?) D. (.) (:) (?)

	A	B	C	D	ÖÇ. NO:	
1					DOĞRU	
2					YANLIŞ	
3					BOŞ	
4					NET	
5					PUAN	
6						
7						
8						
9						
10						

MATEMATİK

1.) Çarpımları 600 olan iki doğal sayıdan biri 30 ise diğeri kaçtır?
a) 30 b) 20 c) 35 d) 36

2.) Yeni aldığım kitabı, her gün bir öncekinin iki katı okuyarak üçüncü günün sonunda bitirdim. İlk gün 15 sayfa okuduğuma göre, **kitap kaç sayfadır?**
a.) 60 b.) 75 c.) 180 d.) 105

3.) **605.104** sayısının birler ve binler bölüğü **yer değiştğinde** oluşan sayı kaç olur?
a) 104.605 b) 451.600 c) 601.504 d) 154.600

4.) Bir sayının 12 eksikğine 146 ekleyince 500 oluyor. Bu sayı kaçtır?
A) 264 B) 342 C) 366 D) 402

5.) 13' ün 3 katı hangi sayıdan 11 eksiktir?
A) 48 B) 50 C) 39 D) 62

6.) Bir satıcının aldığı 12 düzine kalemin 12 destesini sattığında kaç kalemi kalır?
A) 144 B) 264 C) 120 D) 24

7.) $195 \times 32 = ?$ yandaki işlemin sonucu aşağıdakilerden hangisidir?
A) 6240 B) 6825 C) 4582 D) 6554

8.) Dakikada 84 defa nabız atışı olan Elif, 3 saat 15 dakikada kaç defa nabız atışı ölçer?
A) 890 B) 16.380 C) 15.600 D) 18.380

9.) 98.972 sayısında basamak değeri ile sayı değeri eşit olan sayı hangisidir?
A. 9 B. 8 C. 7 D. 2

10.) En büyük rakamla en küçük sayma sayısının toplamı kaçtır?
A. 100.001 B. 90 C. 10 D. 999.999

	A	B	C	D		A	B	C	D	ÖĞ. NO:
1					6					DOĞRU
2					7					YANLIŞ
3					8					BOŞ
4					9					NET
5					10					PUAN

SOSYAL BİLGİLER SORULARI

1.Pusuladaki “N” harfi hangi yönü göstermektedir?
a) doğu b) güney c) kuzey d) batı

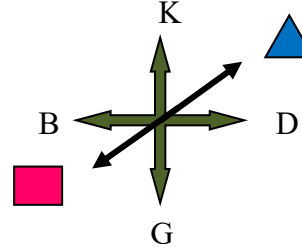


2.Güneş en tepede iken okun gölgesi nasıl olur?
A) en uzun B) en kısa C) orta D) kısa









3.Aşağıdakilerden hangisini yön bulma yöntemi olarak kullanamayız?
A) rüzgârın yönü B) mezar taşlarının yönü
C) ağaçların yosunlu yanını D) Güneş'in hareketlerinden

4. Ülkemizin kuzeyinde hangi deniz vardır?
A) Akdeniz B) Marmara C) Ege D) Karadeniz

5. Ağaçların yosunlu kısımları hangi yönü gösterir?
A) doğu B) güney C) batı D) kuzey



6.Yukarıdaki yön şemasında   sırasıyla hangi yönleri göstermektedir?

A)  güney  kuzeydoğu B)  kuzeydoğu  güneybatı
C)  kuzeybatı  güneydoğu D)  güneybatı  kuzeydoğu

7. Aşağıdakilerden hangisinin krokiğini çizemeyiz?

A) okulların B) insanların C) caddelerin D) evlerimizin

8. Aşağıdakilerden hangisi ara yönlerden biridir?

A) güney B) kuzey C) kuzeydoğu D) batı

9.Sağ kolumuz batıyı gösteriyorsa arkamız hangi yöndür?

- A) doğu B) güney C) batı D) kuzey

10. Oturduğumuz evi hiç gelmemiş arkadaşımıza nasıl tarif edebiliriz?

- A) adresle B) haritayla C) pusulayla D) postacıyla

	A	B	C	D			A	B	C	D	ÖĞ. NO:
1						6					DOĞRU
2						7					YANLIŞ
3						8					BOŞ
4						9					NET
5						10					PUAN

FEN BİLİMLERİ

1- Aşağıdaki varlıklardan hangisi hareketsizdir ?

- A) masa B) kaplumbağa C) dünya D) bulut

2- Hangisinin hareketini görebilmek için uzun aralıklarla gözlemler yapmalıyız?

- A) hayvanlar B) bitkiler C) insanlar D) su dalgaları

3- Hayvanlardan hangisinin hareketi diğerlerine göre daha yavaştır?

- A) köpek B) kedi C) koyun D) salyangoz

4- Aşağıdaki varlıklardan hangisinin hareket edebilmesi için dışarıdan bir etkiye ihtiyacı vardır ?

- A) solucan B) serçe C) silgi D) sümbül çiçeği

5- Hareket ile ilgili insanoğlunun keşfettiği en önemli araçlardan biridir?

- A) Yazının icadı B) Ateşin icadı C) Ampulün icadı D)Tekerleğin icadı

a- Oyuncağını iple çeken çocuk

b- Mıknatısın iğneleri çekmesi

c- Tarağın kağıt parçacıklarını çekmesi

6- Yukarıdaki maddelerin hangilerinde uygulanan kuvvet temas gerektirmez ?

- A) a ve b B) a ve c C) a, b ve c D) b ve c

7- Aşağıdakilerden hangisine sıkma kuvveti uygulanırsa şekli değişmez?

- A) taş B) oyun hamuru C) bulaşık sünger D) kumaş

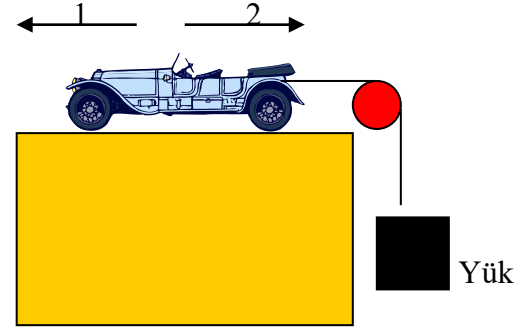
1. Yaşam ile hareket arasında sıkı bir bağ vardır.

2. Hareket canlılık özeliğidir.

3. Çevremizdeki bütün cisimler hareketlidir.

8- Yukarıda verilen ifadelerden hangisi veya hangileri doğrudur?

- A) 1 – 2 B) Yalnız 2 C) 1 – 3 D) 1 – 2 – 3



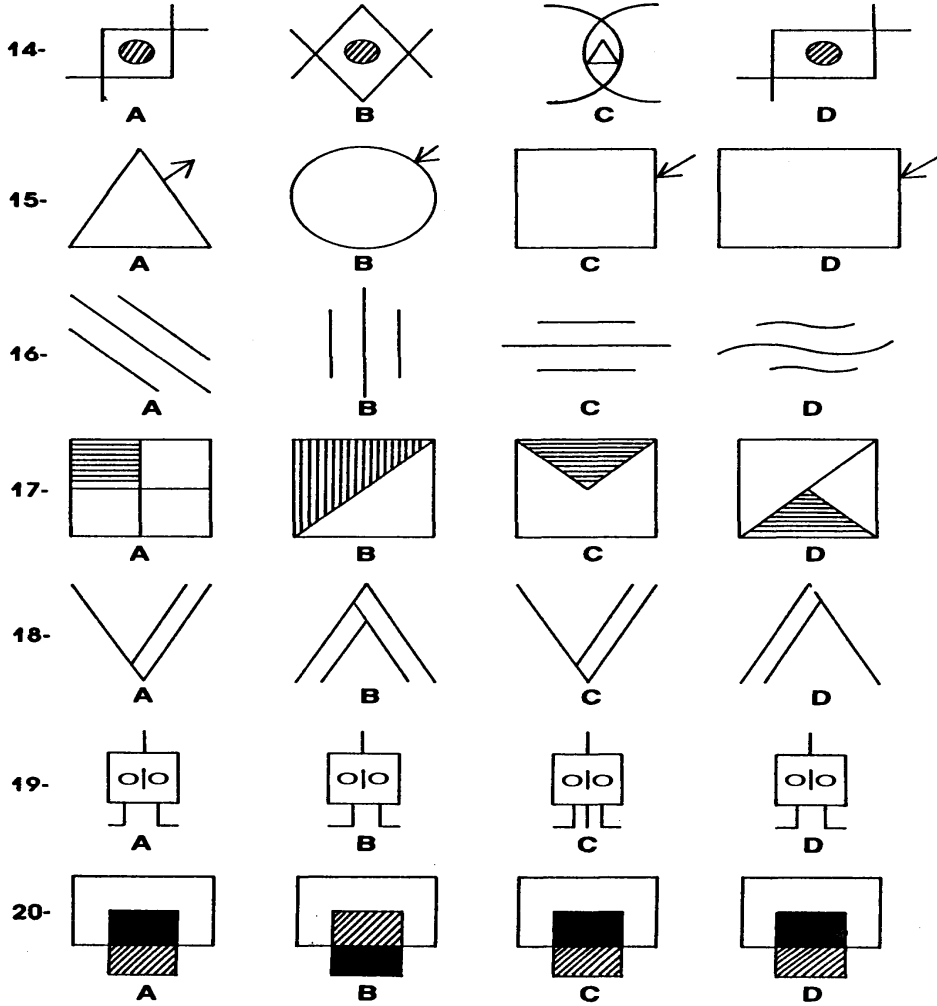
9- Yukarıdaki şekilde araç 2 yönünde hareket ederse aşağıdakilerden hangisi gerçekleşir?

- A) Yük yukarı doğru hareket eder. B) Yük aşağı doğru hareket eder.
C) Yük hareket etmez yerinde sabit durur. D) Yük sağa sola doğru sallanır.

10- Hangisine çekiçle vurulduğunda parçalara ayrılmaz?

- A) çivi B) cam bardak C) fındık D) ceviz

	A	B	C	D			A	B	C	D	ÖĞ. NO:
1						6					DOĞRU
2						7					YANLIŞ
3						8					BOŞ
4						9					NET
5						10					PUAN

GENEL YETENEK

	A	B	C	D		A	B	C	D	ÖĞ. NO:	
14											
15											
16											
17											
18											

HAFTANIN ŞİİRİ**ÖĞRETMENİM**


Ben bir gülüm, sen bahçıvan;
Çok açarsam eser senin,
Mis kokarsam hüner senin
Ama bir de soldurursan
Günah senin, günah senin öğretmenim...

Ben elmasım, sarraf sensin
Pırlantaysam, emek senin
Parlıyorsam yaldız senin
Ama bir de parçalarsan
Kırık senin, kırık senin öğretmenim...

Ben boş defter, kalem sensin;
Doğru yazsan yarın senin,
Güzel yazsan ikbal senin
Ama bir de karalarsan
Vicdan senin, vicdan senin öğretmenim...

Ben öğrenci, sen öğretmen;
Başarırsam hüner senin,
Kazanırsam zafer senin
Ama birde kaybedersem
Yok diyecek başka sözüm;
Yorum senin, yorum senin öğretmenim...

DÜŞÜNELİM-YORUMLAYALIM-TARTIŞALIM



Selim dün senin arkandan konuştu.Senin için aptal , dedi.

Yukarıdaki resmi inceleyelim. "Birinin bir başkası hakkında söylediği kötü sözleri onlara söyler misiniz? " Resim hakkındaki duygu ve düşüncelerimizi yorumlayalım, yazalım sınıfça tartışalım..

.....

.....

.....

.....

.....

İLGİNÇ BİLGİLER:

Sıcak Bir Günde Sudan Çıktığımızda Neden Üşürüz?

Sıcak bir günde sudan (yani bir havuzdan veya denizden hatta duşta!) çıktığımızda üşür hemen bir havluya sarılırız veya yeniden suya gireriz. Peki hava sıcak olduğu halde (mesela 30-35⁰ derece) üşümememiz gerekmez mi?
(Yanıt: Gelecek Haftaya)

SÖZCÜK BULMACA


Z	A	M	A	N	Ş	E	R	İ	D	İ	K
L	U	K	O	G	R	A	F	İ	K	L	Ü
T	U	V	A	L	E	T	A	E	F	K	T
N	K	L	T	A	K	V	İ	M	K	Ö	Ü
E	I	Ğ	A	S	K	I	L	I	K	Ğ	P
M	L	T	Y	K	O	R	İ	D	O	R	H
T	P	T	S	I	N	I	F	C	A	E	A
E	A	R	Ü	D	Ü	M	G	Ç	A	T	N
R	T	Ö	R	E	N	A	R	I	S	İ	E
Ğ	İ	Y	Z	Ö	N	L	Ü	K	F	M	Z
Ö	K	U	R	A	L	L	A	T	N	A	Ç
Ç	Ö	P	K	U	T	U	S	U	T	L	K

OKUL-SINIF-İLKÖĞRETİM-ZAMAN ŞERİDİ-ASKILIK-ÇÖP KUTUSU-KİTAPLIK-KORİDOR-MÜDÜR-TAKVİM-TUVALET-TÖREN-ÖĞRETMEN-KÜTÜPHANE-ÇANTA-KURAL-SIRA-GRAFİK-ÖNLÜK


Haydi ailece İSİM-ŞEHİR oynayalım...

HARF	İNSAN ADI	ŞEHİR ADI	EŞYA ADI	BİTKİ ADI	HAYVAN ADI	PUAN
D						
Ö/O						
R						
T						
B						

BAKALIM EN GÜZEL KİMLER BOYAYACAK?



İki resim arasındaki 5 farkı bul, çarpı (X) at.



ÖĞRETMENLER GÜNÜ - GÜZEL SÖZLER

Özdeyişleri aynı stilde yazmaya çalışalım.

*Ulusları kurtaranlar yalnız ve ancak öğretmenlerdir.

*Öğretmenler, yeni nesil sizin eseriniz olacaktır.

*Toplumların uygarlık düzeyi, öğretmene verdiği değerle ölçülür.

*Öğretmen, geçmişin öğreticisi, geleceğin kurucusudur.

*Geleceğin güvencesi eğitime, eğitim ise öğretmene dayalıdır.

Veli İmzası:.....

4. Sınıf Zümre Öğretmenleri