

3.SINIF FEN BİLİMLERİ DERSİ 3. DEĞERLENDİRME SORULARI

A. Aşağıda verilen ifadeler doğruysa " D " , yanlışsa " Y " harfi yazalım. (10p)

- (.....) Cansız varlıklar kendileri hareket edebilirler.
 (.....) Kolonyalar gaz maddelerdir.
 (.....) Havaya atılan top dönme hareket yapar.
 (.....) Demir, tahta, cam, beton sert maddelerdir.
 (.....) Defterimizden sayfa koparıırken uyguladığımız kuvvet çekme kuvvetidir.

B. Aşağıdaki tümceleri verilen sözcüklerden uygun olanları ile tamamlayalım. (10p)

hava	yumuşak	çekme	kara	izlemek	burun
koklamak	su	kulak	sert	sallanma	itme

- a) Yastık, oyun hamuru, balon, sünger gibi maddelertır.
 b) Bazı maddeleri tatmak,.....,bakmak veya dokunmak bize zarar verebilir.
 c) Arabadan inen Fuat kapıyı kapatmak için,kuvveti uygulamıştır.
 ç)içinde, dengemizi sağlayan bir sıvı bulunmaktadır.
 d) Dağ, ova, vadi gibi yeryüzü şekilleritabakasında bulunmaktadır.

C. Çoktan seçmeli sorularda doğru olan seçeneği işaretleyip, cevap anahtarına kodlayalım.

“ Aslı yemeğin yanında ayran içti. Daha sonra sofrayı kaldırırken annesine yardım etti. Bu sırada ocaktaki çay kaynıyordu. Çaydanlıktan çıkan buharı seyretti. Annesinin sesiyle irkildi. Tezgâhtan bardak-ları alıp sofraya götürdü.”

S1. Yukarıdaki metinde altı çizili kelimeler sırasıyla maddenin hangi halleridir?

- A) sıvı-katı-gaz B) katı-sıvı-gaz C) sıvı-gaz-katı

S2. Ankara’dan kalkan bir uçak hep aynı yöne gittiğinde kalktığı noktaya geri dönmesi hangisini ispatlar?

- A) Dünya’nın Güneş’in etrafında dolandığına
 B) Ay’ın Dünya’nın etrafında dolandığına
 C) Dünya’nın küre biçiminde olduğuna

S3.Verilen maddelerden hangisi diğerlerinden farklıdır?

- a) Doğalgaz b) Oksijen c) Ayçiçek yağı

S4.

1	elbise
2	elma
3	elektrik

Verilenlerden hangileri maddeye örnek verilebilir?

- a) 1 b) 1-2 c) 1-2-3

Porselen tabak esnek maddelere bir örnek olabilir.

D

Y

Portakalın kabuğu pürüzlüdür.

Oyun hamuru yumuşak maddeye örnektir.

D

Y

D

Y



S5. Yukarıdaki oklar doğru veya yanlış ifadeleri takip ederek ilerlendiğinde hangi sembole ulaşılır?

- a) ■ b) ▲ c) ●

S6.Aşağıdaki hareketlerden hangisi farklıdır?

- a) Saatte akrep ve yelkovanın yaptığı hareket.
 b) Kalecinin topu kornere atması.
 c) Pervanenin hareketi.

S7.Verilenlerden hangisi bir duyu organımız değildir?

- a) Dil b) Deri c) Parmak

S8.Hangi davranış göz sağlığımızı korumaktadır?

- a) Televizyona uzun süre bakmak.
 b) Yeterince aydınlatılmış bir ortamda kitap okumak.
 c) Işıkları söndürmeden uyumak.

3.SINIF FEN BİLİMLERİ DERSİ 3. DEĞERLENDİRME SORULARI

S9.Aşağıdakilerden hangisinde farklı bir kuvvet uygulanmıştır?

- a) Çiviye duvara çakmak.
- b) Market arabasını sürmek.
- c) Sınıf penceresini açmak.

S10. Katılarla ilgili verilen ifadelerden hangisi doğrudur?

- a) Bulundukları kabın şeklini alırlar.
- b) Dışarıdan bir etki olmadıkça şekilleri değişmez.
- c) Akıcıdırlar.

- ✓ Dünya'nın şekli... ▲ye benzer.
- ✓ Canlıların ihtiyacı olan oksijen ... ▼ ..katmanında bulunur.

S11.Yukarıdaki ifadelerde simgelerle gösterilen boş kısımlara hangi sözcükler yazılmalıdır?

- | | | | |
|----|------|---|------|
| | ▲ | - | ▼ |
| a) | kara | - | küre |
| b) | küre | - | hava |
| c) | su | - | küre |

S12.Verilen maddelerden hangisini kokusuyla diğerlerinden ayırabiliriz?

- a) şeker
- b) tuz
- c) peynir

- Büyük ve hareketli cisimleri durdurmaya çalışmak tehlike oluşturmaz.
- Bulduğumuzda yerden bir nesneyi çektiğimizde nesne bize yaklaşır.
- ◆ Bulduğumuzda yerden bir nesneyi ittiğimizde nesne bizden uzaklaşır.

S13. Yukarıda verilen ifadelerden yanlış olan hangisidir?

- a) ■
- b) ●
- c) ◆

suluk	portakal	ayran
ekmek	zeytin yağı	kar




S14.Yukarıdaki maddelerden kaç tanesi sıvıdır?

- a) 2
- b) 3
- c) 4

S15. Bilinmeyen maddelerle çalışırken bu maddelerin vücuda zarar vermemesi için aşağıdakilerden hangisi yapılmamalıdır?

- a) Maddelere çıplak elle dokunarak kontrol etmeliyiz.
- b) Koruyucu maske takmalıyız.
- c) Derimizi korumak için koruyucu kıyafetler giymeliyiz.

S16. Hangi tehlike sembolünün tanımı yanlıştır?

- a)  Elektrik arızası
- b)  Patlayıcı madde
- c)  Zararlı madde

CEVAP ANAHTARI

1 -	(A)	(B)	(C)
2 -	(A)	(B)	(C)
3 -	(A)	(B)	(C)
4 -	(A)	(B)	(C)
5 -	(A)	(B)	(C)
6 -	(A)	(B)	(C)
7 -	(A)	(B)	(C)
8 -	(A)	(B)	(C)
9 -	(A)	(B)	(C)
10 -	(A)	(B)	(C)
11 -	(A)	(B)	(C)
12 -	(A)	(B)	(C)
13 -	(A)	(B)	(C)
14 -	(A)	(B)	(C)
15 -	(A)	(B)	(C)
16 -	(A)	(B)	(C)

Sınav süreniz bir ders saatidir. (40 dk)
İstedığınız sorudan başlayabilirsiniz.

BAŞARILAR...