

Adı - Soyadı: No :

2020-2021 EĞİTİM-ÖĞRETİM YILI
İSMET İNÖNÜ İLKOKULU 4.SINIFLAR
TRAFİK GÜVENLİĞİ DERSİ 1.DÖNEM 2.YAZILI SINAVI



A) Aşağıdaki cümlelerden doğru olanların başına “D”, yanlış olanların başına “Y” işareti koyunuz. (10 x 1 = 10 puan)

- (.....) Gideceğimiz yere en kısa yoldan değil, en güvenli yoldan gitmeliyiz.
- (.....) Kara yollarında duran taşıtların önünden, arkasından, arasından karşıya geçmemeliyiz.
- (.....) Bisikleti, kaykayı, pateni hızlı kullanmalıyız, akrobatik yani artistik hareketler yapmalıyız.
- (.....) Ambulans ve itfaiye gibi araçların trafikte geçiş üstünlüğü vardır.
- (.....) Geçiş üstünlüğü ancak görev halinde kullanılır.
- (.....) Yaya kaldırımında top oynanabilir.
- (.....) Trafik işaret levhaları; Uyarıcı, bilgi veren ve düzenleyen (yasaklayan) olarak 3'e ayrılır.
- (.....) Ulaşım araçlarının tercihinde ulaşım süresi etkili olmaz.
- (.....) Taşıt yolunda bisiklet sürebilmek için 9 yaşında olma şartı vardır.
- (.....) Ulaşım araçlarının tercihinde hava şartlarının da önemi vardır.

B) Aşağıda verilen ifadeleri baş tarafındaki rakamları kullanarak doğru şekilde eşleştirelim. (10 puan)

1	Kara yolu üzerinde bulunan kişi	...	Yolcu
2	Taşıtı kullanan kişi	...	Yaya
3	Yolda yayaların güvenli karşıya geçişlerini sağlayan çizgili bölüm	...	Trafik Işıkları
4	Araç ve yayaların geçişlerini düzenleyen ışıklı cihaz.	...	Sürücü
5	Taşıtı kullanmayıp taşıt içinde seyahat eden kişi	...	Yaya Geçidi

C) Aşağıdaki cümlelerdeki noktalı yerleri uygun kelimelerle tamamlayınız. (10 puan)

Emniyet kemeri

hava

yaya kaldırımı

kara

sürücü

- 1-Bisiklet, otomobil ve kamyonyolunda kullanılan araçlardır.
- 2-Kara yolunda motorlu veya motorsuz bir aracı kullanan kişiyedenir.
- 3-Kazalarda yaralanma riskini azaltmak içintakarız.
- 4-Ulaşımında en hızlı yolculukyollarında yapılır.
- 5-Yayaların yürümek için kullandığı alanadenir.








D) Aşağıdaki tabloya ulaşım türlerini yazarak verilen taşıtları ulaşım türlerine uygun olarak gruplandırınız (16 puan)

otomobil - uçak - tren - gemi - otobüs - helikopter - tramvay - vapur






ULAŞIM TÜRLERİ

HAVA YOLU	KARA YOLU	DENİZ YOLU	DEMİR YOLU

E) Trafik işaretleriyle anlamlarını eşleştirin. (7 x 2 = 14 puan)

						
<input type="radio"/>	<input type="radio"/>	<input type="radio"/>	<input type="radio"/>	<input type="radio"/>	<input type="radio"/>	<input type="radio"/>
1 - bisiklet giremez	2 - hastane	3 - yaya geçidi	4 - okul geçidi	5 - kontrolsüz demir yolu geçidi	6 - ışıklı trafik işaret cihazı	7 - kamyon giremez

F) Aşağıda verilen araçları sürücüleri ile eşleştiriniz. (10 puan)

				
1	2	3	4	5
kaptan	pilot	vatman	şoför	makinist

G) Aşağıdaki çoktan seçmeli soruları cevaplayınız. (Her soru 3 puandır)

<p>1-) Burcu, Ankara'dan İstanbul'a gidecek. Fakat çok zamanı yok hemen gidip geri dönmesi gerekiyor. Yukarıdaki açıklamaya göre, Burcu aşağıdaki ulaşım araçlarından hangisini tercih etmelidir?</p> <p>A) Otobüs B) Tren C) Uçak D) Otomobil</p>	<p>2-) Aşağıda verilen araç ve ulaşım türü eşleştirmelerinden hangisi <u>yanlıştır</u>?</p> <p>A) Uçak ↔ hava yolu B) Tren ↔ Demir yolu C) Kamyon ↔ Kara yolu D) Gemi ↔ Demir yolu</p>
<p>3-) Otobüs ve otomobil hangi ulaşım yoluna ait araçlardandır?</p> <p>A) Hava yolu B) Demir yolu C) Kara yolu D) Deniz yolu</p>	<p>4-) Trafikte en önemli unsur nedir?</p> <p>A) Taşıt B) Trafik işaret levhası C) İnsan D) Banket</p>
<p>5-) Kara yollarının güvenli olması için aşağıdakilerden hangisi gerekli <u>değildir</u>?</p> <p>A) Alt ve üst geçitler C) Reklam levhaları B) Yaya ve okul geçidi D) Işıklı işaret cihazlar</p>	<p>6-) Ulaşım türünü ve ulaşım aracını tercih ederken hangisini <u>dikkate almayız</u>?</p> <p>A) Sık sık mola vermesini B) Ekonomik olmasını C) Ulaşım süresini D) Güvenli olmasını</p>
<p>7-) Toplu taşıma araçlarında özel durumu olan kişilere yer vermemiz gerekir. Hangisi bu kişilerden biri <u>değildir</u>?</p> <p>A) Hamileler B) Yaşlılar C) Engelliler D) Gençler</p>	<p>8-) Aşağıdakilerden hangisi geçiş üstünlüğü hakkı olan araçlardan biri <u>değildir</u>?</p> <p>A) İtfaiye B) Ambulans C) Tır D) Polis</p>
<p>9-) Ambulans ve itfaiye sürücülerinin hız ve yön değiştirme kurallarına uymaması nedir?</p> <p>A) Geçiş üstünlüğü B) Geçiş hakkı C) Geçiş sırası D) Trafik üstünlüğü</p>	<p>10-) Günlük yaşantımızda okula, markete veya parka gitmek için aşağıdakilerin hangisini tercih etmeliyiz?</p> <p>A) En güvenli yolları B) En kısa yolları C) Yaya kaldırımı olmayan yolları D) Taşıt yolları</p>