

Adı Soyadı :

Sınıfı / Okul No :

4/... Sınıfı Müzik Dersi
1. Dönem 2. Yazılı Sınavı

1. Aşağıdakilerden hangisi bağımsızlığımızın simgesidir? (5 Puan)

- A) Gençlik Marşı
- B) İzmir Marşı
- C) İstiklal Marşı
- D) Öğretmen Marşı

2. İstiklal Marşının sözlerini kim yazmıştır? (5 Puan)

- A) Mehmet Akif ERSOY
- B) Osman Zeki ÜNGÖR
- C) Necip Fazıl KISAKÜREK
- D) Behçet Kemal ÇAĞLAR

3. İstiklal Marşının sözlerini kim bestelemiştir? (5 Puan)


- A) Mehmet Akif ERSOY
- B) Osman Zeki ÜNGÖR
- C) Necip Fazıl KISAKÜREK
- D) Behçet Kemal ÇAĞLAR

4. “..... düşünce ve hislerimizin seslerle ifade edilme sanatıdır.” Cümlesinde noktalı yere aşağıdakilerden hangisi yazılmalıdır? (5 Puan)

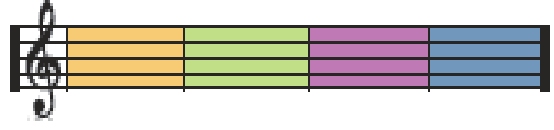
- A) Resim
- B) Tiyatro
- C) Sinema
- D) Müzik

5. Birbirine paralel 5 çizgi ve dört eşit aralıktan oluşan müzik yazılarının satırlarına ne ad verilir? (5 Puan)

- A) Dizек
- B) Sol Anahtarı
- C) Nota
- D) Ölçü

6.  Dizeğin ikinci çizgisinden başlayan ve bu çizgiye adını veren şeklin adı nedir? (5 Puan)

- A) Dizек
- B) Sol Anahtarı
- C) Nota
- D) Ölçü



7. Dizeği dikey olarak eşit kutucuklara bölen düz çizgilere ne ad verilir? (5 Puan)

- A) Dizек
- B) Sol Anahtarı
- C) Nota
- D) Ölçü

8. “Seslerin sürelerini ölçmek için elimiz veya ayağımızla yaptığımız, aşağı ve yukarı yöndeki eşit süreli harekete denir.”



Cümlesinde noktalı aşağıdakilerden hangisi yazılmalıdır? (5 Puan)

- A) Dörtlük
- B) Vuruş
- C) Sus
- D) Dizек

9. Bir vuruşluk sürede söylenen veya çalınan nota değerine ne ad verilir? (5 Puan)

- A) Sus
- B) Sekizlik Nota
- C) Dörtlük Nota
- D) Vuruş

10. Müzikte bir vuruş süresince susulması gerektiğini gösteren işaret aşağıdakilerden hangisidir? (5 Puan)



11. “Sol anahtarından sonra gördüğümüz bu sayılara diyoruz.”



Cümlesinde noktalı aşağıdakilerden hangisi yazılmalıdır? (5 Puan)

- A) Sol anahtarı
- B) Sus işareti
- C) Ölçü belirteci
- D) Bitiş çizgisi



12. Yukarıda verilen müzik notalarından eksik olan notalar hangileridir? (5 Puan)

- A) ye – la B) mi – la C) ka – me D) da – di











13. Aşağıda verilen sembollerden hangisi dörtlük notadır? (5 Puan)

- A)  B)  C)  D) 

14. Kaç tane nota vardır? (5 Puan)

- A)4 B)8 C)12 D)16

15. Aşağıda verilen adların numaralarını ilgili sembollerin üzerine yazarak eşleştiriniz? (10x3=30 Puan)

1. Dörtlük Nota	()	()	()	()	()
2. Sekizlik Nota					
3. Sus İşareti					
4. Sol Anahtarı					
5. Ölçü Çizgisi					
6. Ölçü Belirtecisi					
7. Bitiş Çizgisi	()	()	()	()	()
8. Ölçü					
9. Dizək					
10. Vuruş					

BAŞARILAR DİLERİM.