

TATİLLE İLGİLİ SORULAR



1. Tatilde gezmeye nereye gittin?

.....
.....

2. Hangi oyunları oynadın?

.....
.....
.....

3. Oyunları kimlerle oynadın?

.....
.....

4. Okulu özledin mi? En çok ne yapmayı özledin?

.....
.....

5. Nasıl bir tatil hayal ederdin?

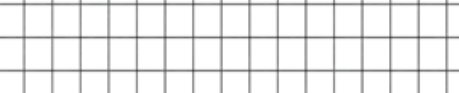
.....
.....
.....
.....
.....
.....
.....
.....
.....
.....

YARIYIL TATİL KİTABIMIZ



MANTIK PROBLEMLERİ

- 1- Okul kütüphanemizdeki kitapları düzenliyoruz. Her rafa 32 kitap sığabiliyor. Hikâye kitaplarını ilk rafa dizdiğimizde 14 kitap artıyor. Masal kitaplarını ikinci rafa dizdiğimizde ise 5 kitaplık yer artıyor. Bizim kaç kitabımız var?



- 2- Selin, beş yıl sonraki doğum gününde ehliyetini alabileceği yaşa gelmiş olacak. Ehliyetini aldıktan beş yıl sonra da üniversiteden mezun olmayı planlıyor. Selin planlarına göre kaç yaşında üniversiteden mezun olmuş olur?

A blank sheet of graph paper with a grid pattern. The grid consists of 20 columns and 15 rows of small squares. There are no margins or other markings on the page.

- 3- Bir yolcu otobüsündeki koltuklar iki kişiliktir. Bu otobüste 22 koltuk vardır. Giriş kapısının yanında tek kişilik bir koltuk daha bulunmaktadır. Yolculardan 21'i kadın, 12'si çocuktur. Otobüsteki erkek yolcu sayısı kaçtır?

OLAYLAR OLAYLAR



- Görselde yaşanan olayı inceleyelim. Olay sırasını bozmadan ve hikâye unsurlarını (yer-zaman-kişi) kullanarak bir hikâye yazalım. Hikâyemiz için başlık yazmayı unutmayalım.

[illegible]

SORULARI CEVAPLAYALIM

1. Dünyamızın katmanlarını içten dışa doğru sıralayarak yazalım.

.....
.....
.....

2. Duyu organlarımız nelerdir?

.....
.....
.....

3. Hareket türlerini yazalım.

.....
.....
.....

4. Kuvvet nedir? İtme ve çekme kuvvetlerine birer örnek verelim.

.....
.....
.....

5. Doğada varlıklar maddenin hangi hallerinde bulunurlar?

.....
.....
.....

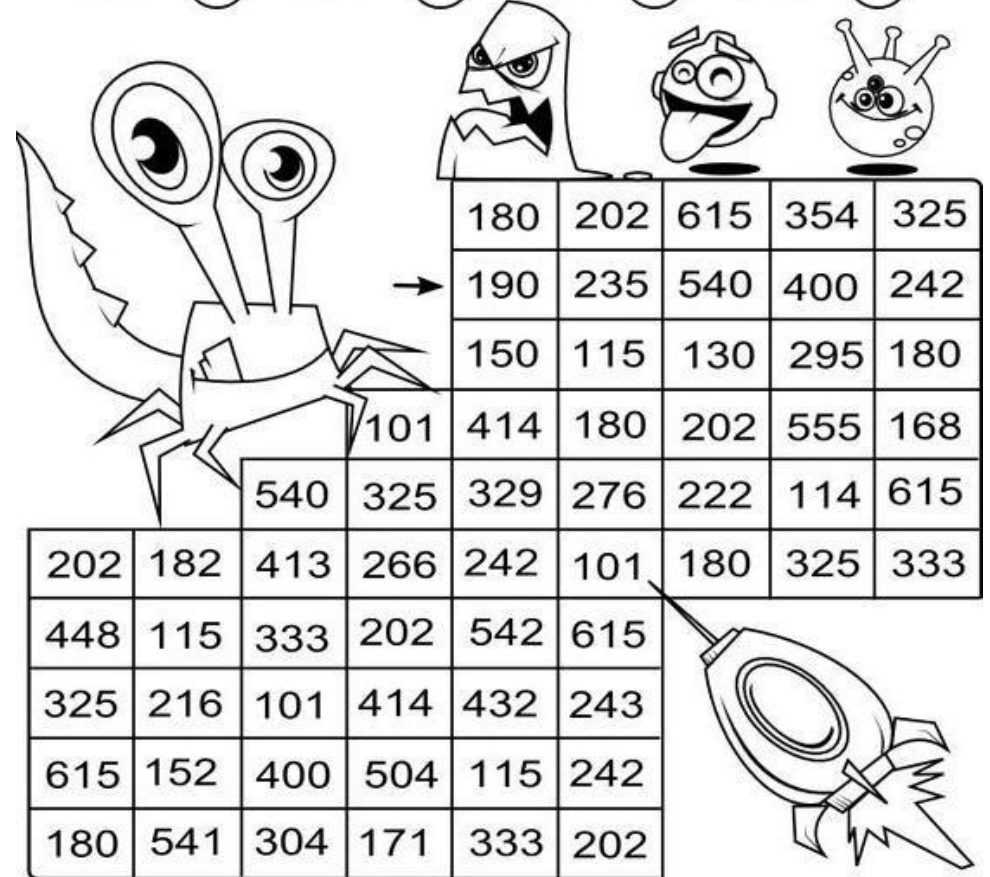
6. Karanlıkta neden göremeyiz? Açıklayalım.

.....
.....
.....

ÇARP- BUL- BOYA

Sonuçlara göre yengecin yolunu boyayalım.

$38 \times 5 =$ ○	$47 \times 5 =$ ○	$26 \times 5 =$ ○	$59 \times 5 =$ ○
$28 \times 6 =$ ○	$19 \times 6 =$ ○	$37 \times 6 =$ ○	$46 \times 6 =$ ○
$47 \times 7 =$ ○	$38 \times 7 =$ ○	$59 \times 7 =$ ○	$26 \times 7 =$ ○
$56 \times 8 =$ ○	$27 \times 8 =$ ○	$19 \times 8 =$ ○	$38 \times 8 =$ ○
$19 \times 9 =$ ○	$56 \times 9 =$ ○	$48 \times 9 =$ ○	$27 \times 9 =$ ○



180	202	615	354	325				
190	235	540	400	242				
150	115	130	295	180				
101	414	180	202	555	168			
540	325	329	276	222	114	615		
202	182	413	266	242	101	180	325	333
448	115	333	202	542	615			
325	216	101	414	432	243			
615	152	400	504	115	242			
180	541	304	171	333	202			

ŞİİR ZAMANI



TATİL OLUNCA

Okullar tatil olunca,
Özlerim okulumu.
Arkadaşımdan ayrılınca,
Yalnız oynarım oyunu.

Arkadaşılarım, öğretmenlerim,
Her birini çok severim.
Tatilde ailemleken bile
Ben onları özlerim.

Bilirim tatil bir ihtiyaç,
İnsan dinlenmeye de muhtaç.
Yine de okulum eğlenceli,
Bekle beni, kapılarını aç.

Funda Menekşe

- 1- Şair ne zaman okulunu özlemiş?
.....
- 2- Şiirde insanın neye muhtaç olduğundan bahsediliyor?
.....
- 3- Şaire göre okul nasıl bir yermiş?
.....
- 4- Şiirin ana duygusu ve teması nedir?
.....
.....
.....
.....

DİLBİLGİSİ ÇALIŞMALARI I

Verilen kelimeleri hecelerine ayırarak yazalım.

Battaniye

Oduncuların

kurtlarla

Verilen kelimeleri sözlük sırasına göre sıralayalım.

Gül- çam- sümbül- gürge- karanfil- sedir- salkımsöğüt- çınar

Aşağıdaki kelimelerden somut anlamlı olanların altındaki kutuyu kırmızı, soyut olanların altındaki kutuyu yeşil boyayalım.

MASA

SANDALYE

RÜYA

YORGAN

MUTLULUK

HÜZÜN


BEŞİK

RADYO

Karışık verilen kelimelerle anlamlı cümleler yazalım.

- geldiğinde- tatil- özlerim- okulumu
-
- bize- tatilde- dayımlar- geleceklerdi- bu
-
- katmanı- nefes- olmasaydı- hava- alamazdık
-

TOPLAMA ZAMANI




A. $177 + 248$	B. $295 + 258$	C. $388 + 122$
D. $267 + 355$	E. $374 + 478$	F. $299 + 157$
G. $182 + 189$	H. $358 + 552$	I. $485 + 196$
J. $472 + 349$	K. $546 + 184$	L. $398 + 382$

Her sırada bulduğumuz sonuçları büyükten küçüğe sıralayalım.

1.
2.
3.
4.

HIZIMIZI ÖLÇELİM

Çarpma işlemlerini yaparken süre turalım. Kaç dakikada bittiğini yazalım.



28×6	26×5	32×3	134×4	16×8	19×9	14×2
32×7	46×8				53×5	58×5
96×6	48×5				46×10	59×10
29×7	32×8				31×10	37×5
36×7	45×5				36×9	51×7
46×3	36×5	49×6	36×7	42×8	56×7	35×8

Kaç dakikada bitirdin? dakika.

DİLBİLGİSİ ÇALIŞMALARI 2

Kelimelerin eş anlamlılarını yanına yazalım.



Vatan =	Konuk=.....
Anı=.....	Konut=.....
Hekim=.....	Pabuç=.....
Sürat=.....	Surat=.....
Fakir=.....	Sene=.....
İsim=.....	Merasim=.....

Kelimelerin zıt anlamlılarını yazalım

sert x	ince x
düzenli x	yakın x
tümsek x	karanlık x
cimri x	ödül x
kirli x	tenha x
çalışkan x	evli x
ilk x	önce x

GÜZEL HEDİYE



Elif ve İbrahim birbirleriyle çok iyi anlaşan iki kardeşti. Birlikte oynamaktan çok hoşlanırlardı.

Okullar tatil olduğunda dayıları ailesiyle birlikte onlara misafirlğe geldi. Çocuklar kuzenleri olan Kenan'ı çok seviyorlardı. Dayıları onlara çok güzel bir hediye getirmişti. Çocuklar hediyeyi görünce mutluluktan çığlık attılar.

Ertesi gün hep birlikte bir buz pistine gittiler. Hediyeleri çok işe yaramıştı. Tüm gün zevkle kayarak, eğlendiler.

Funda Menekşe!

1- Metinde geçen olay ne zaman yaşanmıştır?

.....

2- Elif ve İbrahim'e ne hediye gelmiş olabilir?

.....

.....

3- Çocuklar hediyeyi görünce nasıl tepki verdiler?

.....

.....

4- Siz hiç buz pateni yaptınız mı ya da kızakla kaydınız mı?

.....

.....

.....

HAYATIN İÇİNDEN BİLGİLER

Tatilde gittiğin bir yeri bize kroki çizerek tarif edebilir misin?

- Aşağıdaki meslek sahipleri ile çalışma alanlarını eşleştirelim.



iletişim

sağlık

Hizmet
sektörü

Eğitim

güvenlik

Siz ileride hangi mesleği yapmak istiyorsunuz? Neden?

.....

.....

MATEMATİK ZAMANI

- Verilen sayıların okunuşunu yazalım.

154:

360:

108:

927:

- Sayıları büyükten küçüğe doğru > işareti kullanarak sıralayalım.

545, 531, 290, 648 :

207, 287, 770, 537:

- Verilen sayılardan bir önce ve bir sonra gelen sayıları yazalım.

..... 278 352 760

- Sayıları onluk ve birliklerine ayırarak yazalım.

667: yüzlük+ birlik + onluk

952: + +

Sayılar tek ise başına T, çift ise başına Ç harfini yazalım.

(.....) 263 (.....) 627 (.....) 506 (.....) 201 (.....) 155

(.....) 380 (.....) 114 (.....) 597 (.....) 728 (.....) 342

- Sayıları en yakın yüzlüğe yuvarlayalım.

168 ← []

551 ← []

289 ← []

150 ← []

329 ← []

781 ← []


[illegible]

.....

.....

.....

.....

[illegible]

Bu gezegenleri
hayaline göre boya ve
isim ver.

A blank, open notebook with two facing pages. The pages are cream-colored and feature a light blue grid pattern. The notebook is bound in a dark blue cover, which is visible at the edges. The central binding shows the spiral stitching. The pages are completely empty, with no writing or markings.

A blank, lined notebook page with a spiral binding in the center. The page is divided into two columns by the binding. The left column has 20 horizontal lines, and the right column has 20 horizontal lines. The page is otherwise blank, with no writing or markings.

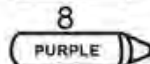

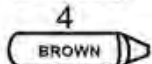
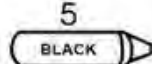
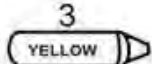
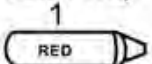
İngilizce dersinde öğrendiğiniz renkleri hatırlıyor musunuz?
Etkinliği verilen renklere uygun olarak boyamalıyız.

Name: Date:

COLOR BY NUMBER CAR



Color Key



OKURUM, ANLATIRIM, YAZARIM

Tatilde okuduğın kitaplardan biri ile ilgili kavram haritası ve özet çalışması yapalım.

Beğendiğin bir kısmın resmini çiz.

Olayın geçtiği zaman:

.....

Olayın geçtiği yer:

.....


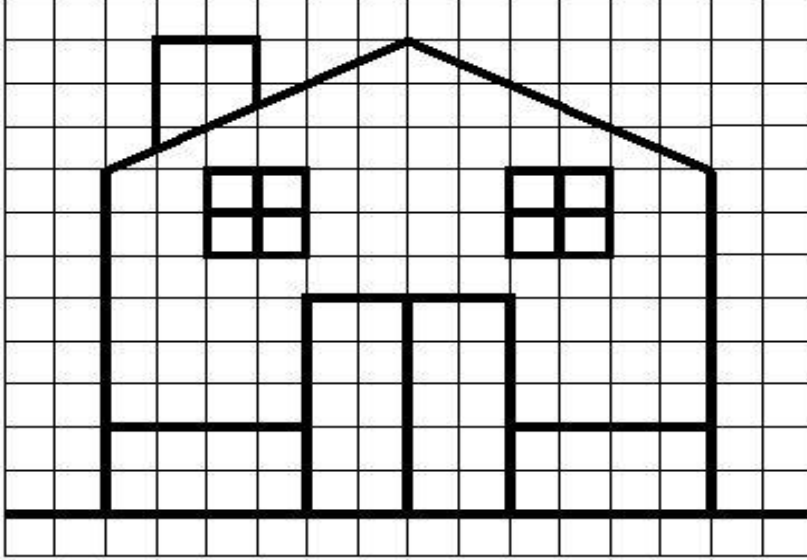
Olayın kahramanları kimlerdi?

.....

Kitabımı Özetliyorum

[illegible]

AYNISINI ÇİZEBİLİRİM

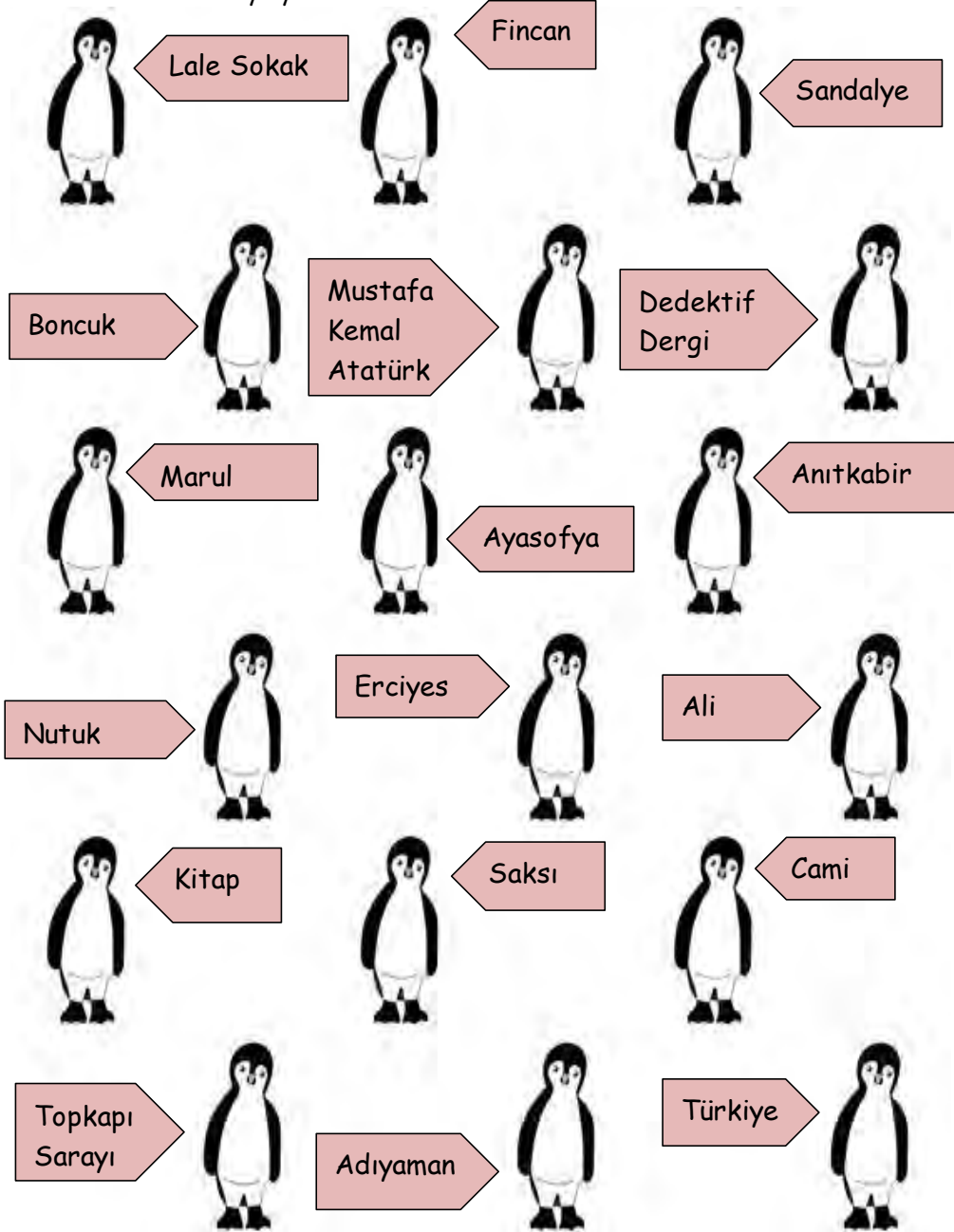


Problemleri defterimizde çözüp sonuçları buraya yazalım.

- 1- Her koliye 35 kutu meyve suyu konuldu. 21 koli hazırlandığına göre kaç kutu meyve suyu kolilenmiştir? ()
- 2- Aysun'un 135 lirası var. Ablasının kumbarasında ise Aysun'un parasının 7 katı para birikmiş. Ablasının kaç lirası vardır? ()
- 3- Bir çiftlikte 12 koyun, 27 tavuk var. Bu hayvanların ayaksayıları toplamı kaçtır? ()
- 4- Selim 16 yaşında ve Yaşar'ın yaşı Selim'in yaşının 5 katından 4 eksiktir. Selim ve Yaşar'ın yaşları toplamı kaçtır? ()
- 5- Bir trende 9 adet vagon bulunmaktadır. Her bir vagona ise 47 yolcu vardır. Bu trene 65 yolcu daha binmiştir. Trende son durumda kaç yolcu olmuştur? ()
- 6- 23 sayısının 9 katının 51 eksiği kaçtır? ()
- 7- Bir fırıncı 650 tane ekmek yaptı. Sabah 150 tane ve akşam ise sabah sattığının 2 katı kadar ekmek sattı. Bu fırıncının kaç tane ekmeği kalmıştır? ()
- 8- Her gün 150 soru çözen Ali, bir haftada kaç soru çözmüş olur? ()
- 9- 600 koyunun 329 tanesi satıldı. Geriye kalan koyunların 123 tanesini de hayır kurumlarına verdiler. Geriye kaç koyun kaldı? ()
- 10- 85 deste gülün 15 düzinesi kurudu. Geriye kaç adet gül kaldı? ()

TÜR ADI MI, ÖZEL AD MI?

Aşağıdaki kelimelerden tür adı olanların yanındaki penguenlerin karınlarını sarı boyayalım.



DOĞRU- YANLIŞ

- Aşağıda verilen bilgilerden doğru olanların başındaki kutuya D, yanlış olanların başındaki kutuya Y yazalım.

	Konuşan arkadaşımın yüzüne bakmam gerekmez.
	Aşırı şeker tüketimi sonucunda diyabet hastalığına yakalanabiliriz.
	Evde bütün işleri annelerin yapması gerekir.
	Kumbarasında para biriktiren Soner tutumlu davranmıştır.
	Bilinçli bir tüketici dondurulmuş gıdaları tercih etmez.
	Kaykay ve paten ana caddelerde kullanılabilir.
	Yangın olduğunda önce 155'i aramalıyız.
	Naim Süleymanoğlu, Cep Herkülü lakabıyla tanınmıştır.
	Zeytin en çok İç Anadolu Bölgesi'nde yetişir.
	Atatürk Selanik'te vefat etmiştir.

BOŞLUKLARI DOLDURALIM

- Oyunlarda davranmaya çalışırım.
- Bulduğumuz yerin krokisini çizerken yakınlardaki yerleri belirtiriz.
- Okulda katıldığımız sosyal ve kültürel etkinlikler sahibi olmamızı sağlar.
- Kurtuluş Savaşı toplumsal veörnektir.
- Sosyal faaliyetler arkadaşlıkları
- Bir yerin kuşbakışı görünüşünü çizerken çizmiş oluruz.

yardımlaşmaya

tarafsız


kroki

geliştirir

dayanışmaya

öz güven

GİZLENEN NESNELERİ BUL - RESMİ BOYA



ÇIKARMA İŞLEMİNİ HATIRLAYALIM

İşlemleri yapmaya başlamadan önce süre tutmaya ne dersiniz? On dakikada hepsini doğru yapabilenler kendilerine bir yıldız boyayabilirler.



	$\begin{array}{r} +245 \\ 382 \end{array}$	$\begin{array}{r} +369 \\ 324 \end{array}$	$\begin{array}{r} +489 \\ 105 \end{array}$	$\begin{array}{r} +381 \\ 309 \end{array}$	$\begin{array}{r} +150 \\ 612 \end{array}$	$\begin{array}{r} +387 \\ 109 \end{array}$
1	$\begin{array}{r} -401 \\ 247 \end{array}$	$\begin{array}{r} -912 \\ 329 \end{array}$	$\begin{array}{r} -833 \\ 288 \end{array}$	$\begin{array}{r} -701 \\ 466 \end{array}$	$\begin{array}{r} -660 \\ 109 \end{array}$	$\begin{array}{r} -500 \\ 257 \end{array}$
2	$\begin{array}{r} +464 \\ 379 \end{array}$	$\begin{array}{r} +284 \\ 324 \end{array}$	$\begin{array}{r} +195 \\ 505 \end{array}$	$\begin{array}{r} +371 \\ 173 \end{array}$	$\begin{array}{r} +398 \\ 602 \end{array}$	$\begin{array}{r} +295 \\ 327 \end{array}$
	$\begin{array}{r} -501 \\ 247 \end{array}$	$\begin{array}{r} -708 \\ 349 \end{array}$	$\begin{array}{r} -878 \\ 298 \end{array}$	$\begin{array}{r} -904 \\ 456 \end{array}$	$\begin{array}{r} -800 \\ 109 \end{array}$	$\begin{array}{r} -702 \\ 249 \end{array}$
3	$\begin{array}{r} +395 \\ 368 \end{array}$	$\begin{array}{r} +276 \\ 437 \end{array}$	$\begin{array}{r} +164 \\ 736 \end{array}$	$\begin{array}{r} +387 \\ 413 \end{array}$	$\begin{array}{r} +368 \\ 245 \end{array}$	$\begin{array}{r} +405 \\ 398 \end{array}$
	$\begin{array}{r} -901 \\ 137 \end{array}$	$\begin{array}{r} -804 \\ 319 \end{array}$	$\begin{array}{r} -778 \\ 288 \end{array}$	$\begin{array}{r} -601 \\ 436 \end{array}$	$\begin{array}{r} -900 \\ 224 \end{array}$	$\begin{array}{r} -818 \\ 188 \end{array}$
4	$\begin{array}{r} +205 \\ 409 \end{array}$	$\begin{array}{r} +594 \\ 27 \end{array}$	$\begin{array}{r} +166 \\ 209 \end{array}$	$\begin{array}{r} +286 \\ 529 \end{array}$	$\begin{array}{r} +208 \\ 299 \end{array}$	$\begin{array}{r} +369 \\ 272 \end{array}$
	$\begin{array}{r} -801 \\ 247 \end{array}$	$\begin{array}{r} -868 \\ 332 \end{array}$	$\begin{array}{r} -608 \\ 309 \end{array}$	$\begin{array}{r} -501 \\ 436 \end{array}$	$\begin{array}{r} -610 \\ 137 \end{array}$	$\begin{array}{r} -621 \\ 476 \end{array}$