

ADI;
SOYADI;
SINIFI; 1/... NO; ...
TARİH; / / 20..

YARIYIL TATILI EV ÇALIŞMALARI

1. GÜN (TÜRKÇE)

NURHAN UZUN

HIZLI OKURUM

✚ Cümleleri takılmadan okuyalım

Gördüm.

Kedi gördüm.

Bir kedi gördüm.

Duvarda bir kedi gördüm.

Bahçedeki duvarda bir kedi gördüm.



✚ Cümleleri takılmadan okuyalım

Seviyorum.

Evimizi seviyorum.

Renkli evimizi seviyorum.

Mavi renkli evimizi seviyorum.

Duvarları mavi renkli evimizi seviyorum.



ADI;
SOYADI;
SINIFI; 1/... NO; ...
TARİH;/...../20..


YARIYIL TATILI EV ÇALIŞMALARI

1. GÜN (TÜRKÇE)

— NURHAN UZUN —

GÖRDÜĞÜMÜ BAKMADAN YAZARIM

Resmi verilen varlıkların adlarını yazalım

























ADI;
SOYADI;
SINIFI; 1/... NO; ...
TARİH;/...../20..

YARIYIL TATİLİ EV ÇALIŞMALARI

1. GÜN (TÜRKÇE)

NURHAN UZUN

OKUDUĞUMU ANLARIM

✚ Önce cümleyi okuyup anlayalım, sonra soruları cevaplayalım.

Emre masada ders çalışırken uyuyakaldı.



1. Kim uyuyakaldı?

2. Emre ne yaparken uyuyakaldı?

3. Emre nerede uyuyakaldı?

Ceyda, babasıyla piknik yapıyor.



1. Ceyda ne yapıyor?

2. Ceyda kiminle piknik yapıyor?

3. Kim piknik yapıyor?

ADI;
SOYADI;
SINIFI; 1/... NO; ...
TARİH;/...../20..


YARIYIL TATİLİ EV ÇALIŞMALARI

1. GÜN (MATEMATİK)

NURHAN UZUN

HEM EĞLENİRİM HEM ÖĞRENİRİM

1' den başlayarak 30'a kadar sayıları birleştirelim, ortaya çıkan resimdeki varlığın adını aşağıdaki bölüme yazalım.



ADI;
SOYADI;
SINIFI; 1/... NO; ...
TARİH;/...../20..

YARIYIL TATİLİ EV ÇALIŞMALARI

2. GÜN (TÜRKÇE)

NURHAN UZUN

HIZLI OKURUM

✚ Cümleleri takılmadan okuyalım

Yedim.

Simit yedim.

Çıtır simit yedim.

İki çıtır simit yedim

Susamlı iki çıtır simit yedim.

Bol susamlı iki çıtır simit yedim.



✚ Cümleleri takılmadan okuyalım

Gitti.

Eve gitti.

Koşarak eve gitti.

Hızla koşarak eve gitti.

Oğuz hızla koşarak eve gitti.



ADI;
SOYADI;
SINIFI; 1/... NO; ...
TARİH;/...../20..

YARIYIL TATILI EV ÇALIŞMALARI

2. GÜN (TÜRKÇE)

NURHAN UZUN

GÖRDÜĞÜMÜ BAKMADAN YAZARIM

Resmi verilen varlıkların adlarını yazalım

























ADI;
SOYADI;
SINIFI; 1/... NO; ...
TARİH;/...../20..

YARIYIL TATİLİ EV ÇALIŞMALARI

2. GÜN (TÜRKÇE)

NURHAN UZUN

OKUDUĞUMU ANLARIM

✚ Önce cümleyi okuyup anlayalım, sonra soruları cevaplayalım.

Dedem yaşlı olduğu için zor yürüyor.




1. Dedem nasıl yürüyor?

2. Dedem niçin zor yürüyor?

3. Kim zor yürüyor?

Ali'den sonra kaleye Metin geçti.

1. Ali'den sonra kaleye kim geçti?



2. Metin nereye geçti?

3. Metin'den önce kaleye kim geçti?

ADI;
SOYADI;
SINIFI; 1/... NO; ...
TARİH; / / 20..


YARIYIL TATİLİ EV ÇALIŞMALARI

2. GÜN (MATEMATİK)

NURHAN ÜZÜ

HEM EĞLENİRİM HEM ÖĞRENİRİM

✚ 1' den başlayarak 40'a kadar sayıları birleştirelim, ortaya çıkan resimdeki varlığın adını aşağıdaki bölüme yazalım.



ADI;
SOYADI;
SINIFI; 1/... NO; ...
TARİH;/...../20..


YARIYIL TATİLİ EV ÇALIŞMALARI

3. GÜN (TÜRKÇE)

NURHAN UZUN

OKUDUĞUMU ANLARIM

✚ Önce metni okuyup anlayalım, sonra soruları cevaplayalım.



.....
Annemin elinden tuttum.
Okulun yolunu tuttum.
Sınıfa girince fark ettim.
Çantamı evde unuttum.

1. Çocuk kimin elinden tutmuş?

2. Çocuk ve annesi nereye gidiyorlar?

3. Çocuk neyi unutmuş?

4. Çocuk çantayı unuttuğunu ne zaman fark etmiş?

5. Size göre şiirin başlığı ne olmalı? Yazınız.

ADI;
SOYADI;
SINIFI; 1/... NO; ...
TARİH; / / 20..

YARIYIL TATİLİ EV ÇALIŞMALARI

3. GÜN (TÜRKÇE)

NURHAN UZİ

KURALLI VE ANLAMLI CÜMLELER KURARIM

+ Resimlerdeki olaylara göre örnekteki gibi uygun cümleler kuralım.



Hakan resim yapıyor.



ADI;
SOYADI;
SINIFI; 1/... NO; ...
TARİH;/...../20..

YARIYIL TATİLİ EV ÇALIŞMALARI

3. GÜN (TÜRKÇE)

NURHAN UZUN

ÇOK GÜZEL YAZARIM

✚ Aşağıdaki şiiri okuyup **en güzel yazımızla** alttaki bölüme yazalım.

İLKBAHAR

Yağmur geçti, kar geçti,
Soğuk rüzgârlar geçti,
Güneşli bahçelerden
Güzel çocuklar geçti.



Aka GÜNDÜZ
(Kısaltılmıştır)


ADI;
SOYADI;
SINIFI; 1/... NO; ...
TARİH;/...../20..

YARIYIL TATİLİ EV ÇALIŞMALARI

3. GÜN (MATEMATİK)

HEM EĞLENİRİM HEM ÖĞRENİRİM

✚ 1' den başlayarak 50'ye kadar sayıları birleştirelim, ortaya çıkan resimdeki varlığın adını aşağıdaki bölüme yazalım.




ADI;
SOYADI;
SINIFI; 1/... NO; ...
TARİH;/...../20..

YARIYIL TATİLİ EV ÇALIŞMALARI

3. GÜN (MATEMATİK)

HEM EĞLENİRİM HEM ÖĞRENİRİM

✚ Görseldeki çocuklarla ilgili verilen bilgileri **dikkatlice** okuyalım. Bu bilgilere göre çocukların adlarını belirtilen uygun yerlere yazalım.



1.) Eda'nın sırt çantası var.

2.) Alara, Eda ile Savaş'ın arasında.

3.) Savaş (size göre) Davut'un sağında.

✚ Toplama işlemlerini yapalım. Toplamlara denk gelen harflere göre alttaki şifreli kelimeleri bulalım.

$$4 + 2 = \square \text{ İ}$$

$$9 + 5 = \square \text{ K}$$

$$6 + 3 = \square \text{ D}$$

$$8 + 7 = \square \text{ E}$$

$$5 + 3 = \square \text{ İ}$$

$$8 + 6 = \square \text{ R}$$

$$7 + 4 = \square \text{ K}$$

$$3 + 2 = \square \text{ E}$$

Şifreli
kelimeyi
bulabildin mi?

14	15	9	6

5	14	8	11

ADI;
SOYADI;
SINIFI; 1/... NO; ...
TARİH;/...../20..

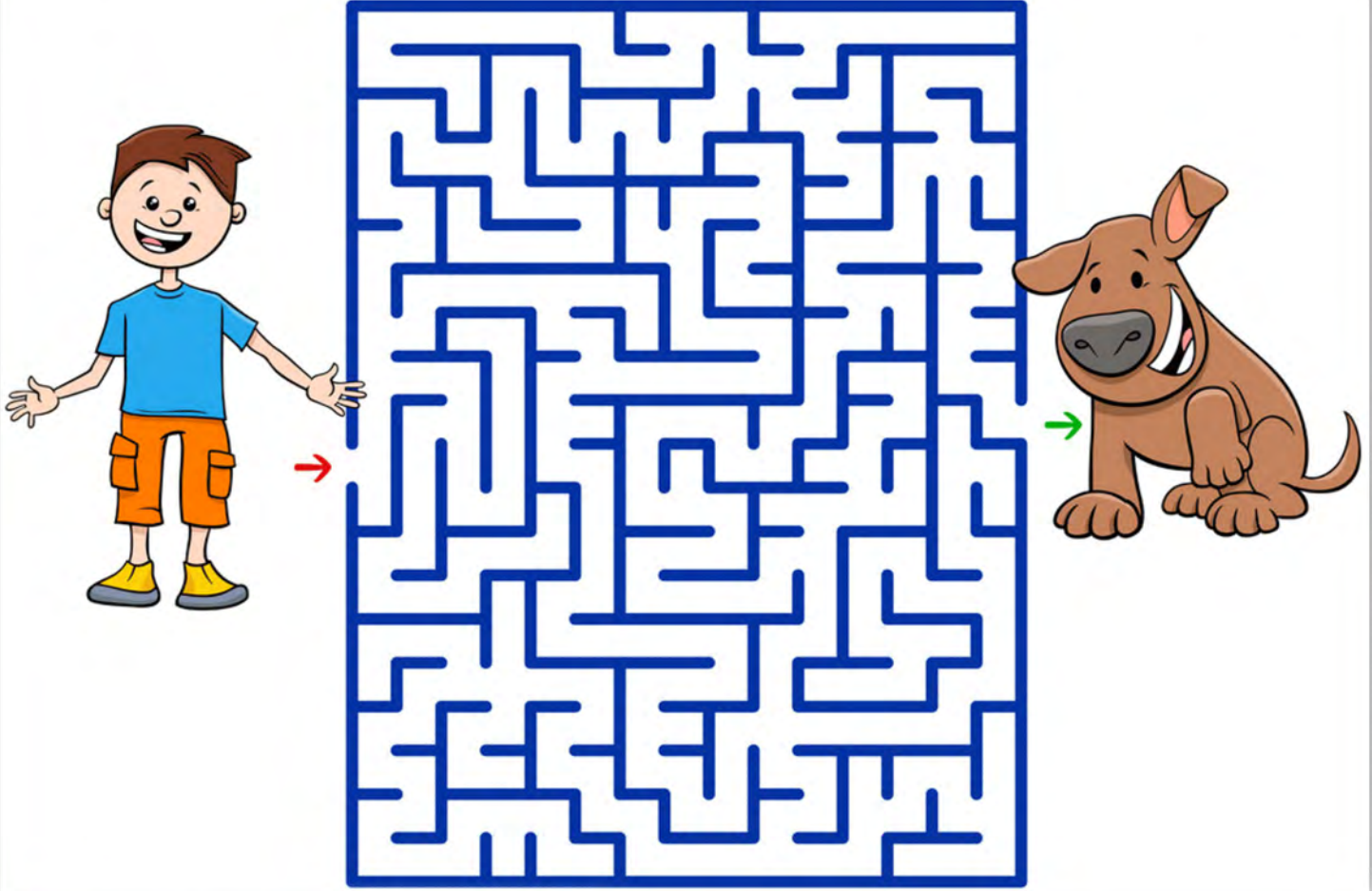
YARIYIL TATİLİ EV ÇALIŞMALARI

3. GÜN (EĞLENCE ZAMANI)

NURHAN UZUN

ÇOK DİKKATLİYİMDİR. BENDEN BİR ŞEY KAÇMAZI!

✚ Doğru yolu takip ederek Fatih'i köpeği Bobi'ye ulaştıralım.



✚ İki resim arasındaki 5 farkı bulalım.



ADI;
SOYADI;
SINIFI; 1/... NO; ...
TARİH;/...../20..

YARIYIL TATİLİ EV ÇALIŞMALARI

4. GÜN (TÜRKÇE)

OKUDUĞUMU ANLARIM

Önce metni okuyup anlayalım, sonra soruları cevaplayalım.

KAR

Yeni yılın ilk günüydü. Berkay sabah uyanıp pencereden dışarı baktı. Her yer bembeyaz kardı. Hem şaşırdı, hem sevindi. Kahvaltıdan sonra annesinden izin alıp sokağa çıktı. Arkadaşlarıyla doya doya kar topu oynadı.



1. Berkay pencereden bakınca ne gördü?

2. Kar ne zaman yağdı?

3. Kar yağdığını gören Berkay ne hissetti?

4. Berkay evden çıkmak için kimden izin aldı?

5. Berkay ve arkadaşları ne oynadılar?

ADI;
SOYADI;
SINIFI; 1/... NO; ...
TARİH; / / 20..

YARIYIL TATİLİ EV ÇALIŞMALARI

4. GÜN (TÜRKÇE)

NURHAN ÜZTİ

KURALLI VE ANLAMLI CÜMLELER KURARIM

+ Görsellerdeki varlık adlarıyla örnekteki gibi cümleler kuralım.



Evimizin bahçesine salıncak kurduk.



ADI;
SOYADI;
SINIFI; 1/... NO; ...
TARİH;/...../20..

YARIYIL TATİLİ EV ÇALIŞMALARI

4. GÜN (TÜRKÇE)



ÇOK GÜZEL YAZARIM

✚ Aşağıdaki şiiri okuyup **en güzel yazımızla** alttaki bölüme yazalım.

OKULUMUZ

Her yerden daha güzel
Bizim için burası,
Okul, sevgili okul,
Neşe, bilgi yuvası.

Güzel kitaplar burada,
Birçok arkadaş burada,
İnsan nasıl sevinmez,
Böyle yerde okur da?

ADI;
SOYADI;
SINIFI; 1/... NO; ...
TARİH;/...../20..


YARIYIL TATILI EV ÇALIŞMALARI

4. GÜN (MATEMATİK)

NURHAN UZUN

HEM EĞLENİRİM HEM ÖĞRENİRİM

1' den başlayarak 50'ye kadar sayıları birleştirelim, ortaya çıkan resimdeki varlığın adını yandaki bölüme yazalım.



ADI;
SOYADI;
SINIFI; 1/... NO; ...
TARİH;/...../20..

YARIYIL TATİLİ EV ÇALIŞMALARI

4. GÜN (MATEMATİK)

NURHAN ÜZÜ

HEM EĞLENİRİM HEM ÖĞRENİRİM

✚ Görseldeki oyuncakların bulundukları yerleri dikkatlice inceleyerek aşağıda verilen cümlelerde boş bırakılan bölümleri uygun şekilde dolduralım.

- 1.) Dinozorun sağında var.
- 2.) Ördeğin solunda var.
- 3.) Tren, robotun dır.
- 4.) Roket, dinozorun dır.
- 5.) Topun solunda var.
- 6.) Fil, arabanın dır.

SİZİN BAKIŞ AÇINIZA GÖRE

Sağında ne var? Solunda ne var?



✚ Toplama işlemlerini yapalım. Toplamlara denk gelen harflere göre alttaki şifreli kelimeleri bulalım.

$$1 + 9 = \square \text{ E}$$

$$8 + 3 = \square \text{ M}$$

$$5 + 2 = \square \text{ R}$$

$$4 + 8 = \square \text{ T}$$

$$5 + 5 = \square \text{ İ}$$

$$6 + 6 = \square \text{ N}$$


$$7 + 7 = \square \text{ S}$$

$$8 + 8 = \square \text{ A}$$

Şifreli
kelimeyi
bulabildin mi?

11	10	7	12

12	10	14	16



ADI;
SOYADI;
SINIFI; 1/... NO; ...
TARİH;/...../20..

YARIYIL TATİLİ EV ÇALIŞMALARI

4. GÜN (EĞLENCE ZAMANI)

NURHAN UZUN

ÇOK DİKKATLİYİMDİR. BENDEN BİR ŞEY KAÇMAZI!

Doğru yolu takip ederek Alper'i okula ulaştıralım.



İki resim arasındaki 5 farkı bulalım.



ADI;
SOYADI;
SINIFI; 1/... NO; ...
TARİH;/...../20..

YARIYIL TATİLİ EV ÇALIŞMALARI

5. GÜN (TÜRKÇE)

NURHAN ÜZÜ

OKUDUĞUMU ANLARIM

Önce metni okuyup anlayalım, sonra soruları cevaplayalım.

RESİM

Hasan dayısı Cem'e yeni resim defteri almıştı. Eve gelir gelmez odasına geçti. Boya kalemlerini çıkardı. Önce ne resmi yapacağını düşündü. Sonra başladı çizmeye... Güneş, dağ, nehir ve gökkuşağı çizdi.



1. Dayısı Cem'e ne aldı?

2. Cem'e kim resim defteri aldı?

3. Cem resmi çizmeye başlamadan önce ne yaptı?

4. Cem resmini nerede çizdi?

5. Cem resminde neler çizdi?

ADI;
SOYADI;
SINIFI; 1/... NO; ...
TARİH;/...../20..

YARIYIL TATİLİ EV ÇALIŞMALARI

5. GÜN (TÜRKÇE)

NURHAN ÜZTÜRK

KURALLI VE ANLAMLI CÜMLELER KURARIM

Önce bebeğimize bir isim verelim ve resimlere bakarak neler yaptığını birer cümle ile yazalım.



Blank writing line for the first sentence.



Blank writing line for the second sentence.



Blank writing line for the third sentence.



Blank writing line for the fourth sentence.



Blank writing line for the fifth sentence.



Blank writing line for the sixth sentence.



Blank writing line for the seventh sentence.



Blank writing line for the eighth sentence.



Blank writing line for the ninth sentence.

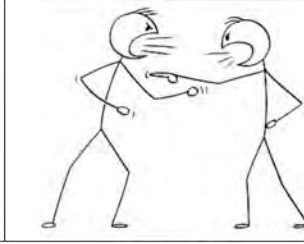
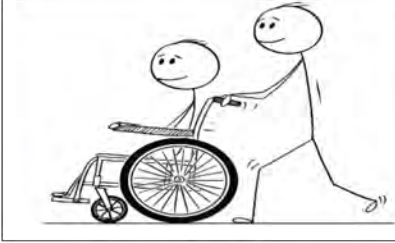


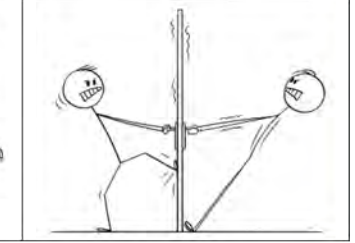




ADI;
SOYADI;
SINIFI; 1/... NO; ...
TARİH;/...../20..

YARIYIL TATILI EV ÇALIŞMALARI

5. GÜN (HAYAT BİLGİSİ)

DOĞRU DAVRANIŞLAR SERGİLERİM

✚ Aşağıdaki görsellerde anlatılan davranışlar doğru ise kutusunu yeşile, yanlış ise kutusunu kırmızıya boyayalım.

☐☐☐☐☐☐☐☐☐☐☐☐☐☐☐☐

UNUTMA!

Doğru davranışlarda bulunanlar herkes tarafından sevilir.

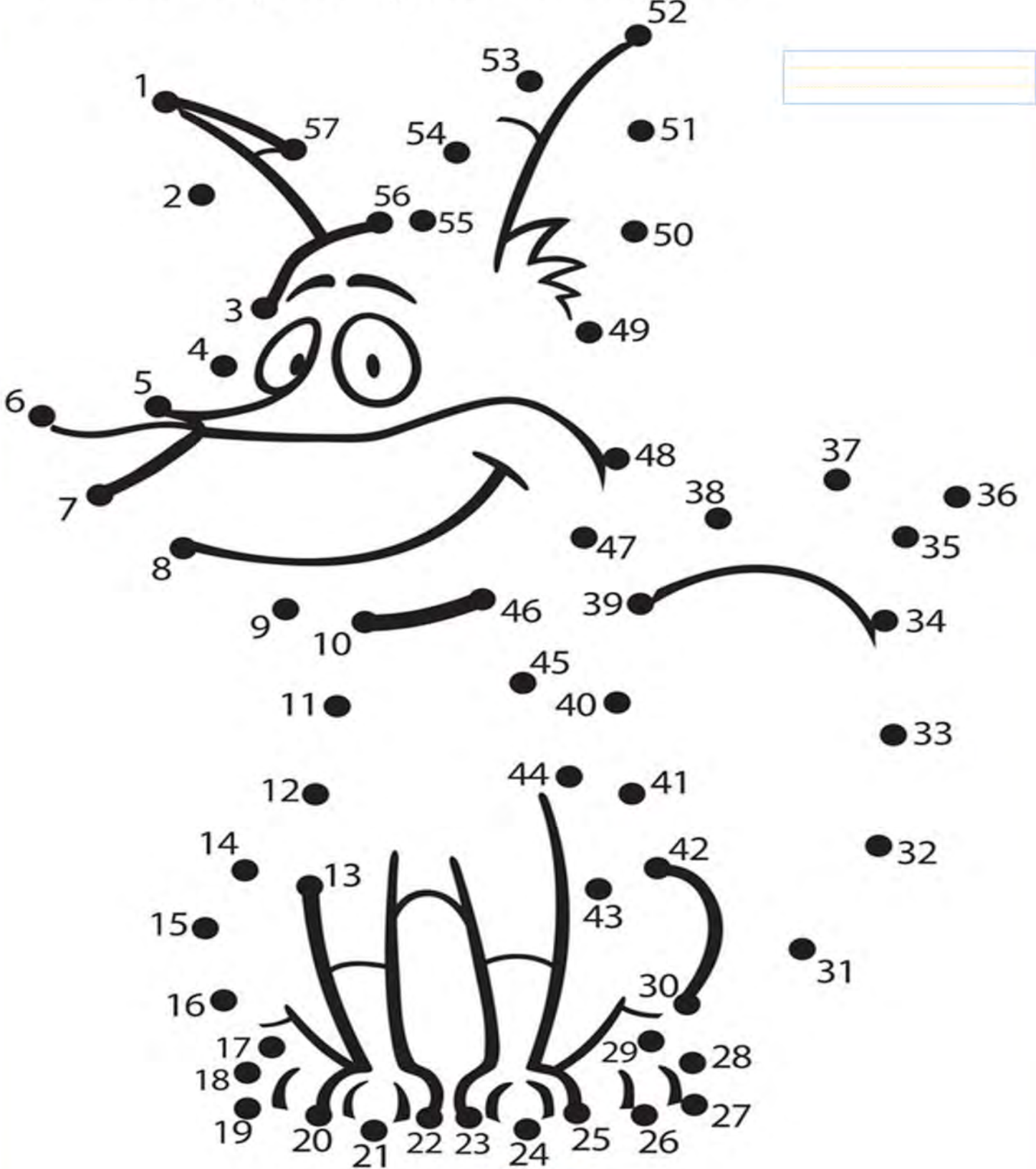
ADI;
SOYADI;
SINIFI; 1/... NO; ...
TARİH;/...../20..

YARIYIL TATİLİ EV ÇALIŞMALARI

5. GÜN (MATEMATİK)

HEM EĞLENİRİM HEM ÖĞRENİRİM

1' den başlayarak 57'ye kadar sayıları birleştirelim, ortaya çıkan resimdeki varlığın adını yandaki bölüme yazalım.



ADI;
SOYADI;
SINIFI; 1/... NO; ...
TARİH;/...../20..

YARIYIL TATİLİ EV ÇALIŞMALARI

5. GÜN (MATEMATİK)

NURHAN ÜZÜ

HEM EĞLENİRİM HEM ÖĞRENİRİM

✚ Jale'nin tuttuğu panodaki nesnelerden kaçar tane olduklarını sayalım, yazalım.

Left side (Pastries):

- White cream pastries: 8
- Red jam pastries: 8

Right side (Fruits):

- Apples: 8
- Strawberries: 8

✚ Aşağıdaki toplama işlemlerini yapalım.

Child 1: $4 + 2 = \dots$

Child 2: $7 + 5 = \dots$

Child 3: $9 + 4 = \dots$

Child 4: $3 + 7 = \dots$

NURHAN ÜZÜ

ADI;
SOYADI;
SINIFI; 1/... NO; ...
TARİH;/...../20..

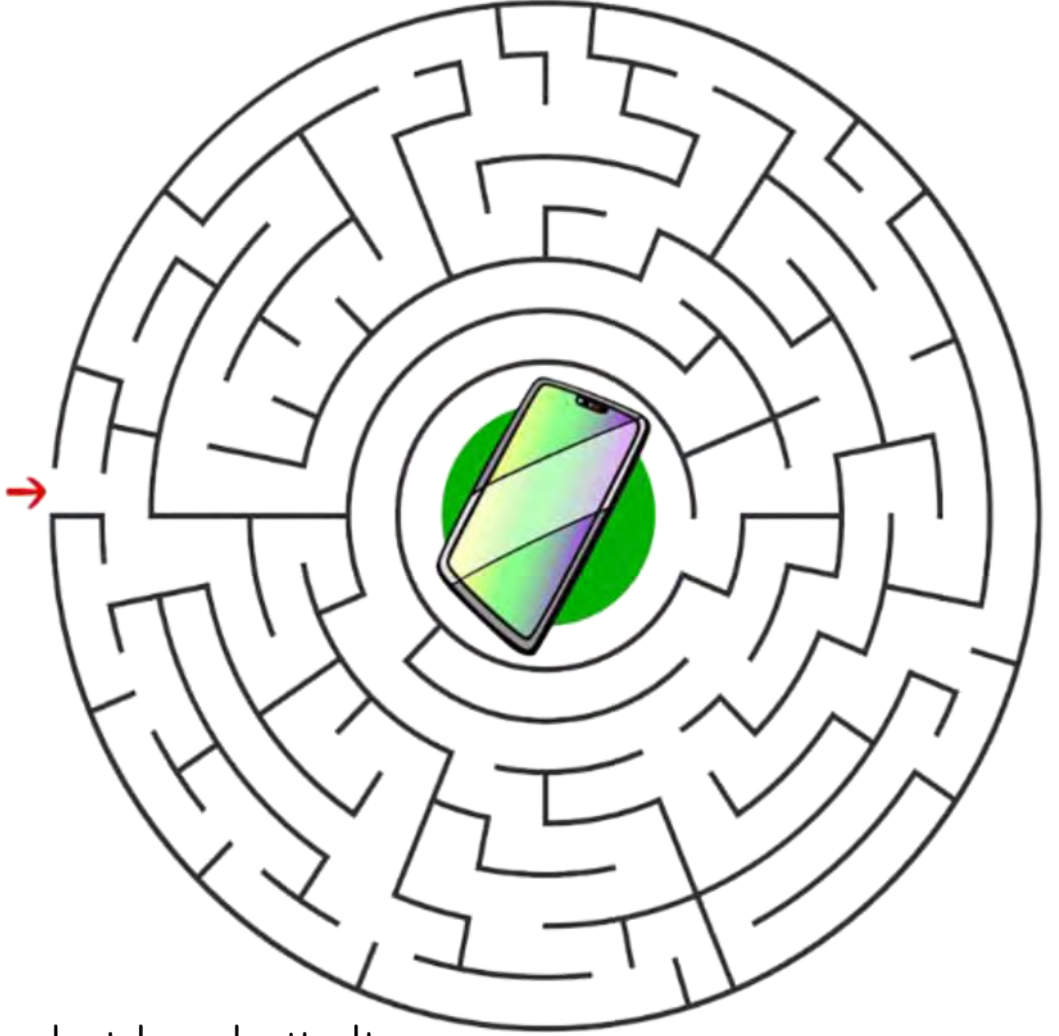
YARIYIL TATILI EV ÇALIŞMALARI

5. GÜN (EĞLENCE ZAMANI)


NURHAN ÜZÜ

ÇOK DİKKATLİYİMDİR. BENDEN BİR ŞEY KAÇMAZI!

✚ Doğru yolu takip ederek Handan Hanım'ı telefonuna ulaştıralım.



✚ Balıkları gölgeleriyle eşleştirelim.



ADI;
SOYADI;
SINIFI; 1/... NO; ...
TARİH;/...../20..

YARIYIL TATILI EV ÇALIŞMALARI

6. GÜN (TÜRKÇE)

— NURHAN UZİ —

HIZLI OKURUM

+ Cümleleri takılmadan okuyalım

Yıkarım.

Sabunla yıkarım.

Mutlaka sabunla yıkarım.

Ellerimi mutlaka sabunla yıkarım.



+ Cümleleri takılmadan okuyalım

Okurum.

Kitap okurum.

Mutlaka kitap okurum.

Yatmadan önce mutlaka kitap okurum.

Akşam yatmadan önce mutlaka kitap okurum.

Her akşam yatmadan önce mutlaka kitap okurum



ADI;
SOYADI;
SINIFI; 1/... NO; ...
TARİH;/...../20..

YARIYIL TATİLİ EV ÇALIŞMALARI

6. GÜN (TÜRKÇE)

NURHAN UZİ

GÖRDÜĞÜMÜ BAKMADAN YAZARIM


Resmi verilen varlıkların adlarını öğrenip yazalım.

























ADI;
SOYADI;
SINIFI; 1/... NO; ...
TARİH;/...../20..

YARIYIL TATİLİ EV ÇALIŞMALARI

6. GÜN (TÜRKÇE)

NURHAN UZİ

HECELEMİYİ BİLİYORUM

✚ Bir kelimede kaç tane sesli harf varsa o kadar hece vardır.

Verilen kelimeleri örnekteki gibi hecelerine ayıralım.

tramvay

sportmen

elektrik

tram - vay

banknot

çiftlik

itfaiye

lokomotif

otopark

jimnastik

oksijen

projektör

Trabzonlu

stetoskop

yoğurtçu

helikopter

ADI;
SOYADI;
SINIFI; 1/... NO; ...
TARİH;/...../20..

YARIYIL TATILI EV ÇALIŞMALARI

6. GÜN (MATEMATİK)

NURHAN ÜZÜ


HEM EĞLENİRİM HEM ÖĞRENİRİM

1' den başlayarak 20'ye kadar sayıları birleştirelim ve Banu'yu çantasına ulaştıralım.


	4	5	6	7	8	9	10		
	79	57	31	45	58	19	40		
	33	32	26	35	62	16	30		
41	2	1	9	5	6	7	48	60	50
42	43	2	3	4	24	8	9	86	90
53	52	3	61	62	63	9	58	59	60
54	21	14	13	12	11	10	68	69	70
55	16	15	74	75	76	77			
56	32	16	17	18	19	20			
91	92	93	94	95	96	97			




Her birinden kaçar tane olduğunu sayıp yazalım.



Çocukların ellerinde tuttıkları pankartlarda gördüğümüz çıkarma işlemlerini yapalım.



İşlemleri yapalım.



ADI;
SOYADI;
SINIFI; 1/... NO; ...
TARİH;/...../20..

YARIYIL TATİLİ EV ÇALIŞMALARI

7. GÜN (TÜRKÇE)

NURHAN UZUN

OKUDUĞUMU ANLARIM

Önce metni okuyup anlayalım, sonra soruları cevaplayalım.

LUNAPARK

Pazar günü erkenden kalkıp kahvaltımızı ettik. Kahvaltıda peynir, zeytin, yumurta ve süt vardı.

Daha sonra hazırlanıp arabaya bindik. Babam bizi lunaparka götürdü. İlk önce atlıkarıncaya bindim. Dönme dolap ve çarpışan otolar süperdi.



1. Metinde anlatılanlar hangi gün yaşanmış?

2. Kahvaltıda neler yemişler?

3. Babası çocukları nereye götürmüştü?

4. Çocuk ve ailesi lunaparka nasıl gitmişler?

5. Çocuk lunaparkta ilk önce neye binmiş?

ADI;
SOYADI;
SINIFI; 1/... NO; ...
TARİH;/...../20..

YARIYIL TATİLİ EV ÇALIŞMALARI

7. GÜN (TÜRKÇE)

NURHAN UZUN

DİLİMİZİ DOĞRU KULLANIRIM

✚ Aşağıdaki cümlelerde yapılan yazım yanlışlarını bulalım. Yanlış yazılmış kelimenin (örnekteki gibi) altını çizelim ve cümlenin doğrusunu aşağıdaki satıra yazalım.

mehmetler büğün bize gelecek.

Mehmetler bugün bize gelecek.

Annem sovanlı poça yaptı.

Babam tirenle ankaraya gitti.

Herkez bize bakıyor.

Öretmen resmimi çok beyendi.

ninem dedeme çeketini verdi.

Mustafa, Kenana furdu.

Düğündeki palyanço ile çok eylendik.

ADI;
SOYADI;
SINIFI; 1/... NO; ...
TARİH;/...../20..

YARIYIL TATİLİ EV ÇALIŞMALARI

7. GÜN (TÜRKÇE)

NURHAN UZUN

ÇOK GÜZEL YAZARIM

✚ Aşağıdaki şiiri okuyup en güzel yazımızla alttaki bölüme yazalım.

KİTAP

Kitabımı yıpratmam,
Kırletmem, yara atmam,
Onları koruyorum
Çünkü çok seviyorum.

Ali Osman ATAK
(Kısaltılmıştır)







ADI;
SOYADI;
SINIFI; 1/... NO; ...
TARİH;/...../20..

YARIYIL TATILI EV ÇALIŞMALARI

7. GÜN (MATEMATİK)

HEM EĞLENİRİM HEM ÖĞRENİRİM

1' den başlayarak 30'a kadar sayıları birleştirelim ve Cem'i kitaplarına ulaştıralım.

		1	2	6	7	8	9	10		
		2	57	31	45	58	29	46		
		3	4	5	35	62	16	30		
41	2	1	7	9	6	7	48	60	50	
42	15	14	13	4	24	8	9	86	91	
53	16	3	12	11	10	9	14	59	60	
18	17	14	36	12	26	10	68	99	70	
19	16	15	74	65	76	87				
20	85	24	25	26	19	30				
21	22	23	94	27	28	29				

Aşağıda verilmeyen sayıları kendimiz yazalım.



Her birinden kaçar tane olduğunu sayıp yazalım.



İşlemleri yapalım.



ADI;
SOYADI;
SINIFI; 1/... NO; ...
TARİH;/...../20..

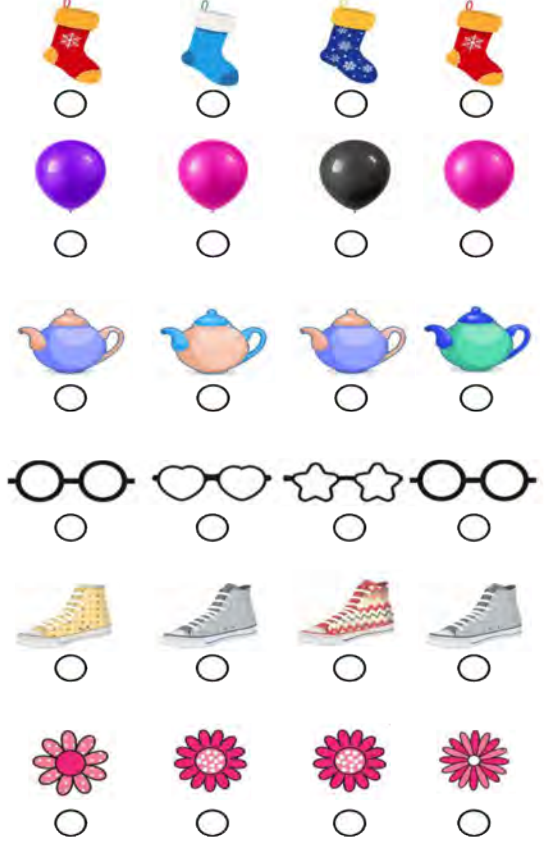
YARIYIL TATİLİ EV ÇALIŞMALARI

7. GÜN (MATEMATİK)

HEM EĞLENİRİM HEM ÖĞRENİRİM

20'ye kadar olan sayıların okunuşlarını Eş nesneleri işaretleyelim.
örnekteki gibi karşlarına yazalım.

1 → bir	11 →
2 →	12 →
3 →	13 →
4 →	14 →
5 →	15 →
6 →	16 →
7 →	17 →
8 →	18 →
9 →	19 →
10 →	20 →



Toplama işlemlerini yapalım. Toplamlara denk gelen harflere göre alttaki şifreli kelimeleri bulalım.

$$4 + 3 = \square \text{ İ}$$

$$2 + 6 = \square \text{ E}$$

$$5 + 4 = \square \text{ V}$$

$$9 + 3 = \square \text{ C}$$

$$8 + 2 = \square \text{ Z}$$

$$4 + 4 = \square \text{ M}$$

$$3 + 6 = \square \text{ A}$$

$$5 + 7 = \square \text{ D}$$


$$6 + 9 = \square \text{ E}$$

$$9 + 2 = \square \text{ B}$$

Şifreli
kelimeyi
bulabildin mi?

12	8	9	7	10

11	9	12	15	8



ADI;
SOYADI;
SINIFI; 1/... NO; ...
TARİH;/...../20..


YARIYIL TATİLİ EV ÇALIŞMALARI

7. GÜN (EĞLENCE ZAMANI)

NURHAN UZUN

ÇOK DİKKATLİYİMDİR. BENDEN BİR ŞEY KAÇMAZI!

✚ Doğru yolu takip ederek Selen'i köpeği Gofret'e ulaştıralım.



✚ İki resim arasındaki 5 farkı bulalım.



ADI;
SOYADI;
SINIFI; 1/... NO; ...
TARİH; / / 20..

YARIYIL TATİLİ EV ÇALIŞMALARI

8. GÜN (TÜRKÇE)

OKUDUĞUMU ANLARIM

✚ Aşağıdaki cümleleri okuyalım. Doğru olanların başına **D**, yanlış olanların başına **Y** koyalım.

.....

Bayrağımızın renkleri kırmızı beyazdır.

.....

Mutlu olunca herkes ağlar.

.....

Sınıf eşyalarımızı korumamalıyız.

.....

Oyunda kurallara uyulmalıdır.

.....

Güzel konuşunca herkesle anlaşırız.

.....

Çevremizi kirletmemeliyiz.

.....

Annemizin sözünü dinlemeliyiz.

.....

Geç yatıp erken kalkmalıyız.

.....

Evimizde kurallara uymasak da olur.

.....

Okulda sadece oyun oynarız.

.....

Yemekten sonra dişlerimizi fırçalamalıyız.

ADI;
SOYADI;
SINIFI; 1/... NO; ...
TARİH; / / 20..

YARIYIL TATİLİ EV ÇALIŞMALARI

8. GÜN (TÜRKÇE)

NURHAN UZUN

DOĞRU VE ANLAMLI CÜMLELER KURARIM

✚ Aşağıda karışık olarak verilmiş kelimelerden düzgün bir cümle oluşturunuz.



çok - dersleri - anlamak - Çalışınca - kolaydır.

bitince - kapatmalıyız. - ışıkları - İşimiz

asla - Tuvalette - oynanmaz. - oyun

mercimek - Annem - pişirdi. - çorbası

peyniri - Fareler - sever. - çok

ışık - geçeriz. - Yeşil - karşıya - yanınca

özür - yaptığımızda - Bir - dilemeliyiz. - hata

ödevlerini - Hüseyin - yapıyor. - zamanında

ADI;
SOYADI;
SINIFI; 1/... NO; ...
TARİH;/...../20..

YARIYIL TATİLİ EV ÇALIŞMALARI

8. GÜN (TÜRKÇE)

NURHAN ÜZÜ

ÇOK GÜZEL YAZARIM

✚ Aşağıdaki şiiri okuyup **en güzel yazımızla** alttaki bölüme yazalım.

OKUL

Okul yolu sevgi yolu,
Kitaplarım bilgi dolu.
Okudukça öğrenirim.
Daha çok şey bilirim.



ADI;
SOYADI;
SINIFI; 1/... NO; ...
TARİH;/...../20..

YARIYIL TATİLİ EV ÇALIŞMALARI


8. GÜN (MATEMATİK)


NURHAN UZUN

HEM EĞLENİRİM HEM ÖĞRENİRİM


1' den başlayarak 40'a kadar sayıları birleştirelim ve Zafer'i arkadaşlarına ulaştıralım.

Aşağıda verilmeyen sayıları kendimiz yazalım.

	9	2	6	7	13	14	15
	2	9	10	11	12	29	16
	5	8	5	35	13	18	17
41	5	1	2	7	18	7	48
42	15	2	13	6	54	8	9
53	16	3	4	5	24	23	22
32	17	14	29	12	25	26	68
31	30	29	28	27	26	87	
32	85	36	25	26	19	40	
33	34	35	36	37	38	39	



Her birinden kaçar tane olduğunu sayıp yazalım.



ADI;
SOYADI;
SINIFI; 1/... NO; ...
TARİH;/...../20..

YARIYIL TATİLİ EV ÇALIŞMALARI

9. GÜN (HAYAT BİLGİSİ)

TEST ÇÖZÜYORUM

✚ Aşağıdaki soruları dikkatlice okuyalım. Doğru olan seçeneğin başındaki harfi yuvarlak içine alarak işaretleyelim.

1.) Aşağıdakilerden hangisi bir okul çalışanı değildir?

A)



B)



C)



2.) Aşağıdakilerden hangisi yanlış bir davranıştır?

A) Sınıfın kapısını çarpmak

B) Teneffüste pencereleri açıp sınıfı havalandırmak

C) Arkadaşlarımızla iyi geçinmek

3.) Aşağıdakilerden hangisi (ders sırasında) öğrencinin görevidir?

A) Gürültü etmek

B) Yemek yemek

C) Dersi dinlemek

4.) Teyzemizin annesinin adı Rukiye ise biz ona ne deriz?

A) Rukiye hala

B) Anneanne

C) Rukiye teyze

5.) Tatilde deniz kenarına gitmeyi planlayan Soner, aşağıdakilerden hangisini yanına almaz?

A)



B)



C)



6.) Okulu kim yönetir?

A) Öğretmen

B) Hizmetli

C) Müdür

ADI;
SOYADI;
SINIFI; 1/... NO; ...
TARİH;/...../20..

YARIYIL TATİLİ EV ÇALIŞMALARI

9. GÜN (TÜRKÇE)

NURHAN UZUN

TEST ÇÖZÜYORUM

✚ Aşağıdaki soruları dikkatlice okuyalım. Doğru olan seçeneğin başındaki harfi yuvarlak içine alarak işaretleyelim.

Bir karınca dereye düşmüştü. Su içen keklik onu gördü. Hemen gagasıyla bir çöp uzattı, Karınca çöpe tutunup kıyıya çıktı. Tam o sırada oradan geçen bir avcı keklği görüp nişan aldı, Karınca da avcının ayağını ısırıldı. Adamın atışı boşa gitti. Böylece keklik kurtuldu.

İlk üç soruyu yukarıdaki metne göre cevaplayınız.

1.) Karınca nereye düşmüş?

- A) çukura B) dereye C) kuyuya

2.) Karıncayı kim görüp kurtarmış?

- A) avcı B) leylek C) keklik

3.) Avcı keklği niçin vuramamış?

- A) Gözleri bozuk olduğundan iyi nişan alamadığı için
B) Islak taşa basıp ayağı kaydığı için
C) Karınca, avcının ayağını ısırıldığı için

4.) Aşağıdaki kelimelerden hangisi dört hecelidir?

- A) Türkiye B) Anadolu C) Cennet

5.) Aşağıda verilen sözcük dizilerinden hangisi bir cümledir?

- A) Akşam yemek yerken kapı çaldı.
B) Okula geldiğimde
C) Telefonda annemin sesini duyunca

6.) «Sibel, kardeşiyle parka gitti.» cümlesi kaç kelimeden oluşmuştur?

- A) 2 B) 3 C) 4

7.) Aşağıda verilen kelimelerden hangisi doğru yazılmıştır?

- A) Çanakkale B) erdal C) gazi antep

ADI;
SOYADI;
SINIFI; 1/... NO; ...
TARİH;/...../20..

YARIYIL TATİLİ EV ÇALIŞMALARI

9. GÜN (MATEMATİK)

TEST ÇÖZÜYORUM

Aşağıdaki soruları dikkatlice okuyalım. Doğru olan seçeneğin başındaki harfi yuvarlak içine alarak işaretleyelim.

1.) Aşağıdaki rakamlardan hangisinin yazımı doğru değildir?

A) 3

B) 2

C) 8

2.) Ali, daldaki elmaların 2 tanesini koparıp yerse dalda kaç elma kalır?



A) 2

B) 3

C) 4

3.) 1 onluk 6 birlikten sonra hangi sayı gelir?



A) 15

B) 16

C) 17

4.) Öğrencilerden hangisinin yaptığı ritmik sayma doğrudur?

A) Savaş

B) Yağmur

C) Harun

Bir - iki - üç -
beş - yedi

Beş - on - on beş -
yirmi - otuz

On - yirmi - otuz
- kırk - elli



Harun

Savaş

Yağmur

5.) Trenin vagonlarındaki sayılara göre ortadaki vagona kaç yazılmalıdır?



A) 54

B) 75

C) 56

6.) Hangisi en yüksektedir?

A) Maymun

B) Kuş

C) Panda



ADI;
SOYADI;
SINIFI; 1/... NO; ...
TARİH;/...../20..

YARIYIL TATİLİ EV ÇALIŞMALARI

9. GÜN (MATEMATİK)

NURHAN UZUN

TEST ÇÖZÜYORUM

✚ Aşağıdaki soruları dikkatlice okuyalım. Doğru olan seçeneğin başındaki harfi yuvarlak içine alarak işaretleyelim.

1.) Resimlere göre aşağıdaki ifadelerden hangisi yanlıştır?

A)



Fare peynirin içindedir

B)



Fare peynirin önündedir

C)



Fare peynirin altındadır

2.) Resme göre aşağıdaki ifadelerden hangisi doğrudur?

- A) Kedi kuştan alçaktadır.
- B) Kuş kediden alçaktadır.
- C) Kedi kuştan yüksektedir.



3.) Aşağıdaki hayvanlardan en ağır olan hangisidir?

A)



B)



C)



4.) Yandaki işlemin sonucu kaçtır?

$$5 + 2 = \square$$

A) 2

B) 4

C) 7

5.) 28 doğal sayısının okunuşu aşağıdakilerden hangisidir?

- A) İki sekiz
- B) Yirmi sekiz
- C) Seksen iki

ADI;
SOYADI;
SINIFI; 1/... NO; ...
TARİH;/...../20..

YARIYIL TATİLİ EV ÇALIŞMALARI

10. GÜN (HAYAT BİLGİSİ)

NURHAN ÜZLÜ

TEST ÇÖZÜYORUM

✚ Aşağıdaki soruları dikkatlice okuyalım. Doğru olan seçeneğin kutusunu işaretleyelim.

1.) Aşağıdaki çocuklardan hangisinin saç rengi sarıdır?



2.) Aşağıdaki çocuklardan hangisi diğerlerinden daha zayıftır?



3.) Aşağıdaki çocuklardan hangisi diğerlerinden daha kısadır?



4.) Merve, tenis oynamaya bayılır. Boş zamanlarında hep tenis sporuyla ilgilenir. Merve, aşağıdakilerden hangisidir?



5.) Aşağıdakilerden hangisinde güvenlik kurallarına uygun hareket edilmektedir?



ADI;
SOYADI;
SINIFI; 1/... NO; ...
TARİH;/...../20..

YARIYIL TATİLİ EV ÇALIŞMALARI

10. GÜN (HAYAT BİLGİSİ)

NURHAN ÜZÜ

TEST ÇÖZÜYORUM

Aşağıdaki soruları dikkatlice okuyalım. Doğru olan seçeneğin başındaki harfi yuvarlak içine alarak işaretleyelim. A) (B) C)

1.) Resmi görülen sınıf eşyamız aşağıdakilerden hangisidir?

- A) Yazı tahtası
B) Şeref köşesi
C) Mevsim şeridi



2.) Aşağıdakilerden hangisi bizim bayrağımızdır?




3.) Aşağıdakilerden hangisi okulun bölümlerinden değildir?




4.) Okulda tuvaletlerin kullanımıyla ilgili aşağıdakilerden hangisi yanlıştır?



5.) Aşağıdakilerden hangisi ihtiyaçlarımızdandır?



6.) Aşağıdakilerden hangisi okul araç gereçlerimizden değildir?



ADI;
SOYADI;
SINIFI; 1/... NO; ...
TARİH;/...../20..

YARIYIL TATİLİ EV ÇALIŞMALARI

10. GÜN (TÜRKÇE)

NURHAN ÜZÜ

TEST ÇÖZÜYORUM

✚ Aşağıdaki soruları dikkatlice okuyalım. Doğru olan seçeneğin başındaki harfi yuvarlak içine alarak işaretleyelim.

1.) Aşağıdakilerden hangisi cümledir?

- A) Annem okula
- B) Bugün yağmur yağdı.
- C) Marketten su

2.) Aşağıdakilerden hangisi sestir?

- A) E
- B) KE
- C) AH

3.) Aşağıdaki kelimelerden hangisi doğru yazılmıştır?

- A) pençere
- B) yalançı
- C) ceket

4.) Aşağıdaki cümlelerden hangisi doğru yazılmıştır?

- A) Ahmet geldi mi?
- B) Ahmet geldimi.
- C) ahmet geldi mi.

5.) gitti – düğüne – dayım

Yukarıdaki kelimelerle kurallı ve anlamlı cümle kurulursa aşağıdakilerden hangisi doğru olur?

- A) Gitti dayım düğüne.
- B) Dayım düğüne gitti.
- C) Düğüne gitti dayım.

6.) Masal okumayı çok

Yukarıdaki cümle nasıl tamamlanırsa kurallı ve anlamlı bir cümle olur?

- A) gideceğiz.
- B) yemem.
- C) severim.

ADI;
SOYADI;
SINIFI; 1/... NO; ...
TARİH;/...../20..

YARIYIL TATİLİ EV ÇALIŞMALARI

10. GÜN (MATEMATİK)

NURHAN ÜZÜ

TEST ÇÖZÜYORUM

✚ Aşağıdaki soruları dikkatlice okuyalım. Doğru olan seçeneğin başındaki harfi yuvarlak içine alarak işaretleyelim.

1.) Aşağıdaki nesne gruplarından hangisinin sayısı daha fazladır?

A)



B)



C)



2.) Aşağıdakilerden hangisinde kitaplar kolinin dışındadır?

A)



B)



C)



3.) Aşağıdaki nesne gruplarından hangisinin sayısı 11 'dir?

A)



B)



C)



4.) Hangi kızın tuttuğu kalem daha uzundur?

A)



B)



C)



5.) Yürüyen merdivendeki insanlardan hangisi en yukarıdadır?

A)



B)



C)

