

MATEMATİK GENEL TEKRAR ÇALIŞMASI-1



Aşağıdaki toplama işlemlerini yapınız.

$6+3=$ $-0=$

$9+6=$ $-5=$

$12+6=$ $-7=$

$3+8=$ $-13=$

$2+17=$ $-4=$

$$\begin{array}{r} 9 \\ + 5 \\ \hline \end{array}$$

$$\begin{array}{r} 12 \\ + 5 \\ \hline \end{array}$$

$$\begin{array}{r} 7 \\ + 8 \\ \hline \end{array}$$

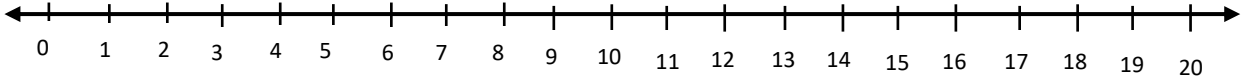
$$\begin{array}{r} 10 \\ + 7 \\ \hline \end{array}$$

$$\begin{array}{r} 6 \\ + 15 \\ \hline \end{array}$$

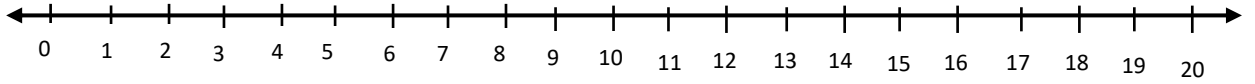
$$\begin{array}{r} 14 \\ + 5 \\ \hline \end{array}$$

Aşağıdaki toplama ve çıkarma işlemlerini sayı doğrusunda gösteriniz.

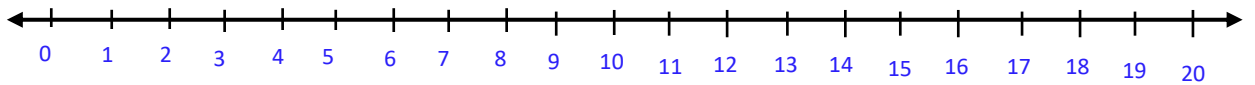
$9+6=$



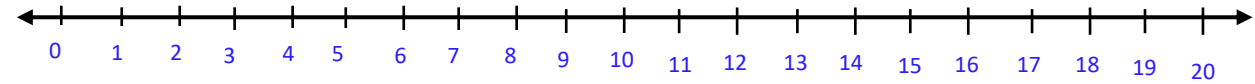
$3+12=$



$14-9=$



$12-5=$



Aşağıdaki çıkarma işlemlerini yapınız.

$9-3=$ $-3=$

$14-6=$ $-5=$

$18-6=$ $-6=$

$13-8=$ $-0=$

$14-5=$ $-1=$

$$\begin{array}{r} 7 \\ - 4 \\ \hline \end{array}$$

$$\begin{array}{r} 13 \\ - 4 \\ \hline \end{array}$$

$$\begin{array}{r} 9 \\ - 8 \\ \hline \end{array}$$

$$\begin{array}{r} 7 \\ - 7 \\ \hline \end{array}$$

$$\begin{array}{r} 6 \\ - 0 \\ \hline \end{array}$$

$$\begin{array}{r} 14 \\ - 5 \\ \hline \end{array}$$

Ses Tekrar Çalışması-1



OKU

elma

lokum

Büyük ve küçük harfleri yaz.

E-e-E-e-E-e-E-e-E-e-E-e

L-l

armut A-a

kale K-k

inek İ-i

Nil N-n

olta O-o

mum M-m

unlu U-u

tarak T-t

üzüm Ü-ü

yama Y-y

Ömer Ö-ö

radyo R-r

www.egitimhane.com

MATEMATİK GENEL TEKRAR ÇALIŞMASI-2



Aşağıdaki toplama işlemlerini yapınız.

$16+3= \square -4= \square$

$4+7= \square -7= \square$

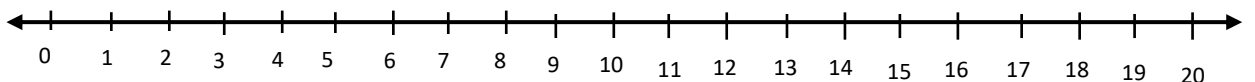
$11+6= \square -6+5= \square$

$3+3= \square -11= \square$

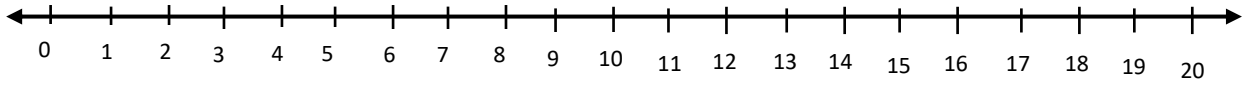
$2+12= \square -4= \square$

Aşağıdaki toplama ve çıkarma işlemlerini sayı doğrusunda gösteriniz.

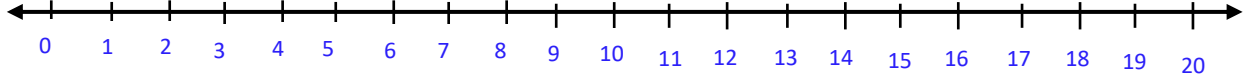
$16+3=$



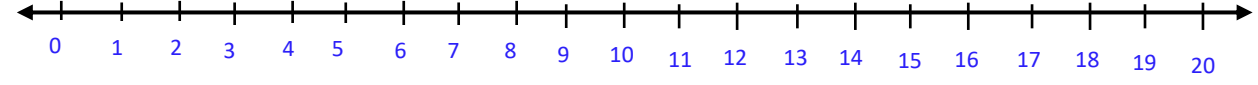
$13+6=$



$12-9=$



$11-4=$



Aşağıdaki çıkarma işlemlerini yapınız.

$15-6=$

$10-3=$

$13-7=$

$11-5=$

$16-6=$

$13-6=$

$10-8=$

$9-6=$

$19-5=$

$14-12=$

14

- 5

17

- 6

15

- 6

16

- 7

12

- 7

18

- 6

Büyük ve küçük harfleri yaz.



İrmal

lokum

L-l

dere

D-d

salam

S-s

bulut

B-b

zeytin

Z-z

çilek

Ç-ç

gemi

G-g

şirin

Ş-ş

camcı

C-c

pilot

P-p

havu

H-h

iğne

Ğ-ğ

fırın

F-f

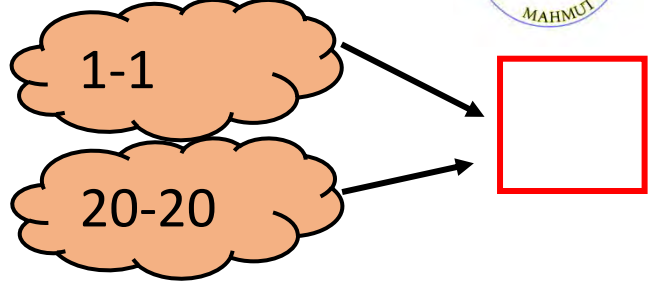
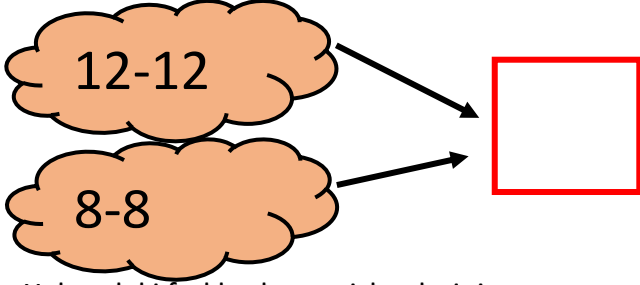
Japon

J-j

Ses Tekrar alıřması-2

Matematik Genel Tekrar alıřması-3

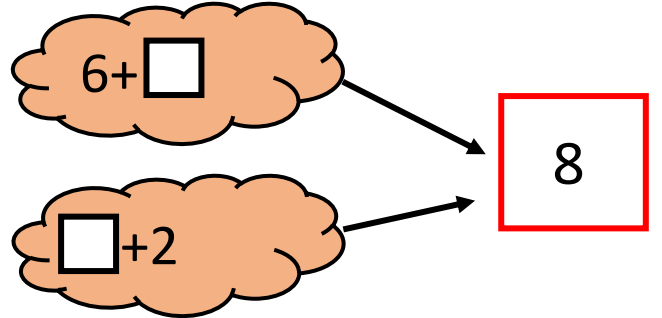
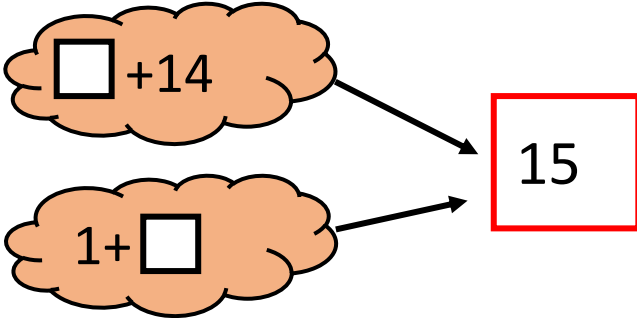
Ařağıdaki iřlemlerin sonularını bulup kutunun iine yazınız.



Yukarıdaki farklı ıkarma iřlemlerinin sonucu aynı mı? neden?

.....

Ařağıdaki toplamlara gre boř bırakılan toplananları yazınız..



Ařağıdaki toplama ve ıkarma iřlemlerini yapınız.

$12-0=$

$10-10=$

$9+0=$

$8+8=$

$9-9=$

$8-0=$

$10+0=$

$6+0=$

$7-7=$

$12-0=$

$6+0=$

$0+1=$

Ses Tekrar Çalışması-3

OKU

YAZ

E e Erol elma

L l Lale limon

A a Ahmet ayak

K k Keriman kiraz

İ i İsmet isim

N n Namık nane

O o Orhan orman

M m Mesut mendil

U u Umut uçurtma

T t Timur tepe

Ü ü Ünzile üzüm

Matematik Genel Tekrar Çalışması-4

Y u Yasar yeşillik

O ö Özgün ör

$9+3$

$3+9$

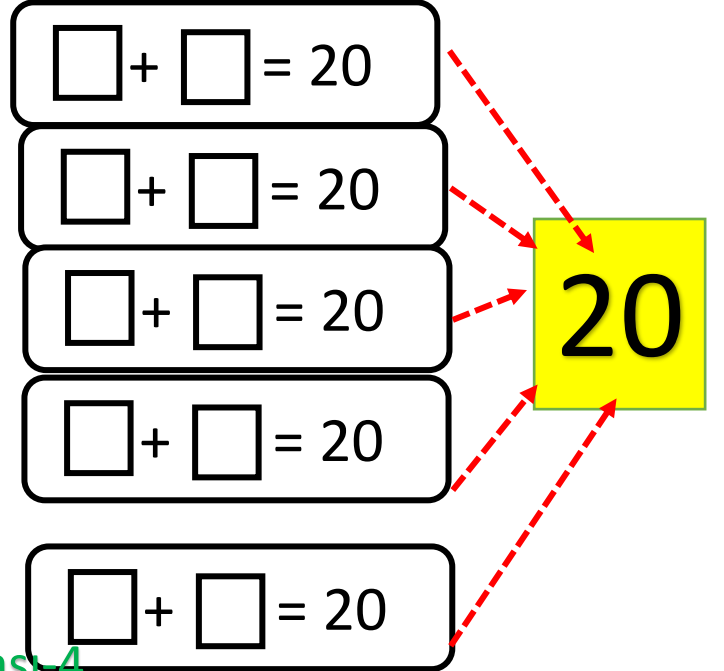
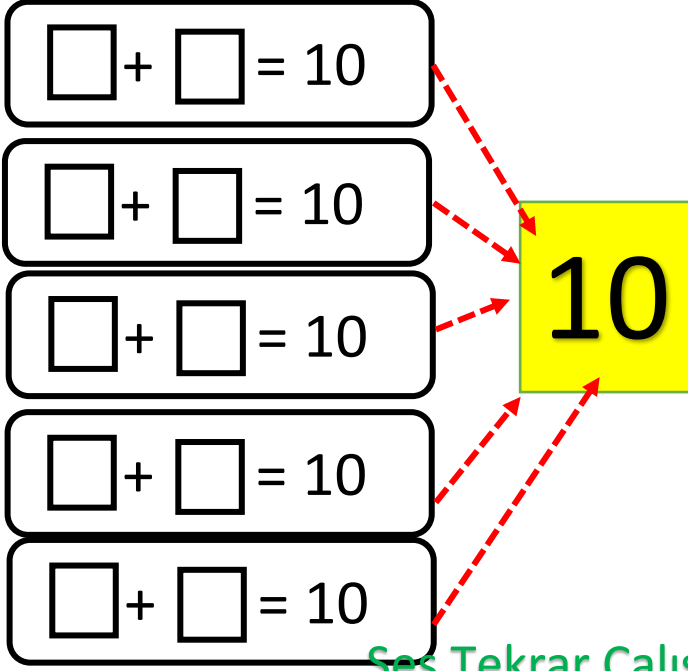
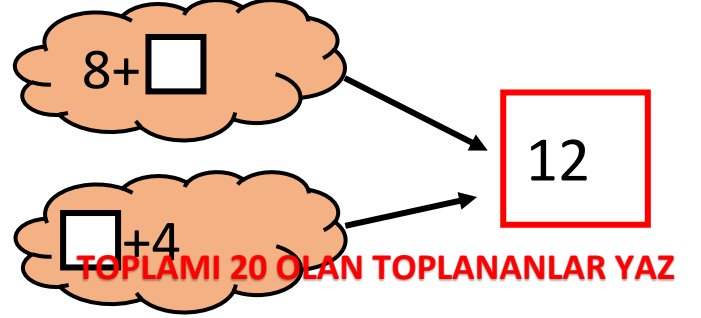
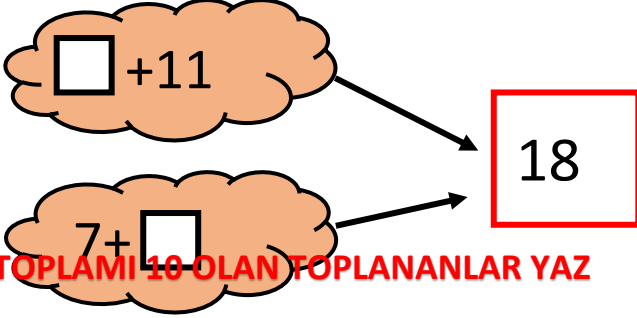
$4+9$

$4+9$



Her iki toplamının sonucu neden aynı?

Aşağıdaki toplamlara göre boş bırakılan toplananları yazınız..



Ses Tekrar Çalışması-4

OKU

YAZ

I ı İrmak ısıtıcı

D d Defne deney

S s Salih suluk

B b Buket biber

Z z Zafer zemin

