

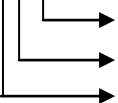
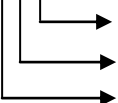
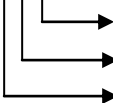
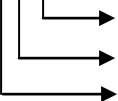
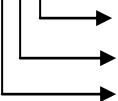
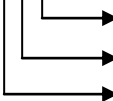
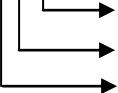
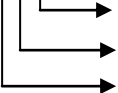
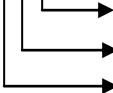
- 1) Kış mevsimi geldiği için.....
- 2)Artık güneş batıyordu **bunedenle**.....
- 3) Tenefüs zili çaldığı için.....
- 4) Karnesindeki bütün notları pekiliydi **buyüzden**.....
- 5)Balonu çok şişirdiği için.....



(...) Çantamı akşamdan ders programına uygun olarak hazırlamalıyım.  
(...) Herkes aynı özelliklere sahip olmalıdır.  
(...)Dürüst olmayan, taraf tutan, kibar olmayan kişilerle arkadaşlık yapmalıyım.  
(...)Sınıfta bir soru sorulduğunda cevabı biliyorsam söz hakkı almadan cevap veririm.  
(...) Eğer kızgınsam derin derin nefes alırsam kötü söz söylemem.  
(...)Gözlük kullanan arkadaşlarımla tahtaya daha yakın oturmaları gerekir.  
(...)Sınıf başkanını seçerken o işi en iyi yapabilecek kişiye değil en iyi arkadaşıma oy veririm.  
(...) Ayakkabılarımla çamurluysa okulun dışında ayakkabılarımla temizlerim.  
(...)Annem okula geleceği zaman sınıfımızın krokisini çizer ve yerimi işaretlersem annem ben yokken yerimi daha kolay bulur.  
(...)Okulumun tarihçesi hakkında okulumuzun internet sitesinden, müdürümüzden, okulda uzun yıllardır çalışan öğretmenlerimizden bilgi alırım.

Al şu takatukaları takatukacıyatakatukalatmaya götür,  
Takatukacı takatukaları takatukalamazsa,  
Takatukacıdan takatukaları takatukalatmadan al da gel.

|              |                                |
|--------------|--------------------------------|
| 304 : .....  | Beş yüz altı : .....           |
| 955 : .....  | Üç yüz otuz yedi : .....       |
| 1 02 : ..... | Dokuz yüz seksen dokuz : ..... |
| 666 : .....  | Yedi yüz bir : .....           |
| 909 : .....  | Sekiz yüz on bir : .....       |

|  |  |  |
|--|--|--|
| 741  | 245  | 303  |
|   |   |   |
| 463  | 801  | 900  |
|   |   |   |
| 506  | 110  | 620  |
|  |  |  |

## 2. GÜN

Aşağıdaki konuşma balonlarını verilen nezaket bildiren sözcüklerle tamamlayınız.

Lütfen

Teşekkür ederim

Rica ederim

Günaydın

Özür dilerim

Bir kutu süt alabilir miyim?

Çok .....

Buyrun sütünüz.

Geçen gün senden aldığım uçlu kalem bozuldu. Üzgünüm, .....

..... üzülme. Babam iki tane almıştı zaten. Biz arkadaşız. Zor zamanlarımızda birbirimize yardım etmeliyiz.

Sayıların arasındaki ilişkiyi  $<$ ,  $>$  veya  $=$  işaretlerini kullanarak belirtiniz.

|              |              |              |
|--------------|--------------|--------------|
| 915 .....915 | 707 .....707 | 441 .....444 |
| 245 .....247 | 888 .....880 | 900 .....909 |
| 758 .....785 | 123 .....132 | 356 .....365 |
| 939 .....993 | 195 .....195 | 717 .....117 |
| 102 .....112 | 328 .....329 | 563 .....563 |

Bugün  sayfa kitap okudum.

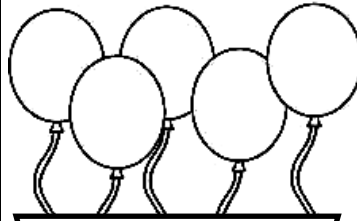
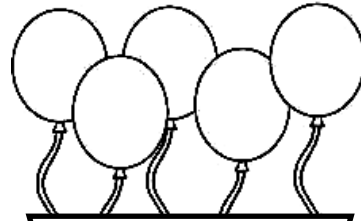
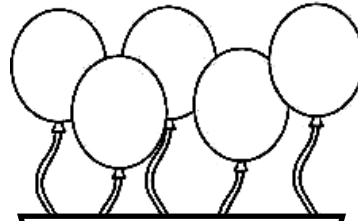
## 15 TATİL ÖDEVİM

Aşağıda cümlelerde boş bırakılan yerlere uygun kelimeleri yazınız.

|            |           |                      |            |         |
|------------|-----------|----------------------|------------|---------|
| dengeli    | açıkta    | okulumu              | kurallar   | özenli  |
| tasarruflu | kaybetmek | hızır acil servisini | kaynakları | düzenli |

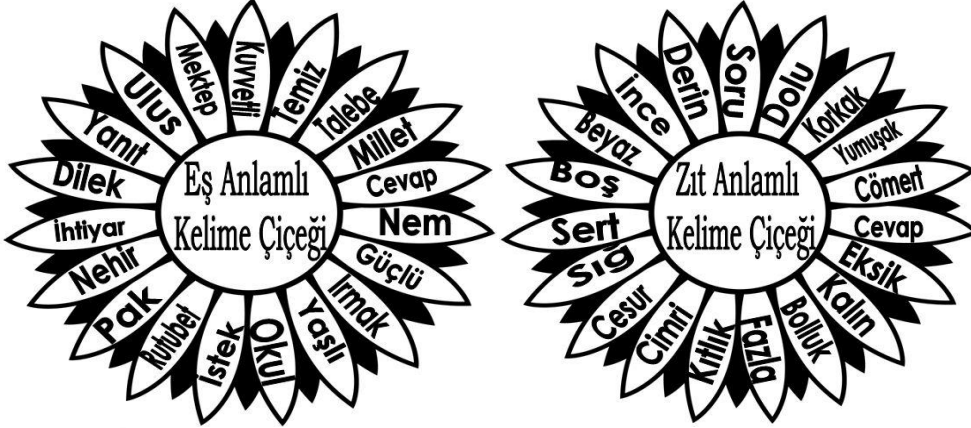
- Okul ve sınıf eşyalarını ..... kullanmazsak zarar görebilirler.
- Bir oyunda kazanmak kadar ..... de doğaldır.
- ..... evde, okulda düzeni sağlamak içindir.
- Yeteneklerimi geliştirdiği için ve yeni bilgiler öğrendiğim için ..... seviyorum.
- Kişisel bakımımızı yaparken ..... , ..... kullanmalıyız.
- ..... ve ..... beslenmek için doğal ve sağlıklı ürünleri tüketmeliyiz.
- ..... satılan yiyecekleri almam ve alan arkadaşlarımı da uyarırım.
- Bir kazayla karşılaştığımda yaralılar varsa ..... ararım.

Balon grubunun altındaki sayıları küçükten büyüğe doğru sıralayınız.

|  |  |  |
|--|--|--|
| <br>789 869<br>245 254<br>204 | <br>102 112<br>212 201<br>202 | <br>909 999<br>919 199<br>109 |
|--|--|--|

### 3. GÜN

Aşağıdaki eş anlamlı kelime çiçeğinde aynı anlama gelen kelimeleri bul ve aynı renge boy. Aynı şekilde zıt anlamlı kelime çiçeğinde de zıt anlamlı kelime çiftlerini aynı renge boy. Bakalım her iki çiçekte de eşi olmayanı bulabilecek misin?



Aşağıda verilen kelimeler ile anlamlarını eşleştir. Daha sonra eşleştirdiğin anlamlara uygun olarak cümlede kullan.



Dolu : .....

Dolu : .....

Dal : .....

Dal : .....

Kaz : .....

Kaz : .....

### 15 TATİL ÖDEVİM

Bilge Dede bize sorular soruyor. Sözlerini dikkatle oku ve cevabını yaz.



Söyle bakalım bana 897 sayısının yüzler ve birler basamağındaki sayıların basamak değerleri toplamı kaçtır?

.....



Söyle bakalım bana 219 sayısında sayı değeri en büyük olan sayı kaçtır?

.....



Söyle bakalım bana 563 sayısında birler ve onlar basamağındaki sayıların basamak değerleri toplamı kaçtır?

.....



Söyle bakalım bana 359 sayısında yüzler ve birler basamağındaki sayıların sayı değeri toplamı kaçtır?


.....



Söyle bakalım bana rakamlardan hangisinin basamak değeri hangi basamağa gelirse gelsin aynı olur?

.....

Hey dostum! Bana Atatürk'ün eğitim hayatıyla ilgili yaptığım araştırmamda yardım eder misin? Yazdığım kâğıtta Atatürk'ün gittiği okullar silinmiş haydi bunları bulalım.



Atatürk ilk olarak annesinin isteğiyle .....ne

gitmiştir. Sonra babasının isteğiyle .....na

gitmiştir. Annesinden gizli sınavlara girmiş ve .....

Rüştiyesi'ni kazanmıştır. Daha sonra .....

İdadisi'ni bitirmiştir. Atatürk en son .....nden

kurmay yüzbaşı olarak mezun olmuş ve askerlik hayatına başlamıştır.

Bugün  sayfa kitap okudum.

#### 4. GÜN

Aşağıdaki metni dikkatle okuyunuz, varlıkları ve olayları sınıflayınız.

Emir ve Kadir köylerinin alt tarafındaki dereye balık tutmaya gittiler. Dereye giderken mısır tarlasından süt mısırları kopardılar. Oltalarına mısır tanelerini takıp heyecanla dereye attılar. Köpekleri Çomar da yanlarındaydı. Hiç ses çıkarmıyorlardı çünkü biliyorlardı ki deredeki balıklar ses duyduklarında hemen kaçır ve bir daha ortaya çıkmazlardı. Önce Emir'in oltasındaki mantar batmaya başladı, aynı anda Kadir'in mantarı da hızla dibe batıyordu. Oltalarını zor zapt ettiler. Balıklar çok güçlüydü. İkisi de oltalarını kaldırdıklarında oltalarının ucunda kocaman birer balığın sallandığını gördüler. Hemen kovalarına koydular balıkları. Akşam olunca Emir'in annesi balıkları kızarttı. Emir ve Kadir afiyetle balıklarını yediler. Keyiflerine diyecek yoktu.




##### VARLIKLAR


##### OLAYLAR

#### 15 TATİL ÖDEVİM

Dev meyveler bahçesine hoş geldin. Bu bahçedeki her portakal tam 6 kilogram. Haydi yere dökülen portakalları altışar ritmik say, üzerine yaz yerde kaç kilogram portakal olduğunu bulması için Ayı Yogı'ye yardım et.



Şimdi de yerdeki dev elmaların kaç kilogram olduğunu bulabilir misin? Bu elmaların her biri tam 9 kilogram. Haydi Ahmet'e yardım et. Dokuzar ritmik say ve elmaların üzerine yaz.



##### Noktalama İşareti Bilmece

Bir cümlede sesleniş veya heyecan, korku, şaşkınlık, mutluluk kısacası duygu varsa sonunda beni bulursun. Bil bakalım ben kimim?

.....

İşte, başardın ( )

Bugün  sayfa kitap okudum.

Aşağıdaki kelebeklerin üzerinde yazan kelimeleri çiçeklerin yapraklarıyla eşleştirerek yeni kelimeler türet, ürettiğin kelimeleri kutuya yaz.



Sizin damda var, beş boz başlı beş boz ördek,  
Bizim damda var, beş boz başlı beş boz ördek,  
Sizin damdaki beş boz başlı beş boz ördek  
Bizim damdaki beş boz başlı beş boz ördeğe,  
Siz de bizcileyin beş boz başlı beş boz ördek misiniz? dedi.



Aşağıda verilen cümlelerden doğru olanlarının başına D yanlış olanlarının başına Y yazınız.

- (...) Özel günlerimizi kutlarken mutluluğumuz ve birliktelik duygumuz artar.  
(...) Aldığımız hatalı veya kusurlu malı değiştirme hakkımız yoktur.  
(...) Bilinçli bir tüketici önce isteklerini alır.  
(...) En iyi şekilde yaparak ve yaşayarak öğrenirim.  
(...) Bilinçli bir tüketici mutlaka fiş ve garanti belgesi alır.  
(...) Bilgisayar ve projeksiyon okulda yararlanabileceğimiz bilgi teknoloji araçlarıdır.  
(...) Bilinçli bir tüketicinin önceden liste hazırlamasına gerek yoktur.  
(...) Karşıdan karşıya geçerken üst geçidi değil yolu kullanırım.  
(...) Bilinçli bir tüketici zaman zaman su, elektrik gibi kaynakları boşuna kullanabilir.  
(...) Kalitesiz mallarda TSE damgası olmaz.  
(...) Trafik kurallarına uymak hem bizim hem de çevremizdekiler için önemlidir.

Ali her gün bir ekmek yemektedir. Aşağıdaki tablodan yararlanarak Ali'nin 14 haftada toplam kaç ekmek yediğini bul. Parantezlerin içine aşağıya doğru yedişer ritmik sayarak bulduğun sayıları yaz.

|  |  |  |  |  |  |  |        |
|--|--|--|--|--|--|--|--------|
|  |  |  |  |  |  |  | ( 7 )  |
|  |  |  |  |  |  |  | ( )    |
|  |  |  |  |  |  |  | ( 21 ) |
|  |  |  |  |  |  |  | ( )    |
|  |  |  |  |  |  |  | ( )    |
|  |  |  |  |  |  |  | ( )    |
|  |  |  |  |  |  |  | ( )    |
|  |  |  |  |  |  |  | ( )    |
|  |  |  |  |  |  |  | ( )    |
|  |  |  |  |  |  |  | ( )    |
|  |  |  |  |  |  |  | ( )    |
|  |  |  |  |  |  |  | ( )    |
|  |  |  |  |  |  |  | ( )    |
|  |  |  |  |  |  |  | ( )    |
|  |  |  |  |  |  |  | ( )    |



## 6. GÜN



Aşağıdaki cümleleri örnekteki gibi düşüncenin farklılaştığını belirtecek şekilde tamamlayınız.

Hava güneşliydi **fakat** çok üşüyordum.

Ya o elmayı ağaca tırmanıp alacaktım **ya da**.....

Sinemada o filmi izlemeyi çok istiyorum **ama** .....

Evde her yeri aradım **fakat** .....

Dışarıda lapa lapa kar yağıyordu **ancak** .....



Yazı yazarken çok fazla yazım yanlışı yapıyorum.  
Hatalarımı bulup cümlelerimi doğru bir şekilde yazar mısın?

herkez Atatürk'ün çevresinde toplandı.

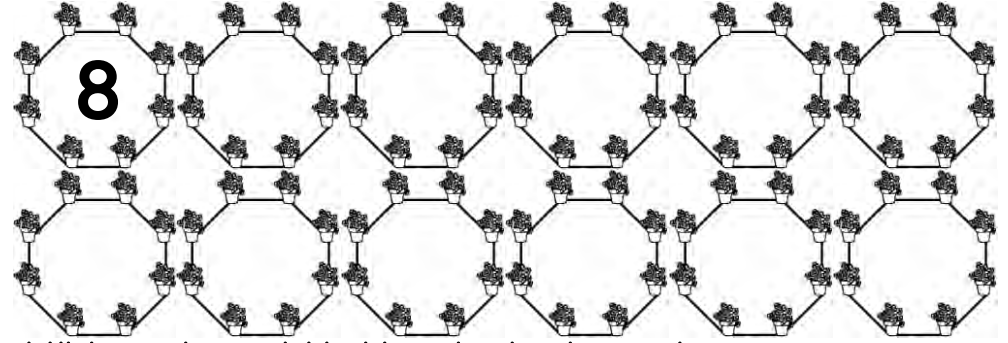
örtmenim pencereyi kapaltabilirmiyim.

Yarıyıl tatilinde istanbula gittik ve çok eğlendik.

kargalı köyüne yarın deyil, öteki gün gidicem.

## 15 TATİL ÖDEVİM

Ayla Hanım bahçesindeki sekizgen taşların sekiz köşesine bir saksı çiçek koyuyor. Ayla Hanım'ın bahçesinde 12 tane sekizgen taş olduğuna göre kaç saksı çiçek gerekiyor? Sekizer sayarak ve taşların ortasına ritmik yazarak bul.



Milli bayramlarımızı ilişkili olduğu olay ile eşleştir ve boya.

29 Ekim 1923'te  
Cumhuriyet ilan edildiği için kutlarız.

30 Ağustos 1922'de Kurtuluş Savaşı  
kazanıldığı ve düşmanlar  
yurdumuzdan atıldığı için kutlarız.

19 Mayıs 1919'da Atatürk  
Samsun'a çıktığı ve Kurtuluş Savaşı'nı  
başlattığı için kutlarız.

23 Nisan 1920'de  
TBMM açıldığı için kutlarız.



30 Ağustos  
Zafer Bayramı



Bugün  sayfa kitap okudum.

## 7. GÜN

Aşağıdaki cümlelerden duygusal anlatımların başındaki yıldızı kırmızıya, abartılı anlatımların başındaki yıldızı sarıya boyayınız.

- ★ → Yavru köpekler birbiriyle neşe içerisinde oynarken, çocuklar mutlulukla onları izliyordu.
- ★ → Erik ağacının tepesine çıktıkça Erikler daha da irileşiyordu, her biri adeta bir domates kadardı.
- ★ → Kurt gibi acıktım, önüme bir tencere pilav koysanız yerim yine de doymam.
- ★ → Küçük Mustafa sapsarı saçlarıyla diğer çocukların arasında güneş gibi parlıyordu, onu fark etmemek imkânsızdı.
- ★ → Arkadaşım o kadar güzel yazı yazıyor ki her defasında yıldız aldığı için onu çok kıskanıyorum.
- ★ → Babamla ilk defa stadyuma gittiğimizde çok heyecanlıydım, taraftarlar tezahüratlarla coşuyordu.

Aşağıya kardan adam ile ilgili akrostiş bir şiir yazınız.

K.....

A.....

R.....

D.....

A.....

N.....

A.....


D.....

A.....

M.....

## 15 TATİL ÖDEVİM

Aşağıdaki arabalardan plakasında tek sayı olanları maviye, çift sayı olanları turuncuya boyayınız.



Bilge Dede bize sorular soruyor. Sözlerini dikkatle oku ve cevabını yaz.



Söyle bakalım üç basamaklı en büyük çift sayı kaçtır?

Söyle bakalım üç basamaklı en küçük çift sayı kaçtır?

Söyle bakalım üç basamaklı en büyük tek sayı kaçtır?

Söyle bakalım üç basamaklı en küçük tek sayı kaçtır?

Aşağıda verilen durumları okuyunuz. Durumlara uygun çözümler üretmek altına yazınız.

Esra'ya yolda hiç tanımadığı bir adam babasının onu çağırdığını ve kendisiyle gelmesi gerektiğini söyledi.



Aynur karşıdan karşıya geçmek istiyordu. Üst geçit kendisine biraz uzaktı.



Bugün  sayfa kitap okudum.



## 8. GÜN

Noktalı yerlere aşağıdaki kelimelerden uygun olanı ile tamamlayınız.

|        |        |       |        |
|--------|--------|-------|--------|
| kısaca | özetle | için  | rağmen |
| ya da  | ancak  | çünkü | gibi   |

- a) Derslerinde başarılı olamadı ..... derslerine yeteri kadar çalışmamıştı.
- b) Peşinden çok koşmasına ..... ona yetişemedi.
- c) Eşofmanlarını getirmedeği ..... Beden Eğitimi dersine katılamadı.
- ç) Yaz tatilinde denize gideceğiz ..... Amasya'da oturan dayımlara gideceğiz.
- d) Hiç kimseye kötü davranmazdı, zor durumda olan insanlara yardım ederdi, kimin başı dara düşse yanında onu bulurdu ..... çok iyi bir insandı.
- e) Kovalarla su taşıyoruz, kazmalarla küreklerle yangını söndürmeye çalışıyoruz ..... bir türlü yangını söndüremiyoruz.
- f) Kedi, köpek, at, tavuk ..... hayvanlar insanlar tarafından evcilleştirilmiştir.
- g) Kendisine ait bir odası var, kocaman bir kitaplığı ve yüzlerce kitabı var, araştırma yapabileceği çok güzel bir bilgisayarı var ..... ders çalışması için her şeyi var.


Aşağıdaki hangi numaralı cümlelerde yanlış anlatım vardır? Sepetteki yumurtaların üzerine yazınız.

- (1) Geçen hafta lunaparka gittik. (2) Gökyüzünde hiç bulut yoktu ve şakır şakır yağmur yağıyordu. (3) Önce babamla birlikte çarşıdan arabalara bindik. (4) Annem tatlı yiyeceklerden hoşlanmadığı için dondurma yedi. (5) Biz babamla haşlanmış mısır yedik. (6) Lunaparktaki oturlara oturduk ve çevremizi izlemeye başladık. (7) Aslanlar lunaparktaki çimenleri büyük bir iştahla yiyordu. (8) Görevliler onları oradan kovaladı. (9) Bunun üzerine bir aslan miyav dedi, minik fare kükred; fareden korkan kedi pır diye uçuverdi. (10) O gün çok eğlendik.

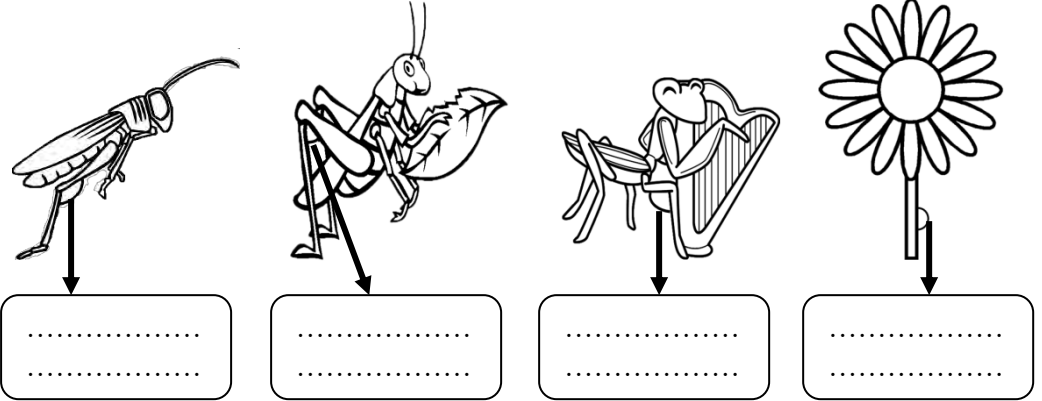


## 15 TATİL ÖDEVİM


Aşağıdaki bulutlarda yazan Romen rakamı ile altındaki onu gösteren yağmur damlasını aynı renge boy.



Çekirgelerin bacakları arasında ve çiçeğin sapında gösterilen aç çeşitlerini altına yazın.



Arı Maya'ya arkadaş seçmesi için yardımcı ol ve olumlu özelliklere sahip olanlarla eşleştir.









Bugün  sayfa kitap okudum.






## 9. GÜN

Aşağıdaki cümlelerde geçen altı çizili kelime ile aynı anlamda cümle kuran öğrenciyi boyayınız.

|   |   |
|---|---|
|   | Annem elinde büyükçe bir <u>kap</u> ile içeri girdi.        |
|  | Otobüse binince hemen en önden yer <u>kap</u> .             |
|  | Meyveleri koyacağın <u>kap</u> alttaki raftadır, oraya bak. |
|  | Kartal sudaki balığı kocaman pençeleriyle <u>kap</u> tı.    |

|   |  |
|---|--|
|   | Masmavi gözleri, yumuk yumuk elleriyle Meltem çok <u>tatlı</u> bir bebektir. |
|  | Çok fazla <u>tatlı</u> yediğim için alerji oldum.                            |
|  | Keşkül, baklava, kadayıf gibi <u>tatlı</u> ları çok severim                  |
|  | Bembeyaz tüyleriyle, uzun kulaklarıyla <u>tatlı</u> bir tavşanımız var.      |

|   |   |
|---|---|
|   | Durmadan kar yağıyordu ve otlar karla örtülmüştü, otla beslenen hayvanları <u>kara</u> günler bekliyordu. |
|  | Kızılay, <u>kara</u> gün dostudur, afetlerde insanlara yardım eder.                                       |
|  | Gemidekiler dürbünle <u>kara</u> yı gördüler ve birbirlerine sarıldılar.                                  |
|  | Karga, antenin üzerine konmuş <u>kara</u> tüylerini temizliyordu.   |

Aşağıdaki tabloda istenilen şekilleri cetvelle çizin ve özelliklerini yazınız.

| Adını yaz. | Şekli çiz.  | Kenar Sayısı                 | Köşe Sayısı | Açı Sayısı |
|------------|---|------------------------------|-------------|------------|
| .....      |   |                              | 3           |            |
| Kare       |   |                              |             |            |
| .....      |   | 2 uzun kenar<br>2 kısa kenar |             |            |
| .....      |  |                              |             |            |

## 15 TATİL ÖDEVİM

Şirinler Köyü'nde işler yolunda gitmiyordu. Temiz Şirin çok uğraşmasına rağmen köyü temiz tutamıyordu. Usta Şirin çalışırken etrafı kirletiyor, Hapşiran Şirin bazen yerlere tükürüyordu. Haydi Şirinler Köyü'nü yeniden eski düzenine kavuşturmak için çözüm önerileri üret ve aşağıya yaz.



.....

.....

.....

.....

.....

.....

.....

Terzi Mehmet Bey bize bazı bilgiler vermiş ve metre ile santimetre arasında dönüşüm yapmamızı istemiş. Bakalım başarabilecek miyiz?

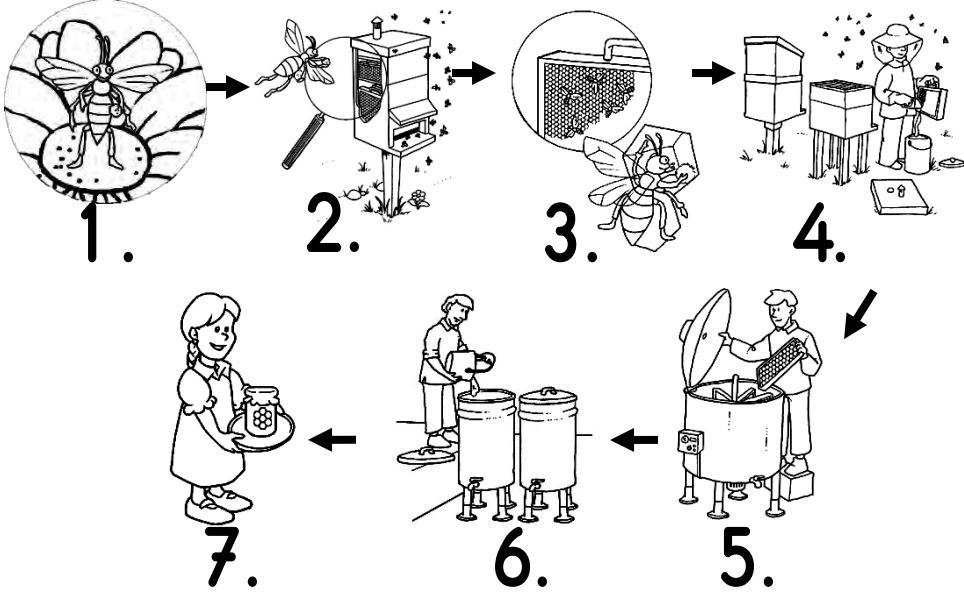


1 metre 100 santimetreye eşittir. Metrenin kısaltması m, santimetrenin kısaltması da cm'dir.

|                                     |  |
|-------------------------------------|--|
| Aşağıdaki birimleri kısaltarak yaz. | Aşağıdaki birimleri birbirine dönüştür.  |
| 5 metre : .....                     | 157 cm : ...m.....cm      3m45cm:.....cm |
| 20 santimetre : .....               | 312 cm : .....                           |
| 3 metre 15 santimetre : .....       | 909 cm : .....                           |
| 15 metre 37 santimetre: .....       | 803 cm : .....                           |
| 10 metre 92 santimetre: .....       | 5m5cm:.....cm                            |

Bugün  sayfa kitap okudum.

Balın nasıl elde edildiğini resimlere bakıp cümleler kurarak anlatınız.



1. ....
2. ....
3. ....
4. ....
5. ....
6. ....
7. ....

Bugün  sayfa kitap okudum.

3-A sınıfındaki öğrencilere en sevdikleri meyveler sorulmuştur. Buna göre elma sevenlerin sayısı 4, muz sevenlerin sayısı 8, kiraz sevenlerin sayısı 10, portakal sevenlerin sayısı 6 ve kayısı sevenlerin sayısı 2 çıkmıştır.


Buna göre aşağıdaki sıklık tablosunu ve çetele tablosunu tamamlayınız.

| Meyve Adı | Kişi Sayısı | Meyve Adı | Kişi Sayısı |
|-----------|-------------|-----------|-------------|
|           |             | Elma      | 4           |
| Muz       |             |           |             |
|           |             |           |             |
|           |             |           |             |
|           |             |           |             |

En Sevilen Meyvelerin  
Çetele Tablosu

En Sevilen Meyvelerin  
Sıklık Tablosu




Yukarıdaki verilere göre aşağıdaki grafiği tamamlayınız. Bunun için EK 1 sayfasındaki meyve resimlerini boyayıp çizgilerin olduğu noktalardan kesip bu sayfaya yapıştırınız. Grafik: .....



Not : Her şekil 2 meyveyi göstermektedir.

# 11. GÜN

Aşağıdaki tabloda sütün üretim aşamaları verilmiştir. Boş bırakılan yerlere cümleye uygun olan resmi EK 1 sayfasından keserek yapıştırınız. Resim verilen yerlerde de cümleleri yazınız.

|   |   |
|---|---|
| DOĞRU RESMİ<br>BURAYA YAPIŞTIR.   | İnekler, ot yiyerek beslenir ve süt üretirler.  |
|    | .....<br>.....<br>.....   |
|    | .....<br>.....<br>.....   |
| DOĞRU RESMİ<br>BURAYA YAPIŞTIR.   | Süt toplama araçları ile toplanan sütler fabrikaya getirilir ve incelenir.                              |
| DOĞRU RESMİ<br>BURAYA YAPIŞTIR.   | Fabrikadaki büyük kazanlarda sütler pastörize edilir. İçilecek ve uzun süre saklanacak hale getirilir.  |
| DOĞRU RESMİ<br>BURAYA YAPIŞTIR.   | Pastörize edilen sütler paketlenir, şişelenir böylece normalden çok daha uzun süre sütü saklayabiliriz. |
|  | .....<br>.....<br>.....   |
| DOĞRU RESMİ<br>BURAYA YAPIŞTIR.   | Ayrıca sütten yoğurt, peynir, tereyağı, kaşar gibi ürünler de elde ederiz.                              |

Bugün  sayfa kitap okudum.

# 15 TATİL ÖDEVİM

10. GÜN çalışma yaprağında yaptığın grafiği hatırlıyor musun? Haydi o sayfayı çıkart ve 3-A sınıfında en çok sevilen meyveler grafiğiyle ilgili aşağıdaki soruları cevaplandır.

- 1) 3-A sınıfında en çok sevilen meyve hangisidir? (.....)
- 2) 3-A sınıfında en az sevilen meyve hangisidir? (.....)
- 3) 3-A sınıfında kaç öğrenci vardır? (.....)
- 4) En çok sevilen ilk iki meyvenin toplamı kaçtır? (.....)
- 5) En az sevilen iki meyvenin farkı kaçtır? (.....)

## EVİMİZ

Kapı, pencere, duvar,  
Herkesin bir evi var.  
Bizimki şu tek katlı,  
Kutu gibi pek tatlı.

Orda doğdum, büyüdüm.  
Emekledim, yürüdüm.  
Kışın soğuktan, kardan,  
Yazın korur sıcaktan.



Bu sokaktan gelinir,  
Hemen kolay bulunur.  
Adresi alın yine.  
Buyrun gelin bizlere.

Aşağıda verilen cümlelerden doğru olanlarının başına D yanlış olanlarının başına Y yazınız.

- (...) Her canlının en temel ihtiyaçlarından birisi barınmaktır.  
(...) Evimizde baktığımız bitki ve hayvanların sorumluluğunu almalıyız.  
(...) Erik ağacı evde bakılabilecek bir bitkidir.  
(...) Bitkiler hareket edemediği için cansız varlıklardır.  
(...) Evimizin adresini ve telefonunu bilirsek güvenliğimizi sağlarız.



Telefonu :.....

Telefonu :.....

Telefonu :.....

## MUTLULUK

Hep büyüklerimden duyarım "Nerede o eski günler?", sözlerini. Bana çok garip gelir. Eskiye göre neler değişti acaba? Bu soruyu bir gün anneanneme sordum. Karlı bir gündü ve beni dizinin dibine oturttu, başladı anlatmaya...

"Eskiden bu kadar çok yiyecek ve giyecek yoktu. Ulaşım bu kadar gelişmemişti. Uzaktaki sevdiklerimizden haber almak çok zordu. Üretim şimdiki gibi fazla olmadığı için hemen hemen her şey pahalıydı ve insanlar sahip olduklarının kıymetini biliyordu. Köyümüze ayda bir satıcı gelir ve eşyalarımızı ondan alırdık. Yaşadığım şehre dedenle evlendiğimde gidebilirdim. Biz çikolata nedir bilmezdik. Elektrik de yoktu. Bu kadar yokluğa rağmen biz çok mutluyduk. Çok uzun süre ihtiyaçlarımızın ve isteklerimizin hayalini kurar onlara zar zor kavuşurduk. Bahçemizde kendimizin yetiştirdiği domatesleri doğrayınca o domatesin kokusu evimizi sarardı, bir de lezzetini düşün. Sanayi gelişti artık insanlar daha çok üretiyor ama sahip olduklarından çok daha fazlasını tüketmek istiyorlar. Müzik kanallarını izle her gün onlarca yeni parça çıkıyor ama hepsi neredeyse bir ayda unutuluyor. Koca koca marketlerde istemediğin kadar çeşit yiyecek ve giyecek var. Ama aldığın şeyler seni sadece bir iki saat mutlu ediyor sonra hevesin hemen kaçıyor. Asıl mutluluk çok çalışıp emek vererek bir şeye sahip olmak ve az ile yetinip mutlu olabilmektir, çok tüketmek değildir. İşte biz bu yüzden eskiden çok mutluyduk."

Giray KARAGÜN

Aşağıdaki soruları metne göre cevaplayınız. Cevaplarınızın cümle olmasına dikkat ediniz.

1) Çocuk kiminle konuşuyor?

2) Anneannesi çocuğa bütün bunları ne zaman anlatmış?

3) Eskiden niçin her şey pahalıymış?

4) Çok çeşitli yiyecek ve giyecekleri nerede bulabiliyorlarmış?

5) Uzun süre nelerin hayalini kurarlarmış?

6) Anneannenin anlattıklarına göre nasıl mutlu olabiliyorlarmış?

Bugün  sayfa kitap okudum.

Aşağıdaki işlemleri yaparak şifreyi bulunuz.

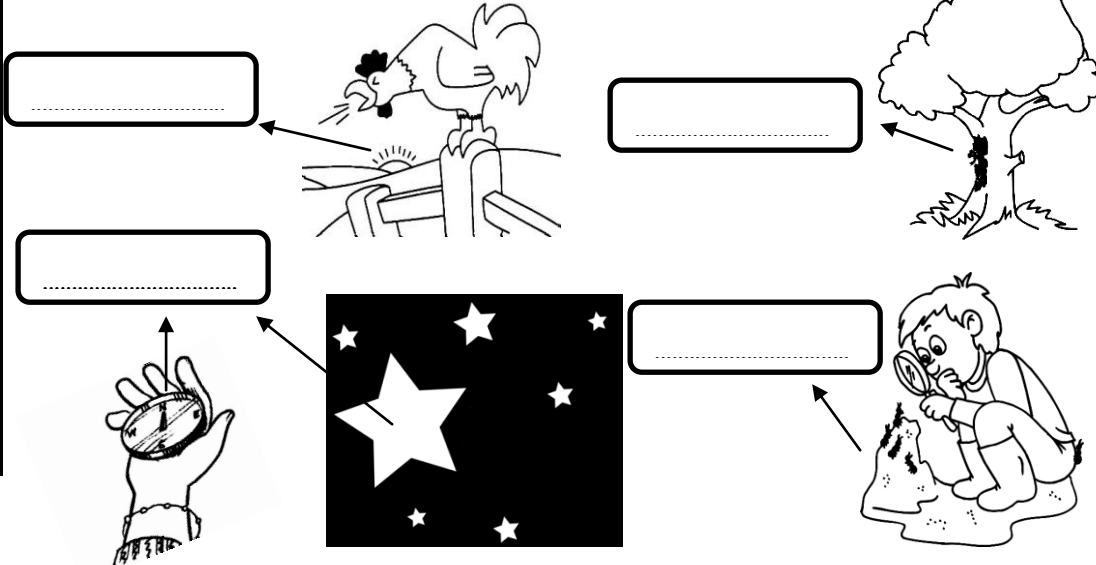
|     |     |     |     |     |     |     |
|-----|-----|-----|-----|-----|-----|-----|
| 247 | 887 | 356 | 345 | 759 | 367 | 197 |
| 358 | 103 | 498 | 260 | 199 | 263 | 554 |
| +   | +   | +   | +   | +   | +   | +   |

|     |     |     |     |     |     |     |
|-----|-----|-----|-----|-----|-----|-----|
| E   | N   | T   | E   | S   | K   | A   |
| 630 | 605 | 958 | 854 | 751 | 990 | 605 |
|     |     |     |     |     |     |     |

|     |     |     |     |     |     |     |
|-----|-----|-----|-----|-----|-----|-----|
| 35□ | □   | □16 | 659 | 782 | □   | 183 |
| 358 | 218 | 298 | □   | 1□9 | 599 | 698 |
| +   | +   | +   | +   | +   | +   | +   |
| 713 | 507 | 914 | 900 | 941 | 911 | 8□1 |
| A   | T   | N   | Y   | A   | K   | U   |

|     |   |     |   |   |     |   |
|-----|---|-----|---|---|-----|---|
| 725 | 5 | 312 | 8 | 6 | 241 | 5 |
|     |   |     |   |   |     |   |

Yön bulma yöntemlerini hatırladın mı? Şimdi resimlere bakarak okların gösterdiği yönleri uçlarına yaz.



|     |     |   |     |     |   |     |     |
|-----|-----|---|-----|-----|---|-----|-----|
| 677 | 108 | 8 | 534 | 469 | 4 | 469 | 568 |
|     |     |   |     |     |   |     |     |

Giray KARAGÜN

4) Emre'nin babası, çocuklarla birlikte ne yapmış?

Bugün | | sayfa kitap okudum.

Yilan







Aşağıdaki resimde gördüğünüz meslekleri ve ne yaptıklarını yazınız.




Tiyatrocu: .....



Aşağıdaki problemleri şekillerden de yararlanarak çözünüz. Mutlaka işlem yapınız. Problemin sonunda hangi uzunluk ölçüsünün istendiğine dikkat ediniz.

1) Kayu'nun boyunun uzunluğu 1 m 28 cm'dir. Pepe, Kayu'dan 19 cm daha kısadır. Pepe'nin boyunun uzunluğu kaç cm'dir?

19 cm  
kısadır

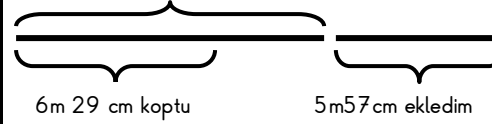


1 m 28 cm

|  |  |  |  |  |  |  |  |  |  |  |  |  |  |  |  |  |  |  |  |
|--|--|--|--|--|--|--|--|--|--|--|--|--|--|--|--|--|--|--|--|
|  |  |  |  |  |  |  |  |  |  |  |  |  |  |  |  |  |  |  |  |
|  |  |  |  |  |  |  |  |  |  |  |  |  |  |  |  |  |  |  |  |
|  |  |  |  |  |  |  |  |  |  |  |  |  |  |  |  |  |  |  |  |

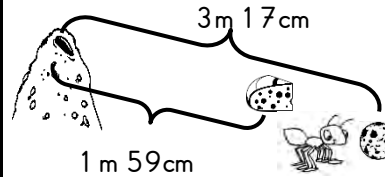
2) Uçurtmamın ipi 9 m 81 cm'iydi. Rüzgar hızlı esince 6 m 29 cm'si koptu. Evde 5 m 57 cm ip buldum ve ipime ekledim. Uçurtmamın ipi şimdi kaç metredir?

İp 9 m 81 cm'iydi



|  |  |  |  |  |  |  |  |  |  |  |  |  |  |  |  |  |  |  |  |
|--|--|--|--|--|--|--|--|--|--|--|--|--|--|--|--|--|--|--|--|
|  |  |  |  |  |  |  |  |  |  |  |  |  |  |  |  |  |  |  |  |
|  |  |  |  |  |  |  |  |  |  |  |  |  |  |  |  |  |  |  |  |
|  |  |  |  |  |  |  |  |  |  |  |  |  |  |  |  |  |  |  |  |

3) Karıncamız Çalışkan, yuvasından çıkarak 3 m 17 cm ilerliyor. Bir bisküvi parçası bulup yuvasına geri getiriyor. Tekrar yuvasından çıkıp 1 m 59 cm ileride bir peynir parçası buluyor ve yuvasına taşıyor. Çalışkan o gün kaç cm yol yürümüştür?



|  |  |  |  |  |  |  |  |  |  |  |  |  |  |  |  |  |  |  |  |
|--|--|--|--|--|--|--|--|--|--|--|--|--|--|--|--|--|--|--|--|
|  |  |  |  |  |  |  |  |  |  |  |  |  |  |  |  |  |  |  |  |
|  |  |  |  |  |  |  |  |  |  |  |  |  |  |  |  |  |  |  |  |
|  |  |  |  |  |  |  |  |  |  |  |  |  |  |  |  |  |  |  |  |

4) Annem pazardan 8 m 56 cm kumaş aldı. 3 m 28 cm'si ile elbise, 2 m 9 cm ile etek ve 1 m 6 cm'si ile penye dikti. Geriye kaç m kumaş kaldı?

8 m 56 cm

|        |      |       |   |
|--------|------|-------|---|
| Elbise | Etek | Penye | ? |
|--------|------|-------|---|

3 m 28 cm

2 m  
9 cm


1 m  
6 cm

Bugün:

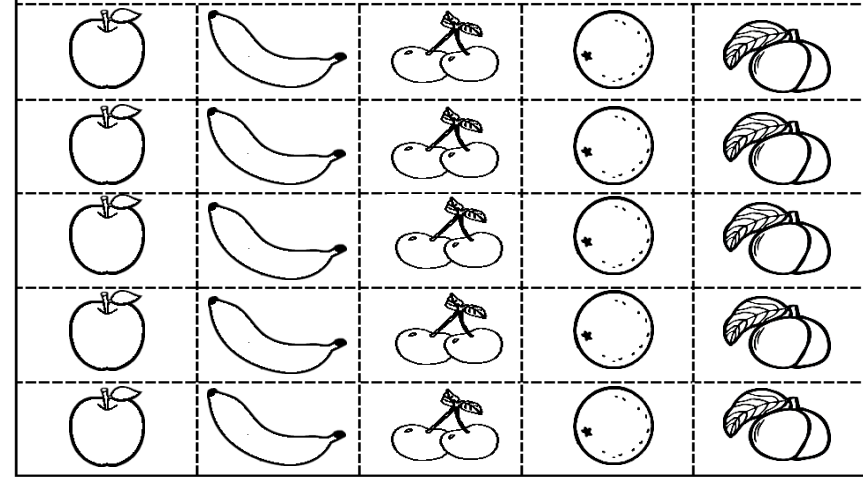
sayfa kitap okudum.

Bu çalışma yapraklarını yaparken şunlara dikkat etmelisin:


- 1) Etkinliklerde boyama istenen yerleri renklerine uygun olarak istendiği gibi boyamalısın.
- 2) Bunun dışında kalan kısımları istediğin gibi boyamakta özgürsün.
- 3) Çalışma yapraklarının her gün 1 tanesini çalışma planına uygun olarak yapmalısın.
- 4) Çalışma yaprakların hepsini bir iki günde yapıp bitirmemelisin.
- 5) Çalışma yapraklarını yapmayı erteleyerek sonradan yapmamalısın.
- 6) Çalışma yapraklarının temizliğine dikkat etmelisin. Onları katlamamalı, kıvrımmamalı, karalamamalısın.
- 7) Kaybolmamasına ve yırtılmamasına dikkat etmelisin.
- 8) Çalışma yapraklarını nereye gidersen git yanında götürmelisin.
- 9) Çalışma yapraklarını küçük çocuklardan korumalısın.
- 10) Bütün bunları yapacağını biliyor ve seni çok seviyorum.



10. GÜN SAYFASINDAKİ GRAFİK ETKİNLİĞİ İÇİN KULLAN.  
MEYVELERİN ETRAFINI DEĞİL DİKDÖRTGENLERİ KESEREK ÇIKAR.



11. GÜN SAYFASINDAKİ SÜT ÜRETİM AŞAMALARI İÇİN KULLAN.  
RESİMLERİ DİKDÖRTGEN ŞEKLİNDE ÇİZGİLERİN ÜZERİNDEN KES  
VE YAPIŞTIR.



# TATİL ÇALIŞMA PLANIM

| GÜN     | 1 0:00 11:00<br>ARASI  | 11:00 12:00<br>ARASI               | 12:00 15:00<br>ARASI  | 15:00 16:00<br>ARASI                     | 16:00 20:00<br>ARASI   | 20:00 21:30<br>ARASI   | VELİ<br>İMZASI |
|---------|--|------------------------------------|---|--|--|--|----------------|
| 1. GÜN  | Uyanma vakti<br>Yatağını toplama görevi<br>El-yüz yıkama<br>Sabah kahvaltısı | 1. gün çalışma yaprağı yapılacak.  | Odasını veya çalışma masasını<br>toplama görevi<br>Oyun zamanı<br>Öğle yemeği<br>Televizyon izleme zamanı | Her akşam 15 sayfa<br>kitap okuma zamanı | Akşam yemeği<br>Televizyon izleme zamanı<br>Oyun zamanı<br>Aile bireyleri ile sohbet etme görevi | Her gece 15 sayfa kitap okuma zamanı<br>Çarpım tablosunu ezberleme görevi<br>Dış fırçalama görevi<br>Yatma vakti |                |
| 2. GÜN  |  | 2. gün çalışma yaprağı yapılacak.  |   |  |  |  |                |
| 3. GÜN  |  | 3. gün çalışma yaprağı yapılacak.  |   |  |  |  |                |
| 4. GÜN  |  | 4. gün çalışma yaprağı yapılacak.  |   |  |  |  |                |
| 5. GÜN  |  | 5. gün çalışma yaprağı yapılacak.  |   |  |  |  |                |
| 6. GÜN  |  | 6. gün çalışma yaprağı yapılacak.  |   |  |  |  |                |
| 7. GÜN  |  | 7. gün çalışma yaprağı yapılacak.  |   |  |  |  |                |
| 8. GÜN  |  | 8. gün çalışma yaprağı yapılacak.  |   |  |  |  |                |
| 9. GÜN  |  | 9. gün çalışma yaprağı yapılacak.  |   |  |  |  |                |
| 10. GÜN |  | 10. gün çalışma yaprağı yapılacak. |   |  |  |  |                |
| 11. GÜN |  | 11. gün çalışma yaprağı yapılacak. |   |  |  |  |                |
| 12. GÜN |  | 12. gün çalışma yaprağı yapılacak. |   |  |  |  |                |
| 13. GÜN |  | 13. gün çalışma yaprağı yapılacak. |   |  |  |  |                |
| 14. GÜN |  | 14. gün çalışma yaprağı yapılacak. |   |  |  |  |                |
| 15. GÜN |  | 15. gün çalışma yaprağı yapılacak. |   |  |  |  |                |
| 16. GÜN |  | 16. gün çalışma yaprağı yapılacak. |   |  |  |  |                |

- ✦ Bu planı odana da asabilirsin, gittiğin yere de götürebilirsin.
- ✦ Bu plana uymalısın. Böylece planlı bir şekilde tatilini geçirmiş olursun.
- ✦ Nereye gidersen git tatil ödevini, kalemni, silgini, boya kalemlerini ve hikâye kitaplarını yanında götürmelisin.
- ✦ Ödevlerinin her gün 1 sayfasını plana uygun olarak yapmalısın. Hoşuna gittiği için bir iki gün içerisinde hepsini yapmamalısın ya da ödevlerini aksatıp biriktirip sonradan da yapmamalısın.
- ✦ Ödevlerini her gün yapınca ve plana uyunca annen ya da baban planda o günkü görevlerini yerine getirdiğin için imza atacak.
- ✦ Görevlerini yerine getirmezsen ve ödevlerini yapmazsan annen ya da baban imza kısmını **kesinlikle imzalamayacak.**
- ✦ Çalışma yapraklarında temiz ve düzenli çalışmalısın. Yırtmamalı, kirletmemeli ve karalamamalısın. Küçük çocuklardan ödevlerini korumalısın.
- ✦ Her gece yatarken mutlaka dişlerini fırçala benim için.
- ✦ Bu plana uyacağını ve görevlerini yerine getireceğini biliyorum. Seni çok seviyorum.

.....

3 – ..... SINIF ÖĞRETMENİ