

## İNCE İŞLER TAM BİZE GÖRE

Desenlere dikkat ederek boyayalım. Köpeğe bir isim verecek olsanız bu isim ne olurdu? .....



## 4. SINIFLAR EĞLENCİLİ TATİL ETKİNLİKLERİ

Ad, Soyad: .....



TOPLAMA ZAMANI

$\begin{array}{r} 9579 \\ + 8765 \\ \hline \end{array}$	$\begin{array}{r} 4321 \\ + 9999 \\ \hline \end{array}$	$\begin{array}{r} 9795 \\ + 8969 \\ \hline \end{array}$
$\begin{array}{r} 9699 \\ + 5978 \\ \hline \end{array}$	$\begin{array}{r} 6929 \\ + 9897 \\ \hline \end{array}$	$\begin{array}{r} 3994 \\ + 9329 \\ \hline \end{array}$
$\begin{array}{r} 9795 \\ + 6939 \\ \hline \end{array}$	$\begin{array}{r} 5969 \\ + 9584 \\ \hline \end{array}$	$\begin{array}{r} 4929 \\ + 9591 \\ \hline \end{array}$
$\begin{array}{r} 6499 \\ + 2978 \\ \hline \end{array}$	$\begin{array}{r} 9754 \\ + 5979 \\ \hline \end{array}$	$\begin{array}{r} 6978 \\ + 9499 \\ \hline \end{array}$
$\begin{array}{r} 4958 \\ + 9593 \\ \hline \end{array}$	$\begin{array}{r} 9993 \\ + 5779 \\ \hline \end{array}$	$\begin{array}{r} 9699 \\ + 3958 \\ \hline \end{array}$

## ÖYKÜYÜ TAMAMLAYALIM

Giriş kısmı verilen öyküyü tamamlayalım.  
Öyküye başlık yazalım.

.....

Emre büyüdüğünde paleontolog olmak istiyordu. Fosiller onun özel ilgi alanıydı. Bunu bilen babası ona çok sevineceği bir sürpriz yaptı. Onu bir kazı alanına geziye götürecekti.

Emre gezi gününü ipile çekiyordu.

.....

.....

.....

.....

.....

.....

.....

.....

.....

.....

.....

.....

.....

.....

.....

.....

A cartoon illustration of a young boy with brown hair and blue eyes, wearing a tan fedora-style hat, a teal long-sleeved shirt, and khaki pants. He is kneeling on a patch of brown dirt, using a small paintbrush to paint a white skull. The skull has black eye sockets and a row of sharp, black teeth. The boy is smiling and looking at the skull. He is wearing white sneakers with blue stripes.

Emre gezi gününü iple çekiyordu.

[illegible]

## TEST ZAMANI- Fen Bilimleri

1- Aşağıdakilerden hangisi mıknatısın kullanım alanlarından biri değildir?

- A) Pusulalar B) Hoparlör  
C) Buzdolabı kapağı D) Naylon poşet

2- Cisme kuvvet uygulandığında cisimde aşağıdakilerden hangisi gözlemlenmez?

- A) Yön değişikliği B) Hız değişikliği  
C) Renk değişikliği D) Şekil değişikliği

3- Aşağıdaki cisimlerden hangisine kuvvet uyguladığımızda şeklinde kalıcı bir değişim meydana gelir?

- A)  Sünger B)  fincan C)  toka D)  lastik



4- Mehmet ve Ali ellerindeki mıknatısları yukarıdaki şekilde yan yana getirdiklerinde ulaştıkları sonucu defterlerine yazdılar. Hangi cümleyi yazmış olmaları gerekir?

- A) Sallanma hareketi meydana geldi.  
B) Aynı kutuplar birbirini çekti.  
C) Zıt kutuplar birbirini çekti.  
D) Aynı kutuplar birbirini itti.

5- Parkta oynayan çocuklardan Ece salıncağa binmişti. Ali ve Efe kaleye şut atıyorlardı. Cem ise kaydırakta kayıyordu. Yukarıdaki bilgiye göre hangi çocuk sallanma hareketi yapmaktadır?

- A) Ece B) Efe C) Ali D) Cem

## ÇIKARMA YAPALIM

$$\begin{array}{r} 8030 \\ - 4799 \\ \hline \end{array}$$

$$\begin{array}{r} 7020 \\ - 4469 \\ \hline \end{array}$$

$$\begin{array}{r} 6040 \\ - 3569 \\ \hline \end{array}$$

$$\begin{array}{r} 4020 \\ - 2978 \\ \hline \end{array}$$

$$\begin{array}{r} 3030 \\ - 1388 \\ \hline \end{array}$$

$$\begin{array}{r} 8020 \\ - 4779 \\ \hline \end{array}$$

$$\begin{array}{r} 7040 \\ - 5898 \\ \hline \end{array}$$

$$\begin{array}{r} 7030 \\ - 4556 \\ \hline \end{array}$$

$$\begin{array}{r} 8020 \\ - 3588 \\ \hline \end{array}$$

$$\begin{array}{r} 6030 \\ - 2978 \\ \hline \end{array}$$

$$\begin{array}{r} 4050 \\ - 1776 \\ \hline \end{array}$$

$$\begin{array}{r} 6040 \\ - 2964 \\ \hline \end{array}$$

$$\begin{array}{r} 8030 \\ - 3743 \\ \hline \end{array}$$

$$\begin{array}{r} 8040 \\ - 4279 \\ \hline \end{array}$$

$$\begin{array}{r} 7050 \\ - 5968 \\ \hline \end{array}$$



# KODLAMA YAPALIM

# ŞİFRELİ KODLAMA

15																	
14																	
13																	
12																	
11																	
10																	
9																	
8																	
7																	
6																	
5																	
4																	
3																	
2																	
1																	
0	A	B	C	Ç	D	E	F	G	G	H	I	İ	J	K	L		

<b>PEMBE</b>	A1, A2, A3, A4, A5, A7
<b>TURUNCU</b>	B9, B10, B11, B12, B13, B14, B15, C9, C12, C15, Ç9, Ç12, Ç15
<b>YEŞİL</b>	E3, E6, E7, F2, F5, F8, G3, G4, G7
<b>MAVİ</b>	E14, E15, F12, F13, G10, G11, Ğ9, H10, H11, İ12, İ13, İ14, İ15
<b>MOR</b>	İ3, İ4, İ5, İ6, İ7, J2, J8, K2, K5, K8, L3, L4, L5, L7

**ŞİFRE**

## ŞİİR ÇALIŞMASI

Şiiri okuyalım ve soruları şiire göre cevaplayalım. Görseli boyayalım.

## ATA'M

10 Kasım'da yas tutuyorlar,  
Üzüntü bize yakışır mı Ata'm?  
Sana öldü diyorlar,  
Fikirler hiç ölür mü Ata'm?

Kullandığım harflerimde,  
Üzerimdeki elbisede,  
Tarihimde, matematiğimde,  
İzin hiç silinir mi Ata'm?

Kedere yer yok bizde,  
Gurur duyuyoruz eserinde,  
Vatanıma ve milletime,  
Fedakârlığın unutulur mu Ata'm?



Funda Menekşe

1- Şairin bahsettiği tarihin önemi nedir?

2- Şair neyin ölümsüz olduğunu söylüyor?

3- Şair Atatürk'ün nelerde izi olduğundan bahsediyor?

4- Şiirde yer alan altı çizili sözcüğün anlamını öğrenip yazalım.





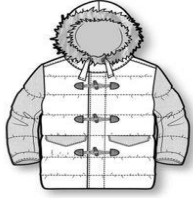





## ZİT ANLAMLI KELİMELER

Cümlelerdeki altı çizili kelimelerin zıt anlamlılarını boyayalım.

Ablama <u>soru</u> sordum.	→	yanıt	cevap	sınav
Ankadar'dan <u>geç</u> geldik.	→	önce	sonra	erken
Bu yıl <u>çok</u> kar yağdı.	→	büyük	az	kalabalık
Evdeki ekmekler <u>bayatlamış</u> .	→	yumşak	taze	ılık
Bu soruyu <u>ilk</u> ben bildim.	→	son	orta	önce
<u>Asağı</u> mahallede oturuyoruz.	→	yukarı	son	yüksek
<u>Gündüz</u> hava çok sıcaktı.	→	öğlen	gece	sabah
<u>Yaslı</u> adam çok yorulmuştu.	→	kadın	erkek	genç
<u>Temiz</u> çamaşırları katladım.	→	kirli	düzenli	bozuk
Karnım <u>tok</u> .	→	uzun	normal	aç
<u>Önce</u> kitap okuyalım.	→	sonra	yakın	şimdi
Mahallemizdeki <u>fakirlerden</u> sorumluyuz.	→	zengin	komşu	yorgun
<u>Dar</u> sokaklarda gezdik.	→	geniş	ince	sert
<u>Uzun</u> zaman önceydi.	→	yüksek	geniş	kısa
<u>Yeni</u> kitabımı bulamıyorum.	→	eski	taze	kirli
Şu <u>büyük</u> ağacı dedem dikmiş.	→	uzun	küçük	kısa

## PROBLEMLİ MAĞAZA

Kerem Bey'in mağazasında fiyatlar şu şekildedir:

				
125 TL	58 TL	45 TL	136 TL	360 TL
				
242 TL	76 TL	100 TL	98 TL	39 TL

İşlemleri yapalım, boşlukları dolduralım.

- 1- Cem bir mont ve iki pantolon alınca ..... TL öder.
- 2- Bir elbise, iki ayakkabı alan Nalan ..... TL öder.
- 3- İki gömlek ve dört şort alan Ali 300 TL verince ..... TL para üzeri almalıdır.
- 4- 468 liraya ..... tane şapka alabiliriz.
- 5- Dört kazak alan Ece ile 3 pantolon alan Ege'nin toplam faturası ..... liradır.
- 6- İki montu altı taksitle alan Ali her takside ..... Lira öder.
- 7- Dört elbise alan Begüm'ün 1000 liralık alışveriş fişi vardı. Tutarı tamamlamak için ..... liralık alışveriş yapması gerekir.
- 8- Mağazadaki her üründen birer tane aldık. ....lira ödedik.
- 9- 686 lirayla ..... adet etek aldık.
- 10- 50 şapka ve 6 çanta alan bir toptancı .....lira ödemiştir.



## TEST ZAMANI- Türkçe

1- Aşağıdakilerden hangisi sözlükte diğerlerinden önce yer alır?  
A) Sadakat B) Savunma C) Sefer D) Sadelik

2- I- Aysun için her gün diş fırçalamak zordu.  
II- Benim seninki gibi bir aracım yok.  
III- Bunu alırım ama çok pahalı.  
IV- Sabah ailece kahvaltı ettik.

Yukarıdakilerden hangisinde tek başına anlamı olmayan kelimelerden biri kullanılmamıştır?

A) I B) II C) III D) IV

3-

Şımarık arkadaşım dün bile isteye kalemliğime zarar verdi.



Can'ın cümlesinde hangi kelime bir varlığı nitelendirmiştir?

A) Şımarık B) dün C) kalemlik D) verdi

4- Aşağıdakilerden hangisi sağlıkla ilgili bir terim değildir?

A) röntgen B) stetoskop C) nota D) reçete

5- Aşağıdaki pekiştirmeli sözcüklerden hangisi doğru yazılmıştır?

A) pespembe B) sim siyah C) yepyesh C) sarsıklam

6- Cümlelerden hangisinde kesme işareti yanlış kullanılmıştır?

A) Kayseri'ye ulaşınca aranız.  
B) Dedektif Dergi'nin yeni sayısını okudun mu?  
C) Armağan Sokak'ta oturuyoruz.  
D) Mustafa Öner İlkokulu'na gidiyorum.



## OYUN ZAMANI

Ailenle süre tutarak oynayabilirsin.

### İsim, eşya, şehir...

Aşağıda verilen harflerle ilgili kelimeler bulalım.

İsim	
Eşya	
Şehir	
Hayvan	
Meyve	

İsim	
Eşya	
Şehir	
Hayvan	
Sebze	

İsim	
Eşya	
Şehir	
Hayvan	
Meyve	

İsim	
Eşya	
Şehir	
Hayvan	
Meyve	

İsim	
Eşya	
Şehir	
Hayvan	
Meyve	

İsim	
Eşya	
Şehir	
Hayvan	
Meyve	

İsim	
Eşya	
Şehir	
Hayvan	
Meyve	

İsim	
Eşya	
Şehir	
Hayvan	
Meyve	

İsim	
Eşya	
Şehir	
Hayvan	
Meyve	

## KELİME AVI- Sosyal Bilgiler

Soruların yanıtlarını bulmacada bularak boyayalım. Kalan harflerin oluşturduğu şifreyi yazalım.

A	R	K	E	O	L	O	G	M	H
A	K	T	T	O	P	A	Ç	A	A
E	R	M	E	N	İ	L	E	R	S
Y	O	N	G	A	G	U	A	A	A
İ	K	L	İ	M	A	S	T	Ş	N
Ü	İ	R	E	R	Z	U	R	U	M
E	M	P	A	T	İ	P	A	R	K
K	U	Z	E	Y	D	O	Ğ	U	K


- 1- Kurtuluş mücadelesinde doğu cephesinde savaştığımız millet
- 2- Bir yerin kuşbakışı görünüşünün kabataslak çizilmesi
- 3- Sütçü İmam'ın savunmasında rol aldığı şehir
- 4- Çinliler tarafından bulunan yön bulma aracı
- 5- Mustafa Kemal'in kongre düzenlediği doğu ilimiz
- 6- Gösterdiği başarıdan dolayı Antep'e verilen unvan
- 7- Kazı bilimiyle uğraşan kişilerin mesleği
- 8- Yeni kimliklerde yer alan çipli kısımlara verilen ad
- 9- Kuzey ve doğu yönleri arasında kalan ara yön
- 10- Kendini başkasının yerine koyarak düşünmek
- 11- Geleneksel çocuk oyunlarımızda kullanılan, dönen bir oyun aracı
- 12- Kurtuluş Savaşı'nda ilk kurşunla özeleşen kişinin ilk adı
- 13- Eğlence ve dinlenme amacıyla kurulan, ağaçlandırılmış beşeri unsur
- 14- Belli bir alanda uzun zamanda gözlenen hava olaylarına verilen ad

Şifre:

--	--	--	--	--	--	--

## DİKKAT ETKİNLİĞİ

### Kayıp Eşyaları Resimde Bulalım.





## EĞLENCE ZAMANI

RESFEBE 5

kan

tom a

k k

ay a

deş

mak

hay

uy

mek

bay

RESFEBE 6

y ak

yo

mak

tuk

ac e

ç re

t i

ya

lava


y n

Bulduğumuz kelimelerden on dört tanesini cümlede kullanalım.

- 1- .....
- 2- .....
- 3- .....
- 4- .....
- 5- .....
- 6- .....
- 7- .....
- 8- .....
- 9- .....
- 10- .....
- 11- .....
- 12- .....
- 13- .....
- 14- .....

## OKU, ANLA, BOYA

Metni okuyalım ve görseli metne göre boyayalım. Metindeki boşlukları dolduralım.



Metin, bir proje çalışması için atık malzemelerle bir roket modeli tasarlamalıydı. Bütün gün projesi üzerinde çalıştı.

Yeşil ve sarı kartonlarla roketin gövdesini yaptı. Roket başlığı olarak turuncu bir oyuncak parçası kullandı. Kuyruk kısımlarında ise kırmızı karton kullandı. Kardeşinin verdiği iki

kırmızı halkayı roket maketinin üzerine yapıştırdı. Öyle yorulmuştu ki yatar yatmaz uykuya daldı.

Metin rüyasında bir astronot olduğunu ve hazırladığı roketle uzaya gittiğini gördü. O koskoca boşlukta, Güneş sisteminde ilerlerken ilk önce Mars gezegenini gördü. Mars'ı geçince karşısına sistemdeki en büyük gezegen ..... çıktı. Bu gezegenin etrafında bir tur attı. Dikkatini başka bir gezegen çekti. Bu gezegenin etrafında bir halka vardı. Öğretmeni bu halkalı gezegenin adını da söylemişti.

"Him, sanırım hatırladım. Bu gezegenin adı ....., " dedi kendi kendine.

Roketin içi buz gibi olmuştu. Daha fazla ilerlerse donabilirdi. Ama pes etmedi. Uranüs ve sistemdeki son gezegeni yani ..... 'ü görmeden dönmek istemiyordu. Roket ilerledikçe Metin'in dişleri titremeye başladı. Gözlerini kapatıp donmamak için dua etmeye başladı. Gözlerini yeniden açtığı anda ise uyanmıştı. Yere düşen yorganını üzerine çekti ve uyumaya devam etti.

METNİN BAŞLIĞINI YAZMAYI UNUTMA!



## KİŞİLİK ÖZELLİKLERİM

Size uygun olanları işaretleyiniz.



- ☐ Sıcakkanlıyım
- ☐ Meraklıyım
- ☐ Konuşkanım
- ☐ Sessizim
- ☐ İçime kapanığım
- ☐ Maceracıyım
- ☐ Hakkımı savunurum
- ☐ Çabuk sıkılırım
- ☐ Hareketliyim
- ☐ Cesurum
- ☐ Şımarığım
- ☐ Ağırbaşlıyım
- ☐ Cömertim
- ☐ Alçakgönüllüyüm
- ☐ Cimriyim
- ☐ Titizim
- ☐ Araştırmacıyım
- ☐ Sorumsuzum

YETENEKLİ OLDUĞUM ALANLAR:

.....

.....

.....

.....

İLGİ DUYDUĞUM ALANLAR:

\_\_\_\_\_

\_\_\_\_\_

\_\_\_\_\_

\_\_\_\_\_

\_\_\_\_\_

YAKIN ARKADAŞLARIMIN İLGİ  
DUYDUKLARI ALANLAR:

.....

.....

.....

.....

Nasıl bir insan olmak isterdiniz?

.....

.....

.....

.....

# DENEY YAPALIM

## NIŞASTA DENEYİ



**Deneyin Malzemeleri:** 1.5 su bardağı mısır nişastası, 1 su bardağı su, karıştırmak için kap

**Deneyin Uygulanışı:** Su ve nişastayı güzelce yoğuruyoruz. Kıvam aldıktan sonra bir elimize karışımdan alıyoruz, diğer elimizle tabaktaki karışıma dokunuyoruz ve aradaki farkı gözlemliyoruz. Karışımımızın hangi durumda katı, hangi durumda sıvı olduğu hakkında sohbet ediyoruz. Yapışkan karışımımızla oynayarak eğlenceli vakit geçiriyoruz.



## Deney Sonunda Neler Gözlemledim?

[illegible]

## İLGİNÇ SORULAR

1- Bir ağaç ev tasarlasan bu evde neler olurdu?

.....

.....

.....

.....

2- Sence hangi hayvan çok iyi araba kullanabilirdi? Nedenini açıklayalım.

.....

.....

.....

.....

3- Bir süper kahraman olsan nasıl bir süper gücün olmasını isterdin? Neden?

.....

.....

4- Öğretmenin yerinde sen olsan sınıfta nasıl bir uygulama başlatırdın?

.....

.....

.....

## SAYILARLA TEKRAR ZAMANI

Verilen sayıların okunuşlarını yazalım.

- 45 340: .....
- 103 450: .....
- 2 202 : .....
- 165 : .....
- 600 409: .....

Sayıları çözümleyelim.

- 230 680

- 80 754

Sayıların tek ya da çift olduklarını belirleyelim. Çift sayılara Ç, T sayılara T yazalım.

- ( ) 98 457      ( ) 3 330      ( ) 68 254      ( ) 6 389
- ( ) 658 233      ( ) 5 386      ( ) 34 001      ( ) 76 252

- Rakamları birbirinden farklı beş basamaklı en büyük çift sayı kaçtır? .....
- On binler basamağı 8, yüz binler basamağı 7, binler basamağı 3, onlar basamağı 5 olan sayıyı yazalım. ....
- Sayıların bölüklerini yazalım.


5415	7816	4144	3615
Binler Bölüğü	Binler Bölüğü	Binler Bölüğü	Binler Bölüğü
Birler Bölüğü	Birler Bölüğü	Birler Bölüğü	Birler Bölüğü
5			
415			

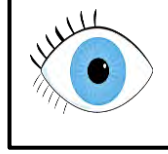


## ATASÖZLERİMİZ

Görsellerle verilen ipuçlarından yola çıkarak anlatılmak istenilen atasözünü yazalım







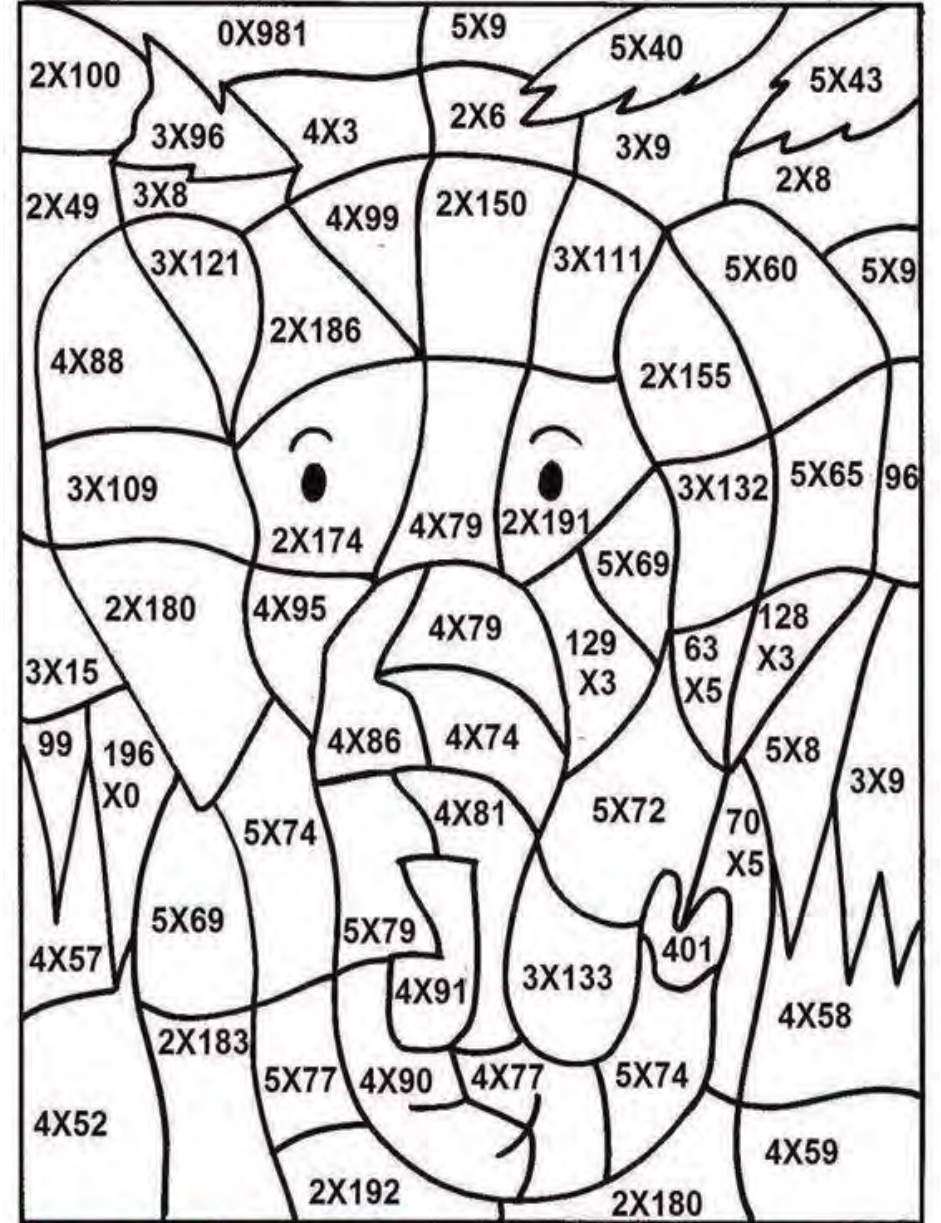





Siz de seçtiğiniz iki atasözünü görselle anlatabilir misiniz?



## ÇARP VE BOYA



0 — 199    200 — 299    300 — 399    400 — 499

Mavi

Yeşil

Gri

Pembe

## PROBLEM CANAVARI İŞ BAŞINDA

Bir şenlikte 19 koli meyve suyu dağıtılmıştır. Her kolide 120 adet meyve suyu kutusu vardır. Meyve sularının 1603 tanesi vişne suyudur. Diğerleri kayısı suyu olduğuna göre şenlikte kaç kutu kayısı suyu dağıtılmıştır?

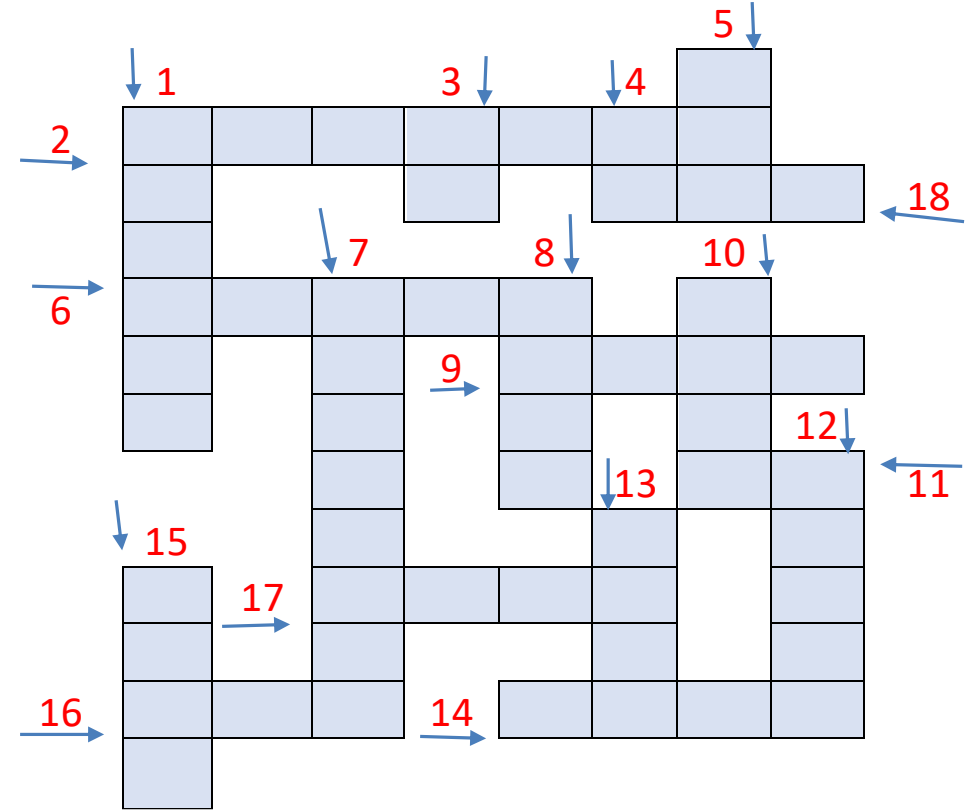
En küçük üç basamaklı çift sayı ile rakamları farklı en küçük iki basamaklı sayının çarpımı kaçtır?

En yakın onluğa yuvarlandığında 2160 olan en büyük sayı ile en yakın yakın yüzlüğe yuvarlandığında 4300 olan en küçük sayının toplamı kaçtır?

Rakamları birbirinden farklı dört basamaklı en büyük çift sayının 2341 eksiği kaçtır?

## BULMACA ZAMANI

Verilen kelimelerin eş anlamlılarını kullanarak bulmacayı çözelim



- 1- uslu
- 2- hediye
- 3- beyaz
- 4- kırmızı
- 5- Anne
- 6- dil
- 7- güz
- 8- sevinç
- 9- tutsak

- 10- yapı
- 11- isim
- 12- derya
- 13- küçük
- 14- uyarı
- 15- düş
- 16- mekân
- 17- ses
- 18- söz

