

1) Aşağıdaki cümlelerden hangisinde “zayıf” kelimesi farklı bir anlamda kullanılmıştır?

- A) Maçta zayıf rakibimizi kolay yendik.
B) Hasan’ın zayıf yönlerini biliyorum.
C) Eğitimi zayıf olan ülkeler gelişemez.
D) Elif zayıf olduğu için elbise çok bol oldu.

2) Aşağıdaki seçeneklerden hangisinde "-ki" eki yanlış yazılmıştır?

- A) Benimki bugün çok yorulmuş.
B) Baktımki olmuyor, bende bıraktım.
C) Bendeki bu zeka kimde var?
D) Ondaki paraları sen al.

3) Aşağıdaki tümcelerin hangisinde “ uzay “ sözcüğünün eş anlamlısı kullanılmıştır?

- A) Ahali, olan biteni görünce çok şaşırmıştı.
B) Yıldızlar bu gece çok parlak.
C) Güneş sandığımdan daha büyükmüş.
D) Feza, sonu olmayan bir boşluktur.

4) El üstünde tutmak “ deyimi hangi anlamda kullanılır?

- A) Oyun oynatmak B) Boş yere uğraşmak
C) Hiç sevmemek D) Çok değer vermek

5) Avucunu yalamak “ deyimi hangi anlamda kullanılır?

- A) Çok temiz olmak
B) Umdüğünü bulamamak
C) Çok acıkmak
D) Canı çok sıkılmak

I. Pakize Teyze çok sıcak bir insan.

II. Yeni saç modeline bayıldım.

III. Evin içinde keskin bir koku var.

IV. Dayım köyde çalışmış tüm gün.

6) İçerisinde mecaz anlamlı kelime kullanılan tümceler hangileridir?

- A) I – II – III B) II – III – IV C) I - II D) I – II - IV

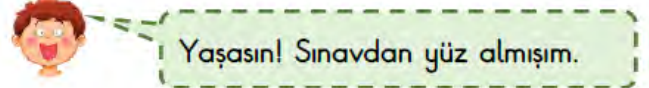
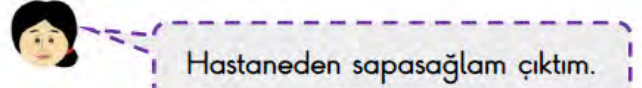
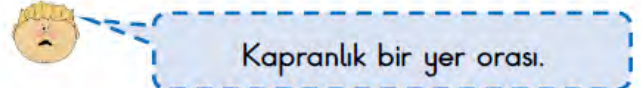
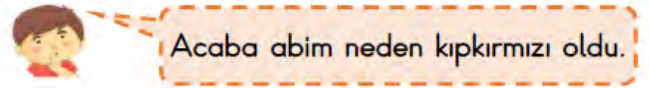
Çalışmak ile ilgili bir atasözü bulmam gerekli. Yardımcı olur musunuz?

7) Ayşe, aşağıdaki atasözlerinden hangisini seçmelidir?

- A) Keskin sirke küpüne zarar.
B) Körle yatan şaşı kalkar.
C) İğneyi kendine, çuvaldızı başkasına batır.
D) Emek olmadan yemek olmaz.

8) Hangisi terim anlamlı bir kelimedir?

- A) makas B) kütle C) pırasa D) araba



9) Hangi çocuğun tümcesinde , pekiştirme yapılan bir sözcük yoktur

- A) B)
C) D)

() Arkadaşlar , yarın kütüphaneye gitmek isteyen var mı ()

Oya ()

() Annemden izin alırsam ben gelmek istiyorum.

10) Yukarıdaki cümlede yay ayraçlarla belirtilen yerlere hangi noktalama işaretleri gelmelidir ?

- A) (-) , (:) , (:) , (-)
B) (-) , (?) , (.) , (-)
C) (-) , (?) , (:) , (-)
D) (“) , (”) , (:) , (-)

Aysel Hanım () bahçedeki çocuklara seslendi ()

() Çabuk sınıflarınıza gidin ()

11) Yukarıdaki cümlede yay ayraçlarla belirtilen yerlere hangi noktalama işaretleri gelmelidir ?

- A) (,) , (:) , (-) , (.) B) (,) , (:) , (-) , (!)
C) (,) , (,) , (-) , (?) D) (,) , (;) , (-) , (!)

12) Aşağıdaki cümlelerden hangisinin sonuna soru işareti getirilemez?

- A) Akşamki gürültünün nedeni neymiş()
B) Ödevlerini zamanında yapıyor musun()
C) Dün okula gelip seni soran kimmiş()
D) Neşet’in neden bu kadar sorun çıkardığını anlamıyorum()

13) Aşağıdaki bilgilerden hangisi ünlem işareti (!) için yanlıştır?

- A) Seslenme sözlerinden sonra kullanılır.
B) Sevinç , korku , acıma duyguları anla-

tan cümlelerin sonuna konur.

C) Cümle içinde eş görevli kelimelerin arasında kullanılır.

D) Alay, küçümseme anlamı kazandırılmak istenen sözden sonra kullanılır.

Dün Hasan benimle konuştu () Yarın kütüphaneye gideceğini () bir konuda araştırma yapacağını söyledi () Acaba hangi konuda araştırma yapacak ()

14) Yukarıdaki cümlede yay ayrıçlarla belirtilen yerlere hangi noktalama işaretleri gelmelidir ?

A) (:) , (.) , (.) , (?)

B) (.) , (:) , (.) , (!)

C) (.) , (,) , (.) , (?)

D) (.) , (,) , (:) , (?)

Bayan güvenlik görevlisine hangi kata çıkacağını sordu.

15) Yukarıdaki cümlede hangi kelimedenden sonra virgül konursa cümlelerin anlamı değişir?

A) bayan B) görevlisine C) kata D) güvenlik

16) Öğretmenim işleri zamanında yapmak ile ilgili bir atasözü söylememi istedi.

Yukarıdaki ifadeye göre Selin aşağıdaki atasözlerinden hangisini söyleyebilir?

A) Sakla samanı gelir zamanı

B) Tatlı dil yılanı deliğinden çıkarır

C) Yalnız taş duvar olmaz

D) Demir tavında dövülür

Zamanında görevini yapmadığı.....

17) Yukarıdaki cümlelerin sebep sonuç cümlesi olabilmesi için, aşağıdaki seçeneklerden hangisi ile tamamlanması uygun olur?

A)bu yüzden çok mutlu oldu.

B)için maaşına zam yapıldı.

C)için zor durumda kaldı.

D)bu nedenle patronundan övgüler aldı.

18) Aşağıdaki tümcelerin hangisinde pekiştirme yapılan bir sözcük kullanılmamıştır?

A) Olayları düzeltiyim derken büsbütün daha da kötü hale getirdim.

B) Dört gündür yağan kar, bembeyaz bir örtü oluşturdu.

C) Buzdolaplarında kampanya varmış, fiyatları iyice düşmüş.

D) Yaşlı adam seksen beş yaşında olmasına rağmen sapasağlam ayakta idi.

19) Aşağıda verilen tümcelerin hangisinde , “ de “ ekinin yazımı ile ilgili bir hata yapılmıştır?

A) Bu durumdan Melisa’da çok rahatsız.

B) Evet sen de bizimle geleceksin.

C) Yarın da uyanamazsam işten atılırım.

D) Top oynamaya Mert de gelecek mi?

Ahmet Beyin arabası geldi. Erken değil mi?

Biz 15 Kasımda bekliyorduk. Ayrıca THY nin uçağıyla gelecekti. Arabayla gelmiş.

20) Kesme işareti konulması gereken bazı yerlere, kesme işareti konulmamıştır. Bu yazıda , bu şekilde kaç tane hata yapılmıştır?

A) 1

B) 2

C) 3

D) 4

I. Evimizin minik yaramazı, kedimiz minnoş.

II. Dumlupınar ortaokuluna gideceğim.

III. Kartal Devlet Hastanesi’ne nasıl gidilir?

IV. Fatma Hanım geldi.

21) Büyük harflerin doğru kullanıldığı tümceler hangileridir?

A) I ve II

B) III ve IV

C) I ve IV

D) II ve III

Bursa’lımısın küçük kız . Nereden geldin.

22) Yukarıdaki tümcede noktalama ve yazım yanlışları vardır. Bu tümcenin doğru şekilde yazılışı aşağıdakilerden hangisidir?

A) Bursa’lı mısın küçük kız ? Nereden geldin?

B) Bursa’lımısın küçük kız? Nereden geldin?

C) Bursalı mısın küçük kız ? Nereden geldin.

D) Bursalı mısın küçük kız ? Nereden geldin?

23) Aşağıdaki cümlelerden hangisi öznel bir nitelik taşır?

A) Ülkemizde işsizliğin nedenleri araştırılıyor.

B) İnsanlar için para amaç değil, araç olmalıdır.

C) İşsizlik oranı arttıkça maddi sıkıntıların da arttığı gözleniyor.

D) Ülke nüfusunun yüzde onu, yoksulluk sınırındadır.

24) Aşağıdaki cümlelerin hangisinde yazım yanlışları vardır?

A) Dünkü maçı Galatasaray kazanmış.

B) Komşumuz Ayşe Teyze’ye ekmek aldım.

C) Suna’nın balığı süslü ölmüş.

D) Dayım Almanya’dan hediye göndermiş.

25) Aşağıdakilerden hangisi sözlük sırasına göre sıralanmamıştır?

A) merdiven – mor – mutlu – mübarek

B) fakir – fikir – feda – füze

C) cazip – cevap – cilve – Cuma

D) takı – tel – telefon – teyp

1) Geçmiş zamanda yaşamış canlıların yer kabuğu kayaçları içindeki kalıntıları ne denir?

- A. kum B. fosil C. maden D. çakıl

2) Aşağıdakilerden hangisi kuvvetin etkisi kaldırıldığında ilk haline dönemez?

- A. Sünger B. Lastik
C. Oyun hamuru D. Teneke kutu



3) Şekildeki işçi eğik zeminde hızlanma hareketi yapan el arabasını yavaşlatmak ya da durdurmak için ne yapmalıdır?

- A. Koşmalıdır.
B. Arabanın önüne geçmelidir.
C. İtme hareketi yapmalıdır.
D. Arabayı kendine doğru çekmelidir.

4) Aşağıdakilerden hangisi alkolün zararlarından değildir?

- A) Alkol kullanan kendini mutlu hisseder.
B) Alkol refleksleri yavaşlatır
C) Alkol beyni, kasları ve damarları olumsuz etkiler.
D) Alkol kullanan kişi, davranış ve duygularını kontrol etmekte zorlanır.



1. Hızlanır
2. Durur
3. Yavaşlar
4. Şekil değişir

5) Yukarıdaki şekildeki cisim ok yönünde hareket etmektedir. Cisme arkasından bir itme kuvveti uygulandığında aşağıdakilerden hangisi ya da hangileri gerçekleşir?

- A. Yalnız 1 B. Yalnız 2 C. 1 ve 3 D. 2 ve 4

6) İp çekme oyununda iki taraf da birbirlerini yenemiyor ise bunun sebebi ne olabilir?

- A) Yerin kaygan olması.
B) Uyguladıkları kuvvetin eşit olması.
C) Bir tarafın kuvvetinin az olması.
D) Bir tarafın kuvvetinin çok olması.

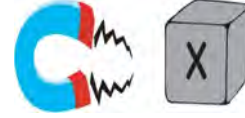
7) Suya düşmüş bu maddelerden hangisini mıknatıs ile çıkartabiliriz?

- A) Tahta kaşık B) Altın bilezik C) Çivi D) Taş



8) Murtaza, hareket halindeki oyuncak arabaya hareketi yönünde kuvvet uyguluyor. Arabanın hareketinde aşağıdaki durumlardan hangisi gözlenir?

- A) Araba hızlanır. B) Araba yön değiştirir.
C) Araba durur. D) Araba yavaşlar.



9) Yandaki "X" maddesi mıknatıs tarafından çekildiğine göre "X" maddesi aşağıdakilerden hangisi olamaz?

- A) Demir tabak B) Nikel tabak
C) Porselen tabak D) Kobalt tabak

I-Mıknatıs tarafından çekilmez.


II-Suda batır.

III-Suyu emmez.

10) Yukarıda özellikleri verilen madde aşağıdakilerden hangisidir?

- A) taş B) kağıt C)tahta D) demir

11) Mıknatısların kutuplarını, altındaki açıklamadan yararlanarak noktalı yerlere yazalım.



Mıknatıslar birbirini itiyor.



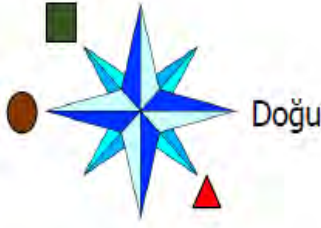
12) Yukarıdaki kişi elindeki cisim ile bazı maddeleri çekebilmektedir. Buna göre aşağıdaki şıklardan hangisinde, bu cisim ile çekilebilen maddeler doğru olarak sıralanmıştır.

- A) demir – bakır – nikel – tahta
B) çelik – kağıt – gümüş – taş
C) çinko – demir – porselen – nikel
D) kobalt – çelik – nikel – demir

13) Aşağıdakilerden hangisi mıknatısın günlük hayatımızda kullanım alanlarına örnek verilemez?

- A) Hoparlör yapımında kullanılır.
B) Buzdolabı kapağında kullanılır.
C) Cam temizleyici aletlerde kullanılır.
D) Plastik tabaklarda kullanılır.

- A) termometre B) sıcaklık C) tahta D) su



1) Yukarıda verilen şemada şekiller hangi yönleri göstermektedir?



- | | | |
|--------------|-------|-----------|
| A) Kuzeydoğu | Güney | Batı |
| B) Kuzeybatı | Batı | Güneydoğu |
| C) Güneybatı | Kuzey | Güneydoğu |
| D) Kuzeybatı | Batı | Güneybatı |

2) Aşağıdakilerden hangisi krokinin özelliği değildir?

- A) Kuşbakışı ve kabataslak çizilir.
B) Uygun semboller kullanılır.
C) Cetvel kullanılarak çizilir.
D) Adres bulmak için kullanılır.

3) Aşağıdakilerden hangisi doğal unsur değildir?

- A) Orman B) Şelale C) Dağ D) Park

4) Aşağıdakilerden hangisi deprem sırasında alınacak önlemlerden biri değildir?

- A) Devrilebilecek eşyalardan uzak durmak
B) Acil durum planı hazırlamak.
C) Çömel, kapan, tutun hareketini yapmak.
D) Sakince depremin bitmesini beklemek.

- I. Tuz Gölü II. Erciyes Dağı
III. Bafra Ovası IV. Nevşehir şehir merkezi

5) Yukarıda verilenlerden hangisine Türkiye Fiziki Haritasında ulaşamaz?

- A) I B) II C) III D) IV

- I. Eğimli arazi II. Seyrek bitki örtüsü III. Aşırı yağış

6) Yukarıda verilenler aşağıdaki doğal afetlerden hangisinin sebebi olamaz?

- A) Deprem B) Sel C) Çığ D) Erozyon

7) Aşağıdakilerden hangisi deprem sonrasında yapılması gerekenlerden değildir?

- A) Zorunlu olmadıkça telefonları meşgul etmemek.
B) Arama kurtarma ekiplerine yardım etmek.
C) Evimize girmek için acele etmemek.
D) Ağaç veya duvar dibinde beklemek.

8) Ormanda yolunu kaybeden bir kişi ağaçlardaki yosunlarına bakarak hangi yönü bulabilir?

- A) Kuzey B) Batı C) Doğu D) Güney

9) Fiziki haritalarda denizler hangi renk ile gösterilir?

- A) Yeşil B) Sarı C) Mavi D) Kahverengi

10) Fiziki haritalarda dağlar hangi renk ile gösterilir?

- A) Yeşil B) Sarı C) Mavi D) Kahverengi

11) Çığ felaketi aşağıda verilen alanların hangisinde görülmez?

- A) Ovalarda B) Dağlık bölgelerde
C) Yoğun kar yağışlı bölgelerde D) Eğimli arazilerde

12) Aşağıdakilerden hangisi beşeri unsurlardandır?

- A) Dere B) Göl C) Köprü D) Deniz

13) Aşağıdakilerden hangisi bir hava olayı değildir?

- A) Sis B) Heyelan C) Kar D) Rüzgar

14) Aşağıda verilen bilgilerden hangisi yanlıştır?

- A) Deprem bir doğal afettir.
B) Depreme karşı evlerimiz sağlam zemine yapmak etkili bir yöntemdir.
C) Çok katlı büyük evler depreme karşı bizi korur.
D) Deprem öncesi tatbikat yapmak bize depremde zaman kazandırır.

15) Sabahleyin sağ kolumuz güneşe gelecek şekilde kolumuzu açtığımızda arkamız hangi yönü gösterir?

- A) Doğu B) Batı C) Kuzey D) Güney

16) Osmanlı Devleti 30 Ekim 1918'de imzaladığı hangi antlaşma ile bağımsızlığını ve kendini savunma imkanlarını kaybetmiştir?

- A) Gümrü Barış Antlaşması
B) Ankara Antlaşması
C) Mudanya Ateşkes Antlaşması
D) Mondros Ateşkes Antlaşması



1882'de İstanbul'da doğdu. 1905'te Harp Akademisini bitirerek Manastır'a atandı. 1. Dünya Savaşı'nda çeşitli cephelerde başarıyla görev yaptıktan sonra Kurtuluş Savaşı'nda **Doğu Cephesi** komutanlığına getirildi.

17) Yukarıda bahsedilen kişi aşağıdakilerden hangisidir?

- A) Kazım Karabekir B) Sütçü İmam
C) Ali Saip Bey D) Yörük Ali Efe

Sakarya Zaferi'nin ardından Güney Anadolu topraklarında tutunamayacaklarını anladılar. 20 Ekim 1921'de TBMM hükümeti ile Ankara Antlaşması'nı imzalayıp işgal altında tuttukları Adana ve Antep'ten çekildiler.

18) Yukarıdaki metinde bahsedilen millet aşağıdakilerden hangisidir?

- A) İngilizler B) Fransızlar
C) İtalyanlar D) Ermeniler

19) Top mermileri ıslanmasın ve kızı donmasın diye kendini feda ederek şehit olan kahraman Türk kadını kimdir?

- A) Rahmiye Hanım B) Şerife Bacı
C) Fatma Bacı D) Nene Hatun

..... Zaferi yurdun her yerinde büyük coşkuyla kutlandı. TBMM, kazandığı bu zafer nedeniyle Mustafa Kemal Paşa'ya "Mareşal" rütbesini ve "Gazi" unvanını verdi.

20) Yukarıdaki noktalı yere aşağıdakilerden hangisi getirilmelidir?

- A) 1. İnönü B) Çanakkale C) Dumlupınar D) Sakarya

21) Aşağıdaki şehirlerden hangisi, düşmana karşı gösterdikleri cesaret ve yiğitlik nedeniyle TBMM tarafından unvan verilen şehirlerden değildir?

- A) Antep B) Urfa C) Maraş D) Adana

22) Arife ve Burak ikiz kardeşlerdir. Buna göre bu iki kardeşin nüfus cüzdanlarındaki hangi özellik farklıdır?

- A) Doğum Tarihleri B) Doğum Yerleri
C) Kimlik Numaraları D) Baba Adları

23) Aşağıdaki davranışlardan hangisinin kendini başkalarının yerine koyma duygusunun bir sonucu olduğu söylenemez?

- A) Bülent'in kalemini evde unutan Ensar'a kalemlerinden birini vermesi.
B) Emre'nin sofrayı kurmada anne babasına yardım etmesi.
C) Elif'in boş zamanlarını resim yaparak
D) Yiğit'in okul kantininde sıraya girmesi.

24) Aşağıdaki davranışlardan hangisinin empatiyi en doğru şekilde tanımladığı söylenebilir?

- A) Karşısındaki kişinin dostluğunu kazanmaya çalışma
B) Karşısındaki kişiye onun kendisine davrandığı gibi davranma
C) Karşısındaki kişinin neler hissedebileceğini tahmin edip ona göre davranma
D) Karşısındaki kişinin hatasını yüzüne vurmama

25) Ayla'nın halk oyunları ekibine, Emir'in ise okçuluk spor kulübüne seçilmek istemesi ile ilgili aşağıdaki ifadelerden hangisini söylemek doğru olur?

- A) Matematik dersindeki başarıları
B) İlgi alanlarının farklı olması
C) Ailelerinin istekleri
D) Arkadaş çevrelerinin istekleri

26) Esmâ'nın dedesi çocukluğunda oynadığı oyunları anlatıyordu. Esmâ'nın dedesi aşağıda verilen oyunlardan hangisini çocukluğunda oynamamıştır?

- A) Çelik çomak B) Topaç
C) Bilgisayar oyunları D) Körebe

27) Ailemizin tarihini araştırırken aşağıdakilerden hangisini kullanmayız?

- A) Sözlü tarih B) Aile albümü
C) Kütüphane D) Eski eşyalar

28) Aşağıdaki olayların kronolojik sıralaması aşağıdakilerden hangisinde doğru olarak verilmiştir?

- I. Sivas Kongresi
II. Atatürk'ün Samsun'a çıkması
III. Cumhuriyetin ilanı
IV. Başkomutanlık Meydan Savaşı

- A) I – IV – II – III B) IV – III – II – I
C) III – I – II – IV D) II – I – IV – III

29) Aşağıdaki doğal ve beşeri unsurlar ile ilgili eşleştirmelerden hangisi yanlıştır?

- A) Peribacaları – Doğal Unsur
B) Boğaz Köprüsü - Beşeri Unsur
C) Dolmabahçe Sarayı – Doğal Unsur
D) Kız Kulesi – Beşeri Unsur

30) Hava olayları, aynı bölgede yaşayan hangi meslek grubunu daha çok etkiler?

- A) denizci B) doktor C) terzi D) öğretmen

27 OCAK PERŞEMBE GÜNÜ EV ÖDEVİ



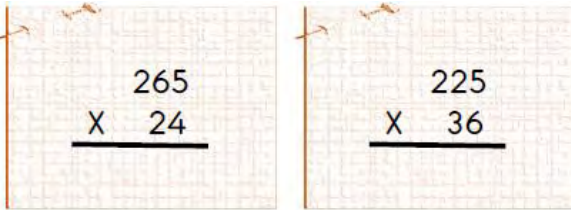
1) Yukarıdaki doğal sayılarda , bazı basamaklar işaret ile gösterilmiştir. İşaret ile gösterilen basamaklardaki sayıların, basamak değerlerinin toplamı kaçtır?

Çözüm:



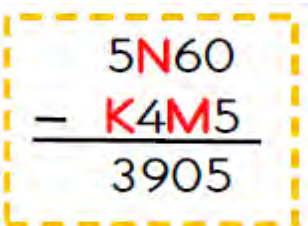
2) Yukarıdaki uçaklarda, beş ve altı basamaklı sayılar yazılıdır. Bu sayıları küçükten büyüğe doğru sıralarsak, sıralama nasıl olur?

Çözüm :



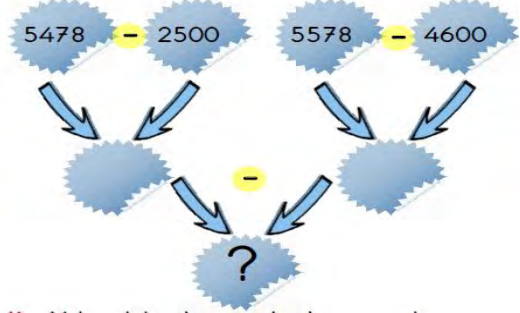
3) Yukarıdaki çarpma işlemlerinin sonuçlarının, farkı kaçtır?

Çözüm :



4) Yukarıdaki çıkarma işleminin sonucunu bulalım. $K + M + N = ?$ İşleminin sonucu kaç olur?

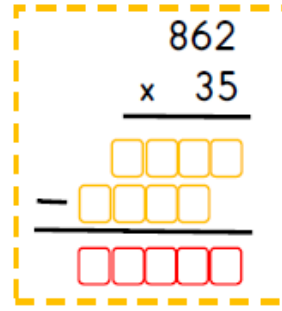
Çözüm :



5) Yukarıdaki çıkarma işlemlerini sırayla çözersek , “soru işareti “ olan bölümü kaç buluruz?

Çözüm:

6) Aşağıdaki çarpma işleminin sonucunu bulalım.



7) Bir çuvalın içerisinde 574 tane cevizim var. Cevizlerin

$\frac{3}{7}$ 'ü çürüdü. $\frac{2}{7}$ 'sini de yedim. Geriye kaç tane cevizim kalmıştır?

Çözüm :

8) “Beş yüz beş bin beş” sayısının rakamla yazılışı aşağıdakilerden hangisidir?

A) 50505 B) 505055 C) 505505 D) 505005



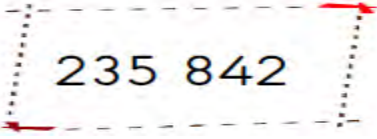
9) Sayı doğrusunda, belirtilen bölüme denk gelen kesrin, bileşik kesir olarak yazılışı aşağıdakilerden hangisidir?

A) $1 \frac{1}{3}$

B) $2 \frac{1}{3}$

C) $\frac{7}{4}$

D) $\frac{7}{3}$



10) Yukarıdaki sayının binler ve birler bölüğünü yer değiştirirsek, oluşan yeni sayı eski sayıdan kaç fazla olur?

- A) 506 893 B) 606 393 C) 842 235 D) 245 868



11) Yukarıdaki rakamlar ile yazılabilecek dört basamaklı en küçük çift sayıyı bulunuz. Bulduğunuz sayıyı 18'e bölerseniz, sonuç kaç olur?

Çözüm:

$$\begin{array}{r} 9 \ 5 \ 8 \ 4 \\ - \ 5 \ \boxed{4} \ 7 \\ \hline 3 \ 6 \ \boxed{7} \end{array}$$

12) Çıkarma işlemindeki verilmeyenleri bulunuz.

Çözüm:

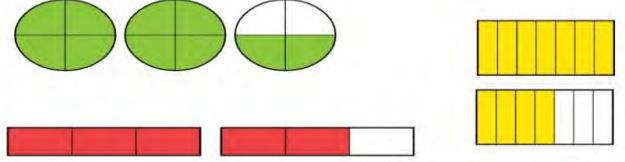
13) Hayri sağlıklı yaşamak için spor yapıyor. Her gün parkta koşuyor. Birinci gün 2015 metre koşuyor. İkinci gün ise ilk gün koştuğu mesafeden 200 metre daha fazla koşuyor. Üçüncü gün ise , ilk iki gün koştuğu mesafenin toplamı kadar koşuyor. Hayri üç gün boyunca toplam kaç metre koşmuştur?

Çözüm :

14) Sinemadaki filmi pazartesi günü 1635 kişi, salı günü 2097 kişi izlemiş. Çarşamba günü ise salı gününden 248 kişi fazla izlemiş.

Çözüm:

15)



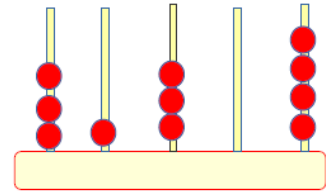
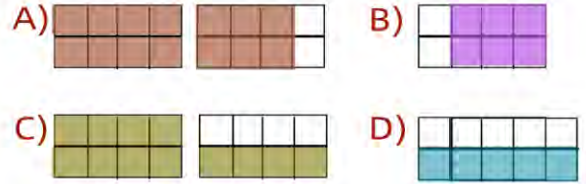
Şıklarda verilenlerden hangisi, yukarıdaki kesirlerden birinin okunuşu olamaz?

- A) İki tam iki bölü dört
B) On bir bölü yedi
C) Bir tam iki bölü üç
D) Sekiz bölü beş

16)

- *Ben bir bileşik kesirim.
- *Bir bütünün 8 eş parçaya ayrılmış hâli paydamdır.
- *Payımda ise 12 eş parça vardır.

Yukarıda kendini bize tanıtan kesirin modelle gösterimi aşağıdakilerden hangisidir?

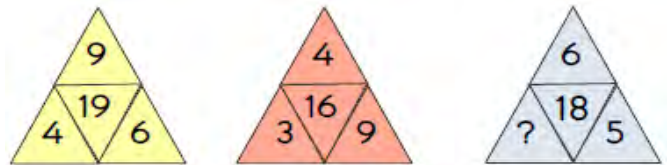


17) Abaküste gösterilen sayının okunuşu hangisidir?

- A) Kırk bin üç yüz on üç B) Otuz bir bin üç yüz dört
C) Yirmi bir bin altı yüz dört D) Üç bin yüz otuz dört

18) Aşağıdaki sayılardan hangisinin en yakın yüzlüğü 5300 değildir?

- A) 5280 B) 5345 C) 5250 D) 5351



19) Yukarıdaki örüntülerin kuralları aynı olduğuna göre soru işareti yerine gelmesi gereken sayı kaçtır?

- A) 7 B) 9 C) 8 D) 10

20) 202 008" doğal sayısının çözümlenmiş şekli aşağıdakilerden hangisidir?

- A) 2 on binlik + 2 onluk + 8 birlik
B) 2 on binlik + 2 yüzlük + 8 birlik
C) 2 yüz binlik + 2 yüzlük + 8 onluk
D) 2 yüz binlik + 2 binlik + 8 birlik

1) “Çıkmak” sözcüğü aşağıdaki cümlelerin hangisinde “bulunduğu yeri bırakıp başka yere geçmek, taşınmak” anlamında kullanılmıştır?

- A) Bu işten en kârlı çıkan sen oldun.
B) Dik merdivenli yokuşu güçlükle çıktık.
C) Yazarın gençler için yazdığı kitap çıktı.
D) Köyden çıkıp kasabaya yerleşmeye karar verdik.

2) Aşağıdaki cümlelerin hangisinde zıt anlamlı kelimeler bir arada kullanılmıştır?

- A) Eve gelir gelmez ödevlerini yapmaya başladı.
B) Derse geç geldiği için öğretmeninden özür diledi.
C) İnsanların güvenini kazanmak istiyorsan dürüst olmalısın.
D) Geç başlamasına rağmen sınavı arkadaşlarından erken bitirdi.

3) Aşağıdaki cümlelerin hangisinde “de” bağlaç olarak kullanılmıştır?

- A) Bahçeye ağaç dikmek için bir de kürek gerekli.
B) Köyün girişinde büyük bir bayrak asılıydı.
C) Tatilde gittiği yerleri arkadaşlarına anlatıyordu.
D) İzmir’de havalar ısınmaya başladı.

1. Leyla köpeği barınağa teslim etti.
2. Köpek birkaç gün sonra iyileşti.
3. Leyla sokakta ayağı incinmiş bir köpek gördü.
4. Dedesiyle beraber köpeği veterinerine götürdüler.
5. Tedavinin ardından onu evin bahçesinde misafir ettiler.

4) Numaralanmış cümlelerle anlamlı bir metin oluşturulduğunda sıralama aşağıdakilerden hangisi olur?

- A) 1-2-5-3-4 B) 1-4-5-2-1 C) 3-4-5-2-1 D) 3-5-4-2-1

“Film() tiyatro ve müzikal izlemeyi seviyorum() Sen hangisini seversin()”

5) Yukarıdaki cümlelerde yay ayraçla () belirtilen yerlere sırasıyla hangi noktalama işaretleri getirilmelidir?

- A) (;) (!) (?) C) (,) (.) (?)
B) (.) (,) (!) D) (,) (:) (?)

6) Aşağıdaki ifadelerden hangisinin sonunda ünlem işareti kullanılmaz?

- A) Seni bekliyordum B) Hey, buraya gel
C) Ey Türk Gençliği D) Dikkat et, düşeceksin

7) Aşağıdaki cümlelerin hangisinden virgül çıkarılırsa cümlelerin anlamı değişir?

- A) O, çok neşelidir. B) O, adamı yakalayan kişidir.
C) O, ne kadar da sevecen. D) O, beni çok sever.

8) Hangi cümlelerin sonundaki noktalama işareti doğru kullanılmıştır?

- A) Eyvah, okula geç kaldık?
B) Nasıl geleceğimi bilmiyorum?
C) Ne kadar şanslı olduğumu bilemezsin.
D) Kaç bardak su içersin günde.

9) “Bakmak” sözcüğü aşağıdaki cümlelerin hangisinde “koruyup kollamak, gözetmek” anlamında kullanılmıştır?

- A) Karşısındakine şöyle bir baktı ama onu tanıyamadı.
B) Giden arabaların arkasından uzun uzun bakıyordu.
C) Olup bitenlere sadece bakmakla yetiniyordu.
D) Teyzesinin küçük çocuklarına o bakıyordu.

10) Aşağıdaki cümlelerin hangisinde sebep-sonuç ilişkisi vardır?

- A) Bu akşamki işim erken biterse size uğramaya çalışacağım.
B) Hey gidi günler! Zaman nasıl da su gibi akıp geçiyor.
C) Bir karar verdi mi hiçbir güç onu kararından vazgeçiremez.
D) Bütün kitaplarını çantasına koyduğu için çantasını taşıyamıyordu.

11) Aşağıdaki cümlelerin hangisinde karşılaştırma yapılmıştır?

- A) Çocuklar bahçede karşılıklı saz çalıyordu.
B) Et ve tırnak gibiydiler, hiç ayrılmıyorlardı.
C) Bütün olup bitenlerden haberi bile olmadı.
D) Mahsulün bu yıl daha iyi olduğunu söyledi.

12) Aşağıda harfleri karışık olarak verilen kelimeleri bulunuz.

K I L A S	→
T I N A Y	→
İ S B A T	→
E Y B İ R	→
N I K A T	→
P A L K	→
A K R İ F	→
K U L O	→
H İ R E N	→
T R O K D O	→

13) Aşağıdaki cümlelerin hangisinde "ki"nin yazımıyla ilgili bir yanlışlık yapılmıştır?

- A) Bu etek benimkine çok benziyor.
- B) Duydum ki unutmuşsun gözlerimin rengini.
- C) Arkadaşlarımla İzmir'deki çarşıları gezdik.
- D) Unutmaki okulda kurallara uymak önemlidir.

14) Aşağıdaki cümlelerin hangisinde "doğru" sözcüğü mecaz anlamda kullanılmıştır?

- A) Çok doğru biridir, yanlış işlerden uzak durur.
- B) İpek, iki yanı ağaçlarla çevrili yoldan okula doğru yürüyordu.
- C) Okul takımına seçilmediğini şimdiden söylemek daha doğru olur.
- D) Öğretmen, defterimize cetvel kullanarak doğru çizmemizi istemişti.

"Ceren, geçen hafta arkadaşlarıyla Ankara'ya Anıtkabir'i ziyarete gitti."

15) Cümlesinde aşağıdaki sorulardan hangisinin cevabı yoktur?

- A) Kim? B) Nerede? C) Nereye? D) Ne zaman?

Tarık bir yıldır düzenli olarak ders çalışmaya başlamıştı. Çok da başarılı olmuştu. Emekleri boşa gitmemişti. Bu yüzden güzel bir tatili hak etmişti doğrusu. Okul, ödül olarak onu Antalya'daki gençlik kampına gönderecekti. Bu habere çok sevinen Tarık, kampa bir an önce gitmek için can atıyordu.

16) Yukarıdaki metinde geçen "can atmak" deyiminin anlamı aşağıdakilerin hangisinde verilmiştir?

- A) Bir olayın hemen gerçekleşmesini çok istemek
- B) Sevinmek, sevindiği her hâlden belli olmak
- C) Bir işe, bir olaya, bir kimseye önem vermek
- D) Neşeli olmak, neşesini hareketleri ile belli etmek

17) Aşağıdaki cümlelerin hangisinde ünlem işareti yanlış kullanılmıştır?

- A) Hey! Beni de bekleyin.
- B) Eyvah, yemek yandı!
- C) Ay! Ne yapacağız şimdi?
- D) Affedersiniz, bakar mısınız!

18) "Açık söylemekten kaçındığı bir sorunu sonunda açıklamak" anlamında kullanılan deyim hangisidir?

- A) Baklayı ağzından çıkarmak B) Yaka silkemek
- C) Burnundan solumak D) Dilinde tüy bitmek

19) Aşağıdaki öğrencilerden hangisi deyim ile açıklamasını birlikte kullanmamıştır?

- A) Emir: Çarşı çok kalabalıktı, iğne atsan yere düşmez.

- B) Öykü: Sinemaya gidelim diye çok ısrar etti, başımın etini yedi.
- C) Ahmet: İsteddiği oyuncak alınınca çok sevindi, ağzı kulaklarına vardı.
- D) Çağan: Kardeşim göz açıp kapayıncaya kadar bütün kitabı bitirmiş.

20) Aşağıdaki cümlelerin hangisinde karşılaştırma anlamı vardır?

- A) Hasta olduğum için arkadaşşıma gidemedim.
- B) Tuna'nın köpeği pamuk gibi bembeyazdır.
- C) İnsanlar, boş zamanlarında en çok televizyon izliyormuş.
- D) Aşçı yorgun olduğundan yemek yapamamış.

21) "Kırmak" sözcüğü aşağıdaki cümlelerin hangisinde gerçek anlamda kullanılmıştır?

- A) Söylediklerine çok kırıldım.
- B) Arkadaşım sürekli kalbimi kırıyor.
- C) Anlattığı fıkralarla hepimizi kıldı geçirdi.
- D) Bu dal pek sağlam değil, kırılmak üzere.

22) Aşağıdaki öğrencilerden hangisinin cümlesinde mecaz anlamı bir sözcük yoktur?

Yardıma muhtaç kişilere hep kol kanat gerer. En önemli erdemlerden biri de dürüst olmaktır. Bayram geleneklerimizi, çocuklarımıza aşılamalıyız. Zamanla insan ilişkileri de tamir gerektirebilir.

Yaşlı teyze, doktora sordu()

– Kontrolüm ne zaman()

Doktor şöyle dedi()

– Yarın sabah saat yedide()

23) Bu parçada yay ayraçlarla () belirtilen yerlere, aşağıdakilerin hangisinde verilen noktalama işaretleri sırasıyla getirilmelidir?

- A) (–) (?) (!) (,) B) (–) (:) (–) (.)
- C) (:) (?) (:) (.) D) (:) (.) (–) (!)

24) Aşağıdaki cümlelerde geçen pekiştirmeli kelimelerden hangisi farklı şekilde oluşturulmuştur?


- A) Yaşlı adam, bu dünyada yapayalnız kalmıştı.
- B) Minik kız kapkara gözleriyle bize bakıyordu.
- C) Hırsızlar güpegündüz soygun yapmaya kalkışmışlar.
- D) Polisler şüpheli evi çepeçevre sarmışlar.

25) Aşağıdaki cümlelerin hangisinde özel ad yoktur?

- A) Çankırı'ya gidip Ilgaz Dağı'nı gezmemek olmaz.
- B) Sarıkaya Belediyesi yeni araçlar aldı.
- C) Çocukların çoğu kabakulak olmuştu.
- D) Caner'i annesi çok özlemişti.

29 OCAK CUMARTESİ GÜNÜ EV ÖDEVİ

Aşağıda verilen anahtar kelimelerle bir hikaye yazınız. Hikâyenizde kurallı ve anlamlı cümleler kurmaya özen gösteriniz. Yazılarınızda noktalama işaretleri kullanınız.



top

oyun

sınıf

salıncak

otobüs

bisiklet

mangal

ip


polis

Aşağıdaki su dokuyu çözelim

1								
	2			6	7	8	9	
3				4				
	4			3				
				2	1	6	7	
	6						8	
		7					4	
	8			9	3	7	2	
		9						

Aşağıda verilen resfebelerin cevaplarını yazınız.

ANLATILANI BUL BAKALIM



.....



.....



.....

1)Aşağıdaki ifadelerden hangisi yanlıştır?

- A)Ağaçların yosunlu tarafı kuzeyi gösterir.
B)Karıncı yuvalarının ağzı doğuya bakar.
C)Müslüman mezarlıklarında mezarın baş kısmı batıya bakar.
D)Öğle vaktinde gölgemizin yönü kuzeyi gösterir.

Milli Mücadele sırasında vatanımızı kurtarmak için birçok cephede işgalcilere karşı savaşıldı.

2) Aşağıda savaştığımız cepheler ve ülkeler eşleştirilmiştir. Verilenlerden hangisi yanlıştır?

- A)Doğu Cephesi- Ermeniler
B)Batı Cephesi – Yunanlılar
C)Kuzey Cephesi- İngilizler
D)Güney Cephesi – Fransızlar

3)Aşağıdakilerden varlıklardan hangisi beşeri unsurlardan birisidir?

- A)Van gölü B)Alanya Kalesi
C)İhlara Vadisi D)Manavgat Şelalesi

4)Aşağıdakilerden hangisi yön bulmak için kullanılan yöntemlerden değildir?

- A)GPS cihazı kullanmak
B)Bulutlara bakmak
C)Gölgeden yararlanmak
D)Kutup Yıldızı'na bakmak

5)Aşağıdaki Kuvâ-yı Millîye kahramanlarından hangisi güney cephede savaşmamıştır?

- A)Şahin Bey B)Sütçü İmam
C)Ali Saip Bey D)Erzurumlu Kara Fatma

6)“Bir millete özgü kültürel öğelerin tümüne milli kültür denir ve bu öğeler milletin ortak ürünüdür.” Bu açıklamaya göre aşağıdakilerden hangisi bizim kültürel öğelerimizden biri değildir?

- A)Bayramlaşma B)Yılbaşı kutlaması
C)Düğün töreni D)Halk oyunları

7) Ülkemizde hava tahminlerinde bulunan kuruma Aşağıdakilerden hangisidir?

- A)Devlet Meteoroloji İşleri Genel Müdürlüğü
B)Devlet Su İşleri Genel Müdürlüğü
C)Milli Eğitim Müdürlüğü
D)İl Sağlık Müdürlüğü

8) 1.Dünya savaşından sonra yurdumuzu işgal eden düşmanlara karşı, Kurtuluş Savaşı'nda birçok cephede mücadele ettik. Buna göre Güney Cephesinde kimlere karşı savaştık?

- A)Yunanlılara B)Ermenilere

C)Fransızlara

D)Almanlara

9)“Annem ne zaman eski bir Türk filmi izlese yanağından yaşlar akmaya başlar.” diye belirten Aslı, annesinin hangi özelliğinden bahsetmektedir?

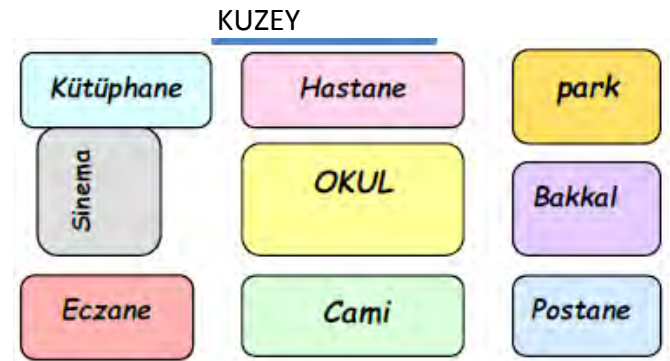
- A)Duygusal B)Fiziksel
C)kültürel D)Hepsi

10) Osmanlı Devleti'nin itilaf devletleri tarafından işgal edilmesine imkan sağlayan antlaşma aşağıdakilerden hangisidir?

- A)Mondros Ateşkes Antlaşması
B)Lozan Antlaşması
C)Londra Antlaşması
D)Mudanya Ateşkes Antlaşması

11) Yunanlılar İzmir'i işgal ettiğinde bu olaya tepki göstererek Yunan askerlerine ilk direniş gösteren kahramanımız kimdir?

- A)Hasan Tahsin B)Şahin Bey
C)Sütçü İmam D)Ezinelî Yahya Çavuş



12) Aşağıdaki krokiye göre soruları cevaplayın.

Okulun doğusunda vardır.
Okulun kuzeyinde vardır.
Okulun güneyinde vardır.
Okulun kuzeybatısında vardır.
Okulun güneydoğusunda vardır.

13)Aşağıda verilen bilgilerden doğru olanlara D; yanlış olanlara Y yazınız.

- (....) Parklar, tarlalar, barajlar çevremizdeki doğal unsurlara örnektir.
(....) Karınca yuvalarının ağzı güneye bakar.
(....) İnsanlar tarafında oluşturulan unsurlara “ doğal unsur” denir.
(....) Fiziki haritada dağlar, göller, ovalar, nehirler gibi bilgileri buluruz.
(....) Doğu Cephesinde, İsmet İnönü komutanlığında savaşılmıştır.
(....) “Şerife Bacı” İstiklal Savaş'ımızın kadın kahramanlarından.
(....) Millî kültürümüz içinde destanlarımız, türkü ve şiirlerimiz önemli yer tutar.
(....) Pusulanın renkli ucu daima güneyi gösterir.

14) Aşağıdakilerden hangisi doğal unsur değildir?

- A) Deniz B) Ağaç C) Köprü D) Dağ

15) Aşırı yağmur ve hızlı kar erimesi sonucu hangi doğal afet oluşur?

- A) Sel B) Çığ C) Heyelan D) Erozyon

16) Burcu arkadaşına oturduğu evin yerini tarif etmek istiyor. Burcu'nun bunun için aşağıdakilerden hangisini kullanması doğru olur?

- A) Siyasi harita B) Kroki
C) Fiziki harita D) İdari harita

Gökçe hayatındaki bazı olayları anlatıyor:

- I .2007 yılında Ankara'da doğdum.
II .2013 yılında ilkökula başladım.
III .2011 yılında kardeşim Mehmet doğdu.
IV .2015 yılında satranç turnuvasında ödül aldım.
V .2012 yılında anaokulundan mezun oldum.

17) Yukarıdaki olayların kronolojik sıralaması aşağıdakilerden hangisidir?

- A) I, III, II, IV ve V B) I, III, V, II ve IV
C) II, III, IV, I ve V D) I, III, IV, V ve II

18) Fiziki haritada aşağıdakilerden hangisi gösterilmez?

- A) Dağlar B) Ovalar C) İl sınırları D) Göller

19) Aşağıdakilerden hangisi yön bulma yöntemlerinden biri değildir?

- A) Sapanın gölgesinden B) Karınca yuvaları
C) Geceleri Ay'a göre D) Kutup yıldızı

20) Millî Mücadele'de milletimizin başarılı olmasının sebebi aşağıdakilerden hangisidir?

- A)Silah ve cephanesinin fazla olması
B)Düşman ordusunun sayıca az olması
C)Bağımsızlığını koruma konusunda kararlılığı
D)Komşu devletlerin askerlerinin yardım etmesi

21) Milli Mücadele'de gösterdiği başarılarından dolayı hangi ilimize unvan verilmemiştir?

- A) Maraş B) Adana C) Urfa D) Antep

22) Aşağıdakilerden hangisi milli değerlerimize sahip çıkmayan bir kişinin yapacağı bir davranıştır?

- A) Ailesi ile bayram ziyaretine giden bir baba
B) Tarihi yerlere çöp atan bir kişi
C) Misafire kahve yapan anne
D) Annesinin çeyizini özenle saklayan bir kız

23) Aşağıdakilerden hangisi Kurtuluş Savaşı sırasında yapılan savaşlardan biri değildir?

- A) Sakarya Savaşı
B) Çanakkale Savaşı
C) İnönü Savaşları
D) Başkomutanlık Meydan Muharebesi

24) TBMM'nin ilk uluslararası siyasi başarı olarak nitelendirdiği antlaşma aşağıdakilerden hangisidir?

- A) Ankara Antlaşması B) Gümrü Antlaşması
C) Lozan Barış Antlaşması D) İstanbul Antlaşması

25) Hava durumunu spiker; "Meteorolojiden alınan son bilgilere göre yarın Trabzon'da yoğun sis görülecek-tir." şeklinde bir haber sunmuştur. Bu haber aşağıdakilerden en çok hangisini ilgilendirir?

- A) işçileri B) şoförleri C) polisleri D) Çocukları

26) "İnsanlar tarafından yapılan yapılara beşeri unsur denir." Buna göre aşağıdakilerden hangisi beşeri bir unsurdur?

- A) dağ B) baraj C) göl D) ırmak

27) Aşağıdakilerden hangisi bir hava olayı değildir?

- A) Yağmur B) Sis C) Çığ D) Kar

28) Türk ordusunun Yunan ordusuyla yaptığı ilk savaş hangisidir?

- A. Çanakkale Savaşı B. I. İnönü Savaşı
C. I. Dünya Savaşı D. Sakarya Savaşı

29) Kurtuluş Savaşı'nı sona erdiren muharebe aşağıdakilerden hangisidir?

- A. Büyük Taarruz Meydan Muharebesi
B. Sakarya Savaşı
C. I. İnönü Savaşı
D. II. İnönü Savaşı

- I. Erzurum Kongresi II. Amasya Genelgesi
III. TBMM'nin açılması IV. Atatürk'ün Samsun'a gelmesi V. Sivas Kongresi

30) Yukarıda verilenlerin doğru sıralaması aşağıdakilerden hangisidir ?

- A. IV – II – I – V – III B. III – II – IV – I – V
C. IV – II – III – I – V D. IV – II – I – III – V

31) Kantinden aldığımız çikolatayı sıra arkadaşımızla paylaşmak güzel bir davranıştır. Böyle davranırsak,hareket etmiş oluruz. Bu cümleyi aşağıdakilerden hangisiyle anlamlı hale getirebiliriz?

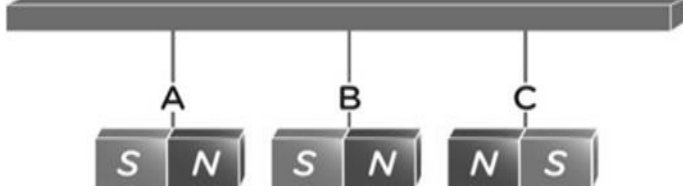
- A. ciddi B. hoşgörülü C. Duyarlı D. Sakin

32) Dünyada milyonlarca çocuk yaşar, bu çocukların hepsi..... Yukarıdaki cümleyi aşağıdakilerden hangisiyle tamamlayabiliriz?

- A. birbirinden farklıdır. B. çok başarılıdır.
C. aynı sporu sever. D. aynı yeteneklere sahiptir.

1) Oyun oynarken düşüp ayağını yaralayan Kemal, hangi besin grubunu daha fazla tüketirse iyileşme süresi kısılır?

A) Karbonhidrat B) Vitamin C) Protein D) Yağ



- I. A mıknatısı ile B mıknatısı birbirini çeker.
 II. B mıknatısı ile C mıknatısı birbirini iter.
- 2) Yukarıda ipe asılı mıknatıslar için aşağıdakilerden hangisi doğrudur?
- A) I doğru, II yanlış B) İkisi de doğru
 C) I yanlış, II doğru D) İkisi de yanlış

3) Aşağıdaki ifadelerden hangisi doğrudur?

- A) Yemeğin buharı sıvı hâldedir.
 B) Kesme şeker katı hâldedir.



- C) Benzin gaz hâldedir.
 D) Buz gaz hâldedir.

4) İçerisinde 150 mL su bulunan bir kaba, bir taş atıldığında sıvı seviyesi 200 mL'ye çıkıyor. Buna göre taşın hacmi kaç mililitredir?

- A) 50 B) 100 C) 150 D) 200

5) Serkan marketten aldığı sütün üzerinde brüt 600 ml yazılı olduğunu, kutunun altında ise 500 ml yazılı olduğunu fark ediyor. Buna göre, boş kutunun darası kaç mililitredir?

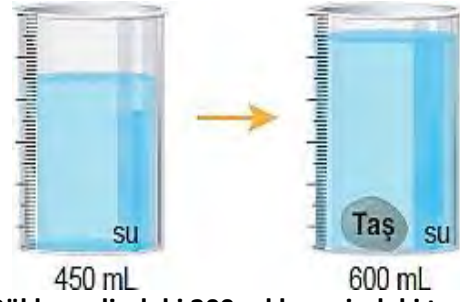
- A) 900 B) 1100 C) 500 D) 100

6) Aşağıdaki ifadelerden hangisi yanlıştır?


- A) Buz oda sıcaklığında bekletildiğinde erir.
 B) Su, buzdolabının buzuğuna konulduğunda donar.
 C) Isı akışı soğuk maddeden sıcak maddeye doğru gerçekleşir.
 D) Su ocakta ısıtıldığında sıcaklığı artar.

7) Semra, dereceli kaba 450 ml seviyesine kadar, su dolduruyor. Daha sonra dereceli kaba taş attığında su seviyesinin 600 ml seviyesinde olduğunu gözlemliyor. Buna göre, taşın hacmi kaç mililitredir?

- A) 150 B) 300 C) 700 D) 1050




8) Gökhan elindeki 200 ml hacmindeki taş, taşıma kabına atıyor. Daha sonra su seviyesinin 1000 ml olduğunu gözlemliyor. Buna göre, kabın içerisinde başlangıçta kaç ml su vardır?



- A) 1200 B) 900 C) 800 D) 1600

9) Maddelerin suyu çeken veya çekmeyen özelliği ile ilgili verilen örneklerden hangisi yanlıştır?

- A) Mutfak sünger suyu çeken maddeden yapılır.
 B) Evlerin çatıları suyu çekmeyen maddeden yapılır.
 C) Yağmurluklar, suyu çeken maddeden yapılır.
 D) Denizde kullanılan can yelekleri suyu çekmeyen maddeden yapılır.



10) Yukarıdaki köprü üzerinde inat edip birbirlerine yol vermeyen keçilerin birbirlerine uyguladıkları kuvvet aşağıdakilerden hangisinde doğru olarak verilmiştir?

I. Keçi II. Keçi

- A) İtme İtme
 B) Çekme Çekme
 C) İtme Çekme
 D) Bükme Bükme

11) Levent Bey düz yolda giderken aracını sağa döndürmüş, karşısına aniden bir kedi çıkınca frene basarak aracını yavaşlatmış, sonra tekrar hızlanarak yoluna devam etmiştir. Levent Bey bunları yaparken araçta kuvvetin aşağıdaki etkilerinden hangisi etkisini gözlemlememiştir?

- A) Yön deęiřtirme B) Hızlanma
C) Durdurma D) Yavaşlama

- I. Buzdolabının kapaęını açmak
II. Arabanın kapısını dıřarıdan kapatmak
III. Bebek arabasını sürmek

12) Yukarıdakilerden hangisi ya da hangileri itmeye örnektir?

- A) II ve III B) I ve II C) Yalnız I D) I ve III

13) Kayaçlarla ilgili verilen bilgilerden hangisi yanlıřtır?

- A) Magmanın yeryüzüne ulaşarak soęuyup katılařmasıyla kayaçlar oluşur.
B) Kayaçlar rüzgâr, sıcaklık farkı, yağmur gibi dıř faktörlerle parçalanır.
C) Altın, gümüş, çinko kayaçlara örnektir.
D) Kayaçların farklı olmasını saęlayan yapısındaki minerallerdir.

14) Güneř'i gün içerisinde önce doğuda, sonra tepemizde sonra da batıda görmemizin sebebi hangisidir?

- A) Dünya'nın batıdan doğuya doęru dönmesi
B) Dünya'nın Güneř etrafında dönmesi
C) Güneř'in Dünya etrafında dolanması
D) Dünya'nın řeklinin küreye benzemesi

15) Vücudumuzdaki yaraların iyileřmesi, kaslarımızın geliřmesi, büyüme ve geliřmemizi saęlayan, tırnak ve saçlarımızı uzatan besin grubu hangisidir?

- A) Vitamin B) Yaę C) Karbonhidrat D) Protein

- I. Mısır II. Yumurta III. Peynir
IV. Piriń V. Marul VI. Bal

16) Yukarıdakilerden kaç tanesi hayvansal besindir?

- A) 2 B) 3 C) 4 D) 5

17) Ařaęıdaki bilgilerden hangisi doęrudur?

- A) Proteinler, vücutta düzenleyici olarak görev yapar.
B) Vitaminler, enerji elde etmek için kullanılır.
C) Tahıllarda bolca karbonhidrat bulunur.
D) Yaęlar, kemiklerimizin kalınlařmasını ve uzamasını saęlar.

Sinem: Makarna,kola,salata

Cemil: Pilav,tavuk,elma

Samet: Çorba,pizza,gofret

Murat:Hamburger,patates,gazoz

18) Yukarıdaki dört arkadařtan hangisi daha saęlıklı ve dengeli beslenmiřtir?

- A) Samet B) Murat C) Sinem D) Cemil

19) Ařaęıdaki bilgilerden hangisi doęrudur?

- A) Dünya doęudan batıya doęru döner.
B) Helikopter pervanesi dolanma hareketi yapar.
C) Tereyaęı bitkisel besin grubuna girer.
D) Fermuarımızı kapatırken çekme kuvveti uygularız.

20) Dünya'nın hareketleriyle ilgili verilen bilgilerden hangisi yanlıřtır?

- A) Dünya kendi çevresinde dönme, Güneř'in etrafında ise dolanma hareketi yapar.
B) Dünya'nın dolanma hareketi 1 günde gerçekteřir.
C) Dünya'nın Güneř etrafında dolanma hareketi ile 4 mevsim oluşur.
D) Dünya kendi etrafında batıdan doğuya döner.

21) Ařaęıdaki eřleřtirmelerden hangisi yanlıřtır?

- A.) Tuz- protein B.) Elma - vitamin
C.) Ceviz - yaę D.) Makarna - karbonhidrat

22) Ařaęıdakilerden hangisi Dünya'nın kendi eksen etrafında dönmelerinin sonucu deęildir?

- A. Mevsimlerin oluşması
B. Gece ve gündüzün oluşması
C. Bir günün oluşması
D. Türkiye'de gündüz yařanırken Amerika'da gece olması

I . Fosiller kısa zamanda oluşur

II . Fosiller üst üste biriken kayaçlar içerisinde oluşur.

III . Fosillerin oluşum süreci rastlantıya baęlıdır.

23) Yukarıdaki maddelerden hangileri fosillerin özelliklerindendir?

- A) Yalnız I B) I ve II C) II ve III D) I, II ve III

24) Dünya kendi etrafında dönmeseydi ařaęıdaki durumlardan hangisi gerçekteřirdi?

- A) Gece ve gündüz oluşmazdı.
B) Daęlar oluşmazdı.
C) Kış mevsimi daha sıcak olurdu.
D) Mevsimler oluşmazdı.

2 ŞUBAT ÇARŞAMBA GÜNÜ EV ÖDEVİ

1) Aşağıdaki cümlelerin hangisinin sonuna farklı bir noktalama işareti konulmalıdır?

- A) Burada kim oturuyor ()
- B) Olanlardan haberin var mı ()
- C) Tatlı mı tatlı bir kuzenim var ()
- D) Geziye kaç kişi gelecekti ()

2) Aşağıdaki cümlelerden hangisinde öznel anlatım vardır?

- A) Bir arabanın dört lastiği bulunur.
- B) Ben 4. sınıfa gidiyorum.
- C) Bu gömlek sana çok yakıştı.
- D) Gezegенimizin ismi Dünya'dır.

3) Aşağıdaki tümcelerde altı çizili koyu sözcükler; gerçek anlamda ise "G", mecaz anlamda ise "M", terim anlamda ise "T" harfini noktalı yerlere yazınız.

- () Şevval yeni arkadaşlarına ısındı.
- () Depremi etkisiyle hasarlı binalar yıkıldı.
- () Matematik dersinde dikdörtgeni öğrendik.
- () Kara haber köye tez ulaştı.
- () Yavru kedi dışarıda soğuktan tir tir titriyordu.

4) Kısaca bakırmek anlamına gelen deyim aşağıdakilerden hangisidir?

- A) Göz kulak olmak
- B) Göz atmak
- C) Göze çarpmak
- D) Göze batmak

5) Aşağıdaki cümlelerin hangisinde "de'nin yazımı" ile ilgili bir yanlışlık yapılmıştır?

- A) Ahmet de bizimle gelecek.
- B) Arkadaşlarım da oyun oynuyor.
- C) Merve de kitap okuyacak.
- D) Gülşen ev de değil.

6) Aşağıdaki cümlelerin hangisinde büyük harfle başlaması gereken bir kelimenin yazımı yanlıştır.

- A) Mehmet Efendi sessizce ayrıldı.
- B) Ürünli Mahallesi'nde oturuyor.
- C) İzmir'e gezmeye gittik.
- D) Avukat arif bey bize yardımcı olacaktı.

7) Aşağıdaki cümlelerden hangisinde neden-sonuç ilişkisi yoktur?

- A) Söylediklerini uyguladığım için konuyu anladım.
- B) Hızlı koştuğu için yere sert düştü.
- C) Dev gibi bir dalga üzerimize geliyordu.
- D) Önündeki tümseği fark etmediği için yere düştü.

8) Aşağıdaki cümlelerin hangisinde hayal ürünü bir ifade yoktur ?

- A) Ağacın kolları kırıldı.
- B) Hasan akşam hastalandı.
- C) Devlerle kavga ettim.
- D) Balıkçı balıklarla vedalaştı

Korkuyla () "Bana niçin kızdın ()" diye sordu ()

9) Yukarıdaki tümcede parantez içindeki yerlere, aşağıdaki noktalama işaretlerinden hangileri getirilmelidir?

- A. (:) (;) (...)
- B. (;) (?) (!)
- C. (:) (?) (.)
- D. (,) (!) (.)

10) Aşağıdaki cümlelerin hangisinde karşılaştırma yapılmıştır?

- A. Kardeşim sabahları yumurta yer.
- B. Babam çay içmeyi çok sever.
- C. Ayşe Ali'den daha uzun boyludur.
- D. Ben kahvaltıda meyve yerim.

11) Aşağıdaki cümlelerin hangisinde "nesnel" biryargı vardır?

- A) Kızartmalar fritözde yapılıncı güzel olur.
- B) Bilgisayar oyunları çok eğlencelidir.
- C) Telefon, haberleşme ve iletişim aracıdır.
- D) Benim telefonumla çok güzel fotoğraf çekilir.

12) Aşağıdaki cümlelerin hangisinde "öznel" bir yargı vardır?

- A) Televizyonda haber programı da vardır.
- B) Televizyondaki dizileri çok beğeniyorum.
- C) Televizyon işitsel ve görsel iletişim aracıdır.
- D) Televizyon izleyebilmek için anten kullanılır.

13) Aşağıdaki cümlelerin hangisinde "öznel" bir anlatımvardır?

- A) Oturduğumuz apartman beş katlıdır.
- B) Bahçemizde bir tane erik ağacı var.
- C) En sevdiğim meyve eriktir.
- D) Meyve veren ağaç kesilmez.

14) Aşağıdaki cümlelerin hangisinde kesme işareti yanlış yerde kullanılmıştır?

- A) Ahmet, okula 2001'de başladı.
- B) İlkokulda Ankara'da başladım.
- C) Sabah'tan beri onu bekliyorum.
- D) Saat 20.30'da ders çalışmaya başladım.

15) Aşağıdaki cümlelerin hangisinde sözü söyleyen kişi hayal ürünü olan bir şeyden bahsetmiştir?

- A) Okulun kapısında Ayşe'ye rastladım.
- B) Uçan halıyla, tüm Dünya'yı gezdim.
- C) Ömer, bahçede top oynuyor.
- D) Kedi, fareyi yakaladı.

16) Aşağıdaki cümlelerin hangisi özne yargı vardır?

- A) Geçtiğimiz yaz tatilinde amcamlarla Çorum'u gezdik.
- B) Hepimiz okulun önünde bekledik.
- C) Bizim köyde çok güzel piknik yerleri var.
- D) Sabah erkenden okula gittim.

17) Aşağıdaki cümlelerdeki verilen altı çizili kelime-lerden hangisi terim anlamı ile kullanılmış?

- A) Oyuncaklarımı sepete koydum.

- B) Elbiselerimi askıya astım.
C) Okulla evimizin arası yüz metre.
D) Evimizin bahçesine kulübe yaptık.

18) Aşağıdakilerin hangisinde "sıcak" kelimesi mecaz anlamıyla kullanılmıştır?

- A) Bana neden sıcak davranıyorsun?
B) Sıcak suyla duş aldım.
C) Çay sıcak sakın içme.
D) Havalar epey sıcaktı.

19) Aşağıdaki cümlelerin hangisinde abartılı bir ifade yoktur?

- A) Öyle şaşırdı ki ağzı bir karış açık kaldı.
B) Kızgınlıktan gözlerinin içinden ateş fışkırıyordu.
C) Bebeğin minicik elleri ve ayakları vardı.
D) Ayakları bir sandal kadar büyüktü.

20) Aşağıdaki verilen altı çizili hangi kelimeye getirilen ek kesme işareti ile ayrılmalıdır?

- A) Aliler tatile bizimle geliyor.
B) Konyalı bir arkadaşım var.
C) Adanalılar, çok çalışkan insanlardır.
D) Ankara, Türkiyenin başkentidir.

21) Dilimize yabancı kelimelerden girmiş birçok kelime vardır. Aşağıdaki kelimelerden hangisi Türkçe bir kelimedir?

- A) mavi B) kroki C) ajanda D) sert

"Buzağı, ahırda keyifle ineği emiyordu."

22) Yukarıdaki cümlede aşağıda verilen sorulardan hangisinin cevabı yoktur?

- A) Kim? B) Nasıl? C) Ne zaman? D) Nerede?

23) Aşağıdaki seçeneklerin hangisinde karşılaştırma yapılmamıştır?

- A) Siyah renk, beyaza oranla ısıyı daha çok emer.
B) Hasan ,Ahmet ve Mert çok sinirlidir.
C) Bıçak, ustura kadar kesmeyebilir.
D) Okan ,Musa gibi korkak değil.

24) Aşağıdaki cümlelerin hangisinde "gelin" kelimesi diğerlerinden farklı bir anlamda kullanılmıştır?

- A) Yarın öğleden sonra bize gelin.
B) Ablam çok güzel bir gelin oldu.
C) Eve gelin de konuşalım.
D) Öğretmenimiz "Yarın erken gelin" dedi.

"Oofff()Çok yorulдум()Siz yorulmadınız mı() "

25) Yukarıdaki cümlede parantez içlerine sırasıyla hangi noktalama işaretleri konulmalıdır?

- A) (!) (?) (.) B) (!) (.) (?)
C) (!) (?) (?) D) (.) (!) (?)

26) Aşağıdaki cümlelerin hangisinde "acı" sözcüğü mecaz anlamında kullanılmamıştır?

- A) Bu adam çok acı çekti.
B) Babam acı biberi çok sever.
C) Acılar insanı çok yıpratır.
D) Acı çekmek çok zordur.

KUYUDAKİ AY

Bir yaz gecesinde Nasrettin Hoca'nın uykusu kaçır. Bahçeye iner.

- Şuradan buz gibi bir su içeyim der kendi kendine. Kuyuya, kovayı indirmek için eğildiğinde, bir de ne görsün! Ay kuyunun içinde değil mi?

- Ay suya düşmüş. Ay nasıl olmuş da suya düşmüş? Şunu çıkarayım bari, der.

İpinden tutar, kovayı kuyuya sallandırır. İşte o sırada kova, kuyudaki çıkıntılı bir taşla takılır. Çeker, kova gelmez .Uğraşır ,didinir .Sonra ipi biraz gevşetir. Kovanın kurtulduğunun farkına varmaz. Tekrar bütün gücü ile çekince sırt üstü düşer. Bir de ne görsün, Ay gökyüzünde değil mi!

-Eehh, der .Düştüysem de Ay da kuyudan çıktı ya!

27) Nasrettin Hoca niçin kuyuya eğilmiş?

- A) Ay'ı kurtarmak için
B) Gölgesine bakmak için
C) Soğuk su almak için
D) Elbiselerini yıkamak için

28) Nasrettin Hoca su almak için kuyuya eğildiğinde ne görmüştür?

- A) Ay'ın kuyuya düştüğünü
B) Kuyuda su olmadığını
C) Karısının kuyuda olduğunu
D) Kovanın kuyuya düştüğünü

29) Nasrettin Hoca ,Ay'ı gökyüzünde görünce ne söylemiştir?

- A) Eehh,der .Düştüysem de Ay da kuyudan çıktı ya!
B) Ay nasıl gökyüzüne çıktı?
C) Kova nereye gitti?
D) Ben neredeyim?

30) Aşağıdaki sözcükler sözlük sırasına(alfabetik sıra) konduğunda hangisi baştan ikinci sırada yer alır?

- A) erik B) elma C) ezan D) ezel

3 ŞUBAT PERŞEMBE GÜNÜ EV ÖDEVİ

1) Hangi sayının 48 fazlasının 1320 eksiği 59 eder?

Çözüm

2) 290 fazlasının 188 eksiği 8123 olan sayı kaçtır?

Çözüm

3) Hangi sayının 14 katının 154 eksiği 322 olur?

Çözüm

4) 6950 liraya aldığımız koltuk takımına peşinat olarak 550 lira ödedik. Kalan para 16 taksitte ödenecektir. Her bir taksitte kaç lira ödemeliyiz?

Çözüm

5) 1190 km'lik yolu 14 saatte giden aracın saat-teki hızı kaç km'dir?

Çözüm

6) Kalanlı bölme işleminde bölüm 76, bölen 28'dir. Bölünen kaç olur?

Çözüm

7) Kasadaki 41 liranın 16 lirası 10 kuruşluk, kalan para 25 kuruşluklardır. Kasada kaç tane para vardır?

Çözüm

8) 3850 liraya aldığımız televizyona 350 lira peşin verip, kalanı 14 taksitte ödeyeceğiz. Her taksit- te kaç lira ödeyeceğiz?

Çözüm

8) $\frac{4}{7}$ 'i 2800 olan sayının $\frac{3}{5}$ 'i kaçtır?

Çözüm

9) İşçiler 4800 km lik yolun $\frac{3}{8}$ ünü, bitirdiler.

Geriye kaç km yol kaldı?

Çözüm

10) 2400 liraya aldığımız televizyonun parasının $\frac{3}{12}$ ünü peşin ödedik. Kalan kısmı 6 ayda ödeyeceğiz. Ayda kaç lira ödemeliyiz?

Çözüm

11) 147820 sayısındaki binler ve onlar basamağının yerleri değiştirilerek elde edilen sayının, önceki sayı ile farkı kaçtır?

Çözüm

$$KLMN - 1919 = 2018$$

12) Yukarıdaki işlemde verilmeyen KLMN sayısının rakamları toplamı kaçtır?

Çözüm

1) İki yüz otuz bin otuz "sayısının rakamla yazıldığı hangi seçenekte doğru verilmiştir?

A.203.030 B.20.030 C.230.030 D.203.300

2) Kalansız bir bölme işleminde bölünen sayı 420' dir.Bölen 3 ise bölüm kaçtır?

A)14 B) 140 C) 101 D)104



3) Yukarıda verilen sayının binler bölümündeki 5 rakamının basamak değeri kaçtır?

A) 50 B) 500 C) 5000 D) 50 ,000

4) Bir şehrin nüfusu en yakın yüzlüğe yuvarlandığında 25 900 bulunuyor. Buna göre bu şehrin nüfusu kaç kişi olabilir?

A) 25 099 B) 25 959 C) 25 949 D) 25 999

		5	A	5	
	x		1	B	
	1	5	4	5	
+	C	1	5		
	6	6	9	5	

5) Yukarıdaki işleme göre A + B + C işleminin sonucu kaçtır?

A) 4 B) 5 C) 6 D) 9

6) Bir çiftlikte 10 tane ahır vardır. Her ahırda 234 inek vardır. İneklerin yarısı kadarda koyun vardır. Çiftlikte toplam kaç hayvan vardır?

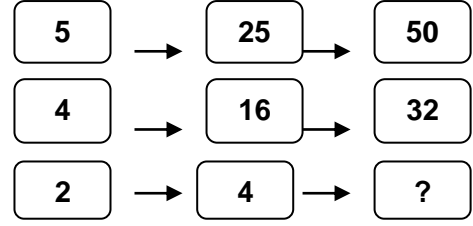
A) 2340 B) 1170 C) 1200 D) 3510

7) Bir bölme işleminde bölen sayı 5,bölüm 10 ve kalan sayı 3 ise, bölünen sayı kaçtır?

A) 5 B) 50 C) 53 D) 55

8) " $\frac{a}{7}$ " kesri **basit kesir** olduğuna göre "a" yerine aşağıdakilerden hangisi yazılamaz?

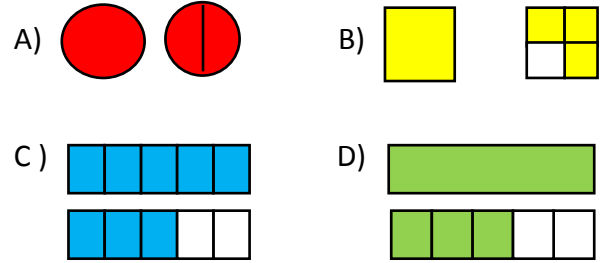
A) 2 B) 3 C) 5 D) 8



9) Yukarıdaki örüntü bir kurala göre dizilmiştir. Aşağıdakilerden hangisi "?" yere gelmelidir?

A) 16 B) 18 C) 8 D) 24

10) $1\frac{3}{5}$ kesrinin şekille gösterilişi hangisidir?



11) Yukardaki modellenen kesir sayısı aşağıdakilerden hangisidir?

A) $2\frac{2}{8}$ B) $2\frac{2}{4}$ C) $1\frac{2}{2}$ D) $1\frac{2}{4}$

12) Aşağıdakilerden hangisi bileşik kesirdir?

A. $\frac{3}{4}$ B. $\frac{5}{4}$ C. $\frac{2}{9}$ D. $\frac{7}{9}$

14) Aşağıdakilerden hangisi basit kesirdir?

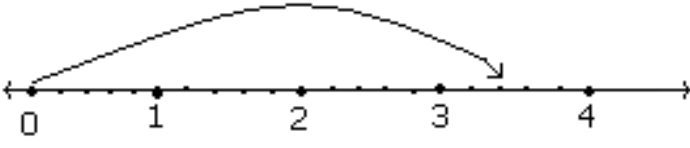
A- $\frac{8}{9}$ B- $\frac{7}{5}$ C- $\frac{5}{2}$ D- $\frac{4}{3}$

15) $\frac{1}{7}$ 'si 1000 g olan şekerin tamamı kaç kg' dır?

A-7000 B-700 C-70 D-7

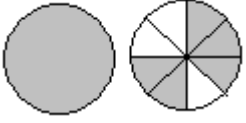
16) $\frac{3}{5}$ ' ü 150 olan sayının tamamının iki katı kaçtır?

16) Aşağıdaki sayı doğrusu üzerinde hangi kesir sayısı gösterilmiştir?



- A. $3\frac{2}{5}$ B. $2\frac{2}{5}$ C. $2\frac{2}{4}$ D. $1\frac{3}{5}$

17) Aşağıdaki şeklin kesirle ifadesi hangi seçenekte verilmiştir?



- A. $1\frac{3}{8}$ B. $\frac{3}{8}$ C. $1\frac{5}{8}$ D. $\frac{5}{8}$

18) Bir araba 60 km'lik yolun $\frac{3}{5}$ ünü gitmiştir. Geriye kaç km yol kalmıştır?

- A.12 B.20 C.24 D.36

19) Aşağıdaki kesirlerden hangisi bileşik kesirdir?

- A. $\frac{9}{8}$ B. $\frac{4}{5}$ C. $1\frac{1}{3}$ D. $\frac{8}{9}$

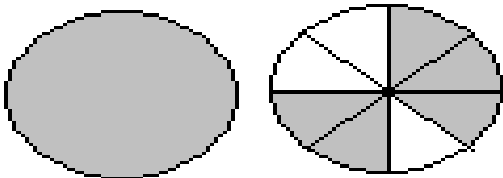
20) Aşağıdaki kesirlerden hangisi basit kesirdir?

- A. $\frac{4}{3}$ B. $\frac{1}{5}$ C. $\frac{5}{4}$ D. $\frac{6}{5}$



21) Yukardaki modellenen kesir aşağıdakilerden hangisidir?

- A. $\frac{9}{4}$ B. $\frac{10}{4}$ C. $\frac{4}{10}$ D. $\frac{2}{10}$



22) Yukarıdaki şekillerde boyalı kısımların tam sayılı kesir ile gösterilişi aşağıdakilerden hangisidir?

- A. $1\frac{5}{6}$ B. $1\frac{1}{8}$ C. $1\frac{5}{8}$ D. $1\frac{3}{8}$



23) Şekildeki boyalı kısımların belirttiği kesir sayısı aşağıdakilerden hangisidir?

- A) $\frac{3}{13}$ B) $\frac{13}{3}$ C) $\frac{13}{6}$ D) $\frac{18}{6}$

24) 2400 sayısının $\frac{5}{6}$ sı kaçtır?

- A) 2000 B) 2100 C) 2300 D) 2200

25) Kesir modellerini bileşik veya tam sayılı kesir sayısı olarak yazarak örnekteki gibi ok ile gösteriniz.

