

**İYİ
TATİLLER**




**2. SINIF
TATİL KİTABI**





Nesne Sayısı



Yan taraftaki nesnelerin sayılarını sol tarafta yer alan kutuların içine yazalım.



Aşağıdaki nesneleri önce sayalım sonra yanda verilen sayılardan doğru olanı yuvarlak içerisine alalım.



Okuyalım - Anlayalım

Aşağıdaki metni okuyup soruları cevaplayalım.

Şampiyon Rıza!

Merhaba arkadaşlar, ben Rıza... 6 çocuklu bir ailenin en küçüğüyüm. Benim bir de ikiz kardeşim var. İkizimin adı Zehra. Biz ilkokulda okurken bir gün öğretmenlerim ailemi çağır-mamı istedi. Ben "Acaba bir hata mı yaptım?" diyerek akşam durumu babama anlattım.

Ertesi gün babam öğretmenlerimle konuş-maya gelmişti. Ben çok heyecanlıydım. Öğret-menlerim babama; "Rıza'yı pehlivan yapın, gü-reşe yazdırın." tavsiyesinde bulunmuşlar.

Bu tavsiyeyi dikkate alan babam beni güreşe yazdırdı. İşte benim güreş hayatım bu şekilde başladı. Bir çok turnuvaya katılarak önemli başarılar elde ettim. 10 kez Avrupa Şampiyonu, 4 kez de Dünya Şampiyonu olarak ülkemi gururlandırdım. Olimpiyat şampiyonu olmayı da çok isitiyorum. İyi ki güreşçi olmuşum. İyi ki öğretmenlerim babamla konuşmuşlar.



Serhat KARA

Rıza'yı güreşe yazdırın tavsiyesinde kimler bulunmuş?




Rıza kaç kez Avrupa Şampiyonu olmuş?

Rıza'nın ikiz kardeşinin adı neymiş?

Onluk ve Birlik



Aşağıda modellenen sayıları örnekteki gibi gösterelim.



Aşağıda onluk ve birlikleri verilen sayıları bulup eşleştirelim.

6 onluk 5 birlik

72 41

2 onluk 8 birlik

3 onluk 4 birlik

93 28

6 birlik 5 onluk

2 birlik 7 onluk

80 57

4 onluk 1 birlik

8 onluk

65 56

1 onluk 7 birlik

3 birlik 9 onluk

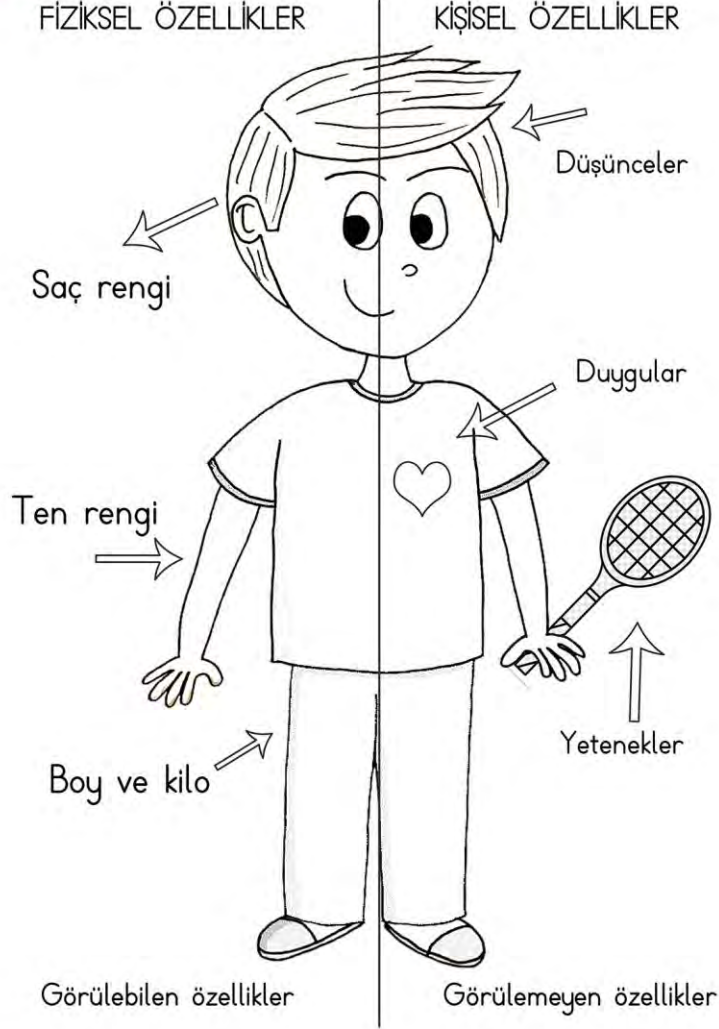
34 17

7 birlik 5 onluk

Kendimizi Tanıtıyoruz



Aşağıdaki resmi isteğimize göre bayayalım ve dikkatlice inceleyelim.



Çocukların fiziksel özelliklerine uygun en az birer cümle yazalım.



.....

.....



.....

.....



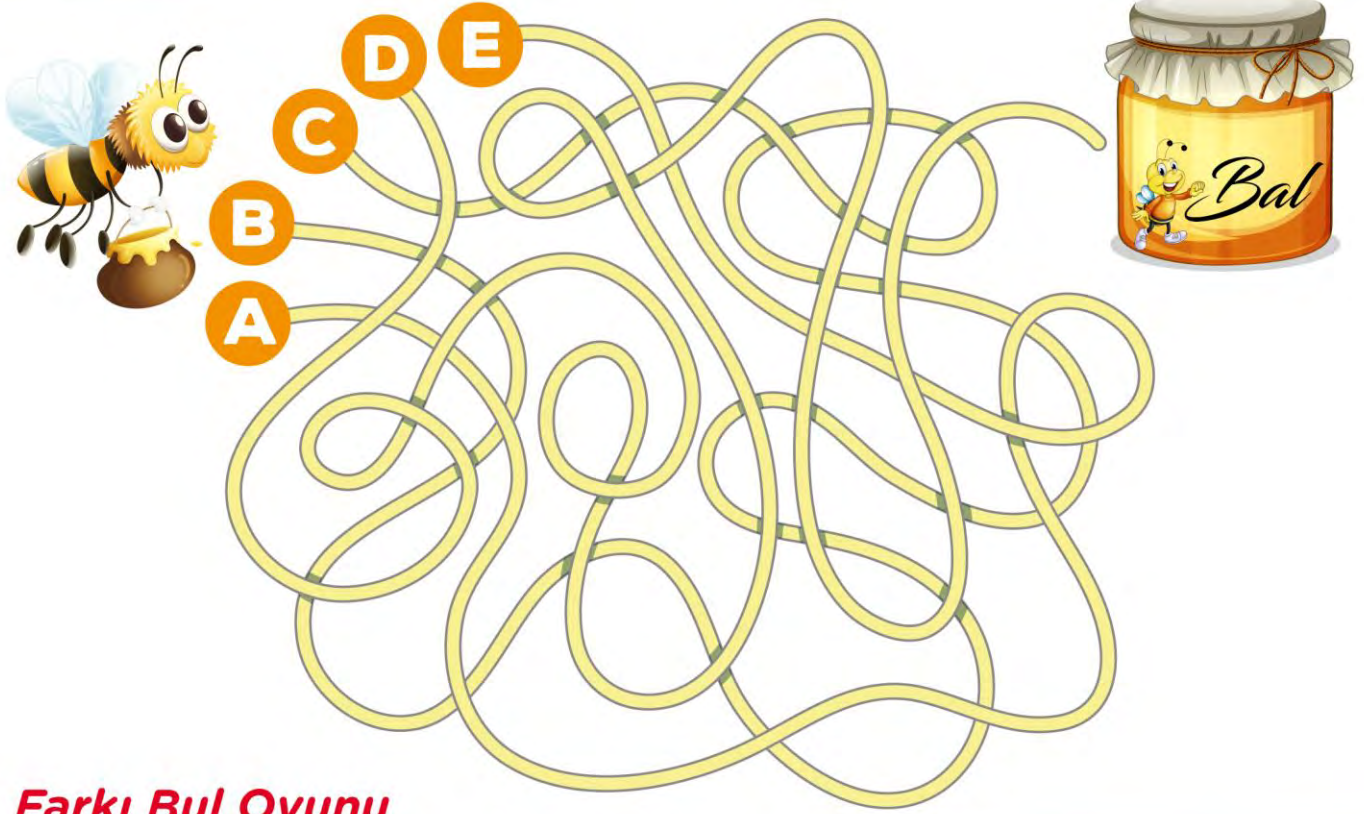
.....

.....

Labirent Oyunu



Aşağıdaki arıyı bal kavanozuna ulaştırabilir misin?



Farkı Bul Oyunu

İki resim arasındaki 10 farkı bulabilir misin?



Deste - Düzine



Aşağıdaki çocukların meyvelerini hesaplayıp cevap bölümüne yazalım.



Benim 2 deste elmam var.

Cevap:



Benim 3 deste ve 5 tane karpuzum var.

Cevap:



Benim 2 düzine ve 3 tane portakalım var.

Cevap:



Benim 2 deste ve 1 düzine muzum var.

Cevap:



Benim 5 deste ve 6 tane ayvam var.

Cevap:

Eş ve Zıt Anlamalı Kelimeler



Yağız ve Alp üzerinde eş ve zıt anlamı olan balonları patlatmak istiyor. Yağız eş anlamı olan kelimeleri patlatacaktır. Alp ise zıt anlamı olan kelimeleri patlatacaktır. Yağız'ın vurduğu balonları yeşile, Alp'in vurduğu balonları mavi renge boyayınız. Kelimeleri aşağıdaki kutucuklara yazınız



Kelimeler	Eş Anlamları
vazife
lider
tabiat
güvenlik
okul
kalp
sözcük
öykü

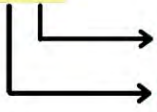
Kelimeler	Zıt Anlamları
usta
ceza
barış
ucuz
cesur
kolay
çürük
taze

Basamak Adı ve Basamak Değeri

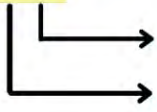


Aşağıdaki sayıların basamak adlarını yazınız.

46



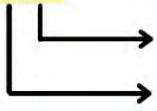
78



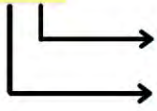
59



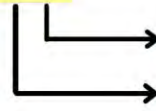
15




82




23



Aşağıdaki nesneleri sayarak yandaki tabloyu dolduralım.

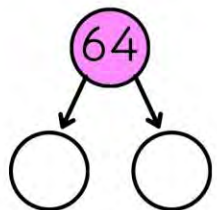
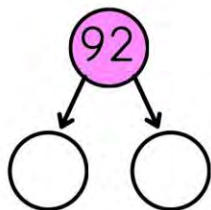
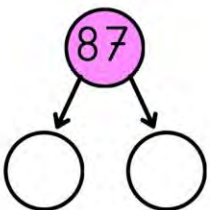
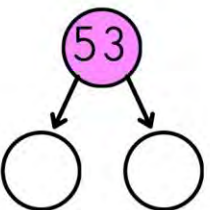
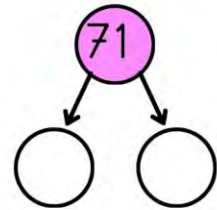
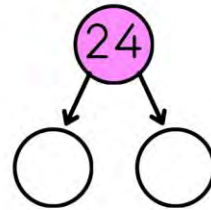
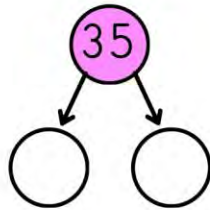
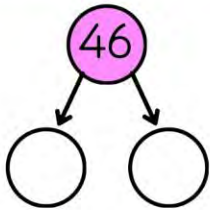


Sayı	
Basamak Adı	
Basamak Değeri	



Sayı	
Basamak Adı	
Basamak Değeri	

Aşağıdaki sayıların basamak değerlerini altlarına yazalım.



Kaç Tane?



Aşağıdaki nesnelerin çocukların üzerinde kaç tane olduğunu bulalım.

KAÇ
TANE?

Labirent Oyunu

Aşağıdaki ayçiçeğini güneşe ulaştırabilir misin?



Ritmik Saymalar



Aşağıdaki tabloda boş olan yerleri uygun sayılarla dolduralım.

			4			7		9	10
11		13			16			19	20
			24			27			
31				35	36	37		39	40
	42	43					48		
51			54	55	56			59	60
61						67			
	72		74			77		79	
81		83		85			88		
		93			96		98	99	100

Aşağıdaki ritmik saymaları belirtilen sayılardan başlayarak yapalım.

2'şer	26				34			
3'şer	15							36
4'şer	40					60		
5'şer	65			80				

46'dan ileriye doğru 4'er sayarken 5. sayı kaçtır?.....

75'den geriye 5'er sayarken 6. sayı kaçtır?.....

21'den ileriye 3'er sayarken 7. sayı kaçtır?.....

48'den geri 2'şer sayarken 9. sayı kaçtır?.....



Kelimelerin Sözlük Sırası

Aşağıda karışık olarak verilen kelimeleri sözlük sırasına göre sıralayıp altlarına yazalım.

1.	ciğer	ayna	çiçek	balık

2.	ırmak	fare	gemi	davul

3.	menekşe	garaj	kalp	eldiven

4.	şişe	horoz	sakal	vazo

5.	kedi	limon	jilet	incir

6.	zil	papağan	fıstık	terlik

7.	şarkı	kuzu	baca	yengeç

8.	önlük	resim	okul	pencere

9.	kazan	vazo	zil	yatak

Sayı Örüntüleri



Aşağıdaki örüntülerin kurallarını belirleyelim.

1, 4, 7, 10, 13, 16, 19 → Kural: 1 'den başlayıp 3'er artıyor.

4, 9, 14, 19, 24, 29 → Kural:

1, 11, 21, 31, 41, 51 → Kural:

20, 18, 16, 14, 12, 10 → Kural:

24, 20, 16, 12, 8, 4 → Kural:

20, 23, 26, 29, 32 → Kural:

Aşağıdaki sayı örüntülerini tamamlayıp kurallarını yazalım.

→ 10 – 15 – 20 – – – – – –

Kural:.....

→ 8 – 10 – 12 – – – – – –

Kural:.....

→ 30 – 27 – 24 – – – – – –

Kural:.....

→ 100 – 90 – 80 – – – – – –

Kural:.....

→ 12 – 16 – 20 – – – – – –

Kural:.....


→ 9 – 12 – 15 – – – – – –

Kural:.....

Çizgi Tamamlama Oyunu



20' ye kadar noktaların üzerinden giderek resmi tamamlayalım.



İşte sana bir örnek..
Sende istediğin renklere
boyayabilirsin.

Sudoku Oyunu

Aşağıdaki sudokuyu çözelim.

	2		4
1		3	2
4	1		3
2	3	4	1

SUDOKU



Not: Her satırda ve sütunda
her sayıdan bir tane olması
gerekıyor. Yukarıdaki dört
sayıyı bulmacaya yerleştirelim.



Sayıları Karşılaştıralım ve Sıralayalım

Aşağıda verilen sayıları yönergeye göre sıralayalım ve şifreleri bulalım

Büyükten küçüğe sırala ve şifreyi bul	74	38	63		74	63	38
	M	Z	U		M	U	Z

Büyükten küçüğe sırala ve şifreyi bul	16	27	39			
	Z	U	T			

Büyükten küçüğe sırala ve şifreyi bul	57	15	38			
	S	T	Ü			

Küçükten büyüğe sırala ve şifreyi bul	54	17	35			
	Ğ	Y	A			

Küçükten büyüğe sırala ve şifreyi bul	39	90	27			
	U	Ş	K			

Verilen ifadelerden doğru olanların başına (D) yanlış olanlara (Y) yazalım.

- () 48 sayısı 49 sayısından küçüktür.
- () 25 sayısı 52 sayısından küçüktür.
- () En küçük iki basamaklı doğal sayı 1 0'dur.
- () En büyük iki basamaklı doğal sayı 90'dır.
- () 24,34,44 sayıları küçükten büyüğe doğru sıralanmıştır.
- () 94,96,98 sayıları büyükten küçüğe doğru sıralanmıştır.
- () 40 sayısı 39 ile 41 sayıları arasındadır.
- () 75 sayısı 84 sayısından büyüktür.



Satır Sonuna Sığmayan Kelimeler

Çocukların altında yer alan kelimeleri satır sonuna sığmadığında nasıl ayırdığımızı örnekteki gibi yapalım.



.....yağ-
murluk.....

yağmurluk



.....
.....
.....

evdekiler




.....
.....
.....

matematik



.....
.....
.....

denizati



.....
.....
.....

yemekte



.....
.....
.....

hanımeli



.....
.....
.....

televizyon



.....
.....
.....

sporcular



.....
.....
.....

mandalina

Toplama İşlemi



Aşağıdaki eldeli toplama işlemlerini yapalım.

$\begin{array}{r} \square \\ 16 \\ + 35 \\ \hline \square \square \end{array}$	$\begin{array}{r} \square \\ 57 \\ + 15 \\ \hline \square \square \end{array}$	$\begin{array}{r} \square \\ 78 \\ + 14 \\ \hline \square \square \end{array}$	$\begin{array}{r} \square \\ 54 \\ + 28 \\ \hline \square \square \end{array}$
$\begin{array}{r} \square \\ 14 \\ + 47 \\ \hline \square \square \end{array}$	$\begin{array}{r} \square \\ 45 \\ + 27 \\ \hline \square \square \end{array}$	$\begin{array}{r} \square \\ 14 \\ + 59 \\ \hline \square \square \end{array}$	$\begin{array}{r} \square \\ 68 \\ + 24 \\ \hline \square \square \end{array}$
$\begin{array}{r} \square \\ 16 \\ + 39 \\ \hline \square \square \end{array}$	$\begin{array}{r} \square \\ 14 \\ + 17 \\ \hline \square \square \end{array}$	$\begin{array}{r} \square \\ 69 \\ + 17 \\ \hline \square \square \end{array}$	$\begin{array}{r} \square \\ 35 \\ + 18 \\ \hline \square \square \end{array}$
$\begin{array}{r} \square \\ 65 \\ + 28 \\ \hline \square \square \end{array}$	$\begin{array}{r} \square \\ 38 \\ + 38 \\ \hline \square \square \end{array}$	$\begin{array}{r} \square \\ 56 \\ + 29 \\ \hline \square \square \end{array}$	$\begin{array}{r} \square \\ 54 \\ + 38 \\ \hline \square \square \end{array}$
$\begin{array}{r} \square \\ 79 \\ + 17 \\ \hline \square \square \end{array}$	$\begin{array}{r} \square \\ 29 \\ + 49 \\ \hline \square \square \end{array}$	$\begin{array}{r} \square \\ 25 \\ + 29 \\ \hline \square \square \end{array}$	$\begin{array}{r} \square \\ 54 \\ + 19 \\ \hline \square \square \end{array}$





Gölge Eşleştirme Oyunu

Aşağıdaki nesneleri gölgeleri ile eşleştirelim.



Boyama Etkinliği

Aşağıdaki renk geçişlerine dikkat ederek boyama yapalım.



Verilmeyen Toplananı Bulma



Aşağıdaki işlemlerde verilmeyen toplananları bulalım.

$$\begin{array}{r} 24 \\ + \boxed{16} \\ \hline 40 \end{array}$$

$$\begin{array}{r} 38 \\ + \boxed{} \\ \hline 52 \end{array}$$

$$\begin{array}{r} 25 \\ + \boxed{} \\ \hline 40 \end{array}$$

$$\begin{array}{r} 36 \\ + \boxed{} \\ \hline 62 \end{array}$$

$$\begin{array}{r} 46 \\ + \boxed{} \\ \hline 71 \end{array}$$

$$\begin{array}{r} 28 \\ + \boxed{} \\ \hline 52 \end{array}$$

$$\begin{array}{r} 44 \\ + \boxed{} \\ \hline 73 \end{array}$$

$$\begin{array}{r} 39 \\ + \boxed{} \\ \hline 64 \end{array}$$

$$\begin{array}{r} 28 \\ + \boxed{} \\ \hline 60 \end{array}$$

$$\begin{array}{r} 17 \\ + \boxed{} \\ \hline 42 \end{array}$$

$$\begin{array}{r} 69 \\ + \boxed{} \\ \hline 92 \end{array}$$

$$\begin{array}{r} 48 \\ + \boxed{} \\ \hline 91 \end{array}$$

$$\begin{array}{r} 37 \\ + \boxed{} \\ \hline 53 \end{array}$$

$$\begin{array}{r} 45 \\ + \boxed{} \\ \hline 82 \end{array}$$

$$\begin{array}{r} 24 \\ + \boxed{} \\ \hline 50 \end{array}$$

$$\begin{array}{r} 33 \\ + \boxed{} \\ \hline 72 \end{array}$$

$$\begin{array}{r} 53 \\ + \boxed{} \\ \hline 90 \end{array}$$

$$\begin{array}{r} 19 \\ + \boxed{} \\ \hline 63 \end{array}$$

$$\begin{array}{r} 38 \\ + \boxed{} \\ \hline 44 \end{array}$$

$$\begin{array}{r} 28 \\ + \boxed{} \\ \hline 47 \end{array}$$

Noktalama İşaretleri



Aşağıdaki cümlelerde boş bırakılan yerlere uygun noktalama işaretlerini koyunuz.

Teneffüste sınıfı havalandırınız ()

Hangi sınıfta okuyorsun ()

Şimdi rahatladın mı ()

Evden ekmek () domates () elma getir ()

Of () bu işe gerçekten çok üzıldüm ()

Siz ağlıyor musunuz ()

Çantamın içinde kalem () defter ve kitap var ()

Evde hiç ekmek kalmadı ()

Dolaptan pamuk verir misin ()

Ali () Ayşe () Veli tahtaya gelin ()

Eyvah () Yarın sınav mı var ()


Masayı hazırlayayım mı ()

Öğretmenimi yolda gördüm ()

Şekeri () çikolatayı fazla yersek dişlerimiz çürür ()

Teneffüste top oynadı ()

Önlüğünü giydin mi ()



Çıkarma İşlemi



Aşağıdaki çıkarma işlemlerini yapalım.

4 1	4 1	4 1	4 1	4 1
- 1 2	- 2 3	- 1 4	- 2 4	- 1 5

3 6	4 5	5 4	6 3	7 2
- 1 8	- 1 8	- 1 8	- 1 8	- 1 8

6 2	6 3	7 2	7 3	8 2
- 1 3	- 2 4	- 3 5	- 4 6	- 5 7

3 2	4 3	5 4	4 5	6 1
- 2 5	- 2 5	- 2 5	- 2 5	- 2 5

İNSTAGRAM HESAPLARIMIZ

@serhatogretmen48

@materyalsepeti_ms

@materyalburada

@materyalakademi

Web sitelerimiz

www.materyalakademi.com

www.materyalburada.com

Ücretsiz çalışmalar, materyal tasarımları, ders içerikleri ve sınıf içerisinde ihtiyacınız olan materyaller için sayfalarımızı takip edebilirsiniz.