

3. SINIF
FEN BİLİMLERİ
DEĞERLENDİRME
SORULARI

1. Dünyanın yuvarlak olduğunu ancak bunu ispat edemeyeceğini söyleyen bilim adamı kimdir?

A



Macellan

B




Pisagor

C



Aristo

2. Dünyanın şeklinden dolayı limana yaklaşan geminin önce kaç numaralı kısmı görünür?




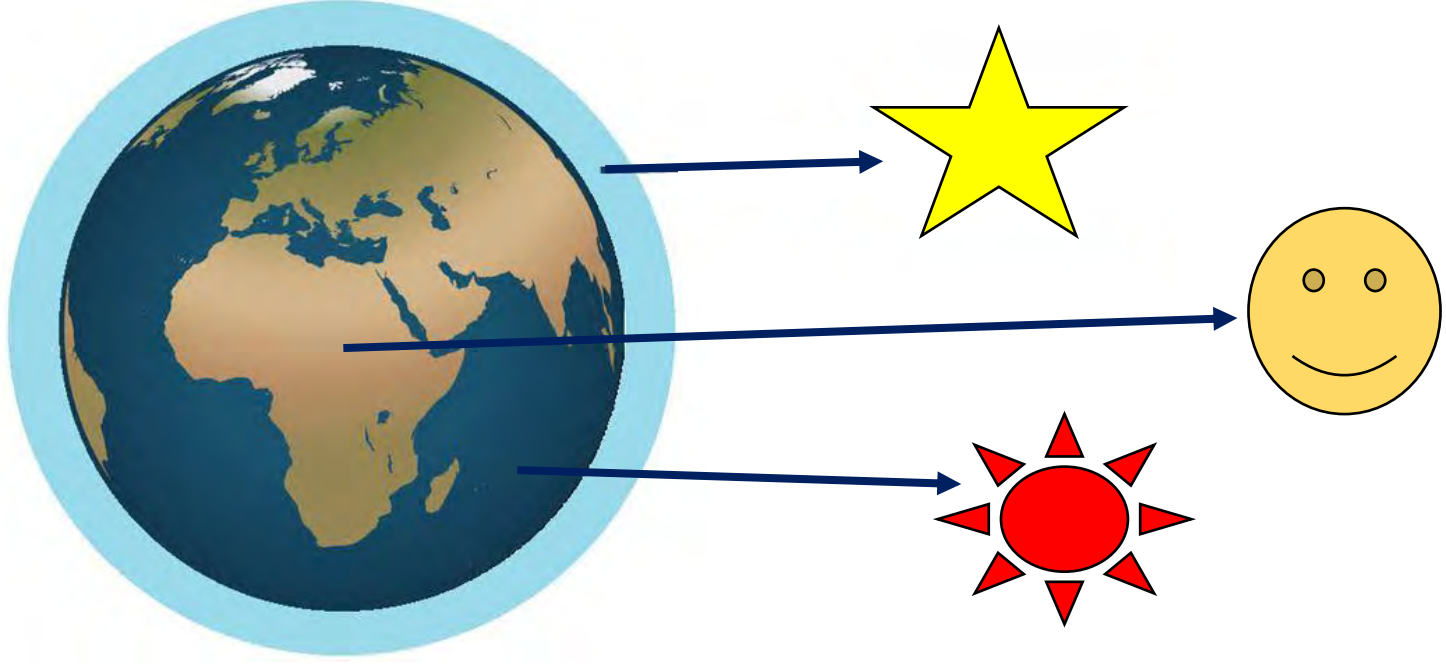


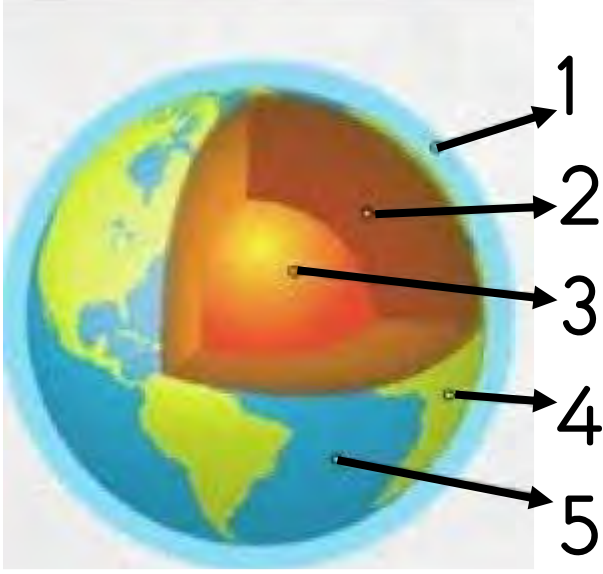
A) 1

B) 2

C) 3

3. Dünyamızı çepeçevre saran ve “Atmosfer” adı verilen katmanı gösteren şekil hangisidir?



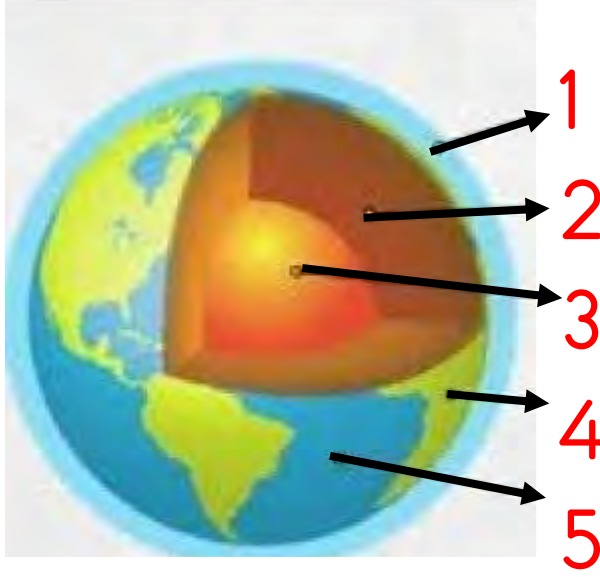


4. Dünyanın en sıcak katmanı(çekirdek) ile yerkabuğunu(kara katmanı) gösteren sayılar hangisidir?

A) 1 ile 3

B) 3 ile 4

C) 3 ile 2



5. Bir çiftçi ile balıkçının çalışma alanlarını gösteren dünya katmanları hangileridir?

A) 5 ile 4

B) 4 ile 2

C) 5 ile 3

(....) Çevremizdeki varlıkları beş duyu organımız ile algılarız.

(....) Sıcaklığı ve soğukluğu derimiz ile hissederiz.

(....) Salatanın tuzlu olduğunu göz ile anlarız.

6. Yukarıdaki ifadeleri doğru ve yanlış olarak değerlendirirsek sıralama nasıl olur?

A

D

D

Y

B

D

Y

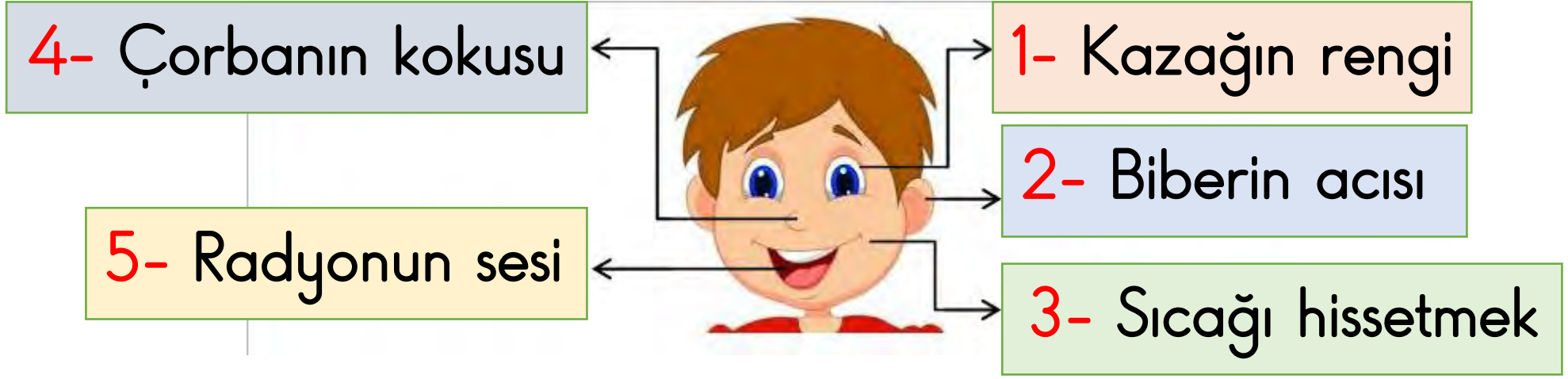
Y

C

D

D

D



7. Yukarıda duyu organlarımız ve algıladıkları ile ilgili görselde kaç numaralı kutucuklar yer değiştirirse yapılan hata düzelmiş olur?

A) 5 ile 3

B) 4 ile 3

C) 2 ile 5

..... sağlığımız için gürültülü ortamlardan uzak durmalıyız.

Deri sağlığımız için sık sık yapmalıyız.

Vücudumuzun yüzeyini kaplayan duyu organımız dir.

8. Yukarıdaki boşluklar “ kulak – göz – banyo – deri “
ile doldurulursa hangisi boşta kalır?

A) kulak

B) banyo

C) göz



1



2



3

9. Yukarıdaki kaç numaralı görselde farklı bir hareket vardır?

- A) 1
- B) 2
- C) 3

- (....) Bisikletin tekeri sallanma hareketine örnektir.
- (....) Duvara çarpan top dönme hareketine örnektir.
- (....) Uçağın pervanesi dönme hareketine örnektir.

10. Yukarıdaki ifadelerin (....) içlerine doğru ve yanlış yazarsak sıralama nasıl olur?

A

Y

D

Y

B

Y

D

Y

C

Y

Y

D

Durađa yaklařan otobüs hareketi yapar.

Köpeđin kovaladıđı kiři hareketi yapar.

11. Yukarıdaki boşluklara gelecek kelimeler arasında aşağıdakilerden hangisi olamaz?

A) hızlanma

B) dönme

C) yavaşlama



12. Yukarıdaki görsellerin hangisinde birden fazla kuvvet söz konusudur?

- A) 1
- B) 2
- C) 3

13. Aşağıdaki ifadelerden hangisi doğru değildir?

- A) Bazı varlıkları iterek ya da çekerek hareket ettirebiliriz.
- B) Hareket halindeki arabayı arkasından çekerek yavaşlatabiliriz.
- C) Pencereyi çekerek açabiliriz.



14.Yukarıdaki görselde halat çekme yarışını “Yıldızlar” takımı kazandığına göre aşağıdaki ifadelerden hangisi doğrudur?

- A) Kelebekler takımı daha kuvvetli çekmiştir.
- B) Yıldızlar takımı, Kelebek takımından hızlı itmiştir.
- C) Yıldızlar takımı Kelebek takımından güçlü çekmiştir.



15. Yukarıdaki kaç numaralı görseldeki hareketli varlığı elimizle durdurmaya çalışmak diğerlerine göre tehlikeli olmaz?

- A) 1
- B) 2
- C) 3

Kokusu var mı? Rengi nedir? Hangisi uzun?

16. Yukarıdaki soruların cevaplarını bulmak için aşağıdaki duyu organlarından hangisini kullanmak gerekmez?

A) Burun

B) Göz

C) Kulak



17. Yukarıdaki görsellerden kaç tanesi esnek maddelere örnektir?

A) 2

B) 3

C) 4

18. Aşağıdaki ifadelerden hangisi doğru değildir?

A) Laboratuvarda çalışırken eldiven kullanmalıyız.

B) Kaynak yaparken güneş gözlüğü takmalıyız.

C) Doğada yetişen her mantar yenmez.

Bilgi Notu: Maddeler katı, sıvı ve gaz madde olmak üzere üçe ayrılır.

19. Aşağıdaki cümlelerin hangisinde diğerlerinden farklı bir maddenin halinden bahsedilmektedir?

- A) Gazi kana kana su içti.
- B) Ayrani bir yudumda bitirdi.
- C) Elmayı kıt kıt yiyip bitirdi.

20. “Buhar” ve “buz” hangi maddenin farklı hallerine örnektir?

- A) Ayrar
- B) Portakal
- C) Su

21. Aşağıdaki ifadelerden hangisi yanlıştır?

A) Sıvıların belirli bir şekli yoktur.

B) Küçük tanecikli katılar bulundukları kabın şeklini almazlar.

C) Gaz maddeler konuldukları kabı tamamen doldurur.

22. Aşağıdaki görsellerden hangisi farklı bir ışık kaynağına örnektir?



23. Aşağıdaki ifadelerin hangisinde yapay ışık kaynağına örnek bir durum söz konusudur?

A) Dolunay gece karanlığında etrafı aydınlatıyordu.

B) Eski zamanlarda insanlar kutup yıldızına bakarak yön bulmuş.

C) Elektrikler kesilince mum yaktık.

(....) Ses dalgalar halinde yayılır.

(....) Ses çıktığı kaynak yönünde yayılır.

(....) Sesin şiddeti kaynağında fazladır.

24. Yukarıdaki ifadelerin (....) içlerine doğru ve yanlış yazarsak sıralama nasıl olur?

A

D

D

Y

B

Y

D

Y

C

D

Y

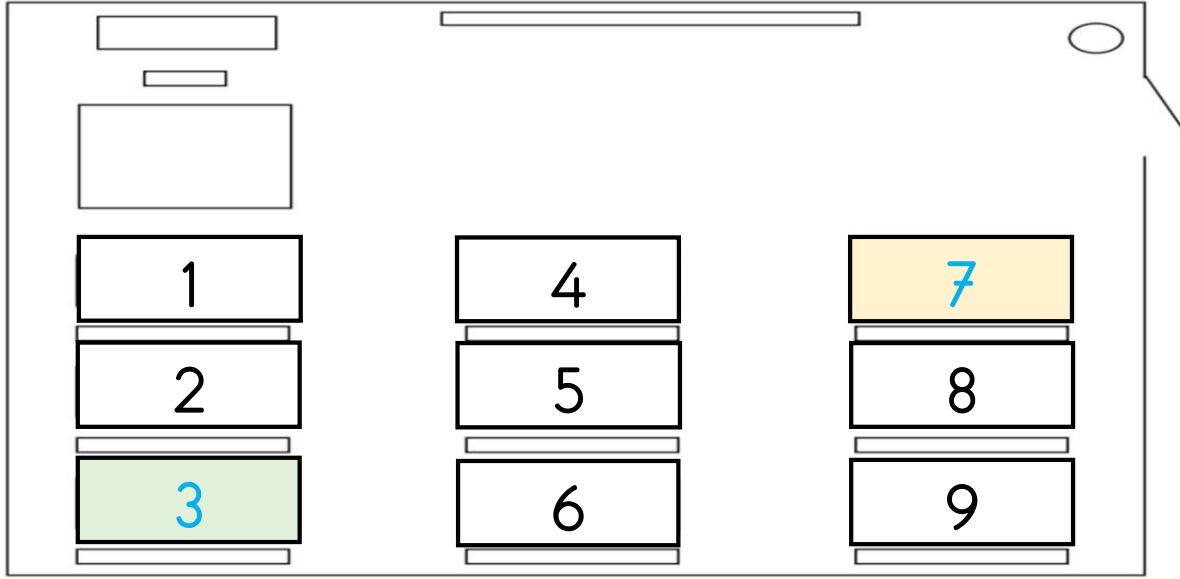
D



Ece yukarıdaki doğal ses kaynaklarının üzerine yıldız yapay ses kaynaklarının üzerine güneş resmi yapıştırmak istiyor.

25. Ece'ye kaç tane yıldız kaç tane güneş gerekir?

- A) 3 yıldız 3 güneş
- B) 2 yıldız 3 güneş
- C) 3 yıldız 2 güneş



26. Öğretmenin sesini 7 numaralı sırada oturan öğrenci en fazla, 3 numarada oturan öğrenci ise en az duyuyorsa öğretmen nerede konuşuyor olabilir?

- A) Kapının yanında
- B) Tahtanın önünde
- C) Öğretmen masasının yanında