

BÜTÜN, YARIM VE ÇEYREK

Aşağıdaki görsellerin yanlarına "bütün, yarım ve çeyrek" sözcüklerinden uygun olanları yazalım.



(.....)



(.....)



(.....)



(.....)



(.....)



(.....)


Aşağıdaki şeklin boyalı kısımlarının ifade ettiği kesri yazarak, okla gösterilen kısımların belirttiği terimleri yazalım.




(.....)



(.....)



(.....)



Aşağıdaki geometrik şekillerin altlarına "bütün, yarım ve çeyrek" sözcüklerinden uygun olanları yazalım. Boyalı alanları kesir olarak ifade edelim ve okuyalım.



.....
.....

(.....)



.....
.....

(.....)



.....
.....

(.....)



.....
.....

(.....)



.....
.....

(.....)



.....
.....

(.....)

Aşağıdaki verilen ifadeler göre şekilleri parçalara ayırıp boyyalım.

çeyrek



çeyrek



yarım



yarım



BÜTÜN, YARIM VE ÇEYREK

Aşağıdaki görsellere "bütün, yarım ve çeyrek" ifadelerinden uygun olanını örnekteki gibi yazalım.



.....Bütün.....



.....



.....



.....



.....



.....



.....



.....



.....



.....



.....



.....

Aşağıdaki kesirlerin boyalı kısımlarının şeklin ne kadarını gösterdiğinin ve kesir ifadesini örnekteki gibi yazınız.



→ çeyrek

$$\frac{1}{4}$$



→

$$\frac{1}{2}$$



→

$$\frac{1}{4}$$



→

$$\frac{4}{4}$$



→

$$\frac{1}{4}$$



→


$$\frac{1}{2}$$

Aşağıda verilen kesir modellerinin boyalı kısımlarını gösterimini örnekteki gibi yapalım. Kesirlerin okunuşlarını ve noktalı yerleri yazalım.



1 → pay
— → kesir çizgisi
2 → payda

Okunuşu: ikide bir



→
— →
→

Okunuşu:



→
— →
→

Okunuşu:



→
— →
→

Okunuşu:



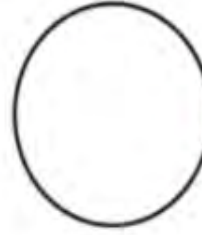
→
— →
→

Okunuşu:

Aşağıdaki şekillerin belirtilen kesir kadarını boyyalım. Kesir üzerinde ok ile gösterilen yerlerin isimlerini örnekteki gibi yazalım.



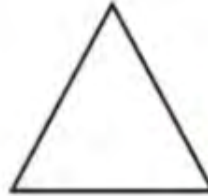
→ yarım $\frac{1}{2}$



→ $\frac{1}{4}$



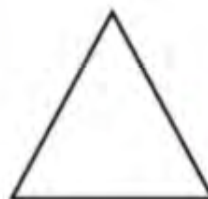
→ $\frac{1}{1}$



→ $\frac{1}{4}$



→ $\frac{1}{4}$



→ $\frac{1}{2}$

BİRİM KESİR

Şekillerin boyalı kısımlarını ifade eden kesirleri ve bu kesirlerin okunuşunu ve birim kesirini yazınız.



Kesir

Kesrin okunuşu

Birim Kesir



Kesir

Kesrin okunuşu

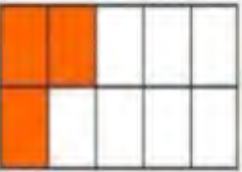
Birim Kesir



Kesir

Kesrin okunuşu

Birim Kesir



Kesir

Kesrin okunuşu

Birim Kesir



Kesir

Kesrin okunuşu

Birim Kesir

Aşağıda verilen bilgilerden yararlanarak noktalı yerleri doldurunuz. Kesirlere göre şekilleri boyayınız.



Kesir

$$\frac{2}{6}$$

Kesrin Okunuşu

.....

Birim Kesir

$$\frac{1}{6}$$



Kesir

$$\frac{8}{10}$$

Kesrin Okunuşu

.....

Birim Kesir

$$\frac{1}{10}$$



Kesir

$$\frac{7}{12}$$

Kesrin Okunuşu

.....

Birim Kesir

$$\frac{1}{12}$$



Kesir

$$\frac{2}{5}$$

Kesrin Okunuşu

.....

Birim Kesir

$$\frac{1}{5}$$



Kesir

$$\frac{4}{8}$$

Kesrin Okunuşu

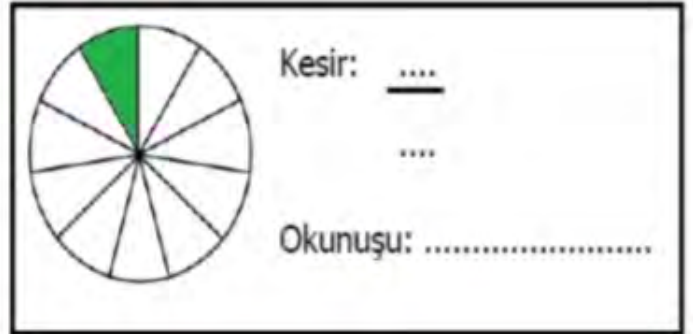
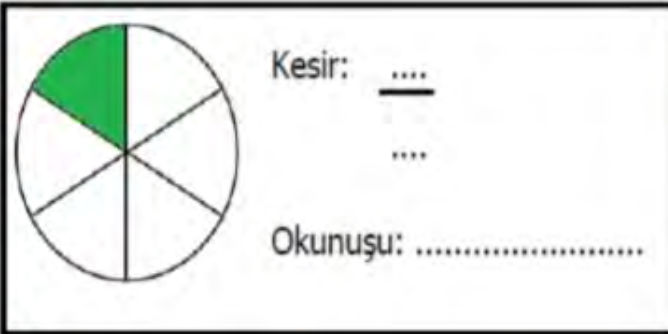
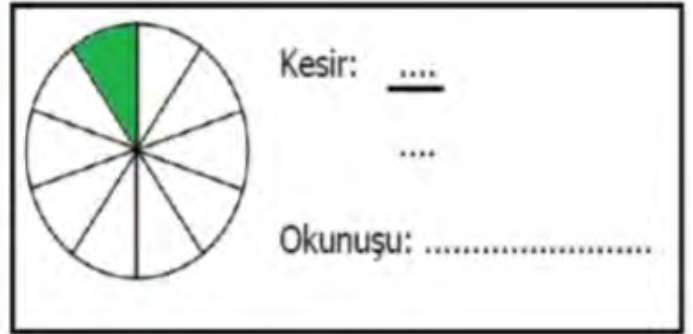
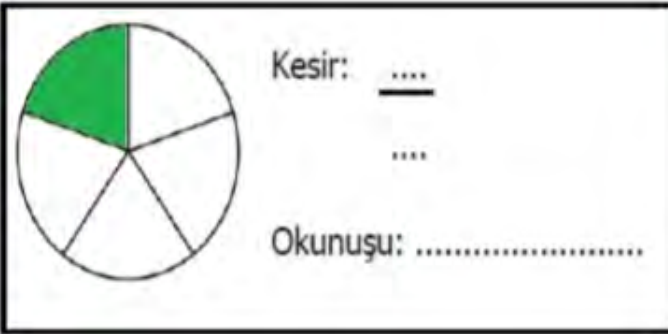
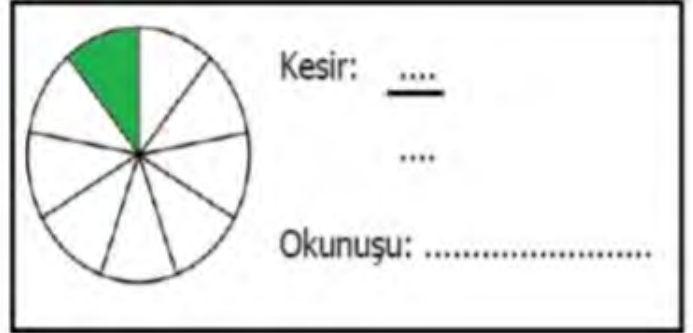
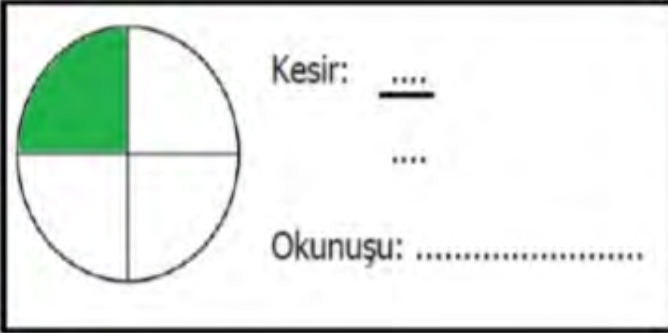
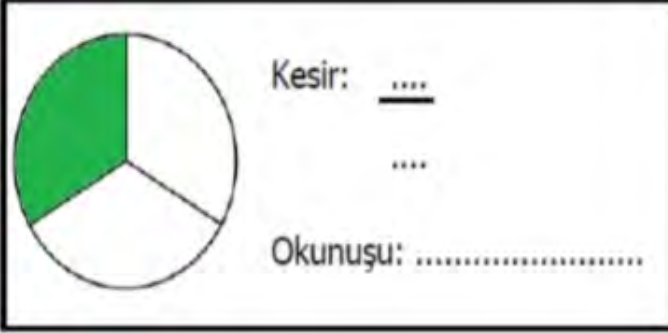
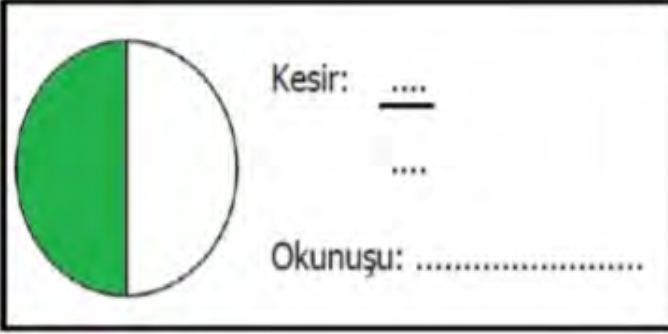
.....

Birim Kesir

$$\frac{1}{8}$$

PARÇA BÜTÜN İLİŞKİSİ VE BİRİM KESİR

Aşağıdaki şekiller kaç parçaya bölünmüş ve ne kadarı boyanmıştır. Şeklin ifade ettiği kesri ve okunuşunu yazınız.



Aşağıdaki kesir modellerinin birim kesir kadarını boyayınız. Kesir modellerini yazınız.

