

## 2.SINIFLAR 1.DÖNEM HAYAT BİLGİSİ DEĞERLENDİRME SINAVI

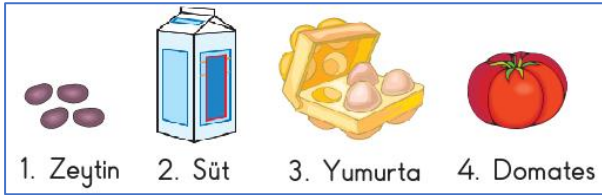
1) Pınar bir gün boyunca tükettiği besinleri şekildeki gibi yazmıştır.

| Sabah kahvaltısı          | Öğle yemeği                            | Akşam yemeği                                       |
|---------------------------|--|--|
| Ekmek<br>Bisküvi<br>Gazoz | Çorba<br>Nohut yemeği<br>Bulgur pilavı | Fasulye yemeği<br>Marul, domates salatası<br>Ayrar |

Buna göre Pınar, hangi öğünlerinde dengeli beslenmiştir?

- A) Yalnız sabah kahvaltısı  
B) Öğle ve akşam yemeği  
C) Sabah kahvaltısı ve öğle yemeği

2) Aşağıdaki görsellerde kahvaltıda yediğimiz bazı besinlere numaralar verilmiştir.



Buna göre bu besinlerin hayvanlardan ve bitkilerden elde edilenleri aşağıdakilerin hangisinde doğru gruplanmıştır?

|    | Hayvanlardan elde edilenler | Bitkilerden elde edilenler |
|----|-----------------------------|----------------------------|
| A) | 3, 4                        | 1, 2                       |
| B) | 1, 2                        | 3, 4                       |
| C) | 2, 3                        | 1, 4                       |

3) Bir öğrenci sınıfta konusunu anlatırken aşağıdaki afişleri kullanıyor.



Bu öğrenci hangi konuyu anlatmıştır?

- A) Yaşımıza uygun sporlar  
B) Hayvanlardan elde edilen besinler  
C) Sağlıklı büyümek için yapmamız gerekenler

4) Beril'in babası elektrik, doğal gaz ve su tüketimlerinin fazla olduğunu fark etmiştir. Bunun için ailece kaynak kullanımında bazı önlemler almışlardır. Aşağıdakilerden hangisi bu önlemlerden biri olamaz?

- A) Evde gereksiz yanan ışıkları söndürmek  
B) Su damlatan muslukları tamir ettirmek  
C) Kalorifer yanarken pencereyi açmak

5) Sağlığımız için meyve ve sebzeleri mevsiminde tüketmeliyiz.

Buna göre aşağıdaki meyvelerden hangisini yaz mevsiminde tüketmeliyiz?



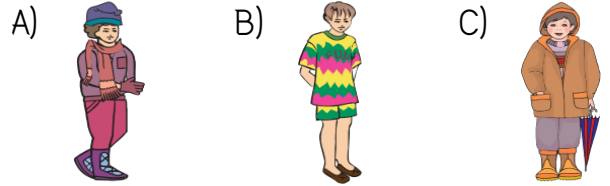
6) Aşağıdakilerden hangisi kişisel bakım için yanlış davranışlardandır?

- A) Düzenli aralıklarla tırnak kesmek  
B) Yemekten önce ve sonra elleri yıkamak  
C) Başkasının havlusunu ve tarağını kullanmak


7) Gülşen Öğretmen, öğrencilerine bazı bilgiler veriyor.

- Havalar soğumaya başladı.
- Biraz daha kalın kıyafetler giymelisiniz.
- Dışarı çıkarken yanınıza yağmurluk ve şemsiye almalısınız.

Öğretmenin verdiği bu bilgiye göre aşağıdaki öğrencilerden hangisi uygun kıyafet seçmiştir?



8) Aşağıdakilerden hangisi yardıma ihtiyaç duyan öncelikli kişilerden değildir?



9) Aşağıdaki çocuklardan hangisi evinin adresini tam olarak söylemiştir?

- A)  Mimar Sinan Mahallesi  
Gaziler Sok. No: 38 Daire: 3  
Çankaya/ANKARA
- B)  Kaya Sokak Çınar Apartmanı No: 1  
ANKARA
- C)  Atatürk Mahallesi  
Fatih Sultan Mehmet Caddesi  
Çankaya

10) Aşağıdakilerden hangisi fiziksel özelliklerimizden biri değildir?

- A) Boyumuz B) Göz rengimiz C) Duygularımız

11) Elif ve ailesi evdeki sorumluluklarını tablodaki gibi paylaşmışlardır.

|          | Çöp atma | Yemek yapma | Ev temizliği | Tamir işleri | Masayı toplama |
|----------|----------|-------------|--------------|--------------|----------------|
| Annem    |          | ✓           | ✓            |              | ✓              |
| Babam    |          | ✓           | ✓            | ✓            |                |
| Elif     | ✓        |             | ✓            |              | ✓              |
| Kardeşim | ✓        |             |              |              | ✓              |

Tabloya göre aşağıdakilerden hangisi söylenebilir?

- A) Çöp atma görevi Elif ve kardeşine aittir.  
B) Masayı toplama sadece Elif'in görevidir.  
C) Evin tüm işlerini Elif'in annesi yapmaktadır.

12) Aşağıdakilerden hangisi yemekte yapılan doğru davranışlardandır?

- A) Sofrada başka şeylerle ilgilenmek  
B) Ağzımızda yemek varken konuşmamak  
C) Yemek sırasında sık sık yerimizden kalkmak

13) Emel, ailece ortak kararlar almanın doğru olduğunu düşünüyor. Emel bu fikrini savunmak için aşağıdakilerden hangisini söylemiş olamaz?

- A) Ailede bütün bireyler söz sahibi olmalıdır.  
B) Tüm kararları babalar almalıdır.  
C) Söylenen fikirler ailece değerlendirilmelidir.

14) Her gün;

- 07.15'te evden çıkarım.
- 12.30'da öğle yemeği yerim.
- 15.00 ile 16.00 arası oyun oynarım.
- 21.30'da ise uyurum.

Gün içinde yaptıklarını böyle anlatan bir öğrenci için aşağıdakilerden hangisi söylenebilir?

- A) Zeki B) Planlı C) Çalışkan

15) Aşağıdakilerden hangisi iyi bir dinleyicinin özelliklerinden biri değildir?

- A) Dinlerken başka işlerle uğraşır.  
B) Konuşan kişiyle göz teması kurar.  
C) Konuşan kişinin söylediklerini önemser.

16) Aşağıdakilerden hangisi okul kurallarından biri değildir?

- A) Sınıfı temiz tutmak  
B) Zamanında uyuyup, uyanmak  
C) Okuldan izin alarak ayrılmak

Sınıfımızda yapılan etkinliklerde uymamız gereken grupla çalışma kuralları vardır.

17) Aşağıdakilerden hangisi bu kurallarla ilgili yanlış bir ifadedir?

A)



Grup çalışmalarını bir kişiye yaptırmalıyız.

B)



Sınıftaki etkinlikleri hazırlarken birlikte karar vermeliyiz.

C)



Farklı düşünen arkadaşlara saygı göstermeliyiz.

18) Aşağıdakilerden hangisi, bilinçli tüketicinin davranışlarından biri değildir?

- A) Haklarını bilir ve sahip çıkar.  
B) Alışverişte ihtiyaçlarına öncelik verir.  
C) Alacağı malın pahalı olmasına dikkat eder.

19) Arif'in, pazartesi gününe ait ders programı tabloda verilmiştir. Ders programına göre Arif'in aşağıdakilerden hangisini çantasına koymasına gerek yoktur?

| PAZARTESİ |               |
|-----------|---------------|
| 1. DERS   | Hayat Bilgisi |
| 2. DERS   | Türkçe        |
| 3. DERS   | Türkçe        |
| 4. DERS   | Matematik     |
| 5. DERS   | Matematik     |
| 6. DERS   | Müzik         |

A)



B)



C)



20) Aşağıdakilerden hangisi arkadaşlarımızla ilişkilerimizi olumsuz etkileyen davranışlardan biri değildir?

- A) Alınganlık B) Uyumluluk C) Bencillik

Adım :..... Puan:.....

1

A

B

C

11

A

B

C

2

A

B

C

12

A

B

C

3

A

B

C

13

A

B

C

4

A

B

C

14

A

B

C

5

A

B

C

15

A

B

C

6

A

B

C

16

A

B

C

7

A

B

C

17

A

B

C

8

A

B

C

18

A

B

C

9

A

B

C

19

A

B

C

10

A

B

C

20

A

B

C