


3. SINIF DENEME SINAVI

Aşağıdaki soruları dikkatle okuyarak cevaplayınız.

Anadolu'nun ortasında bir yüce dağ yükselir. Hasan Dağı tüm güzelliğiyle selamlar sizi. Yamaçlarında meşe ve türlü ağaçlar yetişir. Koyunlar, keçiler, inekler otlar çimenlerinde. Hasan Dağı'nın bittiği düzlüklerde buğday, arpa, mısır, şeker pancarı yetişir. Haziran ayının sonuna kadar zirvesinden kar eksik olmaz.

1. Hasan Dağı'nın çimenlerinde hayngi hayvan bulunmaz?



2. Metinde geçen "zirve" kelimesinin anlamı aşağıdakilerden hangisidir?

- (a) Bir dağın en yüksek yeri
- (b) Dağlarda bulunan kayalar
- (c) Dağın eteklerindeki ormanlar

3. Bu metnin son cümlesinde kaç kelime vardır?

- (a) 6
- (b) 7
- (c) 8

4. Genç kız, spor salonunun önünde ısrarla bekliyordu.

Bu cümlede aşağıdaki sorulardan hangisinin cevabı yoktur?

- (a) Kim
- (b) Nerede
- (c) Neden

5. koştum servise
hızlıca için yetişmek

Yukarıda verilen sözcüklerle anlamlı ve kurallı bir cümle oluşturursak sıralama nasıl olur?

- (a) - -
- (b) - -
- (c)

6.

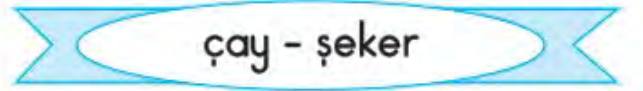


Parktaki ihtiyar adam çok kıbandı.

Ahsen'in cümlesindeki "ihtiyar" sözcüğünün yerine aşağıdakilerden hangisini yazarsam cümlemin anlamı değişmez?

- (a) Yoksul
- (b) Yaşlı
- (c) Genç

7.



Yukarıdaki kelimeler arasındaki anlam ilişkisi hangi kelimeler arasında vardır?

- (a) çorba-tabak
- (b) köfte-patates
- (c) tuz-ayran

8.



Özel isimlere gelen ekler kesme işaretiyle ayrılır.

Bu bilgiye göre hangi cümlede hata yapılmıştır?

- (a) Tolga'nın yerini biliyor musun?
- (b) Market'in önünde bekliyorum.
- (c) Ankara'ya gitmeyeli üç yıl oldu.

9. Aşağıdaki cümlelerdeki eylemlerden hangisi henüz gerçekleşmemiş, gelecekte gerçekleşebilecek bir olay anlatılmaktadır.

- (a) Geçen sabah kedisi hastalanmış.
- (b) Yaz tatilinde köye gideceğiz.
- (c) Annem kurabiye yapıyor.

10.

Trabzon	Afrika
Silgi	Mars

Yukarıda özel olamayan cins isimin olduğu kutucuk kesilecektir. Buna göre oluşan şekil aşağıdakilerden hangisidir?

- (a)
- (b)
- (c)

11.

ahçı	kağıt
maydanoz	eylence
kirbit	tren

Yukarıdaki sözcüklerden kaç tanesi yanlış yazılmıştır?

- (a) 3 (b) 4 (c) 5

12. Aşağıdaki cümlelerin hangisinde "çok şaşırmak" anlamında bir deyim kullanılmıştır?

- (a) Köpeği görünce yüreğim hopladı.
 (b) Beni görünce ağzı bir karış açık kaldı.
 (c) Öğretmenin gözüne girdim.

13. Yandaki bölme işleminin sonucu aşağıdakilerden hangisidir?

$$\begin{array}{r} 72 \overline{) 6} \\ \end{array}$$

- (a) 12 (b) 13 (c) 11

14. 64 sayfalık bir kitabın 10 sayfasını okudum. Kalan sayfaları 6 günde bitirmem için günde kaç sayfa okumalıyım?

- (a) 7 (b) 8 (c) 9

15. Payı 3, paydası 5 olan kesrin modeli aşağıdakilerden hangisidir?

- (a) 
 (b) 
 (c) 

16.



Her şekil 4 hayvanı göstermektedir.

Yukarıdaki grafiğe göre koyun ve ineklerin sayılarının toplamı kaçtır?

- (a) 7 (b) 24 (c) 28

17.

$$\begin{array}{l} 3 \times 8 = \blacktriangle \\ \blacktriangle \times 10 = \blacksquare \end{array}$$

Yandaki çarpma işlemlerine göre kare olan yere hangi sayı gelmelidir?

- (a) 24 (b) 140 (c) 240

18.



8 tane yarım ekmek kaç tane tam ekmek yapar?

- (a) 2 (b) 4 (c) 16

19.



Kumbaramda 5 tane 50 lira, 6 tane 20 lira varsa benim kaç liram vardır?

- (a) 270 (b) 370 (c) 470

20. Günde 21 litre süt tüketilen bir yerde bir ayda (30 gün) kaç litre süt tüketilir?



- (a) 620 (b) 630 (c) 540

21. yandaki sayıları ile oluşturulabilecek üç basamaklı en büyük sayı ile en küçük sayının farkı kaçtır?



- (a) 595 (b) 485 (c) 495

22.



Hangi öğrencinin gösterdiği Romen rakamı 19 sayısını ifade etmektedir?

- (a)  (b)  (c) 

23.

▲ 578 ● 690 ■ 123

Yukarıdaki sayılardan kaç tanesi çift sayıdır?

- (a) 1 (b) 2 (c) 3

24. 400 liramın 175 lirasına oyuncak aldım. Geriye kaç liram kaldı?

- (a) 325 (b) 425 (c) 225

25. () Karlı ve buzlu günlerde dikkatli yürürüm.

() Başkalarına ait ilaçları kullanırım.

() Kesici aletlerle oynamam.

Yukarıdaki cümlelerden doğru olanlarının yanına D yanlış olanların yanına Y yazarsam nasıl bir sonuç ortaya çıkar?

- (a) DDD (b) YDD (c) DYD

26.



Yukarıdaki trafik işaretlerinin anlamı aşağıdakilerden hangisinde doğru olarak verilmiştir.

- (a) Kaygan yol-yaya geçidi- yol çalışması
(b) kaygan yol-okul geçidi-bisiklet yolu
(c) bozuk yol-yaya geçidi-tren yolu

27.

Bisiklet kullanırken
bisiklet yolunu tercih etmeliyiz.

Doğru

Yanlış ▲

Bisiklet kullanırken
koruyucu kıyafet
giymeliyiz.

Doğru ■

Yanlış ●

Yukarıdaki ifadelerden doğru olan ifadelerden ilerlenirse hangi çıkışa varılır?

- (a) kare (b) üçgen (c) daire

28.



Kerim marketten süt alırken ilk önce neye dikkat etmelidir?

- (a) Son kullanma tarihine
(b) Ambalajına
(c) Görüntüsüne

29. Aşağıdakilerden hangisi sağlıklı besinler tüketmektedir?

- (a) Patates kızartması, çikolata, hamburger ve kola
(b) Pizza, cips, gazoz ve elma
(c) Tavuk, salata, çorba ve ayran

30. Sinan'ın ayakkabısı dar gelmeye başlamıştı. Üstelik kıyafetleri de küçülmüştü. Bu nedenle babasıyla birlikte alışverişe gittiler. O sırada çok güzel bir oyuncak araba gördü ve almak istedi. Yukarıda anlatılan hikâyede hangisi ya da hangileri Sinan'ın ihtiyaçları arasında değildir?

- (a) ayakkabı (b) kıyafet (c) oyuncak

31. Kroki hakkında hangi bilgi yanlıştır?

- (a) Kuşbakışı görünüş çizilir.
(b) Çeşitli şekiller kullanılır.
(c) Ölçü kullanarak çizilir.

32. Aşağıdaki ışık ve ışık türü eşleştirmelerinden hangisi yanlıştır?

- (a) Güneş___ doğal ışık kaynağı
(b) Fener___ yapay ışık kaynağı
(c) Mum___ doğal ışık kaynağı

33. ☆ Kibrit ☆ El feneri
☆ Mum ☆ Çakmak

Yukarıdakilerden kaç tanesi doğal ışık kaynağıdır?

- (a) 2 (b) 3 (c) 0

34. İrem, kavanozu boşluk kalmayacak şekilde doldurmak istiyor.

● Makarna

▲ Taş

■ Zeytinyağı



Öğrencilerin, yukarıda özelliklerini saydığı madde, aşağıdakilerden hangisi olabilir?

- (a) zeytin yağı
(b) makarna
(c) taş



Yukarıdaki maddelerin kaç tanesi kırılğan değildir?

- (a) 2 (b) 3 (c) 4

36. Dolabından kazağını almak isteyen Mehmet, önce dolabın kapağını açtı. Kazağını aldıktan sonra dolabın kapağını kapattı.

Buna göre Mehmet dolabın kapağına sırayla hangi kuvvetleri uygulamıştır?

- (a) itme- itme (b) çekme- itme (c) itme- çekme

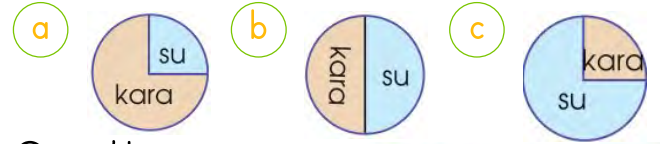
37.

Z	P	A	M	U	K	G
P	Y	D	E	M	İ	R
R	Ö	E	Ş	Z	T	E
Ç	A	N	T	A	Ö	İ

Yukarıdaki bulmacada sert bir madde gizlenmiştir. Bu sert madde hangisidir?

- (a) pamuk (b) taş (c) cam

38. Dünya'nın gözlemlenebilir katmanlarından su katmanı ile kara katmanının oranı hangi grafikte doğru verilmiştir?



39. Cansu'dan yandaki verilen harf havuzundan duyu organlarını bulması istenmiştir. Cansu aşağıda verilenlerden hangisini bulamaz?

K	B	U	R	U	N
A	G	D	E	R	İ
L	Ö	İ	K	U	R
P	Z	L	İ	N	A
İ	A	Y	N	E	R

- (a) göz
(b) deri
(c) kulak

40.

Buz	Hava	Kola
Ayran	Kaşık	Süt
Su buharı	Zeytinyağı	Tahta

Yukarıda verilen maddeler incelendiğinde maddenin hangi hâline verilen örnekler daha fazladır?

- (a) katı
(b) sıvı
(c) gaz