

### 3.SINIF FEN BİLİMLERİ DERSİ 5. DEĞERLENDİRME SORULARI

A. Aşağıda verilen ifadeler doğruysa " D " , yanlışsa " Y " harfi yazalım. ( 10p)

- (.....) Masadan kitabını alan Betül, itme kuvvetini kullanmıştır.  
 (.....) Görmek için sadece gözler yeterlidir.  
 (.....) Uzaydan çekilen fotoğraflar Dünya' nın şeklinin yuvarlak olduğunu kanıtlar.  
 (.....) Bitkiler bulunduğu yerden ayrılamadığı için cansız varlık olarak kabul edilir.  
 (.....) Pencerenin camı pürüzsüz maddelere örnek olarak verilebilir.

B. Aşağıdaki tümceleri verilen sözcüklerden uygun olanları ile tamamlayalım. ( 10p)

|      |          |       |          |       |       |
|------|----------|-------|----------|-------|-------|
| sesi | atmosfer | tat   | hızlanma | yapay | deniz |
| renk | dönme    | doğal | çekirdek | ışığı | berk  |







- a) Bazı denizanasları .....ışık kaynağı olarak kabul edilir.  
 b) İnsanın kulağı her .....işitemez.  
 c) Kalkışa geçen uçak.....hareketi yapar.  
 ç) Tuz ve şekeri birbirinden ayırmak için .....özellğine bakılmalıdır.  
 d) Dünya' nın en ıçte bulunan katmanı.....'dir.

C. Çoktan seçmeli sorularda doğru olan seçeneğı işaretleyip, cevap anahtarına kodlayalım.

"Yandaki görselin  
sesi yaklaştıkça  
....., uzaklaştıkça  
....."



S1. Yukarıda boş bırakılan yere hangi ifadeler yazılır?

- a)  artar  azalır  
 b)  azalır  artar  
 c)  artar  değişmez

S2. " Bazı varlıklar ışık kaynağı olmamasına rağmen ışık kaynağından gelen ışığı yansıtır. "

Yukarıdaki ifadede bahsedilen varlıklar aşağıda-kilerden hangisi ile açıklanır?

- a) Yapay ışık kaynağı  
 b) Doğal ışık kaynağı  
 c) Aydınlatılmış cisim

S3. Aşağıdakilerden hangisi bir ses kaynağı değildir?

- a) Televizyon kumandası  
 b) Mikser  
 c) Çamaşır makinesi

S4. " Televizyon ekranı.....bir maddedir. " Cümlesi aşağıdaki sözcüklerin hangisi ile tamamlanamaz?

- a) pürüzsüz  
 b) kırılğan  
 c) yumuşak

S5. Baki, kimin çaldığı müzik aletinin sesini daha az duyar?

- a) Yusuf  
 b) Ahmet  
 c) Bilal



**A maddesi : Belirli bir şekli vardır.**

**B maddesi : Bulunduğı ortama yayılır.**

S6. Yukarıda özellikleri verilen maddelerin hâl durumları hangi seçenekte verilmiştir?

|    | <b>A maddesi</b> | <b>B maddesi</b> |
|----|------------------|------------------|
| a) | katı             | gaz              |
| b) | katı             | sıvı             |
| c) | sıvı             | gaz              |

S7. Aşağıdaki bilgilerden hangisi yanlıştır?

- a) Yeryüzünün kaplayan suların çoğı içilebilir ve kullanılabilir.  
 b) Dünya yüzeyinde sular, karalara göre daha çok yer kaplar.  
 c) Dünya yüzeyinde bulunan çok büyük su birikimlerine okyanus denir.

3.SINIF FEN BİLİMLERİ DERSİ 5. DEĞERLENDİRME SORULARI

Koku alma duyu organımızla ilgili;

- Görmemize yardımcı organdır.
- Kapalıyken tatları ayırt edemeyiz.
- Aynı zamanda solunum organımızdır.

S8. Verilen bilgilerden kaç tanesi doğrudur?

- a) 1                      b) 2                      c) 3

S9. Dokunma duyu organımız hangisidir?

- a) Kulak                      b) Burun                      c) Deri

S10. Yandaki varlıklarla ilgili olarak aşağıdakilerden hangisi söylenebilir?

- a) Işık kaynaklarıdır.  
b) Doğal ışık kaynaklarıdır.  
c) Yapay ışık kaynaklarıdır.



- Rüzgar                      • Şelale
- Gök gürültüsü                      • Uçak
- Kedi                      • Gitar

S11. Yukarıdakilerden kaç doğal ses kaynağıdır?

- a) 5                      b) 4                      c) 3

S12. Dünya'mız ile ilgili verilen bilgilerden yanlış olan hangisidir?

- a) Dünya'nın içteki katmanlarında sıcaklık diğer katmanlarına göre daha fazladır.  
b) Dünya, alttan ve üstten basık, ortası şişkindir.  
c) Uzaydan çekilen fotoğraflar, Dünya'nın şeklini tam olarak belirlememize yardımcı olamaz.

S13. Hangi hareket türü diğerlerinden farklıdır?

- a) Yokuş yukarı çıkan bisikletli.  
b) Ağaçtan düşen elma.  
c) Limandan uzaklaşan gemi.

Plastik top sert bir maddedir.

D

Gümüş ve altın maddelerin ayırt edici kokuları vardır.

Y

Soluduğumuz hava renksiz bir gaz maddedir.

D

1.çıkış

Y

2.çıkış

D

3.çıkış

Y

4.çıkış

S14.İfadeleri doğru veya yanlış olarak takip ettiğimizde kaç numaralı çıkışa ulaşırız?

- a) 4.çıkış                      b) 2.çıkış                      c) 3.çıkış

S15. Verilen olaylardan hangisi kuvvetin şekil değiştirme etkisine örnek verilebilir?

- a) Atılan taşla canım kırılması.  
b) Annenin bebek arabasını itmesi.  
c) Yelkovanın dakikayı göstermesi.

S16. "İtme veya çekme kuvveti sonucunda cismin yer değiştirmesine.....denir." cümlesinde boş bırakılan yere hangisi yazılmalıdır?

- a) hız                      b) güç                      c) hareket

CEVAP ANAHTARI

|      |     |     |     |
|------|-----|-----|-----|
| 1 -  | (A) | (B) | (C) |
| 2 -  | (A) | (B) | (C) |
| 3 -  | (A) | (B) | (C) |
| 4 -  | (A) | (B) | (C) |
| 5 -  | (A) | (B) | (C) |
| 6 -  | (A) | (B) | (C) |
| 7 -  | (A) | (B) | (C) |
| 8 -  | (A) | (B) | (C) |
| 9 -  | (A) | (B) | (C) |
| 10 - | (A) | (B) | (C) |
| 11 - | (A) | (B) | (C) |
| 12 - | (A) | (B) | (C) |
| 13 - | (A) | (B) | (C) |
| 14 - | (A) | (B) | (C) |
| 15 - | (A) | (B) | (C) |
| 16 - | (A) | (B) | (C) |

Sınav süreniz bir ders saatidir. ( 40 dk )

İstediğiniz sorudan başlayabilirsiniz.

BAŞARILAR...