

# ÇARPMA İŞLEMİ GEREKTİREN PROBLEMLER

1) Sezaî'nin 8 tane ineği var. İneklerin toplam ayak sayıları kaçtır?

2) Süleyman günde 4 sayfa kitap okuyor. 8 günde kaç sayfa kitap okumuş olur?


3) Orhan'ın evinde 5 oda var. Her odada 3 pencere var. Evde toplam kaç tane pencere vardır?



4) Bir pasajda 9 adet dükkan var. Her dükkanda 4 işçi çalışıyor. Bu pasajda toplam kaç işçi çalışmaktadır?

5) Sınıfta 9 öğrenci var. Her öğrencinin 3 hikaye var. Öğrencilerde toplam kaç hikaye kitabı vardır?

6) Evde 4 kardeş var. Her kardeşin 5 tane kazağı var. Toplam kaç tane kazak vardır?



7) Kümeste 9 tavuk var. Bu tavukların toplam kaç tane ayağı vardır?

8) Fatih'in 5 tane gömleği var. Her gömlekte 7 düğme var. Gömlelerde toplam kaç tane düğme vardır?

9) Kütüphanede 9 masa var. Her masada 3 öğrenci var. Kütüphanede toplam kaç öğrenci vardır?

# ÇARPMA İŞLEMİ GEREKTİREN PROBLEMLER

1) Masada 3 tane kavanoz var. Her kavanozda 5 tane gül var. Toplam kaç tane gül vardır?

2) Okulda 8 sınıf vardır. Her sınıfta 3 öğrenci gelmemiştir. Toplam gelmeyen öğrenci sayısı kaçtır?


3) Masada 7 tabak var. Her tabakta 2 elma var. Toplam kaç tane elma vardır?



4) Bir okulda 3 kat var. Her katta 3 sınıf var. Bu okulda kaç tane sınıf vardır?

5) Cemile 1 günde 9 soru çözüyor. 4 günde toplam kaç tane soru çözmüş olur?

6) Asiye'de 3 tane kalemlik var. Her kalemlikte 8 adet kale



7) Sınıfta 9 öğrenci var. Her öğrencinin çantasında 4 adet ders kitabı var. Çantalarında toplam kaç tane kitap vardır?

8) Leman denizde 7 kayak gördü. Her kayıkta da 4 çalışan gördü. Leman toplam kaç çalışan görmüştür?


9) Evimizde 6 kedi var. Tüm kedilerin ayak sayılarının toplamı kaçtır?

# ÇARPMA İŞLEMİ GEREKTİREN PROBLEMLER

1) 3'ün 5 katı kaçtır?

2) 4'ün 9 katı kaçtır?


3) 6'nın 5 katı kaçtır?



4) 4'ün 7 katı kaçtır?

5) 2'nin 9 katı kaçtır?

6) 5'in 5 katı kaçtır?



7) 8'in 4 katı kaçtır?

8) 9'un 3 katı kaçtır?

9) 5'in 8 katı kaçtır?

# ÇARPMA İŞLEMİ GEREKTİREN PROBLEMLER

1) 7'nin 3 katı kaçtır?

2) 2'nin 5 katı kaçtır?

3) 4'ün 3 katı kaçtır?



4) 6'nın 2 katı kaçtır?

5) 5'in 7 katı kaçtır?


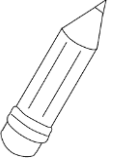



6) 4'ün 4 katı kaçtır?



7) 3'ün 3 katı kaçtır?

8) 1'in 9 katı kaçtır?

9) 5'in 6 katı kaçtır?

 dondurma	 kalem	 defter	 düdük	 makas
3 TL	1 TL	4 TL	2 TL	5 TL

1) Zeki 3 tane kalem alırsa kaç TL öder?

2) Tuncer 4 tane makas alırsa kaç TL öder?

3) Hatice 8 tane dondurma alırsa kaç TL öder?

4) Ömer 7 tane düdük alırsa kaç TL öder?






5) Süleyman 9 tane defter alırsa kaç TL öder?

6) Fadime 8 tane makas alırsa kaç TL öder?

7) Emine 6 tane kalem alırsa kaç TL öder?

8) Meryem 5 tane dondurma alırsa kaç TL öder?

9) Zeynep 6 tane defter alırsa kaç TL öder?

				
simit	bardak	ekmek	tarak	kalemtıraş
3 TL	5 TL	2 TL	4 TL	1 TL

1) Kemal 6 tane simit alırsa kaç TL öder?

2) Elmas 7 tane ekmek alırsa kaç TL öder?

3) Kadriye 8 tane kalemtıraş alırsa kaç TL öder?

4) Sinan 5 tane bardak alırsa kaç TL öder?

5) Halime 6 tane tarak alırsa kaç TL öder?

6) Ahmet 9 tane bardak alırsa kaç TL öder?

7) Büşra 3 tane simit alırsa kaç TL öder?

8) Bekir 7 tane tarak alırsa kaç TL öder?

9) Mahmut 2 tane kalemtıraş alırsa kaç TL öder?