

## NÜFUS ve YERLEŞME Tarama-1

1-



Verilen tabloya göre aşağıdakilerden hangisinin diğerlerinden farklı bir alanda yer aldığı söylenebilir?

- A) Tarım  
B) İklim  
C) Ulaşım  
D) Turizm

2-

Eğitim, sağlık gibi imkanların gelişmiş olduğu yerler sık nüfuslanmıştır.

Verilen bilgi nüfusun dağılımını etkileyen faktörlerden hangisini ifade etmektedir?

- A) Hizmetler  
B) Sanayi  
C) Turizm  
D) Ulaşım

3-



Verilen tablodan hangi faktör çıkarıldığında tablo doğru olur?

- A) I  
B) II  
C) III  
D) IV

4-

Anadolu'nun İlk ve Orta Çağ'da da insanların yoğun olarak yerleştiği bir coğrafya olmasında aşağıdaki faktörlerden hangisinin etkili olduğu söylenemez?

- A) Toprak  
B) Tarım  
C) Turizm  
D) İklim

5-

Ülkemizde yaz yağışlarının az, sıcaklığın fazla olduğu kurak bölgeler seyrek nüfuslanmışken ılıman kıyı bölgelerimiz sık nüfuslanmıştır.

Verilen bilgide nüfusun dağılımını etkileyen faktörlerden hangisinin etkisi belirtilmiştir?

- A) İklim  
B) Sanayi  
C) Madencilik  
D) Ulaşım

6-

Ülkemizde bazı bölgelerde nüfus mevsimden mevsime farklılık göstermiştir. İklim, bu durum üzerinde etkili olmuştur.

- I. Turizm  
II. Hizmet  
III. Tarım

faaliyetlerden hangilerinin iklim faktöründen etkilendiği söylenebilir?

- A) Yalnız III  
B) I ve II  
C) I ve III  
D) II ve III

7-

Ülkemizde kıyı bölgeleri genel olarak sık nüfuslanmıştır. Ancak seyrek nüfuslanmış kıyı bölgeleri de bulunmaktadır.

Bu durum aşağıdakilerden hangisi ile açıklanmaz?

- A) Ticari faaliyetin yetersiz olması  
B) Ilıman iklime sahip olması  
C) Sanayi faaliyetlerinin yetersiz olması  
D) Yüzey şekillerinin engebeli olması

8-

Bir bölgede yaşayan kişi sayısının bölge yüz ölçümüne oranını ifade eder.

Verilen bilgi aşağıdakilerden hangisini tanımlamaktadır?

- A) Tarımsal nüfus yoğunluğu  
B) Fizyolojik nüfus yoğunluğu  
C) Nüfus artış oranı  
D) Aritmetik nüfus yoğunluğu

9-

Ülkemizdeki nüfus yoğunluğu yıldan yıla artmaktadır.

Aşağıdakilerden hangisi verilen durumun gerekçelerinden biri olabilir?

- A) Ülkemizin dış göç vermesi  
B) Doğal afetler  
C) Bebek ölümlerinin azalması  
D) İç göç hareketlerinin yaşanması

10-

İnsanların ürettikleri ürünleri pazarlama imkanlarının geliştiği yerler sık nüfuslanmaktadır.

Ticari malların aktarımının kolay olduğu bölgeler sık nüfuslanmış yerlerdir.

Verilen bilgilerde nüfusun dağılımında etkili olan hangi faktörün önemi vurgulanmıştır?

- A) Turizm  
B) Ulaşım  
C) Tarım  
D) Toprak

11-

Nüfusları aynı olan X ve Y kentlerinin nüfus yoğunluklarının farklı olması aşağıdakilerden hangisi ile açıklanabilir?

- A) X kentinde sanayinin gelişmiş olması  
B) Y kentinde doğal nüfus artışının düşük olması  
C) X kentinin yüz ölçümünün daha küçük olması  
D) Y kentinde modern tarım tekniklerinin kullanılması

12-

18. ve 19. yy.da güçlenen burjuva sınıfı dinlenme ve eğlence ihtiyaçlarını belirli bir dönemde farklı yerlere giderek karşılamayı amaçlamışlardır.

Günümüzde de insanlar yoğun olarak dinlenmek, eğlenmek gibi nedenlerle belirli dönemlerde, yaşadıkları yerden farklı bölgeye gitmektedirler.

Verilen bilgide nüfusun dağılımını etkileyen faktörlerden hangisinin özellikleri verilmiştir?

- A) Sanayi  
B) Tarım  
C) Ticaret  
D) Turizm

13-

İnsanlık tarihi boyunca nüfus dağılımını etkileyen faktörler değişiklik göstermiştir. Çağın getirdiği imkanlar ve yenilikler bu faktörlerin değişiminde etkili olmuştur.

Aşağıdakilerden hangisi günümüz Türkiye'sinde nüfusun dağılımını etkileyen en önemli faktördür?

- A) Turizm  
B) Sanayi  
C) Ulaşım  
D) Toprak

14-

Bir bölgede nüfus artış hızının 1980'li yıllarda %10 iken günümüzde %60 olması,

- I. sanayi,  
II. iklim,  
III. turizm

faaliyetlerinden hangilerinin gelişmiş olması ile açıklanamaz?

- A) Yalnız I  
B) Yalnız II  
C) I ve III  
D) I, II ve III



15-

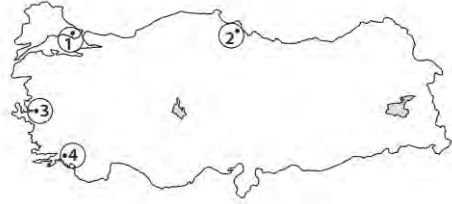
Ülkemizde kadın – erkek nüfusunun bölgelere dağılışında dengesizlik görülür. Bu durumun nedenlerinden biri gelişmiş bölgelerin erkek işçi göçü almasıdır.



Verilen bilgiye göre, yukarıdaki haritada işaretli illerin hangisinde kadın nüfus oranının daha fazla olması beklenir?

- A) İzmit B) Samsun  
C) Ağrı D) Adana

16-



Ülkemizde iklimin elverişli olduğu kıyılarda nüfus yoğunluğu fazladır.

Verilen bilgiye göre, haritada işaretli yerlerin hangisinde iklim elverişli olmasına rağmen nüfus yoğunluğu azdır?

- A) 1 B) 2 C) 3 D) 4

17-

Nüfus artış oranının fazla olmasının ülkemize olumlu katkıları olmasının yanında bu durum olumsuz sonuçlar da doğurmaktadır.

Verilen bilgiye göre, aşağıdakilerden hangisi nüfus artışının olumlu sonuçları arasında yer alır?

- A) Kalkınma hızı yavaşlar.  
B) Vergi gelirleri artar.  
C) Temel ihtiyaçlara duyulan gereksinim artar.  
D) İşsizlik oranı artar.

18-



Ülkemizde nüfusun dağılışını etkileyen doğal ve beşeri faktörler bulunmaktadır. Bu faktörler bölgeden bölgeye farklılık göstermektedir.

Aşağıdakilerden hangisi nüfusun dağılışında etkili olan beşeri faktördür?

- A) İklim B) Ulaşım  
C) Su kaynakları D) Yükselti

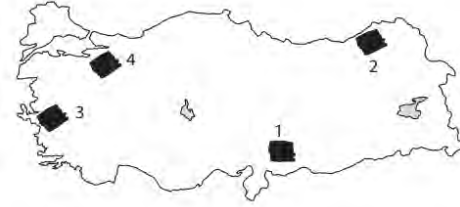
19-

İller	Nüfus Miktarı	Yüz ölçümü
X	18.000.000	600.000 km <sup>2</sup>
Y	25.000.000	600.000 km <sup>2</sup>
Z	22.000.000	600.000 km <sup>2</sup>

Yukarıdaki illerin nüfus yoğunlukları aşağıdakilerden hangisinde az olandan çok olana doğru sıralanmıştır?

- A) X – Z – Y B) Y – Z – X  
C) X – Y – Z D) Y – X – Z

20-



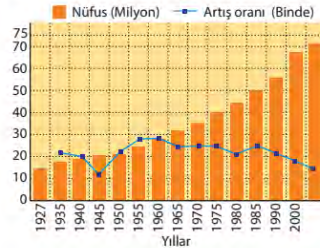
Türkiye’de nüfusun dağılışını etkileyen faktörlerden biri de ulaşım imkanlarıdır. Ulaşım imkanlarının geliştiği yerlerde nüfus yoğunluğu fazladır.

Verilen bilgiye göre, haritada işaretli yerlerin hangisinde ulaşım imkanlarının yetersizliği nüfus yoğunluğunu olumsuz etkilemektedir?

- A) 1 B) 2 C) 3 D) 4

21-

Aşağıdaki grafikte Türkiye’nin yıllara göre nüfusu ve nüfus artış oranı verilmiştir.



Yalnız bu grafiğe göre, aşağıdakilerden hangisine ulaşılabilir?

- A) Türkiye, gelişmiş bir ülke özelliği göstermektedir.  
B) 1940 – 45 yılları arasında nüfus artış oranının sürekli düşmesi ölümlerin çok olmasından kaynaklanmaktadır.  
C) Nüfus artış oranında sürekli artış olmuştur.  
D) Türkiye’de nüfus miktarı sürekli artmıştır.

22-

Türkiye’de nüfus hareketi genellikle doğudan batıya doğrudur.

Bu durumun temel sebebi aşağıdakilerden hangisidir?

- A) Sanayileşmiş alanların batıda daha çok olması  
B) Batıdan doğuya doğru yükseltinin artması  
C) İklim koşullarının batıda elverişli olması  
D) Tarım alanlarının batıdan daha geniş yer kaplaması

23-

Türkiye’de son yıllarda,

- I. En fazla artış hizmet sektöründe olmuştur.  
II. Tarımda makineleşme süreci tarımda çalışan nüfusun azalmasında etkili olmuştur.  
III. Dünyanın en gelişmiş ülkeleri arasında yerini almıştır.

yargılarından hangisi doğrudur?

- A) Yalnız I B) I – II  
C) I – III D) II – III

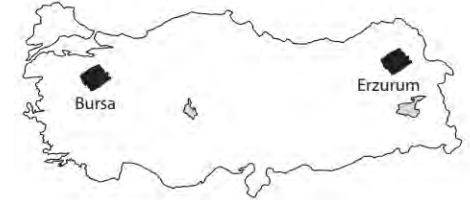
24-



“A” ülkesi ile ilgili verilen grafiğe göre, aşağıdakilerden hangisine ulaşılabilir?

- A) Yaşlı nüfus oranı fazladır.  
B) Gelişmiş bir ülkedir.  
C) Ülke dışına göç yaşanmaktadır.  
D) Ortalama yaşam süresi kısadır.

25-



Haritada işaretli yerlerin nüfusu belli dönemlerde artmaktadır.

Verilen yerlerin nüfusunun artmasında etkili olan ortak sebep aşağıdakilerden hangisidir?

- A) Tarım B) Sanayi  
C) Turizm D) Yer altı Kaynakları

26-

Ülkemizde kentlerde nüfus daha yoğun iken, kırsal alanlarda nüfus daha tenhadır.

Verilen bilgiye göre, aşağıdakilerden hangisi bu durumun nedenleri arasında gösterilemez?

- A) Kültürel farklılıkların ortaya çıkması
- B) Toprakların miras yoluyla parçalanması
- C) Tarımda makineleşmenin artması
- D) Ekonomik faaliyetlerin sınırlı olması

27-



Haritada numaralandırılmış alanlardan hangisinde, nüfusun تنها oluşunun nedeni yağış azlığıdır?

- A) I
- B) II
- C) III
- D) IV

28-



Numaralandırılmış alanlardan hangisi, iklim uygun olmasına rağmen, engebeli olduğu için az nüfuslanmıştır?

- A) I
- B) II
- C) III
- D) IV

29-

Aşağıdakilerden hangisi idari yapılanmanın varlığından dolayı yoğun nüfuslanmış bir kenttir?

- A) Bursa
- B) İzmir
- C) Zonguldak
- D) Ankara

30-

Aşağıdakilerden hangisi yüz ölçümü en büyük ancak nüfus yoğunluğu en az olan bölgemizdir?

- A) İç Anadolu
- B) Doğu Anadolu
- C) Marmara
- D) Ege

31-



Haritada gösterilen yerlerin yoğun nüfuslu olmasının nedeni aşağıdakilerden hangisidir?

- A) Tarım
- B) Turizm
- C) Hayvancılık
- D) Madencilik

32-



Haritada gösterilen alanlarda yıl içerisinde sürekli nüfus hareketliliği yaşanmasının temel nedeni aşağıdakilerden hangisidir?

- A) Madencilik
- B) Sanayi
- C) Hayvancılık
- D) Turizm

33-

Ülkemizde geçimini tarımdan sağlayan insan sayısı oldukça fazladır. Özellikle kırsal kesimlerde nüfusun önemli bir bölümü tarımla uğraşmaktadır. Tarımın yoğun olarak yapıldığı verimli ovalarda nüfus yoğunluk kazanır.



Aşağıdakilerden hangisi tarım faaliyetlerinden dolayı yoğun nüfuslanmış alanlar arasında gösterilemez?

- A) Gediz Ovası
- B) Yüksekova
- C) Çukurova
- D) Bafra Ovası

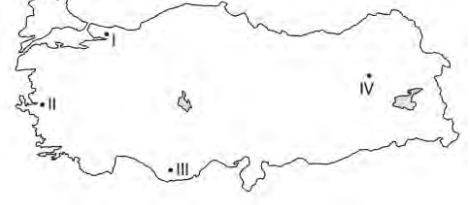
34-

Ormanlık sahalar yerleşime açık olmayan ve nüfusu sınırlandıran alanlardır. Ormanların geniş yer kapladığı alanlarda nüfus seyrek.

Aşağıdakilerden hangisi verilen bilgiye örnek olarak gösterilebilir?

- A) Tuz Gölü çevresi
- B) Menteşe Yöresi
- C) Doğu Karadeniz
- D) Yıldız Dağları

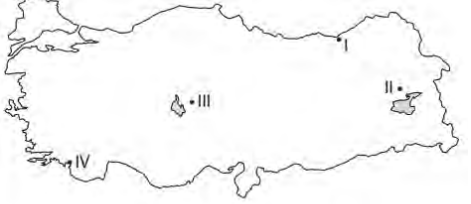
35-



Numaralandırılarak gösterilen alanlardan hangisinde nüfusun yoğun oluşunun nedeni sanayi faaliyetleridir?

- A) I - II
- B) II - III
- C) II - IV
- D) I - IV

36-



Haritada numaralanmış alanlardan hangisinde nüfusun تنها oluşunun nedeni, sert karasal iklimin olumsuz şartlarıdır?

- A) I
- B) II
- C) III
- D) IV

37-



Haritada numaralanmış alanlardan hangisinin, ulaşım ağının gelişmişliğinden dolayı yoğun nüfuslandığı söylenemez?

- A) I
- B) II
- C) III
- D) IV

38-

Engeli ve dağlık alanlarda tarım alanları azdır, ulaşım olanakları sınırlıdır. Aynı zamanda kış şartları insan yaşamını olumsuz etkilemektedir. Dolayısıyla bu tür yerler nüfusun seyrek olduğu alanlardır.

Aşağıdakilerden hangisi verilen bilgiye uygun bir örnek değildir?

- A) Hakkari
- B) Ağrı
- C) Şanlıurfa
- D) Kars



39-

Yoğun Nüfuslu Yerler	Seyrek Nüfuslu Yerler
• Marmara kıyıları	• Menteşe yöresi
• Çukurova	• Taşeli Platosu
• Tuz Gölü çevresi	• Batı Karadeniz kıyıları

Ülkemizde nüfusun dağılışı ile ilgili verilen tablonun doğru olabilmesi için hangi yerlerin yer değiştirmesi gerekir?

- A) Marmara kıyıları - Batı Karadeniz kıyıları  
B) Çukurova - Taşeli Platosu  
C) Tuz Gölü çevresi - Batı Karadeniz kıyıları  
D) Tuz Gölü çevresi - Menteşe yöresi

40-

Ankara'nın nüfusu, 82 yılda 154 kat arttı. Ankara'nın nüfusu 1920'de 28.000 iken 2005 yılında 4 milyonu aşmıştır.

Ankara'daki hızlı nüfus artışı aşağıdaki faktörlerden hangisi ile daha çok açıklanabilir?

- A) Tarım  
B) Yer şekilleri  
C) Ulaşım  
D) Hizmetler

41-

Benim yaşadığım yerde nüfus yaz aylarında 1 milyonu aşarken kışın 300 bine düşmektedir.

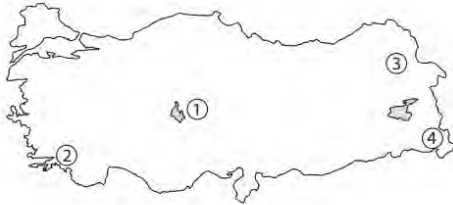


Can

Can'ın verdiği bilgiye göre yaşadığı yer aşağıdakilerden hangisi olabilir?

- A) Antalya  
B) İstanbul  
C) Samsun  
D) Konya

42-



Haritada verilen yerlerden hangisi ile ilgili yapılan yorum yanlıştır?

- A) 1 numaralı bölge kurak olduğu için seyrek nüfuslanmıştır.  
B) 2 numaralı bölge ılıman olduğu için yoğun nüfuslanmıştır.  
C) 3 numaralı bölge olumsuz iklim koşulları nedeniyle seyrek nüfuslanmıştır.  
D) 4 numaralı bölge yükseltiden dolayı seyrek nüfuslanmıştır.

43-



Ahmet

Yaşadığım bölgede tarımsal üretim önemli geçim kaynaklarından biri olmasına rağmen makine kullanımının mümkün olmaması iş gücüne duyulan ihtiyacı arttırmaktadır. Bu durum da bölgemize yaz aylarında tarım işçilerinin gelmesine neden olmaktadır.

Ahmet'in verdiği bilgilere göre aşağıdaki bölgelerden hangisinde yaşadığı söylenebilir?

- A) Adana  
B) Konya  
C) Giresun  
D) Edirne

44-

Yaşadığım bölge madencilik faaliyetleri ve bu faaliyete bağlı olarak gelişen demir - çelik sanayi nedeniyle yoğun nüfuslanmıştır.



Mert

Mert'in, verdiği bilgiye göre aşağıdaki illerden hangisinde yaşadığı söylenebilir?

- A) Zonguldak  
B) İstanbul  
C) Antalya  
D) İzmir

45-



- Sanayi
- Ulaşım
- Turizm
- Hizmetler

Nüfusun yoğun olmasını sağlayan faktörlerin belirtildiği "★" yerine aşağıdakilerden hangisi getirilemez?

- A) İstanbul  
B) Bursa  
C) İzmir  
D) Muğla

46-

Eskişehir ili sahip olduğu imkanlarla insanların yoğun olarak yaşadığı yerler arasındadır. Kentte birden fazla üniversite, TCDD'ye ait bir vagon üretim fabrikası yer almaktadır. Kent ayrıca Marmara Bölgesi ile İç Anadolu'yu birbirine bağlayan önemli bir konuma sahiptir.

Verilen bilgiye göre Eskişehir'in yoğun nüfuslanmasında aşağıdaki faktörlerden hangisinin etkisinden bahsedilmemiştir?

- A) Hizmetler  
B) Tarım  
C) Sanayi  
D) Ulaşım

47-



Tarkan

Yaşadığım yer son yıllarda çıkarılan petrol ve petrole bağlı sanayi kuruluşları nedeniyle Güneydoğu Anadolu'nun en yoğun nüfuslu iki şehriden biri haline gelmiştir.

Tarkan'ın verdiği bilgiye göre aşağıdaki illerden hangisinde yaşadığı söylenebilir?

- A) Van  
B) Şırnak  
C) Batman  
D) Adana

48-



Samsun ili Karadeniz Bölgesi'nin en kalabalık ve en yoğun nüfuslu illerinden birisidir.

Samsun'un yoğun nüfuslanmış olmasında aşağıdaki faktörlerden hangisinin etkisi en azdır?

- A) Yer altı kaynakları  
B) Tarım  
C) Ulaşım  
D) İklim

49-

Öğretmeni, Efe'den yaşadığı bölge olan İstanbul'da nüfusun yoğun olmasının nedenlerini araştırmasını istemiştir.

Buna göre Efe'nin, ödevinde aşağıdaki faktörlerden hangisinin etkisinden söz etmesi beklenemez?

- A) Sanayi  
B) Ulaşım  
C) İklim  
D) Tarım

50-



Yağız

Yaşadığım yer Türkiye'nin en verimli ovalarından birine sahip. Özellikle güneşli gün sayısının fazla olması ürünlerimizin erken olgunlaşmasını sağlamaktadır. Ancak ürünlerimizin hasat zamanı olan yaz mevsiminde iş gücü açığı yaşadığımızdan bölgemize mevsimlik tarım işçileri gelmektedir.

Yağız'ın verdiği bilgilerde nüfusunun yoğun olma sebeplerini belirttiği il aşağıdakilerden hangisidir?

- A) Zonguldak  
B) Adana  
C) Erzurum  
D) Trabzon