

2. SINIFLAR 2. DÖNEM

1. DENEME SINAVI

Funda Menekşe



Öğrencinin,

Adı, Soyadı :

Okulu :

Sınıfı :

Numarası :

Ders	Soru Sayısı	Doğru Sayısı	Yanlış Sayısı
Türkçe	15		
Matematik	15		
Hayat Bilgisi	15		
İngilizce	5		

“Ormanda leopar, kaplan, aslan,
Ceylanı kovalarlar yorulmadan.
Dünyanın bir dengesi var.
Bozular hayvanlar olmadan.

Bizim için çalışır arılar,
Çiçeklerden bal taşırlar.
Canımız süt isterse,
İnekler, keçiler ve koyunlar var.

Onlar bizim dostlarımız.
Dünya ortak yaşam alanımız.
Bunu hiç unutmamalı,
Hayvanları korumalıyız.”

Funda MENEKŞE

İlk beş soruyu şiire göre cevaplayalım.

1- Aşağıdaki görsellerden hangisi şiirde yer alan hayvanlardan birine ait değildir?

a) b) c)



2- Aşağıdakilerden hangisi şiir için uygun bir başlık olabilir?

a) Dostlarımız b) Öğretmenlik
c) Bitkilerin Dünyası

3- Şiirde hangi hayvanın insanlara olan faydalarından bahsedilmemiştir?

a) leopar b) keçi c) arı






4- Şair dünyanın dengesini bozacak olanın ne olduğunu söylüyor?

a) Hayvanların olmaması
b) Bitki türlerinin tükenmesi
c) Arıların çalışmaması

5- Şiirde koyu renkle yazılmış ve altı çizilmiş olan sözcüğün zıt anlamı aşağıdaki cümlelerden hangisinde yer almaktadır?

a) Buzdolabı mutfakta bulunur.
b) Evimizin balkonunda saksılarımız vardır.
c) Yattığım odada televizyon yok.



6- Selin yukarıdaki kitapları alfabetik sıraya göre okumak istiyor. Buna göre Selin'in okuyacağı son kitap hangisidir?

- a) Toprak b) Hava c) Su

7- Aşağıdaki cümlelerden hangisinin sonuna farklı bir noktalama işareti konulmalıdır?

- a) Fulya yazısına özen gösterir
b) Ece'nin kardeşi çok ağlıyor
c) Deniz soruları iyi okudun mu

8-

KİM?

NEREDE?

NE ZAMAN?

Aşağıdaki cümlelerden hangisinde yukarıdaki soruların tamamının cevabı vardır?

- a) Züleyha okuldan çıkınca bahçede oynadı.
b) İrem evde televizyon izlemiş.
c) Dilara dün çok ağlıyordu.

9-

Sözcük	Eş anlamlısı	Zıt anlamlısı
yanıt	♥	soru
★	yarar	zarar
siyah	kara	▲

Yukarıdaki tabloda şekillerle gösterilen kutulara sırasıyla hangi kelimeler yazılmalıdır?



- a) soru fayda toprak
b) cevap fayda beyaz
c) cevap karar al



10- "Babam gazeteyi özenle"




Yukarıdaki cümleyi aşağıdaki kelimelerden hangisi ile tamamlayamayız?

- a) katladı b) inceledi c) sürdürdü

11- Aşağıdaki cümlelerden hangisinde çoğul anlamlı bir sözcük yoktur?

- a) Kışlık yorganları kaldırdık.
b) Bitkilerin Güneş ışıklarına ihtiyacı vardır.
c) Karpuzu kilere kim koydu?

12- Mustafa, Ali ve Hüseyin büyük harflerin kullanıldığı yerlere örnek cümleler yazdılar. Öğretmenleri, çocuklardan birinin yazdığı cümlede hata olduğunu belirtmiştir.

 Mustafa	Kedimiz Boncuk'u veterinerine götürdük.
Biz Atatürk caddesinde oturuyoruz.	
 Ali	
 Hüseyin	Mustafa Öner İlkokulu öğrencileri, büyüklerine karşı çok saygılıdır.

Hangi çocuğun cümlesinde büyük harflerin kullanımıyla ilgili hata vardır?




- a) Hüseyin b) Ali c) Mustafa

13-



Di-şi	kurt-lar-la	yav-rul-arı
a-ğaç-lık	ala-na	sı-ğın-dı-lar.

Cemre yukarıdaki cümlelerin kelimelerini hecelerine ayırmak istemiştir. Cemre'nin bu çalışmasında hecelerine doğru ayrılan kelimeler boyandığında aşağıdaki şekillerden hangisi ortaya çıkar?



Ekmeğin hammaddesi olan bitkidir.

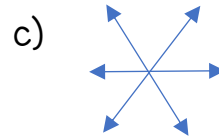
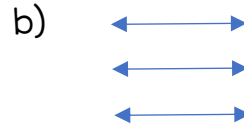
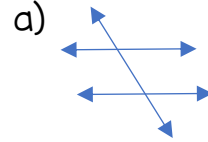


Yiyecek ya da hammadde elde etmek için hayvan yetiştiren ve tarımla uğraşan kişidir.



Tarım aletlerini çeken motorlu kara taşıdır.

14- Yukarıdaki görsellerle tanımlar eşleştirildiğinde ortaya çıkan şekil aşağıdakilerden hangisidir?



15- Aşağıdaki kelimelerden hangisi tek başında kullanıldığında anlamı olmayan bir kelimedir?

- a) gibi
b) inci
c) birinci

TÜRKÇE TESTİ BİTMİŞTİR.

MATEMATİK

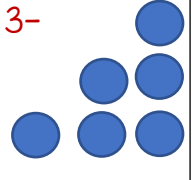
1- Aşağıdaki sınıf gezisinde Cansu ile Beyza'nın arasında kalan çocuk kaçınıcı sıradadır?



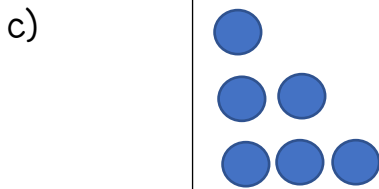
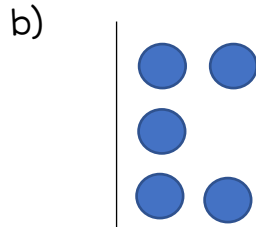
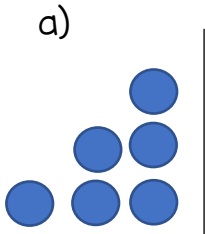
- a) 1. b) 2. c) 3.

2- 5 birlik 3 onluktan oluşan sayının kaç fazlası 50 eder?

- a) 15 b) 3 c) 25



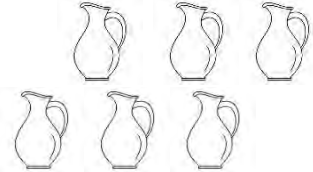
Yukarıda verilen şeklin simetriği aşağıdakilerden hangisidir?



4- Aşağıdaki problemlerden hangisini diğerlerinden farklı bir işlem yaparak çözmemiz gerekir?

- a) Ece'nin 15 kalemi vardı. Kalemlerinden 7 tanesi kayboldu. Ece'nin kaç kalemi kaldı?
- b) Can 18 yaşındadır. Kardeşi ondan 6 yaş küçük ise Can'ın kardeşi kaç yaşındadır?
- c) Sedef kitabından önce 21 sayfa, daha sonra 32 sayfa okudu. Sedef kitabının kaç sayfasını okumuştur?

5-




Yukarıdaki damacana altı sürahi su almaktadır. İki damacanaı doldurmak için kaç sürahi suya ihtiyaç vardır?

Hangisi öğretmenin sorduğu problemin doğru cevabını vermek için uygun bir işlem değildir?

- a) $6 + 6 = 12$
b) $2 \times 6 = 12$
c) $2 + 10 = 12$

6- Sinan kareli kâğıdın üzerinde bazı noktalara semboller yerleştirmiştir.

Sinan'ın sembollerin yerlerini belirtirken kurduğu cümlelerden hangisi **yanlış** bilgi vermektedir?



- a) Kalbin üç birim altında, bir birim sağında bulut vardır.
- b) Bulutun iki birim sağında gülen yüz vardır.
- c) Kalbin iki birim yukarısında, iki birim sağında yıldız vardır.

8- 7 birlik 3 onluktan oluşan sayı aşağıdaki onluklardan hangisine yuvarlanır?



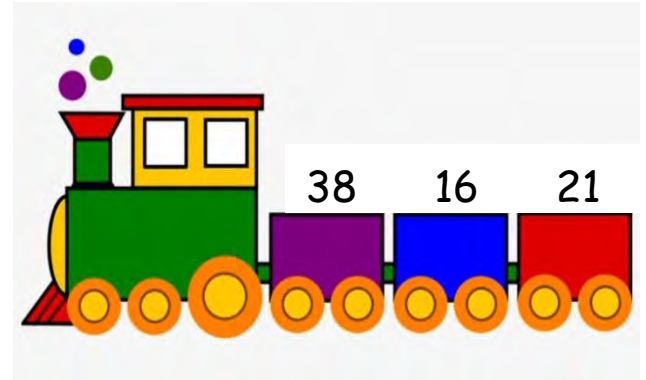
9-

$$5+5+5+5+5+5+5$$

Yukarıdaki işlemi kısa yoldan yapmak için hangi işlemi kullanırsınız?

- a) Çarpma
- b) Çıkarma
- c) Toplama

10-



Yukarıdaki trenin vagonlarında taşıdığı sayıların **tahmini toplamı** kaçtır?

- a) 80
- b) 70
- c) 75

7- İki düzine elmanın 15 tanesi bizim sınıfımızdaki öğrencilere, geri kalanı ise diğer sınıftakilere paylaştırıldı. Diğer sınıfa kaç tane elma gitmiştir?

- a) 5
- b) 9
- c) 39









11-

Cemil Bey kendi ağırlığına eşit miktarda altın kazanmıştır. Cemil Bey'in kilosu iki basamaklı en büyük sayıdan bir deste

eksik olduğuna göre ? olan yere kaç yazılmalıdır?

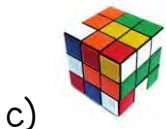
- a) 99 b) 87 c) 89

12- 5'in 7 katı = 
2 kere 8 = 
3 x 4 = 

Buna göre,
 +  +  yandaki işlemin sonucu kaçtır?

- a) 63 b) 51 c) 35

13- Aşağıdaki nesnelerden hangisinin kare şeklinde yüzeyi vardır?



14- Yukarıdaki örüntüye göre boşluğa gelecek harf aşağıdaki kelimelerden hangisinde yoktur?

- a) gözlem
b) pekmez
c) sepet

Üç yıl sonra 10
yaşında olacağım.



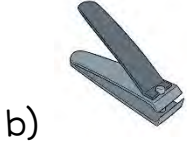
15- Arda ile Selin ikiz kardeşlerdir. Arda'nın verdiği bilgiye göre Arda ve Selin'in bugünkü yaşları toplamı kaçtır?

- a) 20 b) 14 c) 6

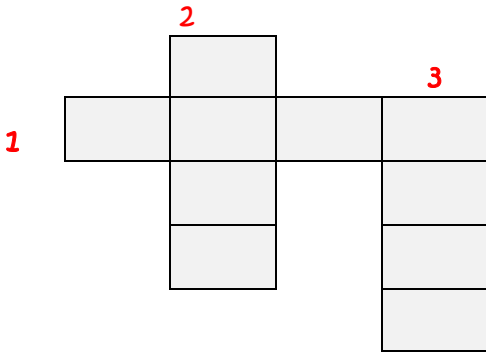
MATEMATİK TESTİ BİTMİŞTİR.

HAYAT BİLGİSİ

1- Aşağıdakilerden hangisi kişisel bakım için kullandığımız eşyalardan biri değildir?



2-



Selin yukarıdaki bulmacada,

1 numaralı yere; babanın kız kardeşine verilen ismi,

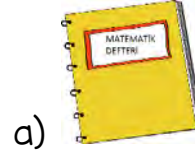
2 numaralı yere, annenin erkek kardeşine verilen ismi yazmıştır.

Çıkan harflere göre üç numaraya aşağıdakilerden hangisi yazılamaz?

a) anne b) nine c) amca

S A L I	1.ders	2.ders	3. ve 4. dersler	5. ve 6. dersler
	Hayat Bilgisi	Türkçe	Matematik	Beden Eğitimi ve Spor

3- Yukarıdaki ders programına göre çantasını hazırlaması gereken bir öğrenci aşağıda verilenlerden hangisini çantasına mutlaka koymalıdır?



4-

1- Ben sekiz yaşında, esmer, uzun boylu ve zayıf bir çocuğum.

2- Herkes benim yardımsever, sıcakkanlı, konuşkan ve titiz olduğumu söyler.

3- Resim kursuna yazıldım ve kurs öğretmenim bu konuda çok başarılı olduğumu düşünüyor.



Arda'nın verdiği bilgilere göre aşağıdaki eşleştirmelerden hangisi doğrudur?

a)	Yetenekler	Duygusal Özellikler	Fiziksel Özellikler
	1	2	3






b)	Yetenekler	Duygusal Özellikler	Fiziksel Özellikler
	3	1	2

c)	Yetenekler	Duygusal Özellikler	Fiziksel Özellikler
	3	2	1

5- Aşağıdaki ifadelerden hangisi doğrudur?

- a) Adresimizi yazarken şehir adı yazmamıza gerek yoktur.
- b) Veteriner hekimler göz sağlığımızla ilgilenirler.
- c) Okul kurallarına uymak güvende olmamızı sağlar.

6- Aşağıdaki tabloda araçlar ve ulaşım yolları eşleştirmeleri yapılmıştır. Tablonun doğru olabilmesi için kaç numaralı görsellerin yer değişmesi gerekir?

	Araç	Ulaşım Yolu
1		Deniz Yolu
2		Demir Yolu
3		Hava Yolu
4		Kara Yolu
5		Deniz Yolu

- a) 1 ve 3
- b) 2 ve 4
- c) 1, 3 ve 5

7-



Meltem kendisi için sağlıklı bir sabah kahvaltısı hazırladı. Aşağıdakilerden hangisi Meltem'in hazırladığı tabak olamaz?



a)



b)



c)

8- Yusuf okul açılmadan önce, geçen seneden kalan okul eşyalarını kontrol etti. Kullanılmamış defterler, kalemler, silgiler vardı dolabında. Yapış-tırıcısı az kalmıştı. Okul ayakkabısı da artık ayağına olmuyordu. Cetveli kırılmıştı. Bunu görünce çok üzüldü.

Yukarıdaki bilgiye göre hangisi Yusuf'un ihtiyaçlarından biri değildir?

- a) silgi
- b) ayakkabı
- c) cetvel

9- Aşağıdakilerden hangisi bir sağlık çalışanıdır?

- a) vatman
- b) hemşire
- c) pilot

10- Aşağıdakilerden hangisi yemekte uymamız görgü kurallarından biri değildir?




- a) Ağzımızı şapırdatmamalıyız.
- b) Yemeği yapan kişiye "Eline sağlık." diyerek teşekkür etmeliyiz.
- c) Konuşanın sözünü kesmemeliyiz.

	Arkadaşlarımızla yardımlaşmalıyız.
	Kimseyle iletişim kurmadan işimizi yapmalıyız.
	Malzemeleri başkalarının getirmesini beklemeliyiz.
	Görev paylaşımına uymalıyız.
	Çalışmamızı zamanında tamamlamalıyız.

11- Yukarıda verilen tabloda grup çalışmalarında dikkat edilmesi gereken davranışlarla ilgili olanların başına ✓ , ilgili olmayanlara ise ✗ işareti koyduğumuzda tablomuz nasıl görünür?

a)	<table><tr><td>✓</td></tr><tr><td>✗</td></tr><tr><td>✗</td></tr><tr><td>✓</td></tr><tr><td>✓</td></tr></table>	✓	✗	✗	✓	✓	b)	<table><tr><td>✗</td></tr><tr><td>✗</td></tr><tr><td>✓</td></tr><tr><td>✓</td></tr><tr><td>✗</td></tr></table>	✗	✗	✓	✓	✗	c)	<table><tr><td>✓</td></tr><tr><td>✓</td></tr><tr><td>✓</td></tr><tr><td>✓</td></tr><tr><td>✗</td></tr></table>	✓	✓	✓	✓	✗
✓																				
✗																				
✗																				
✓																				
✓																				
✗																				
✗																				
✓																				
✓																				
✗																				
✓																				
✓																				
✓																				
✓																				
✗																				

12- Handan, Kısmet ve Muharrem, ülkemizin kurucusuyla ilgili bir çalışma hazırlıyorlardı. Herkes Atatürk'le ilgili bir bilgi yazdı. Hangisinin yazdığı bilgi yanlıştır?




- a)  Atatürk, Selanik'te doğmuştur.
- b)  Asıl mesleği matematik öğretmenliğidir.
- c)  Mustafa Kemal kitap okumayı çok severdi.

13- Aşağıdakilerden hangisi milli bayramlarımızda yaptığımız etkinliklerden değildir?

- a) Sınıflarımızı süslemek
- b) Evlerimize, okulumuza bayraklar asmak
- c) Büyüklerimizin elini öperek şeker toplamak

14- Aşağıdaki besinlerden hangisi kemik gelişimimize faydalıdır?

Funda Menekşe

- a) 
- b) 
- c) 

15- İstiklal Marşı'mızın şairi kimdir?

- a) Mustafa Kemal Atatürk
- b) Osman Zeki Üngör
- c) Mehmet Akif Ersoy

HAYAT BİLGİSİ TESTİ BİTMİŞTİR.



1-

Can sabah uyanınca köpeğine ne söylemiş olabilir?

- a) Good night!
- b) Good morning!
- c) Good evening!

Hello! My name is Elif.
What is your name?

2-



Elif



Müge

.....

Elif'in sorusuna Müge nasıl yanıt vermelidir?

- a) Your name is Müge.
- b) My name is Müge.
- c) Fine, thanks!



3- Yukarıdaki görselde hangi komut gerçekleştirilmiştir?

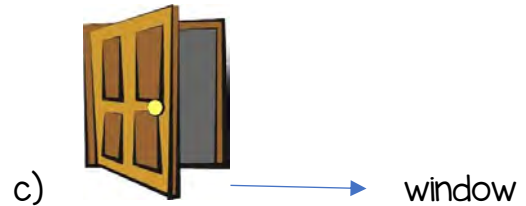
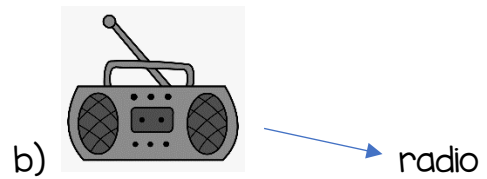
- a) Sit down.
- b) Stand up.
- c) Open the door.



4- Görseldeki sayının İngilizce yazılışı hangisidir?

- a) ten
- b) one
- c) four

5- Hangi görsel ile kelime yanlış eşleştirilmiştir?



DENEME SINAVI BİTMİŞTİR.

Cevaplarımızı kontrol etmeyi unutmayalım.