



Adı- Soyadı:

DERSLER	DOĞRU SAYISI	YANLIŞ SAYISI	BOŞ SAYISI
Türkçe			
Matematik			
Fen Bilimleri			
Sosyal Bilgiler			
Toplam			

TÜRKÇE



- 1- Koyun verdi, kuzu verdi, süt verdi,
Yemek verdi, ekmek verdi, et verdi,
Kazma ile dövmeyince kıt verdi.
Benim sadık dostum yarım kara topraktır.

Yukarıdaki şiirde kazma ile dövmek ne anlama gelir?

- A-Yaralamak B-Ekip biçmek C-Sevgi göstermek D-Kovalamak

- 2- "Güçlü demek zengin ve istediğini yapabilen demek değildir. Güçlü demek zorluklarla mücadele edebilen demektir." Paragrafta anlatılmak istenen düşünce hangisidir?

- A) Zengin olan güçlüdür. B) Güçlü olan zengin olur.
C) Zorluklarla mücadele edebilen güçlüdür. D) Ne kadar güçlü isek o kadar becerikliyizdir.

- 3- Aşağıdaki cümlelerin hangisinin sonuna soru işareti konulmaz?

- A- Ne söylediklerini iyi anlamadım B- Bu olayı sana anlatan kim
C- Yarışmaya hangi öğrenci katıldı D- Ne kadar sürecek yolculuğumuz

- 4- " Hırsız pencerenin camını kırarak eve girmiş, ne var ne yok alıp gitmiş. "

Yukarıdaki cümlede altı çizili sözcükler aşağıdaki sorulardan hangisinin cevabıdır?

- A- kim B- neyi C- nerede D- nasıl

5-

Ü	N	Ö	Ü	Ç	E
T	F	A	K	İ	R
N	D	T	İ	N	E
Ü	Ş	E	M	C	L
Z	A	F	J	E	İ
Ü	N	B	G	I	C

Yukarıdaki bulmacada hangi sözcüğün zıt anlamlısı yoktur?

- A- zengin B- kalın C- sevinç D- aşağı

- 6- Aşağıdaki cümlelerin hangisinde virgül kaldırılırsa cümlelerin anlamı değişir?

- A-Gençler, eşyaları taşımamıza yardım etti. B-Hasta, yarın taburcu olabilir.
C-Avukat, Halil İbrahim Bey'i tanıyordu. D-Şoför, yolları iyi biliyordu.



7-Aşağıdaki cümlelerin hangisinde öznel yargı söz yoktur?

A-Duvarı bence sarıya boyamalısn.

B-Odada tek lamba yetersiz kalmış.

C-Perdenin açık kalmasından hoşlanıyorum.

D-Balkonumuz arka bahçeye bakıyor.

8-Aşağıdaki cümlelerin hangisinde sebep – sonuç ilişkisi yoktur?

A-Eve gelmediğin için endişelendik.

B-Dinç oluşu, spor yapmasından kaynaklanıyor.

C-Geldiğinden beri konuşmuyorsun.

D-Elektrik kesildiği için mumları yaktık.

9)Kısa sözcüğü hangi cümlede **varlığın özelliğini belirtmektedir**?

A) Kısa saç çok yakışmış.

B) Pantolonu kısa gelmiş

C) konuşmayı kısa kesti

D) Ekinler bu yıl kısa kalmış

10) "Köy yolları karanlık, her yer çamur içinde." tümcesinde kaç hece vardır?

A. 15

B. 14

C. 13

D.12

11) "Arkadaş... ile maç.... gitti" cümlesinin anlamlı olabilmesi için noktalı yerlere hangi ekler gelmelidir?

A) a - ı

B) e- dan

C) ı- a

D) ı-ta

Yakacık'ta bir zeytin ağacıym.

Bir zamanlar,

Rüzgârlar okşardı saçlarımı,

Yapraklarım her sabah güneşe gülerdi.

Masallar dinlerdim yıldızlardan,

Yaşamak güzeldi.

M. Güner DEMİRAY

12)Yukarıdaki şiirde hâkim olan duygu aşağıdakilerden hangisidir?

A) Mutluluk

B) Hüzün

C) Özlem

D) Gurur

13) Gözlerinin içi gülmek." Deyiminin anlamı aşağıdakilerden hangisidir?

A) Görgülü, tecrübeli olmak.

B) Çok acıkmış olmak.

C) Çok sevindiği yüzünden belli olmak.

D) Kendisine zarar vermek.

14) "Ayy()Elimi kestim()Doktor çağırılım mı()

Yukarıdaki cümlelerde parantez içlerine aşağıdaki noktalama işaretlerinden hangileri konmalıdır?

A) (.) (?) (.)

B) (!) (?) (.)

C) (!) (.) (?)

D) (.) (!) (?)

15) Aşağıdaki atasözlerinden hangisi çalışmayı öğütlememektedir?

A. Emek olmadan yemek olmaz.

B.İşleyen demir ısıldar.

C.Kör yılanın nasibi ayağına gelir.

D.Yazın başı pişenin kışın aşı pişer.

16) "baş" sözcüğü aşağıdakilerin hangisinde deyim içerisinde kullanılmamıştır?

A.Başı dara düşene yardım eder.

B.Atılan taşlardan bir başıma değdi.

C.Her güçlkle başa çıkabilirim.

D.Artık aklını başına topla.

17) "Amcam, yarın başkente, Ankara'ya gidecek." cümlesinde hangi sözcük gereksizdir?

A) yarın

B)başkente

C) amcam

D) gidecek



18) Aşağıdaki zıt (karşıt) anlamlı kelimeler eşleştirildiğinde hangisi dışarıda kalır?

I - ayrılmak

II - ilk

III - kavuşmak

IV - geri

V - orta

VI - son

VII - ileri

A) III

B) IV

C) V

D) VII

19-“Baş” sözcüğü aşağıdaki tümcelerin hangisinde diğerlerinden farklı bir anlamda kullanılmıştır?

A) Başım her zamankinden çok ağrıyor.

B) Ali, halay başı oldu.

C) Grubun başını Ahmet çekiyor.

D) İşin başında Zeynep vardı.

20-

1.İki saat yol aldıktan sonra mola verdik.

2.Bir gün önceden yolculuk için hazırlık yaptık.

3.Sabahleyin erkenden yola çıktık.

4.İzmir’e gitmeye karar vermiştik.

Yukarıdaki cümlelerle bir paragraf oluşturulduğunda sıralama aşağıdakilerden hangisi olur?

A)3-1-4-2

B)4-2-3-1

C)4-2-1-3

D)2-1-3-4

MATEMATİK

$$96 \times 10 = 960$$
$$960 : 2 = 480$$

1- Yandaki işlemleri yapan bir öğrenci, hangi iki sayının çarpımını kısa yoldan yapmıştır?

A) 96x5

B) 96x10

C) 960x10

D) 96x2

2- Ceren’in yaşı 9, annesinin yaşı Ceren’in yaşının 5 katıdır.10 yıl sonra Ceren’in ve annesinin yaşlarının toplamı kaç olur ?

A-64

B- 74

C-84

D- 94

3-Bir sinemada birinci gün 1746 bilet, ikinci gün birinci günden 1348 bilet fazla satılmıştır. İki günde toplam kaç bilet satılmıştır?

A-2840

B-3840

C-4840

D-5840

4-Aşağıda çözümlenmiş olarak verilen doğal sayılardan hangisi en küçüktür?

A- $(2 \times 1000) + (7 \times 100) + (2 \times 10) + (0 \times 1)$

B- $(2 \times 1000) + (7 \times 100) + (0 \times 10) + (5 \times 1)$

C- $(2 \times 1000) + (7 \times 100) + (0 \times 10) + (8 \times 1)$

D- $(2 \times 1000) + (7 \times 100) + (0 \times 10) + (1 \times 1)$



5-

$$\begin{array}{r} 4 a b 4 \\ + c 5 4 d \\ \hline 8 2 5 0 \end{array}$$

Yukarıdaki toplama işleminde a, b, c, d birer rakamdır. Bu işleme göre abcd dört basamaklı doğal sayısı kaçtır?

- A- 6037 B- 7016 C- 7036 D- 7936

6)

$$4 - 9 - 19 - 39 - ?$$

Yukarıdaki sayı örüntüsünde ? işaretli yere hangi sayı gelir?

A)79 B)80 C)81 D) 84

7)

$$\begin{array}{l} 200 + \Delta = 432 \\ \Delta + N = 600 \\ 564 + N = ? \end{array}$$

Yukarıdaki eşitliğe göre ? yerine hangi sayı yazılmalıdır?

- A)1018 B)995 C)932 D)902

8)

$$\begin{array}{r} 7 A B C \\ - 3 4 2 5 \\ \hline 3 7 8 5 \end{array}$$

Yandaki işleme göre A+B+C kaçtır?

A)3 B)2 C)1 D)0

9) $A \times B = 24$ işlemine göre A+B'nin toplamı en çok kaç olur?

A)10 B)11 C)12 D)13

10) 6 900'e yuvarlatılmış olan doğal sayı aşağıdakilerden hangisidir?

A)6 818 B)6 885 C)6 985 D)6 974

11) İki yıl önceki yaşlarının toplamı 17 olan iki kardeşin üç yıl sonra yaşlarının toplamı kaç olur?

A) 27 B) 21 C) 23 D) 25

12- 35 liramın $\frac{2}{7}$ 'sini harcadım. Acaba geriye kaç liram kaldı?

A) 20 B) 25 C) 26 D) 27

13-Aşağıdaki yıllardan hangisi artık yıldır?

- A) 2010 B) 2015 C) 2020 D) 2025

14-

$$\begin{array}{r} A B C \\ \times D 7 \\ \hline 3 6 1 9 \\ + 2 0 6 8 \\ \hline 2 4 2 9 9 \end{array}$$

Verilen çarpma işlemine göre, "A + B + C + D" toplamı kaçtır?

A-15 B-16 C-17 D-18



FEN BİLİMLERİ

1-Aşağıdakilerden hangisi madde değildir?

- A-hava B-taş C-ses D-toprak

2- Kütle ve hacimle ilgili olarak aşağıda verilenlerden hangisi doğrudur?

- A) Her maddenin kütlesi ve hacmi vardır. B) Sıvıların hacmi eşit kollu teraziyle ölçülebilir.
C) Katıların hacmi ölçülemez. D) Maddelerin kütle ve hacimleri daima aynıdır.

3 - » Cisim, maddenin şekil almış halidir.

Yukarıdaki bilgiye göre aşağıdaki seçeneklerde verilenlerin tamamı cisimdir?

- A) Masa – sandalye – su B)Tencere – hava – vazo
C) Kalem – sıra – sandalye D)Su –çanta – tencere

4- Biri sıcak diğeri soğuk iki madde temas ettiği zaman aşağıdakilerden hangisi gerçekleşmez?

- A.Sıcak maddede ısı kaybı olur. B.soğuk maddede ısınma olur.
C.sıcak maddenin sıcaklığı düşer. D.İsı soğuk maddeden sıcak maddeye doğru akar.

5- Aşağıdaki verilen örneklerden hangisi doğru değildir?

- A) şekerli su – çözelti B) salata- karışım C) kaynak suyu - saf madde D) limonata - saf madde

6 - Aşağıdaki olaylardan hangisinde hal değişimi gerçekleşir?

- A)Tereyağının ısıtılması B) Toz şekerinin ısıtılması
C) Suyu şeker eklenmesi D) Kibritin yanması

7- Boş kavanozun kütlesi 150 gram gelmektedir.Kavanoz reçel doldurularak tartıldığında kütlesi 360 gram gelmektedir.Reçelin net kütlesi kaç gramdır?

- A)110g B)510g C)210g D)300g

8-

Odun ısıtıldığında bozunur.	
Mum ısıtıldığında erir.	
Şeker ile su karışım oluşturur.	
Çerez tabağı çözelti oluşturur.	

Yukarıdaki doğru yanlış tablosunu sırasıyla hangi seçenekteki gibi doldurmak gerekir?

- A)

Y
Y
D
D

 B)

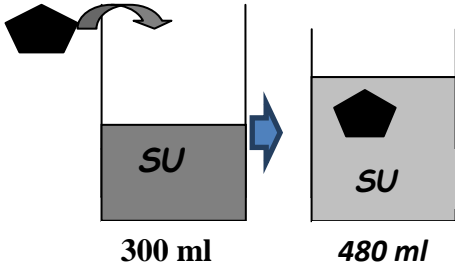
D
D
D
Y

 C)

Y
D
Y
D

 D)

D
Y
D
Y



9-Yukarıdaki şekillerde taşın hacmi kaç mL' dir?

- A) 480 B) 280 C) 180 D) 780

10-

Aşağıda verilenlerden hangisi, bir kuvvet etkisiyle gerçekleşmemiştir?

- A) Hareketli bir cismin durması
B) Bir cismin şeklinin değişmesi
C) Ampulün ışık vermesi
D) Duran bir cismin hareket etmesi

SOSYAL BİLGİLER

1-Bölgemizin dağlarını öğrenmek isteyen bir öğrenci hangi haritadan yararlanacak?

- A) Fiziki B) Siyasi C) Özel D) Bölgeler

2)1-Cumhuriyetin ilan edilmesi 2-TBMM ' nin açılması 3-Çanakkale Savaşı 4-Büyük Taarruz
Yukarıdaki tarihlerin kronolojik sıralaması hangi seçenekte doğru verilmiştir?

- A- 2-3-1-4 B- 1-4-3-2 C- 1-3-4-2 D- 3-2-4-1

3)Karşılıklı konuşmaya dayanan, iki boyutlu tasvirlerle bir perdede oynatılan gölge oyunun adı nedir?

- A)Karagöz ile Hacivat B)Cirit C)Seğmenler D)Kukla

4-Aşağıdaki sorulardan hangisi fiziksel özellikleri öğrenmeye yönelik bir soru değildir?

- A-Kaç numaralı ayakkabı giyiyorsun? B-Boyunun uzunluğu kaç santimetredir?
C-Hangi diziyi izlemeyi seviyorsun? D-Gözlerin hangi renktir?

5. Ordu Yok' dediler, Kurulur dedi. 'Para Yok' dediler, Bulunur Dedi. 'Düşman Çok' dediler, Yenilir dedi. Atatürk'ün sözü hangi kişisel özelliğini yansıtıyor?

- A) ileri görüşlü B) kararlı C) disiplinli D) planlı

6- Mondros Ateşkes Antlaşması hangi savaştan sonra imzalanmıştır?

- A) Çanakkale Savaşı B) Birinci İnönü savaşı
C) Sakarya Meydan Savaşı D) Birinci Dünya Savaşı

7. Aşağıdakilerden hangisi beşeri unsurlardandır?

- A) Gökkuşakları B) Okyanuslar C) Dağlar D) Köprüler



8-Aşağıdakilerden hangisi hoşgörülü olmanın gerekleri arasında yer almaz?

- A-Farklı düşüncelere karşı saygılı olmak. B-Senden farklı düşünenlerden uzak durmak.
C-Düşünceler arasında farkların olabileceğini kabul etmek.
D-Farklı düşüncelerin insanı zenginleştirdiğine inanmak.

- 9- I. Sakarya Meydan Savaşı II. İkinci İnönü Savaşı
III. Başkomutanlık Meydan Savaşı IV. Birinci İnönü Savaşı
Kurtuluş Savaşı'mızda yapılan savaşların kronolojik sıraya konulmuş hali aşağıdakilerden hangisidir?
A) I, II, III, IV B) IV, II, I, III C) IV, II, III, I D) I, III, IV, II





10-

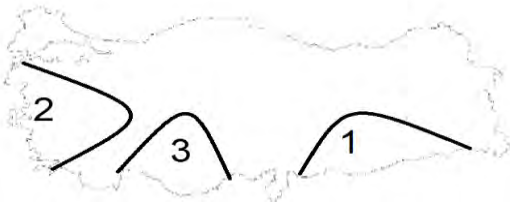
Aşağıdaki teknolojik ürünler ve kullanım alanları eşleştirilmiştir.

Bu eşleştirmelerden hangisi doğrudur?

Ulaşım	Eğitim	İletişim
A) Uçak	Tepegöz	Cep telefonu
B) Tren	Sinevizyon	Buzdolabı
C) Asansör	Matkap	Televizyon
D) Otobüs	Bilgisayar	Pusula

11- Aşağıdakilerden hangisi deprem sırasında yapılması gerekenler arasında yer almaz?

- A)  B) 
C)  D) 



12-

1.Dünya Savaşı'ndan sonra imzalanan Mondros Ateşkes Antlaşması ile haritada numaralarla gösterilen bölgeleri kimlerin işgal ettiği hangi seçenekte doğru verilmiştir?

- | | | |
|---------------|------------|------------|
| <u>1</u> | <u>2</u> | <u>3</u> |
| A) Fransızlar | Yunanlılar | İtalyanlar |
| B) İtalyanlar | İngilizler | Fransızlar |
| C) Fransızlar | İtalyanlar | Ermeniler |
| D) Yunanlılar | İngilizler | İtalyanlar |

